



Staff Selection Commission
(Government Of India)

REGISTRATION NUMBER : www.examstocks.com
EXAM DATE : 21-September-2017 EXAM
NAME : SSC Examination
TOTAL MARKS : 150

CANDIDATE NAME : examstocks.com
EXAM START TIME : 10:00:00 EXAM
DURATION : 01:30 Hrs **TOTAL NO OF QUESTIONS :** 100

QID : 1 -

In the following question, select the number which can be placed at the sign of question mark (?) from the given alternatives.

निम्नलिखित प्रश्न में दिए गए विकल्पों में से प्रश्न चिह्न (?) के स्थान पर आने वाली संख्या को चुनिए।

3	4	4	?
5	2	6	60
8	1	5	40

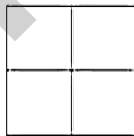
Options:

- 1) 42
 - 2) 48
 - 3) 44
 - 4) 168
- Correct Answer:** 48
Candidate Answer: 168

QID : 2 -

How many squares are there in the given figure?

दी गई आकृति में कितने वर्ग हैं?



Options:

- 1) 4
 - 2) 5
 - 3) 8
 - 4) 9
- Correct Answer:** 5
Candidate Answer: 8

QID : 3 -

A word is represented by only one set of numbers as given in any one of the alternatives. The sets of numbers given in the alternatives are represented by two classes of alphabets as shown in the given two matrices. The columns and rows of **Matrix-I** are numbered from 0 to 4 and that of **Matrix-II** are numbered from 5 to 9. A letter from these matrices can be represented first by its row and next by its column, for example, 'C' can be represented by 11, 67, etc., and 'E' can be represented by 22, 58, etc. Similarly, you have to identify the set for the word "FOLK".

एक शब्द केवल एक संख्या-समूह द्वारा दर्शाया गया है, जैसा कि विकल्पों में से किसी एक में दिया गया है। विकल्पों में दिए गए संख्या-समूह अक्षरों के दो वर्गों द्वारा दर्शाए गए हैं, जैसा कि दिए गए दो आव्यूहों में है। आव्यूह-I के स्तम्भ और पंक्ति की संख्या 0 से 4 है और आव्यूह-II की 5 से 9। इन आव्यूहों से एक अक्षर को पहले उसकी पंक्ति और बाद में स्तम्भ संख्या द्वारा दर्शाया जा सकता है। उदाहरण के लिए 'C' को 11, 67, आदि द्वारा दर्शाया जा सकता है तथा 'E' को 22, 58, आदि द्वारा दर्शाया जा सकता है। इसी तरह से आपको प्रश्न में दिए शब्द "FOLK" के लिए समूह को पहचानना है।

Matrix-I आव्यूह-I						Matrix-II आव्यूह-II					
	0	1	2	3	4	5	6	7	8	9	
0	A	K	S	Y	D	5	B	L	V	E	O
1	F	C	M	U	B	6	J	T	C	M	W
2	N	H	E	O	W	7	H	R	A	K	U
3	T	P	J	G	Q	8	F	P	Z	I	S
4	X	V	R	L	I	9	D	N	X	G	Q

Options:

- 1) 10, 59, 56, 01
- 2) 85, 59, 43, 79
- 3) 10, 23, 43, 79
- 4) 85, 24, 43, 78

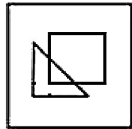
Correct Answer: 10, 59, 56, 01

Candidate Answer: 10, 59, 56, 01

QID : 4 -

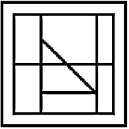
From the given answer figures, select the one in which the question figure is hidden/embedded.

दी गई उत्तर आकृतियों में से उस उत्तर आकृति को चुनिए जिस में प्रश्न आकृति निहित है।

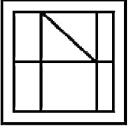


Options:

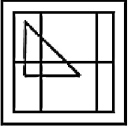
1)



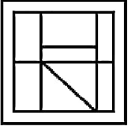
2)



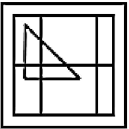
3)



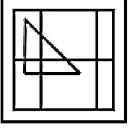
4)



Correct Answer:



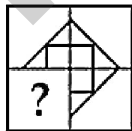
Candidate Answer:



QID : 5 -

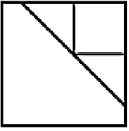
Which answer figure will complete the pattern in the question figure?

कौन सी उत्तर आकृति प्रश्न आकृति के प्रतिरूप को पूरा करेगी?

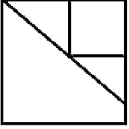


Options:

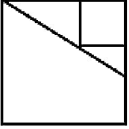
1)



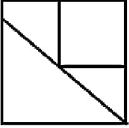
2)



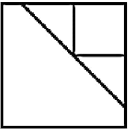
3)



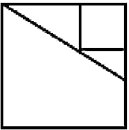
4)



Correct Answer:



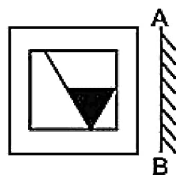
Candidate Answer:



QID : 6 -


If a mirror is placed on the line AB, then which of the answer figures is the right image of the given figure?

यदि एक दर्पण को AB रेखा पर रखा जाए, तो दी गई उत्तर आकृतियों में से कौन सी आकृति प्रश्न आकृति की सही प्रतिबिम्ब होगी?




Options:

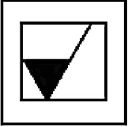
1)



2)



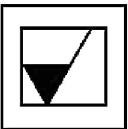
3)



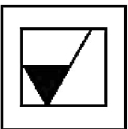
4)



Correct Answer:



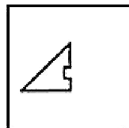
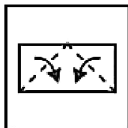
Candidate Answer:



QID : 7 -

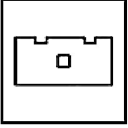
A piece of paper is folded and punched as shown below in the question figures. From the given answer figures, indicate how it will appear when opened?

नीचे के प्रश्न आकृतियों में दिखाए अनुसार कागज को मोड़कर छेदने तथा खोलने के बाद वह किस उत्तर आकृति जैसा दिखाई देगा?

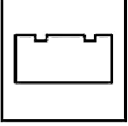


Options:

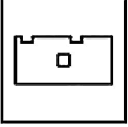
1)



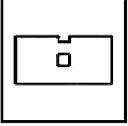
2)



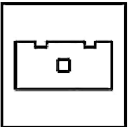
3)



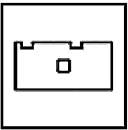
4)



Correct Answer:



Candidate Answer:



QID : 8 - If 'c' means '+', 'd' means '+', 'e' means '-' and 'f' means 'x', then

24 c 3 f 4 d 6 = ?

यदि 'c' का अर्थ '+', 'd' का अर्थ '+', 'e' का अर्थ '-' तथा 'f' का अर्थ 'x' हो, तो

24 c 3 f 4 d 6 = ?

Options:

1) 32

2) 30

3) 38

4) 28

Correct Answer: 38

Candidate Answer: 38

QID : 9 - If $9 \% 6 \% 5 \% 1 = 5619$ and $3 \% 4 \% 1 \% 6 = 1463$, then $1 \% 2 \% 5 \% 7 = ?$

यदि $9 \% 6 \% 5 \% 1 = 5619$ तथा $3 \% 4 \% 1 \% 6 = 1463$ हो, तो $1 \% 2 \% 5 \% 7 = ?$

Options:

1) 1725

2) 5271

3) 2571

4) 7125

Correct Answer: 5271

Candidate Answer: 5271

QID : 10 - Arrange the given words in the sequence in which they occur in the dictionary.

1. Boiled
2. Brinjal
3. Boring
4. Banged
5. Brown

निम्नलिखित शब्दों को शब्दकोश में आने वाले क्रम के अनुसार लिखें।

1. Boiled
2. Brinjal
3. Boring
4. Banged
5. Brown

Options:

1) 43152

2) 41325

3) 43125

4) 41352

Correct Answer: 41325

Candidate Answer: 41325

QID : 11 - In the following question, select the missing number from the given alternatives.

68, 65, 60, 53, 44, ?

निम्नलिखित प्रश्न में दिए गए विकल्पों में से लुप्त अंक जात कीजिए।

68, 65, 60, 53, 44, ?

Options:

1) 31

2) 37

3) 35

4) 33

Correct Answer: 33

Candidate Answer: 33

QID : 12 - A series is given with one term missing. Select the correct alternative from the given ones that will complete the series.

A, Z, C, X, E, V, G, T, ?, ?

एक अनुक्रम दिया गया है, जिसमें से एक पद लुप्त है। दिए गए विकल्पों में से वह सही विकल्प चुनिए, जो अनुक्रम को पूरा करे।

A, Z, C, X, E, V, G, T, ?, ?

Options:

1) JS

2) KS

3) IR

4) KR

Correct Answer: IR

Candidate Answer: IR

QID : 13 - In the following question, select the odd word pair from the given alternatives.

निम्नलिखित प्रश्न में दिए गए विकल्पों में से विषम शब्द युग्म को चुनिए।

Options:

1) Up : Down

ऊपर : नीचे

2) Day : Night

दिन : रात

3) Happy : Smile

खुशी : हँसी

4) Open : Close

खुला : बंद

Correct Answer: Happy : Smile

खुशी : हँसी

Candidate Answer: Happy : Smile

खुशी : हँसी

QID : 14 - In the following question, select the odd number pair from the given alternatives.

निम्नलिखित प्रश्न में दिए गए विकल्पों में से विषम संख्या युग्म को चुनिए।

Options:

1) 3 : 9

2) 5 : 25

3) 6 : 36

4) 8 : 63

Correct Answer: 8 : 63

Candidate Answer: 8 : 63

QID : 15 - In the following question, select the odd letters from the given alternatives.

निम्नलिखित प्रश्न में दिए गए विकल्पों में से विषम अक्षरों को चुनिए।

Options:

1) OU

2) AI

3) EI

4) IO

Correct Answer: AI

Candidate Answer: AI

QID : 16 - Identify the diagram that best represents the relationship among the given classes.

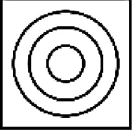
Cap, Pencil, Apple

वह आरेख चुनिए जो नीचे दिए गए वर्गों के बीच के संबंध का सही निरूपण करता है।

टोपी, पेंसिल, सेब

Options:

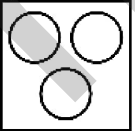
1)



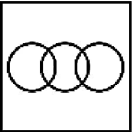
2)



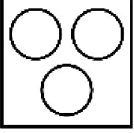
3)



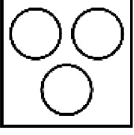
4)



Correct Answer:



Candidate Answer:



QID : 17 - In the following question, select the related word from the given alternatives.

Writer : Pen :: Plumber : ?

निम्नलिखित प्रश्न में दिए गए विकल्पों में से संबंधित शब्द को चुनिए।

लेखक : कलम :: नलसाज : ?

Options:

1) Screwdriver

पेंचकस

2) Wrench

रिंच

3) Saw

आरी

4) None of these

इनमें से कोई नहीं

Correct Answer: Wrench

रिंच

Candidate Answer: Wrench

रिंच

QID : 18 - In the following question, select the related number from the given alternatives.

14 : 35 :: 18 : ?

निम्नलिखित प्रश्न में दिए गए विकल्पों में से संबंधित संख्या को चुनिए।

14 : 35 :: 18 : ?

Options:

1) 55

2) 40

3) 45

4) 50

Correct Answer: 45

Candidate Answer: 45

QID : 19 - In the following question, select the related letters from the given alternatives.

XJ : AM :: IS : ?

निम्नलिखित प्रश्न में दिए गए विकल्पों में से संबंधित अक्षरों को चुनिए।

XJ : AM :: IS : ?

Options:

1) LU

2) LV

3) KU

4) KV

Correct Answer: LV

Candidate Answer: LV

QID : 20 - In the following question, select the word which cannot be formed using the letters of the given word.

CORPORATION

निम्नलिखित विकल्पों में से वह शब्द चुनिए जो दिए गए शब्द के अक्षरों का प्रयोग करके नहीं बनाया जा सकता।

CORPORATION

Options:

- 1) PORT
- 2) CRAIN
- 3) TRAIN
- 4) SPORT

Correct Answer: SPORT

Candidate Answer: SPORT

QID : 21 - S walks 8 km towards east. He turns right and walks 6 km. He turns right and walks 8 km. How far (in km) is he from his starting point?

S पूर्व की ओर 8 कि.मी. चलता है। वह दायीं ओर मुड़ता है तथा 6 कि.मी. चलता है। वह दायीं ओर मुड़ता है तथा 8 कि.मी. चलता है। वह अपने आरंभिक बिन्दु से कितनी दूरी (कि.मी. में) पर है?

Options:

- 1) 14
- 2) 10
- 3) 8
- 4) 6

Correct Answer: 6

Candidate Answer: 6

QID : 22 - L is 3 years older to M. M is 6 years younger to N. N is 4 years older to O. O is 7 years younger to P. Who is the youngest?

L, M से 3 वर्ष बड़ा है। M, N से 6 वर्ष छोटा है। N, O से 4 वर्ष बड़ा है। O, P से 7 वर्ष छोटा है। सबसे छोटा कौन है?

Options:

- 1) O
- 2) N
- 3) M
- 4) L

Correct Answer: M

Candidate Answer: M

QID : 23 - In the following question below are given some statements followed by some conclusions. Taking the given statements to be true even if they seem to be at variance from commonly known facts, read all the conclusions and then decide which of the given conclusion logically follows the given statements.

Statements:

- I. All cups are chairs.
- II. All chairs are tables.

Conclusions:

- I. Some tables are cups.
- II. Some chairs are tables.

नीचे दिए गए प्रश्न में कुछ कथन और उनके बाद उन कथनों पर आधारित कुछ निष्कर्ष दिए गए हैं, हालांकि उनमें सामान्य ज्ञात तथ्यों से भिन्नता हो सकती है। सभी निष्कर्ष पढ़ें और फिर निर्धारित करें कि दिए गए कौन से निष्कर्ष, दिए गए कथनों के आधार पर युक्तिसंगत हैं।

कथन:

- I. सभी कप कुर्सियाँ हैं।
- II. सभी कुर्सियाँ मेज़ हैं।

निष्कर्ष:

- I. कुछ मेज़ कप हैं।
- II. कुछ कुर्सियाँ मेज़ हैं।

Options:

1) Only conclusion (I) follows.

केवल निष्कर्ष (I) सही है।

2) Only conclusion (II) follows.

केवल निष्कर्ष (II) सही है।

3) Both conclusion follow.

दोनों ही निष्कर्ष सही हैं।

4) Neither conclusion (I) nor conclusion (II) follows.

न तो निष्कर्ष (I) न ही निष्कर्ष (II) सही है।

Correct Answer: Both conclusion follow.

दोनों ही निष्कर्ष सही हैं।

Candidate Answer: Only conclusion (II) follows.

केवल निष्कर्ष (II) सही है।

QID : 24 - In a certain code language, "MOVIE" is written as "LPUJD". How is "CINEMA" written in that code language?

एक विशिष्ट कोड भाषा में, "MOVIE" को "LPUJD" लिखा जाता है। इस कोड भाषा में "CINEMA" को किस प्रकार लिखा जाएगा?

Options:

1) BJMFLB

2) BJMFLZ

3) BJNFLZ

4) BJMDLB

Correct Answer: BJMFLB

Candidate Answer: BJMFLB

QID : 25 - In a certain code language, "SOME" is written as "10645" and "BOYS" is written as "26710". How is "RUNS" written in that code language?

एक विशिष्ट कोड भाषा में, "SOME" को "10645" तथा "BOYS" को "26710" लिखा जाता है। इस कोड भाषा में "RUNS" को किस प्रकार लिखा जाएगा?

Options:

1) 93510

2) 93501

3) 93511

4) 92510

Correct Answer: 93510

Candidate Answer: 93510

QID : 26 - What is the value of $11 + 12 + 13 + \dots + 35$?

$11 + 12 + 13 + \dots + 35$ का मान क्या है?

Options:

1) 575

2) 630

3) 585

4) 595

Correct Answer: 575

Candidate Answer: 630

QID : 27 - What is the value of $38 \div 19 \times 3 + 5$?

$38 \div 19 \times 3 + 5$ का मान क्या है?

Options:

1) 11

2) 10

3) 13

4) 17

Correct Answer: 11

Candidate Answer: 11

QID : 28 - What is the Highest Common Factor of $3/4$ and $12/13$?

$3/4$ तथा $12/13$ का महत्तम समापवर्तक क्या है?

Options:

1) 42795

2) 19054

3) 42887

4) 41426

Correct Answer: 19054

Candidate Answer: [NOT ANSWERED]

QID : 29 - If $347P$ is divisible by 9, then what is the value of P ?

यदि $347P$, 9 से विभाजित है, तो P का मान क्या है?



Options:

1) 2

2) 3

3) 4

4) 7

Correct Answer: 4

Candidate Answer: 4

QID : 30 - What is the value of $(37 + 23)^2 - (37 - 23)^2$?

$(37 + 23)^2 - (37 - 23)^2$ का मान क्या है?

Options:

1) 1908

2) 1602

3) 1702

4) 3404

Correct Answer: 3404

Candidate Answer: 3404

QID : 31 - Which fraction among $3/11$, $4/7$ and $5/8$ is the smallest?

$3/11$, $4/7$ तथा $5/8$ में कौन सा भिन्न छोटा है?



Options:

1) 3/11

2) 4/7

3) 5/8

4) All are equal

सभी बराबर हैं

Correct Answer: 3/11

Candidate Answer: 3/11

QID : 32 - Three taps A, B and C can fill a tank in 27, 36 and 54 minutes respectively. If all the three taps are opened, then how much time (in minutes) it will take to completely fill the tank?

तीन नल A, B तथा C एक टंकी को भरने में क्रमशः 27, 36 तथा 54 मिनट लेते हैं। यदि सभी तीन नल खोल दिए जाएं, तो टंकी को पूरा भरने में कितना समय (मिनटों में) लगेगा?

Options:

1) 16

2) 12

3) 10

4) 15

Correct Answer: 12

Candidate Answer: 12

QID : 33 - Two pipes X and Y can fill a cistern in 6 hours and 10 hours respectively. Pipe Z can empty the tank in 4 hours. If all the three pipes are open then in how many hours the cistern will be full?

दो पाइप X तथा Y किसी टंकी को क्रमशः 6 घंटे तथा 10 घंटे में भर सकते हैं। पाइप Z टंकी को 4 घंटे में खाली कर सकता है। यदि तीनों पाइपों को खोल दिया जाता है, तो टंकी कितने घंटे में भर जाएगी?

Options:

1) 30

2) 45

3) 50

4) 60

Correct Answer: 60

Candidate Answer: 45

QID : 34 - The side of an equilateral triangle is equal to the diagonal of the square. If the side of the square is 10 cm, then what is the area of the equilateral triangle?

एक समबाहु त्रिभुज की भुजा वर्ग के विकर्ण के बराबर है। यदि वर्ग की भुजा 10 से.मी. है, तो समबाहु त्रिभुज का क्षेत्रफल क्या है?

Options:

1) $50\sqrt{2}$

2) $50\sqrt{3}$

3) $100\sqrt{2}$

4) $100\sqrt{3}$

Correct Answer: $50\sqrt{3}$

Candidate Answer: $50\sqrt{3}$

QID : 35 - Marked price of an article is Rs 7600 and its selling price is Rs 5472. What is discount percentage?

एक वस्तु का अंकित मूल्य 7600 रु है तथा उसका विक्रय मूल्य 5472 रु है। छूट का प्रतिशत क्या है?

Options:

1) 34

2) 28

3) 31

4) 30

Correct Answer: 28

Candidate Answer: 28

QID : 36 - Selling price of an article is Rs 4290. If 34% discount is given, then what is the marked price (in Rs)?

एक वस्तु का विक्रय मूल्य 4290 रु है। यदि 34% की छूट दी गई है, तो अंकित मूल्य (रु में) क्या है?

Options:

1) 6800

2) 7200

3) 6300

4) 6500

Correct Answer: 6500

Candidate Answer: 6500

QID : 37 - Total runs scored by three batsmen x, y and z are 1584. Ratio of runs scored by x and y is 4 : 3 and y and z is 5 : 3. How many runs are scored by x?

तीन बल्लेबाजों x, y तथा z द्वारा बनाए गए कुल रन 1584 हैं। x तथा y द्वारा बनाए रनों का अनुपात 4 : 3 है तथा y तथा z का 5 : 3 है। x द्वारा कितने रन बनाए गए?

Options:

1) 742

2) 614

3) 516

4) 720

Correct Answer: 720

Candidate Answer: 720

QID : 38 - Monthly income of Rajesh and Mahesh is in ratio of 9 : 13 respectively. The difference in their income is Rs 20000. What will be the monthly income of Mahesh?

राजेश तथा महेश की मासिक आय का अनुपात क्रमशः 9 : 13 है। उनकी आय में 20000 रु का अंतर है। महेश की मासिक आय क्या होगी?

Options:

1) 45000

2) 65000

3) 78000

4) 54000

Correct Answer: 65000

Candidate Answer: 65000

QID : 39 - Average weight of a group of 9 students is 43 kg. When a new student joins the group, the average weight of the group becomes 45 kg. What is the weight (in kg) of the new student?

9 विद्यार्थियों के एक समूह का औसत भार 43 कि.ग्रा. है। जब एक नया विद्यार्थी समूह में शामिल हो जाता है, तो समूह का औसत भार 45 कि.ग्रा. हो जाता है। नए विद्यार्थी का वजन (कि.ग्रा. में) क्या है?

Options:

1) 65

2) 59

3) 63

4) 61

Correct Answer: 63

Candidate Answer: 63

QID : 40 - If $0.8 \times \text{cost price} = 0.6 \times \text{selling price}$, the what is the profit percentage?

यदि $0.8 \times \text{क्रय मूल्य} = 0.6 \times \text{विक्रय मूल्य}$ है, तो लाभ प्रतिशत क्या है?

Options:

1) 33.33

2) 25

3) 20

4) 10

Correct Answer: 33.33

Candidate Answer: 33.33

QID : 41 - A dealer claims to sell his goods at cost price but uses a weight of 80 gm for 100 gm. What is the profit percentage for the dealer?

एक दुकानदार अपनी वस्तुओं को क्रय मूल्य पर बेचने का दावा करता है लेकिन वह 100 ग्राम के बदले 80 ग्राम के वजन का प्रयोग करता है। दुकानदार का लाभ प्रतिशत क्या है?

Options:

1) 12.5

2) 10

3) 20

4) 25

Correct Answer: 25

Candidate Answer: 25

QID : 42 - If the price of sugar is increased by 10%, then by how much percent consumption should be reduced so that the expenditure remains the same?

यदि चीनी के मूल्य में 10% की वृद्धि हो जाती है, तो उसकी खपत में कितने प्रतिशत की कमी की जाए कि खर्च में कोई परिवर्तन न हो?

Options:

1) 9.09

2) 10

3) 12.5

4) 20

Correct Answer: 9.09

Candidate Answer: 9.09

QID : 43 - If the radius of a circle is decreased by 30%, then what is the decrease in the area of the circle?

यदि किसी वृत्त की त्रिज्या में 30% की कमी की जाए, तो उसके क्षेत्रफल में कितने प्रतिशत की कमी होगी?



Options:

1) 51

2) 60

3) 69

4) 30

Correct Answer: 51

Candidate Answer: 30

QID : 44 - Kamal covers $\frac{4}{5}$ of the total distance by train and the remaining 15 km by bus. What is his total journey (in km)?

कमल अपनी कुल यात्रा का $\frac{4}{5}$ भाग रेलगाड़ी द्वारा तय करता है। शेष 15 कि.मी. बची दूरी वह बस द्वारा तय करता है। उसकी कुल यात्रा (कि.मी. में) क्या है?

Options:

1) 50

2) 75

3) 85

4) 35

Correct Answer: 75

Candidate Answer: 75

QID : 45 - A man can row 12 km/hr in still water. If the speed of the current is 3 km/hr, he takes 4 hours more in upstream than in the downstream. What is the distance (in km)?

शांत जल में एक व्यक्ति की गति 12 कि.मी./घंटा है। यदि धारा की गति 3 कि.मी./घंटा है, धारा के अनुकूल दिशा में कुछ दूर जाने में जितना समय लगता है, उससे 4 घंटे अधिक समय धारा के प्रतिकूल दिशा में उतनी ही दूरी तय करने में लगता है। दूरी (कि.मी. में) क्या है?

Options:

1) 30

2) 45

3) 60

4) 90

Correct Answer: 90

Candidate Answer: 90

QID : 46 - A sum amounts to Rs 1210 in 2 years when invested at compound interest. If principal is Rs 1000, then what is the rate of interest (in %)?

एक राशि चक्रवृद्धि ब्याज पर निवेश करने से 2 वर्ष में 1210 रु हो जाती है। यदि मूलधन 1000 रु है, तो ब्याज दर (% में) क्या होगी?

Options:

1) 10

2) 20

3) 15

4) 12

Correct Answer: 10

Candidate Answer: 10



QID : 47 -

The table given below shows cost of journey (in Rs) from Delhi to 4 different towns on 4 different trains.

नीचे दी गई तालिका में 4 विभिन्न रेलगाड़ियों पर दिल्ली से 4 भिन्न शहरों की यात्रा के व्यय (रु में) को दर्शाया गया है।

Towns शहर	Train 1 रेलगाड़ी 1	Train 2 रेलगाड़ी 2	Train 3 रेलगाड़ी 3	Train 4 रेलगाड़ी 4
A	4300	3100	4000	6000
B	4500	3300	3900	6300
C	4800	2600	4200	5600
D	4700	3200	3600	5700

What is average cost (in Rs) of journey to Town A?

शहर A तक की यात्रा का औसत व्यय (रु में) क्या है?

Options:

1) 4400

2) 4350

3) 4150

4) 4200

Correct Answer: 4350

Candidate Answer: 4350

QID : 48 -

The table given below shows cost of journey (in Rs) from Delhi to 4 different towns on 4 different trains.

नीचे दी गई तालिका में 4 विभिन्न रेलगाड़ियों पर दिल्ली से 4 भिन्न शहरों की यात्रा के व्यय (रु में) को दर्शाया गया है।

Towns शहर	Train 1 रेलगाड़ी 1	Train 2 रेलगाड़ी 2	Train 3 रेलगाड़ी 3	Train 4 रेलगाड़ी 4
A	4300	3100	4000	6000
B	4500	3300	3900	6300
C	4800	2600	4200	5600
D	4700	3200	3600	5700

Which of the following has the least cost?

निम्नलिखित में से किसका व्यय सबसे कम है?

Options:

1) Train 2 to A

रेलगाड़ी 2 से A

2) Train 1 to A

रेलगाड़ी 1 से A

3) Train 2 to C

रेलगाड़ी 2 से C

4) Train 1 to B

रेलगाड़ी 1 से B

Correct Answer: Train 2 to C

रेलगाड़ी 2 से C

Candidate Answer: Train 2 to C

रेलगाड़ी 2 से C

QID : 49 -

The table given below shows cost of journey (in Rs) from Delhi to 4 different towns on 4 different trains.

नीचे दी गई तालिका में 4 विभिन्न रेलगाड़ियों पर दिल्ली से 4 भिन्न शहरों की यात्रा के व्यय (रु में) को दर्शाया गया है।

Towns शहर	Train 1 रेलगाड़ी 1	Train 2 रेलगाड़ी 2	Train 3 रेलगाड़ी 3	Train 4 रेलगाड़ी 4
A	4300	3100	4000	6000
B	4500	3300	3900	6300
C	4800	2600	4200	5600
D	4700	3200	3600	5700

What is total least cost (in Rs) of Journey from Delhi to town A and Delhi to town D?

दिल्ली से शहर A तथा दिल्ली से शहर D की यात्रा का कुल सबसे कम व्यय (रु में) क्या है?

Options:

1) 6300

2) 5700

3) 6400

4) 6600

Correct Answer: 6300

Candidate Answer: 6300

QID : 50 -

The table given below shows cost of journey (in Rs) from Delhi to 4 different towns on 4 different trains.

नीचे दी गई तालिका में 4 विभिन्न रेलगाड़ियों पर दिल्ली से 4 भिन्न शहरों की यात्रा के व्यय (रु में) को दर्शाया गया है।

Towns शहर	Train 1 रेलगाड़ी 1	Train 2 रेलगाड़ी 2	Train 3 रेलगाड़ी 3	Train 4 रेलगाड़ी 4
A	4300	3100	4000	6000
B	4500	3300	3900	6300
C	4800	2600	4200	5600
D	4700	3200	3600	5700

What will be the maximum cost (in Rs) of travelling from Delhi to the four towns?

दिल्ली से चारों शहरों तक यात्रा का अधिकतम व्यय (रु में) क्या होगा?

Options:

1) 23600

2) 22700

3) 24500

4) 21900

Correct Answer: 23600

Candidate Answer: 23600

QID : 51 - In the following question, some part of the sentence may have errors. Find out which part of the sentence has an error and select the appropriate option. If a sentence is free from error, select 'No Error'.

Scientists see the evidence (1)/ of early life in (2)/ ancient rocks. (3)/ No Error (4)

Options:

1) 1

2) 2

3) 3

4) 4

Correct Answer: 4

Candidate Answer: 1

QID : 52 - In the following question, some part of the sentence may have errors. Find out which part of the sentence has an error and select the appropriate option. If a sentence is free from error, select 'No Error'.

Before you finalise (1)/ any of them

Options:

- 1) 1
- 2) 2
- 3) 3
- 4) 4

Correct Answer: 3

Candidate Answer: 3

QID : 53 - In the following question, the sentence given with blank to be filled in with an appropriate word. Select the correct alternative out of the four and indicate it by selecting the appropriate option.

Aashish tried to _____ smoking, but did not succeed.

Options:

- 1) get away
- 2) put out
- 3) give up
- 4) do away

Correct Answer: give up

Candidate Answer: [NOT ANSWERED]

QID : 54 - In the following question, the sentence given with blank to be filled in with an appropriate word. Select the correct alternative out of the four and indicate it by selecting the appropriate option.

Ashina has invited some of her friends _____ coffee.

Options:

- 1) on
- 2) for
- 3) to
- 4) at

Correct Answer: for

Candidate Answer: on

QID : 55 - In the following question, out of the give four alternatives, select the one which best expresses the meaning of the given word.

Amplify

Options:

- 1) Boost
- 2) Contract
- 3) Curtail
- 4) Shorten

Correct Answer: Boost

Candidate Answer: Boost

QID : 56 - In the following question, out of the give four alternatives, select the one which best expresses the meaning of the given word.

Casual

Options:

- 1) Planned
- 2) Occasional
- 3) Deliberate
- 4) Serious

Correct Answer: Occasional

Candidate Answer: Occasional



QID : 57 - In the following question, out of the give four alternatives, select the one which best expresses the meaning of the given word.

Insane

Options:

- 1) Reasonable
- 2) Healthy
- 3) Crazy
- 4) Balanced

Correct Answer: Crazy

Candidate Answer: [NOT ANSWERED]

QID : 58 - In the following question, out of the give four alternatives, select the one which is opposite in meaning of the given word.

Hinder

Options:

- 1) Arrest
- 2) Aid
- 3) Check
- 4) Curb

Correct Answer: Aid

Candidate Answer: Arrest

QID : 59 - In the following question, out of the give four alternatives, select the one which is opposite in meaning of the given word.

Provident

Options:

- 1) Wasteful
- 2) Saving
- 3) Cautious
- 4) Prepared

Correct Answer: Wasteful

Candidate Answer: Wasteful

QID : 60 - In the following question, out of the give four alternatives, select the one which is opposite in meaning of the given word.

Subtle

Options:

- 1) Fine
- 2) Implied
- 3) Indirect
- 4) Harsh

Correct Answer: Harsh

Candidate Answer: [NOT ANSWERED]

QID : 61 - In the following question, out of the four given alternatives, select the alternative which best expresses the meaning of the Idiom/Phrase.

Ill at ease

Options:

- 1) To be uncomfortable
- 2) To be in fashion
- 3) To be in a puzzling state
- 4) To be in danger

Correct Answer: To be uncomfortable

QID : 62 - In the following question, out of the four given alternatives, select the alternative which best expresses the meaning of the Idiom/Phrase.

Get the upper hand

Options:

- 1) To revenge
- 2) To start to go
- 3) To take risk
- 4) To get an advantage

Correct Answer: To get an advantage

Candidate Answer: To start to go

QID : 63 - Improve the bracketed part of the sentence.

Today is the **(original day)** to complete this, after it you won't be able to do so.

Options:

- 1) last day
- 2) first day
- 3) second day
- 4) No improvement

Correct Answer: last day

Candidate Answer: last day

QID : 64 - Improve the bracketed part of the sentence.

(Attention) is better than cure.

Options:

- 1) Examination
- 2) Prevention
- 3) Creation
- 4) No improvement

Correct Answer: Prevention

Candidate Answer: Prevention

QID : 65 - In the following question, out of the four given alternatives, select the alternative which is the best substitute of the phrase.

Science of writing and compiling a dictionary

Options:

- 1) Calligraphy
- 2) Lexicography
- 3) Autobiography
- 4) Bibliography

Correct Answer: Lexicography

Candidate Answer: Lexicography

QID : 66 - In the following question, out of the four given alternatives, select the alternative which is the best substitute of the phrase.

Science of the constitution of the whole universe

Options:

- 1) Cosmopolitan
- 2) Chronicle
- 3) Cosmography
- 4) Connoisseur

Correct Answer: Cosmography

Candidate Answer: Cosmography

QID : 67 - In the following question, a word has been written in four different ways out of which only one is correctly spelt. Select the correctly spelt word.



Options:

- 1) Challing
- 2) Challenge
- 3) Challeng
- 4) Chaillenge

Correct Answer: Challenge

Candidate Answer: Challenge

QID : 68 - In the following question, a word has been written in four different ways out of which only one is correctly spelt. Select the correctly spelt word.

Options:

- 1) Diagnose
- 2) Daignose
- 3) Diagnause
- 4) Diagnuase

Correct Answer: Diagnose

Candidate Answer: Diagnause

QID : 69 - Rearrange the parts of the sentence in correct order.

Good books

P: man in various

Q: have always helped

R: spheres of life

Options:

- 1) QPR
- 2) RPQ
- 3) RQP
- 4) QRP

Correct Answer: QPR

Candidate Answer: QPR

QID : 70 - Rearrange the parts of the sentence in correct order.

There is a

P: in doing one's work

Q: honestly and efficiently

R: sense of joy

Options:

- 1) PQR
- 2) QRP
- 3) RPQ
- 4) QPR

Correct Answer: RPQ

Candidate Answer: QRP

QID : 71 - In the following passage some of the words have been left out. Read the passage carefully and select the correct answer for the given blank out of the four alternatives.

_____ is everything which we do in the right way in right time. It leads _____ on the right path. We all follow various types of discipline in our _____ lives. There are many _____ like we wake up in the early morning, drink a glass of water, go to the washroom to get fresh, do brush our teeth, take bath, have _____, go to school in uniform at right time, etc all are discipline.

_____ is everything



Options:

- 1) Religion
- 2) Relation
- 3) Discipline
- 4) Origin

Correct Answer: Discipline

Candidate Answer: Discipline

QID : 72 - In the following passage some of the words have been left out. Read the passage carefully and select the correct answer for the given blank out of the four alternatives.

_____ is everything which we do in the right way in right time. It leads _____ on the right path. We all follow various types of discipline in our _____ lives. There are many _____ like we wake up in the early morning, drink a glass of water, go to the washroom to get fresh, do brush our teeth, take bath, have _____, go to school in uniform at right time, etc all are discipline.

It leads _____ on the right path.

Options:

- 1) us
- 2) you
- 3) them
- 4) all

Correct Answer: us

Candidate Answer: us

QID : 73 - In the following passage some of the words have been left out. Read the passage carefully and select the correct answer for the given blank out of the four alternatives.

_____ is everything which we do in the right way in right time. It leads _____ on the right path. We all follow various types of discipline in our _____ lives. There are many _____ like we wake up in the early morning, drink a glass of water, go to the washroom to get fresh, do brush our teeth, take bath, have _____, go to school in uniform at right time, etc all are discipline.

types of discipline in our _____ lives.

Options:

- 1) boring
- 2) daily
- 3) caring
- 4) daring

Correct Answer: daily

Candidate Answer: daily

QID : 74 - In the following passage some of the words have been left out. Read the passage carefully and select the correct answer for the given blank out of the four alternatives.

_____ is everything which we do in the right way in right time. It leads _____ on the right path. We all follow various types of discipline in our _____ lives. There are many _____ like we wake up in the early morning, drink a glass of water, go to the washroom to get fresh, do brush our teeth, take bath, have _____, go to school in uniform at right time, etc all are discipline.

There are many _____ like we wake

Options:

- 1) exceptions
- 2) citations
- 3) creations
- 4) examples

Correct Answer: examples

Candidate Answer: examples



QID : 75 - In the following passage some of the words have been left out. Read the passage carefully and select the correct answer for the given blank out of the four alternatives.

_____ is everything which we do in the right way in right time. It leads _____ on the right path. We all follow various types of discipline in our _____ lives. There are many _____ like we wake up in the early morning, drink a glass of water, go to the washroom to get fresh, do brush our teeth, take bath, have _____, go to school in uniform at right time, etc all are discipline.

take _____, go to school in uniform at right time, etc

Options:

- 1) lunch
- 2) breakfast
- 3) dinner
- 4) snacks

Correct Answer: breakfast

Candidate Answer: breakfast

QID : 76 - A drill machine in the hands of a plumber is what type of a good?

एक प्लंबर के हाथों में एक ड्रिल मशीन किस तरह की वस्तु है?

Options:

- 1) Consumer
उपभोक्ता
- 2) Costly
महंगी
- 3) Cheap
सस्ती
- 4) Intermediary
मध्यवर्ती

Correct Answer: Consumer

उपभोक्ता

Candidate Answer: Intermediary

मध्यवर्ती

QID : 77 - According to Indian constitution, government has how many organs?

भारतीय संविधान के अनुसार सरकार के कितने अंग हैं?

Options:

- 1) One
एक
- 2) Two
दो
- 3) Three
तीन
- 4) Four
चार

Correct Answer: Three

तीन

Candidate Answer: Two

दो

QID : 78 - How many fundamental rights are there in Indian Constitution?

भारतीय संविधान में कितने मौलिक अधिकार हैं?

Options:

- 1) 10
- 2) 8
- 3) 6
- 4) 4

Correct Answer: 6

Candidate Answer: 6

QID : 79 - Under whose presidentship fight for Purna Swaraj resolution was passed?

किसकी अध्यक्षता में पूर्ण स्वराज की लड़ाई का प्रस्ताव पारित किया गया?

Options:

1) Mahatma Gandhi

महात्मा गाँधी

2) Md. Ali Jinnah

मो. अली जिन्नाह

3) Subhash Chandra Bose

सुभाष चन्द्र बोस

4) Jawahar Lal Nehru

जवाहर लाल नेहरू

Correct Answer: Jawahar Lal Nehru

जवाहर लाल नेहरू

Candidate Answer: Md. Ali Jinnah

मो. अली जिन्नाह

QID : 80 - Whose descendants were the Mughals from their father's side?

अपनी पिता की ओर से मुगल किसके वंशज थे?

Options:

1) Timur

तिमुर

2) Genghis Khan

चेंगिज खान

3) Sher Shah Suri

शेर शाह सूरी

4) None of these

इनमें से कोई नहीं

Correct Answer: Timur

तिमुर

Candidate Answer: Sher Shah Suri

शेर शाह सूरी

QID : 81 - Our solar system consists of how many planets?

हमारा सौर मंडल कितने ग्रहों का बना हुआ है?

Options:

1) 8

2) 10

3) 9

4) 7

Correct Answer: 8

Candidate Answer: 8

QID : 82 - Which is the highest mountain peak on Earth?

पृथ्वी पर सबसे ऊँचा पर्वत शिखर कौन सा है?

Options:

1) Mauna Kea

मौना की

2) Mount Everest

माउंट एवरेस्ट

3) Kangchenjunga

कंचन जंघा

4) Makalu

मकालु

Correct Answer: Mount Everest

माउंट एवरेस्ट

Candidate Answer: Mount Everest

माउंट एवरेस्ट

QID : 83 - If the stomach did not produce any hydrochloric acid, which enzyme will not function?

यदि उदर में किसी भी हाइड्रोक्लोरिक अम्ल का उत्पादन न हो तो कौन-सा एंजाइम कार्य नहीं करेगा?

Options:

1) Ptyalin

टाइलिन

2) Rennin

रेनिन

3) Pepsin

पेप्सिन

4) Lipase

लिपेस

Correct Answer: Pepsin

पेप्सिन

Candidate Answer: Pepsin

पेप्सिन

QID : 84 - Smaller roots coming out of main root is called as _____.

मुख्य जड़ से बाहर आने वाली छोटी जड़ों को _____ कहते हैं।

Options:

1) Tap root

मूसला जड़

2) Lateral root

पार्श्व जड़

3) Fibrous root

रेशदार जड़

4) Ring root

घुमावदार जड़

Correct Answer: Lateral root

पार्श्व जड़

Candidate Answer: Ring root

घुमावदार जड़

QID : 85 - Both erythrocytes and leucocytes are formed in the _____.

एरिथ्रोसाइट्स और ल्यूकोसाइट्स दोनों _____ में बनते हैं।

Options:

1) Bone marrow

मज्जा

2) Thymus

थाइमस

3) Arterial walls

धमनियों की दीवारों

4) Lymph nodes

लसीकापर्व

Correct Answer: Bone marrow

मज्जा

Candidate Answer: Bone marrow

मज्जा

QID : 86 - Electricians use rubber gloves while working because

इलेक्ट्रीशियन कार्य करते समय रबर के दस्तानों का प्रयोग करते हैं क्योंकि:

Options:

1) rubber is an insulator

रबर एक कुचालक है

2) rubber is a good conductor

रबर एक सुचालक है

3) wearing rubber gloves is mandatory

रबर दस्ताने

4) rubber makes work easy

रबर कार्य आसान करता है

Correct Answer: rubber is an insulator

रबर एक कुचालक है

Candidate Answer: rubber is an insulator

रबर एक कुचालक है

QID : 87 - If a pendulum is allowed to oscillate in vacuum, its time period will _____.

यदि एक लोलक निर्वात में दोलन करता है तो इसकी समयावधि _____

Options:

1) decreases

घट जाती है

2) Increases

बढ़ जाती है

3) remains same

अपरिवर्तित रहती है

4) first increases and then decreases

पहले बढ़ती है तथा फिर घटती है

Correct Answer: decreases

घट जाती है

Candidate Answer: decreases

घट जाती है

QID : 88 - Which format of email address is correct?

ईमेल एड्रेस का कौन सा प्रारूप सही है?

Options:

1) xyz@website@co.in

2) xyz.website@co.in

3) xyz@website.co.in

4) xyz.website.co.in

Correct Answer: xyz@website.co.in

Candidate Answer: xyz.website.co.in

QID : 89 - The atomic number of an element is determined by _____.

एक तत्व की परमाणु संख्या _____ से निर्धारित होती है।

Options:

1) adding the number of electrons & protons in one atom

परमाणु में इलेक्ट्रॉन तथा प्रोटॉन की संख्या के जोड़

2) the number of neutrons in one atom

परमाणु में न्यूट्रॉन की संख्या

3) the valency of the element

तत्व की संयोजकता

4) the number of protons in one atom

परमाणु में प्रोटॉनों की संख्या

Correct Answer: the number of protons in one atom

परमाणु में प्रोटॉनों की संख्या

Candidate Answer: adding the number of electrons & protons in one atom

परमाणु में इलेक्ट्रॉन तथा प्रोटॉन की संख्या के जोड़

QID : 90 - The number of electrons in the outer shell of the most stable or inert atoms is _____.

सर्वाधिक स्थिर या निष्क्रिय परमाणुओं की बाहरी कक्षा में इलेक्ट्रॉनों की संख्या _____ होती है।

Options:

1) 1

2) 5

3) 3

4) 8

Correct Answer: 8

Candidate Answer: 1

QID : 91 - What are the dissolved and suspended impurities in sewage called?

वाहित मल में घुले हुए तथा निलांबित अपद्रव्य को क्या कहते हैं?

Options:

1) Impurities

अपद्रव्य

2) Waste

अपशिष्ट

3) Solids

पिंड

4) Contaminants

संदूषक

Correct Answer: Contaminants

संदूषक

Candidate Answer: Contaminants

संदूषक

QID : 92 - Which among the following is not a category of loan under Pradhan Mantri Mudra Yojana?

निम्नलिखित में से कौन प्रधानमंत्री मुद्रा योजना के अंतर्गत ऋण का वर्ग नहीं है?

Options:

1) Shishu

शिशु

2) Vayask

वयस्क

3) Tarun

तरुण

4) Kishore

किशोर

Correct Answer: Vayask

वयस्क

Candidate Answer: Vayask

वयस्क

QID : 93 - Who among the following discovered laws of planetary motion?

निम्नलिखित में से किसने ग्रहों की गति के नियमों की खोज की थी?

Options:

1) J. Kepler

जे. केप्लर

2) Albert Einstein

ऐल्बर्ट आइंस्टाइन

3) N. Copernicus

एन. कोपरनिकस

4) Otto Blathy

ओट्टो ब्लैथी

Correct Answer: J. Kepler

जे. केप्लर

Candidate Answer: J. Kepler

जे. केप्लर

QID : 94 - Which country won the 2017 ICC Champions Trophy?

किस देश ने 2017 आईसीसी चैंपियंस ट्रॉफी जीती?

Options:

1) India

इंडिया

2) England

इंग्लैंड

3) Pakistan

पाकिस्तान

4) Australia

ऑस्ट्रेलिया

Correct Answer: Pakistan

पाकिस्तान

Candidate Answer: Australia
ऑस्ट्रेलिया

QID : 95 - Phulkari, Kantha and Chikankari are famous forms of _____.

फुल्कारी, कान्था, चिकानकारी _____ के प्रसिद्ध रूप हैं।

Options:

1) Dance

नृत्य

2) Painting

चित्रकारी

3) Music

संगीत

4) Embroidery

कढ़ाई

Correct Answer: Embroidery

कढ़ाई

Candidate Answer: Embroidery

कढ़ाई

QID : 96 - Who is the winner of UNESCO Peace Prize 2017?

यूनेस्को शांती पुरस्कार 2017 के विजेता कौन हैं?

Options:

1) Bollywood Actor Aamir Khan

बॉलीवुड के अभिनेता आमिर खान

2) Italy's Mayor Glusi Nicolini

इटली की मेयर ग्लूसी निकोलिनी

3) Writer David Grossman

लेखक डेविड ग्रॉसमैन

4) UK Minister Priti Patel

यू. के. की मंत्री प्रीति पटेल

Correct Answer: Italy's Mayor Glusi Nicolini

इटली की मेयर ग्लूसी निकोलिनी

Candidate Answer: Italy's Mayor Glusi Nicolini

इटली की मेयर ग्लूसी निकोलिनी

QID : 97 - Who is the author of the book named "Gods of Antarctica"?

"गॉड्स ऑफ अंटार्क्टिका" नामक पुस्तक के लेखक कौन हैं?

Options:

1) Vishal Sikka

विशाल सिक्का

2) Tarun Khanna

तरुन खन्ना

3) Yashwardhan Shukla

यशवर्धन शुक्ला

4) Amitav Ghosh

अमिताव घोष

Correct Answer: Yashwardhan Shukla

यशवर्धन शुक्ला

Candidate Answer: Amitav Ghosh

अमिताव घोष

QID : 98 - The Mekong Ganga Cooperation is an initiative by India and how many other countries?

मेकांग गंगा सहयोग भारत और कितने अन्य देशों के द्वारा एक पहल है?

Options:

1) 3

2) 5

3) 7

4) 11

Correct Answer: 5

Candidate Answer: 3

QID : 99 - Which among the following Indian state does not share boundary with Pakistan?

निम्नलिखित में से भारत का कौन सा राज्य पाकिस्तान के साथ सीमा साझा नहीं करता?

Options:

1) Punjab

पंजाब

2) Rajasthan

राजस्थान

3) Gujrat

गुजरात

4) Maharashtra

महाराष्ट्र

Correct Answer: Maharashtra

महाराष्ट्र

Candidate Answer: Maharashtra

महाराष्ट्र

QID : 100 - What is the full form of GDP?

जी डी पी का विस्तारित रूप क्या होगा ?

Options:

1) Gross Domestic Product

सकल घरेलू उत्पाद

2) Goods Domestic Product

माल घरेलू उत्पाद

3) Goods Dynamic Product

चालू घरेलू उत्पाद

4) None of these

इनमें से कोई नहीं

Correct Answer: Gross Domestic Product

सकल घरेलू उत्पाद

Candidate Answer: Gross Domestic Product

सकल घरेलू उत्पाद