



Staff Selection Commission
(Government Of India)

REGISTRATION NUMBER : www.examstocks.com
EXAM DATE : 21-September-2017 EXAM
NAME : SSC Examination TOTAL MARKS : 150

CANDIDATE NAME : examstocks.com
EXAM START TIME : 13:30:00 EXAM
DURATION : 01:30 Hrs TOTAL NO OF
QUESTIONS : 100

QID : 101 -

In the following question, select the number which can be placed at the sign of question mark (?) from the given alternatives.

निम्नलिखित प्रश्न में दिए गए विकल्पों में से प्रश्न चिह्न (?) के स्थान पर आने वाली संख्या को चुनिए।

8	2	4	14
7	6	5	18
4	2	5	?

Options:

- 1) 9
- 2) 10
- 3) 11
- 4) 12

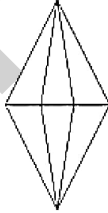
Correct Answer: 11

Candidate Answer: 11

QID : 102 -

How many triangles are there in the given figure?

दी गई आकृति में कितने त्रिभुज हैं?



Options:

- 1) 8
- 2) 10
- 3) 12
- 4) 14

Correct Answer: 12

Candidate Answer: 12

QID : 103 -

A word is represented by only one set of numbers as given in any one of the alternatives. The sets of numbers given in the alternatives are represented by two classes of alphabets as shown in the given two matrices. The columns and rows of **Matrix-I** are numbered from 0 to 4 and that of **Matrix-II** are numbered from 5 to 9. A letter from these matrices can be represented first by its row and next by its column, for example, 'C' can be represented by 11, 67, etc., and 'T' can be represented by 30, 66, etc. Similarly, you have to identify the set for the word "TRADE".

एक शब्द केवल एक संख्या-समूह द्वारा दर्शाया गया है, जैसा कि विकल्पों में से किसी एक में दिया गया है। विकल्पों में दिए गए संख्या-समूह अक्षरों के दो वर्गों द्वारा दर्शाए गए हैं, जैसा कि दिए गए दो आव्यूहों में है। आव्यूह-I के स्तम्भ और पंक्ति की संख्या 0 से 4 है और आव्यूह-II की 5 से 9। इन आव्यूहों से एक अक्षर को पहले उसकी पंक्ति और बाद में स्तम्भ संख्या द्वारा दर्शाया जा सकता है। उदाहरण के लिए 'C' को 11, 67, आदि द्वारा दर्शाया जा सकता है तथा 'T' को 30, 66, आदि द्वारा दर्शाया जा सकता है। इसी तरह से आपको प्रश्न में दिए शब्द "TRADE" के लिए समूह को पहचानना है।

Matrix-I आव्यूह-I						Matrix-II आव्यूह-II					
	0	1	2	3	4		5	6	7	8	9
0	A	K	S	Y	D	5	B	L	V	E	O
1	F	C	M	U	B	6	J	T	C	M	W
2	N	H	E	O	W	7	H	R	A	K	U
3	T	P	J	G	Q	8	F	P	Z	I	S
4	X	V	R	L	I	9	D	N	X	G	Q

Options:

- 1) 30, 42, 01, 96, 58
- 2) 30, 76, 78, 04, 22
- 3) 66, 42, 00, 95, 58
- 4) 66, 77, 00, 95, 31

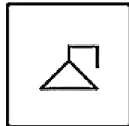
Correct Answer: 66, 42, 00, 95, 58

Candidate Answer: 66, 42, 00, 95, 58

QID : 104 -

From the given answer figures, select the one in which the question figure is hidden/embedded.

दी गई उत्तर आकृतियों में से उस उत्तर आकृति को चुनिए जिस में प्रश्न आकृति निहित है।



Options:

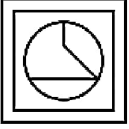
1)



2)



3)



4)



Correct Answer:



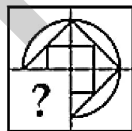
Candidate Answer:



QID : 105 -

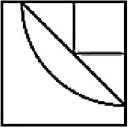
Which answer figure will complete the pattern in the question figure?

कौन सी उत्तर आकृति प्रश्न आकृति के प्रतिरूप को पूरा करेगी?

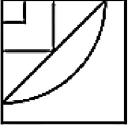


Options:

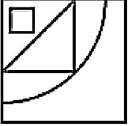
1)



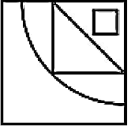
2)



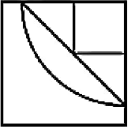
3)



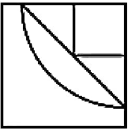
4)



Correct Answer:



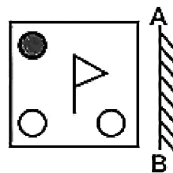
Candidate Answer:



QID : 106 -

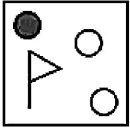
If a mirror is placed on the line AB, then which of the answer figures is the right image of the given figure?

यदि एक दर्पण को AB रेखा पर रखा जाए, तो दी गई उत्तर आकृतियों में से कौन सी आकृति प्रश्न आकृति की सही प्रतिबिम्ब होगी?

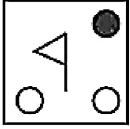


Options:

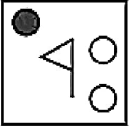
1)



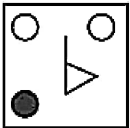
2)



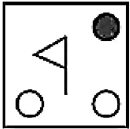
3)



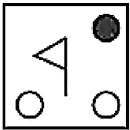
4)



Correct Answer:



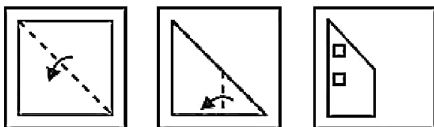
Candidate Answer:



QID : 107 -

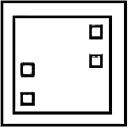
A piece of paper is folded and punched as shown below in the question figures. From the given answer figures, indicate how it will appear when opened?

नीचे के प्रश्न आकृतियों में दिखाए अनुसार कागज को मोड़कर छेदने तथा खोलने के बाद वह किस उत्तर आकृति जैसा दिखाई देगा?

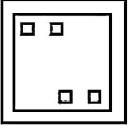


Options:

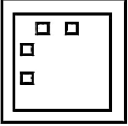
1)



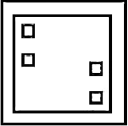
2)



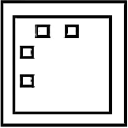
3)



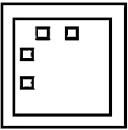
4)



Correct Answer:



Candidate Answer:



QID : 108 - If '+' means '-', '-' means 'x' and 'x' means '+', then

$$24 + 12 \div 6 - 4 = ?$$

यदि '+' का अर्थ '-', '-' का अर्थ 'x' तथा 'x' का अर्थ '+' हो, तो

$$24 + 12 \div 6 - 4 = ?$$

Options:

- 1) - 22
- 2) 22
- 3) - 29
- 4) 32

Correct Answer: - 22

Candidate Answer: - 22

QID : 109 - If $3 + 6 + 1 = 163$ and $5 + 4 + 9 = 945$, then $4 + 2 + 3 = ?$

यदि $3 + 6 + 1 = 163$ तथा $5 + 4 + 9 = 945$ हो, तो $4 + 2 + 3 = ?$

Options:

- 1) 432
- 2) 243
- 3) 234
- 4) 324

Correct Answer: 324

Candidate Answer: 324

QID : 110 - Arrange the given words in the sequence in which they occur in the dictionary.

1. Crying
2. Crypt
3. Cooled
4. Cooking
5. Captain

निम्नलिखित शब्दों को शब्दकोश में आने वाले क्रम के अनुसार लिखें।

1. Crying
2. Crypt
3. Cooled
4. Cooking
5. Captain

Options:

- 1) 53421
- 2) 54312
- 3) 54132
- 4) 53412

Correct Answer: 54312

Candidate Answer: 54312

QID : 111 - In the following question, select the missing number from the given alternatives.

4, 8, 16, ?, 64, 128

निम्नलिखित प्रश्न में दिए गए विकल्पों में से लुप्त अंक ज्ञात कीजिए।

4, 8, 16, ?, 64, 128

Options:

- 1) 30
- 2) 28
- 3) 24
- 4) 32

Correct Answer: 32

Candidate Answer: 32

QID : 112 - A series is given with one term missing. Select the correct alternative from the given ones that will complete the series.

TVU, WYX, ZBA, ?

एक अनुक्रम दिया गया है, जिसमें से एक पद लुप्त है। दिए गए विकल्पों में से वह सही विकल्प चुनिए, जो अनुक्रम को पूरा करे।

TVU, WYX, ZBA, ?

Options:

- 1) DEC
- 2) DCE
- 3) CED
- 4) CDE

Correct Answer: CED

Candidate Answer: CED

QID : 113 - In the following question, select the odd word pair from the given alternatives.

निम्नलिखित प्रश्न में दिए गए विकल्पों में से विषम शब्द युग्म को चुनिए।

Options:

- 1) Tall : Short
लम्बा : छोटा
- 2) Above : Top
ऊपर : चोटी
- 3) Laugh : Cry
हँसना : रोना
- 4) Fat : Thin
मोटा : पतला

Correct Answer: Above : Top

ऊपर : चोटी

Candidate Answer: Above : Top

ऊपर : चोटी

QID : 114 - In the following question, select the odd number from the given alternatives.

निम्नलिखित प्रश्न में दिए गए विकल्पों में से विषम संख्या को चुनिए।

Options:

- 1) 26
- 2) 64
- 3) 36
- 4) 144

Correct Answer: 26

Candidate Answer: 26

QID : 115 - In the following question, select the odd letters from the given alternatives.

निम्नलिखित प्रश्न में दिए गए विकल्पों में से विषम अक्षरों को चुनिए।

Options:

- 1) AC
- 2) PR
- 3) TU
- 4) JL

Correct Answer: TU

Candidate Answer: TU

QID : 116 - Identify the diagram that best represents the relationship among the given classes.

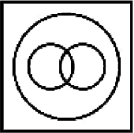
Four wheelers, Jeep, Car

वह आरेख चुनिए जो नीचे दिए गए वर्गों के बीच के संबंध का सही निरूपण करता है।

चार पहियों वाला वाहन, जीप, कार

Options:

1)



2)



3)



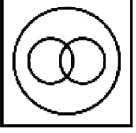
4)



Correct Answer:



Candidate Answer:



QID : 117 - In the following question, select the related word pair from the given alternatives.

Bird : Fly :: Fish : ?

निम्नलिखित प्रश्न में दिए गए विकल्पों में से संबंधित शब्द युग्म को चुनिए।

पक्षी : उड़ना :: मछली : ?

Options:

1) Swim

तैरना

2) Crawl

रेंगना

3) Running

दौड़ना

4) Walking

चलना

Correct Answer: Swim

तैरना

Candidate Answer: Swim

तैरना

QID : 118 - In the following question, select the related number from the given alternatives.

4 : 16 :: 9 : ?

निम्नलिखित प्रश्न में दिए गए विकल्पों में से संबंधित संख्या को चुनिए।

4 : 16 :: 9 : ?

Options:

1) 64

2) 81

3) 72

4) 90

Correct Answer: 81

Candidate Answer: 81

QID : 119 - In the following question, select the related letters from the given alternatives.

ACE : BEH :: BUS : ?

निम्नलिखित प्रश्न में दिए गए विकल्पों में से संबंधित अक्षरों को चुनिए।

ACE : BEH :: BUS : ?

Options:

1) CWV

2) CWU

3) CXV

4) CWX

Correct Answer: CWV

Candidate Answer: CWV



QID : 120 - In the following question, select the word which cannot be formed using the letters of the given word.

HOWLINGS

निम्नलिखित विकल्पों में से वह शब्द चुनिए जो दिए गए शब्द के अक्षरों का प्रयोग करके नहीं बनाया जा सकता।

HOWLINGS

Options:

1) WINS

2) HONS

3) SLIP

4) SING

Correct Answer: SLIP

Candidate Answer: SLIP

QID : 121 - A walks 5 km toward west. He turns right and walks 10 km. He again turns right and walks 15 km. how far (in km) is he from his starting point?

A पश्चिम की ओर 5 कि.मी. चलता है। वह दायीं ओर मुड़ता है तथा 10 कि.मी. चलता है। वह फिर दायीं ओर मुड़ता है तथा 15 कि.मी. चलता है। वह अपने आरंभिक बिंदु से कितनी दूर (कि.मी. में) है?

Options:

1) $10\sqrt{2}$

2) $10\sqrt{3}$

3) 20

4) 10

Correct Answer: $10\sqrt{2}$

Candidate Answer: $10\sqrt{2}$

QID : 122 - A, B, C, D and E are standing in line facing north. C stands in the middle. B and E cannot stand with C. A is not standing to the right of C. Who is standing second from left end?

A, B, C, D तथा E एक पंक्ति में उत्तर की ओर मुख करके खड़े हैं। C, मध्य में खड़ा है। B तथा E, C के साथ नहीं खड़े हो सकते। A, C के दायीं ओर नहीं खड़ा है। बायीं छोर से दूसरा कौन खड़ा है?

Options:

1) D

2) A

3) B

4) Cannot be determined

ज्ञात नहीं किया जा सकता।

Correct Answer: A

Candidate Answer: A

QID : 123 - In the following question below are given some statements followed by some conclusions. Taking the given statements to be true even if they seem to be at variance from commonly known facts, read all the conclusions and then decide which of the given conclusion logically follows the given statements.

Statements:

I. All chairs are cups.

II. Some chairs are tables.

Conclusions:

I. Some tables are chairs.

II. Some tables are cups.

नीचे दिए गए प्रश्न में कुछ कथन और उनके बाद उन कथनों पर आधारित कुछ निष्कर्ष दिए गए हैं, हालांकि उनमें सामान्य ज्ञात तथ्यों से भिन्नता हो सकती है। सभी निष्कर्ष पढ़ें और फिर निर्धारित करें कि दिए गए कौन से निष्कर्ष, दिए गए कथनों के आधार पर युक्तिसंगत हैं।

कथन:

I. सभी कुर्सियाँ कप हैं।

II. कुछ कुर्सियाँ मेज़ हैं।

निष्कर्ष:

I. कुछ मेज़ कुर्सियाँ हैं।

II. कुछ मेज़ कप हैं।

Options:

1) Only conclusion (I) follows.

केवल निष्कर्ष (I) सही है।

2) Only conclusion (II) follows.

केवल निष्कर्ष (II) सही है।

3) Both conclusion follow.

दोनों ही निष्कर्ष सही हैं।

4) Neither conclusion (I) nor conclusion (II) follows.

न तो निष्कर्ष (I) न ही निष्कर्ष (II) सही है।

Correct Answer: Both conclusion follow.
दोनों ही निष्कर्ष सही हैं।

Candidate Answer: Both conclusion follow.
दोनों ही निष्कर्ष सही हैं।

QID : 124 - In a certain code language, "STAMP" is written as "UVCOR". How is "PAPER" written in that code language?

एक विशिष्ट कोड भाषा में, "STAMP" को "UVCOR" लिखा जाता है। इस कोड भाषा में "PAPER" को किस प्रकार लिखा जाएगा?

Options:

- 1) RCRGT
- 2) RCRGU
- 3) RDRGT
- 4) RBRGT

Correct Answer: RCRGT

Candidate Answer: RCRGT

QID : 125 - In a certain code language, "PIN" is written as "78" and "SIN" is written as "84". How is "BIN" written in that code language?

एक विशिष्ट कोड भाषा में, "PIN" को "78" तथा "SIN" को "84" लिखा जाता है। इस कोड भाषा में "BIN" को किस प्रकार लिखा जाएगा?

Options:

- 1) 25
- 2) 50
- 3) 75
- 4) 30

Correct Answer: 50

Candidate Answer: 50

QID : 126 - What is the value of $1^2 - 2^2 + 3^2 - 4^2 + 6^2 - 5^2 + 8^2 - 7^2$?

$1^2 - 2^2 + 3^2 - 4^2 + 6^2 - 5^2 + 8^2 - 7^2$ का मान क्या है?

Options:

- 1) - 25
- 2) - 4
- 3) 4
- 4) - 16

Correct Answer: - 16

Candidate Answer: - 16

QID : 127 - If $A = 2^3 \times 5^4$ and $B = 2^2 \times 5^2$ then what is the value of $A \times B$?

यदि $A = 2^3 \times 5^4$ and $B = 2^2 \times 5^2$ है, तो $A \times B$ का मान क्या है?

Options:
1) 200000

2) 500000

3) 40000

4) 800000

Correct Answer: 500000

Candidate Answer: 500000

QID : 128 - What is the smallest three digit perfect square?

तीन अंकों का सबसे छोटा पूर्ण वर्ग क्या है?

Options:
1) 121

2) 100

3) 144

4) 128

Correct Answer: 100

Candidate Answer: 121

QID : 129 -

What is the value of $\sqrt{0.0016} + \sqrt{0.16} + \sqrt{16}$?

$\sqrt{0.0016} + \sqrt{0.16} + \sqrt{16}$ का मान क्या है?



Options:

1) 4.44

2) 4.06

3) 4.04

4) 4.16

Correct Answer: 4.44

Candidate Answer: 4.44

QID : 130 - What is the Least Common Multiple of 24, 60 and 48?

24, 60 तथा 48 का लघुत्तम समापवर्त्य क्या है?

Options:

1) 120

2) 240

3) 180

4) 480

Correct Answer: 240

Candidate Answer: 240

QID : 131 - What is the value of $[(0.7)^3 + (0.3)^3] \div [(0.7)^2 - (0.7 \times 0.3) + (0.3)^2]$?

$[(0.7)^3 + (0.3)^3] \div [(0.7)^2 - (0.7 \times 0.3) + (0.3)^2]$ का मान क्या है?

Options:

1) 0.3

2) 0.7

3) 1

4) 0.4

Correct Answer: 1

Candidate Answer: 1

QID : 132 - P and Q together complete a work in 8 days. Q and R together complete a work in 16 days and R and P together complete the same work in 8 days. In how many days P, Q and R together can complete the work?

P तथा Q मिलकर किसी कार्य को 8 दिनों में पूरा करते हैं। Q तथा R मिलकर 16 दिनों में कार्य पूरा करते हैं तथा R तथा P मिलकर उस कार्य को 8 दिनों में पूरा करते हैं। P, Q तथा R मिलकर कार्य को कितने दिनों में पूरा कर सकते हैं?



Options:

1) 6.4

2) 7.2

3) 5.8

4) 7.1

Correct Answer: 6.4

Candidate Answer: 6.4

QID : 133 - U and V can complete a piece of work in 6 and 48 days respectively. They contracted to complete the work for Rs 45,000. What will be the share (in Rs) of U?

U तथा V किसी कार्य को क्रमशः 6 तथा 48 दिनों में पूरा कर सकते हैं। उन्होंने 45,000 रु में कार्य पूरा करने का ठेका लिया। U का हिस्सा (रु में) कितना होगा?

Options:

1) 35000

2) 37000

3) 36000

4) 40000

Correct Answer: 40000

Candidate Answer: 40000

QID : 134 - The height of two cylinders are equal and their radius are in the ratio of 1 : 3 respectively. What is the respective ratio of the volume of the two cylinders?

दो बेलनों की ऊँचाई बराबर है तथा उनकी त्रिज्या क्रमशः 1 : 3 के अनुपात में हैं। दोनों बेलनों के आयतन का क्रमशः अनुपात क्या है?

Options:

1) 1 : 3

2) 1 : 9

3) 1 : 27

4) 1 : $\sqrt{3}$

Correct Answer: 1 : 9

Candidate Answer: 1 : 9

QID : 135 - An article having marked price of Rs 4300 is sold at a discount of 17%. What is the selling price (in Rs) of the article?

एक 4300 रु अंकित मूल्य वाली वस्तु को 17% की छूट पर बेचा गया। वस्तु का विक्रय मूल्य (रु में) क्या है?

Options:

1) 3721

2) 3459

3) 3569

4) 3317

Correct Answer: 3569

Candidate Answer: 3569

QID : 136 - An article has marked price of Rs 6800. If two successive discounts of 12% and 20% are given, then what will be the selling price (in Rs)?

एक वस्तु का अंकित मूल्य 6800 रु है। यदि 12% तथा 20% की दो क्रमिक छूट दी जाए, तो विक्रय मूल्य (रु में) क्या होगा?

Options:

1) 4787.2

2) 4624

3) 4460.8

4) 4524

Correct Answer: 4787.2

Candidate Answer: 4787.2

QID : 137 - Shopkeeper sold big, medium and small sized chairs for Rs 650, Rs 500 and Rs 400 respectively. The total number of chairs sold were in the ratio 8 : 13 : 4. What is the average cost (in Rs) of a chair?

एक दुकानदार बड़े, मध्य तथा छोटे साइज की कुर्सिया क्रमशः 650 रु, 500 रु तथा 400 रु में बेचता है। कुल बेची गई कुर्सियों का अनुपात 8 : 13 : 4 है। एक कुर्सी की औसत मूल्य (रु में) क्या है?



Options:

1) 506

2) 546

3) 478

4) 532

Correct Answer: 532

Candidate Answer: 532

QID : 138 - If $u : v : w = 1 : 5 : 13$, then what will be the value of $(3u + 2v + 4w) / (2w - u - 4v)$?

यदि $u : v : w = 1 : 5 : 13$ है, तो $(3u + 2v + 4w) / (2w - u - 4v)$ का मान क्या होगा।

Options:

1) 25

2) 13

3) 12

4) 17

Correct Answer: 13

Candidate Answer: 13

QID : 139 - What is the average of first 9 even numbers?

पहली 9 सम संख्याओं का औसत क्या है?



Options:

1) 9

2) 12

3) 11

4) 10

Correct Answer: 10

Candidate Answer: 10

QID : 140 - There would be 20% loss if a toy is sold for Rs 11.20. At what price (in Rs) the toy should be sold to earn a profit of 10%?

एक खिलौने को 11.20 रु में बेचने पर 20% की हानि होती है। 10% लाभ प्राप्त करने के लिए खिलौने को कितने मूल्य (रु में) में बेचना चाहिए?

Options:

1) 15.2

2) 14.8

3) 14.4

4) 15.4

Correct Answer: 15.4

Candidate Answer: 15.4

QID : 141 - If the cost price of an article is 80% of the selling price, then what is the profit percent?

यदि एक वस्तु का क्रय मूल्य विक्रय मूल्य का 80% है, तो लाभ प्रतिशत क्या है?

Options:

1) 20

2) 25

3) 30

4) 28

Correct Answer: 25

Candidate Answer: 25

QID : 142 - What is the value of (42% of 7200) – (12% of 4800)?

(7200 के 42%) – (4800 के 12%) का मान क्या है?

Options:

1) 2138

2) 2448

3) 3348

4) 2918

Correct Answer: 2448

Candidate Answer: 2448

QID : 143 - What is the value of 40% of $\frac{3}{4}$ of 1200?

1200 के $\frac{3}{4}$ का 40% का मान क्या है?

Options:

1) 360

2) 480

3) 120

4) 240



Correct Answer: 360

Candidate Answer: 360

QID : 144 - A train crosses a platform in 50 seconds travelling with a speed of 72 km/hr. If the length of the train be 250 metres, then what will be the length (in metres) of the platform?

एक रेलगाड़ी 72 कि.मी./घंटा की गति से चलते हुए एक प्लेटफॉर्म को 50 सेकण्ड में पार कर लेती है। यदि रेलगाड़ी की लम्बाई 250 मीटर लम्बी है, तो प्लेटफॉर्म की लम्बाई (मीटर में) क्या होगी?

Options:
1) 600

2) 480

3) 750

4) 950

Correct Answer: 750

Candidate Answer: 750

QID : 145 - Speed of a boat is 8 km/hr in still water and the speed of the stream is 2 km/hr. If the boat takes 8 hours to go to a place and come back, then what is the distance (in km) of the place?

शांत जल में नाव की गति 8 कि.मी./घंटा है तथा धारा की गति 2 कि.मी./घंटा है। यदि नाव 8 घंटे में किसी दूरी तक जाकर वापस आ जाती है, तो दूरी (कि.मी. में) कितनी है?

Options:
1) 24

2) 30

3) 45

4) 42

Correct Answer: 30

Candidate Answer: 30

QID : 146 - Rs 5000 are invested in a scheme of compound interest. If the rate of interest is 12% per annum, then what is the interest earned (in Rs) in 2 years?

5000 रु को चक्रवृद्धि ब्याज वाली एक योजना में निवेश किया गया। यदि ब्याज की दर 12% प्रतिवर्ष है, तो 2 वर्ष में कितना ब्याज (रु में) कमाया गया है?



Options:

1) 1450

2) 1272

3) 1520

4) 3450

Correct Answer: 1272

Candidate Answer: 1272

QID : 147 -

The table given below shows number of students from stream A and B for a college in the years 2011 to 2015.

नीचे दी गई तालिका में एक विश्वविद्यालय में वर्ष 2011 से वर्ष 2015 तक वर्ग A तथा B में विद्यार्थियों की संख्या को दर्शाया गया है।

Year / वर्ष	A	B
2011	520	740
2012	610	790
2013	490	670
2014	540	720
2015	900	990

In the year 2014, the number of students of stream A is what percent of the number of students in stream B?

वर्ष 2014 में, वर्ग A में छात्रों की संख्या वर्ग B में छात्रों की संख्या का कितना प्रतिशत है?

Options:

1) 75

2) 65

3) 62

4) 56

Correct Answer: 75

Candidate Answer: 75

QID : 148 -

The table given below shows number of students from stream A and B for a college in the years 2011 to 2015.

नीचे दी गई तालिका में एक विश्वविद्यालय में वर्ष 2011 से वर्ष 2015 तक वर्ग A तथा B में विद्यार्थियों की संख्या को दर्शाया गया है।

Year / वर्ष	A	B
2011	520	740
2012	610	790
2013	490	670
2014	540	720
2015	900	990

In the year 2015, the number of students in stream B is how much percent more than the number of students in stream A?

वर्ष 2015 में, वर्ग B में छात्रों की संख्या वर्ग A में छात्रों की संख्या से कितने प्रतिशत अधिक है?

Options:

1) 9

2) 10

3) 12

4) 18

Correct Answer: 10

Candidate Answer: 10

QID : 149 -

The table given below shows number of students from stream A and B for a college in the years 2011 to 2015.

नीचे दी गई तालिका में एक विश्वविद्यालय में वर्ष 2011 से वर्ष 2015 तक वर्ग A तथा B में विद्यार्थियों की संख्या को दर्शाया गया है।

Year / वर्ष	A	B
2011	520	740
2012	610	790
2013	490	670
2014	540	720
2015	900	990

What is the average number of students in stream A from 2011 to 2015?

वर्ष 2011 से 2015 तक, वर्ग A में छात्रों की औसत संख्या क्या है?

Options:

1) 612

2) 670

3) 586

4) 630

Correct Answer: 612

Candidate Answer: 612

QID : 150 -

The table given below shows number of students from stream A and B for a college in the years 2011 to 2015.

नीचे दी गई तालिका में एक विश्वविद्यालय में वर्ष 2011 से वर्ष 2015 तक वर्ग A तथा B में विद्यार्थियों की संख्या को दर्शाया गया है।

Year / वर्ष	A	B
2011	520	740
2012	610	790
2013	490	670
2014	540	720
2015	900	990

In how many years, the number of students in stream B is more than the number of students in stream A?

कितने वर्षों में, वर्ग B में छात्रों की संख्या वर्ग A में छात्रों की संख्या से अधिक है?

Options:

- 1) 5
- 2) 3
- 3) 2
- 4) 1

Correct Answer: 5

Candidate Answer: 5

QID : 151 - In the following question, some part of the sentence may have errors. Find out which part of the sentence has an error and select the appropriate option. If a sentence is free from error, select 'No Error'.

Just before (1)/ the sun rises, (2)/ you will see the dawn. (3)/ No Error (4)/

Options:

- 1) 1
- 2) 2
- 3) 3
- 4) 4

Correct Answer: 2

Candidate Answer: 4

QID : 152 - In the following question, some part of the sentence may have errors. Find out which part of the sentence has an error and select the appropriate option. If a sentence is free from error, select 'No Error'.

Our recommendations are (1)/ based on solid research (2)/ and exacted analysis. (3)/ No Error (4)/

Options:

- 1) 1
- 2) 2
- 3) 3
- 4) 4

Correct Answer: 3

Candidate Answer: 3

QID : 153 - In the following question, the sentence given with blank to be filled in with an appropriate word. Select the correct alternative out of the four and indicate it by selecting the appropriate option.

Suraj is negligent _____ attending his classes.

Options:

- 1) to
- 2) towards
- 3) in
- 4) about

Correct Answer: in

Candidate Answer: towards

QID : 154 - In the following question, the sentence given with blank to be filled in with an appropriate word. Select the correct alternative out of the four and indicate it by selecting the appropriate option.

Shweta is ____ mother of two daughters.

Options:

- 1) the
- 2) a
- 3) an
- 4) to

Correct Answer: a

Candidate Answer: the

QID : 155 - In the following question, out of the given four alternatives, select the one which best expresses the meaning of the given word.

Shrink

Options:

- 1) Develop
- 2) Diminish
- 3) Expand
- 4) Stretch

Correct Answer: Diminish

Candidate Answer: Stretch

QID : 156 - In the following question, out of the given four alternatives, select the one which best expresses the meaning of the given word.

Versatile

Options:

- 1) Limited
- 2) Inflexible
- 3) Unadjustable
- 4) Flexible

Correct Answer: Flexible

Candidate Answer: Flexible

QID : 157 - In the following question, out of the given four alternatives, select the one which best expresses the meaning of the given word.

Unruly

Options:

- 1) Lawless
- 2) Compliant
- 3) Obedient
- 4) Cooperative

Correct Answer: Lawless

Candidate Answer: Lawless

QID : 158 - In the following question, out of the given four alternatives, select the one which is opposite in meaning of the given word.

Assemble

Options:

- 1) Collect
- 2) Scatter
- 3) Group
- 4) Reunite

Correct Answer: Scatter

Candidate Answer: Scatter

QID : 159 - In the following question, out of the given four alternatives, select the one which is opposite in meaning of the given word.

Flimsy

Options:

- 1) Fragile
- 2) Sturdy
- 3) Inadequate
- 4) Shallow

Correct Answer: Sturdy

Candidate Answer: Shallow

QID : 160 - In the following question, out of the given four alternatives, select the one which is opposite in meaning of the given word.

Tactful

Options:

- 1) Delicate
- 2) Careless
- 3) Cautious
- 4) gentle

Correct Answer: Careless

Candidate Answer: gentle

QID : 161 - In the following question, out of the four given alternatives, select the alternative which best expresses the meaning of the Idiom/Phrase.

At a stone's throw

Options:

- 1) Very near
- 2) Cause of quarrel
- 3) Increase anger
- 4) Easy task

Correct Answer: Very near

Candidate Answer: Very near

QID : 162 - In the following question, out of the four given alternatives, select the alternative which best expresses the meaning of the Idiom/Phrase.

An uphill task

Options:

- 1) Unfair blow
- 2) Close fight
- 3) Task of no use
- 4) Difficult task

Correct Answer: Difficult task

Candidate Answer: Difficult task

QID : 163 - Improve the bracketed part of the sentence.

He (have ignored) my mail.



Options:

- 1) has ignored
- 2) ignore
- 3) have been
- 4) No improvement

Correct Answer: has ignored

Candidate Answer: has ignored

QID : 164 - Improve the bracketed part of the sentence.

When the wind blows, the cradle (**was rock**).

Options:

- 1) was rocked
- 2) will rack
- 3) will rock
- 4) No improvement

Correct Answer: will rock

Candidate Answer: will rock

QID : 165 - In the following question, out of the four given alternatives, select the alternative which is the best substitute of the phrase.

One who can neither read nor write.

Options:

- 1) Illegible
- 2) Inexcusable
- 3) Illiterate
- 4) Illegitimate

Correct Answer: Illiterate

Candidate Answer: Illiterate

QID : 166 - In the following question, out of the four given alternatives, select the alternative which is the best substitute of the phrase.

Warning of an impending danger

Options:

- 1) Prediction
- 2) Superstition
- 3) Revelation
- 4) Premonition

Correct Answer: Premonition

Candidate Answer: Premonition

QID : 167 - In the following question, a word has been written in four different ways out of which only one is correctly spelt. Select the correctly spelt word.

Options:

- 1) Narrater
- 2) Narratur
- 3) Narrator
- 4) Nurrator

Correct Answer: Narrator

Candidate Answer: Narrator

QID : 168 - In the following question, a word has been written in four different ways out of which only one is correctly spelt. Select the correctly spelt word.

Options:

- 1) Leciense
- 2) License
- 3) Licinse
- 4) Licensa



Correct Answer: License

Candidate Answer: Leciense

QID : 169 - Rearrange the parts of the sentence in correct order.

I was
P: night by a
Q: awakened in the
R: noise in the house

Options:

1) QPR

2) PRQ

3) QRP

4) RQP

Correct Answer: QPR

Candidate Answer: QPR

QID : 170 - Rearrange the parts of the sentence in correct order.

Science means
P: how things
Q: finding out
R: actually happen

Options:

1) QPR

2) PRQ

3) PQR

4) RQP

Correct Answer: QPR

Candidate Answer: QPR

QID : 171 - In the following passage some of the words have been left out. Read the passage carefully and select the correct answer for the given blank out of the four alternatives.

Summer vacation is the _____ period during the summer season. All the schools and _____ become closed during this _____ because of the high environmental temperature in summer months (especially half May and full June). It becomes the _____ period of the year during summer vacation. Most of the students generally go to their native village, hill stations, or other cool places to enjoy with cousins, family _____ or village friends.

Summer vacation is the _____

Options:

1) busy day

2) holiday

3) boring

4) idle

Correct Answer: holiday

Candidate Answer: holiday

QID : 172 - In the following passage some of the words have been left out. Read the passage carefully and select the correct answer for the given blank out of the four alternatives.

Summer vacation is the _____ period during the summer season. All the schools and _____ become closed during this _____ because of the high environmental temperature in summer months (especially half May and full June). It becomes the _____ period of the year during summer vacation. Most of the students generally go to their native village, hill stations, or other cool places to enjoy with cousins, family _____ or village friends.

All the schools and _____ become

Options:

1) colleges

2) offices

3) complexes

4) shops

Correct Answer: colleges

Candidate Answer: colleges

QID : 173 - In the following passage some of the words have been left out. Read the passage carefully and select the correct answer for the given blank out of the four alternatives.

Summer vacation is the _____ period during the summer season. All the schools and _____ become closed during this _____ because of the high environmental temperature in summer months (especially half May and full June). It becomes the _____ period of the year during summer vacation. Most of the students generally go to their native village, hill stations, or other cool places to enjoy with cousins, family _____ or village friends.

_____ because of the high

Options:

- 1) day
- 2) moment
- 3) period
- 4) timings

Correct Answer: period

Candidate Answer: period

QID : 174 - In the following passage some of the words have been left out. Read the passage carefully and select the correct answer for the given blank out of the four alternatives.

Summer vacation is the _____ period during the summer season. All the schools and _____ become closed during this _____ because of the high environmental temperature in summer months (especially half May and full June). It becomes the _____ period of the year during summer vacation. Most of the students generally go to their native village, hill stations, or other cool places to enjoy with cousins, family _____ or village friends.

It becomes the _____ period of the year during

Options:

- 1) hottest
- 2) horrible
- 3) pleasant
- 4) breezy

Correct Answer: hottest

Candidate Answer: hottest

QID : 175 - In the following passage some of the words have been left out. Read the passage carefully and select the correct answer for the given blank out of the four alternatives.

Summer vacation is the _____ period during the summer season. All the schools and _____ become closed during this _____ because of the high environmental temperature in summer months (especially half May and full June). It becomes the _____ period of the year during summer vacation. Most of the students generally go to their native village, hill stations, or other cool places to enjoy with cousins, family _____ or village friends.

cousins, family _____ or village friends.

Options:

- 1) people
- 2) women
- 3) men
- 4) members

Correct Answer: members

Candidate Answer: members

QID : 176 - _____ unemployment happens when people are not able to find jobs during some months of the year.

_____ बेरोज़गारी तब होती है, जब लोग वर्ष के कुछ महीनों में रोज़गार प्राप्त नहीं कर पाते हैं।

Options:

- 1) Seasonal
मौसमी
- 2) Disguised
प्रच्छन्न
- 3) Educated
शिक्षित
- 4) Uneducated
अशिक्षित

Correct Answer: Seasonal

मौसमी

Candidate Answer: Seasonal

मौसमी

QID : 177 - Fishing comes under which sector of economic activity?

मत्स्यन किस आर्थिक गतिविधि के क्षेत्रक के अंतर्गत आती है?

Options:

1) Quaternary sector

चतुर्मागत्मक क्षेत्रक

2) Secondary sector

द्वितीयक क्षेत्रक

3) Tertiary sector

तृतीयक क्षेत्रक

4) Primary sector

प्राथमिक क्षेत्रक

Correct Answer: Primary sector

प्राथमिक क्षेत्रक

Candidate Answer: Primary sector

प्राथमिक क्षेत्रक

QID : 178 - The Indian constitution recognizes every person as _____.

भारतीय संविधान सब व्यक्तियों को _____ मानता है।

Options:

1) poor

गरीब

2) rich

अमीर

3) unequal

असमानता

4) equal

समान

Correct Answer: equal

समान

Candidate Answer: equal

समान

QID : 179 - In which year Civil Rights movement began?

नागरिक अधिकार आंदोलन किस वर्ष में शुरू हुआ था?

Options:

1) 1950

2) 1945

3) 1955

4) 1960

Correct Answer: 1955

Candidate Answer: 1945

QID : 180 - The city of Lothal stood beside a tributary of which river?

लोथल नगर किस नदी के उपनदी के किनारे पर बसा था?

Options:

1) Narmada

नर्मदा

2) Ganga

गंगा

3) Yamuna

यमुना

4) Sabarmati

साबरमती

Correct Answer: Sabarmati

साबरमती

Candidate Answer: Sabarmati

साबरमती

QID : 181 - Which viceroy partitioned Bengal?

किस वायसराय ने बंगाल का विभाजन किया था?



Options:

- 1) Lord Warren Hasting
लार्ड वारन हेस्टिंग
- 2) Lord Mountbatten
लार्ड माउन्टबेटन
- 3) Lord Curzon
लार्ड कर्ज़न
- 4) Lord Bentick
लार्ड बेन्टिक

Correct Answer: Lord Curzon
लार्ड कर्ज़न

Candidate Answer: Lord Bentick
लार्ड बेन्टिक

QID : 182 - Which constellation is called Saptarishi?

किस नक्षत्रमंडल को सप्तऋषि कहा जाता है?

Options:

- 1) Ursa major
अर्सा मेजर
- 2) Big bear
बिग बीयर
- 3) Small bear
स्मॉल बीयर
- 4) Orion
ओरिआइन

Correct Answer: Ursa major
अर्सा मेजर

Candidate Answer: Ursa major
अर्सा मेजर

QID : 183 - What causes change in the seasons on earth?

पृथ्वी पर ऋतुओं का परिवर्तन किस कारण होता है?

Options:

- 1) Rotation
घूर्णन
- 2) Revolution
परिक्रमण
- 3) Rotation and Revolution both
घूर्णन तथा परिक्रमण दोनों
- 4) None of these
उपरोक्त में से कोई नहीं

Correct Answer: Revolution
परिक्रमण

Candidate Answer: Revolution
परिक्रमण

QID : 184 - Plants with weak stems that cannot stand upright and spread on the ground are called as ____.

कमजोर तने वाले पौधे जो सीधे खड़े नहीं हो सकते तथा ये भूमि पर फैल जाते हैं, ____ कहलाते हैं।

Options:

- 1) Creepers
विसर्पी लता
- 2) Trees
वृक्ष
- 3) Shrubs
झाड़ी
- 4) Herbs
शाक

Correct Answer: Creepers
विसर्पी लता

Candidate Answer: Creepers
विसर्पी लता

QID : 185 - Part of a leaf by which it is attached to the stem is called as ____.

पत्ती का वह भाग जिसके द्वारा वह तने से जुड़ी होती है, ____ कहलाता है।



Options:

- 1) Joint
जोड़
- 2) Point
बिन्दु
- 3) Petiole
पर्णवृत्त
- 4) Lamina
फलक

Correct Answer: Petiole
पर्णवृत्त

Candidate Answer: Petiole
पर्णवृत्त

QID : 186 - If the CO_2 concentration in the blood increases, the breathing shall _____.
अगर रक्त बढ़ने में CO_2 की एकाग्रता बढ़ जाती है, तो श्वास _____।

Options:

- 1) Increase
बढ़ना
- 2) Decrease
घटना
- 3) Affected
प्रभावित
- 4) Stop
रुके

Correct Answer: Increase
बढ़ना

Candidate Answer: Decrease
घटना

QID : 187 - It is difficult to walk on ice because of _____.

बर्फ पर चलना कठिन होता है क्योंकि _____।

Options:

- 1) absence of friction
घर्षण का अभाव होता है
- 2) less inertia
जड़त्व कम होता है
- 3) more inertia
जड़त्व अधिक होता है
- 4) more mass
द्रव्यमान अधिक होता है

Correct Answer: absence of friction
घर्षण का अभाव होता है

Candidate Answer: absence of friction
घर्षण का अभाव होता है

QID : 188 - Work done upon a body _____.

एक पिण्ड पर किया गया कार्य _____ होता है।

Options:

- 1) only a vector quantity
केवल एक सदिश राशि
- 2) only a scalar quantity
केवल एक मापक राशि
- 3) both vector and scalar
मापक तथा सदिश दोनों
- 4) neither vector nor scalar
न तो मापक और न ही सदिश

Correct Answer: only a scalar quantity
केवल एक मापक राशि

Candidate Answer: only a vector quantity
केवल एक सदिश राशि

QID : 189 - Which was the first web browser?

सबसे पहला वेब ब्राउज़र कौन सा था?



Options:

1) Safari

सफारी

2) Netscape Navigator

नेटस्केप नेविगेटर

3) Internet Explorer

इंटरनेट एक्स्प्लोरर

4) Chrome

क्रोम

Correct Answer: Netscape Navigator

नेटस्केप नेविगेटर

Candidate Answer: Netscape Navigator

नेटस्केप नेविगेटर

QID : 190 - Which of the following acids is present in sour milk?

निम्नलिखित में से कौन सा अम्ल खट्टे दूध या मट्ठा में पाया जाता है?

Options:

1) Formic acid

फॉर्मिक अम्ल

2) Lactic acid

लैक्टिक अम्ल

3) Citric acid

सिट्रिक अम्ल

4) Tartaric acid

टार्टरिक अम्ल

Correct Answer: Lactic acid

लैक्टिक अम्ल

Candidate Answer: Lactic acid

लैक्टिक अम्ल

QID : 191 - Acids turn blue litmus into which colour?

अम्ल नीले लिटमस को किस रंग में बदल देते हैं?

Options:

1) Green

हरा

2) Red

लाल

3) Pink

गुलाबी

4) Colourless

बेरंग

Correct Answer: Red

लाल

Candidate Answer: Red

लाल

QID : 192 - Which of the following represents correct food chain?

निम्नलिखित में से कौन सा एक सही खाद्य श्रृंखला को दर्शाता है?

Options:

1) Grass → Frog → Insect → Eagle → Snake

घास → मेंढक → कीट → गरुड़ → सर्प

2) Grass → Insects → Frog → Snake → Eagle

घास → कीट → मेंढक → सर्प → गरुड़

3) Grass → Snake → Eagle → Insects → Frog

घास → सर्प → गरुड़ → कीट → मेंढक

4) Grass → Eagle → Snake → Insects → Frog

घास → गरुड़ → सर्प → कीट → मेंढक

Correct Answer: Grass → Insects → Frog → Snake → Eagle

घास → कीट → मेंढक → सर्प → गरुड़

Candidate Answer: Grass → Insects → Frog → Snake → Eagle

घास → कीट → मेंढक → सर्प → गरुड़

QID : 193 - Which among the following is not an aim of 'Make in India' campaign?

निम्नलिखित में से कौन एक 'मेक-इन-इंडिया' अभियान का लक्ष्य नहीं है?

Options:

- 1) Facilitate investment
निवेश के सुविधा
- 2) Enhance skill development
कौशल विकास में वृद्धि
- 3) Foster innovation
नवीनीकरण को प्रोत्साहन
- 4) Financial inclusion
वित्तीय समावेश

Correct Answer: Financial inclusion
वित्तीय समावेश

Candidate Answer: Foster innovation
नवीनीकरण को प्रोत्साहन

QID : 194 - Who among the following invented battery?

निम्नलिखित में से किसने बैटरी का आविष्कार किया था?

Options:

- 1) Rudolf Diesel
रुडॉल्फ डीजल
- 2) Alfred Noble
अल्फ्रेड नोबेल
- 3) Alessandro Volta
ऐलेस्सेन्द्रो वोल्टा
- 4) John Napier
जॉन नेपियर

Correct Answer: Alessandro Volta
ऐलेस्सेन्द्रो वोल्टा

Candidate Answer: Alessandro Volta
ऐलेस्सेन्द्रो वोल्टा

QID : 195 - Which country won the 2016 Kabaddi World Cup?

किस देश ने 2016 कबड्डी विश्व कप जीता?

Options:

- 1) India
भारत
- 2) Iran
ईरान
- 3) South Korea
दक्षिण कोरिया
- 4) Bangladesh
बांग्लादेश

Correct Answer: India
भारत

Candidate Answer: India
भारत

QID : 196 - Paintings of Ajanta depict stories of _____.

अजंता की चित्रकारियाँ _____ की कहानियों को दर्शाती हैं।

Options:

- 1) Jatakas
जातक
- 2) Tenali Rama
तेनाली रामा
- 3) Akbar Birble
अकबर बीरबल
- 4) Panchatantra
पंचतंत्र

Correct Answer: Jatakas
जातक

Candidate Answer: Jatakas
जातक

QID : 197 - Who is the winner of Man Booker International Prize 2017?

2017 मैन बुकर अंतरराष्ट्रीय पुरस्कार के विजेता कौन हैं?



Options:

- 1) David Grossman
डेविड ग्रेसमैन
- 2) Arundhati Roy
अरुनधति रॉय
- 3) Steven Spielberg
स्टीवन स्पीलबर्ग
- 4) George Lucas
जॉर्ज लुकरस

Correct Answer: David Grossman
डेविड ग्रेसमैन

Candidate Answer: Steven Spielberg
स्टीवन स्पीलबर्ग

QID : 198 - Who is the author of the book named "The God of Small things"?

"दी गॉड ऑफ स्मॉल थिंग्स" नामक पुस्तक के लेखक कौन हैं?

Options:

- 1) Nasiruddin Shah
नसीरुद्दीन शाह
- 2) R.D. Pradhan
आर.डी. प्रधान
- 3) Vijay Darda
विजय दारदा
- 4) Arundhati Roy
अरुनधति रॉय

Correct Answer: Arundhati Roy
अरुनधति रॉय

Candidate Answer: Arundhati Roy
अरुनधति रॉय

QID : 199 - Which country is India's first 2+2 dialogue partner among any country of world?

विश्व के किसी भी देशों में से भारत का पहला 2 + 2 संवाद साझेदार कौन सा देश है?

Options:

- 1) Pakistan
पाकिस्तान
- 2) Sri-Lanka
श्रीलंका
- 3) Bangladesh
बांग्लादेश
- 4) Japan
जापान

Correct Answer: Japan
जापान

Candidate Answer: Japan
जापान

QID : 200 - Indus water treaty 1960 is an agreement between India and _____.

सिंधु जल संधि 1960 भारत तथा _____ के मध्य एक समझौता है।

Options:

- 1) Bangladesh
बांग्लादेश
- 2) Pakistan
पाकिस्तान
- 3) China
चीन
- 4) Nepal
नेपाल

Correct Answer: Pakistan
पाकिस्तान

Candidate Answer: Pakistan
पाकिस्तान