



Staff Selection Commission
(Government Of India)

REGISTRATION NUMBER : ██████████
EXAM DATE : 21-September-2017
EXAM NAME : SSC Examination
TOTAL MARKS : 150

CANDIDATE NAME : ██████████
EXAM START TIME : 16:30:00
EXAM DURATION : 01:30 Hrs
TOTAL NO OF QUESTIONS : 100

QID : 201 -

In the following question, select the number which can be placed at the sign of question mark (?) from the given alternatives.

निम्नलिखित प्रश्न में दिए गए विकल्पों में से प्रश्न चिह्न (?) के स्थान पर आने वाली संख्या को चुनिए।

2	1	5
4	2	3
3	6	2
25	13	?

Options:

1) 16

2) 30

3) 31

4) 41

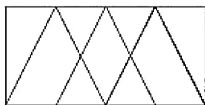
Correct Answer: 31

Candidate Answer: 31

QID : 202 -

How many triangles are there in the given figure?

दी गई आकृति में कितने त्रिभुज हैं?



Options:

1) 8

2) 10

3) 12

4) 9

Correct Answer: 10

Candidate Answer: 9

QID : 203 -

A word is represented by only one set of numbers as given in any one of the alternatives. The sets of numbers given in the alternatives are represented by two classes of alphabets as shown in the given two matrices. The columns and rows of **Matrix-I** are numbered from 0 to 4 and that of **Matrix-II** are numbered from 5 to 9. A letter from these matrices can be represented first by its row and next by its column, for example, 'P' can be represented by 10, 56, etc., and 'K' can be represented by 30, 58, etc. Similarly, you have to identify the set for the word "FRONT".

एक शब्द केवल एक संख्या-समूह द्वारा दर्शाया गया है, जैसा कि विकल्पों में से किसी एक में दिया गया है। विकल्पों में दिए गए संख्या-समूह अक्षरों के दो वर्गों द्वारा दर्शाए गए हैं, जैसा कि दिए गए दो आव्यूहों में है। आव्यूह-I के स्तम्भ और पंक्ति की संख्या 0 से 4 है और आव्यूह-II की 5 से 9। इन आव्यूहों से एक अक्षर को पहले उसकी पंक्ति और बाद में स्तम्भ संख्या द्वारा दर्शाया जा सकता है। उदाहरण के लिए 'P' को 10, 56, आदि द्वारा दर्शाया जा सकता है तथा 'K' को 30, 58, आदि द्वारा दर्शाया जा सकता है। इसी तरह से आपको प्रश्न में दिए शब्द "FRONT" के लिए समूह को पहचानना है।

Matrix-I
आव्यूह-I

	0	1	2	3	4
0	F	H	J	L	N
1	P	R	T	V	X
2	Z	B	D	G	E
3	K	M	O	Q	S
4	U	W	Y	A	C

Matrix-II
आव्यूह-II

	5	6	7	8	9
5	N	P	I	K	B
6	L	E	R	M	A
7	J	T	D	O	Y
8	H	V	B	Q	W
9	F	X	Z	C	U

Options:

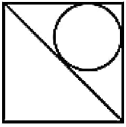
1) 00, 11, 32, 56, 76

2) 95, 67, 32, 56, 12

3) 00, 67, 78, 04, 76

4) 95, 11, 33, 55, 77

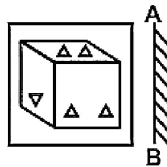
Candidate Answer:



QID : 206 -

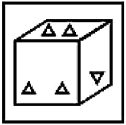
If a mirror is placed on the line AB, then which of the answer figures is the right image of the given figure?

यदि एक दर्पण को AB रेखा पर रखा जाए, तो दी गई उत्तर आकृतियों में से कौन सी आकृति प्रश्न आकृति की सही प्रतिबिम्ब होगी?

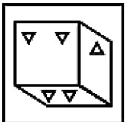


Options:

1)



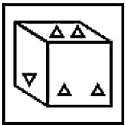
2)



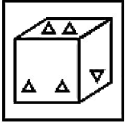
3)



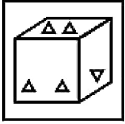
4)



Correct Answer:



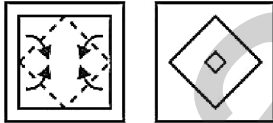
Candidate Answer:



QID : 207 -

A piece of paper is folded and punched as shown below in the question figures. From the given answer figures, indicate how it will appear when opened?

नीचे के प्रश्न आकृतियों में दिखाए अनुसार कागज को मोड़कर छेदने तथा खोलने के बाद वह किस उत्तर आकृति जैसा दिखाई देगा?



Correct Answer: 24 C 3 B 14 = 58

Candidate Answer: 24 C 3 B 14 = 58

QID : 209 - If $9 \$ 4 = 17$ and $1 \$ 5 = 10$, then $3 \$ 6 = ?$

यदि $9 \$ 4 = 17$ तथा $1 \$ 5 = 10$ हो, तो $3 \$ 6 = ?$

Options:

1) 11

2) 14

3) 13

4) 16

Correct Answer: 13

Candidate Answer: 13

QID : 210 - Arrange the given words in the sequence in which they occur in the dictionary.

1. Book
2. Bread
3. Butter
4. Bayern
5. Bulb

निम्नलिखित शब्दों को शब्दकोश में आने वाले क्रम के अनुसार लिखें।

1. Book
2. Bread
3. Butter
4. Bayern
5. Bulb

Options:

1) 42135

2) 41253

3) 42153

4) 41235

Correct Answer: 41253

Candidate Answer: 41253

QID : 211 - In the following question,select the missing number from the given alternatives.

7, 26, ?, 124, 215, 342

निम्नलिखित प्रश्न में दिए गए विकल्पों में से लुप्त अंक ज्ञात कीजिए।

7, 26, ?, 124, 215, 342

Options:

1) 63

2) 65

3) 66

4) 67

Correct Answer: 63

Candidate Answer: 63

QID : 212 - A series is given with one term missing. Select the correct alternative from the given ones that will complete the series.

A, D, I, P, ?

एक अनुक्रम दिया गया है, जिसमें से एक पद लुप्त है। दिए गए विकल्पों में से वह सही विकल्प चुनिए, जो अनुक्रम को पूरा करे।

A, D, I, P, ?

Options:

1) U

2) R

3) W

4) Y

Correct Answer: Y

Candidate Answer: Y

QID : 213 - In the following question, select the odd word pair from the given alternatives.

निम्नलिखित प्रश्न में दिए गए विकल्पों में से विषम शब्द युग्म को चुनिए।

Options:

1) Oxygen : Gas

ऑक्सीजन : गैस

2) Mercury : Gas

पारा : गैस

3) Gold : Metal

सोना : धातु

4) Uranium : Metal

यूरेनियम : धातु

Correct Answer: Mercury : Gas

पारा : गैस

Candidate Answer: Mercury : Gas

पारा : गैस

QID : 214 - In the following question, select the odd number pair from the given alternatives.

निम्नलिखित प्रश्न में दिए गए विकल्पों में से विषम संख्या युग्म को चुनिए।

Options:

1) 4 : 18

2) 7 : 51

3) 9 : 83

4) 6 : 34

Correct Answer: 6 : 34

Candidate Answer: 6 : 34

QID : 215 - In the following question, select the odd letter from the given alternatives.

निम्नलिखित प्रश्न में दिए गए विकल्पों में से विषम अक्षर को चुनिए।

Options:

1) U

2) S

3) Q

4) G

Correct Answer: U

Candidate Answer: U

QID : 216 - Identify the diagram that best represents the relationship among the given classes.


Reptiles, Lizard, Lion

वह आरेख चुनिए जो नीचे दिए गए वर्गों के बीच के संबंध का सही निरूपण करता है।

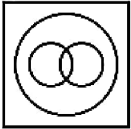
सरीसृप, छिपकली, सिंह

Options:

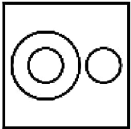
1)



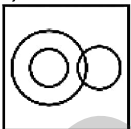
2)



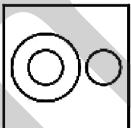
3)



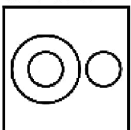
4)



Correct Answer:



Candidate Answer:



QID : 217 - In the following question, select the related word from the given alternatives.

Saw : Carpenter :: Axe : ?

निम्नलिखित प्रश्न में दिए गए विकल्पों में से संबंधित शब्द को चुनिए।

आरी : बढई :: कुल्हाड़ी : ?

Options:

1) Ironsmith

लोहार

2) Woodcutter

लकड़हारा

3) Cobbler

मोची

4) None of those

इनमें से कोई नहीं

Correct Answer: Woodcutter

लकड़हारा

Candidate Answer: Woodcutter

लकड़हारा

QID : 218 - In the following question, select the related number from the given alternatives.

8 : 27 :: 64 : ?

निम्नलिखित प्रश्न में दिए गए विकल्पों में से संबंधित संख्या को चुनिए।

8 : 27 :: 64 : ?

Options:

1) 190

2) 144

3) 125

4) 72

Correct Answer: 125

Candidate Answer: 125

QID : 219 - In the following question, select the related letters from the given alternatives.

NP : HJ :: SY : ?

निम्नलिखित प्रश्न में दिए गए विकल्पों में से संबंधित अक्षरों को चुनिए।

NP : HJ :: SY : ?

Options:

1) NT

2) MS

3) MT

4) NS

Correct Answer: MS

Candidate Answer: MS

QID : 220 - In the following question, select the word which cannot be formed using the letters of the given word.

BILLIONAIRE

निम्नलिखित विकल्पों में से वह शब्द चुनिए जो दिए गए शब्द के अक्षरों का प्रयोग करके नहीं बनाया जा सकता।

BILLIONAIRE

Options:

1) RANT

2) BONE

3) RAIN

4) LINE

Correct Answer: RANT

Candidate Answer: RANT

QID : 221 - The ratio of present ages of Raman and Lamba is 7 : 5. After 6 years age of Raman will be 48 years. What is the present age (in years) of Lamba?

रमन तथा लाम्बा की वर्तमान आयु का अनुपात 7 : 5 है। 6 वर्ष पश्चात रमन की आयु 48 वर्ष होगी। लाम्बा की वर्तमान आयु (वर्षों में) क्या है?

Options:

1) 30

2) 25

3) 35

4) 40

Correct Answer: 30

Candidate Answer: 30

QID : 222 - Weight of Sona is four times that of Mona. Weight of Mona is 2.5 times of Hona. Weight of Hona is 1.5 times of Dhona. Weight of Dhona is 2.5 times of Rona. Who is the heaviest?

सोना का भार मोना का चार गुना है। मोना का भार होना का 2.5 गुना है। होना का भार डोना का 1.5 गुना है। डोना का भार रोना का 2.5 गुना है। सबसे भारी कौन है?

Options:

1) Mona

मोना

2) Sona

सोना

3) Hona

होना

4) Dhona

डोना

Correct Answer: Sona

सोना

Candidate Answer: Sona

सोना

QID : 223 - In the following question below are given some statements followed by some conclusions. Taking the given statements to be true even if they seem to be at variance from commonly known facts, read all the conclusions and then decide which of the given conclusion logically follows the given statements.

Statements:

- I. All books are pens.
- II. All pens are tables.

Conclusions:

- I. Some pens are tables.
- II. All tables are books.

नीचे दिए गए प्रश्न में कुछ कथन और उनके बाद उन कथनों पर आधारित कुछ निष्कर्ष दिए गए हैं, हालांकि उनमें सामान्य ज्ञात तथ्यों से भिन्नता हो सकती है। सभी निष्कर्ष पढ़ें और फिर निर्धारित करें कि दिए गए कौन से निष्कर्ष, दिए गए कथनों के आधार पर युक्तिसंगत हैं।

कथन:

- I. सभी पुस्तकें कलम हैं।
- II. सभी कलमों में मेज़ हैं।

निष्कर्ष:

- I. कुछ कलम मेज़ हैं।
- II. सभी मेज़ पुस्तकें हैं।

Options:

- 1) Only conclusion (I) follows.
केवल निष्कर्ष (I) सही है।
- 2) Only conclusion (II) follows.
केवल निष्कर्ष (II) सही है।
- 3) Both conclusion follow.
दोनों ही निष्कर्ष सही हैं।
- 4) Neither conclusion (I) nor conclusion (II) follows.
न तो निष्कर्ष (I) न ही निष्कर्ष (II) सही है।

Correct Answer: Only conclusion (I) follows.
केवल निष्कर्ष (I) सही है।

Candidate Answer: Only conclusion (I) follows.
केवल निष्कर्ष (I) सही है।

QID : 224 - In a certain code language, "PAGE" is written as "QCJI". How is "CALL" written in that code language?

एक विशिष्ट कोड भाषा में, "PAGE" को "QCJI" लिखा जाता है। इस कोड भाषा में "CALL" को किस प्रकार लिखा जाएगा?

Options:

- 1) DCOP
- 2) DCOQ
- 3) DDOP
- 4) DCOR

Correct Answer: DCOP

Candidate Answer: DCOQ

QID : 225 - In a certain code language, "GOAT" is written as "45" and "COAT" is written as "41". How is "BOAT" written in that code language?

एक विशिष्ट कोड भाषा में, "GOAT" को "45" तथा "COAT" को "41" लिखा जाता है। इस कोड भाषा में "BOAT" को किस प्रकार लिखा जाएगा?

Options:

1) 40

2) 41

3) 42

4) 43

Correct Answer: 40

Candidate Answer: 40

QID : 226 - Which smallest number must be subtracted from 400, so that the resulting number is completely divisible by 7?

400 में ऐसी कौन सी सबसे छोटी संख्या घटाई जाए, ताकि परिणामी संख्या 7 से पूर्णतः विभाजित हो जाए?

Options:

1) 6

2) 1

3) 2

4) 4

Correct Answer: 1

Candidate Answer: 1

QID : 227 - The sum of three consecutive even integers is 84. Which is the least integer among them?

तीन क्रमागत सम पूर्णाकों का योग 84 है। उनमें से सबसे छोटा पूर्णांक कौन सा है?

Options:

1) 28

2) 30

3) 32

4) 26

Correct Answer: 26

Candidate Answer: 26

QID : 228 - A number exceeds its $\frac{1}{6}$ by 30. What is the number?

एक संख्या अपने $\frac{1}{6}$ से 30 अधिक है। वह संख्या क्या है?

Options:

1) 120

2) 150

3) 36

4) 24

Correct Answer: 36

Candidate Answer: 36

QID : 229 - What is the digit in unit's place of the product $51 \times 52 \times 53 \dots 59$?

$51 \times 52 \times 53 \dots 59$ के गुणनफल के इकाई का अंक क्या है?

Options:

1) 0

2) 4

3) 3

4) 6

Correct Answer: 0

Candidate Answer: 0

QID : 230 -

What is the value of 2^{3^2} ?

2^{3^2} का मान क्या है?

Options:

- 1) 64
- 2) 128
- 3) 512
- 4) 256

Correct Answer: 512

Candidate Answer: 512

QID : 231 - How many numbers less than 200 are multiples of both 5 and 6?

200 से कम ऐसी कितनी संख्याएँ हैं जो 5 तथा 6 दोनों का गुणज हैं?

Options:

- 1) 21
- 2) 7
- 3) 9
- 4) 6

Correct Answer: 6

Candidate Answer: 6

QID : 232 - Working 10 hours a day, Aman can complete a piece of work in 18 days. How many hours a day should he work so as to finish the work in 15 days?

प्रतिदिन 10 घंटे कार्य करके, अमन किसी कार्य को 18 दिनों में पूरा कर सकता है। कार्य को 15 दिनों में समाप्त करने के लिए उसे प्रतिदिन कितने घंटे काम करना होगा?

Options:

- 1) 10
- 2) 12
- 3) 16
- 4) 18

Correct Answer: 12

Candidate Answer: 12

QID : 233 - A can do a piece of work in 10 days and B in 12 days. With help of C, they finish the work in 4 days. In how many days C alone can do the same work?

A किसी कार्य को 10 दिनों में कर सकता है तथा B, 12 दिनों में C की सहायता से वे कार्य को 4 दिनों में समाप्त कर लेते हैं। C अकेला उस कार्य को कितने दिनों में करेगा?

Options:

- 1) 12
- 2) 15
- 3) 18
- 4) 24

Correct Answer: 15

Candidate Answer: 15

QID : 234 - The lengths of two diagonals of a rhombus are 24 cm and 32 cm. What is the side (in cm) of the rhombus?

एक समचतुर्भुज के दो विकर्णों की लम्बाई 24 से.मी. तथा 32 से.मी. है। समचतुर्भुज की भुजा (से.मी. में) क्या है?

Options:

- 1) 20
- 2) 40
- 3) $20\sqrt{2}$
- 4) $40\sqrt{2}$

Correct Answer: 20

Candidate Answer: 20

QID : 235 - The marked price of a chair is Rs 550 and a discount of 20% is given on it. What is the selling price (in Rs)?

एक कुर्सी का अंकित मूल्य 550 रु है तथा उस पर 20% की छूट दी जाती है। विक्रय मूल्य (रु में) क्या है?

Options:

1) 440

2) 430

3) 470

4) 390

Correct Answer: 440

Candidate Answer: 440

QID : 236 - The marked price of an article is Rs 960 and it is sold at a discount of Rs 192. What is the discount percentage?

एक वस्तु का अंकित मूल्य 960 रु है तथा उसे 192 रु की छूट पर बेचा जाता है। छूट का प्रतिशत क्या है?

Options:

1) 15

2) 20

3) 25

4) 30

Correct Answer: 20

Candidate Answer: 20

QID : 237 - If $A : B = 1 : 4$ and $B : C = 2 : 3$, then what is $A : B : C$?

यदि $A : B = 1 : 4$ और $B : C = 2 : 3$ हो, तो $A : B : C$ क्या होगा?

Options:

1) 1 : 4 : 6

2) 2 : 8 : 7

3) 2 : 8 : 5

4) 1 : 4 : 5

Correct Answer: 1 : 4 : 6

Candidate Answer: 1 : 4 : 6

QID : 238 - If $x/y = 2/3$, then what is the ratio of $(3x + 2y)$ and $(3x - y)$?

यदि $x/y = 2/3$ है, तो $(3x + 2y)$ तथा $(3x - y)$ का अनुपात क्या होगा?

Options:

1) 4 : 1

2) 3 : 1

3) 2 : 1

4) 4 : 3

Correct Answer: 4 : 1

Candidate Answer: 4 : 1

QID : 239 - The average of 21 numbers is 12. The average of the first 11 numbers is 9 and the average of the last 11 numbers is 15. What is the value of the middle number?

21 संख्याओं का औसत 12 है। यदि प्रथम 11 संख्याओं का औसत 9 एवं अंतिम 11 संख्याओं का औसत 15 है। मध्य संख्या का मान क्या है?

Options:

1) 10

2) 11

3) 12

4) 13

Correct Answer: 12

Candidate Answer: 12

QID : 240 - If the rice is sold at Rs 56 per kg, there would be a 40% loss. To earn a profit of 20% what should be the price of rice (per kg)?

यदि चावल को 56 रु प्रति कि.ग्रा. की दर से बेचा जाता है, तो 40% की हानि होगी। 20% का लाभ प्राप्त करने के लिए चावल की कीमत (प्रति कि.ग्रा.) कितनी होनी चाहिए?

Options:

1) 112

2) 108

3) 116

4) 124

Correct Answer: 112

Candidate Answer: 112

QID : 241 - If the profit is 20%, then what will be the ratio of cost price to selling price respectively?

यदि लाभ 20% है, तो क्रमशः क्रय मूल्य तथा विक्रय मूल्य का अनुपात क्या होगा?

Options:

1) 4 : 5

2) 5 : 6

3) 2 : 5

4) 3 : 4

Correct Answer: 5 : 6

Candidate Answer: 5 : 6

QID : 242 - In a school 60% of the students are girls. If number of boys is 480, then what is the total number of students in the school?

एक विद्यालय में 60% विद्यार्थी लड़कियाँ हैं। यदि लड़कों की संख्या 480 है, तो स्कूल में कुल कितने विद्यार्थी होंगे?

Options:

1) 1200

2) 840

3) 96

4) 1320

Correct Answer: 1200

Candidate Answer: 1200

QID : 243 - If one-third of a number is 45, then what will be the 45% of that number?

किसी संख्या का एक-तिहाई 45 है, तो उस संख्या का 45% क्या होगा?

Options:

1) 60.75

2) 58.25

3) 61.25

4) 70.75

Correct Answer: 60.75

Candidate Answer: 60.75

QID : 244 - Speeds of a boat along the current and against the current are 14 km/hr and 7 km/hr respectively. What is the speed of boat (in km/hr) in still water?

एक नाव की गति धारा के अनुकूल तथा धारा के प्रतिकूल दिशा में क्रमशः 14 कि.मी./घंटा तथा 7 कि.मी./घंटा है। शांत जल में नाव की गति (कि.मी./घंटा में) क्या है?

Options:

1) 3.5

2) 7.5

3) 10.5

4) 9.5

Correct Answer: 10.5

Candidate Answer: 10.5

QID : 245 - A person goes from point N to P and comes back. His average speed for the whole journey is 60 km/hr. If his speed while going from N to P is 40 km/hr, then what will be the speed of the person (in km/hr) while coming back from P to N?

एक व्यक्ति बिंदु N से P जाता है तथा वापस आ जाता है। पूरी यात्रा के लिए उसकी औसत गति 60 कि.मी./घंटा है। यदि N से P जाने में उसकी गति 40 कि.मी./घंटा है, तो P से N तक वापस आने में उस व्यक्ति की गति (कि.मी./घंटा में) क्या होगी?

Options:

1) 80

2) 100

3) 120

4) 140

Correct Answer: 120

Candidate Answer: 120

QID : 246 - A certain principal is invested in a scheme of compound interest. The amount obtained after 1 year is Rs 2400 and the amount obtained after 2 years is Rs 2880. What is the rate of interest (in percentage)?

एक निश्चित मूलधन चक्रवृद्धि ब्याज की एक योजना में निवेश किया गया। 1 वर्ष पश्चात पाए जाने वाला मिश्रधन 2400 रु है तथा 2 वर्ष पश्चात पाए जाने वाला मिश्रधन 2880 रु है। ब्याज की दर क्या है (प्रतिशत में)?

Options:

1) 20

2) 15

3) 25

4) 10

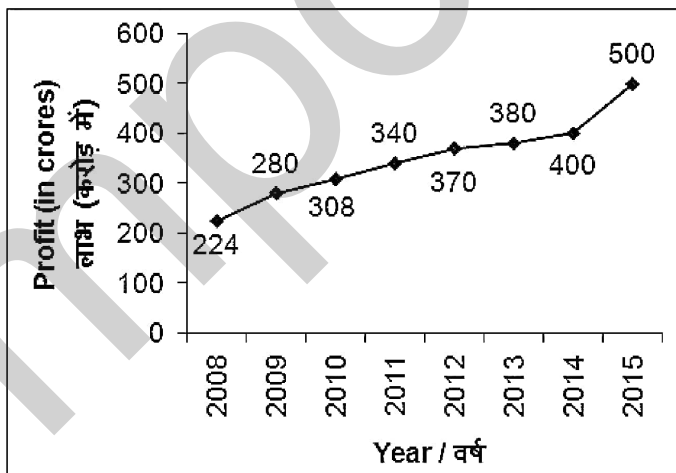
Correct Answer: 20

Candidate Answer: 20

QID : 247 -

The line chart given below shows the profit (in crores) of a company for the years 2008 to 2015.

नीचे दिए गए रेखा चित्र में वर्ष 2008 से वर्ष 2015 तक एक कंपनी के लाभ (करोड़ में) को दर्शाया गया है।



In how many years from 2009 to 2015 the increase in profit with respect to previous years is more than 30 crores?

वर्ष 2009 से वर्ष 2015 तक कितने वर्षों में गत वर्षों की तुलना में लाभ में वृद्धि 30 करोड़ से अधिक रही है?

Options:

- 1) 3
- 2) 2
- 3) 5
- 4) 1

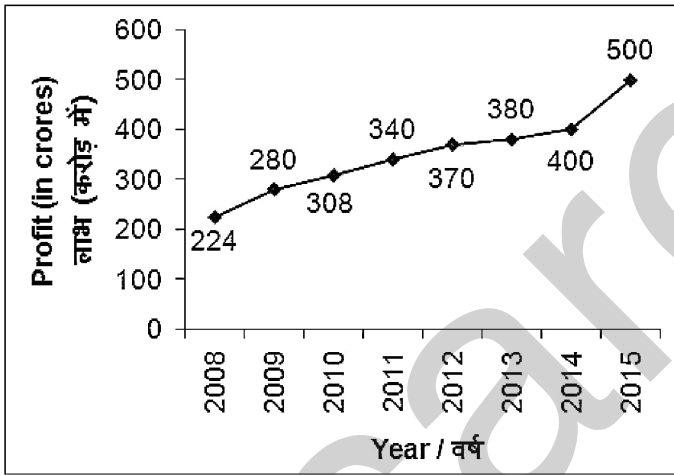
Correct Answer: 3

Candidate Answer: 2

QID : 248 -

The line chart given below shows the profit (in crores) of a company for the years 2008 to 2015.

नीचे दिए गए रेखा चित्र में वर्ष 2008 से वर्ष 2015 तक एक कंपनी के लाभ (करोड़ में) को दर्शाया गया है।



What is the percentage increase in profit in the year 2010 in comparison to the previous year?

वर्ष 2010 में, गत वर्ष की तुलना में लाभ में कितने प्रतिशत वृद्धि हुई है?

Options:

- 1) 20
- 2) 12
- 3) 10
- 4) 25

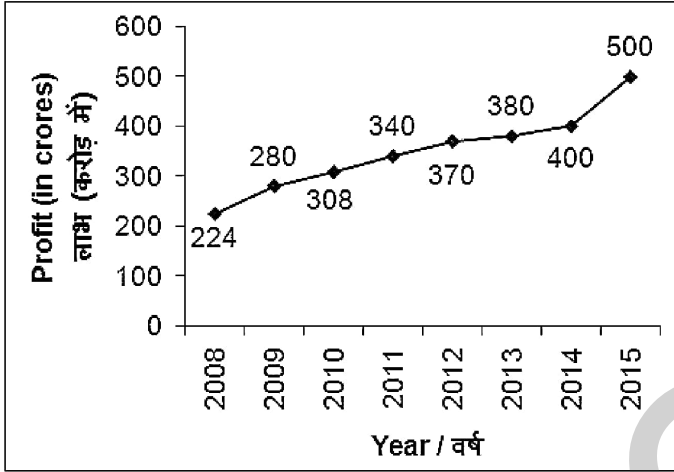
Correct Answer: 10

Candidate Answer: 10

QID : 249 -

The line chart given below shows the profit (in crores) of a company for the years 2008 to 2015.

नीचे दिए गए रेखा चित्र में वर्ष 2008 से वर्ष 2015 तक एक कंपनी के लाभ (करोड़ में) को दर्शाया गया है।



The profit in 2015 is what percent of the profit in 2014?

वर्ष 2015 में हुए लाभ वर्ष 2014 में हुए लाभ का कितना प्रतिशत है?

Options:

- 1) 75
- 2) 115
- 3) 135
- 4) 125

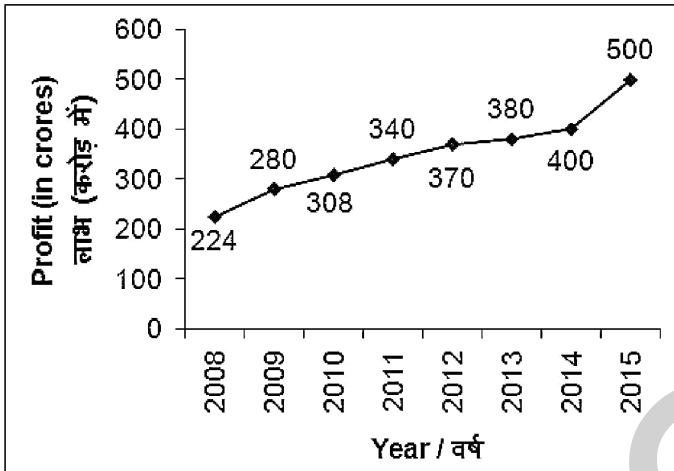
Correct Answer: 125

Candidate Answer: 125

QID : 250 -

The line chart given below shows the profit (in crores) of a company for the years 2008 to 2015.

नीचे दिए गए रेखा चित्र में वर्ष 2008 से वर्ष 2015 तक एक कंपनी के लाभ (करोड़ में) को दर्शाया गया है।



What is the average profit per year from 2011 to 2015?

वर्ष 2011 से वर्ष 2015 तक, प्रति वर्ष औसत लाभ क्या है?

Options:

- 1) 398
- 2) 406
- 3) 384
- 4) 387

Correct Answer: 398

Candidate Answer: 387

QID : 251 - In the following question, some part of the sentence may have errors. Find out which part of the sentence has an error and select the appropriate option. If a sentence is free from error, select 'No Error'.

These five sisters (1)/ care for one other (2)/ like mothers. (3)/ No Error (4)/

Options:

- 1) 1
- 2) 2
- 3) 3
- 4) 4

Correct Answer: 2

Candidate Answer: 2

QID : 252 - In the following question, some part of the sentence may have errors. Find out which part of the sentence has an error and select the appropriate option. If a sentence is free from error, select 'No Error'.

Akshay kumar being a (1)/ good actor he is (2)/ presented with the National Award. (3)/ No Error (4)/

Options:

- 1) 1
- 2) 2
- 3) 3
- 4) 4

Correct Answer: 2

Candidate Answer: [NOT ANSWERED]

QID : 253 - In the following question, the sentence given with blank to be filled in with an appropriate word. Select the correct alternative out of the four and indicate it by selecting the appropriate option.

More than thirty years have now passed _____ I had my first flight.

Options:

- 1) since
- 2) after
- 3) while
- 4) when

Correct Answer: since

Candidate Answer: since

QID : 254 - In the following question, the sentence given with blank to be filled in with an appropriate word. Select the correct alternative out of the four and indicate it by selecting the appropriate option.

Raman has come up _____ a problem.

Options:

- 1) for
- 2) with
- 3) of
- 4) into

Correct Answer: with

Candidate Answer: with

QID : 255 - In the following question, out of the give four alternatives, select the one which best expresses the meaning of the given word.

Plight

Options:

- 1) Blessing
- 2) Aid
- 3) Relief
- 4) Difficulty

Correct Answer: Difficulty

Candidate Answer: [NOT ANSWERED]

QID : 256 - In the following question, out of the given four alternatives, select the one which best expresses the meaning of the given word.

Articulate

Options:

- 1) Distinct
- 2) Unclear
- 3) Disconnect
- 4) Secret

Correct Answer: Distinct

Candidate Answer: Secret

QID : 257 - In the following question, out of the given four alternatives, select the one which best expresses the meaning of the given word.

Mandatory

Options:

- 1) Optional
- 2) Voluntary
- 3) Essential
- 4) Unnecessary

Correct Answer: Essential

Candidate Answer: Essential

QID : 258 - In the following question, out of the given four alternatives, select the one which is opposite in meaning of the given word.

Negotiate

Options:

- 1) Adjust
- 2) Consult
- 3) Debate
- 4) Remain

Correct Answer: Remain

Candidate Answer: Debate

QID : 259 - In the following question, out of the given four alternatives, select the one which is opposite in meaning of the given word.

Distress

Options:

- 1) Concern
- 2) Pleasure
- 3) Anxiety
- 4) Discomfort

Correct Answer: Pleasure

Candidate Answer: [NOT ANSWERED]

QID : 260 - In the following question, out of the given four alternatives, select the one which is opposite in meaning of the given word.

Tolerate

Options:

- 1) Accept
- 2) Bear
- 3) Permit
- 4) Disapprove

Correct Answer: Disapprove

Candidate Answer: [NOT ANSWERED]

QID : 261 - In the following question, out of the given four alternatives, select the alternative which best expresses the meaning of the Idiom/Phrase.

Break the ice

Options:

- 1) Bad intention
- 2) To escape
- 3) To break the silence
- 4) To fail

Correct Answer: To break the silence

Candidate Answer: To fail

QID : 262 - In the following question, out of the given four alternatives, select the alternative which best expresses the meaning of the Idiom/Phrase.

Cry in the wilderness

Options:

- 1) Upset the balance
- 2) An unrealistic demand
- 3) To defeated completely
- 4) A sudden shock

Correct Answer: An unrealistic demand

Candidate Answer: [NOT ANSWERED]

QID : 263 - In the following question, out of the four alternatives, select the alternative which will improve the bracketed part of the sentence. In case no improvement is needed, select "no improvement".

(Upto) the time he wasn't here, we were not sure if he will actually come.

Options:

- 1) Till
- 2) To
- 3) Until
- 4) No improvement

Correct Answer: Till

Candidate Answer: Until

QID : 264 - In the following question, out of the four alternatives, select the alternative which will improve the bracketed part of the sentence. In case no improvement is needed, select "no improvement".

As feared, **(differences into)** the families pose a hurdle.

Options:

- 1) difference into
- 2) difference as in
- 3) difference amongst
- 4) No improvement

Correct Answer: difference amongst

Candidate Answer: difference into

QID : 265 - In the following question, out of the four alternatives, select the alternative which is the best substitute of the phrase.

That which cannot be put out

Options:

- 1) Illusion
- 2) Indigenous
- 3) Incentive
- 4) Inextinguishable

Correct Answer: Inextinguishable

Candidate Answer: Indigenous

QID : 266 - In the following question, out of the four alternatives, select the alternative which is the best substitute of the phrase.

The system which is observed to do progress

Options:

- 1) Violation
- 2) Impairing
- 3) Preservation
- 4) Reformism

QID : 271 - In the following passage some of the words have been left out. Read the passage carefully and select the correct answer for the given blank out of the four alternatives.

Books are our _____ friends. They are our guides. We can learn everything from them. The books contain all the great _____ of the world's leaders and we can learn them by reading the books. The books help us find _____ to our questions. The books never fail us. We should read as _____ books as we can. But all books are not good. So we should _____ only good books.

Books are our _____ friends.

Options:

- 1) fake
- 2) original
- 3) real
- 4) majestic

Correct Answer: real

Candidate Answer: real

QID : 272 - In the following passage some of the words have been left out. Read the passage carefully and select the correct answer for the given blank out of the four alternatives.

Books are our _____ friends. They are our guides. We can learn everything from them. The books contain all the great _____ of the world's leaders and we can learn them by reading the books. The books help us find _____ to our questions. The books never fail us. We should read as _____ books as we can. But all books are not good. So we should _____ only good books.

the great _____ of our world

Options:

- 1) feel
- 2) thoughts
- 3) idle
- 4) money

Correct Answer: thoughts

Candidate Answer: thoughts

QID : 273 - In the following passage some of the words have been left out. Read the passage carefully and select the correct answer for the given blank out of the four alternatives.

Books are our _____ friends. They are our guides. We can learn everything from them. The books contain all the great _____ of the world's leaders and we can learn them by reading the books. The books help us find _____ to our questions. The books never fail us. We should read as _____ books as we can. But all books are not good. So we should _____ only good books.

The books help us find _____ to

Options:

- 1) answers
- 2) solutions
- 3) relations
- 4) opinions

Correct Answer: answers

Candidate Answer: answers

QID : 274 - In the following passage some of the words have been left out. Read the passage carefully and select the correct answer for the given blank out of the four alternatives.

Books are our _____ friends. They are our guides. We can learn everything from them. The books contain all the great _____ of the world's leaders and we can learn them by reading the books. The books help us find _____ to our questions. The books never fail us. We should read as _____ books as we can. But all books are not good. So we should _____ only good books.

_____ books as we can.

Options:

- 1) much
- 2) many
- 3) few
- 4) less

Correct Answer: many

Candidate Answer: much



QID : 275 - In the following passage some of the words have been left out. Read the passage carefully and select the correct answer for the given blank out of the four alternatives.

Books are our _____ friends. They are our guides. We can learn everything from them. The books contain all the great _____ of the world's leaders and we can learn them by reading the books. The books help us find _____ to our questions. The books never fail us. We should read as _____ books as we can. But all books are not good. So we should _____ only good books.

So we should _____ only good books and read them.

Options:

- 1) remove
- 2) looking
- 3) steel
- 4) choose

Correct Answer: choose

Candidate Answer: choose

QID : 276 - Micro-economics is also called _____

व्यष्टि अर्थशास्त्र को _____ भी कहा जाता है

Options:

- 1) Profit theory
लाभ सिद्धांत
- 2) Loss theory
हानि सिद्धांत
- 3) Price theory
मूल्य सिद्धांत
- 4) Expenditure theory
व्यय सिद्धांत

Correct Answer: Price theory

मूल्य सिद्धांत

Candidate Answer: Price theory

मूल्य सिद्धांत

QID : 277 - Transport comes under which sector of economic growth?

परिवहन आर्थिक गतिविधि के किस क्षेत्र के अंतर्गत आता है?

Options:

- 1) Secondary sector
द्वितीयक क्षेत्र
- 2) Primary sector
प्राथमिक क्षेत्र
- 3) Tertiary sector
तृतीयक क्षेत्र
- 4) Quaternary sector
चतुर्मागात्मक क्षेत्र

Correct Answer: Tertiary sector

तृतीयक क्षेत्र

Candidate Answer: Tertiary sector

तृतीयक क्षेत्र

QID : 278 - Which among the following refers the existence of more than one level of Government in the Country?

निम्नलिखित में से किसका अर्थ देश में एक से ज्यादा स्तर की सरकारों का होना है?

Options:

- 1) Democracy
लोकतांत्रिक
- 2) Federalism
संघवाद
- 3) Monarchy
राजतांत्रिक
- 4) Bicameral
द्विसदनी

Correct Answer: Federalism

संघवाद

Candidate Answer: Federalism

संघवाद

QID : 279 - Which among the following Amendment Act is also known as 'Mini Constitution'?

निम्नलिखित में से किसे "लघु-संविधान" के नाम से भी जाना जाता है?

Options:

- 1) 2nd Amendment
दूसरा संशोधन
- 2) 42nd Amendment
42वाँ संशोधन
- 3) 48th Amendment
48वाँ संशोधन
- 4) 57th Amendment
57वाँ संशोधन

Correct Answer: 42nd Amendment
42वाँ संशोधन

Candidate Answer: 42nd Amendment
42वाँ संशोधन

QID : 280 - In which language did Vardhaman Mahavira taught?

वर्धमान महावीर ने कौन सी भाषा में अपनी शिक्षा दी?

Options:

- 1) Prakrit
प्राकृत
- 2) Hindi
हिन्दी
- 3) Pali
पाली
- 4) Sanskrit
संस्कृत

Correct Answer: Prakrit
प्राकृत

Candidate Answer: Prakrit
प्राकृत

QID : 281 - During which period Non-Cooperation Movement gained momentum?

असहयोग आंदोलन को किस दौर में गति मिली?

Options:

- 1) 1910-1912
- 2) 1915-1917
- 3) 1921-1922
- 4) 1930-1932

Correct Answer: 1921-1922

Candidate Answer: 1921-1922

QID : 282 - The moon that we see in the sky is a _____.

आसमान में दिखने वाला चंद्रमा एक _____ है।

Options:

- 1) Planet
ग्रह
- 2) Star
तारा
- 3) Sun
सूर्य
- 4) Satellite
उपग्रह

Correct Answer: Satellite
उपग्रह

Candidate Answer: Satellite
उपग्रह

QID : 283 - The world's longest river the Nile, flows through which continent?

विश्व की सबसे लंबी नदी नील किस महाद्वीप से होकर गुजरती है?

Options:

- 1) South America
दक्षिणी अमेरिका
- 2) Africa
अफ्रीका
- 3) North America
उत्तरी अमेरिका
- 4) Europe
यूरोप

Correct Answer: Africa
अफ्रीका

Candidate Answer: Africa
अफ्रीका

QID : 284 - Which category of compound is most concentrated energy source?

किस श्रेणी के यौगिक ऊर्जा के सर्वाधिक संकेन्द्रित स्रोत होते हैं?

Options:

- 1) Fats
वसा
- 2) Starch
स्टार्च
- 3) Proteins
प्रोटीन
- 4) Vitamins
विटामिन

Correct Answer: Fats
वसा

Candidate Answer: [NOT ANSWERED]

QID : 285 - What is main root of plants called as?

पौधों की मुख्य जड़ को क्या बोला जाता है?

Options:

- 1) Tap root
मूसला जड़
- 2) Lateral roots
पार्श्व जड़
- 3) Fibrous roots
रेषेदार जड़
- 4) Anchor
स्थिरक

Correct Answer: Tap root
मूसला जड़

Candidate Answer: [NOT ANSWERED]

QID : 286 - The exchange of materials between blood and interstitial fluid occurs only at the _____.

खून और अंतरालीय तरल पदार्थ के बीच सामग्रियों का आदान-प्रदान केवल _____ में होता है।

Options:

- 1) Veins
नसों
- 2) Capillaries
केशिकाओं
- 3) Arteries
धमनियों
- 4) Arterioles
धमनिकाओं

Correct Answer: Capillaries
केशिकाओं

Candidate Answer: [NOT ANSWERED]

QID : 287 - The commonly used thermometric substance is _____.

सामान्य रूप से प्रयुक्त होने वाला तापमापीय पदार्थ _____ है।

Options:

- 1) mineral oil
खनिज तेल
- 2) Alcohol
एल्कोहल
- 3) Mercury
पारा
- 4) Petrol
पेट्रोल

Correct Answer: Mercury
पारा

Candidate Answer: Mercury
पारा

QID : 288 - Heat flows as a result of difference of _____.

ऊष्मा का प्रवाह _____ अंतर के परिणामस्वरूप होता है।

Options:

- 1) Temperature
तापमान
- 2) Density
घनत्व
- 3) mass
द्रव्यमान
- 4) Volume
आयतन

Correct Answer: Temperature
तापमान

Candidate Answer: [NOT ANSWERED]

QID : 289 - What is the full form of GUI?

जी. यू. आयी. का अर्थात् रूप क्या है?

Options:

- 1) Graphical Universal Interface
ग्राफिकल यूनिवर्सल इंटरफ़ेस
- 2) Graphical User Interface
ग्राफिकल यूजर इंटरफ़ेस
- 3) Graphical User Integration
ग्राफिकल यूजर इंटीग्रेशन
- 4) Graphical Universal Integration
ग्राफिकल यूनिवर्सल इंटीग्रेशन

Correct Answer: Graphical User Interface
ग्राफिकल यूजर इंटरफ़ेस

Candidate Answer: Graphical User Interface
ग्राफिकल यूजर इंटरफ़ेस

QID : 290 - A proton is identical to _____.

एक प्रोटोन _____ तदरूप होता है।

Options:

- 1) the nucleus of helium
हीलियम के नाभिक
- 2) the nucleus of a hydrogen atom
हाइड्रोजन परमाणु के नाभिक
- 3) an alpha-particle
एक अल्फा कण
- 4) a beta particle
एक बीटा कण

Correct Answer: a beta particle
एक बीटा कण

Candidate Answer: [NOT ANSWERED]

QID : 291 - An α particle is _____.

एक α कण _____ होता है।

Options:

- 1) A hydrogen molecule
एक हाइड्रोजन अणु
- 2) A helium nucleus
एक हीलियम नाभिक
- 3) An atom of hydrogen
हाइड्रोजन का एक परमाणु
- 4) A proton
एक प्रोटॉन

Correct Answer: A helium nucleus
एक हीलियम नाभिक

Candidate Answer: [NOT ANSWERED]

QID : 292 - What is the process of waste water treatment is commonly known?

अपशिष्ट जल के उपचार के प्रक्रम को सामान्य रूप से क्या कहते हैं?

Options:

- 1) Waste water management
अपशिष्ट जल प्रबंध
- 2) Cleaning of water
जल की सफाई
- 3) Sewage treatment
वाहित मल उपचार
- 4) Decontamination
शुद्धीकरण

Correct Answer: Sewage treatment
वाहित मल उपचार

Candidate Answer: Sewage treatment
वाहित मल उपचार

QID : 293 - When was "Pradhan Mantri Mudra Yojana" launched?

"प्रधानमंत्री मुद्रा योजना" का शुभआरंभ कब किया गया था?

Options:

- 1) September 2014
सितंबर 2014
- 2) November 2014
नवंबर 2014
- 3) April 2015
अप्रैल 2015
- 4) January 2016
जनवरी 2016

Correct Answer: April 2015
अप्रैल 2015

Candidate Answer: [NOT ANSWERED]

QID : 294 - Who among the following discovered electron?

निम्नलिखित में से किसने इलेक्ट्रॉन की खोज की थी?

Options:

- 1) J.J Thomson
जे. जे. थॉमसन
- 2) Max Born
मेक्स बॉर्न
- 3) Antoine Lavoisier
अन्टाइन लेवाइजर
- 4) Mendeleef
मेन्डेलीफ़

Correct Answer: J.J Thomson
जे. जे. थॉमसन

Candidate Answer: [NOT ANSWERED]

QID : 295 - Which team has won the 2016 -17 Ranji Trophy?

किस टीम ने 2016-17 के रणजी ट्रॉफी जीती थी?

Options:

- 1) Britain
ब्रिटेन
- 2) Australia
ऑस्ट्रेलिया
- 3) USA
संयुक्त राज्य अमेरिका
- 4) Israel
इजराइल

Correct Answer: USA
संयुक्त राज्य अमेरिका

Candidate Answer: [NOT ANSWERED]

QID : 300 - Which neighbouring country of India lies to the south of Lakshadweep islands?

भारत का कौन सा पड़ोसी देश लक्षद्वीप द्वीप के दक्षिण में स्थित है?

Options:

- 1) Maldives
मालदीव
- 2) Bangladesh
बांग्लादेश
- 3) Myanmar
म्यांमार
- 4) Indonesia
इंडोनेशिया

Correct Answer: Maldives
मालदीव

Candidate Answer: Maldives
मालदीव