



Staff Selection Commission
(Government Of India)

REGISTRATION NUMBER : examstocks.com

EXAM DATE : 23-October-2017

EXAM NAME : SSC Examination

TOTAL MARKS : 150

CANDIDATE NAME : examstocks.com

EXAM START TIME : 13:30:00

EXAM DURATION : 01:30 Hrs

TOTAL NO OF QUESTIONS : 100

QID : 101 -

In the following question, select the number which can be placed at the sign of question mark (?) from the given alternatives.

निम्नलिखित प्रश्न में दिए गए विकल्पों में से प्रश्न चिह्न (?) के स्थान पर आने वाली संख्या को चुनिए।

7	5	33
8	6	46
6	6	34
8	7	?

Options:

1) 54

2) 44

3) 48

4) 42

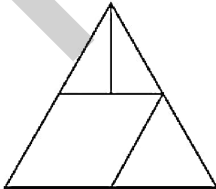
Correct Answer: 54

Candidate Answer: 54

QID : 102 -

How many triangles are there in the given figure?

दी गई आकृति में कितने त्रिभुज हैं?



Options:

1) 3

2) 4

3) 5

4) 2

Correct Answer: 5

Candidate Answer: 5

QID : 103 -

A word is represented by only one set of numbers as given in any one of the alternatives. The sets of numbers given in the alternatives are represented by two classes of alphabets as shown in the given two matrices. The columns and rows of **Matrix-I** are numbered from 0 to 4 and that of **Matrix-II** are numbered from 5 to 9. A letter from these matrices can be represented first by its row and next by its column, for example, 'D' can be represented by 02, 30, etc., and 'Z' can be represented by 00, 77, etc. Similarly, you have to identify the set for the word "RANK".

एक शब्द केवल एक संख्या-समूह द्वारा दर्शाया गया है, जैसा कि विकल्पों में से किसी एक में दिया गया है। विकल्पों में दिए गए संख्या-समूह अक्षरों के दो वर्गों द्वारा दर्शाए गए हैं, जैसा कि दिए गए दो आव्यूहों में है। आव्यूह-I के स्तम्भ और पंक्ति की संख्या 0 से 4 हैं और आव्यूह-II की 5 से 9। इन आव्यूहों से एक अक्षर को पहले उसकी पंक्ति और बाद में स्तम्भ संख्या द्वारा दर्शाया जा सकता है। उदाहरण के लिए 'D' को 02, 30 आदि द्वारा दर्शाया जा सकता है तथा 'Z' को 00, 77, आदि द्वारा दर्शाया जा सकता है। इसी तरह से आपको प्रश्न में दिए शब्द "RANK" के लिए समूह को पहचानना है।

Matrix-I आव्यूह-I						Matrix-II आव्यूह-II					
	0	1	2	3	4	5	6	7	8	9	
0	Z	O	D	W	X	5	A	V	X	T	U
1	G	M	N	H	V	6	K	M	O	R	S
2	E	O	Y	K	T	7	L	R	Z	A	D
3	D	G	W	L	R	8	F	H	J	L	N
4	A	E	U	N	K	9	U	J	Q	V	X

Options:

1) 76, 40, 12, 86

2) 11, 55, 89, 23

3) 34, 78, 12, 44

4) 68, 55, 43, 34

Correct Answer: 34, 78, 12, 44**Candidate Answer:** 34, 78, 12, 44**QID : 104 -**

From the given answer figures, select the one in which the question figure is hidden/embedded.

दी गई उत्तर आकृतियों में से उस उत्तर आकृति को चुनिए जिस में प्रश्न आकृति निहित है।

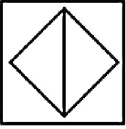


Options:

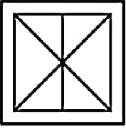
1)



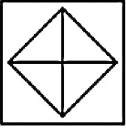
2)



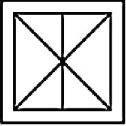
3)



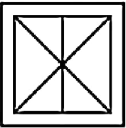
4)



Correct Answer:



Candidate Answer:



QID : 105 -

Which answer figure will complete the pattern in the question figure?

कौन सी उत्तर आकृति प्रश्न आकृति के प्रतिरूप को पूरा करेगी?



Options:

1)



2)



3)



4)



Correct Answer:



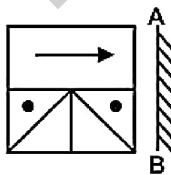
Candidate Answer:



QID : 106 -

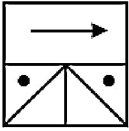
If a mirror is placed on the line AB, then which of the answer figures is the right image of the given figure?

यदि एक दर्पण को AB रेखा पर रखा जाए, तो दी गई उत्तर आकृतियों में से कौन सी आकृति प्रश्न आकृति की सही प्रतिबिम्ब होगी?

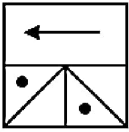


Options:

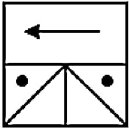
1)



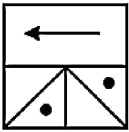
2)



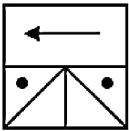
3)



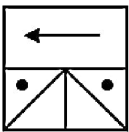
4)



Correct Answer:



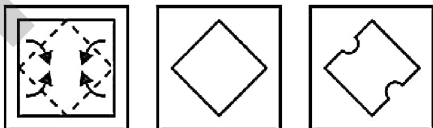
Candidate Answer:



QID : 107 -

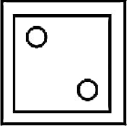
A piece of paper is folded and punched as shown below in the question figures. From the given answer figures, indicate how it will appear when opened?

नीचे के प्रश्न आकृतियों में दिखाए अनुसार कागज को मोड़कर छेदने तथा खोलने के बाद वह किस उत्तर आकृति जैसा दिखाई देगा?

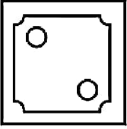


Options:

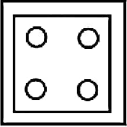
1)



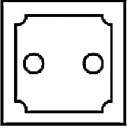
2)



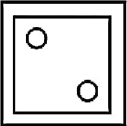
3)



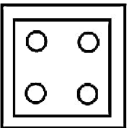
4)



Correct Answer:



Candidate Answer:



QID : 108 - If '+' means ' \div ', '-' means ' \times ', ' \times ' means '+' and ' \div ' means '-', then

$$11 \times 28 - 3 + 12 \div 11 = ?$$

यदि '+' का अर्थ ' \div ', '-' का अर्थ ' \times ', ' \times ' का अर्थ '+' तथा ' \div ' का अर्थ '-' हो, तो

$$11 \times 28 - 3 + 12 \div 11 = ?$$

Options:

1) 7

2) 110

3) 39

4) 27

Correct Answer: 7

Candidate Answer: 7

QID : 109 - If $11 A 3 B 5 = 9$ and $13 A 6 B 5 = 14$, then

$$14 A 2 B 9 = ?$$

यदि $11 A 3 B 5 = 9$ तथा $13 A 6 B 5 = 14$ हों, तो

$$14 A 2 B 9 = ?$$

Options:

1) 6

2) 4

3) 7

4) 5

Correct Answer: 7

Candidate Answer: 7

QID : 110 - Arrange the given words in the sequence in which they occur in the dictionary.

1. Strange
2. Straight
3. Stroke
4. Strobe
5. Stamp

निम्नलिखित शब्दों को शब्दकोश में आने वाले क्रम के अनुसार लिखें।

1. Strange
2. Straight
3. Stroke
4. Strobe
5. Stamp

Options:

1) 52143

2) 51243

3) 52134

4) 51234

Correct Answer: 52143

Candidate Answer: 52143

QID : 111 - In the following question, select the missing number from the given series.

720, 120, 24, 6, ?

निम्नलिखित प्रश्न में दिए गए विकल्पों में से लुप्त अंक ज्ञात कीजिए।

720, 120, 24, 6, ?

Options:

1) 3

2) 2

3) 1

4) 4

Correct Answer: 2

Candidate Answer: 2

QID : 112 - A series is given with one term missing. Select the correct alternative from the given ones that will complete the series.

L, O, R, U, ?

एक अनुक्रम दिया गया है, जिसमें से एक पद लुप्त है। दिए गए विकल्पों में से वह सही विकल्प चुनिए, जो अनुक्रम को पूरा करे।

L, O, R, U, ?

Options:

1) X

2) Y

3) W

4) Z

Correct Answer: X

Candidate Answer: X

QID : 113 - In the following question, select the odd word from the given alternatives.

निम्नलिखित प्रश्न में दिए गए विकल्पों में से विषम शब्द को चुनिए।

Options:

1) Tyre

पहिया

2) Steering

स्टीयरिंग

3) Sun

सूर्य

4) Lake

झील

Correct Answer: Lake

झील

Candidate Answer: Tyre

पहिया

QID : 114 - In the following question, select the odd number pair from the given alternatives.

निम्नलिखित प्रश्न में दिए गए विकल्पों में से विषम संख्या युग्म को चुनिए।

Options:

- 1) 4 – 8
- 2) 5 – 9
- 3) 6 – 10
- 4) 13 – 18

Correct Answer: 13 – 18

Candidate Answer: 13 – 18

QID : 115 - In the following question, select the odd letters from the given alternatives.

निम्नलिखित प्रश्न में दिए गए विकल्पों में से विषम अक्षरों को चुनिए।

Options:

- 1) AD
- 2) PS
- 3) QS
- 4) JM

Correct Answer: QS

Candidate Answer: QS

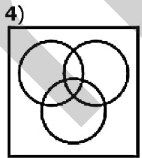
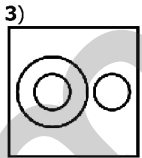
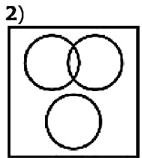
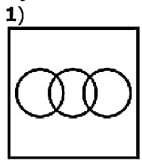
QID : 116 - Identify the diagram that best represents the relationship among the given classes.

Lawyer, Male, Female

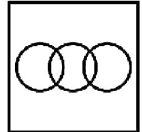
वह आरेख चुनिए जो नीचे दिए गए वर्गों के बीच के संबंध का सही निरूपण करता है।

वकील, पुरुष, महिला

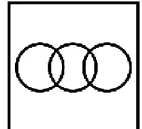
Options:



Correct Answer:



Candidate Answer:



QID : 117 - In the following question, select the related word from the given alternatives.

Kilogram : Weight :: Newton : ?

निम्नलिखित प्रश्न में दिए गए विकल्पों में से संबंधित शब्द को चुनिए।

किलोग्राम : भार :: न्यूटन : ?

Options:

1) Work

कार्य

2) Force

बल

3) Light

प्रकाश

4) Pressure

दाब

Correct Answer: Force

बल

Candidate Answer: Force

बल

QID : 118 - In the following question, select the related number pair from the given alternatives.

49 : 343 :: ? : ?

निम्नलिखित प्रश्न में दिए गए विकल्पों में से संबंधित संख्या युग्म को चुनिए।

49 : 343 :: ? : ?

Options:

1) 64 : 512

2) 9 : 29

3) 81 : 343

4) 25 : 625

Correct Answer: 64 : 512

Candidate Answer: 64 : 512

QID : 119 - In the following question, select the related letters from the given alternatives.

PHONE : QGPMF :: TIGER : ?

निम्नलिखित प्रश्न में दिए गए विकल्पों में से संबंधित अक्षरों को चुनिए।

PHONE : QGPMF :: TIGER : ?

Options:

1) UHHDS

2) UHHES

3) UHIDS

4) UGHDS

Correct Answer: UHHDS

Candidate Answer: UHHDS

QID : 120 - In the following question, select the word which cannot be formed using the letters of the given word.

SEARCHING

निम्नलिखित विकल्पों में से वह शब्द चुनिए जो दिए गए शब्द के अक्षरों का प्रयोग करके नहीं बनाया जा सकता।

SEARCHING

Options:

1) HEAR

2) GRIND

3) GRAIN

4) SEARCH

Correct Answer: GRIND

Candidate Answer: GRIND

QID : 121 - Rishabh is 15th from left end and 23rd from right end in a row of students. How many students are there in the row?

ऋषभ विद्यार्थियों की एक पंक्ति में बायें

Options:

- 1) 38
- 2) 37
- 3) 39
- 4) 40

Correct Answer: 37**Candidate Answer:** 37**QID : 122** - A is north of B. B is west of C. C is south of D. In which direction is A from D?

A, B के उत्तर में है। B, C के पश्चिम में है। C, D के दक्षिण में है। A, D से किस दिशा में है?

Options:

- 1) South-West
दक्षिण-पश्चिम
- 2) North
उत्तर
- 3) North-West
उत्तर-पश्चिम
- 4) Cannot be determined
जात नहीं किया जा सकता

Correct Answer: Cannot be determined

जात नहीं किया जा सकता

Candidate Answer: North-West

उत्तर-पश्चिम

QID : 123 - In the following question below are given some statements followed by some conclusions. Taking the given statements to be true even if they seem to be at variance from commonly known facts, read all the conclusions and then decide which of the given conclusion logically follows the given statements.**Statements:**

- I. Some red are green.
- II. All green are blue.

Conclusions:

- I. Some red are blue.
- II. Some blue are red.

नीचे दिए गए प्रश्न में कुछ कथन और उनके बाद उन कथनों पर आधारित कुछ निष्कर्ष दिए गए हैं, हालांकि उनमें सामान्य ज्ञात तथ्यों से भिन्नता हो सकती है। सभी निष्कर्ष पढ़ें और फिर निर्धारित करें कि दिए गए कौन से निष्कर्ष, दिए गए कथनों के आधार पर युक्तिसंगत हैं।

कथन:

- I. कुछ लाल हरे हैं।
- II. सभी हरे नीले हैं।

निष्कर्ष:

- I. कुछ लाल नीले हैं।
- II. कुछ नीले लाल हैं।

Options:

- 1) Only conclusion (I) follows.
केवल निष्कर्ष (I) सही है।
- 2) Only conclusion (II) follows.
केवल निष्कर्ष (II) सही है।
- 3) Both conclusion follow.
दोनों ही निष्कर्ष सही हैं।
- 4) Neither conclusion (I) nor conclusion (II) follows.
न तो निष्कर्ष (I) न ही निष्कर्ष (II) सही है।

Correct Answer: Both conclusion follow.

दोनों ही निष्कर्ष सही हैं।

Candidate Answer: Both conclusion follow.

दोनों ही निष्कर्ष सही हैं।

QID : 124 - In a certain code language, "FOUND" is written as "IRXQG". How is "STRALL" written in that code language?

एक विशिष्ट कोड भाषा में, "FOUND" को "IRXQG" लिखा जाता है। इस कोड भाषा में "STRALL" को किस प्रकार लिखा जाएगा?

Options:

- 1) ZEFVPO
- 2) TFVEPP
- 3) VWUDOO
- 4) DWJQLO

Correct Answer: VWUDOO

Candidate Answer: VWUDDO

QID : 125 - In a certain code language, "TOM" is written as "51" and "SAM" is written as "36". How is "JERRY" written in that code language?

एक विशिष्ट कोड भाषा में, "TOM" को "51" तथा "SAM" को "36" लिखा जाता है। इस कोड भाषा में "JERRY" को किस प्रकार लिखा जाएगा?

Options:

1) 69

2) 82

3) 78

4) 79

Correct Answer: 79

Candidate Answer: 79

QID : 126 - What is the value of $(0.5)^2 + (0.05)^2 + (0.005)^2$?

$(0.5)^2 + (0.05)^2 + (0.005)^2$ का मान क्या है?

Options:

1) 0.002525

2) 0.252525

3) 0.525025

4) 0.000525

Correct Answer: 0.252525

Candidate Answer: 0.252525

QID : 127 - What is the least common multiple of $(7/5)$ and $(9/25)$?

$(7/5)$ तथा $(9/25)$ का लघुत्तम समापवर्त्य क्या है?

Options:

1) $63/5$

2) $5/56$

3) $56/5$

4) $60/7$

Correct Answer: $63/5$

Candidate Answer: $63/5$

QID : 128 -

What is the value of $\sqrt{361} + \sqrt{625} + \sqrt{196}$?

$\sqrt{361} + \sqrt{625} + \sqrt{196}$ का मान क्या है?

Options:

1) 21

2) 19

3) 20

4) 17

Correct Answer: 20

Candidate Answer: 20

QID : 129 - Which of the following number is completely divisible by 8?

निम्नलिखित में से कौन सी संख्या 8 से पूर्णतः विभाज्य है?

Options:

1) 2564

2) 2560

3) 2970

4) 3894

Correct Answer: 2560

Candidate Answer: 2560

QID : 130 - Which of the following statement(s) is/are true?

- I. $(11/13) > (16/19)$
 II. $(4/11) > (3/8)$

निम्नलिखित में से कौन सा/से कथन सत्य है/हैं?

- I. $(11/13) > (16/19)$
 II. $(4/11) > (3/8)$

Options:

- 1) Only I
 केवल I
 2) Only II
 केवल II
 3) Both I and II
 I तथा II दोनों
 4) Neither I nor II
 न तो I न ही II

Correct Answer: Only I

केवल I

Candidate Answer: Only I

केवल I

QID : 131 - If $N = \sqrt{8} - \sqrt{5}$, then what is the value of $(1/N)$?

यदि $N = \sqrt{8} - \sqrt{5}$ है, तो $(1/N)$ का मान क्या है?

Options:

- 1) $(\sqrt{8} + \sqrt{5})/3$
 2) $(\sqrt{8} - \sqrt{5})/3$
 3) $(\sqrt{8} + 3\sqrt{5})$
 4) $2\sqrt{8} + 3\sqrt{5}$

Correct Answer: $(\sqrt{8} + \sqrt{5})/3$

Candidate Answer: $(\sqrt{8} + \sqrt{5})/3$

QID : 132 - P can do a piece of work in 20 days and Q can do the same piece of work in 60 days. They start working together and work for 5 days and then both leave the work. R alone finishes the remaining work in 10 days. In how many days will R alone finish the whole work?

P एक कार्य को 20 दिनों में पूरा करता है तथा Q उसी कार्य को 60 दिनों में पूरा करता है। दोनों साथ कार्य करना प्रारंभ करते हैं तथा 5 दिन कार्य करते हैं तथा फिर दोनों कार्य छोड़ देते हैं। R शेष कार्य को अकेला 10 दिनों में खत्म करता है। R अकेला पूरे कार्य को कितने दिनों में पूरा करेगा?

Options:

- 1) 10
 2) 16
 3) 15
 4) 20

Correct Answer: 15

Candidate Answer: 15

QID : 133 - W and T together can do a work in 140 days. W alone can do the work in 160 days. In how many days can T alone do the work?

W तथा T एक कार्य को मिलकर 140 दिनों में पूरा करते हैं। W अकेला कार्य को 160 दिनों में पूरा करता है। T अकेला उस कार्य को कितने दिनों में पूरा करेगा?

Options:

- 1) 1000
 2) 1200
 3) 1120
 4) 1500

Correct Answer: 1120

Candidate Answer: 1120

QID : 134 - The ratio of the length and breadth of a rectangle is 7 : 4. If the perimeter of the rectangle is 220 cm, then what is the breadth (in cm) of the rectangle?

एक आयत की लम्बाई तथा चौड़ाई का अनुपात 7 : 4 है। यदि आयत का परिमाण 220 से.मी. है, तो आयत की चौड़ाई (से.मी. में) क्या है?

Options:

- 1) 45
 2) 50
 3) 40
 4) 65

Correct Answer: 40

Candidate Answer: 40

QID : 135 - A shopkeeper allows two successive discounts of 20% and 10% on selling an article. If he gets Rs 432 for the article, then what is the marked price (in Rs) of the article?

एक दुकानदार किसी वस्तु को बेचते समय, 20% तथा 10%, की दो क्रमिक छूट देता है। यदि वह इस वस्तु के 432 रु प्राप्त करता है, तो वस्तु का अंकित मूल्य (रु में) क्या है?

Options:

- 1) 650
- 2) 600
- 3) 580
- 4) 620

Correct Answer: 600

Candidate Answer: 600

QID : 136 - A trader gives a discount of 30% on the marked price. To earn profit of 5%, by how much percent should he mark the price of his goods higher than its cost price?

एक व्यापारी अंकित मूल्य पर 30% की छूट देता है। 5% का लाभ प्राप्त करने के लिए उसे अपनी वस्तुओं का मूल्य, क्रय मूल्य से कितना प्रतिशत अधिक अंकित करना चाहिए?

Options:

- 1) 40
- 2) 35
- 3) 50
- 4) 25

Correct Answer: 50

Candidate Answer: 50

QID : 137 - If 4.8% of a = 1.05% of b, then what is a : b?

यदि a का 4.8% = b का 1.05% हो, तो a : b क्या है?

Options:

- 1) 9 : 29
- 2) 7 : 32
- 3) 1 : 3
- 4) 25 : 32

Correct Answer: 7 : 32

Candidate Answer: 7 : 32

QID : 138 - B starts some business by investing Rs 17000. After 3 months, D joins business by investing Rs 68000. At the end of the year, in what ratio will they share the profit?

B, 17000 रु की पूँजी निवेश करके एक व्यापार आरंभ करता है। 3 माह के पश्चात D, 68000 रु निवेश कर उस व्यापार में शामिल हो जाता है। वर्ष के अंत में वह किस अनुपात में लाभ बाँटेंगे?

Options:

- 1) 3 : 4
- 2) 1 : 3
- 3) 9 : 4
- 4) 7 : 4

Correct Answer: 1 : 3

Candidate Answer: 1 : 3

QID : 139 - The average of N numbers is 15. If a number 3 is removed, then average becomes 18. What is the value of N?

N संख्याओं का औसत 15 है। यदि एक संख्या 3 को हटाया जाये, तो औसत 18 हो जाता है। N का मान क्या है?

Options:

- 1) 4
- 2) 6
- 3) 5
- 4) 7

Correct Answer: 5

Candidate Answer: 5

QID : 140 - If some articles are bought at Rs 16 each and sold at Rs 18 each, then what is the profit percentage?

यदि कुछ वस्तुएँ 16 रु प्रति वस्तु की दर से खरीदकर 18 रु प्रति वस्तु की दर से बेच दी गई है, तो लाभ प्रतिशत क्या है?

Options:

- 1) 11.11
- 2) 12.5
- 3) 25
- 4) 9.09

Correct Answer: 12.5

Candidate Answer: 12.5

QID : 141 - By selling an article for Rs 660 there is a profit of 10%. What is the cost price (in Rs) of the article?

एक वस्तु को 660 रु में बेचने पर 10% का लाभ होता है। वस्तु का क्रय मूल्य (रु में) क्या है?

Options:

1) 700

2) 600

3) 530

4) 620

Correct Answer: 600

Candidate Answer: 600

QID : 142 - P is 10% less than Q. Q is 10% more than R. R is 20% less than S. If S is 1000, then what is the value of P?

P, Q से 10% कम है। Q, R से 10% अधिक है। R, S से 20% कम है। यदि S, 1000 है, तो P का मान क्या है?

Options:

1) 648

2) 792

3) 676

4) 736

Correct Answer: 792

Candidate Answer: 792

QID : 143 - A number is increased by 10%. To obtain the old number, by how much percent should it be decreased?

एक संख्या को 10% से बढ़ाया गया। पुरानी संख्या प्राप्त करने के लिए, उसे कितने प्रतिशत से घटाया जाये?

Options:

1) 9.09

2) 11.11

3) 10

4) 12.5

Correct Answer: 9.09

Candidate Answer: 9.09

QID : 144 - The speed of a stream is 1 km/hr. A boat goes 36 km and comes back to the starting point in 15 hours. What is the speed (in km/hr) of the boat in still water?

एक धारा की गति 1 कि.मी./घंटा है। एक नाव 36 कि.मी. की दूरी तय करके वापस अपने आरंभिक बिंदु पर 15 घंटे में आ जाती है। शांत जल में नाव की गति (कि.मी./घंटा में) क्या है?

Options:

1) 3

2) 4

3) 5

4) 6

Correct Answer: 5

Candidate Answer: 5

QID : 145 - The downstream speed of a boat is 20 km/hr and the speed of current is 5 km/hr. What is the total time (in hours) taken by the boat to cover 80 km upstream and 100 km downstream?

धारा के अनुकूल एक नाव की गति 20 कि.मी./घंटा है तथा धारा की गति 5 कि.मी./घंटा है। धारा के प्रतिकूल 80 कि.मी. तथा धारा के अनुकूल 100 कि.मी. की दूरी तय करने में नाव कुल कितना समय (घंटों में) लेगी?

Options:

1) 6

2) 13

3) 10

4) 12

Correct Answer: 13

Candidate Answer: 13

QID : 146 - The population of a village increases at the rate of 16% per annum. If the present population of the village is 403680, then what was the population of the village 2 years ago?

16% की वार्षिक दर से एक गाँव की जनसंख्या में वृद्धि होती है। यदि गाँव की वर्तमान जनसंख्या 403680 है, तो 2 वर्ष पहले गाँव की जनसंख्या क्या थी?

Options:

1) 30000

2) 40000

3) 300000

4) 400000

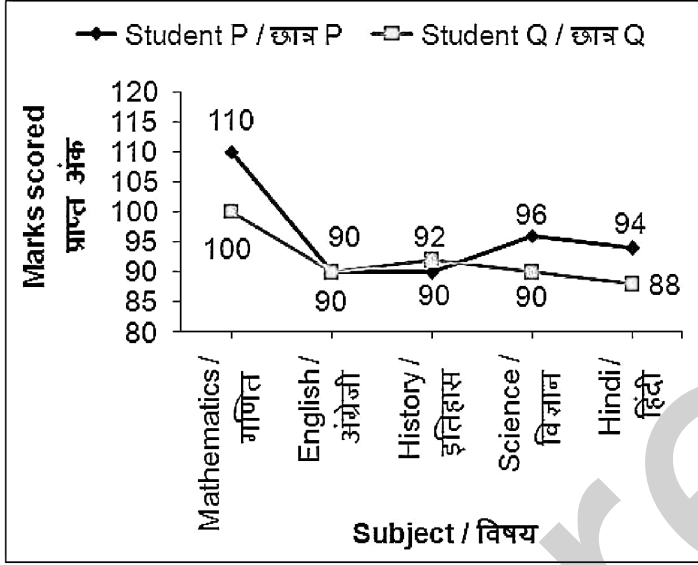
Correct Answer: 300000

Candidate Answer: 300000

QID : 147 -

The line chart given below shows the marks scored by 2 students P and Q in five subjects.

नीचे दिए गए रेखा चित्र में 2 छात्रों P तथा Q द्वारा पाँच विषयों में प्राप्त किए गए अंकों को दर्शाया गया है।



What is the ratio of the marks scored by student P in Science to the marks scored by student Q in History?

छात्र P द्वारा विज्ञान में प्राप्त अंक का छात्र Q द्वारा इतिहास में प्राप्त अंक से क्या अनुपात है?

Options:

1) 90 : 92

2) 24 : 23

3) 23 : 24

4) 96 : 95

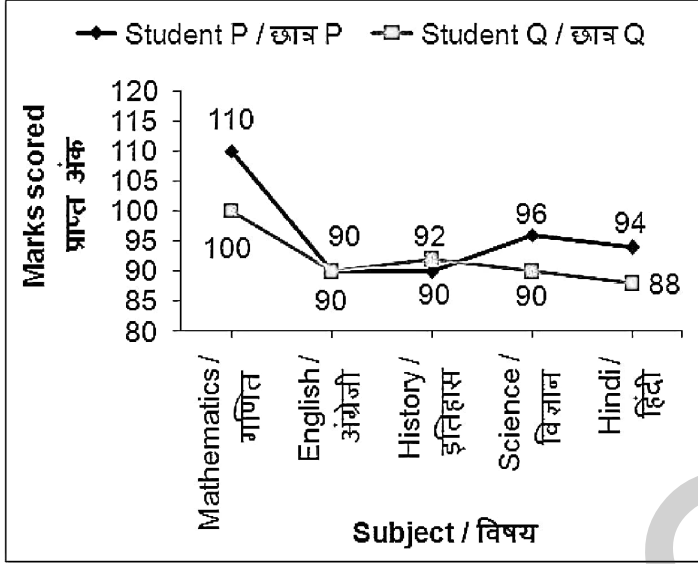
Correct Answer: 24 : 23

Candidate Answer: 24 : 23

QID : 148 -

The line chart given below shows the marks scored by 2 students P and Q in five subjects.

नीचे दिए गए रेखा चित्र में 2 छात्रों P तथा Q द्वारा पाँच विषयों में प्राप्त किए गए अंकों को दर्शाया गया है।



In how many subjects did student P scored less marks than student Q?

कितने विषयों में छात्र P ने छात्र Q से कम अंक प्राप्त किये हैं?

Options:

- 1) 1
- 2) 2
- 3) 4
- 4) 5

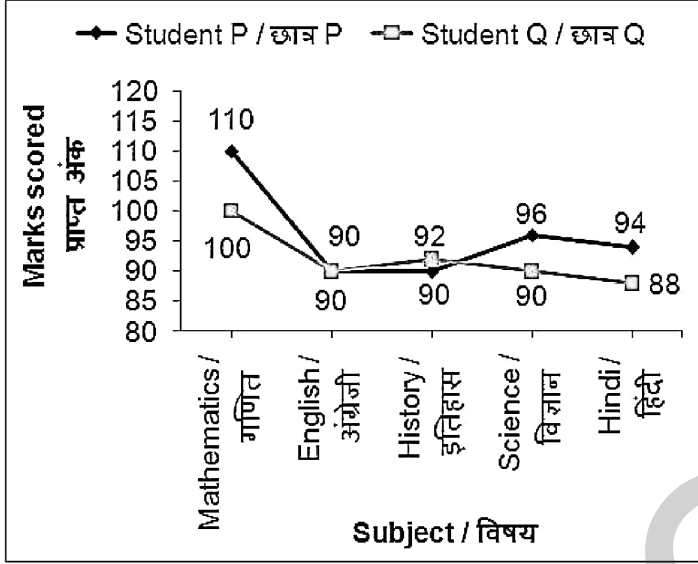
Correct Answer: 1

Candidate Answer: 1

QID : 149 -

The line chart given below shows the marks scored by 2 students P and Q in five subjects.

नीचे दिए गए रेखा चित्र में 2 छात्रों P तथा Q द्वारा पाँच विषयों में प्राप्त किए गए अंकों को दर्शाया गया है।



What is the average marks scored by student P in all the 5 subjects?

सभी 5 विषयों में छात्र P द्वारा प्राप्त औसत अंक क्या हैं?

Options:

- 1) 90
- 2) 96
- 3) 98
- 4) 106

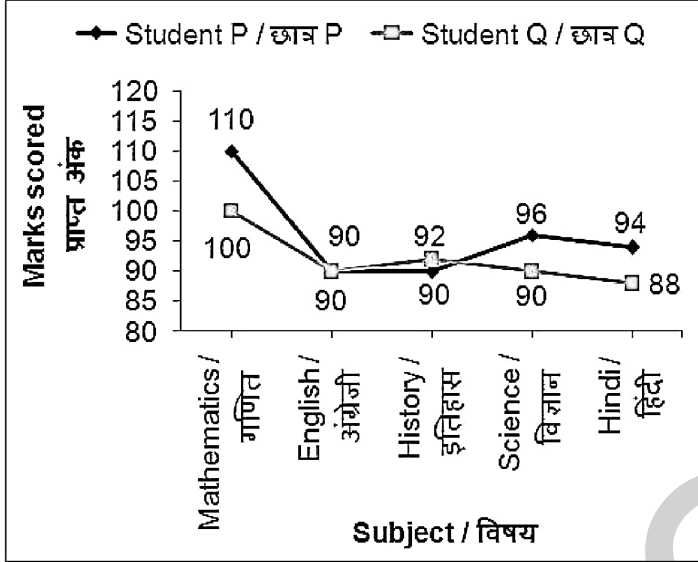
Correct Answer: 96

Candidate Answer: 96

QID : 150 -

The line chart given below shows the marks scored by 2 students P and Q in five subjects.

नीचे दिए गए रेखा चित्र में 2 छात्रों P तथा Q द्वारा पाँच विषयों में प्राप्त किए गए अंकों को दर्शाया गया है।



Marks scored by student Q in Hindi is what percent of marks scored by student P in Science?

छात्र Q द्वारा हिंदी में प्राप्त अंक छात्र P द्वारा विज्ञान में प्राप्त अंक का कितना प्रतिशत है?

Options:

- 1) 85
- 2) 91.66
- 3) 99.17
- 4) 99

Correct Answer: 91.66

Candidate Answer: 91.66

QID : 151 - In the following question, some part of the sentence may have errors. Find out which part of the sentence has an error and select the appropriate option. If a sentence is free from error, select 'No Error'.

As increasing dependence on information systems develop (1)/ the need for such systems (2)/ to be reliable and secure also becomes more essential. (3)/ No error (4)

Options:

- 1) 1
- 2) 2
- 3) 3
- 4) 4

Correct Answer: 1

Candidate Answer: 1

QID : 152 - In the following question, some part of the sentence may have errors. Find out which part of the sentence has an error and select the appropriate option. If a sentence is free from error, select 'No Error'.

Like most combat officers who had seen their men die (1)/ and occasionally buried the hideously (2)/ mutilated bodies of those unlucky enough to taken alive. (3)/ No error (4)

Options:

- 1) 1
- 2) 2
- 3) 3
- 4) 4

Correct Answer: 3

Candidate Answer: 1

QID : 153 - In the following question, the sentence given with blank to be filled in with an appropriate word. Select the correct alternative out of the four and indicate it by selecting the appropriate option.

Four braces of partridges _____ been bought.

Options:

- 1) have
- 2) has
- 3) is
- 4) was

Correct Answer: have

Candidate Answer: has

QID : 154 - In the following question, the sentence given with blank to be filled in with an appropriate word. Select the correct alternative out of the four and indicate it by selecting the appropriate option.

She _____ of going to Paris.

Options:

- 1) dream
- 2) dreams
- 3) sees
- 4) saw

Correct Answer: dreams

Candidate Answer: dreams

QID : 155 - In the following question, out of the given four alternatives, select the one which best expresses the meaning of the given word.

Novel

Options:

- 1) Unique
- 2) Common
- 3) Usual
- 4) Overused

Correct Answer: Unique

Candidate Answer: Unique

QID : 156 - In the following question, out of the given four alternatives, select the one which best expresses the meaning of the given word.

Scanty

Options:

- 1) Limited
- 2) Ample
- 3) Plenty
- 4) Abundant

Correct Answer: Limited

Candidate Answer: Limited

QID : 157 - In the following question, out of the given four alternatives, select the one which best expresses the meaning of the given word.

Wily

Options:

- 1) Naive
- 2) Artful
- 3) Unskillful
- 4) Ingenuous

Correct Answer: Artful

Candidate Answer: Artful

QID : 158 - In the following question, out of the given four alternatives, select the one which is opposite in meaning of the given word.

Jolly

Options:

- 1) Serious
- 2) Joyful
- 3) Gay
- 4) Merry

Correct Answer: Serious

Candidate Answer: Serious

QID : 159 - In the following question, out of the given four alternatives, select the one which is opposite in meaning of the given word.

Decamp

Options:

- 1) Remain
- 2) Depart
- 3) Escape
- 4) Flee

Correct Answer: Remain

Candidate Answer: Remain

QID : 160 - In the following question, out of the given four alternatives, select the one which is opposite in meaning of the given word.

Devoid

Options:

- 1) Empty
- 2) Full
- 3) Barren
- 4) Sans

Correct Answer: Full

Candidate Answer: Full

QID : 161 - In the following question, out of the four given alternatives, select the alternative which best expresses the meaning of the Idiom/Phrase.

Under the weather

Options:

- 1) Not well
- 2) Quarrelling
- 3) Making speeches
- 4) Anticipating

Correct Answer: Not well

Candidate Answer: Not well

QID : 162 - In the following question, out of the four given alternatives, select the alternative which best expresses the meaning of the Idiom/Phrase.

All hands on deck

Options:

- 1) Everyone available to help with a problem
- 2) Jumping to the conclusions
- 3) Playing card with both hands
- 4) To make publicly known

Correct Answer: Everyone available to help with a problem

Candidate Answer: Everyone available to help with a problem

QID : 163 - Improve the bracketed part of the sentence.

With such prestigious institutions (**in**) the list every engineering aspirant must be pondering over one thought.

Options:

- 1) at
- 2) inside
- 3) on
- 4) No improvement

Correct Answer: on

Candidate Answer: No improvement

QID : 164 - Improve the bracketed part of the sentence.

Proper planning would ensure (**which**) you do not miss out any area of your preparation.

Options:

- 1) that
- 2) whose
- 3) whom
- 4) No improvement

Correct Answer: that

Candidate Answer: that

QID : 165 - In the following question, out of the four given alternatives, select the alternative which is the best substitute of the phrase.

One who teaches dancing

Options:

- 1) Choreographer
- 2) Photographer
- 3) Stenographer
- 4) Calligrapher

Correct Answer: Choreographer**Candidate Answer:** Choreographer**QID : 166** - In the following question, out of the four given alternatives, select the alternative which is the best substitute of the phrase.**Not limited by number.****Options:**

- 1) Ignite
- 2) Bauxite
- 3) Infinite
- 4) Blite

Correct Answer: Infinite**Candidate Answer:** Infinite**QID : 167** - In the following question, a word has been written in four different ways out of which only one is correctly spelt. Select the correctly spelt word.**Options:**

- 1) Cristmas
- 2) Christmas
- 3) Christmas
- 4) Chrestmas

Correct Answer: Christmas**Candidate Answer:** Christmas**QID : 168** - In the following question, a word has been written in four different ways out of which only one is correctly spelt. Select the correctly spelt word.**Options:**

- 1) Tongeu
- 2) Thoungue
- 3) Tongue
- 4) Taungue

Correct Answer: Tongue**Candidate Answer:** Tongue**QID : 169** - Rearrange the parts of the sentence in correct order.

Delinquency is a

P: the course of normal social life**Q:** kind of normality when**R:** an individual deviates from**Options:**

- 1) PRQ
- 2) QRP
- 3) PQR
- 4) QPR

Correct Answer: QRP**Candidate Answer:** QRP**QID : 170** - Rearrange the parts of the sentence in correct order.

Child malnutrition is the

P: the economy is said to be surging ahead**Q:** is facing today even when**R:** biggest challenge that our country**Options:**

- 1) RQP
- 2) QRP
- 3) PQR
- 4) QPR

Correct Answer: RQP**Candidate Answer:** RQP

QID : 171 - In the following passage some of the words have been left out. Read the passage carefully and select the correct answer for the given blank out of the four alternatives.

Some people argue that etiquette no _____ matters, that the rules for good behaviour are old-fashioned and _____ of date. However, good behaviour and manners are never out of style. Etiquette, like all other cultural behaviours, _____ to match the times. Without etiquette, members of society would show _____ too much impatience and _____ for one another, which would lead to insults, dishonesty, cheating, road rage, fist fights, and a rash of other unfortunate incidents

etiquette no _____ matters, that

Options:

- 1) longer
- 2) shorter
- 3) larger
- 4) smaller

Correct Answer: longer

Candidate Answer: longer

QID : 172 - In the following passage some of the words have been left out. Read the passage carefully and select the correct answer for the given blank out of the four alternatives.

Some people argue that etiquette no _____ matters, that the rules for good behaviour are old-fashioned and _____ of date. However, good behaviour and manners are never out of style. Etiquette, like all other cultural behaviours, _____ to match the times. Without etiquette, members of society would show _____ too much impatience and _____ for one another, which would lead to insults, dishonesty, cheating, road rage, fist fights, and a rash of other unfortunate incidents

old-fashioned and _____ of date.

Options:

- 1) in
- 2) out
- 3) against
- 4) over

Correct Answer: out

Candidate Answer: out

QID : 173 - In the following passage some of the words have been left out. Read the passage carefully and select the correct answer for the given blank out of the four alternatives.

Some people argue that etiquette no _____ matters, that the rules for good behaviour are old-fashioned and _____ of date. However, good behaviour and manners are never out of style. Etiquette, like all other cultural behaviours, _____ to match the times. Without etiquette, members of society would show _____ too much impatience and _____ for one another, which would lead to insults, dishonesty, cheating, road rage, fist fights, and a rash of other unfortunate incidents

cultural behaviors, _____ to match the

Options:

- 1) revolves
- 2) resolves
- 3) evolves
- 4) solves

Correct Answer: evolves

Candidate Answer: revolves

QID : 174 - In the following passage some of the words have been left out. Read the passage carefully and select the correct answer for the given blank out of the four alternatives.

Some people argue that etiquette no _____ matters, that the rules for good behaviour are old-fashioned and _____ of date. However, good behaviour and manners are never out of style. Etiquette, like all other cultural behaviours, _____ to match the times. Without etiquette, members of society would show _____ too much impatience and _____ for one another, which would lead to insults, dishonesty, cheating, road rage, fist fights, and a rash of other unfortunate incidents

society would show _____ too much

Options:

- 1) near
- 2) distance
- 3) far
- 4) close

Correct Answer: far

Candidate Answer: distance

QID : 175 - In the following passage some of the words have been left out. Read the passage carefully and select the correct answer for the given blank out of the four alternatives.

Some people argue that etiquette no _____ matters, that the rules for good behaviour are old-fashioned and _____ of date. However, good behaviour and manners are never out of style. Etiquette, like all other cultural behaviours, _____ to match the times. Without etiquette, members of society would show _____ too much impatience and _____ for one another, which would lead to insults, dishonesty, cheating, road rage, fist fights, and a rash of other unfortunate incidents

impatience and _____ for one another

Options:

- 1) unculture
- 2) disfigure
- 3) functional
- 4) disrespect

Correct Answer: disrespect**Candidate Answer:** disrespect**QID : 176** - What is the currency of Indonesia called?

इंडोनेशिया की मुद्रा क्या है?

Options:

- 1) Baht
बाट
- 2) Dinar
दीनार
- 3) Rial
रियाल
- 4) Rupiah
रुपियाह

Correct Answer: Rupiah

रुपियाह

Candidate Answer: Baht

बाट

QID : 177 - In India, Inflation measured by the _____.

भारत में, मुद्रास्फीति _____ से मापा जाता है।

Options:

- 1) BSE Index
बीएसई सूचकांक
- 2) Consumer Price Index
उपभोक्ता मूल्य सूचकांक
- 3) National Income Deflation
राष्ट्रीय आय अपस्फीति
- 4) Income Tax Department
आयकर विभाग

Correct Answer: Consumer Price Index

उपभोक्ता मूल्य सूचकांक

Candidate Answer: Consumer Price Index

उपभोक्ता मूल्य सूचकांक

QID : 178 - How many types of committees are there in the Parliament?

संसद में कितने प्रकार की समितियां होती हैं?

Options:

- 1) Only one type
केवल एक प्रकार की
- 2) Two types
दो प्रकार की
- 3) Three types
तीन प्रकार की
- 4) None of the option is correct.
कोई भी विकल्प सही नहीं है।

Correct Answer: Two types

दो प्रकार की

Candidate Answer: Three types

तीन प्रकार की

QID : 179 - India is a Union of States. Executive power of the Union is vested in the _____.

भारत राज्यों का संघ है। संघ की कार्यकारी शक्ति _____ में निहित है।

Options:

1) Prime Minister

प्रधान मंत्री

2) Home Minister

गृह मंत्री

3) Chief Justice of India

भारत के मुख्य न्यायाधीश

4) Chief Election Commissioner

मुख्य चुनाव आयुक्त

Correct Answer: Prime Minister

प्रधान मंत्री

Candidate Answer: Prime Minister

प्रधान मंत्री

QID : 180 - Hampi is situated in which state?

हम्पी किस राज्य में स्थित है?

Options:

1) Andhra Pradesh

आंध्र प्रदेश

2) Telangana

तेलंगाना

3) Tamilnadu

तमिलनाडु

4) Karnataka

कर्नाटक

Correct Answer: Karnataka

कर्नाटक

Candidate Answer: Karnataka

कर्नाटक

QID : 181 - Who was the last Mughal Emperor?

अंतिम मुगल सम्राट कौन था?

Options:

1) Aurangzeb

औरंगजेब

2) Wajid Ali Shah

वाजिद अली शाह

3) Bahadur Shah Zafar

बहादुर शाह जफर

4) Mohammad Shah Rangeela

मोहम्मद शाह रंगीला

Correct Answer: Bahadur Shah Zafar

बहादुर शाह जफर

Candidate Answer: Bahadur Shah Zafar

बहादुर शाह जफर

QID : 182 - When does summer solstice occur?

ग्रीष्म अयनांत कब होता है?

Options:

1) 21 March

21 मार्च

2) 21 June

21 जून

3) 21 April

21 अप्रैल

4) 21 July

21 जुलाई

Correct Answer: 21 June

21 जून

Candidate Answer: 21 June

21 जून

QID : 183 - Through which of the following countries does the river Tigris flow?

निम्नलिखित में से किस देश में टिगरिस नदी बहती है?

Options:

- 1) Egypt
मिस्र
- 2) Iran
ईरान
- 3) Italy
इटली
- 4) Iraq
इराक

Correct Answer: Iraq

इराक

Candidate Answer: Italy

इटली

QID : 184 - What name was assigned to the world's first clone of an adult animal by the British scientists?

ब्रिटिश वैज्ञानिकों द्वारा विश्व के पहले क्लोन को कौन-सा नाम दिया गया था?

Options:

- 1) Dolly
डॉली
- 2) Honey
हनी
- 3) Beauty
ब्यूटी
- 4) Rosy
रोजी

Correct Answer: Dolly

डॉली

Candidate Answer: Dolly

डॉली

QID : 185 - In which process plants convert potential energy into kinetic energy?

पौधों के किस प्रक्रिया में स्थितिज ऊर्जा को गतिज ऊर्जा में परिवर्तित किया जाता है?

Options:

- 1) Absorption process
अवशोषण प्रक्रिया
- 2) Respiration
श्वसन
- 3) Photosynthesis
प्रकाश संश्लेषण
- 4) Reproduction
प्रजनन

Correct Answer: Photosynthesis

प्रकाश संश्लेषण

Candidate Answer: Photosynthesis

प्रकाश संश्लेषण

QID : 186 - How many chromosomes contain in human body?

मानव शरीर में कितने गुणसूत्र होते हैं?

Options:

- 1) 46
- 2) 48
- 3) 49
- 4) 50

Correct Answer: 46**Candidate Answer:** 46**QID : 187** - In which year did Yuri Gagarin take the first travel in Space?

यूरी गगारिन ने किस वर्ष अंतरिक्ष की पहली यात्रा की थी?

Options:

- 1) 1951
- 2) 1956
- 3) 1961
- 4) 1965

Correct Answer: 1961**Candidate Answer:** 1956**QID : 188** - Why does the oil move up in the lamp?

लैम्प की बत्ती में तेल किसके कारण ऊपर

Options:

- 1) Pressure difference
दाब में अंतर
- 2) Capillary action
केशिकीय घटना
- 3) Low viscosity of oil
तेल की कम श्यानता
- 4) Light being hot
बत्ती का गर्म होना

Correct Answer: Capillary action
केशिकीय घटना

Candidate Answer: Low viscosity of oil
तेल की कम श्यानता

QID : 189 - All the machinery and equipments of computer are called _____.

कंप्यूटर के सभी मशीनरी और उपकरणों को _____ कहा जाता है।

Options:

- 1) Hardware
हार्डवेयर
- 2) Software
सॉफ्टवेयर
- 3) Chips
चिप्स
- 4) Electronic Appliances
इलेक्ट्रॉनिक उपकरण

Correct Answer: Hardware
हार्डवेयर

Candidate Answer: Hardware
हार्डवेयर

QID : 190 - Which of the following acids destroys bacteria in stomach?

निम्नलिखित में से कौन सा अम्ल पेट में बैक्टीरिया को नष्ट कर देता है?

Options:

- 1) H_2SO_4
- 2) HCl
- 3) HNO_3
- 4) H_3PO_4

Correct Answer: HCl

Candidate Answer: HCl

QID : 191 - How many times an adult breathes approximately in one minute?

एक वयस्क एक मिनट में लगभग कितनी बार साँस लेता है?

Options:

- 1) 16-18
- 2) 30-32
- 3) 100-110
- 4) 70-75

Correct Answer: 16-18

Candidate Answer: 70-75

QID : 192 - Layer which saves life from harmful effects of UV radiations is known as _____.

यू वी विकिरणों के हानिकारक प्रभावों से जीवन को बचाने वाले परत को _____ जाना जाता है।

Options:

- 1) Alpha Layer
अल्फा परत
- 2) Ozone Layer
ओजोन परत
- 3) Gamma Layer
गामा परत
- 4) Infrared Layer
इन्फ्रारेड परत

Correct Answer: Ozone Layer

ओजोन परत

Candidate Answer: Ozone Layer

ओजोन परत

QID : 193 - Which of the following set a target of 100% village electrification by 1 May, 2018?

निम्न में से किसने 1 मई, 2018 तक 100% गांवों का विद्युतीकरण का लक्ष्य रखा है?

Options:

- 1) Govt. of India
भारत सरकार
- 2) Uttar Pradesh Govt
उत्तर प्रदेश सरकार
- 3) Bihar Govt
बिहार सरकार
- 4) Punjab Govt
पंजाब सरकार

Correct Answer: Govt. of India
भारत सरकार

Candidate Answer: Bihar Govt
बिहार सरकार

QID : 194 - Who was the inventor of X-rays?

एक्स-रे के आविष्कारक कौन थे?

Options:

- 1) Albert Einstein
अल्बर्ट आइंस्टीन
- 2) W. H. Bragg
डब्ल्यू एच ब्रेग
- 3) W.C. Roentgen
डब्ल्यू सी रॉन्टगन
- 4) Henry Backarrel
हेनरी बेकरेल

Correct Answer: W.C. Roentgen
डब्ल्यू सी रॉन्टगन

Candidate Answer: W. H. Bragg
डब्ल्यू एच ब्रेग

QID : 195 - Stan Wawrinka represents and belongs to which country?

स्टैन वावरिका किस देश के लिए खेलते हैं?

Options:

- 1) Russia
रूस
- 2) Switzerland
स्विट्जरलैंड
- 3) United States of America
संयुक्त राज्य अमेरिका
- 4) France
फ्रांस

Correct Answer: Switzerland
स्विट्जरलैंड

Candidate Answer: Switzerland
स्विट्जरलैंड

QID : 196 - Which of the following is a evening 'Raag'?

निम्नलिखित में से किस 'राग' को शाम में गया जाता है?

Options:

- 1) Yaman
यमन
- 2) Bhairavi
भैरवी
- 3) Kalabati
कलाबती
- 4) Sarang
सारंग

Correct Answer: Bhairavi
भैरवी

Candidate Answer: Bhairavi
भैरवी

QID : 197 - How much amount is given as a reward under the Dadasaheb Phalke Award?

दादा साहब फाल्के पुरस्कार के तहत सम्मान के रूप में कितनी राशि प्रदान की जाती है?

Options:

- 1) Rs. 2 lakh
2 लाख रु
- 2) Rs. 4 lakh
4 लाख रु
- 3) Rs. 5 lakh
5 लाख रु
- 4) Rs. 10 lakh
10 लाख रु

Correct Answer: Rs. 10 lakh
10 लाख रु

Candidate Answer: Rs. 2 lakh
2 लाख रु

QID : 198 - Who is the author of the famous poem "Kamayani"?

प्रसिद्ध काव्य "कामायनी" के लेखक कौन हैं?

Options:

- 1) Jaishankar Prasad
जयशंकर प्रसाद
- 2) Suryakant Tripathi Nirala
सूर्यकांत त्रिपाठी निराला
- 3) Jaydev
जयदेव
- 4) Jaychandra
जयचंद्र

Correct Answer: Jaishankar Prasad
जयशंकर प्रसाद

Candidate Answer: Suryakant Tripathi Nirala
सूर्यकांत त्रिपाठी निराला

QID : 199 - With Which country India signed agreement to improve grid integration of renewable energy?

अक्षय ऊर्जा के ग्रिड एकीकरण में सुधार के लिए किस देश ने भारत के साथ समझौता किया?

Options:

- 1) France
फ्रांस
- 2) Germany
जर्मनी
- 3) Japan
जापान
- 4) Pakistan
पाकिस्तान

Correct Answer: Germany
जर्मनी

Candidate Answer: Japan
जापान

QID : 200 - India agrees to boost joint infra projects with which of the following countries?

भारत ने निम्नलिखित में से किस देश के साथ संयुक्त बुनियादी परियोजनाओं को बढ़ावा देने के लिए समझौता किया है?

Options:

- 1) Bhutan
भूटान
- 2) China
चीन
- 3) Myanmar
म्यांमार
- 4) Nepal
नेपाल

Correct Answer: Nepal
नेपाल

Candidate Answer: Bhutan
भूटान