

QID : 201 -

In the following question, select the number which can be placed at the sign of question mark (?) from the given alternatives.

निम्नलिखित प्रश्न में दिए गए विकल्पों में से प्रश्न चिह्न (?) के स्थान पर आने वाली संख्या को चुनिए।

1	8	27
1	4	?

Options:

1) 18

2) 9

3) 6

4) 5

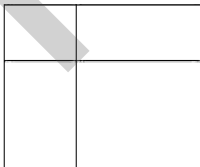
Correct Answer: 9

Candidate Answer: 9

QID : 202 -

How many rectangles are there in the given figure?

दी गई आकृति में कितने आयत हैं?



Options:

1) 9

2) 11

3) 8

4) 6

Correct Answer: 9

Candidate Answer: 9

QID : 203 -

A word is represented by only one set of numbers as given in any one of the alternatives. The sets of numbers given in the alternatives are represented by two classes of alphabets as shown in the given two matrices. The columns and rows of **Matrix-I** are numbered from 0 to 4 and that of **Matrix-II** are numbered from 5 to 9. A letter from these matrices can be represented first by its row and next by its column, for example, 'C' can be represented by 10, 56, etc., and 'H' can be represented by 30, 67, etc. Similarly, you have to identify the set for the word "JUMP".

एक शब्द केवल एक संख्या-समूह द्वारा दर्शाया गया है, जैसा कि विकल्पों में से किसी एक में दिया गया है। विकल्पों में दिए गए संख्या-समूह अक्षरों के दो वर्गों द्वारा दर्शाए गए हैं, जैसा कि दिए गए दो आव्यूहों में है। **आव्यूह-I** के स्तम्भ और पंक्ति की संख्या 0 से 4 है और **आव्यूह-II** की 5 से 9। इन आव्यूहों से एक अक्षर को पहले उसकी पंक्ति और बाद में स्तम्भ संख्या द्वारा दर्शाया जा सकता है। उदाहरण के लिए 'C' को 10, 56, आदि द्वारा दर्शाया जा सकता है तथा 'H' को 30, 67, आदि द्वारा दर्शाया जा सकता है। इसी तरह से आपको प्रश्न में दिए शब्द "JUMP" के लिए समूह को पहचानना है।

Matrix-I
आव्यूह-I

	0	1	2	3	4
0	V	K	D	F	R
1	C	W	O	H	V
2	T	S	Y	J	S
3	H	F	J	C	R
4	D	S	U	N	A

Matrix-II
आव्यूह-II

	5	6	7	8	9
5	W	C	U	G	I
6	K	J	H	Q	S
7	U	E	Y	B	A
8	F	H	P	L	N
9	A	R	M	T	O

Options:

- 1) 32, 75, 11, 41
- 2) 66, 42, 97, 87
- 3) 67, 97, 67, 43
- 4) 32, 44, 59, 87

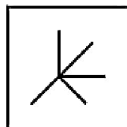
Correct Answer: 66, 42, 97, 87

Candidate Answer: 66, 42, 97, 87

QID : 204 -

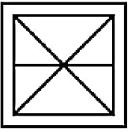
From the given answer figures, select the one in which the question figure is hidden/embedded.

दी गई उत्तर आकृतियों में से उस उत्तर आकृति को चुनिए जिस में प्रश्न आकृति निहित है।

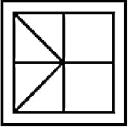


Options:

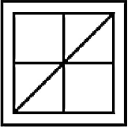
1)




2)




3)




4)



Correct Answer:



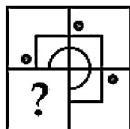
Candidate Answer:



QID : 205 -

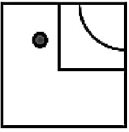
Which answer figure will complete the pattern in the question figure?

कौन सी उत्तर आकृति प्रश्न आकृति के प्रतिरूप को पूरा करेगी?

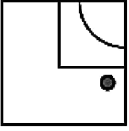


Options:

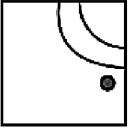
1)



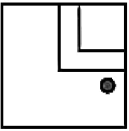
2)



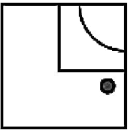
3)



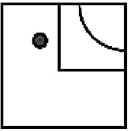
4)



Correct Answer:



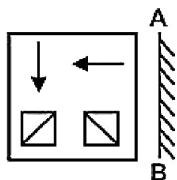
Candidate Answer:



QID : 206 -

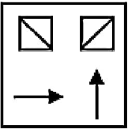
If a mirror is placed on the line AB, then which of the answer figures is the right image of the given figure?

यदि एक दर्पण को AB रेखा पर रखा जाए, तो दी गई उत्तर आकृतियों में से कौन सी आकृति प्रश्न आकृति की सही प्रतिबिम्ब होगी?

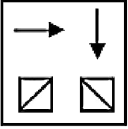


Options:

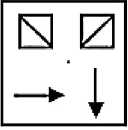
1)



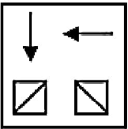
2)



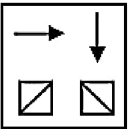
3)



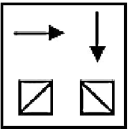
4)



Correct Answer:



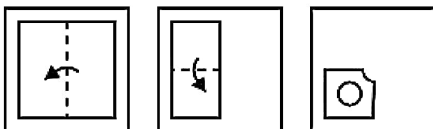
Candidate Answer:



QID : 207 -

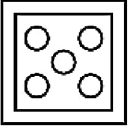
A piece of paper is folded and punched as shown below in the question figures. From the given answer figures, indicate how it will appear when opened?

नीचे के प्रश्न आकृतियों में दिखाए अनुसार कागज को मोड़कर छेदने तथा खोलने के बाद वह किस उत्तर आकृति जैसा दिखाई देगा?

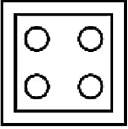


Options:

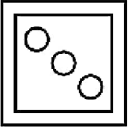
1)



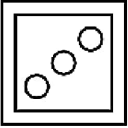
2)



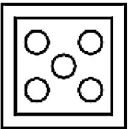
3)



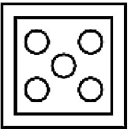
4)



Correct Answer:



Candidate Answer:



QID : 208 - If 'P' means '-', 'Q' means '÷', 'R' means '+' and 'S' means '×', then

56 S 3 Q 14 R 2 P 1 = ?

यदि 'P' का अर्थ '-', 'Q' का अर्थ '÷', 'R' का अर्थ '+' तथा 'S' का अर्थ '×' हो, तो

56 S 3 Q 14 R 2 P 1 = ?

Options:

- 1) 13
- 2) 15
- 3) 19
- 4) 27

Correct Answer: 13

Candidate Answer: 13

QID : 209 - If $6 \times 2 \div 6 = 2$ and $7 \times 1 \div 3 = 5$, then

$11 \times 1 \div 13 = ?$

यदि $6 \times 2 \div 6 = 2$ तथा $7 \times 1 \div 3 = 5$ हो, तो

$11 \times 1 \div 13 = ?$

Options:

- 1) 9
- 2) 0
- 3) 1
- 4) -1

Correct Answer: - 1

Candidate Answer: - 1

QID : 210 - Arrange the given words in the sequence in which they occur in the dictionary.

1. Word
2. Wild
3. Wand
4. Wage
5. Wicked

निम्नलिखित शब्दों को शब्दकोश में आने वाले क्रम के अनुसार लिखें।

1. Word
2. Wild
3. Wand
4. Wage
5. Wicked

Options:

1) 43521

2) 45321

3) 43512

4) 45312

Correct Answer: 43521

Candidate Answer: 43521

QID : 211 - In the following question, select the missing number from the given series.

11, 13, 17, 23, 31, ?

निम्नलिखित प्रश्न में दिए गए विकल्पों में से लुप्त अंक ज्ञात कीजिए।

11, 13, 17, 23, 31, ?

Options:

1) 53

2) 41

3) 47

4) 56

Correct Answer: 41

Candidate Answer: 41

QID : 212 - A series is given with one term missing. Select the correct alternative from the given ones that will complete the series.

AZ, DW, GT, ?

एक अनुक्रम दिया गया है, जिसमें से एक पद लुप्त है। दिए गए विकल्पों में से वह सही विकल्प चुनिए, जो अनुक्रम को पूरा करे।

AZ, DW, GT, ?

Options:

1) JQ

2) JR

3) KQ

4) KR

Correct Answer: JQ

Candidate Answer: JQ

QID : 213 - In the following question, select the odd word from the given alternatives.

निम्नलिखित प्रश्न में दिए गए विकल्पों में से विषम शब्द को चुनिए।

Options:

1) Box

डिब्बा

2) Almirah

अलमारी

3) Beer

बियर

4) Barrel

बैरल

Correct Answer: Beer

बियर

Candidate Answer: Almirah

अलमारी

QID : 214 - In the following question, select the odd number pair from the given alternatives.

निम्नलिखित प्रश्न में दिए गए विकल्पों में से विषम संख्या युग्म को चुनिए।

Options:

- 1) 10-101
- 2) 12 - 145
- 3) 13 - 170
- 4) 5 - 27

Correct Answer: 5 - 27

Candidate Answer: 5 - 27

QID : 215 - In the following question, select the odd letters from the given alternatives.

निम्नलिखित प्रश्न में दिए गए विकल्पों में से विषम अक्षरों को चुनिए।

Options:

- 1) PM
- 2) DA
- 3) RP
- 4) OL

Correct Answer: RP

Candidate Answer: RP

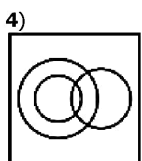
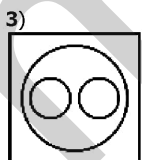
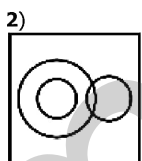
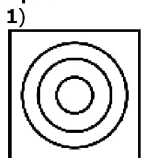
QID : 216 - Identify the diagram that best represents the relationship among the given classes.

Cricket, Cricketer, Batsman

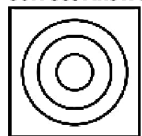
वह आरेख चुनिए जो नीचे दिए गए वर्गों के बीच के संबंध का सही निरूपण करता है।

क्रिकेट, क्रिकेटर, बल्लेबाज

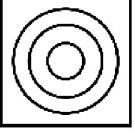
Options:



Correct Answer:



Candidate Answer:



QID : 217 - In the following question, select the related word from the given alternatives.

Candle : Light :: Clouds : ?

निम्नलिखित प्रश्न में दिए गए विकल्पों में से संबंधित शब्द को चुनिए।

मोमबत्ती : रोशनी :: बादल : ?

Options:

1) White

सफेद

2) Rain

वर्षा

3) Black

काला

4) High

ऊँचा

Correct Answer: Rain

वर्षा

Candidate Answer: Rain

वर्षा

QID : 218 - In the following question, select the related number from the given alternatives.

96 : 6 :: 256 : ?

निम्नलिखित प्रश्न में दिए गए विकल्पों में से संबंधित संख्या को चुनिए।

96 : 6 :: 256 : ?

Options:

1) 16

2) 25

3) 66

4) 46

Correct Answer: 16

Candidate Answer: 16

QID : 219 - In the following question, select the related letters from the given alternatives.

OPQ : RST :: ABC : ?

निम्नलिखित प्रश्न में दिए गए विकल्पों में से संबंधित अक्षरों को चुनिए।

OPQ : RST :: ABC : ?

Options:

1) BCA

2) DMN

3) DEF

4) ABD

Correct Answer: DEF

Candidate Answer: DEF

QID : 220 - In the following question, select the word which cannot be formed using the letters of the given word.

CONVICTED

निम्नलिखित विकल्पों में से वह शब्द चुनिए जो दिए गए शब्द के अक्षरों का प्रयोग करके नहीं बनाया जा सकता।

CONVICTED

Options:

- 1) CITE
- 2) NODE
- 3) TONE
- 4) DESK

Correct Answer: DESK

Candidate Answer: DESK

QID : 221 - Weight of B is twice that of C. Weight of C is $1/3$ of D. Weight of D is 4 times of F. Weight of F is $1/3$ of E. The weight of C is greater than the weight of how many persons among B, D, E and F?

B का भार C का दोगुना है। C का भार D का $1/3$ है। D का भार F का 4 गुना है। F का भार E का $1/3$ है। C का भार, B, D, E तथा F में से कितने व्यक्तियों के भार से अधिक है?

Options:

- 1) 3
- 2) 2
- 3) 1
- 4) 0

Correct Answer: 1

Candidate Answer: 0

QID : 222 - P is 5 years older to Q. Q is 6 years younger to R. R is 5 years older to S. S is 4 years younger to T. Who is the eldest?

P, Q से 5 वर्ष बड़ा है। Q, R से 6 वर्ष छोटा है। R, S से 5 वर्ष बड़ा है। S, T से 4 वर्ष छोटा है। सबसे बड़ा कौन है?

Options:

- 1) T
- 2) P
- 3) Q
- 4) R

Correct Answer: R

Candidate Answer: R

QID : 223 - In the following question below are given some statements followed by some conclusions. Taking the given statements to be true even if they seem to be at variance from commonly known facts, read all the conclusions and then decide which of the given conclusion logically follows the given statements.

Statements:

- I. No sheep is blue.
- II. All blue are pink.

Conclusions:

- I. Some pink are blue.
- II. No sheep is pink.

नीचे दिए गए प्रश्न में कुछ कथन और उनके बाद उन कथनों पर आधारित कुछ निष्कर्ष दिए गए हैं, हालांकि उनमें सामान्य ज्ञात तथ्यों से भिन्नता हो सकती है। सभी निष्कर्ष पढ़ें और फिर निर्धारित करें कि दिए गए कौन से निष्कर्ष, दिए गए कथनों के आधार पर युक्तिसंगत हैं।

कथन:

- I. कोई भेड़ नीली नहीं है।
- II. सभी नीला गुलाबी हैं।

निष्कर्ष:

- I. कुछ गुलाबी नीला हैं।
- II. कोई भेड़ गुलाबी नहीं है।

Options:

- 1) Only conclusion (I) follows.
केवल निष्कर्ष (I) सही है।
- 2) Only conclusion (II) follows.
केवल निष्कर्ष (II) सही है।
- 3) Both conclusion follow.
दोनों ही निष्कर्ष सही हैं।
- 4) Neither conclusion (I) nor conclusion (II) follows.
न तो निष्कर्ष (I) न ही निष्कर्ष (II) सही है।

Correct Answer: Only conclusion (I) follows.

केवल निष्कर्ष (I) सही है।

Candidate Answer: Only conclusion (I) follows.

केवल निष्कर्ष (I) सही है।

QID : 224 - In a certain code language, "TRIGGER" is written as "UTLHGU". How is "TRAITS" written in that code language?

एक विशिष्ट कोड भाषा में, "TRIGGER" को "UTLHGU" लिखा जाता है। इस कोड भाषा में "TRAITS" को किस प्रकार लिखा जाएगा?

Options:

- 1) UTDJVV
- 2) VWJTDB
- 3) CDJVVP
- 4) PQAZCW

Correct Answer: UTDJVV

Candidate Answer: UTDJVV

QID : 225 - In a certain code language, "FLUID" is written as "96321" and "CHUNK" is written as "78350". How is "LUNCH" written in that code language?

एक विशिष्ट कोड भाषा में, "FLUID" को "96321" तथा "CHUNK" को "78350" लिखा जाता है। इस कोड भाषा में "LUNCH" को किस प्रकार लिखा जाएगा?

Options:

- 1) 57860
- 2) 63578
- 3) 78650
- 4) 36875

Correct Answer: 63578

Candidate Answer: 63578

QID : 226 - What least number must be added to 11158, so that the sum is divisible by 77 ?

11158 में कम से कम कितनी संख्या जोड़ी जानी चाहिए कि योगफल 77 से पूर्णतः विभाज्य हो जाए?

Options:

- 1) 9
- 2) 8
- 3) 7
- 4) 5

Correct Answer: 7

Candidate Answer: 7

QID : 227 - The divisor is 50 times the quotient and 10 times the remainder. If the quotient is 32, what is the dividend?

एक भाजक, भागफल का 50 गुना और शेष का 10 गुना है। यदि भागफल 32 है, तो भाज्य क्या है?

Options:

- 1) 51000
- 2) 51360
- 3) 61000
- 4) 61520

Correct Answer: 51360

Candidate Answer: 51360

QID : 228 - A number when divided by 192 gives a remainder of 54. What remainder would be obtained on dividing the same number by 16?

किसी संख्या में 192 से भाग देने पर शेष 54 प्राप्त होता है। उसी संख्या में 16 से भाग देने पर कितना शेष प्राप्त होगा?

Options:

- 1) 2
- 2) 4
- 3) 6
- 4) 8

Correct Answer: 6

Candidate Answer: 6

QID : 229 - The smallest 5-digit number divisible by 41 is _____.

41 से विभाज्य 5 अंकों की सबसे छोटी संख्या _____ है।

Options:

- 1) 10054
- 2) 10041
- 3) 10004
- 4) 41000

Correct Answer: 10004

Candidate Answer: 10004

QID : 230 - The sum of the squares of two positive numbers is 100 and difference of their square is 28. What is the sum of the given numbers.

दो धनात्मक संख्याओं के वर्ग का योग 100 है और उनके वर्ग का अंतर 28 है। दी गई दोनों संख्याओं का योग क्या होगा?

Options:

- 1) 12
- 2) 13
- 3) 14
- 4) 15

Correct Answer: 14

Candidate Answer: 14

QID : 231 - The product of two positive numbers is 1152. If one number is two times the other, then what will be the sum of the two numbers?

दो धनात्मक संख्याओं का गुणनफल 1152 है। यदि एक संख्या दूसरे से दो गुना है, तो दोनों संख्याओं का योग कितना होगा?

Options:

- 1) 68
- 2) 72
- 3) 76
- 4) 80

Correct Answer: 72

Candidate Answer: 72

QID : 232 - Ram and Shyam together can finish a job in 8 days. Ram can finish the same job on his own in 12 days. How long will Shyam alone take to finish that work?

राम और श्याम किसी काम को एकसाथ मिलकर 8 दिनों में पूरा कर सकते हैं। राम अकेले उस काम को 12 दिनों में पूरा कर सकता है। श्याम अकेले उस काम को कितने समय में पूरा कर लेगा?

Options:

- 1) 16 days
16 दिन
- 2) 20 days
20 दिन
- 3) 24 days
24 दिन
- 4) 30 days
30 दिन

Correct Answer: 24 days

24 दिन

Candidate Answer: 24 days

24 दिन

QID : 233 - Two persons can complete a piece of work in 9 days. How many more persons are needed to complete double the work in 12 days?

दो व्यक्ति किसी काम को 9 दिनों में पूरा कर सकते हैं। 12 दिनों में दोगुना काम को पूरा करने के लिए कितने अधिक व्यक्तियों की आवश्यकता होगी?

Options:

- 1) 3
- 2) 2
- 3) 4
- 4) 1

Correct Answer: 3

Candidate Answer: 1

QID : 234 - If each edge of a cube is increased by 50%, so what will be percentage increase in its surface area?

यदि किसी घन के प्रत्येक किनारे को 50% प्रतिशत बढ़ा दिया जाता है, तो इसकी सतह के क्षेत्रफल में कितने प्रतिशत की वृद्धि होगी?

Options:

- 1) 75%
- 2) 100%
- 3) 125%
- 4) 150%

Correct Answer: 125%

Candidate Answer: 125%

QID : 235 - A trader marks price of his goods 45% above the cost price and gives a discount of 20% on the marked price. What percentage of profit will the trader have?

एक व्यापारी अपने सामान पर मूल्य, क्रय त का लाभ होगा?

Options:

- 1) 15%
- 2) 14%
- 3) 29%
- 4) 16%

Correct Answer: 16%**Candidate Answer:** 16%

QID : 236 - Ravi buys an article with a discount of 25% on its marked price. He makes a profit of 10% by selling it at Rs 660. What was the marked price of the article?

रवि एक वस्तु खरीदता है जिस पर अंकित मूल्य से 25% की छूट दी जाती है। वह उसे 660 रु में बेचकर 10% लाभ प्राप्त करता है। उस वस्तु का अंकित मूल्य कितना था?

Options:

- 1) Rs. 600
600 रु
- 2) Rs. 700
700 रु
- 3) Rs. 800
800 रु
- 4) Rs. 685
685 रु

Correct Answer: Rs. 800

800 रु

Candidate Answer: Rs. 800

800 रु

QID : 237 - The ages of Surabhi and Neerja are in the ratio 6 : 7, respectively. After 6 years, the ratio of their ages will be 15 : 17. What is Neerja's age?

सुरभि और नीरजा की आयु क्रमशः 6 : 7 के अनुपात में है। 6 वर्ष बाद, उनकी आयु का अनुपात 15 : 17 होगा। नीरजा की उम्र कितनी है?

Options:

- 1) 24 years
24 साल
- 2) 32 years
32 साल
- 3) 26 years
26 साल
- 4) 28 years
28 साल

Correct Answer: 28 years

28 साल

Candidate Answer: 28 years

28 साल

QID : 238 - Annual incomes of Amit and Veer are in the ratio 3 : 2, while the ratio of their expenditure is 5 : 3. If at the end of the year each saves Rs 1000, then what is the annual income of Amit?

अमित और वीर की वार्षिक आय 3 : 2 के अनुपात में है, जबकि उनके खर्च का अनुपात 5 : 3 है। यदि उनमें से प्रत्येक साल के अंत में 1000 रु बचत करता है, तो अमित की वार्षिक आय कितनी है?

Options:

- 1) Rs. 9000
9000 रु
- 2) Rs. 8000
8000 रु
- 3) Rs. 7000
7000 रु
- 4) Rs. 6000
6000 रु

Correct Answer: Rs. 6000

6000 रु

Candidate Answer: Rs. 6000

6000 रु

QID : 239 - What is the average of first 50 natural numbers?

प्रथम 50 प्राकृत संख्याओं का औसत कितना है?

Options:

- 1) 12.25
- 2) 21.25
- 3) 25
- 4) 25.5

Correct Answer: 25.5**Candidate Answer:** 25.5

QID : 240 - A shopkeeper marks price of his goods in such a way that after allowing a discount of 10%, he gains 26 %. How much percent above the cost price is the marked price?

एक दूकानदार अपने सामान का मूल्य इस प्रकार से अंकित करता है कि 10% छूट देने के बाद, वह 26% लाभ पाता है। अंकित मूल्य, क्रय मूल्य से कितने प्रतिशत अधिक है?

Options:

- 1) 36%
- 2) 38%
- 3) 40%
- 4) 28%

Correct Answer: 40%

Candidate Answer: 40%

QID : 241 - On selling an article for Rs 264 a man loses 4%. In order to gain 12%, for how much he must sell the article?

264 रु का एक सामान बेचने पर एक आदमी को 4% की हानि होती है। 12% लाभ पाने के लिए उसे उस वस्तु को कितने में बेचना चाहिए?

Options:

- 1) Rs. 283.85
283.85 रु
- 2) Rs. 308
308 रु
- 3) Rs. 285
285 रु
- 4) Rs. 298.50
298.50 रु

Correct Answer: Rs. 308

308 रु

Candidate Answer: Rs. 308

308 रु

QID : 242 - If A's income is 40% less than that of B, how much percent B's income is more than that of A?

यदि A की आय B की आय से 40% कम है, तो B की आय A से कितने प्रतिशत अधिक है?

Options:

- 1) 40%
- 2) 60%
- 3) 66.66%
- 4) 33.33%

Correct Answer: 66.66%

Candidate Answer: 66.66%

QID : 243 - A man's working hours per day were increased by 20% and his wages per hour were increased by 15 %. By how much percent were his daily earnings increased ?

एक आदमी के प्रति दिन काम के घंटे को 20% बढ़ाया गया और उसकी मजदूरी प्रति घंटे 15% तक बढ़ाई गई। उसकी दैनिक आमदनी में कितने प्रतिशत की वृद्धि हुई?

Options:

- 1) 38%
- 2) 35%
- 3) 5%
- 4) 40%

Correct Answer: 38%

Candidate Answer: 38%

QID : 244 - A car covers a distance of 480 km at a uniform speed. If the speed of the car is 10 km/hour more, then it takes 2 hours less to cover the same distance. What was the original speed of the car?

एक कार एक समान गति से 480 किमी की दूरी तय करती है। यदि कार की गति 10 किमी/घंटा अधिक होती, तो उतनी ही दूरी को तय करने में 2 घंटे का समय कम लगता। कार की वास्तविक गति क्या थी?

Options:

- 1) 45 km/hr
45 किमी/घंटा
- 2) 50 km/hr
50 किमी/घंटा
- 3) 60 km/hr
60 किमी/घंटा
- 4) 70 km/hr
70 किमी/घंटा

Correct Answer: 60 km/hr

60 किमी/घंटा

Candidate Answer: 60 km/hr

60 किमी/घंटा

QID : 245 - A man riding his bicycle covers 150 meters in 25 seconds. What is his speed in km/hr?

एक आदमी अपने साईकिल से 150 मी. की दूरी 25 सेकंड में तय करता है। उसकी गति कि.मी. प्रति घंटा में क्या है?

Options:

- 1) 25
- 2) 21.6
- 3) 23
- 4) 20

Correct Answer: 21.6

Candidate Answer: 21.6

QID : 246 - At a simple rate of interest, an amount of Rs 2100 becomes Rs 2352 in 2 years. If the interest rate is decreased by 1% then what is the new interest in 2 years?

एक साधारण ब्याज दर से 2100 रु की राशि 2 साल में 2352 रु हो जाती है। यदि ब्याज दर में 1% की कमी की जाती है, तो 2 साल में नया ब्याज कितना होगा?

Options:

- 1) Rs. 210
210 रु
- 2) Rs. 220
220 रु
- 3) Rs. 242
242 रु
- 4) Rs. 252
252 रु

Correct Answer: Rs. 210

210 रु

Candidate Answer: Rs. 210

210 रु

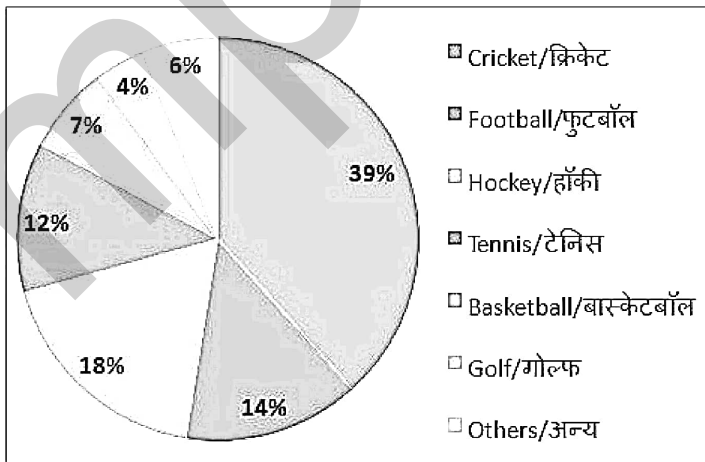
QID : 247 -

The pie-chart below shows percentage of money spent on different sports in a state in a particular year. The total amount spent on all sports is Rs 150 Crore.

Answer the following question on the basis of data given in the chart below.

नीचे दिए गए पाई चार्ट में किसी वर्ष विशेष में किसी राज्य में विभिन्न खेलों पर हुए खर्च का विवरण दिया गया है। सभी खेलों पर कुल 150 करोड़ रुपये खर्च किए गए।

निम्नलिखित प्रश्न का उत्तर पाई चार्ट में दर्शाए गए आंकड़ों के आधार पर दें।



What is amount of money spent on Cricket and Hockey together?

क्रिकेट और हॉकी को मिलाकर खर्च की गई राशि कितनी है?

Options:

- 1) Rs 57 crore
57 करोड़ रु
- 2) Rs 82.5 crore
82.5 करोड़ रु
- 3) Rs 85.5 crore
85.5 करोड़ रु
- 4) Rs 84.5 crore
84.5 करोड़ रु

Correct Answer: Rs 85.5 crore
85.5 करोड़ रु

Candidate Answer: Rs 85.5 crore
85.5 करोड़ रु

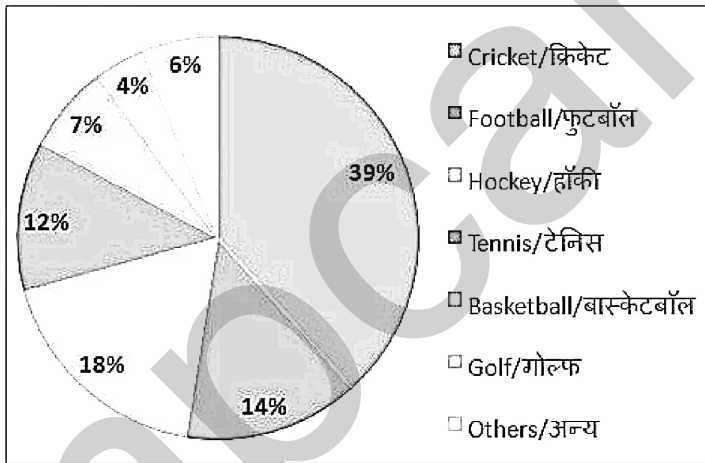
QID : 248 -

The pie-chart below shows percentage of money spent on different sports in a state in a particular year. The total amount spent on all sports is Rs 150 Crore.

Answer the following question on the basis of data given in the chart below.

नीचे दिए गए पाई चार्ट में किसी वर्ष विशेष में किसी राज्य में विभिन्न खेलों पर हुए खर्च का विवरण दिया गया है। सभी खेलों पर कुल 150 करोड़ रुपये खर्च किए गए।

निम्नलिखित प्रश्न का उत्तर पाई चार्ट में दर्शाए गए आंकड़ों के आधार पर दें।



The total spent on Football and Golf together is equal to spent of which single sport?

फुटबॉल और गोल्फ को मिलाकर हुआ खर्च किस एक खेल पर हुए खर्च के बराबर है?

Options:

- 1) Tennis
टेनिस
- 2) Hockey
हॉकी
- 3) Cricket
क्रिकेट
- 4) None of these
कोई विकल्प सही नहीं है

Correct Answer: Hockey
हॉकी

Candidate Answer: Hockey
हॉकी

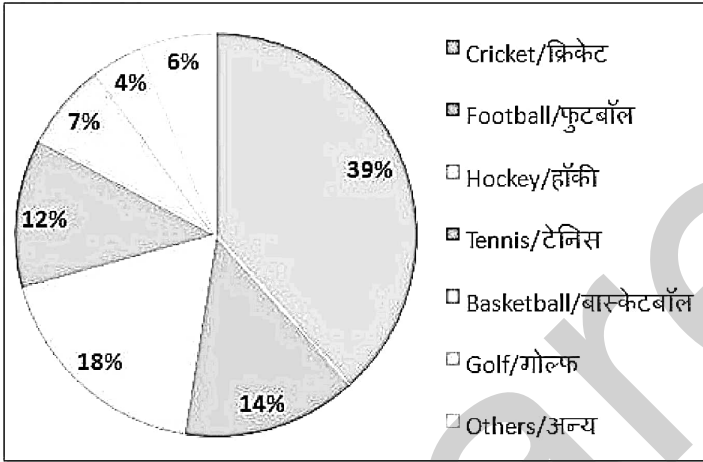
QID : 249 -

The pie-chart below shows percentage of money spent on different sports in a state in a particular year. The total amount spent on all sports is Rs 150 Crore.

Answer the following question on the basis of data given in the chart below.

नीचे दिए गए पाई चार्ट में किसी वर्ष विशेष में किसी राज्य में विभिन्न खेलों पर हुए खर्च का विवरण दिया गया है। सभी खेलों पर कुल 150 करोड़ रुपये खर्च किए गए।

निम्नलिखित प्रश्न का उत्तर पाई चार्ट में दर्शाए गए आंकड़ों के आधार पर दें।



How much more amount is spent on Hockey than Football?

फुटबॉल की तुलना में हॉकी पर कितना अधिक खर्च किया जाता है?

Options:

- 1) Rs 6 crore
6 करोड़ रु
- 2) Rs 7.5 crore
7.5 करोड़ रु
- 3) Rs 4.5 crore
4.5 करोड़ रु
- 4) Rs 6.5 crore
6.5 करोड़ रु

Correct Answer: Rs 6 crore
6 करोड़ रु

Candidate Answer: Rs 6 crore
6 करोड़ रु

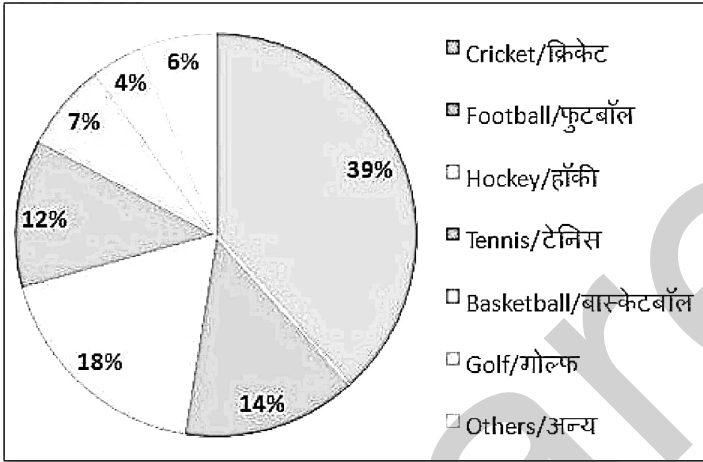
QID : 250 -

The pie-chart below shows percentage of money spent on different sports in a state in a particular year. The total amount spent on all sports is Rs 150 Crore.

Answer the following question on the basis of data given in the chart below.

नीचे दिए गए पाई चार्ट में किसी वर्ष विशेष में किसी राज्य में विभिन्न खेलों पर हुए खर्च का विवरण दिया गया है। सभी खेलों पर कुल 150 करोड़ रुपये खर्च किए गए।

निम्नलिखित प्रश्न का उत्तर पाई चार्ट में दर्शाए गए आंकड़ों के आधार पर दें।



How much more amount is spent on Cricket than the money spent on Hockey and Football together?

हॉकी और फुटबॉल पर मिलाकर हुए खर्च की तुलना में क्रिकेट पर कितना अधिक खर्च किया जाता है?

Options:

- 1) Rs 9 crore
9 करोड़ रु
- 2) Rs 11.5 crore
11.5 करोड़ रु
- 3) Rs 9.5 crore
9.5 करोड़ रु
- 4) Rs 10.5 crore
10.5 करोड़ रु

Correct Answer: Rs 10.5 crore
10.5 करोड़ रु

Candidate Answer: Rs 10.5 crore
10.5 करोड़ रु

QID : 251 - In the following question, some part of the sentence may have errors. Find out which part of the sentence has an error and select the appropriate option. If a sentence is free from error, select 'No Error'.

From Germany to Venezuela to South Africa, equity markets (1)/ in both mature and emerging markets has (2)/ moved up sharply this year and show little sign of slowing. (3)/ No error (4)

Options:

- 1) 1
- 2) 2
- 3) 3
- 4) 4

Correct Answer: 2

Candidate Answer: 3

QID : 252 - In the following question, some part of the sentence may have errors. Find out which part of the sentence has an error and select the appropriate option. If a sentence is free from error, select 'No Error'.

It started out lending small sums to poor **(1)**/ entrepreneurs in the country to help them **(2)**/ grow from a subsistence living to a livelihoods. **(3)**/ No error **(4)**

Options:

- 1) 1
- 2) 2
- 3) 3
- 4) 4

Correct Answer: 3

Candidate Answer: 3

QID : 253 - In the following question, the sentence given with blank to be filled in with an appropriate word. Select the correct alternative out of the four and indicate it by selecting the appropriate option.

The building is being _____ by the labourers.

Options:

- 1) make
- 2) made
- 3) making
- 4) makes

Correct Answer: made

Candidate Answer: made

QID : 254 - In the following question, the sentence given with blank to be filled in with an appropriate word. Select the correct alternative out of the four and indicate it by selecting the appropriate option.

The homework will be finished by him _____ an hour.

Options:

- 1) in
- 2) for
- 3) of
- 4) off

Correct Answer: in

Candidate Answer: for

QID : 255 - In the following question, out of the given four alternatives, select the one which best expresses the meaning of the given word.

Hurdle

Options:

- 1) Opening
- 2) Advantage
- 3) Obstruction
- 4) Accelerator

Correct Answer: Obstruction

Candidate Answer: Obstruction

QID : 256 - In the following question, out of the given four alternatives, select the one which best expresses the meaning of the given word.

Parity

Options:

- 1) Closeness
- 2) Inequality
- 3) Disproportion
- 4) Difference

Correct Answer: Closeness

Candidate Answer: Disproportion

QID : 257 - In the following question, out of the given four alternatives, select the one which best expresses the meaning of the given word.

Frail



Options:

- 1) Firm
- 2) Fragile
- 3) Strong
- 4) Heavy

Correct Answer: Fragile

Candidate Answer: [NOT ANSWERED]

QID : 258 - In the following question, out of the given four alternatives, select the one which is opposite in meaning of the given word.

Awake

Options:

- 1) Alive
- 2) Excited
- 3) Roused
- 4) Asleep

Correct Answer: Asleep

Candidate Answer: Asleep

QID : 259 - In the following question, out of the given four alternatives, select the one which is opposite in meaning of the given word.

Expand

Options:

- 1) Shrink
- 2) Amplify
- 3) Bloat
- 4) Detail

Correct Answer: Shrink

Candidate Answer: Shrink

QID : 260 - In the following question, out of the given four alternatives, select the one which is opposite in meaning of the given word.

Curse

Options:

- 1) Boon
- 2) Bane
- 3) Hateful
- 4) Ban

Correct Answer: Boon

Candidate Answer: Boon

QID : 261 - In the following question, out of the four given alternatives, select the alternative which best expresses the meaning of the Idiom/Phrase.

Cat nap

Options:

- 1) To have a short light sleep
- 2) To have disturbed sleep
- 3) Crying while sleeping
- 4) Murmuring while sleeping

Correct Answer: To have a short light sleep

Candidate Answer: To have disturbed sleep

QID : 262 - In the following question, out of the four given alternatives, select the alternative which best expresses the meaning of the Idiom/Phrase.

Couch potato



Options:

- 1) A fat person
- 2) Lover of potato vegetable
- 3) A lazy person
- 4) Person having short height

Correct Answer: A lazy person

Candidate Answer: A lazy person

QID : 263 - Improve the bracketed part of the sentence.

This standardized platform will allow us to tailor a custom curriculum that will be **(match)** to talents, interests and life goals.

Options:

- 1) matches
- 2) matched
- 3) matchs
- 4) No improvement

Correct Answer: matched

Candidate Answer: matched

QID : 264 - Improve the bracketed part of the sentence.

Parents **(shall)** make strong efforts to curtail the extreme fad for fashion from their children's minds.

Options:

- 1) should
- 2) are
- 3) were
- 4) No improvement

Correct Answer: should

Candidate Answer: should

QID : 265 - In the following question, out of the four given alternatives, select the alternative which is the best substitute of the phrase.

Do away with.

Options:

- 1) Replenish
- 2) Refurbish
- 3) Abolish
- 4) Relinquish

Correct Answer: Abolish

Candidate Answer: Abolish

QID : 266 - In the following question, out of the four given alternatives, select the alternative which is the best substitute of the phrase.

Song sung at burial.

Options:

- 1) Hymn
- 2) Dirge
- 3) Lyric
- 4) Ode

Correct Answer: Dirge

Candidate Answer: Dirge

QID : 267 - In the following question, a word has been written in four different ways out of which only one is correctly spelt. Select the correctly spelt word.



Options:
1) Succeed

2) Suceed

3) Succeed

4) Succed

Correct Answer: Succeed

Candidate Answer: Succeed

QID : 268 - In the following question, a word has been written in four different ways out of which only one is correctly spelt. Select the correctly spelt word.

Options:

1) Biscut

2) Biscuite

3) Biscuit

4) Bescucit

Correct Answer: Biscuit

Candidate Answer: Biscuite

QID : 269 - Rearrange the parts of the sentence in correct order.

When I

P: I was at the

Q: joined the company

R: bottom of the hierarchy

Options:

1) QPR

2) RPQ

3) PRQ

4) PQR

Correct Answer: QPR

Candidate Answer: QPR

QID : 270 - Rearrange the parts of the sentence in correct order.

Domestic

P: violence is

Q: inhuman act

R: a very

Options:

1) RPQ

2) PRQ

3) QRP

4) RQP

Correct Answer: PRQ

Candidate Answer: PRQ

QID : 271 - In the following passage some of the words have been left out. Read the passage carefully and select the correct answer for the given blank out of the four alternatives.

The Internet is a vast network of networks using which we can _____ any information stored within it from any corner of the world. It is accessed _____ through a telecommunications line and modulator-demodulator and comes to the computer by modifying analogue telephone signals into the digital computer signals. The invention of the _____ has brought uncounted advantages to us however we cannot turn our face from its _____. Internet is used all over the world for many purposes including sending electronic mail, messaging, online chat, transferring file, access web pages and other documents over World Wide _____.

we can _____ any information

Options:

1) access

2) excess

3) recess

4) assess

Correct Answer: access

Candidate Answer: access

QID : 272 - In the following passage some of the words have been left out. Read the passage carefully and select the correct answer for the given blank out of the four alternatives.

The Internet is a vast network of networks using which we can _____ any information stored within it from any corner of the world. It is accessed _____ through a telecommunications line and modulator-demodulator and comes to the computer by modifying analogue telephone signals into the digital computer signals. The invention of the _____ has brought uncounted advantages to us however we cannot turn our face from its _____. Internet is used all over the world for many purposes including sending electronic mail, messaging, online chat, transferring file, access web pages and other documents over World Wide _____.

It is accessed _____ through

Options:

1) somewhere

2) anywhere

3) nowhere

4) elsewhere

Correct Answer: anywhere

Candidate Answer: anywhere

QID : 273 - In the following passage some of the words have been left out. Read the passage carefully and select the correct answer for the given blank out of the four alternatives.

The Internet is a vast network of networks using which we can _____ any information stored within it from any corner of the world. It is accessed _____ through a telecommunications line and modulator-demodulator and comes to the computer by modifying analogue telephone signals into the digital computer signals. The invention of the _____ has brought uncounted advantages to us however we cannot turn our face from its _____. Internet is used all over the world for many purposes including sending electronic mail, messaging, online chat, transferring file, access web pages and other documents over World Wide _____.

invention of the _____ has brought

Options:

1) extranet

2) ethernet

3) internet

4) intranet

Correct Answer: internet

Candidate Answer: internet

QID : 274 - In the following passage some of the words have been left out. Read the passage carefully and select the correct answer for the given blank out of the four alternatives.

The Internet is a vast network of networks using which we can _____ any information stored within it from any corner of the world. It is accessed _____ through a telecommunications line and modulator-demodulator and comes to the computer by modifying analogue telephone signals into the digital computer signals. The invention of the _____ has brought uncounted advantages to us however we cannot turn our face from its _____. Internet is used all over the world for many purposes including sending electronic mail, messaging, online chat, transferring file, access web pages and other documents over World Wide _____.

our face from its _____

Options:

1) advantages

2) results

3) uses

4) disadvantages

Correct Answer: disadvantages

Candidate Answer: advantages

QID : 275 - In the following passage some of the words have been left out. Read the passage carefully and select the correct answer for the given blank out of the four alternatives.

The Internet is a vast network of networks using which we can _____ any information stored within it from any corner of the world. It is accessed _____ through a telecommunications line and modulator-demodulator and comes to the computer by modifying analogue telephone signals into the digital computer signals. The invention of the _____ has brought uncounted advantages to us however we cannot turn our face from its _____. Internet is used all over the world for many purposes including sending electronic mail, messaging, online chat, transferring file, access web pages and other documents over World Wide _____.

documents over World Wide _____.



Options:

- 1) Cob
- 2) Net
- 3) Set
- 4) Web

Correct Answer: Web

Candidate Answer: Web

QID : 276 - Which of the following state introduced Employment Guarantee Scheme first?

निम्नलिखित में से किस राज्य ने सबसे पहले रोजगार गारंटी योजना की शुरुआत की?

Options:

- 1) Karnataka
कर्नाटक
- 2) Madhya Pradesh
मध्य प्रदेश
- 3) Maharashtra
महाराष्ट्र
- 4) West Bengal
पश्चिम बंगाल

Correct Answer: Maharashtra

महाराष्ट्र

Candidate Answer: West Bengal

पश्चिम बंगाल

QID : 277 - Which of the following is known as soft loan window of the World Bank?

निम्न में से किसे विश्व बैंक के सॉफ्ट लोन विंडो के रूप में जाना जाता है?

Options:

- 1) IDA
आईडीए
- 2) IBRD
आईबीआरडी
- 3) IFC
आईएफसी
- 4) MIGA
एमआईजीए

Correct Answer: IDA

आईडीए

Candidate Answer: IDA

आईडीए

QID : 278 - Who was the first Chief Election Commissioner of India?

भारत के पहले मुख्य चुनाव आयुक्त कौन थे?

Options:

- 1) Nagendra Singh
नगेंद्र सिंह
- 2) Sukumar Sen
सुकुमार सेन
- 3) T N Seshan
टी एन शेषन
- 4) T Swaminathan
टी स्वामीनाथन

Correct Answer: Sukumar Sen

सुकुमार सेन

Candidate Answer: Sukumar Sen

सुकुमार सेन

QID : 279 - What is the minimum age required to be the President of India ?

भारत का राष्ट्रपति होने के लिए न्यूनतम उम्र क्या है?

Options:

- 1) 25 years
25 साल
- 2) 30 years
30 साल
- 3) 18 years
18 वर्ष
- 4) 35 years
35 साल

Correct Answer: 35 years
35 साल

Candidate Answer: 35 years
35 साल

QID : 280 - Who was the father of Tipu Sultan?

टीपू सुल्तान का पिता कौन था?

Options:

- 1) Mir Qasim
मीर कासिम
- 2) Mir Jafar
मीर जाफर
- 3) Haider Ali
हैदर अली
- 4) Shah Alam
शाह आलम

Correct Answer: Haider Ali
हैदर अली

Candidate Answer: Haider Ali
हैदर अली

QID : 281 - In which language were the Buddhist literary works generally written?

बौद्ध साहित्य किस भाषा में लिखी गई थी?

Options:

- 1) Sanskrit
संस्कृत
- 2) Pali
पाली
- 3) Brahmi
ब्राह्मी
- 4) Prakrit
प्राकृत

Correct Answer: Pali
पाली

Candidate Answer: Prakrit
प्राकृत

QID : 282 - Which river is known as the Sorrow of Bihar?

बिहार के शोक के रूप में किस नदी को जाना जाता है?

Options:

- 1) Ganga
गंगा
- 2) Gandak
गंडक
- 3) Kosi
कोसी
- 4) Son
सोन

Correct Answer: Kosi
कोसी

Candidate Answer: Son
सोन

QID : 283 - Which plateau lies between the Aravalli and the Vindhya ranges?

अरावली और विन्ध्य पर्वतमाला के बीच कौन सा पठार है?



Options:

- 1) Malwa
मालवा
- 2) Deccan
डेक्कन
- 3) Chhota Nagpur
छोटा नागपुर
- 4) No option is correct
कोई विकल्प सही नहीं है

Correct Answer: Malwa
मालवा

Candidate Answer: Malwa
मालवा

QID : 284 - Which one of the following is not a true fish?

निम्नलिखित में से कौन सा एक मछली नहीं है?

Options:

- 1) Jellyfish
जेलिफ़िश
- 2) Starfish
स्टारफ़िश
- 3) Cuttlefish
कटलफ़िश
- 4) All options are correct.
सभी विकल्प सही हैं।

Correct Answer: All options are correct.
सभी विकल्प सही हैं।

Candidate Answer: Jellyfish
जेलिफ़िश

QID : 285 - Which of the following diseases is caused by a virus?

निम्न में से कौन सी बीमारी वायरस के कारण होती है?

Options:

- 1) Plague
प्लेग
- 2) Polio
पोलियो
- 3) Tetanus
टिटनेस
- 4) Leprosy
कुष्ठ रोग

Correct Answer: Polio
पोलियो

Candidate Answer: Polio
पोलियो

QID : 286 - Which of the following impart yellow color to urine in humans?

निम्न में से कौन सा मनुष्यों के पेशाब में पीला रंग प्रदान करता है?

Options:

- 1) Lymph
लसीका
- 2) Bile Salts
पित्त लवण
- 3) Urochrome
युरोक्रोम
- 4) Cholesterol
कोलेस्ट्रॉल

Correct Answer: Urochrome
युरोक्रोम

Candidate Answer: Bile Salts
पित्त लवण

QID : 287 - Which of the following is **NOT** one of the fundamental quantities in physics?

इनमें से कौन सा भौतिकी में मौलिक मात्रा **नहीं** है?

Options:

- 1) Length
लंबाई
- 2) Time
समय
- 3) Weight
भार
- 4) Mass
द्रव्यमान

Correct Answer: Weight
भार

Candidate Answer: Weight
भार

QID : 288 - Which type of sound is produced by a bat?

चमगादड़ द्वारा किस प्रकार का ध्वनि उत्पन्न होता है?

Options:

- 1) Subsonic
सबसोनिक
- 2) Ultrasonic
अल्ट्रासोनिक
- 3) Supersonic
सुपरसोनिक
- 4) Infrasonic
इन्फ्रासोनिक

Correct Answer: Ultrasonic
अल्ट्रासोनिक

Candidate Answer: Supersonic
सुपरसोनिक

QID : 289 - Chief component of first generation computer was _____.

पहली पीढ़ी के कंप्यूटर का प्रमुख घटक _____ था।

Options:

- 1) Transistors
ट्रांजिस्टर
- 2) Vacuum Tube
वैक्यूम ट्यूब
- 3) Integrated Circuits
इंटीग्रेटेड सर्किट
- 4) No option is correct
कोई विकल्प सही नहीं है

Correct Answer: Vacuum Tube
वैक्यूम ट्यूब

Candidate Answer: Vacuum Tube
वैक्यूम ट्यूब

QID : 290 - Heating of rubber with Sulphur is known as _____.

सल्फर के साथ रबर को गर्म करना _____ के रूप में जाना जाता है।

Options:

- 1) Galvanisation
गैल्वनीकरण
- 2) Sulphonation
सल्फोनेशन
- 3) Bessemerisation
बेसेमेराइजेशन
- 4) Vulcanisation
वल्कनाइजेशन

Correct Answer: Vulcanisation
वल्कनाइजेशन

Candidate Answer: Vulcanisation
वल्कनाइजेशन

QID : 291 - Corundum and Cryolite are important ores of which of the following metals?

कोरंडम और क्रायोलाइट निम्नलिखित धातुओं में से किसके अयस्क हैं?



Options:

- 1) Silver
चांदी
- 2) Iron
लोहा
- 3) Aluminium
एल्युमीनियम
- 4) Tin
टिन

Correct Answer: Aluminium
एल्युमीनियम

Candidate Answer: Aluminium
एल्युमीनियम

QID : 292 - What is the color of ozone molecule?

ओजोन अणु का रंग क्या होता है?

Options:

- 1) Blue
नीला
- 2) White
सफेद
- 3) Yellow
पीला
- 4) Green
हरा

Correct Answer: Blue
नीला

Candidate Answer: [NOT ANSWERED]

QID : 293 - Govt of India launched four major digital initiatives in to push e-education. Which of the following is part of this initiative?

भारत सरकार ने ई-शिक्षा को बढ़ावा देने के लिए चार प्रमुख डिजिटल पहल की शुरुआत की। निम्नलिखित में से कौन सा इस पहल का हिस्सा है?

Options:

- 1) Swayam
स्वयं
- 2) Swayam Prabha
स्वयं प्रभा
- 3) National Academic Depository
राष्ट्रीय अकादमिक डिपॉजिटरी
- 4) All options are correct
सभी विकल्प सही हैं

Correct Answer: All options are correct
सभी विकल्प सही हैं

Candidate Answer: Swayam Prabha
स्वयं प्रभा

QID : 294 - Who invented the revolver?

रिवॉल्वर का आविष्कार किसने किया?

Options:

- 1) Edward Jenner
एडवर्ड जेनर
- 2) Alexander Fleming
अलेक्जेंडर फ्लेमिंग
- 3) Albert Einstein
अल्बर्ट आइंस्टीन
- 4) Samuel Colt
सैमुअल कोल्ट

Correct Answer: Samuel Colt
सैमुअल कोल्ट

Candidate Answer: Samuel Colt
सैमुअल कोल्ट

QID : 295 - Kidambi Srikanth is famous for what?

किदंबी श्रीकांत किसके लिए प्रसिद्ध हैं?



Options:

- 1) Tennis
टेनिस
- 2) Kabaddi
कबड्डी
- 3) Badminton
बैडमिंटन
- 4) Football
फुटबॉल

Correct Answer: Badminton
बैडमिंटन

Candidate Answer: Badminton
बैडमिंटन

QID : 296 - Thaipusam festival is celebrated by which of the following communities?

थाईपूसम त्योहार निम्नलिखित समुदायों में से कौन मनाता है?

Options:

- 1) Telugu
तेलुगू
- 2) Tamil
तमिल
- 3) Malayalam
मलयालम
- 4) Marathi
मराठी

Correct Answer: Tamil
तमिल

Candidate Answer: [NOT ANSWERED]

QID : 297 - Who among the following got the 'Bharat Ratna' award, before becoming the President of India?

भारत के राष्ट्रपति बनने से पहले, निम्नलिखित में से किसे 'भारत रत्न' पुरस्कार से सम्मानित किया गया था?

Options:

- 1) S Radhakrishnan
एस राधाकृष्णन
- 2) APJ Abul Kalam
एपीजे अब्दुल कलाम
- 3) Dr Zakir Hussain
डॉ जाकिर हुसैन
- 4) All options are correct.
सभी विकल्प सही हैं।

Correct Answer: All options are correct.
सभी विकल्प सही हैं।

Candidate Answer: APJ Abul Kalam
एपीजे अब्दुल कलाम

QID : 298 - Who wrote the book "One Indian Girl"?

"वन इंडियन गर्ल" पुस्तक किसने लिखी?

Options:

- 1) Chetan Bhagat
चेतन भगत
- 2) Javed Akhtar
जावेद अख्तर
- 3) Taslima Nasreen
तस्लीमा नसरीन
- 4) No option is correct
कोई विकल्प सही नहीं है

Correct Answer: Chetan Bhagat
चेतन भगत

Candidate Answer: Taslima Nasreen
तस्लीमा नसरीन

QID : 299 - Qatar announced a programme to allow visa-free entry for how many countries in the year 2017?

वर्ष 2017 में कतर ने कितने देशों के लिए वीजा मुक्त प्रवेश की अनुमति देने के लिए एक कार्यक्रम की घोषणा की?

Options:

- 1) 25
- 2) 48
- 3) 96
- 4) 80

Candidate Answer: 48

QID : 300 - Which of the following countries signed an agreement to connect India by waterways in year 2017?

वर्ष 2017 निम्नलिखित देशों में से कौन सा जलमार्ग से भारत को जोड़ने के लिए एक समझौते पर हस्ताक्षर किया है?

Options:

1) Nepal

नेपाल

2) Pakistan

पाकिस्तान

3) Bangladesh

बांग्लादेश

4) Srilanka

श्रीलंका

Correct Answer: Bangladesh

बांग्लादेश

Candidate Answer: Bangladesh

बांग्लादेश

