

QID : 1 -

In the following question, select the number which can be placed at the sign of question mark (?) from the given alternatives.

निम्नलिखित प्रश्न में दिए गए विकल्पों में से प्रश्न चिह्न (?) के स्थान पर आने वाली संख्या को चुनिए।

6	5	22
2	3	10
6	2	?

Options:

- 1) 18
- 2) 16
- 3) 15
- 4) 13

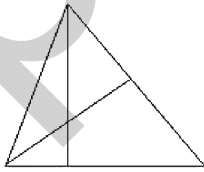
Correct Answer: 16

Candidate Answer: 16

QID : 2 -

How many triangles are there in the given figure?

दी गई आकृति में कितने त्रिभुज हैं?



Options:

- 1) 3
- 2) 4
- 3) 7
- 4) 8

Correct Answer: 8

Candidate Answer: 8

QID : 3 -

A word is represented by only one set of numbers as given in any one of the alternatives. The sets of numbers given in the alternatives are represented by two classes of alphabets as shown in the given two matrices. The columns and rows of **Matrix-I** are numbered from 0 to 4 and that of **Matrix-II** are numbered from 5 to 9. A letter from these matrices can be represented first by its row and next by its column, for example, 'T' can be represented by 24, 97, etc., and 'M' can be represented by 11, 66, etc. Similarly, you have to identify the set for the word "GAIN".

एक शब्द केवल एक संख्या-समूह द्वारा दर्शाया गया है, जैसा कि विकल्पों में से किसी एक में दिया गया है। विकल्पों में दिए गए संख्या-समूह अक्षरों के दो वर्गों द्वारा दर्शाए गए हैं, जैसा कि दिए गए दो आव्यूहों में है। आव्यूह-I के स्तम्भ और पंक्ति की संख्या 0 से 4 है और आव्यूह-II की 5 से 9। इन आव्यूहों से एक अक्षर को पहले उसकी पंक्ति और बाद में स्तम्भ संख्या द्वारा दर्शाया जा सकता है। उदाहरण के लिए 'T' को 24, 97, आदि द्वारा दर्शाया जा सकता है तथा 'M' को 11, 66, आदि द्वारा दर्शाया जा सकता है। इसी तरह से आपको प्रश्न में दिए शब्द "GAIN" के लिए समूह को पहचानना है।

Matrix-I  
आव्यूह-I

	0	1	2	3	4
0	X	K	D	F	X
1	G	M	N	H	V
2	E	O	Y	J	T
3	C	F	I	L	R
4	A	S	U	N	P

Matrix-II  
आव्यूह-II

	5	6	7	8	9
5	Z	C	W	G	I
6	K	M	O	Q	S
7	U	W	Y	B	A
8	F	H	G	L	N
9	A	R	T	V	X

Options:

1) 10, 79, 59, 41

2) 87, 40, 32, 12

3) 56, 79, 32, 43

4) 58, 69, 59, 89


Correct Answer: 87, 40, 32, 12

Candidate Answer: 87, 40, 32, 12

QID : 4 -

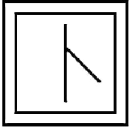
From the given answer figures, select the one in which the question figure is hidden/embedded.

दी गई उत्तर आकृतियों में से उस उत्तर आकृति को चुनिए जिस में प्रश्न आकृति निहित है।

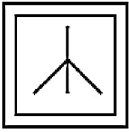


Options:

1)



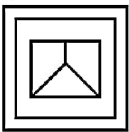
2)



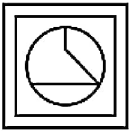
3)



4)



Correct Answer:



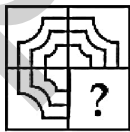
Candidate Answer:



QID : 5 -

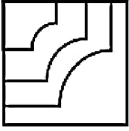
Which answer figure will complete the pattern in the question figure?

कौन सी उत्तर आकृति प्रश्न आकृति के प्रतिरूप को पूरा करेगी?



Options:

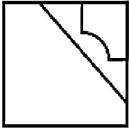
1)



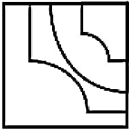
2)



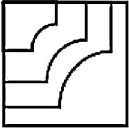
3)



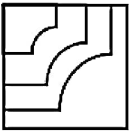
4)



Correct Answer:



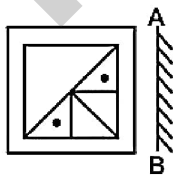
Candidate Answer:



QID : 6 -

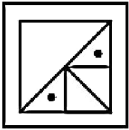
If a mirror is placed on the line AB, then which of the answer figures is the right image of the given figure?

यदि एक दर्पण को AB रेखा पर रखा जाए, तो दी गई उत्तर आकृतियों में से कौन सी आकृति प्रश्न आकृति की सही प्रतिबिम्ब होगी?

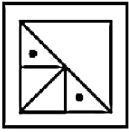


Options:

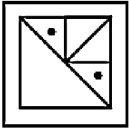
1)



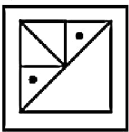
2)



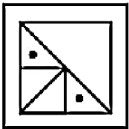
3)



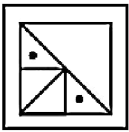
4)



Correct Answer:



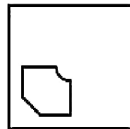
Candidate Answer:



QID : 7 -

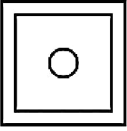
A piece of paper is folded and punched as shown below in the question figures. From the given answer figures, indicate how it will appear when opened?

नीचे के प्रश्न आकृतियों में दिखाए अनुसार कागज को मोड़कर छेदने तथा खोलने के बाद वह किस उत्तर आकृति जैसा दिखाई देगा?

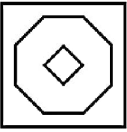


Options:

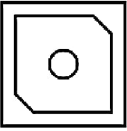
1)



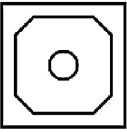
2)



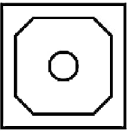
3)



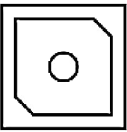
4)



Correct Answer:



Candidate Answer:



QID : 8 - If 'A' means '+', 'B' means '-', 'C' means '÷' and 'D' means 'x', then

$$14 \text{ A } 7 \text{ C } 2 \text{ D } 6 \text{ B } 1 = ?$$

यदि 'A' का अर्थ '+', 'B' का अर्थ '-', 'C' का अर्थ '÷' तथा 'D' का अर्थ 'x' हो, तो

$$14 \text{ A } 7 \text{ C } 2 \text{ D } 6 \text{ B } 1 = ?$$

Options:

- 1) 34
- 2) 74
- 3) 35
- 4) 46

Correct Answer: 34

Candidate Answer: 34

QID : 9 - If  $12 \% 6 \div 3 = 15$  and  $15 \% 3 \div 4 = 14$ , then

$$17 \% 6 \div 2 = ?$$

यदि  $12 \% 6 \div 3 = 15$  तथा  $15 \% 3 \div 4 = 14$  हो, तो

$$17 \% 6 \div 2 = ?$$

Options:

- 1) 23
- 2) 22
- 3) 21
- 4) 25

Correct Answer: 21

Candidate Answer: 21

**QID : 10** - Arrange the given words in the sequence in which they occur in the dictionary.

1. Nest
2. Needle
3. Nested
4. Newly
5. Needy

निम्नलिखित शब्दों को शब्दकोश में आने वाले क्रम के अनुसार लिखें।

1. Nest
2. Needle
3. Nested
4. Newly
5. Needy

**Options:**  
1) 25134

2) 25143

3) 52143

4) 52134

**Correct Answer:** 25134

**Candidate Answer:** 52134

**QID : 11** - In the following question, select the missing number from the given series.

39, 41, 44, 46, 49, ?

निम्नलिखित प्रश्न में दिए गए विकल्पों में से लुप्त अंक ज्ञात कीजिए।

39, 41, 44, 46, 49, ?

**Options:**

1) 52

2) 56

3) 51

4) 61

**Correct Answer:** 51

**Candidate Answer:** 51

**QID : 12** - A series is given with one term missing. Select the correct alternative from the given ones that will complete the series.

ABC, FGH, KLM, ?

एक अनुक्रम दिया गया है, जिसमें से एक पद लुप्त है। दिए गए विकल्पों में से वह सही विकल्प चुनिए, जो अनुक्रम को पूरा करे।

ABC, FGH, KLM, ?

**Options:**

1) PMO

2) NOP

3) PQR

4) OPQ

**Correct Answer:** PQR

**Candidate Answer:** PQR

**QID : 13** - In the following question, select the odd word from the given alternatives.

निम्नलिखित प्रश्न में दिए गए विकल्पों में से विषम शब्द को चुनिए।

**Options:**

1) Cake

केक

2) Cup

कप

3) Plate

प्लेट

4) Spoon

चम्मच

**Correct Answer:** Cake

केक

**Candidate Answer:** Cake

केक

**QID : 14** - In the following question, select the odd number pair from the given alternatives.

निम्नलिखित प्रश्न में दिए गए विकल्पों में से विषम संख्या युग्म को चुनिए।

Options:

1) 11 – 122

2) 9 – 82

3) 5 – 26

4) 10 – 84

Correct Answer: 10 – 84

Candidate Answer: 10 – 84

QID : 15 - In the following question, select the odd letters from the given alternatives.

निम्नलिखित प्रश्न में दिए गए विकल्पों में से विषम अक्षरों को चुनिए।

Options:

1) AZ

2) HS

3) IR

4) CF

Correct Answer: CF

Candidate Answer: AZ

QID : 16 - Identify the diagram that best represents the relationship among the given classes.

House, Bathroom, Kitchen

वह आरेख चुनिए जो नीचे दिए गए वर्गों के बीच के संबंध का सही निरूपण करता है।

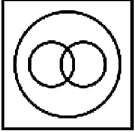
घर, स्नानघर, रसोई

Options:

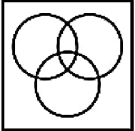
1)



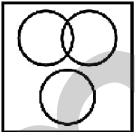
2)



3)



4)



Correct Answer:



Candidate Answer:



QID : 17 - In the following question, select the related word from the given alternatives.

Pen : Stationery :: Chair : ?

निम्नलिखित प्रश्न में दिए गए विकल्पों में से संबंधित शब्द को चुनिए।

कलम : लेखन सामग्री :: कुर्सी : ?



**Options:**

- 1) Garment  
कपड़ा
- 2) Furniture  
फर्नीचर
- 3) Wood  
लकड़ी
- 4) Steel  
इस्पात

**Correct Answer:** Furniture  
फर्नीचर

**Candidate Answer:** Furniture  
फर्नीचर

**QID : 18** - In the following question, select the related number from the given alternatives.

**11 : 123 :: 13 : ?**

निम्नलिखित प्रश्न में दिए गए विकल्पों में से संबंधित संख्या को चुनिए।

**11 : 123 :: 13 : ?**

**Options:**

- 1) 169
- 2) 122
- 3) 171
- 4) 146

**Correct Answer:** 171

**Candidate Answer:** 171

**QID : 19** - In the following question, select the related letters from the given alternatives.

**ANPO : NAOP :: PQRS : ?**

निम्नलिखित प्रश्न में दिए गए विकल्पों में से संबंधित अक्षरों को चुनिए।

**ANPO : NAOP :: PQRS : ?**

**Options:**

- 1) QPRS
- 2) PQRS
- 3) PQSR
- 4) QPSR

**Correct Answer:** QPSR

**Candidate Answer:** QPSR

**QID : 20** - In the following question, select the word which cannot be formed using the letters of the given word.

**OBSCURE**

निम्नलिखित विकल्पों में से वह शब्द चुनिए जो दिए गए शब्द के अक्षरों का प्रयोग करके नहीं बनाया जा सकता।

**OBSCURE**

**Options:**

- 1) BOSE
- 2) CURE
- 3) RUST
- 4) SURE

**Correct Answer:** RUST

**Candidate Answer:** RUST

**QID : 21** - Present age of A is 48 years. 7 years hence ages of A and B will be in ratio 5 : 6. What is the present age (in years) of B?

A की वर्तमान आयु 48 वर्ष है। 7 वर्ष बाद A तथा B की आयु 5 : 6 के अनुपात में होगी। B की वर्तमान आयु (वर्षों में) क्या है?

**Options:**

- 1) 59
- 2) 60
- 3) 62
- 4) 54

**Correct Answer:** 59

**Candidate Answer:** [ NOT ANSWERED ]

**QID : 22** - Weight of P is thrice that of Q. Weight of Q is 1/2 of R. Weight of R is 4 times of S. Weight of S is 1/5 of T. Who is the lightest?

P का भार Q का तिगुना है। Q का भार R का  $\frac{1}{2}$  है। R का भार S का 4 गुना है। S का भार T का  $\frac{1}{5}$  है। सबसे हल्का कौन है?

Options:

1) Q

2) S

3) P

4) R

Correct Answer: S

Candidate Answer: S

**QID : 23** - In the following question below are given some statements followed by some conclusions. Taking the given statements to be true even if they seem to be at variance from commonly known facts, read all the conclusions and then decide which of the given conclusion logically follows the given statements.

Statements:

- I. All cups are plates.  
II. All books are cups.

Conclusions:

- I. All plates are books.  
II. All books are plates.

नीचे दिए गए प्रश्न में कुछ कथन और उनके बाद उन कथनों पर आधारित कुछ निष्कर्ष दिए गए हैं, हालांकि उनमें सामान्य ज्ञात तथ्यों से भिन्नता हो सकती है। सभी निष्कर्ष पढ़ें और फिर निर्धारित करें कि दिए गए कौन से निष्कर्ष, दिए गए कथनों के आधार पर युक्तिसंगत हैं।

कथन:

- I. सभी कप प्लेट हैं।  
II. सभी पुस्तकें कप हैं।

निष्कर्ष:

- I. सभी प्लेट पुस्तकें हैं।  
II. सभी पुस्तकें प्लेट हैं।

Options:

1) Only conclusion (I) follows.

केवल निष्कर्ष (I) सही है।

2) Only conclusion (II) follows.

केवल निष्कर्ष (II) सही है।

3) Both conclusion follow.

दोनों ही निष्कर्ष सही हैं।

4) Neither conclusion (I) nor conclusion (II) follows.

न तो निष्कर्ष (I) न ही निष्कर्ष (II) सही है।

Correct Answer: Only conclusion (II) follows.

केवल निष्कर्ष (II) सही है।

Candidate Answer: Neither conclusion (I) nor conclusion (II) follows.

न तो निष्कर्ष (I) न ही निष्कर्ष (II) सही है।

**QID : 24** - In a certain code language, "TWINKLE" is written as "GDRMPOV". How is "SHINE" written in that code language?

एक विशिष्ट कोड भाषा में, "TWINKLE" को "GDRMPOV" लिखा जाता है। इस कोड भाषा में "SHINE" को किस प्रकार लिखा जाएगा?

Options:

1) HMVRS

2) TIRMH

3) HSRMV

4) HVRTG

Correct Answer: HSRMV

Candidate Answer: HSRMV

**QID : 25** - In a certain code language, "TALKS" is written as "76342" and "PORE" is written as "9510". How is "AROSE" written in that code language?

एक विशिष्ट कोड भाषा में, "TALKS" को "76342" तथा "PORE" को "9510" लिखा जाता है। इस कोड भाषा में "AROSE" को किस प्रकार लिखा जाएगा?

Options:

1) 63521

2) 61520

3) 76590

4) 59142

Correct Answer: 61520

Candidate Answer: 61520

**QID : 26** - If  $A = 2^7 \times 3^5$  and  $B = 3^5 \times 2^3$ , then what is the value of  $A \times B$ ?

यदि  $A = 2^7 \times 3^5$  तथा  $B = 3^5 \times 2^3$  है, तो  $A \times B$  का मान क्या है?

Options:

1)  $2^{10} \times 3^{10}$

2)  $2^{12} \times 3^8$

3)  $6^{12} \times 6^8$

4)  $2^{21} \times 3^{35}$

Correct Answer:  $2^{10} \times 3^{10}$

Candidate Answer:  $2^{10} \times 3^{10}$

QID : 27 - Which of the following is NOT a prime number?

निम्नलिखित में से कौन सी संख्या एक अभाज्य संख्या नहीं है?

Options:

- 1) 61
- 2) 71
- 3) 69
- 4) 67

Correct Answer: 69

Candidate Answer: 69

QID : 28 - Which of the following statement(s) is/are true?

I. 2 is a prime number.

II. 4 is a composite number.

निम्नलिखित में से कौन सा/से कथन सत्य है/हैं?

I. 2 एक अभाज्य संख्या है।

II. 4 एक संयुक्त संख्या है।

Options:

- 1) Only I  
केवल I
- 2) Only II  
केवल II
- 3) Both I and II  
I तथा II दोनों
- 4) Neither I nor II  
न तो I न ही II

Correct Answer: Both I and II

I तथा II दोनों

Candidate Answer: Only I

केवल I

QID : 29 - What is the value of  $(0.2)^2 + (0.02)^2 + (0.002)^2$ ?

$(0.2)^2 + (0.02)^2 + (0.002)^2$  का मान क्या है?

Options:

- 1) 2.404404
- 2) 0.040404
- 3) 0.00404
- 4) 0.00044

Correct Answer: 0.040404

Candidate Answer: 0.040404

QID : 30 -

What is the value of  $\sqrt{231 + \sqrt{81 + \sqrt{256}}}$  ?

$\sqrt{231 + \sqrt{81 + \sqrt{256}}}$  का मान क्या है?

Options:

- 1) 12
- 2) 14
- 3) 15
- 4) 16

Correct Answer: 16

Candidate Answer: 14

QID : 31 - How many positive factors of 132 are there?

132 के धनात्मक गुणनखंड कितने हैं?

Options:

- 1) 10
- 2) 12
- 3) 9
- 4) 11

Correct Answer: 12

Candidate Answer: 9

**QID : 32** - P, Q and R undertook a work for Rs 55000. Together P and Q complete  $(8/11)^{\text{th}}$  part of the work. What is the share (in Rs) of R?

P, Q तथा R ने एक कार्य को 55000 रु में लिया। P तथा Q मिलकर कार्य का  $(8/11)$ -वां भाग पूरा करते हैं। R का हिस्सा (रु में) क्या है?

**Options:**

- 1) 20000
- 2) 22000
- 3) 15000
- 4) 6000

**Correct Answer:** 15000

**Candidate Answer:** 15000

**QID : 33** - Two pipes A and B can fill a tank in 100 minutes and 120 minutes respectively. Pipe C can alone empty the same tank in 200 minutes. If all three pipes are opened together, then in how many minutes will the tank be filled?

दो पाईप A तथा B एक टंकी को क्रमशः 100 मिनट तथा 120 मिनट में भर सकते हैं। पाईप C उसी टंकी को अकेला 200 मिनट में खाली कर सकता है। यदि सभी तीनों पाईपों को एक साथ खोल दिया जाये, तो टंकी कितने मिनट में भर जायेगी?

**Options:**

- 1) 100
- 2) 80
- 3) 75
- 4) 120

**Correct Answer:** 75

**Candidate Answer:** 75

**QID : 34** - What is the area (in  $\text{cm}^2$ ) of the rhombus having side as 5 cm and one of the diagonal as 8 cm?

एक समचतुर्भुज जिसकी भुजा 5 से.मी. है तथा एक विकर्ण 8 से.मी. है, का क्षेत्रफल (से.मी.<sup>2</sup> में) क्या है?

**Options:**

- 1) 25
- 2) 24
- 3) 26
- 4) 23

**Correct Answer:** 24

**Candidate Answer:** 24

**QID : 35** - Aman purchased an article at a discount of 30% and sold it to Param at 40% profit. What is the ratio between the marked price and the price for which Param purchased the article?

अमन किसी एक वस्तु को 30% की छूट पर खरीदता है तथा इसे परम को 40% के लाभ पर बेच देता है। अंकित मूल्य तथा जिस मूल्य पर परम ने वस्तु को खरीदा है, के बीच का अनुपात क्या है?

**Options:**

- 1) 10 : 9
- 2) 15 : 14
- 3) 25 : 24
- 4) 50 : 49

**Correct Answer:** 50 : 49

**Candidate Answer:** 50 : 49

**QID : 36** - An article has marked price of Rs 6500 and is available at a discount of 20%. The shopkeeper gives another discount to the buyer and sells the article for Rs 4160. What is the second discount (in %) offered?

एक वस्तु का अंकित मूल्य 6500 रु है तथा 20% की छूट पर उपलब्ध है। दुकानदार ग्राहक को एक अतिरिक्त छूट देता है तथा वस्तु को 4160 रु में बेच देता है। दूसरी बार दी गई छूट (% में) कितनी है?

**Options:**

- 1) 20
- 2) 10
- 3) 30
- 4) 15

**Correct Answer:** 20

**Candidate Answer:** 20

**QID : 37** - Divide Rs 5100 among M, N and O so that M get  $(8/11)^{\text{th}}$  of N's share and O gets  $(7/6)^{\text{th}}$  of M's share. What is the share (in Rs) of N?

5100 रु को M, N तथा O में इस प्रकार विभाजित करें की M को N के हिस्से का  $(8/11)$ -वां भाग मिले तथा O को M के हिस्से का  $(7/6)$ -वां भाग मिले। N का हिस्सा (रु में) क्या है?

**Options:**

- 1) 1488
- 2) 1980
- 3) 1680
- 4) 2200

**Correct Answer:** 1980

**Candidate Answer:** 1980

**QID : 38** - Three numbers are in the ratio 2 : 4 : 5. If the sum of their squares is 1620, then what are the numbers?

तीन संख्याएँ 2 : 4 : 5 के अनुपात में हैं। यदि उनके वर्गों का योग 1620 है, तो संख्याएँ क्या हैं?

**Options:**

1) 30, 36, 12

2) 12, 24, 30

3) 12, 30, 20

4) 10, 12, 36

**Correct Answer:** 12, 24, 30

**Candidate Answer:** 12, 24, 30

**QID : 39** - The average of 6 consecutive numbers is 12.5. If next 3 numbers are also included, then what will be the new average?

6 क्रमागत संख्याओं का औसत 12.5 है। यदि अगली 3 संख्याओं को भी शामिल कर लिया जाए, तो नया औसत क्या होगा?

**Options:**

1) 13

2) 13.5

3) 14

4) 14.5

**Correct Answer:** 14

**Candidate Answer:** [ NOT ANSWERED ]

**QID : 40** - A man buys a fan for Rs 35 and sells it for Rs 30. What is his loss percent?

एक व्यक्ति एक पंखा 35 रु में खरीदता है तथा उसे 30 रु में बेचता है। उसका हानि प्रतिशत क्या है?

**Options:**

1) 16.67

2) 25

3) 20

4) 14.28

**Correct Answer:** 14.28

**Candidate Answer:** 14.28

**QID : 41** - An article is sold at a loss of 15%. If the selling price is doubled, then what will be the profit percentage?

एक वस्तु को 15% की हानि पर बेचा जाता है। यदि विक्रय मूल्य दोगुना कर दिया जाए, तो लाभ प्रतिशत क्या होगा?

**Options:**

1) 75

2) 50

3) 70

4) 100

**Correct Answer:** 70

**Candidate Answer:** 70

**QID : 42** - Out of the total pens, 10% of pens are black. 10% of remaining pens are blue. 20% of remaining pens are red. The remaining 648 pens are green. How many total pens are there?

कुल कलमों में से 10% कलमों काली हैं। शेष कलमों में से 10% नीली हैं। बचे शेष कलमों में से 20% लाल हैं। बची हुई शेष 648 कलमों हरी हैं। कुल कलमों कितनी हैं?

**Options:**

1) 1000

2) 1500

3) 2000

4) 2500

**Correct Answer:** 1000

**Candidate Answer:** [ NOT ANSWERED ]

**QID : 43** - A number is increased by 18%. To obtain the old number, by how much percentage should it be decreased?

एक संख्या को 18% से बढ़ाया गया। पुरानी संख्या प्राप्त करने के लिए, उसे कितने प्रतिशत से घटाया जाए?

**Options:**

1) 16.88

2) 15.25

3) 17.3

4) 14.28

**Correct Answer:** 15.25

**Candidate Answer:** 15.25

**QID : 44** - Two men are standing on opposite ends of a 1000 metres long bridge. If they walk towards each other with speeds of 20 m/s and 5 m/s respectively, then how much time (in seconds) will they take to meet each other?

दो व्यक्ति 1000 मीटर लम्बे एक पुल के विपरीत किनारों पर खड़े हैं। यदि वे क्रमशः 20 मी./से. तथा 5 मी./से. की गति से एक दूसरे की ओर चलना प्रारंभ करें, तो वे आपस में मिलने में कितना समय (सेकण्डों में) लेंगे?

Options:

- 1) 50
- 2) 30
- 3) 40
- 4) 60

Correct Answer: 40

Candidate Answer: 40

QID : 45 - A man goes to a place at a speed of 80 km/hr and comes back with a different speed. If the average speed is 32 km/hr, then what is the return speed (in km/hr)?

एक व्यक्ति 80 कि.मी./घंटा की गति से किसी एक स्थान पर जाता है तथा एक भिन्न गति से वापस आता है। यदि औसत गति 32 कि.मी./घंटा है, तो वापस आते समय गति (कि.मी./घंटा में) क्या है?

Options:

- 1) 25
- 2) 22
- 3) 20
- 4) 24

Correct Answer: 20

Candidate Answer: 20

QID : 46 - What is the simple interest (in Rs) on a principal of Rs 1800 at the rate of 8% per annum for 3 years?

1800 रु के मूलधन पर 8% की वार्षिक दर से 3 वर्षों का साधारण ब्याज (रु में) क्या है?

Options:

- 1) 420
- 2) 432
- 3) 440
- 4) 380

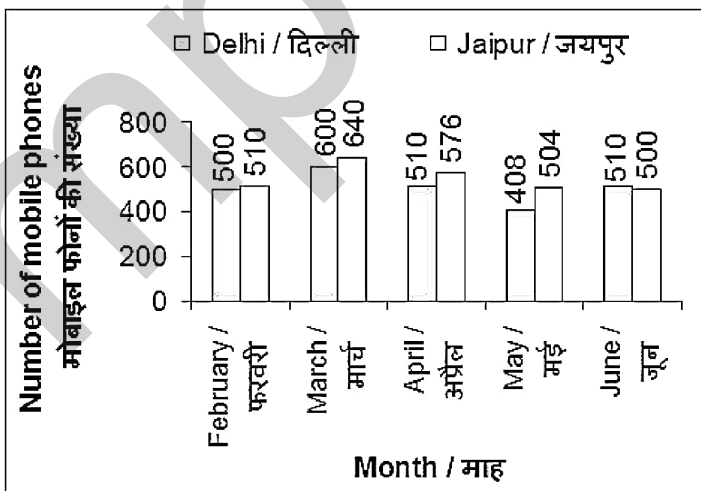
Correct Answer: 432

Candidate Answer: 432

QID : 47 -

The bar chart given below shows the number of mobile phone thefts in 2 cities Delhi and Jaipur from month February 2015 to June 2015.

नीचे दिए गए दण्ड चित्र में माह फरवरी 2015 से जून 2015 तक 2 शहरों दिल्ली तथा जयपुर में चोरी हुए मोबाइल फोनों की संख्या को दर्शाया गया है।



For how many months, was the number of mobile phones thefts in Jaipur higher than that in Delhi?

कितने महीनों में, जयपुर में चोरी हुए मोबाइल फोनों की संख्या दिल्ली से अधिक थी?

Options:

- 1) 5
- 2) 4
- 3) 0
- 4) 3

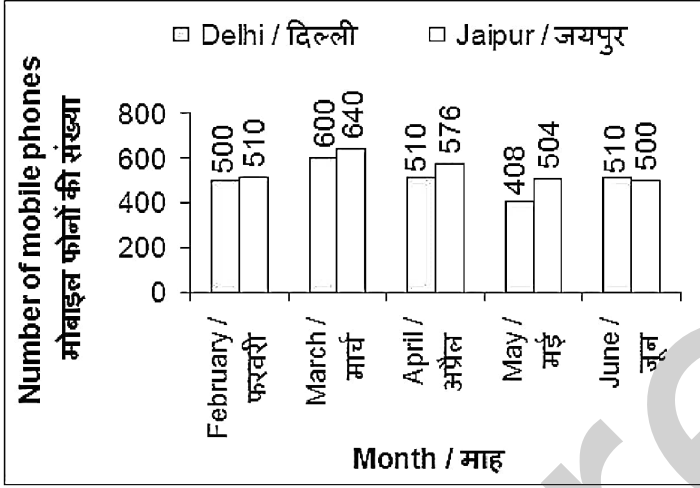
Correct Answer: 4

Candidate Answer: 4

QID : 48 -

The bar chart given below shows the number of mobile phone thefts in 2 cities Delhi and Jaipur from month February 2015 to June 2015.

नीचे दिए गए दण्ड चित्र में माह फरवरी 2015 से जून 2015 तक 2 शहरों दिल्ली तथा जयपुर में चोरी हुए मोबाइल फोनों की संख्या को दर्शाया गया है।



What is the percentage change in the number of mobile phones thefts in Jaipur from February 2015 to April 2015?

फरवरी 2015 से अप्रैल 2015 तक, जयपुर में चोरी हुए मोबाइल फोनों की संख्या में प्रतिशत परिवर्तन क्या है?

Options:

- 1) 66
- 2) 15.15
- 3) 12.94
- 4) 50

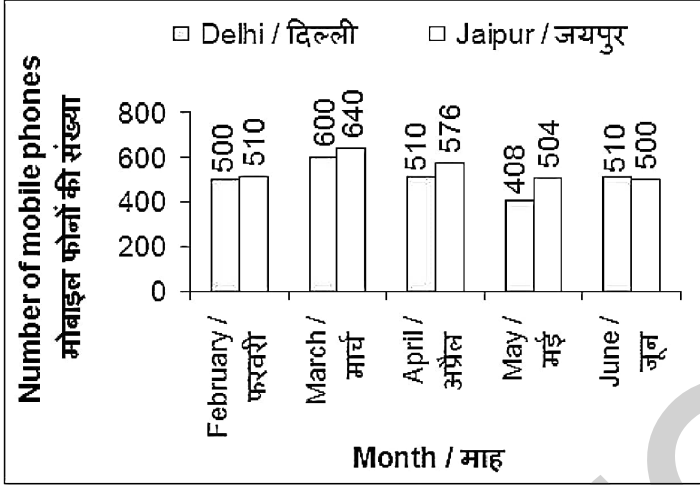
Correct Answer: 12.94

Candidate Answer: [ NOT ANSWERED ]

QID : 49 -

The bar chart given below shows the number of mobile phone thefts in 2 cities Delhi and Jaipur from month February 2015 to June 2015.

नीचे दिए गए दण्ड चित्र में माह फरवरी 2015 से जून 2015 तक 2 शहरों दिल्ली तथा जयपुर में चोरी हुए मोबाइल फोनों की संख्या को दर्शाया गया है।



In Delhi, what was the percentage change in the number of mobile phones theft from April 2015 to May 2015?

दिल्ली में, अप्रैल 2015 से मई 2015 तक चोरी हुए मोबाइल फोनों की संख्या में प्रतिशत परिवर्तन क्या था?

Options:

- 1) 30%
- 2) 28%
- 3) 20%
- 4) 25%

Correct Answer: 20%

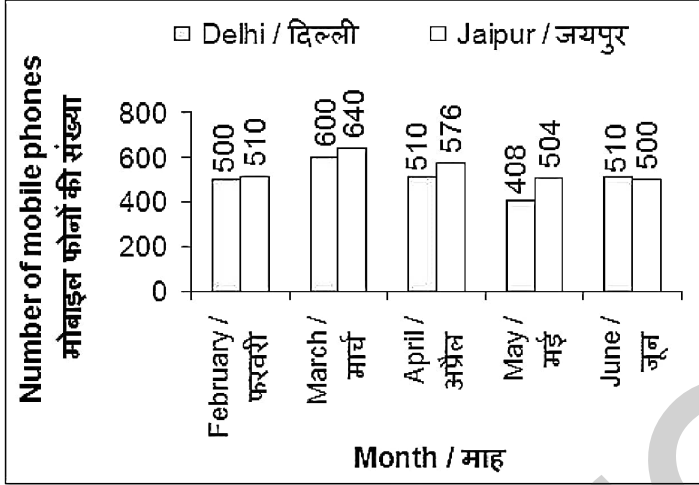
Candidate Answer: [ NOT ANSWERED ]



QID : 50 -

The bar chart given below shows the number of mobile phone thefts in 2 cities Delhi and Jaipur from month February 2015 to June 2015.

नीचे दिए गए दण्ड चित्र में माह फरवरी 2015 से जून 2015 तक 2 शहरों दिल्ली तथा जयपुर में चोरी हुए मोबाइल फोनों की संख्या को दर्शाया गया है।



What was the average number of mobile phones thefts in Jaipur from February 2015 to June 2015?

फरवरी 2015 से जून 2015 तक, जयपुर में चोरी हुए मोबाइल फोनों की औसत संख्या क्या थी?

Options:

- 1) 550
- 2) 576
- 3) 408
- 4) 546

Correct Answer: 546

Candidate Answer: 546

QID : 51 - In the following question, some part of the sentence may have errors. Find out which part of the sentence has an error and select the appropriate option. If a sentence is free from error, select 'No Error'.

Meera has a fetish for oranges (1)/ and takes a dozen to school (2)/ every another day (3)/ No error (4)

Options:

- 1) 1
- 2) 2
- 3) 3
- 4) 4

Correct Answer: 3

Candidate Answer: 2

QID : 52 - In the following question, some part of the sentence may have errors. Find out which part of the sentence has an error and select the appropriate option. If a sentence is free from error, select 'No Error'.

Neither mother (1)/ nor the boys (2)/ was going to the party (3)/ No error (4)

Options:

- 1) 1
- 2) 2
- 3) 3
- 4) 4

Correct Answer: 3

Candidate Answer: 2

QID : 53 - In the following question, the sentence given with blank to be filled in with an appropriate word. Select the correct alternative out of the four and indicate it by selecting the appropriate option.

There are plenty of people suffering with \_\_\_\_\_ disease called asthma.

Options:

- 1) a
- 2) an
- 3) the
- 4) No option is correct.

Correct Answer: the

Candidate Answer: a

**QID : 54** - In the following question, the sentence given with blank to be filled in with an appropriate word. Select the correct alternative out of the four and indicate it by selecting the appropriate option.

I have \_\_\_\_\_ fetish for some specific fragrances.

**Options:**

- 1) a
- 2) an
- 3) the
- 4) No option is correct.

**Correct Answer:** a

**Candidate Answer:** a

**QID : 55** - In the following question, out of the given four alternatives, select the one which best expresses the meaning of the given word.

**Longing**

**Options:**

- 1) Change
- 2) Fortitude
- 3) Fast
- 4) Yearning

**Correct Answer:** Yearning

**Candidate Answer:** Fortitude

**QID : 56** - In the following question, out of the given four alternatives, select the one which best expresses the meaning of the given word.

**Embezzle**

**Options:**

- 1) Remunerate
- 2) Clear
- 3) Balance
- 4) Misappropriate

**Correct Answer:** Misappropriate

**Candidate Answer:** Clear

**QID : 57** - In the following question, out of the given four alternatives, select the one which best expresses the meaning of the given word.

**Exude**

**Options:**

- 1) Ooze
- 2) Overflow
- 3) Wither
- 4) Evaporate

**Correct Answer:** Ooze

**Candidate Answer:** [ NOT ANSWERED ]

**QID : 58** - In the following question, out of the given four alternatives, select the one which is opposite in meaning of the given word.

**Capable**

**Options:**

- 1) Deserving
- 2) Palpable
- 3) Inept
- 4) Incognito

**Correct Answer:** Inept

**Candidate Answer:** [ NOT ANSWERED ]

**QID : 59** - In the following question, out of the given four alternatives, select the one which is opposite in meaning of the given word.

**Brief**

**Options:**

- 1) Efficient
- 2) Evident
- 3) Elaborate
- 4) Educate

**Correct Answer:** Elaborate

**Candidate Answer:** Elaborate

**QID : 60** - In the following question, out of the given four alternatives, select the one which is opposite in meaning of the given word.

**Barren**

**Options:**

- 1) Desert
- 2) Depleted
- 3) Fertile
- 4) Arid

**Correct Answer:** Fertile

**Candidate Answer:** Fertile

**QID : 61** - In the following question, out of the four given alternatives, select the alternative which best expresses the meaning of the Idiom/Phrase.

**Kill two birds with one stone**

**Options:**

- 1) To accomplish two different things at the same time
- 2) To fail at both things
- 3) To achieve nothing in life
- 4) To kill someone with a stone

**Correct Answer:** To accomplish two different things at the same time

**Candidate Answer:** To accomplish two different things at the same time

**QID : 62** - In the following question, out of the four given alternatives, select the alternative which best expresses the meaning of the Idiom/Phrase.

**To come clean**

**Options:**

- 1) Cleaning a place
- 2) No idea about an incident
- 3) To make a honest disclosure
- 4) To deny the crime

**Correct Answer:** To make a honest disclosure

**Candidate Answer:** To make a honest disclosure

**QID : 63** - In the following question, out of the four alternatives, select the alternative which will improve the bracketed part of the sentence. In case no improvement is needed, select "no improvement".

One should (**be preparing**) for the challenges in life.

**Options:**

- 1) be ready
- 2) be prepare
- 3) be prepared
- 4) No improvement

**Correct Answer:** be prepared

**Candidate Answer:** be ready

**QID : 64** - In the following question, out of the four alternatives, select the alternative which will improve the bracketed part of the sentence. In case no improvement is needed, select "no improvement".

**You must to do your assignments, (mustn't) you?**

**Options:**

- 1) shouldn't
- 2) must
- 3) ought
- 4) No improvement

**Correct Answer:** No improvement

**Candidate Answer:** No improvement

**QID : 65** - In the following question, out of the four alternatives, select the alternative which is best substitute of the phrase.

**an elaborate musical composition for full orchestra, typically in four movements, at least one of which is traditionally in sonata form**

**Options:**

- 1) Sound
- 2) Symphony
- 3) Melodious
- 4) Musical

**Correct Answer:** Symphony

**Candidate Answer:** Musical

**QID : 66** - In the following question, out of the four alternatives, select the alternative which is best substitute of the phrase.

**a thing that is not genuine**

**Options:**

- 1) Fake
- 2) Honest
- 3) Interesting
- 4) Intriguing

**Correct Answer:** Fake

**Candidate Answer:** Fake

**QID : 67** - In the following question, a word has been written in four different ways out of which only one is correctly spelt. Select the correctly spelt word.

**Options:**

- 1) Willingness
- 2) Willingness
- 3) Villingness
- 4) Vilingness

**Correct Answer:** Willingness

**Candidate Answer:** Willingness

**QID : 68** - In the following question, a word has been written in four different ways out of which only one is correctly spelt. Select the correctly spelt word.

**Options:**

- 1) Gravity
- 2) Gravity
- 3) Gravitty
- 4) Graveety

**Correct Answer:** Gravity

**Candidate Answer:** Gravity

**QID : 69** - The question below consists of a set of labelled sentences. These sentences, when properly sequenced form a coherent paragraph. Select the most logical order of sentences from among the options.

Tanya's  
P- is the reason behind  
Q- her popularity  
R- great sense of humour

**Options:**

- 1) QRP
- 2) RPQ
- 3) PQR
- 4) QPR

**Correct Answer:** RPQ

**Candidate Answer:** QPR

**QID : 70** - The question below consists of a set of labelled sentences. These sentences, when properly sequenced form a coherent paragraph. Select the most logical order of sentences from among the options.

The brave  
P- soldiers on the border  
Q- from all enemies and threats  
R- save us

**Options:**

- 1) QRP
- 2) RPQ
- 3) PQR
- 4) PRQ

**Correct Answer:** PRQ

**Candidate Answer:** PRQ

**QID : 71** - In the following passage, some of the words have been left out. Read the passage carefully and select the correct answer for the given blank out of the four alternatives.

Think of the Taj Mahal and a gleaming marble monument comes to the \_\_\_\_\_. But if you look closely, you'd \_\_\_\_\_ that the marble is not the gleaming white as it was. The burning of waste from the city of Agra, where the Taj Mahal is \_\_\_\_\_, is leading to the deposit of fine particles of matter on the monument. Over the past many \_\_\_\_\_, the Taj has been losing its shine due to Agra's pollution. The government too has tried various things, such as not \_\_\_\_\_ too many vehicles near the monument and even applying pastes to the marble walls to get the stain off.

**Think of the Taj Mahal and a gleaming marble monument comes to the \_\_\_\_\_.**

**Options:**

- 1) grind
- 2) side
- 3) mind
- 4) need

**Correct Answer:** mind

**Candidate Answer:** [ NOT ANSWERED ]

**QID : 72** - In the following passage, some of the words have been left out. Read the passage carefully and select the correct answer for the given blank out of the four alternatives.

Think of the Taj Mahal and a gleaming marble monument comes to the \_\_\_\_\_. But if you look closely, you'd \_\_\_\_\_ that the marble is not the gleaming white as it was. The burning of waste from the city of Agra, where the Taj Mahal is \_\_\_\_\_, is leading to the deposit of fine particles of matter on the monument. Over the past many \_\_\_\_\_, the Taj has been losing its shine due to Agra's pollution. The government too has tried various things, such as not \_\_\_\_\_ too many vehicles near the monument and even applying pastes to the marble walls to get the stain off.

**But if you look closely, you'd \_\_\_\_\_ that the marble is not the gleaming white as it was**

**Options:**

- 1) note
- 2) jolt
- 3) throat
- 4) gloat

**Correct Answer:** note

**Candidate Answer:** [ NOT ANSWERED ]

**QID : 73** - In the following passage, some of the words have been left out. Read the passage carefully and select the correct answer for the given blank out of the four alternatives.

Think of the Taj Mahal and a gleaming marble monument comes to the \_\_\_\_\_. But if you look closely, you'd \_\_\_\_\_ that the marble is not the gleaming white as it was. The burning of waste from the city of Agra, where the Taj Mahal is \_\_\_\_\_, is leading to the deposit of fine particles of matter on the monument. Over the past many \_\_\_\_\_, the Taj has been losing its shine due to Agra's pollution. The government too has tried various things, such as not \_\_\_\_\_ too many vehicles near the monument and even applying pastes to the marble walls to get the stain off.

**where the Taj Mahal is \_\_\_\_\_, is leading to the deposit of fine particles of matter on the monument.**

**Options:**

- 1) stand
- 2) locate
- 3) located
- 4) locating

**Correct Answer:** located

**Candidate Answer:** [ NOT ANSWERED ]

**QID : 74** - In the following passage, some of the words have been left out. Read the passage carefully and select the correct answer for the given blank out of the four alternatives.

Think of the Taj Mahal and a gleaming marble monument comes to the \_\_\_\_\_. But if you look closely, you'd \_\_\_\_\_ that the marble is not the gleaming white as it was. The burning of waste from the city of Agra, where the Taj Mahal is \_\_\_\_\_, is leading to the deposit of fine particles of matter on the monument. Over the past many \_\_\_\_\_, the Taj has been losing its shine due to Agra's pollution. The government too has tried various things, such as not \_\_\_\_\_ too many vehicles near the monument and even applying pastes to the marble walls to get the stain off.

**Over the past many \_\_\_\_\_, the Taj has been losing its shine due to Agra's pollution.**

**Options:**

- 1) ears
- 2) years
- 3) fears
- 4) cheers

**Correct Answer:** years

**Candidate Answer:** [ NOT ANSWERED ]

**QID : 75** - In the following passage, some of the words have been left out. Read the passage carefully and select the correct answer for the given blank out of the four alternatives.

Think of the Taj Mahal and a gleaming marble monument comes to the \_\_\_\_\_. But if you look closely, you'd \_\_\_\_\_ that the marble is not the gleaming white as it was. The burning of waste from the city of Agra, where the Taj Mahal is \_\_\_\_\_, is leading to the deposit of fine particles of matter on the monument. Over the past many \_\_\_\_\_, the Taj has been losing its shine due to Agra's pollution. The government too has tried various things, such as not \_\_\_\_\_ too many vehicles near the monument and even applying pastes to the marble walls to get the stain off.

**The government too has tried various things, such as not \_\_\_\_\_ too many vehicles near the monument**

**Options:**

- 1) firing
- 2) marrying
- 3) having
- 4) giving

**Correct Answer:** having

**Candidate Answer:** [ NOT ANSWERED ]

**QID : 76** - Which of these crops was NOT known by the people of the Vedic period?

इनमें से किस फसल का ज्ञान वैदिक काल के लोगों को नहीं था ?

**Options:**

- 1) Barley  
जौ
- 2) Wheat  
गेहूँ
- 3) Rice  
चावल
- 4) Tobacco  
तम्बाकू

**Correct Answer:** Tobacco

तम्बाकू

**Candidate Answer:** Tobacco

तम्बाकू

**QID : 77** - Where was the first Jain Mahasabha held?

प्रथम जैन महासभा का उपयोग कहाँ हुआ था ?

**Options:**

1) Pataliputra

पाटलिपुत्र

2) Vallabhi

वल्लभी

3) Abu

आबू

4) Pavapuri

पावापुरी

**Correct Answer:** Pataliputra

पाटलिपुत्र

**Candidate Answer:** Pavapuri

पावापुरी

**QID : 78** - The international date line is called \_\_\_\_\_.

अंतर्राष्ट्रीय तिथि रेखा कहलाता है \_\_\_\_\_।

**Options:**

1) 0<sup>0</sup> latitude

0<sup>0</sup> अक्षांश

2) 0<sup>0</sup> longitude

0<sup>0</sup> देशांतर

3) 66½<sup>0</sup> latitude

66½<sup>0</sup> अक्षांश

4) 180<sup>0</sup> longitude

180<sup>0</sup> देशांतर

**Correct Answer:** 180<sup>0</sup> longitude

180<sup>0</sup> देशांतर

**Candidate Answer:** 180<sup>0</sup> longitude

180<sup>0</sup> देशांतर

**QID : 79** - The landscape formed by the erosion work of river is \_\_\_\_\_.

नदी के अपरदन कार्य से बनी स्थलाकृति \_\_\_\_\_ है।

**Options:**

1) Delta

डेल्टा

2) Flood plain

बाढ़ का मैदान

3) Gorge

गॉर्ज

4) Natural embankment

प्राकृतिक तटबंध

**Correct Answer:** Gorge

गॉर्ज

**Candidate Answer:** Delta

डेल्टा

**QID : 80** - Who was the temporary president of the Constituent Assembly?

संविधान सभा के अस्थायी अध्यक्ष कौन थे ?

**Options:**

1) B.R Ambedkar

बी.आर. अंबेडकर

2) Dr. Rajendra Prasad

डॉ. राजेंद्र प्रसाद

3) Sachidanad Sinha

सच्चिदानंद सिन्हा

4) K.M. Munshi

के.एम.मुंशी

**Correct Answer:** Sachidanad Sinha

सच्चिदानंद सिन्हा

**Candidate Answer:** Sachidanad Sinha

सच्चिदानंद सिन्हा

**QID : 81** - Which special provision of Indian Constitution has been taken from the British Constitution?

कौन का विशेष प्रावधान भारतीय संविधान में ब्रिटिश संविधान से लिया गया है?

**Options:**

1) Parliamentary system

संसदीय प्रणाली

2) Federal system

संघीय प्रणाली

3) Fundamental right

मूल अधिकार

4) Supreme judiciary

सर्वाच्च न्यायपालिका

**Correct Answer:** Parliamentary system

संसदीय प्रणाली

**Candidate Answer:** Parliamentary system

संसदीय प्रणाली

**QID : 82** - Soft Currency refers to \_\_\_\_\_.

सॉफ्ट करेंसी से तात्पर्य है \_\_\_\_\_।

**Options:**

1) The currency whose supply is less than demand

वह मुद्रा जिसकी आपूर्ति माँग की अपेक्षा कम हो

2) The currency whose supply is more than demand

वह मुद्रा जिसकी आपूर्ति माँग की अपेक्षा अधिक हो

3) That currency whose supply and demand are both stable

वह मुद्रा जिसकी आपूर्ति तथा माँग दोनों स्थिर हो

4) No option is correct.

कोई भी विकल्प सही नहीं है

**Correct Answer:** The currency whose supply is more than demand

वह मुद्रा जिसकी आपूर्ति माँग की अपेक्षा अधिक हो

**Candidate Answer:** [ NOT ANSWERED ]

**QID : 83** - When was the Life Insurance Corporation (LIC) established?

भारतीय जीवन बीमा निगम (LIC) की स्थापना कब हुई ?

**Options:**

1) In 1956

1956 में

2) In 1944

1944 में

3) In 1950

1950 में

4) In 1947

1947 में

**Correct Answer:** In 1956

1956 में

**Candidate Answer:** [ NOT ANSWERED ]

**QID : 84** - Which of the following element is **NOT** radioactive?

निम्नलिखित में से कौन एक रेडियोएक्टिव तत्व **नहीं** है?

**Options:**

1) Astatine

एस्टैटिन

2) Francium

फ्रान्सियम

3) Tritium

ट्रिटियम

4) Zirconium

जर्कोनियम

**Correct Answer:** Zirconium

जर्कोनियम

**Candidate Answer:** Astatine

एस्टैटिन

**QID : 85** - The base which is soluble in water called \_\_\_\_\_.

जल में धुलनशील भस्म (Base) को कहते हैं \_\_\_\_\_।

**Options:**

1) Acid

अम्ल

2) Alkali

क्षार

3) Salts

लवण

4) No option is correct.

कोई भी विकल्प सही नहीं है

**Correct Answer:** Alkali

क्षार

**Candidate Answer:** Alkali

क्षार

**QID : 86** - Newton's \_\_\_\_\_ gives definition of force.

बल की परिभाषा आती न्यूटन के \_\_\_\_\_ है।

**Options:**

1) first law of motion

गति के पहले नियम से

2) second law of motion

गति के दूसरे नियम से

3) third law of motion

गति के तीसरे नियम से

4) gravitational Law

गुरुत्वाकर्षण नियम से

**Correct Answer:** first law of motion  
गति के पहले नियम से

**Candidate Answer:** first law of motion  
गति के पहले नियम से

**QID : 87** - Which of the following **doesn't** have kinetic energy?

निम्नलिखित में से किसमें गतिज उर्जा **नहीं** है?

**Options:**

- 1) Fired bullet  
चली हुई गोली
- 2) Running water  
बहता हुआ पानी
- 3) Working hammer  
चलता हुआ हथौड़ा
- 4) Stretched bow  
खिंचा हुआ धनुष

**Correct Answer:** Stretched bow  
खिंचा हुआ धनुष

**Candidate Answer:** Stretched bow  
खिंचा हुआ धनुष

**QID : 88** - What is a mushroom?

मशरूम क्या है ?

**Options:**

- 1) Fungus  
कवक
- 2) Plant  
पौधा
- 3) Animal  
पशु
- 4) Bacteria  
बैक्टीरिया

**Correct Answer:** Fungus  
कवक

**Candidate Answer:** Fungus  
कवक

**QID : 89** - The outer cover of plant cell is called \_\_\_\_\_।

पादप कोशिका का सबसे बाहरी आवरण कहलाता है \_\_\_\_\_।

**Options:**

- 1) cell membrane  
कोशिका झिल्ली
- 2) Cell wall  
कोशिका भित्ति
- 3) Tonoplast  
टोनोप्लास्ट
- 4) Endoplasmic reticulum  
अन्तः प्रद्रव्यी जालिका

**Correct Answer:** Cell wall  
कोशिका भित्ति

**Candidate Answer:** cell membrane  
कोशिका झिल्ली

**QID : 90** - Under which branch of the Science is the study of bones done?

अस्थियों का अध्ययन विज्ञान की किस शाखा के अंतर्गत किया जाता है ?

**Options:**

- 1) Orology  
ओरोलॉजी
- 2) Osteology  
ऑस्टियोलॉजी
- 3) Serology  
सेरोलॉजी
- 4) Geology  
जियोलॉजी

**Correct Answer:** Osteology  
ऑस्टियोलॉजी

**Candidate Answer:** Osteology  
ऑस्टियोलॉजी

**QID : 91** - Flood can be prevented \_\_\_\_\_.

बाढ़ को \_\_\_\_\_ रोका जा सकता है।



**Options:**

1) by making slope on land

स्थल को ढालदार बनाकर

2) by removing the water cover

जल आवरण को हटाकर

3) Cutting of forests

वनों को काटकर

4) By making a dam on the rivers and planting trees

नदियों पर बांध बनाकर व वृक्षारोपण करके

**Correct Answer:** By making a dam on the rivers and planting trees

नदियों पर बांध बनाकर व वृक्षारोपण करके

**Candidate Answer:** By making a dam on the rivers and planting trees

नदियों पर बांध बनाकर व वृक्षारोपण करके

**QID : 92 -** 1024 Byte is equal to \_\_\_\_\_.

1024 बाइट \_\_\_\_\_ बराबर है।

**Options:**

1) 1 TB

1 टी बी

2) 1 GB

1 जी बी

3) 1 MB

1 एम बी

4) 1 KB

1 के बी

**Correct Answer:** 1 KB

1 के बी

**Candidate Answer:** 1 KB

1 के बी

**QID : 93 -** Number of players in each side in the game of Kabaddi is \_\_\_\_\_.

कबड्डी के खेल में प्रत्येक पक्ष में खिलाड़ियों की संख्या \_\_\_\_\_ होती है।

**Options:**

1) 5

2) 6

3) 7

4) 8

**Correct Answer:** 7

**Candidate Answer:** 7

**QID : 94 -** On which subject is the book "Arthashastra" written?

"अर्थशास्त्र" किस विषय पर लिखी गई पुस्तक है?

**Options:**

1) Economy

अर्थव्यवस्था

2) Monarchy

राजतंत्र

3) Politics

राजनीति

4) Literature

साहित्य

**Correct Answer:** Politics

राजनीति

**Candidate Answer:** Politics

राजनीति

**QID : 95 -** When was the Rashtriya Vayoshri Yojana started?

'राष्ट्रीय वयोश्री योजना' का शुभारम्भ कब हुआ?

**Options:**

1) April 10, 2016

10 अप्रैल, 2016

2) March 5, 2017

5 मार्च, 2017

3) April 1, 2017

1 अप्रैल, 2017

4) October 8, 2016

8 अक्टूबर, 2016

**Correct Answer:** April 1, 2017

1 अप्रैल, 2017

**Candidate Answer:** [ NOT ANSWERED ]

**QID : 96 -** G. S. Ohm is the discoverer of the following?

जी. एस. ओम निम्नलिखित में से किसके खोजकर्ता हैं?

**Options:**

- 1) Law of Electrostatic Attraction  
स्थिरवैद्युत आकर्षण
- 2) Photoelectric effect  
प्रकाश विद्युत प्रभाव
- 3) Law of Electric Resistance  
विद्युत प्रतिरोध का नियम
- 4) Thermionic Emission (Electrons emitting from hot-source)  
थर्मियोनिक इमीशन (उष्ण-स्रोत से इलेक्ट्रॉन उत्सर्जन)

**Correct Answer:** Law of Electric Resistance  
विद्युत प्रतिरोध का नियम

**Candidate Answer:** Law of Electric Resistance  
विद्युत प्रतिरोध का नियम

**QID : 97 - To which state is the "Sua" dance related?**

"सुआ" नृत्य किस राज्य से संबंधित है?

**Options:**

- 1) Chhattisgarh  
छत्तीसगढ़
- 2) Odisha  
ओड़ीसा
- 3) Maharashtra  
महाराष्ट्र
- 4) Rajasthan  
राजस्थान

**Correct Answer:** Chhattisgarh  
छत्तीसगढ़

**Candidate Answer:** Chhattisgarh  
छत्तीसगढ़

**QID : 98 - In which field is the Dhanvantari Award given?**

धन्वन्तरि पुरस्कार किस क्षेत्र में प्रदान किया जाता है?

**Options:**

- 1) Social sector  
सामाजिक क्षेत्र
- 2) Medical field  
चिकित्सा क्षेत्र
- 3) Agricultural sector  
कृषि क्षेत्र
- 4) Space field  
अन्तरिक्ष क्षेत्र

**Correct Answer:** Medical field  
चिकित्सा क्षेत्र

**Candidate Answer:** Agricultural sector  
कृषि क्षेत्र

**QID : 99 - Which country is associated with the "wet foot-dry foot" policy of America?**

अमेरिका की "वेटफूट-ड्राईफूट" नीति का संबंध किस देश से जुड़ा है?

**Options:**

- 1) Iraq  
ईराक
- 2) Mexico  
मेक्सिको
- 3) Cuba  
क्यूबा
- 4) Britain  
ब्रिटेन

**Correct Answer:** Cuba  
क्यूबा

**Candidate Answer:** Britain  
ब्रिटेन

**QID : 100 - Which is the longest river in Pakistan?**

पाकिस्तान की सबसे लम्बी नदी कौन सी है?

**Options:**

- 1) Sutlej River  
सतलज नदी
- 2) Chenab River  
चिनाब नदी
- 3) Indus River  
सिंधु नदी
- 4) Jhelum River  
झेलम नदी

**Correct Answer:** Indus River  
सिंधु नदी

**Candidate Answer:** Chenab River  
चिनाब नदी