



Staff Selection Commission
(Government Of India)

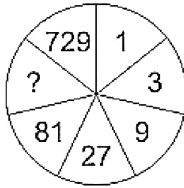
REGISTRATION NUMBER : examstocks.com
EXAM DATE : 24-October-2017
EXAM NAME : SSC Examination TOTAL
MARKS : 150

CANDIDATE NAME : examstocks.com
EXAM START TIME : 13:30:00 EXAM
DURATION : 01:30 Hrs TOTAL NO OF
QUESTIONS : 100

QID : 101 -

In the following question, select the number which can be placed at the sign of question mark (?) from the given alternatives.

निम्नलिखित प्रश्न में दिए गए विकल्पों में से प्रश्न चिह्न (?) के स्थान पर आने वाली संख्या को चुनिए।



Options:

- 1) 242
- 2) 250
- 3) 201
- 4) 243

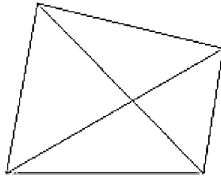
Correct Answer: 243

Candidate Answer: 243

QID : 102 -

How many triangles are there in the given figure?

दी गई आकृति में कितने त्रिभुज हैं?



Options:

- 1) 6
- 2) 7
- 3) 8
- 4) 10

Correct Answer: 8

Candidate Answer: 8

QID : 103 -

A word is represented by only one set of numbers as given in any one of the alternatives. The sets of numbers given in the alternatives are represented by two classes of alphabets as shown in the given two matrices. The columns and rows of **Matrix-I** are numbered from 0 to 4 and that of **Matrix-II** are numbered from 5 to 9. A letter from these matrices can be represented first by its row and next by its column, for example, 'T' can be represented by 42, 79, etc., and 'U' can be represented by 20, 97, etc. Similarly, you have to identify the set for the word "WORK".

एक शब्द केवल एक संख्या-समूह द्वारा दर्शाया गया है, जैसा कि विकल्पों में से किसी एक में दिया गया है। विकल्पों में दिए गए संख्या-समूह अक्षरों के दो वर्गों द्वारा दर्शाए गए हैं, जैसा कि दिए गए दो आव्यूहों में है। **आव्यूह-I** के स्तम्भ और पंक्ति की संख्या 0 से 4 है और **आव्यूह-II** की 5 से 9। इन आव्यूहों से एक अक्षर को पहले उसकी पंक्ति और बाद में स्तम्भ संख्या द्वारा दर्शाया जा सकता है। उदाहरण के लिए 'T' को 42, 79, आदि द्वारा दर्शाया जा सकता है तथा 'U' को 20, 97, आदि द्वारा दर्शाया जा सकता है। इसी तरह से आपको प्रश्न में दिए शब्द "WORK" के लिए समूह को पहचानना है।

Matrix-I आव्यूह-I						Matrix-II आव्यूह-II					
	0	1	2	3	4		5	6	7	8	9
0	Z	C	W	G	I	5	X	K	D	F	R
1	K	M	O	Q	S	6	G	W	N	H	V
2	U	W	Y	B	A	7	E	O	Y	J	T
3	F	H	G	L	N	8	C	F	I	L	R
4	D	R	T	V	O	9	K	S	U	N	P

Options:

- 1) 02, 12, 41, 10
- 2) 21, 44, 32, 56
- 3) 56, 69, 89, 10
- 4) 58, 76, 59, 95

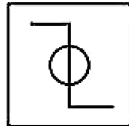
Correct Answer: 02, 12, 41, 10

Candidate Answer: 02, 12, 41, 10

QID : 104 -

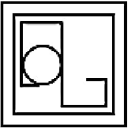
From the given answer figures, select the one in which the question figure is hidden/embedded.

दी गई उत्तर आकृतियों में से उस उत्तर आकृति को चुनिए जिस में प्रश्न आकृति निहित है।

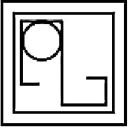


Options:

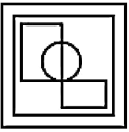
1)



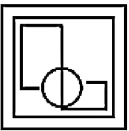
2)



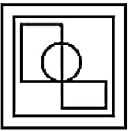
3)



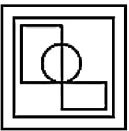
4)



Correct Answer:



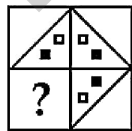
Candidate Answer:



QID : 105 -

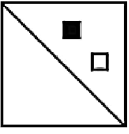
Which answer figure will complete the pattern in the question figure?

कौन सी उत्तर आकृति प्रश्न आकृति के प्रतिरूप को पूरा करेगी?

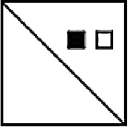


Options:

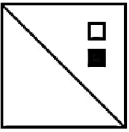
1)



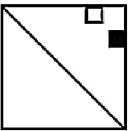
2)



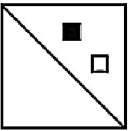
3)



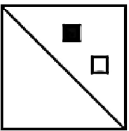
4)



Correct Answer:



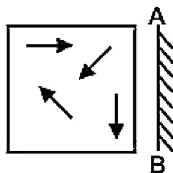
Candidate Answer:



QID : 106 -

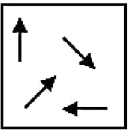
If a mirror is placed on the line AB, then which of the answer figures is the right image of the given figure?

यदि एक दर्पण को AB रेखा पर रखा जाए, तो दी गई उत्तर आकृतियों में से कौन सी आकृति प्रश्न आकृति की सही प्रतिबिम्ब होगी?

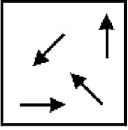


Options:

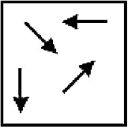
1)



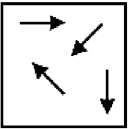
2)



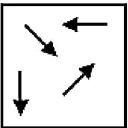
3)



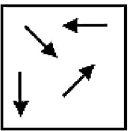
4)



Correct Answer:



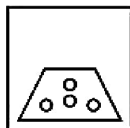
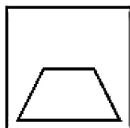
Candidate Answer:



QID : 107 -

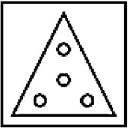
A piece of paper is folded and punched as shown below in the question figures. From the given answer figures, indicate how it will appear when opened?

लीचे के प्रश्न आकृतियों में दिखाए अनुसार कागज को मोड़कर छेदने तथा खोलने के बाद वह किस उत्तर आकृति जैसा दिखाई देगा?

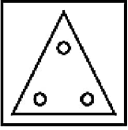


Options:

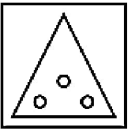
1)



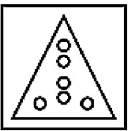
2)



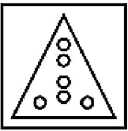
3)



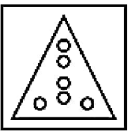
4)



Correct Answer:



Candidate Answer:



QID : 108 - If '+' means '÷', 'x' means '-', '-' means '+' and '÷' means 'x', then

$$14 \times 11 \div 3 + 33 - 7 = ?$$

यदि '+' का अर्थ '÷', 'x' का अर्थ '-', '-' का अर्थ '+' तथा '÷' का अर्थ 'x' हो, तो

$$14 \times 11 \div 3 + 33 - 7 = ?$$

Options:

- 1) 25
- 2) 29
- 3) 20
- 4) 34

Correct Answer: 20

Candidate Answer: 20

QID : 109 - If $16 A 4 B 2 = 32$ and $9 A 2 B 6 = 3$, then

$$14 A 2 B 4 = ?$$

यदि $16 A 4 B 2 = 32$ तथा $9 A 2 B 6 = 3$ हो, तो

$$14 A 2 B 4 = ?$$

Options:

- 1) 9
- 2) 7
- 3) 11
- 4) 14

Correct Answer: 7

Candidate Answer: [NOT ANSWERED]

QID : 110 - Arrange the given words in the sequence in which they occur in the dictionary.

1. Onion
2. Owl
3. Omnious
4. Ostrich
5. Oman

निम्नलिखित शब्दों को शब्दकोश में आने वाले क्रम के अनुसार लिखें।

1. Onion
2. Owl
3. Omnious
4. Ostrich
5. Oman

Options:
1) 53142

2) 35142

3) 53124

4) 35124

Correct Answer: 53142

Candidate Answer: 53142

QID : 111 - In the following question, select the missing number from the given series.

35, 38, 42, 47, 53, ?

निम्नलिखित प्रश्न में दिए गए विकल्पों में से लुप्त अंक ज्ञात कीजिए।

35, 38, 42, 47, 53, ?

Options:

1) 60

2) 63

3) 64

4) 72

Correct Answer: 60

Candidate Answer: 60

QID : 112 - A series is given with one term missing. Select the correct alternative from the given ones that will complete the series.

XY, AB, DE, ?

एक अनुक्रम दिया गया है, जिसमें से एक पद लुप्त है। दिए गए विकल्पों में से वह सही विकल्प चुनिए, जो अनुक्रम को पूरा करे।

XY, AB, DE, ?

Options:

1) GH

2) FG

3) FH

4) GI

Correct Answer: GH

Candidate Answer: GH

QID : 113 - In the following question, select the odd word from the given alternatives.

निम्नलिखित प्रश्न में दिए गए विकल्पों में से विषम शब्द को चुनिए।

Options:

1) Rose

गुलाब

2) Lotus

कमल

3) Sunflower

सूरजमुखी

4) Apple

सेब

Correct Answer: Apple

सेब

Candidate Answer: Apple
सेब

QID : 114 - In the following question, select the odd number pair from the given alternatives.

निम्नलिखित प्रश्न में दिए गए विकल्पों में से विषम संख्या युग्म को चुनिए।

Options:

1) 12 - 146

2) 9 - 83

3) 5 - 28

4) 13 - 171

Correct Answer: 5 - 28

Candidate Answer: 5 - 28

QID : 115 - In the following question, select the odd letters from the given alternatives.

निम्नलिखित प्रश्न में दिए गए विकल्पों में से विषम अक्षरों को चुनिए।

Options:

1) JL

2) MO

3) PQ

4) AC

Correct Answer: PQ

Candidate Answer: PQ

QID : 116 - Identify the diagram that best represents the relationship among the given classes.

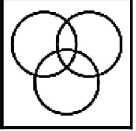
Pen, Notebook, Stationery

वह आरेख चुनिए जो नीचे दिए गए वर्गों के बीच के संबंध का सही निरूपण करता है।

कलम, कापी, लेखन सामग्री

Options:

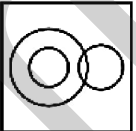
1)



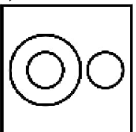
2)



3)



4)



Correct Answer:



Candidate Answer:



QID : 117 - In the following question, select the related word from the given alternatives.

Injection : Body :: Pesticide : ?

निम्नलिखित प्रश्न में दिए गए विकल्पों में से संबंधित शब्द को चुनिए।

इंजेक्शन : शरीर :: कीटनाशक : ?

Options:

1) Spray

छिड़कना

2) Pest

कीट

3) Crop

फसल

4) Chemicals

रसायन

Correct Answer: Crop

फसल

Candidate Answer: Crop

फसल

QID : 118 - In the following question, select the related number from the given alternatives.

493 : 16 :: 587 : ?

निम्नलिखित प्रश्न में दिए गए विकल्पों में से संबंधित संख्या को चुनिए।

493 : 16 :: 587 : ?

Options:

1) 22

2) 20

3) 47

4) 61

Correct Answer: 20

Candidate Answer: 20

QID : 119 - In the following question, select the related letters from the given alternatives.

YAC : ZBD :: PRT : ?

निम्नलिखित प्रश्न में दिए गए विकल्पों में से संबंधित अक्षरों को चुनिए।

YAC : ZBD :: PRT : ?

Options:

1) QST

2) RSU

3) RST

4) QSU

Correct Answer: QSU

Candidate Answer: QSU

QID : 120 - In the following question, select the word which cannot be formed using the letters of the given word.

FRUGALITY

निम्नलिखित विकल्पों में से वह शब्द चुनिए जो दिए गए शब्द के अक्षरों का प्रयोग करके नहीं बनाया जा सकता।

FRUGALITY

Options:

- 1) LIAR
- 2) FIRE
- 3) TRAIL
- 4) FLIRT

Correct Answer: FIRE

Candidate Answer: FIRE

QID : 121 - A, B, C, D and E are sitting in a line facing west. A and B are sitting together. C is sitting at south end and D is sitting at north end. E is neighbour of B and D. Who is sitting in the middle?

A, B, C, D तथा E एक पंक्ति में पश्चिम की ओर मुख करके बैठे हैं। A तथा B एक साथ बैठे हैं। C दक्षिण छोर पर बैठा है तथा D उत्तरी छोर पर बैठा है। E, B तथा D का पड़ोसी है। मध्य में कौन बैठा है?

Options:

- 1) B
- 2) D
- 3) A
- 4) C

Correct Answer: B

Candidate Answer: B

QID : 122 - Weight of A is thrice that of B. Weight of B is twice of C. Weight of C is 4 times of E. Weight of E is twice of D. The weight of B is greater than the weight of how many persons among A, C, D and E?

A का भार B का तिगुना है। B का भार C का दोगुना है। C का भार E का 4 गुना है। E का भार D का दोगुना है। B का भार, A, C, D तथा E में से कितने व्यक्तियों के भार से अधिक है?

Options:

- 1) 3
- 2) 4
- 3) 2
- 4) 1

Correct Answer: 3

Candidate Answer: 3

QID : 123 - In the following question below are given some statements followed by some conclusions. Taking the given statements to be true even if they seem to be at variance from commonly known facts, read all the conclusions and then decide which of the given conclusion logically follows the given statements.

Statements:

- I. All blue are colours.
- II. Some colours are Sun.

Conclusions:

- I. No blue is Sun.
- II. Some Sun are not colour.

नीचे दिए गए प्रश्न में कुछ कथन और उनके बाद उन कथनों पर आधारित कुछ निष्कर्ष दिए गए हैं, हालांकि उनमें सामान्य ज्ञात तथ्यों से भिन्नता हो सकती है। सभी निष्कर्ष पढ़ें और फिर निर्धारित करें कि दिए गए कौन से निष्कर्ष, दिए गए कथनों के आधार पर युक्तिसंगत हैं।

कथन:

- I. सभी नीले रंग हैं।
- II. कुछ रंग सूर्य हैं।

निष्कर्ष:

- I. कोई नीला सूर्य नहीं है।
- II. कुछ सूर्य रंग नहीं हैं।

Options:

- 1) Only conclusion (I) follows.
केवल निष्कर्ष (I) सही है।
- 2) Only conclusion (II) follows.
केवल निष्कर्ष (II) सही है।
- 3) Both conclusion follow.
दोनों ही निष्कर्ष सही हैं।
- 4) Neither conclusion (I) nor conclusion (II) follows.
न तो निष्कर्ष (I) न ही निष्कर्ष (II) सही है।

Correct Answer: Neither conclusion (I) nor conclusion (II) follows.

न तो निष्कर्ष (I) न ही निष्कर्ष (II) सही है।

Candidate Answer: Only conclusion (II) follows.

केवल निष्कर्ष (II) सही है।

QID : 124 - In a certain code language, "HAIRY" is written as "ICLVD". How is "STONE" written in that code language?

एक विशिष्ट कोड भाषा में, "HAIRY" को "ICLVD" लिखा जाता है। इस कोड भाषा में "STONE" को किस प्रकार लिखा जाएगा?

Options:

1) TRVQJ

2) TVRRJ

3) VTROJ

4) TVPRJ

Correct Answer: TVRRJ

Candidate Answer: TVRRJ

QID : 125 - In a certain code language, "TRAIT" is written as "94329" and "WOUND" is written as "56078". How is "DRAIN" written in that code language?

एक विशिष्ट कोड भाषा में, "TRAIT" को "94329" तथा "WOUND" को "56078" लिखा जाता है। इस कोड भाषा में "DRAIN" को किस प्रकार लिखा जाएगा?

Options:

1) 72439

2) 84327

3) 72438

4) 56432

Correct Answer: 84327

Candidate Answer: 84327

QID : 126 - The selling price of an article is Rs 1920 and discount given is 4%. What is the marked price of the article?

एक वस्तु का विक्रय मूल्य 1920 रु है और उस पर दी गई छूट 4% है। वस्तु का अंकित मूल्य क्या है?

Options:

1) Rs 1400

1400 रु

2) Rs 1600

1600 रु

3) Rs 1800

1800 रु

4) Rs 2000

2000 रु

Correct Answer: Rs 2000

2000 रु

Candidate Answer: Rs 2000

2000 रु

QID : 127 - What will be the total sum of all odd natural numbers between 2 and 36?

2 और 36 के बीच की सभी विषम प्राकृतिक संख्याओं का योग कितना होगा?

Options:

1) 360

2) 323

3) 288

4) 285

Correct Answer: 323

Candidate Answer: 323

QID : 128 - What is the unit's place digit in the product $(218 \times 310 \times 431 \times 834)$?

गुणांक $(218 \times 310 \times 431 \times 834)$ में इकाई स्थान पर आने वाला अंक क्या है?

Options:

1) 4

2) 8

3) 1

4) 0

Correct Answer: 0

Candidate Answer: 0

QID : 129 - X and Y walk at average speed of 1.5 km/hr and 2 km/hr respectively. If X walks in West direction and Y in North direction beginning from the same origin at the same time, what will be the distance between the two after 4 hours?

X तथा Y क्रमशः 1.5 किमी/घंटा और 2 किमी/घंटा की औसत गति से टहलते हैं। अगर X पश्चिम की दिशा में और Y उत्तर की दिशा में एक ही बिंदु से एक ही समय में चलना आरम्भ करते हैं, तो 4 घंटे बाद उनके बीच की दूरी क्या होगी?

Options:

- 1) 10 km
- 10 किमी.
- 2) 5 km
- 5 किमी.
- 3) $\sqrt{13}$ km
- $\sqrt{13}$ किमी.
- 4) 12 km
- 12 किमी.

Correct Answer: 10 km

10 किमी.

Candidate Answer: 10 km

10 किमी.

QID : 130 - Which one of the numbers is completely divisible by 25?

इनमें से किस संख्या को 25 से पूर्णतः विभाज्य किया जा सकता है?

Options:

- 1) 22135
- 2) 303315
- 3) 455215
- 4) 373375

Correct Answer: 373375

Candidate Answer: 373375

QID : 131 - The product of two numbers is 120. The sum of their square is 289. What is the difference of these two numbers?

दो संख्याओं का गुणनफल 120 है। उनके वर्ग का योग 289 है। इन दो संख्याओं का अंतर क्या है?

Options:

- 1) 6
- 2) 7
- 3) 8
- 4) 9

Correct Answer: 7

Candidate Answer: 7

QID : 132 - If 1 X or 2 Y or 3 Z can do a piece of work in 44 days. In how many days 1 X, 1 Y and 1 Z, working together, can do the same work, where X, Y and Z are different capacity machines?

यदि एक काम को 1 X या 2 Y या 3 Z, 44 दिनों में पूरा कर सकते हैं। 1 X, 1 Y और 1 Z साथ मिलकर कितने दिनों में वही काम पूरा कर सकते हैं, जबकि X, Y तथा Z भिन्न क्षमता वाली मशीनें हैं?

Options:

- 1) 33 days
- 33 दिन
- 2) 26 days
- 26 दिन
- 3) 24 days
- 24 दिन
- 4) 21 days
- 21 दिन

Correct Answer: 24 days

24 दिन

Candidate Answer: 24 days

24 दिन

QID : 133 - What least number must be added to 752 so that the sum is completely divisible by 59?

752 में कम से कम कितनी संख्या जोड़नी चाहिए ताकि योग 59 से पूर्णतः विभाज्य हो जाए?

Options:

- 1) 15
- 2) 13
- 3) 11
- 4) 7

Correct Answer: 15

Candidate Answer: 15

QID : 134 - 1880 is how much percent of 5875?

1880, 5875 का कितना प्रतिशत है?

Options:

- 1) 26%
- 2) 28%
- 3) 32%
- 4) 34%

Correct Answer: 32%

Candidate Answer: 32%

QID : 135 - The average of ten numbers is 7. If each number is multiplied by 12, then what will be the average of new set of numbers?

दस संख्याओं का औसत 7 है। यदि प्रत्येक संख्या को 12 से गुणा किया जाता है, तो संख्याओं के नए समूह का औसत क्या होगा?

Options:

- 1) 7
- 2) 19
- 3) 82
- 4) 84

Correct Answer: 84

Candidate Answer: 84

QID : 136 - The total surface area of a cube is 2646 cm^2 . What is the volume of this cube?

एक घन का सम्पूर्ण पृष्ठ क्षेत्रफल 2646 सेमी^2 है। इस घन का आयतन क्या है?

Options:

- 1) 9161 cm^3
9161 सेमी³
- 2) 9361 cm^3
9361 सेमी³
- 3) 9261 cm^3
9261 सेमी³
- 4) 9461 cm^3
9461 सेमी³

Correct Answer: 9261 cm^3

9261 सेमी³

Candidate Answer: 9261 cm^3

9261 सेमी³

QID : 137 - How many of the following numbers are divisible by 31?

186, 226, 832, 656, 1264, 527

निम्नांकित में से कितनी संख्याएँ 31 से विभाज्य हैं?

186, 226, 832, 656, 1264, 527

Options:

- 1) 5
- 2) 4
- 3) 3
- 4) 2

Correct Answer: 2

Candidate Answer: 2

QID : 138 - The marked price of a toy is Rs 60 and after a discount it was sold for Rs 45, then what is the percentage discount offered?

एक खिलौने का अंकित मूल्य 60 रु है और एक छूट के बाद इसे 45 रु में बेचा गया, तो छूट प्रतिशत क्या है?

Options:

- 1) 20%
- 2) 25%
- 3) 30%
- 4) 35%

Correct Answer: 25%

Candidate Answer: 25%

QID : 139 - What is the compound interest for a sum of Rs 20000 in 2 years, if the rate of interest is 18% per annum?

यदि ब्याज की दर 18% प्रति वर्ष हो, तो 20000 रु का 2 वर्ष में चक्रवृद्धि ब्याज कितना होगा?



Options:

1) Rs 7748

7748 रु

2) Rs 7848

7848 रु

3) Rs 7648

7648 रु

4) Rs 7948

7948 रु

Correct Answer: Rs 7848

7848 रु

Candidate Answer: Rs 7848

7848 रु

QID : 140 - The monthly salaries of A and B are in the ratio 10:11. If both of them get a salary increment of Rs 6000 per month, the new ratio becomes 12:13. What is the new monthly salary of A?

A तथा B के मासिक वेतनों का अनुपात 10:11 है। अगर दोनों को प्रतिमाह 6000 रु की वेतन वृद्धि मिलती है, तो नया अनुपात 12:13 हो जाता है। A का नया मासिक वेतन क्या है?

Options:

1) Rs 36000

36000 रु

2) Rs 33000

33000 रु

3) Rs 39000

39000 रु

4) Rs 30000

30000 रु

Correct Answer: Rs 36000

36000 रु

Candidate Answer: Rs 36000

36000 रु

QID : 141 - A man had 100 kg of sugar, part of which he sold at 7% profit and rest at 17% profit. He gained 10% on the whole. Find how much sugar did he sell at 7% profit ?

एक आदमी के पास 100 किग्रा. चीनी थी, जिसका कुछ भाग उसने 7% लाभ पर और शेष को 17% लाभ पर बेच दिया. उसने सारे पर 10% लाभ अर्जित किया। पता लगाएं 7% लाभ पर उसने कितनी चीनी बेची?

Options:

1) 65 kg

65 किग्रा.

2) 35 kg

35 किग्रा.

3) 30 kg

30 किग्रा.

4) 70 kg

70 किग्रा.

Correct Answer: 70 kg

70 किग्रा.

Candidate Answer: 70 kg

70 किग्रा.

QID : 142 - A reduction of 25% in the price of rice enables a person to buy 10 kg more rice for Rs 600. What is the reduced per kg price of rice?

चावल की कीमत में 25% की कमी एक व्यक्ति को 600 रु में 10 किलोग्राम अधिक चावल खरीदने में सक्षम बनाता है। चावल की घटी हुई कीमत प्रति किलोग्राम क्या है?

Options:

1) Rs 15

15 रु

2) Rs 20

20 रु

3) Rs 25

25 रु

4) Rs 30

30 रु

Correct Answer: Rs 15

15 रु

Candidate Answer: Rs 15

15 रु

QID : 143 - If the difference between the selling prices of an article at profit of 6% and 4% is Rs 3, then what should be the cost price of the article?

अगर 6% और 4% के लाभ पर एक वस्तु की विक्रय मूल्य के बीच अंतर 3 रु है, तो वस्तु का क्रय मूल्य क्या होना चाहिए?

Options:

1) Rs. 100

100 रु

2) Rs. 150

150 रु

3) Rs. 175

175 रु

4) Rs. 200

200 रु

Correct Answer: Rs. 150

150 रु

Candidate Answer: Rs. 150

150 रु

QID : 144 - A can do a piece of work in 8 days. B and C together can do it in 6 days, while A and C together can do it in 4 days. How many days will B take to do the work alone.

A किसी काम को 8 दिनों में पूरा करता है। B और C साथ मिलकर उसी काम को 6 दिनों में पूरा करते हैं, जबकि A और C साथ मिलकर उसी काम को 4 दिनों में पूरा करते हैं। B अकेले उस काम को कितने दिनों में पूरा करेगा?

Options:

1) 20 days

20 दिन

2) 16 days

16 दिन

3) 24 days

24 दिन

4) 10 days

10 दिन

Correct Answer: 24 days

24 दिन

Candidate Answer: 24 days

24 दिन

QID : 145 - If Rs 2698 is divided in the ratio of 10:13:15 among A, B and C respectively, what will be the share of A?

अगर 2698 रु को A, B तथा C के बीच 10:13:15 के अनुपात में विभाजित किया जाता है, तो A का हिस्सा क्या होगा?

Options:

1) Rs 810

810 रु

2) Rs 923

923 रु

3) Rs 710

710 रु

4) Rs 994

994 रु

Correct Answer: Rs 710

710 रु

Candidate Answer: Rs 710

710 रु

QID : 146 - What is the sum of all 3-digit positive integers divisible by 13?

13 से विभाज्य होने वाली 3 अंकों की सभी धनात्मक पूर्णांक संख्याओं का योग क्या है?

Options:

1) 37574

2) 36574

3) 37674

4) 37666

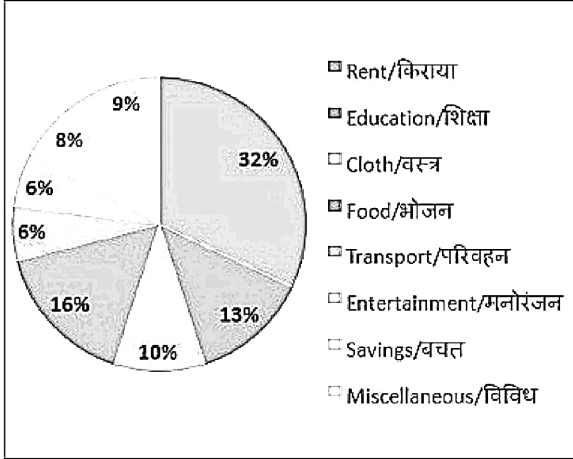
Correct Answer: 37674

Candidate Answer: [NOT ANSWERED]

QID : 147 -

The pie-chart given below represents the household expenditure details. The total income of the household is Rs 30,000. Based on the data given in the pie-chart answer the following question.

नीचे दिए पाई चार्ट में एक घर के कुल व्यय का विवरण दर्शाया गया है। घर की कुल आय 30,000 रु है। दिए गए आंकड़ों के आधार पर निम्नलिखित प्रश्न का उत्तर दीजिए।



In a particular month, the household did not spend on entertainment and instead save it. What will be the total saving for that particular month?

किसी एक महीने में घरवालों ने मनोरंजन पर व्यय नहीं किया और इस हिस्से की बचत कर ली। उस महीने की कुल बचत क्या होगी?

Options:

- 1) Rs 4200
4200 रु
- 2) Rs 2400
2400 रु
- 3) Rs 1800
1800 रु
- 4) Rs 4000
4000 रु

Correct Answer: Rs 4200

4200 रु

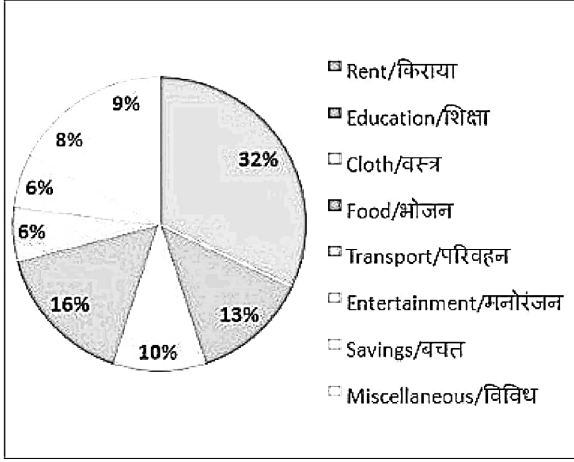
Candidate Answer: Rs 4200

4200 रु

QID : 148 -

The pie-chart given below represents the household expenditure details. The total income of the household is Rs 30,000. Based on the data given in the pie-chart answer the following question.

नीचे दिए पाई चार्ट में एक घर के कुल व्यय का विवरण दर्शाया गया है। घर की कुल आय 30,000 रु है। दिए गए आंकड़ों के आधार पर निम्नलिखित प्रश्न का उत्तर दीजिए।



How much amount does the household spend on Food?

घरवाले भोजन पर कुल कितना खर्च करते हैं?

Options:

- 1) Rs 4000
4000 रु
- 2) Rs 4600
4600 रु
- 3) Rs 4800
4800 रु
- 4) Rs 4200
4200 रु

Correct Answer: Rs 4800

4800 रु

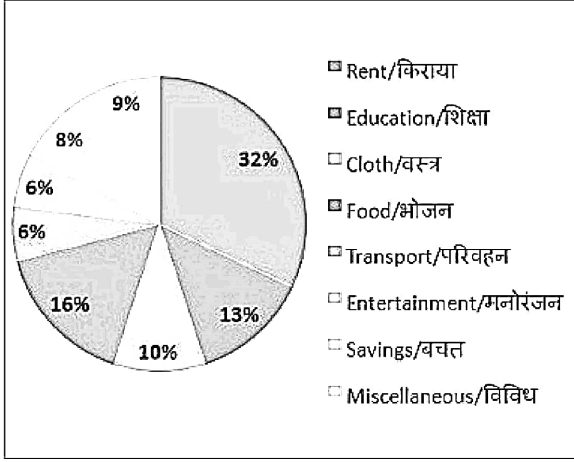
Candidate Answer: Rs 4800

4800 रु

QID : 149 -

The pie-chart given below represents the household expenditure details. The total income of the household is Rs 30,000. Based on the data given in the pie-chart answer the following question.

नीचे दिए पाई चार्ट में एक घर के कुल व्यय का विवरण दर्शाया गया है। घर की कुल आय 30,000 रु है। दिए गए आंकड़ों के आधार पर निम्नलिखित प्रश्न का उत्तर दीजिए।



If 50 % of the miscellaneous amount is additionally spent on cloth, what is the total amount spent on cloth in that particular month?

यदि विविध मदों की राशि का 50% कपड़े पर अधिक खर्च किया जाता है, तो उस विशेष महीने में कपड़े पर खर्च की गई कुल राशि क्या है?

Options:

- 1) Rs 4250
4250 रु
- 2) Rs 5700
5700 रु
- 3) Rs 3350
3350 रु
- 4) Rs 4350
4350 रु

Correct Answer: Rs 4350

4350 रु

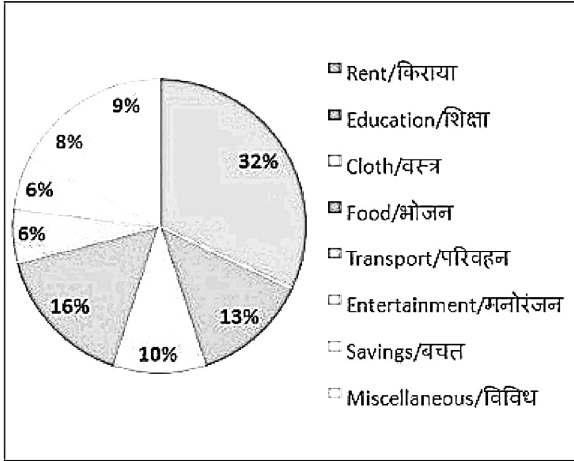
Candidate Answer: Rs 4350

4350 रु

QID : 150 -

The pie-chart given below represents the household expenditure details. The total income of the household is Rs 30,000. Based on the data given in the pie-chart answer the following question.

नीचे दिए पाई चार्ट में एक घर के कुल व्यय का विवरण दर्शाया गया है। घर की कुल आय 30,000 रु है। दिए गए आंकड़ों के आधार पर निम्नलिखित प्रश्न का उत्तर दीजिए।



How much amount does the household spend on Education?

घरवाले शिक्षा पर कुल कितना खर्च करते हैं?

Options:

- 1) Rs 3900
3900 रु
- 2) Rs 3000
3000 रु
- 3) Rs 4800
4800 रु
- 4) Rs 1800
1800 रु

Correct Answer: Rs 3900

3900 रु

Candidate Answer: Rs 3900

3900 रु

QID : 151 - In the following question, some part of the sentence may have errors. Find out which part of the sentence has an error and select the appropriate option. If a sentence is free from error, select 'No Error'.

We realize that we are all in this together and (1)/ that pollution anywhere should be a global concern otherwise (2)/ there will only be more tunnels in the end of the tunnel. (3)/ No error (4)

Options:

- 1) 1
- 2) 2
- 3) 3
- 4) 4

Correct Answer: 3

Candidate Answer: [NOT ANSWERED]

QID : 152 - In the following question, some part of the sentence may have errors. Find out which part of the sentence has an error and select the appropriate option. If a sentence is free from error, select 'No Error'.

He murmured a word quietly and with great venom following upon (1)/ with other strong nouns and epithets that expressed his (2)/ feeling towards the President, his Government and the Action Service. (3)/ No error (4)

Options:

- 1) 1
- 2) 2
- 3) 3
- 4) 4

Correct Answer: 3

Candidate Answer: [NOT ANSWERED]

QID : 153 - In the following question, the sentence given with blank to be filled in with an appropriate word. Select the correct alternative out of the four and indicate it by selecting the appropriate option.

He ____ a grudge against his aunt.

Options:

- 1) bear
- 2) bears
- 3) bearing
- 4) beer

Correct Answer: bears

Candidate Answer: bears

QID : 154 - In the following question, the sentence given with blank to be filled in with an appropriate word. Select the correct alternative out of the four and indicate it by selecting the appropriate option.

She looked ____ her crown everywhere.

Options:

- 1) for
- 2) in
- 3) all
- 4) of

Correct Answer: for

Candidate Answer: for

QID : 155 - In the following question, out of the given four alternatives, select the one which best expresses the meaning of the given word.

Chaos

Options:

- 1) Harmony
- 2) Order
- 3) Disorder
- 4) System

Correct Answer: Disorder

Candidate Answer: Disorder

QID : 156 - In the following question, out of the given four alternatives, select the one which best expresses the meaning of the given word.

Earn

Options:

- 1) Cost
- 2) Spend
- 3) Lose
- 4) Achieve

Correct Answer: Achieve

Candidate Answer: Achieve

QID : 157 - In the following question, out of the given four alternatives, select the one which best expresses the meaning of the given word.

Entice

Options:

- 1) Repel
- 2) Lure
- 3) Disgust
- 4) Avoid

Correct Answer: Lure

Candidate Answer: Lure

QID : 158 - In the following question, out of the given four alternatives, select the one which is opposite in meaning of the given word.

Aboriginal

Options:

- 1) Ancient
- 2) Immigrant
- 3) Earliest
- 4) Native

Correct Answer: Immigrant

Candidate Answer: Immigrant

QID : 159 - In the following question, out of the given four alternatives, select the one which is opposite in meaning of the given word.

Abscond

Options:

- 1) Remain
- 2) Bolt
- 3) Decamp
- 4) Fade

Correct Answer: Remain

Candidate Answer: Remain

QID : 160 - In the following question, out of the given four alternatives, select the one which is opposite in meaning of the given word.

Crook

Options:

- 1) Cheat
- 2) Criminal
- 3) Rogue
- 4) Law

Correct Answer: Law

Candidate Answer: Rogue

QID : 161 - In the following question, out of the four given alternatives, select the alternative which best expresses the meaning of the Idiom/Phrase.

Sit on the fence

Options:

- 1) Not to take sides in a dispute
- 2) Excited about the working
- 3) Argumentative
- 4) Very emotional

Correct Answer: Not to take sides in a dispute

Candidate Answer: Not to take sides in a dispute

QID : 162 - In the following question, out of the four given alternatives, select the alternative which best expresses the meaning of the Idiom/Phrase.

Fit as a fiddle

Options:

- 1) Healthy
- 2) Talented
- 3) Successful
- 4) Restless

Correct Answer: Healthy

Candidate Answer: Successful

QID : 163 - Improve the bracketed part of the sentence.

Like no two people are same, not (**every**) career is made for everyone.

Options:

- 1) each
- 2) any one
- 3) every other
- 4) No improvement

Correct Answer: any one

QID : 164 - Improve the bracketed part of the sentence.

Now one can follow their hobbies as a career (**to**) and all that is required is tapping your interest.

Options:

1) too

2) on

3) the

4) No improvement

Correct Answer: too

Candidate Answer: too

QID : 165 - In the following question, out of the four given alternatives, select the alternative which is the best substitute of the phrase.

A feather used as a pen.

Options:

1) Anthill

2) Instill

3) Quill

4) Squill

Correct Answer: Quill

Candidate Answer: [NOT ANSWERED]

QID : 166 - In the following question, out of the four given alternatives, select the alternative which is the best substitute of the phrase.

Two children born together.

Options:

1) Comple

2) Couplet

3) Twins

4) Adjoins

Correct Answer: Twins

Candidate Answer: Twins

QID : 167 - In the following question, a word has been written in four different ways out of which only one is correctly spelt. Select the correctly spelt word.

Options:

1) Gaurd

2) Garad

3) Guard

4) Guarad

Correct Answer: Guard

Candidate Answer: Guard

QID : 168 - In the following question, a word has been written in four different ways out of which only one is correctly spelt. Select the correctly spelt word.

Options:

1) Wenesday

2) Vednesday

3) Wednesday

4) Venesday

Correct Answer: Wednesday

Candidate Answer: Wednesday

QID : 169 - Rearrange the parts of the sentence in correct order.

Rainwater harvesting is the most

P: available in the areas lacking water

Q: many years to make water

R: suitable and effective way for



Options:

1) QRP

2) PQR

3) RQP

4) PRQ

Correct Answer: RQP

Candidate Answer: RQP

QID : 170 - Rearrange the parts of the sentence in correct order.

Awareness about the importance

P: relief from the female feticide

Q: is major weapon to get

R: of girl child in the society

Options:

1) RQP

2) PQR

3) QRP

4) PRQ

Correct Answer: RQP

Candidate Answer: RQP

QID : 171 - In the following passage some of the words have been left out. Read the passage carefully and select the correct answer for the given blank out of the four alternatives.

Earth is the only _____ planet in this universe where life is possible as it has basic necessities of life. We need to _____ the natural quality of our mother earth in order to continue the healthy life here. Save earth save environment and save earth save life are the most _____ slogans to _____ awareness about save earth among people. There are various means by which the condition of our earth is getting _____ day by day due to the pollution, greenhouse gases, etc. It is generating the harmful impact on environment and thus health of people. It is the responsibility of human beings to keep earth safe, clean and natural.

only _____ planet in this universe

Options:

1) known

2) left

3) discovered

4) named

Correct Answer: known

Candidate Answer: known

QID : 172 - In the following passage some of the words have been left out. Read the passage carefully and select the correct answer for the given blank out of the four alternatives.

Earth is the only _____ planet in this universe where life is possible as it has basic necessities of life. We need to _____ the natural quality of our mother earth in order to continue the healthy life here. Save earth save environment and save earth save life are the most _____ slogans to _____ awareness about save earth among people. There are various means by which the condition of our earth is getting _____ day by day due to the pollution, greenhouse gases, etc. It is generating the harmful impact on environment and thus health of people. It is the responsibility of human beings to keep earth safe, clean and natural.

need to _____ the natural quality

Options:

1) destroy

2) maintain

3) create

4) abort

Correct Answer: maintain

Candidate Answer: maintain

QID : 173 - In the following passage some of the words have been left out. Read the passage carefully and select the correct answer for the given blank out of the four alternatives.

Earth is the only _____ planet in this universe where life is possible as it has basic necessities of life. We need to _____ the natural quality of our mother earth in order to continue the healthy life here. Save earth save environment and save earth save life are the most _____ slogans to _____ awareness about save earth among people. There are various means by which the condition of our earth is getting _____ day by day due to the pollution, greenhouse gases, etc. It is generating the harmful impact on environment and thus health of people. It is the responsibility of human beings to keep earth safe, clean and natural.

life are the most _____ slogans



Options:

- 1) useless
- 2) irritating
- 3) famous
- 4) discarded

Correct Answer: famous

Candidate Answer: famous

QID : 174 - In the following passage some of the words have been left out. Read the passage carefully and select the correct answer for the given blank out of the four alternatives.

Earth is the only _____ planet in this universe where life is possible as it has basic necessities of life. We need to _____ the natural quality of our mother earth in order to continue the healthy life here. Save earth save environment and save earth save life are the most _____ slogans to _____ awareness about save earth among people. There are various means by which the condition of our earth is getting _____ day by day due to the pollution, greenhouse gases, etc. It is generating the harmful impact on environment and thus health of people. It is the responsibility of human beings to keep earth safe, clean and natural.

to _____ awareness

Options:

- 1) decrease
- 2) neutralize
- 3) abates
- 4) increase

Correct Answer: increase

Candidate Answer: increase

QID : 175 - In the following passage some of the words have been left out. Read the passage carefully and select the correct answer for the given blank out of the four alternatives.

Earth is the only _____ planet in this universe where life is possible as it has basic necessities of life. We need to _____ the natural quality of our mother earth in order to continue the healthy life here. Save earth save environment and save earth save life are the most _____ slogans to _____ awareness about save earth among people. There are various means by which the condition of our earth is getting _____ day by day due to the pollution, greenhouse gases, etc. It is generating the harmful impact on environment and thus health of people. It is the responsibility of human beings to keep earth safe, clean and natural.

getting _____ day by day

Options:

- 1) inclined
- 2) signed
- 3) climbed
- 4) declined

Correct Answer: declined

Candidate Answer: declined

QID : 176 - Which one of the following features is **NOT** correct about Mid-day Meal Scheme?

मिड-डे मील स्कीम के बारे में निम्न में से कौन सी एक बात सही नहीं है?

Options:

- 1) Encourage children's attendance in schools

स्कूलों में बच्चों की उपस्थिति को प्रोत्साहित करने के लिए

- 2) Retention of numbers of children

बच्चों की प्रतिधारण संख्या कायम रखने के लिए

- 3) Improve nutritional status

पोषण संबंधी स्थिति में सुधार

- 4) To increase cleanliness in schools

स्कूलों में स्वच्छता बढ़ाने के लिए

Correct Answer: To increase cleanliness in schools

स्कूलों में स्वच्छता बढ़ाने के लिए

Candidate Answer: To increase cleanliness in schools

स्कूलों में स्वच्छता बढ़ाने के लिए

QID : 177 - Which of the following sector contributes the lowest to the India's national income?

भारत की राष्ट्रीय आय में सबसे कम योगदान निम्नलिखित में से किस क्षेत्र का है?

Options:

- 1) Primary Sector
प्राथमिक क्षेत्र
- 2) Secondary Sector
द्वितीयक क्षेत्र
- 3) Tertiary sector
तृतीयक क्षेत्र
- 4) Secondary and Tertiary sector both
द्वितीयक और तृतीयक क्षेत्र दोनों

Correct Answer: Primary Sector
प्राथमिक क्षेत्र

Candidate Answer: Primary Sector
प्राथमिक क्षेत्र

QID : 178 - Who was the temporary president of the Constituent Assembly?

संविधान सभा के अस्थायी अध्यक्ष कौन थे?

Options:

- 1) Dr. B.R. Ambedkar
डॉ. बी.आर.अंबेडकर
- 2) Dr. Rajendra Prasad
डॉ. राजेंद्र प्रसाद
- 3) Dr. Sachchidananda Sinha
डॉ. सच्चिदानंद सिन्हा
- 4) K.M. Munshi
के.एम.मुंशी

Correct Answer: Dr. Sachchidananda Sinha
डॉ. सच्चिदानंद सिन्हा

Candidate Answer: Dr. Sachchidananda Sinha
डॉ. सच्चिदानंद सिन्हा

QID : 179 - Who determines the central-state financial relations from the following?

केंद्र-राज्य वित्तीय संबंधों का निर्धारण निम्नलिखित में से कौन करता है?

Options:

- 1) Ministry of Finance
वित्त मंत्रालय
- 2) National Development Council
राष्ट्रीय विकास परिषद
- 3) Planning Commission
योजना आयोग
- 4) Finance Commission
वित्त आयोग

Correct Answer: Finance Commission
वित्त आयोग

Candidate Answer: Finance Commission
वित्त आयोग

QID : 180 - During the reign of which of the following rulers the famous Chinese traveller Hiuen Tsang came to India?

प्रसिद्ध चीनी यात्री ह्वेनसांग निम्नलिखित में से किसके शासनकाल में भारत आया था?

Options:

- 1) Krishnadeva Raya
कृष्णदेव राय
- 2) Chandragupta I
चन्द्रगुप्त प्रथम
- 3) Harshvardhana
हर्षवर्धन
- 4) Ballal Sen
बल्लाल सेन

Correct Answer: Harshvardhana
हर्षवर्धन

Candidate Answer: Chandragupta I
चन्द्रगुप्त प्रथम

QID : 181 - What was Komagata Maru?

कामागाटा मारु क्या था?

Options:

1) A military troop of china

चीन की एक सैनिक टुकड़ी

2) A cultural party of Taiwan

ताईवान का एक सांस्कृतिक दल

3) A ship on to Canada trip

कनाडा की यात्रा पर निकला एक जहाज

4) A guerrilla troop of Indians in Burma

बर्मा में भारतीयों की एक छापामार टुकड़ी

Correct Answer: A ship on to Canada trip

कनाडा की यात्रा पर निकला एक जहाज

Candidate Answer: [NOT ANSWERED]

QID : 182 - Which one of the following is **NOT** an example of Block Mountain?

निम्नलिखित में से कौन सा एक ब्लॉक माउंटेन का एक उदाहरण **नहीं** है?

Options:

1) Vosges

वास्जेज

2) Satpura

सतपुड़ा

3) Black Forest

ब्लैक फारेस्ट

4) Fujiyama

फुजियामा

Correct Answer: Fujiyama

फुजियामा

Candidate Answer: [NOT ANSWERED]

QID : 183 - Which of the following rivers is known as "Oil River"?

निम्नलिखित में से किस नदी को "तेल नदी" के नाम से जाना जाता है?

Options:

1) Nile River

नील नदी

2) Zambezi River

जाम्बेजी नदी

3) Brahmaputra River

ब्रह्मपुत्र नदी

4) Niger River

नाइजर नदी

Correct Answer: Niger River

नाइजर नदी

Candidate Answer: [NOT ANSWERED]

QID : 184 - Who among the following is considered as the father of heredity?

आनुवांशिकता का जनक इनमें से किसे माना जाता है?

Options:

1) H.G. Khorana

एच.जी. खुराना

2) Charles Darwin

चार्ल्स डार्विन

3) Lamarck

लेमार्क

4) Gregor Mendel

ग्रेगर मेंडल

Correct Answer: Gregor Mendel

ग्रेगर मेंडल

Candidate Answer: [NOT ANSWERED]

QID : 185 - Pneumatic bones is an important characteristic of which of the vertebrate animal?

कशेरुक जंतुओं में से किसकी एक महत्वपूर्ण विशेषता वायवीय हड्डियां हैं?

Options:

- 1) Reptiles
सरीसृप
- 2) Amphibians
उभयचर
- 3) Aves
एविज
- 4) Mammals
स्तनधारी

Correct Answer: Aves

एविज

Candidate Answer: [NOT ANSWERED]

QID : 186 - Which one of the following is the causative organisms for malaria disease?

निम्नलिखित में से मलेरिया रोग होने के लिए कारक सूक्ष्मजीव कौन सा है?

Options:

- 1) Protozoa
प्रोटोजोआ
- 2) Virus
वायरस
- 3) Bacteria
जीवाणु
- 4) Fungi
कवक

Correct Answer: Protozoa

प्रोटोजोआ

Candidate Answer: Protozoa

प्रोटोजोआ

QID : 187 - Which of the following waves do not require any kind of medium to propagate?

निम्नलिखित में से कौन से तरंग के लिए किसी भी माध्यम की आवश्यकता नहीं है?

Options:

- 1) Sound
ध्वनि
- 2) Earthquake waves
भूकंप लहरें
- 3) Light waves
प्रकाश तरंगें
- 4) Water surface waves
पानी की सतह की तरंगें

Correct Answer: Light waves

प्रकाश तरंगें

Candidate Answer: Light waves

प्रकाश तरंगें

QID : 188 - Which one of the following is SI Unit of Power?

निम्नलिखित में से कौन सा एक शक्ति का एसआई (SI) इकाई है?

Options:

- 1) Joule
जूल
- 2) Watt
वाट
- 3) Newton Metre
न्यूटन मीटर
- 4) Kilo watt hour
किलोवाट घंटा

Correct Answer: Watt

वाट

Candidate Answer: Watt

वाट

QID : 189 - Which one of the following is **Not** an example of hardware device?

इनमें से कौन सा एक हार्डवेयर डिवाइस का उदाहरण **नहीं** है?

Options:

- 1) Monitor
मॉनिटर
- 2) MS Office
एमएस ऑफिस
- 3) Keyboard
कीबोर्ड
- 4) Mouse
माउस

Correct Answer: MS Office

एमएस ऑफिस

Candidate Answer: MS Office

एमएस ऑफिस

QID : 190 - Which one of the following is the chemical formula of Green Vitriol?

निम्नलिखित में से कौन सा एक हरा थोथा या हरा कसीस (ग्रीन विट्रिओल) का रासायनिक सूत्र है?

Options:

- 1) FeSO
- 2) Fe₂SO
- 3) CuSO₂
- 4) FeSO₄

Correct Answer: FeSO₄

Candidate Answer: [NOT ANSWERED]

QID : 191 - Which one of the following fibres is used to make parachutes?

निम्नलिखित में से किस रेशे (फाइबर) का इस्तेमाल पैराशूट बनाने में किया जाता है।

Options:

- 1) Plastic
प्लास्टिक
- 2) Rayon
रेयॉन
- 3) Nylon
नायलॉन
- 4) Terylene
टेरिलीन

Correct Answer: Nylon

नायलॉन

Candidate Answer: Terylene

टेरिलीन

QID : 192 - Which of the following series is true about energy flow in an ecosystem?

पारिस्थितिकी तंत्र में ऊर्जा प्रवाह के बारे में निम्नलिखित में से कौन सी श्रृंखला सही है?

Options:

- 1) Producers => Consumers => Decomposers
उत्पादक => उपभोक्ता => अपघटक
- 2) Consumers => Producers => Decomposers
उपभोक्ता => उत्पादक => अपघटक
- 3) Producers => Decomposers => Consumers
उत्पादक => अपघटक => उपभोक्ता
- 4) Decomposers => Consumers => Producers
अपघटक => उपभोक्ता => उत्पादक

Correct Answer: Producers => Consumers => Decomposers

उत्पादक => उपभोक्ता => अपघटक

Candidate Answer: Producers => Consumers => Decomposers

उत्पादक => उपभोक्ता => अपघटक

QID : 193 - Development of 'Industry and Minerals' was on top priority in which of the following Five Year Plan?

उद्योगों और खनिजों का विकास निम्नलिखित में से किस पंचवर्षीय योजना की सर्वोच्च प्राथमिकता थी?



Options:

- 1) First Five Year Plan
पहली पंचवर्षीय योजना
- 2) Second Five Year Plan
दूसरी पंचवर्षीय योजना
- 3) Third Five Year Plan
तीसरी पंचवर्षीय योजना
- 4) Fourth Five Year Plan
चौथी पंचवर्षीय योजना

Correct Answer: Second Five Year Plan

दूसरी पंचवर्षीय योजना

Candidate Answer: [NOT ANSWERED]

QID : 194 - Who among the following scientists invented the Barometer?

बैरोमीटर का आविष्कार निम्नलिखित वैज्ञानिकों में से किसने किया?

Options:

- 1) Humphrey Davy
हम्फ्री डेवी
- 2) Thomas Edison
थॉमस एडिसन
- 3) E. Torricelli
ई. टोरीसेली
- 4) Pascal
पास्कल

Correct Answer: E. Torricelli

ई. टोरीसेली

Candidate Answer: E. Torricelli

ई. टोरीसेली

QID : 195 - Which tennis tournament is often referred to as 'Roland Garros'?

किस टेनिस टूर्नामेंट को प्रायः 'रोलां गैरो' कहा जाता है?

Options:

- 1) Australian Open
ऑस्ट्रेलियन ओपन
- 2) Wimbledon
विंबलडन
- 3) US Open
यूएस ओपन
- 4) French Open
फ्रेंच ओपन

Correct Answer: French Open

फ्रेंच ओपन

Candidate Answer: [NOT ANSWERED]

QID : 196 - Which city of Uttar Pradesh is associated with Kumbh Mela?

उत्तर प्रदेश का कौन सा शहर कुंभ मेला से जुड़ा हुआ है?

Options:

- 1) Kanpur
कानपुर
- 2) Lucknow
लखनऊ
- 3) Prayag
प्रयाग
- 4) Varanasi
वाराणसी

Correct Answer: Prayag

प्रयाग

Candidate Answer: Varanasi

वाराणसी

QID : 197 - On whose name is the highest award for services to the development of cinema given?

किनके नाम पर सिनेमा के विकास और सेवाओं के लिए सर्वोच्च पुरस्कार दिया जाता है?



Options:

1) Amitabh Bachchan

अमिताभ बच्चन

2) Dilip Kumar

दिलीप कुमार

3) Dada Saheb Falke

दादा साहेब फाल्के

4) Raj Kapoor

राज कपूर

Correct Answer: Dada Saheb Falke

दादा साहेब फाल्के

Candidate Answer: Dada Saheb Falke

दादा साहेब फाल्के

QID : 198 - Which of the following books had Chand Bardai written?

चंदबरदाई ने निम्नलिखित पुस्तक में से कौन सी पुस्तक लिखी है?

Options:

1) Prithviraj Raso

पृथ्वीराज रासो

2) Bahubali Raso

बाहुबली रासो

3) Prem Raso

प्रेम रासो

4) Ras Raso

रास रासो

Correct Answer: Prithviraj Raso

पृथ्वीराज रासो

Candidate Answer: Prithviraj Raso

पृथ्वीराज रासो

QID : 199 - With which of the following countries India has Kalapani and Susta territorial dispute?

कालापानी और सुस्ता क्षेत्रीय विवाद निम्नलिखित में भारत और देश से किसके साथ है?

Options:

1) Pakistan

पाकिस्तान

2) Sri Lanka

श्रीलंका

3) Nepal

नेपाल

4) Bangladesh

बांग्लादेश

Correct Answer: Nepal

नेपाल

Candidate Answer: Nepal

नेपाल

QID : 200 - In which of the following countries Mount Pedro is located?

माउंट पेद्रो निम्नलिखित में से किस देश में अवस्थित है?

Options:

1) Myanmar

म्यांमार

2) Bhutan

भूटान

3) Sri Lanka

श्रीलंका

4) Nepal

नेपाल

Correct Answer: Sri Lanka

श्रीलंका

Candidate Answer: [NOT ANSWERED]