



**Staff Selection Commission**  
(Government Of India)

**REGISTRATION NUMBER :** [REDACTED]  
**EXAM DATE :** 25-October-2017  
**EXAM NAME :** SSC Examination  
**TOTAL MARKS :** 150

**CANDIDATE NAME :** [REDACTED]  
**EXAM START TIME :** 16:30:00  
**EXAM DURATION :** 01:30 Hrs  
**TOTAL NO OF QUESTIONS :** 100

**QID : 201 -**

In the following question, select the number which can be placed at the sign of question mark (?) from the given alternatives.

निम्नलिखित प्रश्न में दिए गए विकल्पों में से प्रश्न चिह्न (?) के स्थान पर आने वाली संख्या को चुनिए।

4	5	19
8	3	22
7	5	32
8	6	?

**Options:**

- 1) 48
- 2) 40
- 3) 44
- 4) 36

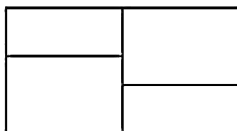
**Correct Answer:** 44

**Candidate Answer:** 44

**QID : 202 -**

How many rectangles are there in the given figure?

दी गई आकृति में कितने आयत हैं?



**Options:**

- 1) 6
- 2) 7
- 3) 8
- 4) 9

**Correct Answer:** 7

**Candidate Answer:** 7

**QID : 203 -**

A word is represented by only one set of numbers as given in any one of the alternatives. The sets of numbers given in the alternatives are represented by two classes of alphabets as shown in the given two matrices. The columns and rows of **Matrix-I** are numbered from 0 to 4 and that of **Matrix-II** are numbered from 5 to 9. A letter from these matrices can be represented first by its row and next by its column, for example, 'A' can be represented by 32, 85, etc., and 'N' can be represented by 04, 89, etc. Similarly, you have to identify the set for the word "TACT".

एक शब्द केवल एक संख्या-समूह द्वारा दर्शाया गया है, जैसा कि विकल्पों में से किसी एक में दिया गया है। विकल्पों में दिए गए संख्या-समूह अक्षरों के दो वर्गों द्वारा दर्शाए गए हैं, जैसा कि दिए गए दो आव्यूहों में है। **आव्यूह-I** के स्तम्भ और पंक्ति की संख्या 0 से 4 है और **आव्यूह-II** की 5 से 9। इन आव्यूहों से एक अक्षर को पहले उसकी पंक्ति और बाद में स्तम्भ संख्या द्वारा दर्शाया जा सकता है। उदाहरण के लिए 'A' को 32, 85 आदि द्वारा दर्शाया जा सकता है तथा 'N' को 04, 89, आदि द्वारा दर्शाया जा सकता है। इसी तरह से आपको प्रश्न में दिए शब्द "TACT" के लिए समूह को पहचानना है।

Matrix-I आव्यूह-I					Matrix-II आव्यूह-II						
	0	1	2	3	4		5	6	7	8	9
0	F	E	J	T	N	5	U	E	S	V	X
1	Y	M	B	C	A	6	O	K	F	C	Z
2	Z	G	W	I	Q	7	L	Q	Z	Y	D
3	D	F	A	L	R	8	A	E	I	S	N
4	U	I	Y	V	X	9	L	M	T	C	I

**Options:**

- 1) 03, 14, 13, 97
- 2) 31, 32, 02, 03
- 3) 97, 86, 97, 98
- 4) 20, 89, 68, 23

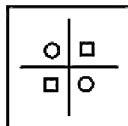
**Correct Answer:** 03, 14, 13, 97

**Candidate Answer:** 03, 14, 13, 97

**QID : 204 -**

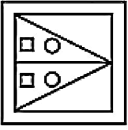
From the given answer figures, select the one in which the question figure is hidden/embedded.

दी गई उत्तर आकृतियों में से उस उत्तर आकृति को चुनिए जिस में प्रश्न आकृति निहित है।

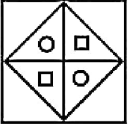


Options:

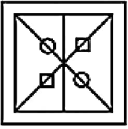
1)



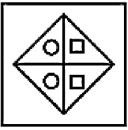
2)



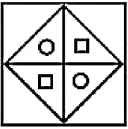
3)



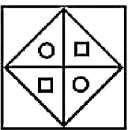
4)



Correct Answer:



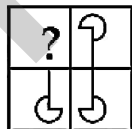
Candidate Answer:



QID : 205 -

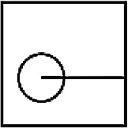
Which answer figure will complete the pattern in the question figure?

कौन सी उत्तर आकृति प्रश्न आकृति के प्रतिरूप को पूरा करेगी?

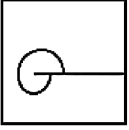


Options:

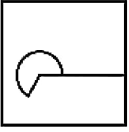
1)



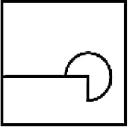
2)



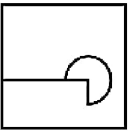
3)



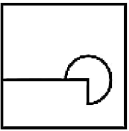
4)



Correct Answer:



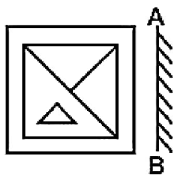
Candidate Answer:



QID : 206 -

If a mirror is placed on the line AB, then which of the answer figures is the right image of the given figure?

यदि एक दर्पण को AB रेखा पर रखा जाए, तो दी गई उत्तर आकृतियों में से कौन सी आकृति प्रश्न आकृति की सही प्रतिबिम्ब होगी?



Options:

1)



2)



3)



4)



Correct Answer:



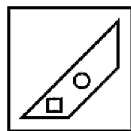
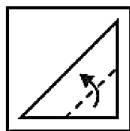
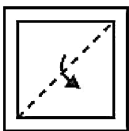
Candidate Answer:



QID : 207 -

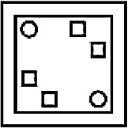
A piece of paper is folded and punched as shown below in the question figures. From the given answer figures, indicate how it will appear when opened?

नीचे के प्रश्न आकृतियों में दिखाए अनुसार कागज को मोड़कर छेदने तथा खोलने के बाद वह किस उत्तर आकृति जैसा दिखाई देगा?

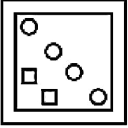


Options:

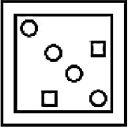
1)



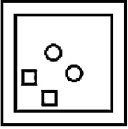
2)



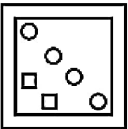
3)



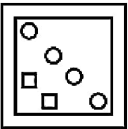
4)



Correct Answer:



Candidate Answer:



QID : 208 - If 'P' means '+', 'Q' means '+', 'R' means 'x' and 'S' means '-', then

54 R 11 P 99 Q 23 S 14 = ?

यदि 'P' का अर्थ '+', 'Q' का अर्थ '+', 'R' का अर्थ 'x' तथा 'S' का अर्थ '-' हो, तो

54 R 11 P 99 Q 23 S 14 = ?

Options:

- 1) 35
- 2) 15
- 3) 44
- 4) 57

Correct Answer: 15

Candidate Answer: 15

QID : 209 - If  $6 P 3 Q 1 = 19$  and  $5 P 2 Q 7 = 17$ , then  $3 P 4 Q 2 = ?$

यदि  $6 P 3 Q 1 = 19$  तथा  $5 P 2 Q 7 = 17$  हो, तो  $3 P 4 Q 2 = ?$

Options:

- 1) 17
- 2) 14
- 3) 16
- 4) 9

Correct Answer: 14

Candidate Answer: 14

**QID : 210** - Arrange the given words in the sequence in which they occur in the dictionary.

1. Locker
2. Lamp
3. Lost
4. Longer
5. Listed

निम्नलिखित शब्दों को शब्दकोश में आने वाले क्रम के अनुसार लिखें।

1. Locker
2. Lamp
3. Lost
4. Longer
5. Listed

**Options:**

1) 25314

2) 25143

3) 25134

4) 25431

**Correct Answer:** 25143

**Candidate Answer:** 25143

**QID : 211** - In the following question, select the missing number from the given series.

**6, 7, 9, 12, 16, ?**

निम्नलिखित प्रश्न में दिए गए विकल्पों में से लुप्त अंक ज्ञात कीजिए।

**6, 7, 9, 12, 16, ?**

**Options:**

1) 20

2) 21

3) 22

4) 23

**Correct Answer:** 21

**Candidate Answer:** 21

**QID : 212** - A series is given with one term missing. Select the correct alternative from the given ones that will complete the series.

**AZ, BY, CX, DW, ?**

एक अनुक्रम दिया गया है, जिसमें से एक पद लुप्त है। दिए गए विकल्पों में से वह सही विकल्प चुनिए, जो अनुक्रम को पूरा करे।

**AZ, BY, CX, DW, ?**

**Options:**

1) EU

2) FV

3) EV

4) FU

**Correct Answer:** EV

**Candidate Answer:** EV

**QID : 213** - In the following question, select the odd word from the given alternatives.

निम्नलिखित प्रश्न में दिए गए विकल्पों में से विषम शब्द को चुनिए।

**Options:**

1) Lips

होंठ

2) Hand

हाथ

3) Feet

पैर

4) Liver

यकृत

**Correct Answer:** Liver

यकृत

**Candidate Answer:** Liver

यकृत

**QID : 214** - In the following question, select the odd number pair from the given alternatives.

निम्नलिखित प्रश्न में दिए गए विकल्पों में से विषम संख्या युग्म को चुनिए।

**Options:**

- 1) 4 - 16
- 2) 5 - 24
- 3) 6 - 36
- 4) 7 - 49

**Correct Answer:** 5 - 24

**Candidate Answer:** 5 - 24

**QID : 215** - In the following question, select the odd letters from the given alternatives.

निम्नलिखित प्रश्न में दिए गए विकल्पों में से विषम अक्षरों को चुनिए।

**Options:**

- 1) AB
- 2) YZ
- 3) RQ
- 4) VW

**Correct Answer:** RQ

**Candidate Answer:** RQ

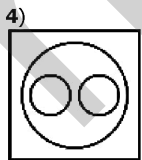
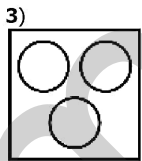
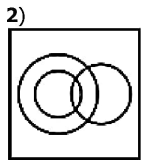
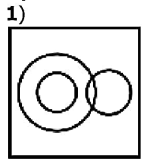
**QID : 216** - Identify the diagram that best represents the relationship among the given classes.

**Spoon, Fork, Utensils**

वह आरेख चुनिए जो नीचे दिए गए वर्गों के बीच के संबंध का सही निरूपण करता है।

चम्मच, काँटा, बर्तन

**Options:**



**Correct Answer:**



**Candidate Answer:**





**QID : 217** - In the following question, select the related word from the given alternatives.

**Water : Thirst :: Food : ?**

निम्नलिखित प्रश्न में दिए गए विकल्पों में से संबंधित शब्द को चुनिए।

**जल : प्यास :: भोजन : ?**

**Options:**

- 1) Cook  
पकाना
- 2) Hunger  
भूख
- 3) Eat  
खाना
- 4) Stomach  
उदर

**Correct Answer:** Hunger

भूख

**Candidate Answer:** Hunger

भूख

**QID : 218** - In the following question, select the related number from the given alternatives.

**372 : 42 :: 456 : ?**

निम्नलिखित प्रश्न में दिए गए विकल्पों में से संबंधित संख्या को चुनिए।

**372 : 42 :: 456 : ?**

**Options:**

- 1) 120
- 2) 60
- 3) 30
- 4) 40

**Correct Answer:** 120

**Candidate Answer:** 120

**QID : 219** - In the following question, select the related letters from the given alternatives.

**GAME : ECKG :: ROME : ?**

निम्नलिखित प्रश्न में दिए गए विकल्पों में से संबंधित अक्षरों को चुनिए।

**GAME : ECKG :: ROME : ?**

**Options:**

- 1) PQKG
- 2) PQKH
- 3) PRKG
- 4) PRKH

**Correct Answer:** PQKG

**Candidate Answer:** PQKG

**QID : 220** - In the following question, select the word which cannot be formed using the letters of the given word.

**TRAMPOLINE**

निम्नलिखित विकल्पों में से वह शब्द चुनिए जो दिए गए शब्द के अक्षरों का प्रयोग करके नहीं बनाया जा सकता।

**TRAMPOLINE**

**Options:**

- 1) TRAM
- 2) MINER
- 3) TRAIN
- 4) PAID

**Correct Answer:** PAID

**Candidate Answer:** PAID

**QID : 221** - There are 50 building in a row. Green building is 14<sup>th</sup> from right end. What is its position from the left end?

एक पंक्ति में 50 ईमारत हैं। हरी ईमारत दायें छोर से 14 वीं है। बायें छोर से इसका स्थान क्या है?

**Options:**

1) 37

2) 36

3) 38

4) 35

**Correct Answer:** 37

**Candidate Answer:** 37

**QID : 222** - The present ages of P and Q are in ratio 3 : 5. 6 years ago the sum of their ages was 52 years. What is the present age (in years) of Q?

P तथा Q की वर्तमान आयु 3 : 5 के अनुपात में हैं। 6 वर्ष पूर्व उनकी आयु का योग 52 वर्ष था। Q की वर्तमान आयु (वर्षों में) क्या है?

**Options:**

1) 30

2) 24

3) 40

4) 36

**Correct Answer:** 40

**Candidate Answer:** 40

**QID : 223** - In the following question below are given some statements followed by some conclusions. Taking the given statements to be true even if they seem to be at variance from commonly known facts, read all the conclusions and then decide which of the given conclusion logically follows the given statements.

**Statements:**

I. Some red are black.

II. No red is green.

**Conclusions:**

I. Some black are green.

II. Some black are red.

नीचे दिए गए प्रश्न में कुछ कथन और उनके बाद उन कथनों पर आधारित कुछ निष्कर्ष दिए गए हैं, हालांकि उनमें सामान्य ज्ञात तथ्यों से भिन्नता हो सकती है। सभी निष्कर्ष पढ़ें और फिर निर्धारित करें कि दिए गए कौन से निष्कर्ष, दिए गए कथनों के आधार पर युक्तिसंगत हैं।

**कथन:**

I. कुछ लाल काले हैं।

II. कोई लाल हरा नहीं है।

**निष्कर्ष:**

I. कुछ काला हरे हैं।

II. कुछ काले लाल हैं।

**Options:**

1) Only conclusion (I) follows.

केवल निष्कर्ष (I) सही है।

2) Only conclusion (II) follows.

केवल निष्कर्ष (II) सही है।

3) Both conclusion follow.

दोनों ही निष्कर्ष सही हैं।

4) Neither conclusion (I) nor conclusion (II) follows.

न तो निष्कर्ष (I) न ही निष्कर्ष (II) सही है।

**Correct Answer:** Only conclusion (II) follows.

केवल निष्कर्ष (II) सही है।

**Candidate Answer:** Only conclusion (II) follows.

केवल निष्कर्ष (II) सही है।

**QID : 224** - In a certain code language, "STRANGE" is written as "HGIZMTV". How is "FRAUD" written in that code language?

एक विशिष्ट कोड भाषा में, "STRANGE" को "HGIZMTV" लिखा जाता है। इस कोड भाषा में "FRAUD" को किस प्रकार लिखा जाएगा?

**Options:**

1) UZIWD

2) UIZFW

3) WFARU

4) WDNMR

**Correct Answer:** UIZFW

**Candidate Answer:** UIZFW

**QID : 225** - In a certain code language, "SALE" is written as "35" and "FLAT" is written as "37". How is "TAKE" written in that code language?

एक विशिष्ट कोड भाषा में, "SALE" को "35" तथा "FLAT" को "37" लिखा जाता है। इस कोड भाषा में "TAKE" को किस प्रकार लिखा जाएगा?

**Options:**

1) 36

2) 33

3) 37

4) 35

**Correct Answer:** 35

**Candidate Answer:** 35

**QID : 226** - For what value of A, number 33A1 is divisible by 9?

A के किस मान के लिए संख्या 33A1, 9 से विभाज्य है?

**Options:**

1) 4

2) 2

3) 9

4) 6

**Correct Answer:** 2

**Candidate Answer:** 2

**QID : 227** - Which of the following statement(s) is/are true?

**I.** There are 12 multiples of 9 from 7 to 109.

**II.** There are 9 multiples of 13 from 19 to 119.

निम्नलिखित में से कौन सा/से कथन सत्य है/हैं?

**I.** 7 से 109 तक 9 के 12 गुणांक है।

**II.** 19 से 119 तक 13 के 9 गुणांक है।

**Options:**

1) Only I

केवल I

2) Only II

केवल II

3) Both I and II

I तथा II दोनों

4) Neither I nor II

न तो I न ही II

**Correct Answer:** Only I

केवल I

**Candidate Answer:** Only I

केवल I

**QID : 228** - How many numbers are there from 14 to 159 which are divisible by both 2 and 8?

14 से 159 तक ऐसी कितनी संख्याएँ हैं जो 2 तथा 8 दोनों से विभाज्य होती है?

**Options:**

1) 7

2) 9

3) 11

4) 12

**Correct Answer:** 9

**Candidate Answer:** 9

**QID : 229** - What is the least common multiple of (4/9) and (16/27)?

(4/9) तथा (16/27) का लघुत्तम समापवर्त क्या है?

**Options:**

1) 16/9

2) 2

3) 15/9

4) 15/16

**Correct Answer:** 16/9

**Candidate Answer:** 16/9

**QID : 230** - Which of the following number is completely divisible by 4?

निम्नलिखित में से कौन सी संख्या 4 से पूर्णतः विभाज्य होती है?

**Options:**

- 1) 97634
- 2) 47654
- 3) 83544
- 4) 31459

**Correct Answer:** 83544

**Candidate Answer:** 83544

**QID : 231** - What is the simplified value of  $[(\sqrt{41} + \sqrt{7}) \div (\sqrt{41} - \sqrt{7})]$ ?

$[(\sqrt{41} + \sqrt{7}) \div (\sqrt{41} - \sqrt{7})]$  का सरलीकृत मान क्या है?

**Options:**

- 1)  $(24 + \sqrt{287})/17$
- 2)  $(24 - \sqrt{287})/17$
- 3)  $(\sqrt{41} + \sqrt{7})/2$
- 4)  $(\sqrt{51} - \sqrt{41})$

**Correct Answer:**  $(24 + \sqrt{287})/17$

**Candidate Answer:**  $(24 + \sqrt{287})/17$

**QID : 232** - L alone can complete a work in 200 hours. M alone can complete the same work in 150 hours. L, M and N together can complete the same work in 60 hours. In how many hours can N alone complete the work?

L एक कार्य को अकेला 200 घंटे में पूरा कर सकता है। M उसी कार्य को अकेला 150 घंटे में पूरा कर सकता है। L, M तथा N मिलकर उसी कार्य को 60 घंटे में पूरा कर सकते हैं। N अकेला उस कार्य को कितने घंटे में पूरा करेगा?

**Options:**

- 1) 200
- 2) 240
- 3) 180
- 4) 120

**Correct Answer:** 200

**Candidate Answer:** 200

**QID : 233** - Mukesh and Dinesh together can complete a work in 120 days. Mukesh alone can complete the work in 150 days. In how many days can Dinesh alone complete the work?

मुकेश तथा दिनेश एक कार्य को मिलकर 120 दिनों में पूरा कर सकते हैं। मुकेश अकेला कार्य को 150 दिनों में पूरा कर सकता है। दिनेश अकेला उस कार्य को कितने दिनों में पूरा करेगा?

**Options:**

- 1) 650
- 2) 720
- 3) 450
- 4) 600

**Correct Answer:** 600

**Candidate Answer:** 600

**QID : 234** - What is the area (in  $\text{cm}^2$ ) of an equilateral triangle whose side is 12 cm?

एक समबाहु त्रिभुज जिसकी भुजा 12 से.मी. है, का क्षेत्रफल (से.मी.<sup>2</sup> में) क्या है?

**Options:**

- 1)  $24\sqrt{3}$
- 2)  $36\sqrt{3}$
- 3)  $42\sqrt{3}$
- 4)  $48\sqrt{3}$

**Correct Answer:**  $36\sqrt{3}$

**Candidate Answer:**  $36\sqrt{3}$

**QID : 235** - An article has marked price of Rs 7600 and is available at a discount of 15%. The shopkeeper gives another discount to the buyer and sells the article for Rs 5814. What is the second discount (in %) offered?

एक वस्तु का अंकित मूल्य 7600 रु है तथा 15% की छूट पर उपलब्ध है। दुकानदार, ग्राहक को एक अतिरिक्त छूट देता है तथा वस्तु को 5814 रु में बेच देता है। दूसरी बार दी गई छूट (% में) कितनी है?

**Options:**

- 1) 20
- 2) 10
- 3) 12.5

**Correct Answer:** 10

**Candidate Answer:** 10

**QID : 236** - Mohan purchased an article at a discount of 30% and sold it to Shyam at 20% profit. What is the ratio between the marked price and the price for which Shyam purchased the article?

मोहन एक वस्तु को 30% की छूट पर खरीदता है तथा इसे श्याम को 20% के लाभ पर बेच देता है। अंकित मूल्य तथा जिस मूल्य पर श्याम ने वस्तु को खरीदा है, के बीच का अनुपात क्या है?

**Options:**

1) 25 : 21

2) 20 : 17

3) 12 : 11

4) 4 : 1

**Correct Answer:** 25 : 21

**Candidate Answer:** 25 : 21

**QID : 237** - The ratio of two numbers is 11 : 14. If their difference is 51, then what is the smallest number?

दो संख्याओं का अनुपात 11 : 14 है। यदि उनका अंतर 51 है, तो सबसे छोटी संख्या क्या है?

**Options:**

1) 187

2) 238

3) 133

4) 94

**Correct Answer:** 187

**Candidate Answer:** 187

**QID : 238** - Of three positive numbers, the ratio of first and second is 5 : 6 and that of second and third is 9 : 1. The product of first and third number is 480. What is the sum of the three numbers?

तीन धनात्मक संख्याओं में पहली तथा दूसरी का अनुपात 5 : 6 है और दूसरी तथा तीसरी का अनुपात 9 : 1 है। पहली तथा तीसरी संख्या का गुणनफल 480 है। तीनों संख्याओं का योग क्या है?

**Options:**

1) 560

2) 640

3) 720

4) 840

**Correct Answer:** 560

**Candidate Answer:** 560

**QID : 239** - Average of 10 consecutive even numbers is 11. Which number is the smallest of the 10 numbers?

10 क्रमागत सम संख्याओं का औसत 11 है। 10 संख्याओं में से सबसे छोटी संख्या कौन सी है?

**Options:**

1) 4

2) 6

3) 8

4) 2

**Correct Answer:** 2

**Candidate Answer:** 2

**QID : 240** - By Selling 4 articles for 1 rupee, a man losses 50%. Had he sold 2 articles per rupee, then what will be the profit percentage?

1 रुपये में 4 वस्तुओं को बेचने पर एक व्यक्ति को 50% की हानि होती है। यदि वह एक रुपये में 2 वस्तुएँ बेचे, तो लाभ प्रतिशत क्या होगा?

**Options:**

1) 20

2) 30

3) 25

4) 0

**Correct Answer:** 0

**Candidate Answer:** 0

**QID : 241** - An article was sold at 25% gain. Had it been sold for Rs 375 more, then the gain would have been 50%. What is the cost price (in Rs) of the article?

एक वस्तु को 25% लाभ पर बेचा गया। यदि 375 रु के अधिक मूल्य पर उसे बेचा जाता, तो 50% का लाभ होता है। वस्तु का क्रय मूल्य (रु में) क्या है?

**Options:**

- 1) 1000
- 2) 1500
- 3) 1800
- 4) 2000

**Correct Answer:** 1500**Candidate Answer:** 1500

**QID : 242** - A man spends 75% of his income and saves the rest. If his income increases by 50% and spending increases by 80%, then what is the percentage change in his savings?

एक व्यक्ति अपनी आय का 75% खर्च कर देता है तथा बाकी बचाता है। यदि उसकी आय 50% से बढ़ती है तथा खर्च भी 80% से बढ़ जाता है, तो उसकी बचत में कितना प्रतिशत परिवर्तन हुआ है?

**Options:**

- 1) 40% decrease  
40% की कमी
- 2) 50% increase  
50% की वृद्धि
- 3) 50% decrease  
50% की कमी
- 4) 40% increase  
40% की वृद्धि

**Correct Answer:** 40% decrease

40% की कमी

**Candidate Answer:** 40% decrease

40% की कमी

**QID : 243** - In a college 40% students are graduates. If the number of graduates is 7000, then what are the total number of students in the college?

एक महाविद्यालय में 40% छात्र स्नातक हैं। यदि स्नातकों की संख्या 7000 है, तो महाविद्यालय में छात्रों की कुल संख्या क्या है?

**Options:**

- 1) 19500
- 2) 18000
- 3) 17500
- 4) 21500

**Correct Answer:** 17500**Candidate Answer:** 17500

**QID : 244** - The downstream speed of a boat is 42 km/hr and the speed of current is 3 km/hr. What is the total time (in hours) taken by the boat to cover 72 km upstream and 84 km downstream?

किसी नाव की गति धारा के अनुकूल 42 कि.मी./घंटा है तथा धारा की गति 3 कि.मी./घंटा है। धारा के विपरीत 72 कि.मी. तथा धारा के अनुकूल 84 कि.मी. की दूरी तय करने में नाव को कुल कितना समय (घंटों में) लगता है?

**Options:**

- 1) 3
- 2) 4
- 3) 5
- 4) 6

**Correct Answer:** 4**Candidate Answer:** 4

**QID : 245** - Jatin goes to a place at a speed of 5 km/hr and return home at speed of 10 km/hr. What is his average speed (in km/hr)?

जतिन 5 कि.मी./घंटे की गति से एक स्थान तक जाता है तथा 10 कि.मी./घंटे की गति से घर वापस आता है। उसकी औसत गति (कि.मी./घंटा में) क्या है?

**Options:**

- 1) 6.5
- 2) 6.8
- 3) 6.67
- 4) 8

**Correct Answer:** 6.67**Candidate Answer:** 6.67

**QID : 246** - What is the sum (in Rs) of money which will become Rs 26620 at the rate of 10% per annum at compound interest in three years?

वह धनराशि (रु में) क्या है जो तीन वर्षों में 10% की वार्षिक ब्याज दर से चक्रवृद्धि ब्याज पर 26620 रु हो जायेगी?

**Options:**

- 1) 20000
- 2) 22000
- 3) 25000
- 4) 26000

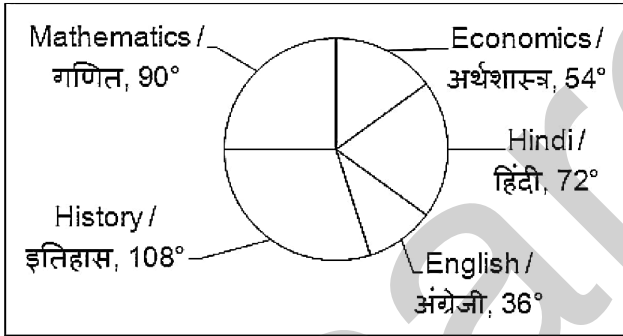
**Correct Answer:** 20000

**Candidate Answer:** 20000

**QID : 247 -**

The pie chart given below shows the number of marks scored by a student in the given 5 subjects. The total marks scored by the student is 480.

नीचे दिए गए वृत्त चित्र में दिए गए 5 विषयों में एक विद्यार्थी द्वारा प्राप्त अंकों को दर्शाया गया है। विद्यार्थी द्वारा प्राप्त कुल अंक 480 है।



What is the difference between the marks scored by the student in Mathematics and the marks scored in Hindi?

विद्यार्थी द्वारा गणित में प्राप्त अंकों तथा हिंदी में प्राप्त अंकों के मध्य अंतर क्या है?

**Options:**

- 1) 36
- 2) 25
- 3) 24
- 4) 45

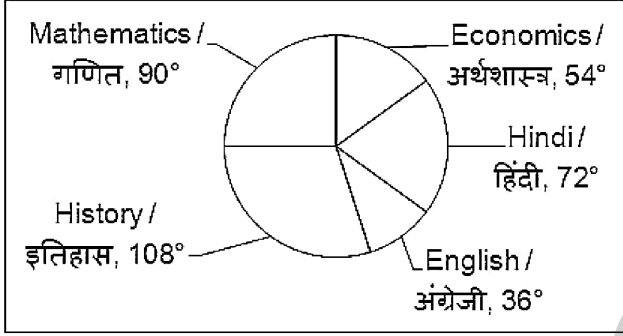
**Correct Answer:** 24

**Candidate Answer:** 24

QID : 248 -

The pie chart given below shows the number of marks scored by a student in the given 5 subjects. The total marks scored by the student is 480.

नीचे दिए गए वृत्त चित्र में दिए गए 5 विषयों में एक विद्यार्थी द्वारा प्राप्त अंकों को दर्शाया गया है। विद्यार्थी द्वारा प्राप्त कुल अंक 480 है।



The marks scored by the student in Hindi is how much percent more than the marks scored in Economics?

विद्यार्थी द्वारा हिंदी में प्राप्त अंक अर्थशास्त्र में प्राप्त अंकों से कितने प्रतिशत अधिक है?

**Options:**

- 1) 27
- 2) 9
- 3) 33.33
- 4) 18

**Correct Answer:** 33.33

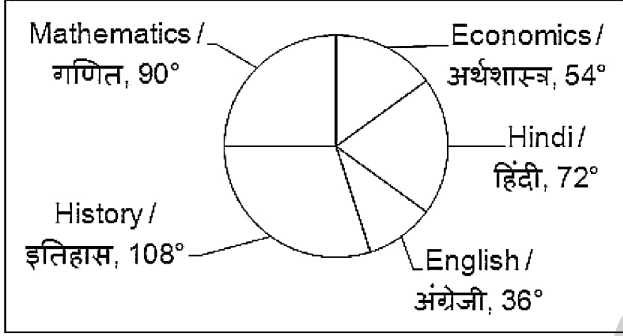
**Candidate Answer:** 33.33



QID : 249 -

The pie chart given below shows the number of marks scored by a student in the given 5 subjects. The total marks scored by the student is 480.

नीचे दिए गए वृत्त चित्र में दिए गए 5 विषयों में एक विद्यार्थी द्वारा प्राप्त अंकों को दर्शाया गया है। विद्यार्थी द्वारा प्राप्त कुल अंक 480 है।



What is the average marks scored by the student in Hindi and Mathematics?

विद्यार्थी द्वारा हिंदी तथा गणित में प्राप्त औसत अंक क्या है?

**Options:**

- 1) 120
- 2) 216
- 3) 96
- 4) 108

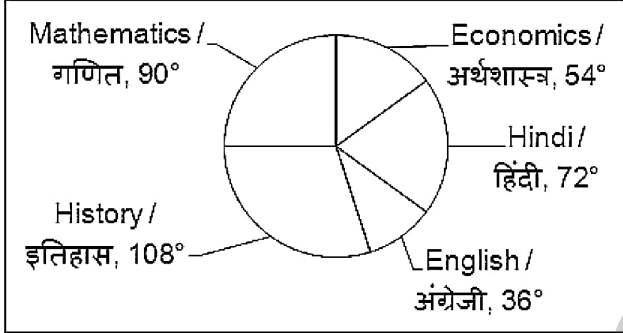
**Correct Answer:** 108

**Candidate Answer:** 108

**QID : 250 -**

The pie chart given below shows the number of marks scored by a student in the given 5 subjects. The total marks scored by the student is 480.

नीचे दिए गए वृत्त चित्र में दिए गए 5 विषयों में एक विद्यार्थी द्वारा प्राप्त अंकों को दर्शाया गया है। विद्यार्थी द्वारा प्राप्त कुल अंक 480 है।



In which of the following 2 subjects the sum of marks scored by the student is equal to the marks scored in Mathematics?

निम्नलिखित में से किन 2 विषयों में विद्यार्थी द्वारा कुल प्राप्त अंक गणित में प्राप्त अंकों के बराबर है?

**Options:**

- 1) Hindi and History  
हिंदी तथा इतिहास
- 2) Economics and English  
अर्थशास्त्र तथा अंग्रेजी
- 3) Mathematics and Hindi  
गणित तथा हिंदी
- 4) English and Hindi  
अंग्रेजी तथा हिंदी

**Correct Answer:** Economics and English  
अर्थशास्त्र तथा अंग्रेजी

**Candidate Answer:** Economics and English  
अर्थशास्त्र तथा अंग्रेजी

**QID : 251 -** In the following question, some part of the sentence may have errors. Find out which part of the sentence has an error and select the appropriate option. If a sentence is free from error, select 'No Error'.

The Chairman of the company urged all employees (1)/ to refrain from making long personal calls during (2)/ working hours in order to boost productivity. (3)/ No error (4)

**Options:**

- 1) 1
- 2) 2
- 3) 3
- 4) 4

**Correct Answer:** 1

**Candidate Answer:** 3

**QID : 252 -** In the following question, some part of the sentence may have errors. Find out which part of the sentence has an error and select the appropriate option. If a sentence is free from error, select 'No Error'.

For the same reason, Business Correspondent Agents which (1)/ constitute the primary channel for financial inclusion (2)/ are unable to pursue their activity as a fulltime job. (3)/ No error (4)

**Options:**

- 1) 1
- 2) 2
- 3) 3
- 4) 4

**Correct Answer:** 1

**Candidate Answer:** 3

**QID : 253** - In the following question, the sentence given with blank to be filled in with an appropriate word. Select the correct alternative out of the four and indicate it by selecting the appropriate option.

**I shall be \_\_\_\_\_ to go.**

**Options:**

- 1) now
- 2) obliged
- 3) oblige
- 4) meander

**Correct Answer:** obliged

**Candidate Answer:** obliged

**QID : 254** - In the following question, the sentence given with blank to be filled in with an appropriate word. Select the correct alternative out of the four and indicate it by selecting the appropriate option.

**I write \_\_\_\_\_ my sister every month.**

**Options:**

- 1) in
- 2) of
- 3) to
- 4) at

**Correct Answer:** to

**Candidate Answer:** to

**QID : 255** - In the following question, out of the given four alternatives, select the one which best expresses the meaning of the given word.

**Float**

**Options:**

- 1) Slide
- 2) Drown
- 3) Sink
- 4) Decline

**Correct Answer:** Slide

**Candidate Answer:** Drown

**QID : 256** - In the following question, out of the given four alternatives, select the one which best expresses the meaning of the given word.

**Grab**

**Options:**

- 1) Catch
- 2) Release
- 3) Forgo
- 4) Yield

**Correct Answer:** Catch

**Candidate Answer:** Yield

**QID : 257** - In the following question, out of the given four alternatives, select the one which best expresses the meaning of the given word.

**Oversee**

**Options:**

- 1) Supervise
- 2) Follow
- 3) Obey
- 4) Neglect

**Correct Answer:** Supervise

**Candidate Answer:** Neglect

**QID : 258** - In the following question, out of the given four alternatives, select the one which is opposite in meaning of the given word.

**Menacing**

**Options:**

- 1) Helping
- 2) Alarming
- 3) Frightening
- 4) Approaching

**Correct Answer:** Helping

**Candidate Answer:** Helping

**QID : 259** - In the following question, out of the given four alternatives, select the one which is opposite in meaning of the given word.

**Obliging**



**Options:**

- 1) Unfriendly
- 2) Helpful
- 3) Civil
- 4) Amiable

**Correct Answer:** Unfriendly

**Candidate Answer:** Unfriendly

**QID : 260** - In the following question, out of the given four alternatives, select the one which is opposite in meaning of the given word.

**Insatiable**

**Options:**

- 1) Crying
- 2) Wanting
- 3) Content
- 4) Desiring

**Correct Answer:** Content

**Candidate Answer:** Desiring

**QID : 261** - In the following question, out of the four given alternatives, select the alternative which best expresses the meaning of the Idiom/Phrase.

**Full of hot air**

**Options:**

- 1) Full of nonsense
- 2) Full of innocence
- 3) Full of energy
- 4) Full of money

**Correct Answer:** Full of nonsense

**Candidate Answer:** Full of nonsense

**QID : 262** - In the following question, out of the four given alternatives, select the alternative which best expresses the meaning of the Idiom/Phrase.

**Nothing doing**

**Options:**

- 1) Not a chance
- 2) Come to nothing
- 3) Failing in one's efforts
- 4) Pretending to be something

**Correct Answer:** Not a chance

**Candidate Answer:** Come to nothing

**QID : 263** - Improve the bracketed part of the sentence.

States desperately trying to better their socio-economic report cards don't need **(those)** kind of psychological dampener.

**Options:**

- 1) that
- 2) it
- 3) whose
- 4) No improvement

**Correct Answer:** that

**Candidate Answer:** that

**QID : 264** - Improve the bracketed part of the sentence.

The apex court has directed that **(their)** is a need to bring in mechanism in the Government function to make it transparent.

**Options:**

- 1) these
- 2) those
- 3) there
- 4) No improvement

**Correct Answer:** there

**Candidate Answer:** there

**QID : 265** - In the following question, out of the four given alternatives, select the alternative which is the best substitute of the phrase.

**One who employs.**

**Options:**

- 1) Employer
- 2) Employee
- 3) Examinee
- 4) Accountant

**Candidate Answer:** Employee

**QID : 266** - In the following question, out of the four given alternatives, select the alternative which is the best substitute of the phrase.

**Eight armed sea creature.**

**Options:**

- 1) Octopus
- 2) Dolphin
- 3) Crocodile
- 4) Whale

**Correct Answer:** Octopus

**Candidate Answer:** Octopus

**QID : 267** - In the following question, a word has been written in four different ways out of which only one is correctly spelt. Select the correctly spelt word.

**Options:**

- 1) Lacture
- 2) Lechure
- 3) Lecture
- 4) Lectore

**Correct Answer:** Lecture

**Candidate Answer:** Lacture

**QID : 268** - In the following question, a word has been written in four different ways out of which only one is correctly spelt. Select the correctly spelt word.

**Options:**

- 1) Confassion
- 2) Confesion
- 3) Confession
- 4) Knotession

**Correct Answer:** Confession

**Candidate Answer:** Confession

**QID : 269** - Rearrange the parts of the sentence in correct order.

Low education means

**P:** to the poverty and

**Q:** gender inequality in the society

**R:** low employment which leads

**Options:**

- 1) RPQ
- 2) PQR
- 3) QRP
- 4) QPR

**Correct Answer:** RPQ

**Candidate Answer:** RPQ

**QID : 270** - Rearrange the parts of the sentence in correct order.

We should stop

**P:** the quality of water

**Q:** usage properly and maintain

**R:** misusing water, manage water

**Options:**

- 1) RPQ
- 2) PQR
- 3) QRP
- 4) RQP

**Correct Answer:** RQP

**Candidate Answer:** RQP

**QID : 271** - In the following passage some of the words have been left out. Read the passage carefully and select the correct answer for the given blank out of the four alternatives.

After the independence, our country has been \_\_\_\_\_ in the promotion of spreading \_\_\_\_\_ science for the national development. \_\_\_\_\_ of policies made by the government has emphasized the self-sufficiency and \_\_\_\_\_ growth and development all through the country. Both science and technology have \_\_\_\_\_ the economic growth and social development in the country in an extraordinary manner.

**our country has been \_\_\_\_\_ in the promotion**

**Options:**

- 1) involved
- 2) revolved
- 3) rotated
- 4) solved

**Correct Answer:** involved

**Candidate Answer:** involved

**QID : 272** - In the following passage some of the words have been left out. Read the passage carefully and select the correct answer for the given blank out of the four alternatives.

After the independence, our country has been \_\_\_\_\_ in the promotion of spreading \_\_\_\_\_ science for the national development. \_\_\_\_\_ of policies made by the government has emphasized the self-sufficiency and \_\_\_\_\_ growth and development all through the country. Both science and technology have \_\_\_\_\_ the economic growth and social development in the country in an extraordinary manner.

**spreading \_\_\_\_\_ science for the national**

**Options:**

- 1) on
- 2) of
- 3) for
- 4) above

**Correct Answer:** of

**Candidate Answer:** of

**QID : 273** - In the following passage some of the words have been left out. Read the passage carefully and select the correct answer for the given blank out of the four alternatives.

After the independence, our country has been \_\_\_\_\_ in the promotion of spreading \_\_\_\_\_ science for the national development. \_\_\_\_\_ of policies made by the government has emphasized the self-sufficiency and \_\_\_\_\_ growth and development all through the country. Both science and technology have \_\_\_\_\_ the economic growth and social development in the country in an extraordinary manner.

**\_\_\_\_\_ of policies made by the government**

**Options:**

- 1) Abriety
- 2) Sovereignty
- 3) Variety
- 4) Legibility

**Correct Answer:** Variety

**Candidate Answer:** Variety

**QID : 274** - In the following passage some of the words have been left out. Read the passage carefully and select the correct answer for the given blank out of the four alternatives.

After the independence, our country has been \_\_\_\_\_ in the promotion of spreading \_\_\_\_\_ science for the national development. \_\_\_\_\_ of policies made by the government has emphasized the self-sufficiency and \_\_\_\_\_ growth and development all through the country. Both science and technology have \_\_\_\_\_ the economic growth and social development in the country in an extraordinary manner.

**the self-sufficiency and \_\_\_\_\_ growth**

**Options:**

- 1) unattainable
- 2) unreasonable
- 3) ending
- 4) sustainable

**Correct Answer:** sustainable

**Candidate Answer:** sustainable

**QID : 275** - In the following passage some of the words have been left out. Read the passage carefully and select the correct answer for the given blank out of the four alternatives.

After the independence, our country has been \_\_\_\_\_ in the promotion of spreading \_\_\_\_\_ science for the national development. \_\_\_\_\_ of policies made by the government has emphasized the self-sufficiency and \_\_\_\_\_ growth and development all through the country. Both science and technology have \_\_\_\_\_ the economic growth and social development in the country in an extraordinary manner.

**technology have \_\_\_\_\_ the economic growth**

**Options:**

- 1) destroyed
- 2) effected
- 3) inculcated
- 4) impacted

**Correct Answer:** impacted

**Candidate Answer:** effected

**QID : 276** - Which Veda depicts the information about the most ancient Vedic age culture?

किस वेद में वैदिक युग की प्राचीनतम संस्कृति के बारे में सूचना दी गई है?



**Options:**

- 1) Rig Veda  
ऋग्वेद
- 2) Yajurveda  
यजुर्वेद
- 3) Atharvaveda  
अथर्ववेद
- 4) Samaveda  
सामवेद

**Correct Answer:** Rig Veda  
ऋग्वेद

**Candidate Answer:** Rig Veda  
ऋग्वेद

**QID : 277** - What was the other name of Chanakya?

चाणक्य का एक दूसरा नाम क्या था?

**Options:**

- 1) Bhattaswamy  
भट्टस्वामी
- 2) Vishnugupta  
विष्णुगुप्त
- 3) Rajasekhar  
राजशेखर
- 4) Visakhadatta  
विशाखदत्त

**Correct Answer:** Vishnugupta  
विष्णुगुप्त

**Candidate Answer:** Vishnugupta  
विष्णुगुप्त

**QID : 278** - What are sea waves generated by undersea earthquakes called?

अन्तःसागरीय भूकम्पों द्वारा उत्पन्न समुद्री लहरों को क्या कहा जाता है ?

**Options:**

- 1) Cirque  
सर्क
- 2) Tsunami  
सुनामी
- 3) Scale  
स्केल
- 4) Kern  
केम

**Correct Answer:** Tsunami  
सुनामी

**Candidate Answer:** Tsunami  
सुनामी

**QID : 279** - Mariana Trench, the deepest part of the world's oceans is located in which ocean?

मेरियाना ट्रेंच किस महासागर में स्थित सबसे गहरा ट्रेंच है ?

**Options:**

- 1) Pacific Ocean  
प्रशांत महासागर
- 2) Atlantic Ocean  
अटलांटिक महासागर
- 3) Indian Ocean  
हिन्द महासागर
- 4) Arctic Ocean  
आर्कटिक महासागर

**Correct Answer:** Pacific Ocean  
प्रशांत महासागर

**Candidate Answer:** Pacific Ocean  
प्रशांत महासागर

**QID : 280** - Constitution of India was enforced on \_\_\_\_\_.

भारत का संविधान लागू हुआ था \_\_\_\_\_।



**Options:**

- 1) January 26, 1950  
26 जनवरी, 1950 को
- 2) January 26, 1952  
26 जनवरी, 1952 को
- 3) August 15, 1948  
15 अगस्त, 1948 को
- 4) November 26, 1949  
26 नवंबर, 1949 को

**Correct Answer:** January 26, 1950  
26 जनवरी, 1950 को

**Candidate Answer:** January 26, 1950  
26 जनवरी, 1950 को

**QID : 281** - The process of amendment has been mentioned in which part of the Indian Constitution?

संविधान के किस भाग में संविधान संशोधन की प्रक्रिया का उल्लेख है?

**Options:**

- 1) Part 3  
भाग 3
- 2) Part 4  
भाग 4
- 3) Part 20  
भाग 20
- 4) Part 21  
भाग 21

**Correct Answer:** Part 20  
भाग 20

**Candidate Answer:** Part 4  
भाग 4

**QID : 282** - The state of economy at which the value of the currency falls and the price increases, is called \_\_\_\_\_.

वह अवस्था जिसमें मुद्रा का मूल्य गिर जाता है और कीमतें बढ़ जाती है, कहलाती है \_\_\_\_\_।

**Options:**

- 1) Inflation  
मुद्रास्फीति
- 2) Money deflation  
मुद्रा-अवस्फीति
- 3) Recession  
रिसेशन
- 4) Amortization  
एमोर्टाइजेशन

**Correct Answer:** Inflation  
मुद्रास्फीति

**Candidate Answer:** Inflation  
मुद्रास्फीति

**QID : 283** - Which of the following is the problem of small industries?

निम्नलिखित में से लघु उद्योगों की क्या समस्याएँ हैं?

**Options:**

- 1) Lack of capital  
पूंजी का अभाव
- 2) Lack of marketing information  
विपणन जानकारी का अभाव
- 3) Lack of raw materials  
कच्चे माल का अभाव
- 4) All options are correct  
सभी विकल्प सही हैं।

**Correct Answer:** All options are correct  
सभी विकल्प सही हैं।

**Candidate Answer:** All options are correct  
सभी विकल्प सही हैं।

**QID : 284** - The difference between isotopes of an element is due to the presence of which different numbers?

किसी तत्व के समस्थानिकों के बीच अंतर किनकी भिन्न (अलग) संख्या की उपस्थिति के कारण होता है?





**Options:**

- 1) Proton  
प्रोटॉन
- 2) Neutron  
न्यूट्रॉन
- 3) Electron  
इलेक्ट्रॉन
- 4) Photon  
फोटॉन

**Correct Answer:** Neutron  
न्यूट्रॉन

**Candidate Answer:** Electron  
इलेक्ट्रॉन

**QID : 285** - Base tastes like \_\_\_\_\_.

भस्मों का स्वाद \_\_\_\_\_ होता है।

**Options:**

- 1) Saline  
खारा
- 2) Sour  
खट्टा
- 3) sweet  
मीठा
- 4) Tasteless  
स्वादहीन

**Correct Answer:** Saline  
खारा

**Candidate Answer:** Tasteless  
स्वादहीन

**QID : 286** - Weight of the body is \_\_\_\_\_.

शरीर का वजन \_\_\_\_\_.

**Options:**

- 1) same everywhere at the surface of the earth  
पृथ्वी की सतह पर सभी जगह एक सामान होता है
- 2) maximum at the poles  
ध्रुवों पर अधिकतम होता है
- 3) maximum on the equator  
विषुवत रेखा पर अधिकतम होता है
- 4) less on hills, compared to plains  
मैदानों की तुलना में पहाड़ियों पर कम होता है

**Correct Answer:** maximum at the poles  
ध्रुवों पर अधिकतम होता है

**Candidate Answer:** maximum on the equator  
विषुवत रेखा पर अधिकतम होता है

**QID : 287** - Work principle of washing machine is \_\_\_\_\_.

वाशिंग मशीन का कार्य सिद्धांत है \_\_\_\_\_।

**Options:**

- 1) Pressure power  
दबाव शक्ति
- 2) Dialysis  
अपोहन
- 3) Centrifugation  
अपकेन्द्रण
- 4) Diffusion  
विसरण

**Correct Answer:** Centrifugation  
अपकेन्द्रण

**Candidate Answer:** Centrifugation  
अपकेन्द्रण

**QID : 288** - Which is the smallest flower in the world?

संसार का सबसे छोटा पुष्प कौन सा है?



**Options:**

1) Rafflesia

रैफ्लीसिया

2) Lotus

कमल

3) Rose

गुलाब

4) Wolffia

वुल्फिया

**Correct Answer:** Wolffia

वुल्फिया

**Candidate Answer:** Rafflesia

रैफ्लीसिया

**QID : 289** - Who discovered the nucleus for the first time in cell?

कोशिका में न्युक्लियस की खोज सर्वप्रथम किसने की थी?

**Options:**

1) Leeuwenhoek

ल्यूवेन्हाक

2) Schwann

श्वान

3) Hufmaster

हफ्मिस्टर

4) Robert Brown

रॉबर्ट ब्राउन

**Correct Answer:** Robert Brown

रॉबर्ट ब्राउन

**Candidate Answer:** Leeuwenhoek

ल्यूवेन्हाक

**QID : 290** - Muscle study is called \_\_\_\_\_.

मांशपेशियों का अध्ययन कहलाता है \_\_\_\_\_।

**Options:**

1) Mycology

माइकोलॉजी

2) Myology

मायोलॉजी

3) Mystology

मैस्टोलॉजी में

4) Nephrology

नेफ्रोलॉजी में

**Correct Answer:** Myology

मायोलॉजी

**Candidate Answer:** Mystology

मैस्टोलॉजी में

**QID : 291** - An example of abiotic component of the environment is \_\_\_\_\_.

पर्यावरण के अजैव अवयव का उदाहरण है: \_\_\_\_\_।

**Options:**

1) vegetation

वनस्पति

2) animal

जानवर

3) wind

वायु

4) All options are correct.

सभी विकल्प सही हैं।

**Correct Answer:** wind

वायु

**Candidate Answer:** wind

वायु

**QID : 292** - Which of the following is considered as the fastest printer?

इनमें से सर्वाधिक तेज गति का प्रिंटर किसे माना जाता है?



**Options:**

- 1) laser printer  
लेजर प्रिंटर
- 2) Jet printer  
जेट प्रिंटर
- 3) thermal printer  
थर्मल प्रिंटर
- 4) Daisy wheel printer  
डेजी व्हील प्रिंटर

**Correct Answer:** laser printer  
लेजर प्रिंटर

**Candidate Answer:** laser printer  
लेजर प्रिंटर

**QID : 293** - Which game has the highest number of players in each side?

किस खेल में प्रत्येक पक्ष में खिलाड़ियों की संख्या सर्वाधिक होती है?

**Options:**

- 1) Football  
फुटबॉल
- 2) Rugby football  
रग्बी फुटबॉल
- 3) Hockey  
हॉकी
- 4) Ice hockey  
आइस हॉकी

**Correct Answer:** Rugby football  
रग्बी फुटबॉल

**Candidate Answer:** Rugby football  
रग्बी फुटबॉल

**QID : 294** - Which of the following book is related to a character named "Mogli"?

निम्नलिखित में से किस पुस्तक का संबंध "मोगली" नामक एक पात्र से है?

**Options:**

- 1) Daughter of the East  
डॉटर ऑफ़ द ईस्ट
- 2) Malgudi days  
मालगुडी डेज
- 3) An unknown Indian  
एन अननोन इंडियन
- 4) The Jungle Book  
जंगल बुक

**Correct Answer:** The Jungle Book  
जंगल बुक

**Candidate Answer:** The Jungle Book  
जंगल बुक

**QID : 295** - From where did the Central Minister of State for Culture and Tourism started the 'Swachh Bharat App'?

केन्द्रीय संस्कृति एवं पर्यटन राज्य मंत्री ने इनमें से किस स्थान से 'स्वच्छ भारत एप्प' का प्रारम्भ किया?

**Options:**

- 1) From Red Fort  
लाल किला से
- 2) From Parliament House  
संसद भवन से
- 3) From National Museum (New Delhi)  
राष्ट्रीय संग्रहालय (नई दिल्ली) से
- 4) No option is correct.  
कोई भी विकल्प सही नहीं है।

**Correct Answer:** From National Museum (New Delhi)  
राष्ट्रीय संग्रहालय (नई दिल्ली) से

**Candidate Answer:** From Parliament House  
संसद भवन से

**QID : 296** - Who is the exponent of Quantum theory?

क्वांटम सिद्धांत के प्रतिपादक कौन हैं?

**Options:**

1) G.S. Ohm

जी. एस. ओम

2) Newton

न्यूटन

3) Max Planck

मैक्स प्लांक

4) J. S. Fleming

जे. एस. फ्लेमिंग

**Correct Answer:** Max Planck

मैक्स प्लांक

**Candidate Answer:** Newton

न्यूटन

**QID : 297** - Which kind of instrument is Mridangam?

मृदंगम किस प्रकार का वाद्य होता है?

**Options:**

1) Two-faced drum

दो मुँह वाला ढोल

2) Flute

एक प्रकार की बांसुरी

3) A string instrument

एक तार वाद्य

4) An antelope

एक मृग

**Correct Answer:** Two-faced drum

दो मुँह वाला ढोल

**Candidate Answer:** Two-faced drum

दो मुँह वाला ढोल

**QID : 298** - Who of the following is the first Indian to receive Golden Globe Award (2009)?

निम्नलिखित में से कौन गोल्डन ग्लोब पुरस्कार (2009) जीतने वाला पहला भारतीय है?

**Options:**

1) Shiv Kumar Verma

शिव कुमार वर्मा

2) Anu Malik

अनु मलिक

3) Zakir Hussain

जाकिर हुसैन

4) A. R. Rahman

ए. आर. रहमान

**Correct Answer:** A. R. Rahman

ए. आर. रहमान

**Candidate Answer:** Shiv Kumar Verma

शिव कुमार वर्मा

**QID : 299** - Which of the following country's government passed the "Hindu Marriage Bill 2016"?

निम्नलिखित में से किस देश की सरकार ने "हिन्दू विवाह विधेयक 2016" पारित किया?

**Options:**

1) Nepal

नेपाल

2) Bangladesh

बांग्लादेश

3) Pakistan

पाकिस्तान

4) Sri Lanka

श्रीलंका

**Correct Answer:** Pakistan

पाकिस्तान

**Candidate Answer:** Pakistan

पाकिस्तान

**QID : 300** - When does Bangladesh celebrate its independence day?

बांग्लादेश अपनी स्वतंत्रता दिवस कब मनाता है?

**Options:**

1) March 26, 1971

26 मार्च, 1971

2) March 26, 1972

26 मार्च, 1972

3) June 22, 1976

22 जून, 1976

4) June 22, 1977

22 जून, 1977

**Correct Answer:** March 26, 1971

26 मार्च, 1971

**Candidate Answer:** March 26, 1972

26 मार्च, 1972

mpcareer.in

