



**Staff Selection Commission**  
(Government Of India)

REGISTRATION NUMBER : [www.toptrendinggk.in](http://www.toptrendinggk.in)

EXAM DATE : 26-October-2017

EXAM NAME : SSC Examination

TOTAL MARKS : 150

CANDIDATE NAME : Top Trending GK

EXAM START TIME : 16:30:00

EXAM DURATION : 01:30 Hrs

TOTAL NO OF QUESTIONS : 100

**QID : 201 -**

In the following question, select the number which can be placed at the sign of question mark (?) from the given alternatives.

निम्नलिखित प्रश्न में दिए गए विकल्पों में से प्रश्न चिह्न (?) के स्थान पर आने वाली संख्या को चुनिए।

3	4	2	23
7	2	3	41
8	2	3	?

**Options:**

1) 25

2) 37

3) 43

4) 47

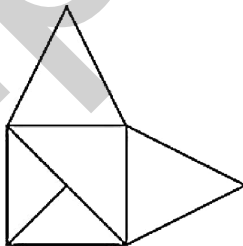
**Correct Answer:** 47

**Candidate Answer:** 47

**QID : 202 -**

How many triangles are there in the given figure?

दी गई आकृति में कितने त्रिभुज हैं?



**Options:**

1) 5

2) 6

3) 7

4) 8

**Correct Answer:** 6

**Candidate Answer:** 6

**QID : 203 -**

A word is represented by only one set of numbers as given in any one of the alternatives. The sets of numbers given in the alternatives are represented by two classes of alphabets as shown in the given two matrices. The columns and rows of **Matrix-I** are numbered from 0 to 4 and that of **Matrix-II** are numbered from 5 to 9. A letter from these matrices can be represented first by its row and next by its column, for example, 'D' can be represented by 02, 79, etc., and 'Z' can be represented by 00, 77, etc. Similarly, you have to identify the set for the word "TRANK".

एक शब्द केवल एक संख्या-समूह द्वारा दर्शाया गया है, जैसा कि विकल्पों में से किसी एक में दिया गया है। विकल्पों में दिए गए संख्या-समूह अक्षरों के दो वर्गों द्वारा दर्शाए गए हैं, जैसा कि दिए गए दो आव्यूहों में है। आव्यूह-I के स्तम्भ और पंक्ति की संख्या 0 से 4 है और आव्यूह-II की 5 से 9। इन आव्यूहों से एक अक्षर को पहले उसकी पंक्ति और बाद में स्तम्भ संख्या द्वारा दर्शाया जा सकता है। उदाहरण के लिए 'D' को 02, 79 आदि द्वारा दर्शाया जा सकता है तथा 'Z' को 00, 77, आदि द्वारा दर्शाया जा सकता है। इसी तरह से आपको प्रश्न में दिए शब्द "TRANK" के लिए समूह को पहचानना है।

Matrix-I आव्यूह-I						Matrix-II आव्यूह-II					
	0	1	2	3	4	5	6	7	8	9	
0	Z	O	D	W	X	5	A	V	X	P	U
1	G	M	N	H	V	6	K	M	O	T	S
2	E	O	Y	K	P	7	L	T	Z	A	D
3	D	G	W	L	R	8	F	H	R	L	N
4	A	E	U	N	K	9	U	J	Q	V	X

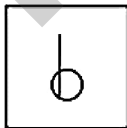
**Options:**

- 1) 76, 24, 40, 12, 34
- 2) 10, 11, 55, 89, 23
- 3) 68, 87, 78, 12, 44
- 4) 76, 21, 55, 43, 34

**Correct Answer:** 68, 87, 78, 12, 44**Candidate Answer:** 68, 87, 78, 12, 44**QID : 204 -**

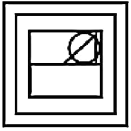
From the given answer figures, select the one in which the question figure is hidden/embedded.

दी गई उत्तर आकृतियों में से उस उत्तर आकृति को चुनिए जिस में प्रश्न आकृति निहित है।

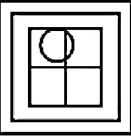


Options:

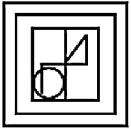
1)



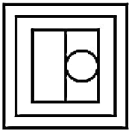
2)



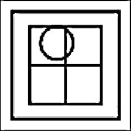
3)



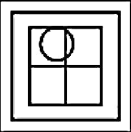
4)



Correct Answer:



Candidate Answer:



QID : 205 -

Which answer figure will complete the pattern in the question figure?

कौन सी उत्तर आकृति प्रश्न आकृति के प्रतिरूप को पूरा करेगी?

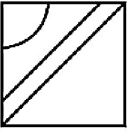


Options:

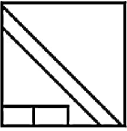
1)



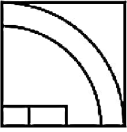
2)



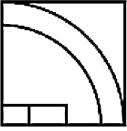
3)



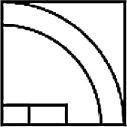
4)



Correct Answer:



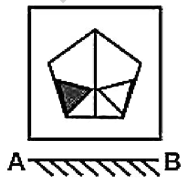
Candidate Answer:



QID : 206 -

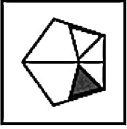
If a mirror is placed on the line AB, then which of the answer figures is the right image of the given figure?

यदि एक दर्पण को AB रेखा पर रखा जाए, तो दी गई उत्तर आकृतियों में से कौन सी आकृति प्रश्न आकृति की सही प्रतिबिम्ब होगी?

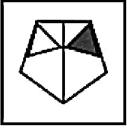


Options:

1)



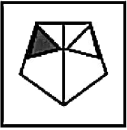
2)



3)



4)



Correct Answer:



Candidate Answer:



QID : 207 -

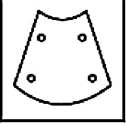
A piece of paper is folded and punched as shown below in the question figures. From the given answer figures, indicate how it will appear when opened?

नीचे के प्रश्न आकृतियों में दिखाए अनुसार कागज को मोड़कर छेदने तथा खोलने के बाद वह किस उत्तर आकृति जैसा दिखाई देगा?



Options:

1)



2)



3)



4)



Correct Answer:



Candidate Answer:



**QID : 208** - If 'P' means '+', 'Q' means '+', 'R' means 'x' and 'S' means '-', then

**4 Q 9 R 36 P 4 S 12 = ?**

यदि 'P' का अर्थ '+', 'Q' का अर्थ '+', 'R' का अर्थ 'x' तथा 'S' का अर्थ '-' हो, तो

**4 Q 9 R 36 P 4 S 12 = ?**

Options:

1) 73

2) 47

3) 68

4) 113

Correct Answer: 73

Candidate Answer: 73

**QID : 209** - If **6 # 4 # 0 = 046** and **7 # 1 # 3 = 317**, then

**3 # 0 # 1 = ?**

यदि **6 # 4 # 0 = 046** तथा **7 # 1 # 3 = 317** हो, तो

**3 # 0 # 1 = ?**

Options:

1) 310

2) 103

3) 13

4) 31

Correct Answer: 103

Candidate Answer: 103

**QID : 210** - Arrange the given words in the sequence in which they occur in the dictionary.

1. Rest
2. Raid
3. Ring
4. Reap
5. Range

निम्नलिखित शब्दों को शब्दकोश में आने वाले क्रम के अनुसार लिखें।

1. Rest
2. Raid
3. Ring
4. Reap
5. Range

**Options:**

1) 25143

2) 52143

3) 25413

4) 52413

**Correct Answer:** 25413

**Candidate Answer:** 25413

**QID : 211** - In the following question, select the missing number from the given series.

29, 27, 24, 20, 15, ?

निम्नलिखित प्रश्न में दिए गए विकल्पों में से लुप्त अंक ज्ञात कीजिए।

29, 27, 24, 20, 15, ?

**Options:**

1) 9

2) 8

3) 10

4) 11

**Correct Answer:** 9

**Candidate Answer:** 9

**QID : 212** - A series is given with one term missing. Select the correct alternative from the given ones that will complete the series.

CD, GH, KL, OP, ?

एक अनुक्रम दिया गया है, जिसमें से एक पद लुप्त है। दिए गए विकल्पों में से वह सही विकल्प चुनिए, जो अनुक्रम को पूरा करे।

CD, GH, KL, OP, ?

**Options:**

1) ST

2) TS

3) QR

4) SU

**Correct Answer:** ST

**Candidate Answer:** ST

**QID : 213** - In the following question, select the odd word from the given alternatives.

निम्नलिखित प्रश्न में दिए गए विकल्पों में से विषम शब्द को चुनिए।

**Options:**

1) Cup

कप

2) Water

जल

3) Jug

जग

4) Bucket

बाल्टी

**Correct Answer:** Water

जल

**Candidate Answer:** Water

जल

**QID : 214** - In the following question, select the odd number pair from the given alternatives.

निम्नलिखित प्रश्न में दिए गए विकल्पों में से विषम संख्या युग्म को चुनिए।

**Options:**

1) 17 – 19

2) 23 – 25

3) 33 – 35

4) 43 – 39

**Correct Answer:** 43 – 39

**Candidate Answer:** 43 – 39

**QID : 215** - In the following question, select the odd letters from the given alternatives.

निम्नलिखित प्रश्न में दिए गए विकल्पों में से विषम अक्षरों को चुनिए।

**Options:**

1) HJ

2) MP

3) RT

4) WY

**Correct Answer:** MP

**Candidate Answer:** MP

**QID : 216** - Identify the diagram that best represents the relationship among the given classes.

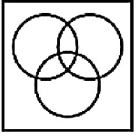
**Dog, Pet animals, Pencil**

वह आरेख चुनिए जो नीचे दिए गए वर्गों के बीच के संबंध का सही निरूपण करता है।

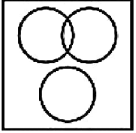
कुत्ता, पालतू जानवर, पेंसिल

**Options:**

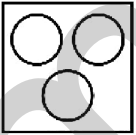
1)



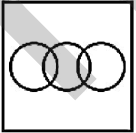
2)



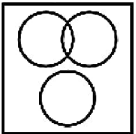
3)



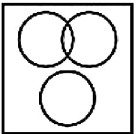
4)



**Correct Answer:**



**Candidate Answer:**





**QID : 217** - In the following question, select the related word from the given alternatives.

**Fresh : Stale :: Straight : ?**

निम्नलिखित प्रश्न में दिए गए विकल्पों में से संबंधित शब्द को चुनिए।

ताजा : बासी :: सीधा : ?

**Options:**

1) Twisted

मुड़ा हुआ

2) Line

रेखा

3) Road

सड़क

4) Join

जोड़ना

**Correct Answer:** Twisted

मुड़ा हुआ

**Candidate Answer:** Twisted

मुड़ा हुआ

**QID : 218** - In the following question, select the related number pair from the given alternatives.

**12 : 146 :: ? : ?**

निम्नलिखित प्रश्न में दिए गए विकल्पों में से संबंधित संख्या युग्म को चुनिए।

**12 : 146 :: ? : ?**

**Options:**

1) 16 : 258

2) 13 : 167

3) 15 : 228

4) 14 : 193

**Correct Answer:** 16 : 258

**Candidate Answer:** 16 : 258

**QID : 219** - In the following question, select the related letters from the given alternatives.

**CAB : FEG :: RUN : ?**

निम्नलिखित प्रश्न में दिए गए विकल्पों में से संबंधित अक्षरों को चुनिए।

**CAB : FEG :: RUN : ?**

**Options:**

1) UYS

2) UYT

3) UWS

4) UVS

**Correct Answer:** UYS

**Candidate Answer:** UYS

**QID : 220** - In the following question, select the word which cannot be formed using the letters of the given word.

**RINGINGS**

निम्नलिखित विकल्पों में से वह शब्द चुनिए जो दिए गए शब्द के अक्षरों का प्रयोग करके नहीं बनाया जा सकता।

**RINGINGS**

**Options:**

1) RING

2) SING

3) GRIN

4) GRAIN

**Correct Answer:** GRAIN

**Candidate Answer:** GRAIN

**QID : 221** - If North is called South, South is called North and East is called West, then what will be North-East called as?

यदि उत्तर को दक्षिण कहा जाता है, दक्षिण को उत्तर कहा जाता है तथा पूर्व को पश्चिम कहा जाता है, तो उत्तर-पूर्व को क्या कहा जायेगा?

**Options:**

- 1) North-West  
उत्तर-पश्चिम
- 2) South-West  
दक्षिण-पश्चिम
- 3) West  
पश्चिम
- 4) South  
दक्षिण

**Correct Answer:** South-West

दक्षिण-पश्चिम

**Candidate Answer:** South-West

दक्षिण-पश्चिम

**QID : 222** - Beena is 20th from either end of a row. How many people are there in the row?

बीना एक पंक्ति के दोनों छोरों से 20 वीं है। पंक्ति में कुल कितने व्यक्ति हैं?

**Options:**

- 1) 39
- 2) 40
- 3) 41
- 4) 38

**Correct Answer:** 39**Candidate Answer:** 39**QID : 223** - In the following question below are given some statements followed by some conclusions. Taking the given statements to be true even if they seem to be at variance from commonly known facts, read all the conclusions and then decide which of the given conclusion logically follows the given statements.**Statements:**

- I. Some pens are pencils.
- II. Some pencils are cups.

**Conclusions:**

- I. Some cups are pens.
- II. Some pencils are pens.

नीचे दिए गए प्रश्न में कुछ कथन और उनके बाद उन कथनों पर आधारित कुछ निष्कर्ष दिए गए हैं, हालांकि उनमें सामान्य ज्ञात तथ्यों से भिन्नता हो सकती है। सभी निष्कर्ष पढ़ें और फिर निर्धारित करें कि दिए गए कौन से निष्कर्ष, दिए गए कथनों के आधार पर युक्तिसंगत हैं।

**कथन:**

- I. कुछ कलम पेंसिल हैं।
- II. कुछ पेंसिल कप हैं।

**निष्कर्ष:**

- I. कुछ कप कलम हैं।
- II. कुछ पेंसिल कलम हैं।

**Options:**

- 1) Only conclusion (I) follows.  
केवल निष्कर्ष (I) सही है।
- 2) Only conclusion (II) follows.  
केवल निष्कर्ष (II) सही है।
- 3) Both conclusion follow.  
दोनों ही निष्कर्ष सही हैं।
- 4) Neither conclusion (I) nor conclusion (II) follows.  
न तो निष्कर्ष (I) न ही निष्कर्ष (II) सही है।

**Correct Answer:** Only conclusion (II) follows.

केवल निष्कर्ष (II) सही है।

**Candidate Answer:** Neither conclusion (I) nor conclusion (II) follows.

न तो निष्कर्ष (I) न ही निष्कर्ष (II) सही है।

**QID : 224** - In a certain code language, 'pink' is written as 'wood', 'wood' is written as 'red', 'red' is written as 'stone', 'stone' is written as 'car' and 'car' is written as 'sky'. What do we drive?

एक विशिष्ट कोड भाषा में, 'गुलाबी' को 'लकड़ी', 'लकड़ी' को 'लाल', 'लाल' को 'पत्थर', 'पत्थर' को 'गाड़ी' तथा 'गाड़ी' को 'आकाश' लिखा जाता है। हम क्या चलाते हैं?

**Options:**

- 1) car  
गाड़ी
- 2) stone  
पत्थर
- 3) sky  
आकाश
- 4) red  
लाल

**Correct Answer:** sky

आकाश

**Candidate Answer:** sky

आकाश

**QID : 225** - In a certain code language, "TROY" is written as "156" and "HULK" is written as "104". How is "MIST" written in that code language?

एक विशिष्ट कोड भाषा में, "TROY" को "156" तथा "HULK" को "104" लिखा जाता है। इस कोड भाषा में "MIST" को किस प्रकार लिखा जाएगा?

**Options:**

- 1) 112
- 2) 132
- 3) 122
- 4) 146

**Correct Answer:** 122**Candidate Answer:** 132**QID : 226** - Sarojini allows 4% discount on the marked price of her article and still earns a profit of 20%. What is the cost price of a shirt if its marked price is Rs 850?

सरोजिनी अपनी एक वस्तु के अंकित मूल्य पर 4% की छूट देती है और फिर भी 20% का लाभ प्राप्त करती है। वस्तु का क्रय मूल्य क्या है, यदि इसका अंकित मूल्य 850 रु है?

**Options:**

- 1) Rs 680  
680 रु
- 2) Rs 780  
780 रु
- 3) Rs 720  
720 रु
- 4) Rs 520  
520 रु

**Correct Answer:** Rs 680

680 रु

**Candidate Answer:** Rs 680

680 रु

**QID : 227** - What is the sum of all even integers between 15 and 37?

15 और 37 के बीच की सभी पूर्णांक सम संख्याओं का योग क्या है?

**Options:**

- 1) 366
- 2) 378
- 3) 288
- 4) 286

**Correct Answer:** 286**Candidate Answer:** 286**QID : 228** - How many integers are there between 63 and 345 which are exactly divisible by 8?

63 और 345 के बीच कितनी पूर्णांक संख्याएं हैं, जो पूरी तरह से 8 से विभाज्य हैं?

**Options:**

- 1) 32
- 2) 33
- 3) 34
- 4) 36

**Correct Answer:** 36**Candidate Answer:** [ NOT ANSWERED ]

**QID : 229** - Prem buys a table for Rs 450 and spends Rs 30 on its transportation. If he sells the table for Rs 600 what will be his gain percent?

प्रेम 450 रु में एक टेबल खरीदता है और इसकी दुलाई पर 30 रु खर्च करता है। यदि वह टेबल 600 रु में बेचता है, तो उसका लाभ प्रतिशत क्या होगा?

**Options:**

- 1) 30%
- 2) 25%
- 3) 28%
- 4) 24%

**Correct Answer:** 25%

**Candidate Answer:** 25%

**QID : 230** - A bus runs at an average speed of 45 km/hr. If it completes 405 km long-journey with a break of 1 hour, what is the total time taken during the journey?

एक बस 45 किमी/घंटा की औसत गति से चलती है। अगर वो 405 किमी की यात्रा 1 घंटे के विराम के साथ पूरा करती है, तो यात्रा पूरा होने में कितना समय लगेगा?

**Options:**

- 1) 9 hrs
- 9 घंटे
- 2) 10 hrs
- 10 घंटे
- 3) 11 hrs
- 11 घंटे
- 4) 12 hrs
- 12 घंटे

**Correct Answer:** 10 hrs

10 घंटे

**Candidate Answer:** 10 hrs

10 घंटे

**QID : 231** - What will be the sum of all two digit positive numbers divisible by 3?

3 से विभाज्य दो अंकों की सभी धनात्मक संख्याओं का योग क्या होगा?

**Options:**

- 1) 1680
- 2) 1665
- 3) 1689
- 4) 1683

**Correct Answer:** 1665

**Candidate Answer:** [ NOT ANSWERED ]

**QID : 232** - What is the value of (48% of 6400) + (84% of 8400).

(6400 का 48%) + (8400 का 84%) का मान क्या है।

**Options:**

- 1) 10128
- 2) 10228
- 3) 11128
- 4) 11228

**Correct Answer:** 10128

**Candidate Answer:** 10128

**QID : 233** - Suresh does complete a work in 20 hours. Ram is 25% more efficient than Suresh. What is the total number of hours Ram takes to complete the same work?

सुरेश एक काम को 20 घंटे में पूरा करता है। राम, सुरेश से 25% अधिक कार्यकुशल है। राम उसी काम को पूरा करने के लिए कितने घंटे का समय लेता है?

**Options:**

- 1) 24 hrs
- 24 घंटे
- 2) 18 hrs
- 18 घंटे
- 3) 16 hrs
- 16 घंटे
- 4) 25 hrs
- 25 घंटे

**Correct Answer:** 16 hrs

16 घंटे

**Candidate Answer:** 25 hrs

25 घंटे

**QID : 234** - What least number must be added to 750 so that the sum is completely divisible by 59?

**Options:**

- 1) 15
- 2) 18
- 3) 11
- 4) 17

**Correct Answer:** 17**Candidate Answer:** 17

**QID : 235** - The average age of a class of 29 students is 10 years. If the age of the teacher is added, the average age increases by 6 months. What is the age of the teacher?

29 छात्रों की एक कक्षा की औसत आयु 10 वर्ष है। यदि क्लास टीचर की आयु भी उसमें जोड़ दें, तो औसत आयु 6 महीने बढ़ जाती है। क्लास टीचर की उम्र क्या है?

**Options:**

- 1) 25 yrs  
25 वर्ष
- 2) 24 yrs  
24 वर्ष
- 3) 30 yrs  
30 वर्ष
- 4) 32 yrs  
32 वर्ष

**Correct Answer:** 25 yrs

25 वर्ष

**Candidate Answer:** 25 yrs

25 वर्ष

**QID : 236** - A seller offers 17% discount on a TV set with a marked price of Rs 5600. If he still earns a profit of Rs 500, what is the cost price of the TV set?

एक विक्रेता 5600 रु अंकित मूल्य वाले एक टीवी सेट पर 17% छूट देता है। अगर फिर भी वह 500 रु का लाभ कमाता है, तो टीवी सेट का क्रय मूल्य क्या है?

**Options:**

- 1) Rs 5100  
5100 रु
- 2) Rs 4148  
4148 रु
- 3) Rs 4950  
4950 रु
- 4) Rs 4930  
4930 रु

**Correct Answer:** Rs 4148

4148 रु

**Candidate Answer:** Rs 4148

4148 रु

**QID : 237** - The total surface area of a cube is  $2166 \text{ cm}^2$ . What is the volume of this cube?

एक घन का सम्पूर्ण पृष्ठ क्षेत्रफल  $2166 \text{ सेमी}^2$  है। इस घन का आयतन क्या है?

**Options:**

- 1)  $6759 \text{ cm}^3$   
6759 सेमी<sup>3</sup>
- 2)  $6959 \text{ cm}^3$   
6959 सेमी<sup>3</sup>
- 3)  $6859 \text{ cm}^3$   
6859 सेमी<sup>3</sup>
- 4)  $7059 \text{ cm}^3$   
7059 सेमी<sup>3</sup>

**Correct Answer:**  $6859 \text{ cm}^3$ 6859 सेमी<sup>3</sup>**Candidate Answer:**  $6859 \text{ cm}^3$ 6859 सेमी<sup>3</sup>

**QID : 238** - A cyclist covers a distance of 22 kms in 4 hours. What is the average speed of the cyclists?

एक साईकिल सवार 22 किमी की दूरी 4 घंटे में तय करता है। साईकिल सवार की औसत गति क्या है?

**Options:**

- 1) 4 km/hr  
4 किमी./घंटा
- 2) 4.5 km/hr  
4.5 किमी./घंटा
- 3) 5.5 km/hr  
5.5 किमी./घंटा
- 4) 10 km/hr  
10 किमी./घंटा

**Correct Answer:** 5.5 km/hr  
5.5 किमी./घंटा

**Candidate Answer:** 5.5 km/hr  
5.5 किमी./घंटा

**QID : 239** - Sita deposited Rs 5,000 at 10% simple interest for 2 years. How much more money will Sita have in her account at the end of two years, if it is compound semi-annually?

सीता ने 2 साल के लिए 10% साधारण ब्याज पर 5,000 रु जमा किए। यदि यह अर्द्ध-वार्षिक सयोजन चक्रवृद्धि ब्याज है, तो दो वर्ष की समाप्ति पर सीता के खाते में कितना अधिक धन होगा?

**Options:**

- 1) Rs. 50  
50 रु
- 2) Rs. 40  
40 रु
- 3) Rs. 77.50  
77.50 रु
- 4) Rs. 85.50  
85.50 रु

**Correct Answer:** Rs. 77.50  
77.50 रु

**Candidate Answer:** Rs. 85.50  
85.50 रु

**QID : 240** - How many of the following numbers are divisible by 36?

**324, 338, 342, 356, 360, 1080**

निम्नांकित में से कितनी संख्याएँ 36 से विभाज्य हैं?

**324, 338, 342, 356, 360, 1080**

**Options:**

- 1) 2
- 2) 3
- 3) 4
- 4) 5

**Correct Answer:** 3

**Candidate Answer:** 3

**QID : 241** - The monthly salaries of A and B are in the ratio 13:15. If both of them get a salary increment of Rs 3000 per month, the new ratio becomes 29:33. What is the new monthly salary of A?

A तथा B के मासिक वेतनों का अनुपात 13:15 है। अगर दोनों को 3000 रु की मासिक वेतन वृद्धि मिलती है, तो नया अनुपात 29:33 हो जाता है। A का नया मासिक वेतन क्या है?

**Options:**

- 1) Rs 29000  
29000 रु
- 2) Rs 30000  
30000 रु
- 3) Rs 33000  
33000 रु
- 4) Rs 26000  
26000 रु

**Correct Answer:** Rs 29000  
29000 रु

**Candidate Answer:** [ NOT ANSWERED ]

**QID : 242** - Price of a house came down by 20% during recession. After one year, the price increased by 25 %. What was the effective change percent in the price of house over the original price?

मंदी के दौरान एक घर की कीमत 20% कम हो गई। एक साल बाद कीमत में 25% की वृद्धि हुई। घर के मूल कीमत में कितने प्रतिशत का बदलाव हुआ?

**Options:**

- 1) 0%
- 2) 5%
- 3) -5%
- 4) 10%

**Correct Answer:** 0%

**Candidate Answer:** 0%

**QID : 243** - A shopkeeper buys two dozen umbrella for Rs 3600. Four of the umbrellas were damaged during transportation. If the shopkeeper wants a profit of 10 percent then what should be the selling price for each umbrella?

एक दुकानदार दो दर्जन छाते 3600 रु में खरीदता है। चार छाते ढुलाई के दौरान टूट गए। अगर दुकानदार को 10 प्रतिशत का लाभ चाहिए, तो प्रत्येक छाते का विक्रय मूल्य क्या होगा?

**Options:**

- 1) Rs 188  
188 रु
- 2) Rs 198  
198 रु
- 3) Rs 178  
178 रु
- 4) Rs 208  
208 रु

**Correct Answer:** Rs 198

198 रु

**Candidate Answer:** Rs 198

198 रु

**QID : 244** - A wall of 100 meter can be built by 7 large robots or 10 small robots in 10 days. How many days will 14 large robots and 20 small robots take to build a wall of 600 meter?

100 मीटर की दीवार को 7 बड़े रोबोट या 10 छोटे रोबोट 10 दिनों में बना सकते हैं। 14 बड़े रोबोट और 20 छोटे रोबोट 600 मीटर की दीवार को बनाने के लिए कितने दिन लेंगे?

**Options:**

- 1) 30
- 2) 25
- 3) 20
- 4) 15

**Correct Answer:** 15**Candidate Answer:** 15

**QID : 245** - If Rs 2752 is divided in the ratio of 9:11:12 among A, B and C respectively, what will be the share of A?

अगर 2752 रु को A, B तथा C के बीच क्रमशः 9:11:12 के अनुपात में विभाजित किया जाता है, तो A का हिस्सा क्या होगा?

**Options:**

- 1) Rs 1046  
1046 रु
- 2) Rs 1032  
1032 रु
- 3) Rs 946  
946 रु
- 4) Rs 774  
774 रु

**Correct Answer:** Rs 774

774 रु

**Candidate Answer:** Rs 774

774 रु

**QID : 246** - What is the largest 4-digit number divisible by 19?

19 से विभाज्य होने वाली 4 अंकों की सबसे बड़ी संख्या कौन सी है?

**Options:**

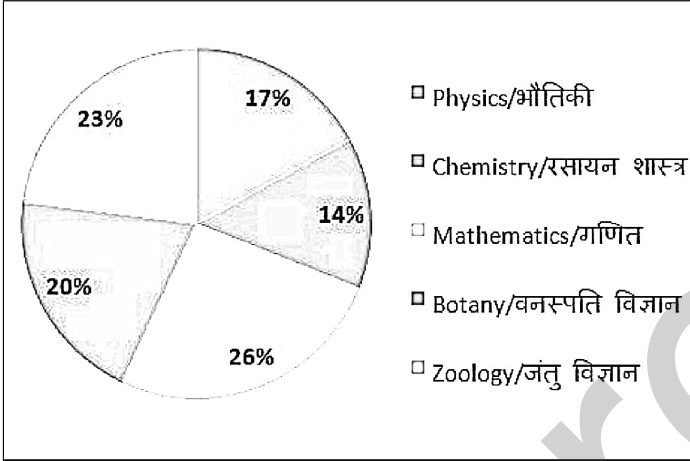
- 1) 9999
- 2) 9989
- 3) 9994
- 4) 9981

**Correct Answer:** 9994**Candidate Answer:** [ NOT ANSWERED ]

**QID : 247 -**

The pie-chart below shows enrolment in 5 subjects at graduate level under 25 universities of a state. If the total number of student enrolled in the 5 subjects is 12500. Answer the following question on the basis of the data given in the chart below.

नीचे दिया गया पाई चार्ट किसी राज्य के 25 विश्वविद्यालयों में स्नातक स्तर पर 5 विषयों के नामांकन का विवरण देता है। अगर पाँचों विषयों को मिलाकर कुल 12500 छात्र नामांकित हैं, तो निम्नलिखित प्रश्न का उत्तर पाई चार्ट में दर्शाए गए आंकड़ों के आधार पर दें।



How many students are enrolled under Botany and Zoology together in all universities of the state?

राज्य के सभी विश्वविद्यालयों को मिलाकर वनस्पति विज्ञान तथा जंतु विज्ञान विषयों में कुल कितने छात्र नामांकित हैं?

**Options:**

1) 6525

2) 5375

3) 6520

4) 6550

**Correct Answer:** 5375

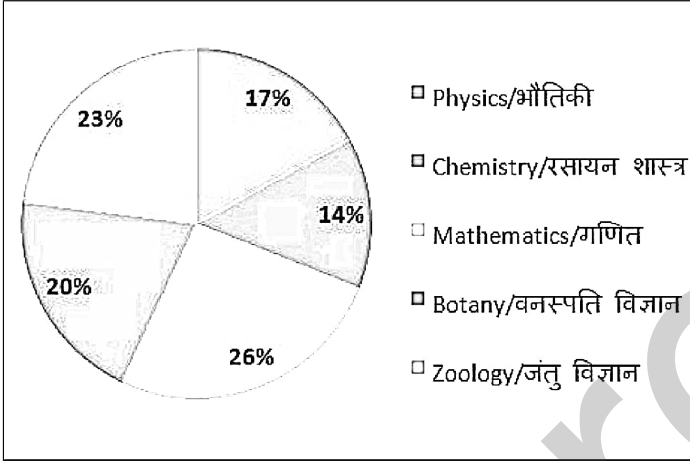
**Candidate Answer:** 6550



**QID : 248 -**

The pie-chart below shows enrolment in 5 subjects at graduate level under 25 universities of a state. If the total number of student enrolled in the 5 subjects is 12500. Answer the following question on the basis of the data given in the chart below.

नीचे दिया गया पाई चार्ट किसी राज्य के 25 विश्वविद्यालयों में स्नातक स्तर पर 5 विषयों के नामांकन का विवरण देता है। अगर पाँचों विषयों को मिलाकर कुल 12500 छात्र नामांकित हैं, तो निम्नलिखित प्रश्न का उत्तर पाई चार्ट में दर्शाए गए आंकड़ों के आधार पर दें।



What is the average enrollment in Botany across universities?

राज्य के विश्वविद्यालयों में वनस्पति विज्ञान विषय में औसत नामांकन कितना है?

**Options:**

- 1) 100
- 2) 105
- 3) 120
- 4) 125

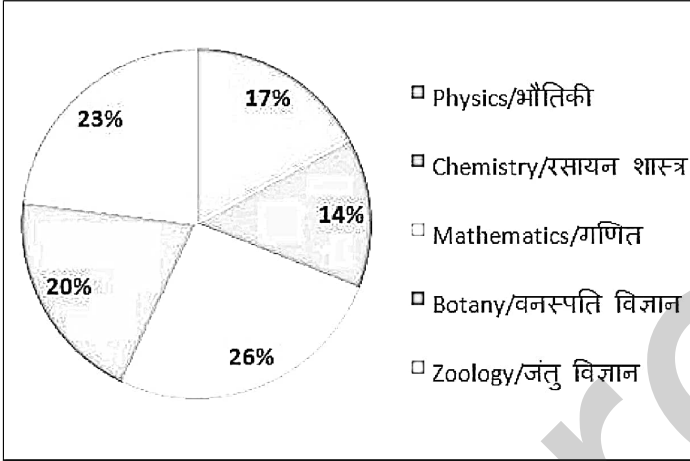
**Correct Answer:** 100

**Candidate Answer:** 125

**QID : 249 -**

The pie-chart below shows enrolment in 5 subjects at graduate level under 25 universities of a state. If the total number of student enrolled in the 5 subjects is 12500. Answer the following question on the basis of the data given in the chart below.

नीचे दिया गया पाई चार्ट किसी राज्य के 25 विश्वविद्यालयों में स्नातक स्तर पर 5 विषयों के नामांकन का विवरण देता है। अगर पाँचों विषयों को मिलाकर कुल 12500 छात्र नामांकित हैं, तो निम्नलिखित प्रश्न का उत्तर पाई चार्ट में दर्शाए गए आंकड़ों के आधार पर दें।



What is the difference between the average number of students enrolled in Mathematics and Chemistry across universities?

विश्वविद्यालयों में गणित और रसायन विज्ञान में नामांकित छात्रों की औसत संख्या के बीच अंतर क्या है?

**Options:**

- 1) 60
- 2) 130
- 3) 70
- 4) 80

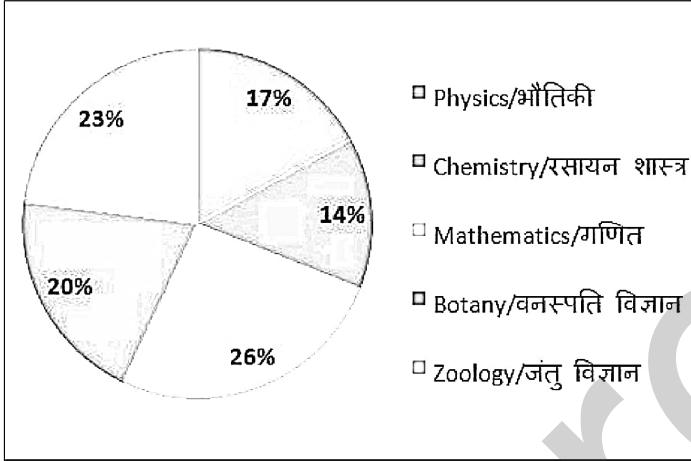
**Correct Answer:** 60

**Candidate Answer:** 60

**QID : 250 -**

The pie-chart below shows enrolment in 5 subjects at graduate level under 25 universities of a state. If the total number of student enrolled in the 5 subjects is 12500. Answer the following question on the basis of the data given in the chart below.

नीचे दिया गया पाई चार्ट किसी राज्य के 25 विश्वविद्यालयों में स्नातक स्तर पर 5 विषयों के नामांकन का विवरण देता है। अगर पाँचों विषयों को मिलाकर कुल 12500 छात्र नामांकित हैं, तो निम्नलिखित प्रश्न का उत्तर पाई चार्ट में दर्शाए गए आंकड़ों के आधार पर दें।



How many less students are enrolled in Physics than those in Mathematics across the state?

राज्य में गणित के मुकाबले भौतिकी में कितने कम छात्र नामांकित हैं?

**Options:**

- 1) 1150
- 2) 1200
- 3) 1125
- 4) 1250

**Correct Answer:** 1125**Candidate Answer:** 1200

**QID : 251 -** In the following question, some part of the sentence may have errors. Find out which part of the sentence has an error and select the appropriate option. If a sentence is free from error, select 'No Error'.

Richer countries can simply (1)/ buy up excess credits from poorer countries (2)/ and continue to polluting. (3)/ No error (4)

**Options:**

- 1) 1
- 2) 2
- 3) 3
- 4) 4

**Correct Answer:** 3**Candidate Answer:** 1

**QID : 252 -** In the following question, some part of the sentence may have errors. Find out which part of the sentence has an error and select the appropriate option. If a sentence is free from error, select 'No Error'.

He had no trade but that of cobbler (1)/ which his father had taught him, and he found (2)/ the work class of his native country dominated by Communists. (3)/ No error (4)

**Options:**

- 1) 1
- 2) 2
- 3) 3
- 4) 4

**Correct Answer:** 3**Candidate Answer:** 1

**QID : 253** - In the following question, the sentence given with blank to be filled in with an appropriate word. Select the correct alternative out of the four and indicate it by selecting the appropriate option.

**The principal \_\_\_\_\_ the audience for their visit that day.**

**Options:**

- 1) smiled
- 2) thanking
- 3) curled
- 4) thanked

**Correct Answer:** thanked

**Candidate Answer:** thanked

**QID : 254** - In the following question, the sentence given with blank to be filled in with an appropriate word. Select the correct alternative out of the four and indicate it by selecting the appropriate option.

**The sun \_\_\_\_\_ in the east.**

**Options:**

- 1) rose
- 2) rises
- 3) rise
- 4) rising

**Correct Answer:** rises

**Candidate Answer:** rises

**QID : 255** - In the following question, out of the given four alternatives, select the one which best expresses the meaning of the given word.

**Hasty**

**Options:**

- 1) Quick
- 2) Lazy
- 3) Slow
- 4) Delayed

**Correct Answer:** Quick

**Candidate Answer:** Lazy

**QID : 256** - In the following question, out of the given four alternatives, select the one which best expresses the meaning of the given word.

**Mitigate**

**Options:**

- 1) Incite
- 2) Intensify
- 3) Irritate
- 4) Reduce

**Correct Answer:** Reduce

**Candidate Answer:** [ NOT ANSWERED ]

**QID : 257** - In the following question, out of the given four alternatives, select the one which best expresses the meaning of the given word.

**Praise**

**Options:**

- 1) Blame
- 2) Criticize
- 3) Censure
- 4) Compliment

**Correct Answer:** Compliment

**Candidate Answer:** Compliment

**QID : 258** - In the following question, out of the given four alternatives, select the one which is opposite in meaning of the given word.

**Interrogate**

**Options:**

- 1) Reply
- 2) Grill
- 3) Inquire
- 4) Pump

**Correct Answer:** Reply

**Candidate Answer:** Reply

**QID : 259** - In the following question, out of the given four alternatives, select the one which is opposite in meaning of the given word.

**Commence**

**Options:**

- 1) Terminate
- 2) Begin
- 3) Initiate
- 4) Originate

**Correct Answer:** Terminate

**Candidate Answer:** Terminate

**QID : 260** - In the following question, out of the given four alternatives, select the one which is opposite in meaning of the given word.

**Lofty**

**Options:**

- 1) High
- 2) Elevated
- 3) Lifted
- 4) Below

**Correct Answer:** Below

**Candidate Answer:** Elevated

**QID : 261** - In the following question, out of the four given alternatives, select the alternative which best expresses the meaning of the Idiom/Phrase.

**Horse around**

**Options:**

- 1) To behave in a silly and noisy way
- 2) Avoid starvation
- 3) Keep the spirits up
- 4) Beaten dishonestly

**Correct Answer:** To behave in a silly and noisy way

**Candidate Answer:** Keep the spirits up

**QID : 262** - In the following question, out of the four given alternatives, select the alternative which best expresses the meaning of the Idiom/Phrase.

**All in**

**Options:**

- 1) Exhausted
- 2) Igniting
- 3) Brightened
- 4) Flared up

**Correct Answer:** Exhausted

**Candidate Answer:** [ NOT ANSWERED ]

**QID : 263** - Improve the bracketed part of the sentence.

This enhancement of pets means taking care of a pet's appearance, **(personal hygienic)**, and health issues.

**Options:**

- 1) personal hygiene
- 2) professional hygiene
- 3) official hygiene
- 4) No improvement

**Correct Answer:** personal hygiene

**Candidate Answer:** personal hygiene

**QID : 264** - Improve the bracketed part of the sentence.

Now people are focusing on their fitness not only for their aesthetic appeal **(also but)** for their health.

**Options:**

- 1) but even
- 2) but also
- 3) even but
- 4) No improvement

**Correct Answer:** but also

**Candidate Answer:** but also

**QID : 265** - In the following question, out of the four given alternatives, select the alternative which is the best substitute of the phrase.

**Not endowed with life**

**Options:**

- 1) Inmate
- 2) Inanimate
- 3) Humate
- 4) Ultimate

**Correct Answer:** Inanimate

**Candidate Answer:** [ NOT ANSWERED ]

**QID : 266** - In the following question, out of the four given alternatives, select the alternative which is the best substitute of the phrase.

**A picture drawn to make people laugh.**

**Options:**

- 1) Aperture
- 2) Caricature
- 3) Puncture
- 4) Overture

**Correct Answer:** Caricature

**Candidate Answer:** [ NOT ANSWERED ]

**QID : 267** - In the following question, a word has been written in four different ways out of which only one is correctly spelt. Select the correctly spelt word.

**Options:**

- 1) Charaectristic
- 2) Characteristic
- 3) Chracteristic
- 4) Chaeracteristic

**Correct Answer:** Characteristic

**Candidate Answer:** Characteristic

**QID : 268** - In the following question, a word has been written in four different ways out of which only one is correctly spelt. Select the correctly spelt word.

**Options:**

- 1) Mortgage
- 2) Mautrgage
- 3) Mourtagage
- 4) Mourtgage

**Correct Answer:** Mortgage

**Candidate Answer:** Mourtgage

**QID : 269** - Rearrange the parts of the sentence in correct order.

Hunger can be defined as

**P:** sensation caused by want of

**Q:** food; craving appetite

**R:** an uneasy or painful

**Options:**

- 1) PRQ
- 2) RPQ
- 3) QRP
- 4) PQR

**Correct Answer:** RPQ

**Candidate Answer:** PRQ

**QID : 270** - Rearrange the parts of the sentence in correct order.

The changing social system is a

**P:** also brings change

**Q:** in the status of its members

**R:** universal factor which

**Options:**

- 1) RPQ
- 2) PRQ
- 3) QRP
- 4) PQR

**Correct Answer:** RPQ

**Candidate Answer:** RPQ

**QID : 271** - In the following passage some of the words have been left out. Read the passage carefully and select the correct answer for the given blank out of the four alternatives.

Knowledge helps us to \_\_\_\_\_ our planning into the right action and \_\_\_\_\_ to get the \_\_\_\_\_ between right or wrong and good or bad. It helps us to \_\_\_\_\_ our weaknesses and faults as well as makes us able to face the dangers and difficulties by showing lots of courage and confidence. It makes a person \_\_\_\_\_ powerful by giving him mental, moral and spiritual advancement in the life.

**helps us to \_\_\_\_\_ our planning**

**Options:**

1) convert

2) divert

3) retreat

4) erect

**Correct Answer:** convert

**Candidate Answer:** retreat

**QID : 272** - In the following passage some of the words have been left out. Read the passage carefully and select the correct answer for the given blank out of the four alternatives.

Knowledge helps us to \_\_\_\_\_ our planning into the right action and \_\_\_\_\_ to get the \_\_\_\_\_ between right or wrong and good or bad. It helps us to \_\_\_\_\_ our weaknesses and faults as well as makes us able to face the dangers and difficulties by showing lots of courage and confidence. It makes a person \_\_\_\_\_ powerful by giving him mental, moral and spiritual advancement in the life.

**action and \_\_\_\_\_ to**

**Options:**

1) durable

2) enables

3) cables

4) tables

**Correct Answer:** enables

**Candidate Answer:** enables

**QID : 273** - In the following passage some of the words have been left out. Read the passage carefully and select the correct answer for the given blank out of the four alternatives.

Knowledge helps us to \_\_\_\_\_ our planning into the right action and \_\_\_\_\_ to get the \_\_\_\_\_ between right or wrong and good or bad. It helps us to \_\_\_\_\_ our weaknesses and faults as well as makes us able to face the dangers and difficulties by showing lots of courage and confidence. It makes a person \_\_\_\_\_ powerful by giving him mental, moral and spiritual advancement in the life.

**get the \_\_\_\_\_ between right**

**Options:**

1) similarity

2) variety

3) difference

4) resemblances

**Correct Answer:** difference

**Candidate Answer:** resemblances

**QID : 274** - In the following passage some of the words have been left out. Read the passage carefully and select the correct answer for the given blank out of the four alternatives.

Knowledge helps us to \_\_\_\_\_ our planning into the right action and \_\_\_\_\_ to get the \_\_\_\_\_ between right or wrong and good or bad. It helps us to \_\_\_\_\_ our weaknesses and faults as well as makes us able to face the dangers and difficulties by showing lots of courage and confidence. It makes a person \_\_\_\_\_ powerful by giving him mental, moral and spiritual advancement in the life.

**to \_\_\_\_\_ our weaknesses**

**Options:**

1) showcase

2) loose

3) win

4) overcome

**Correct Answer:** overcome

**Candidate Answer:** overcome

**QID : 275** - In the following passage some of the words have been left out. Read the passage carefully and select the correct answer for the given blank out of the four alternatives.

Knowledge helps us to \_\_\_\_\_ our planning into the right action and \_\_\_\_\_ to get the \_\_\_\_\_ between right or wrong and good or bad. It helps us to \_\_\_\_\_ our weaknesses and faults as well as makes us able to face the dangers and difficulties by showing lots of courage and confidence. It makes a person \_\_\_\_\_ powerful by giving him mental, moral and spiritual advancement in the life.

**a person \_\_\_\_\_ powerful by giving**

**Options:**

- 1) most
- 2) hardly
- 3) rarely
- 4) more

**Correct Answer:** more

**Candidate Answer:** more

**QID : 276** - The Harappan site Ropar was situated on the banks of which river?

हड़प्पाकालीन स्थल रोपड़ किस नदी के किनारे स्थित था ?

**Options:**

- 1) Chenab  
चिनाब
- 2) Sutlej  
सतलज
- 3) Indus  
सिंधु
- 4) Ravi  
रावी

**Correct Answer:** Sutlej

सतलज

**Candidate Answer:** Indus

सिंधु

**QID : 277** - The real name of Mahavira was \_\_\_\_\_.

महावीर का मूल नाम \_\_\_\_\_ था।

**Options:**

- 1) Siddhartha  
सिद्धार्थ
- 2) Gautam  
गौतम
- 3) Vardhaman  
वर्धमान
- 4) No option is correct.  
कोई भी विकल्प सही नहीं है।

**Correct Answer:** Vardhaman

वर्धमान

**Candidate Answer:** Gautam

गौतम

**QID : 278** - How many latitudes are there in total?

कुल अक्षांशों की संख्या कितनी है?

**Options:**

- 1) 66
- 2) 90
- 3) 180
- 4) 360

**Correct Answer:** 180

**Candidate Answer:** 360

**QID : 279** - On which Island "Jakarta", the Indonesian capital is located?

इंडोनेशिया की राजधानी "जकार्ता" किस द्वीप पर स्थित है?



**Options:**

1) Sulawesi

सुलावेसी

2) Java

जावा

3) Sumatra

सुमात्रा

4) Bali

बाली

**Correct Answer:** Java

जावा

**Candidate Answer:** Sumatra

सुमात्रा

**QID : 280** - Who made the Indian Constitution?

भारतीय संविधान को किसने बनाया?

**Options:**

1) The Constituent Assembly

संविधान सभा ने

2) British Parliament

ब्रिटिश संसद ने

3) Indian Parliament

भारतीय संसद ने

4) The governor general

गवर्नर जनरल ने

**Correct Answer:** The Constituent Assembly

संविधान सभा ने

**Candidate Answer:** The Constituent Assembly

संविधान सभा ने

**QID : 281** - Who among the following holds the supreme position in the Indian political system?

निम्नलिखित में से कौन भारतीय राजव्यवस्था में सर्वोच्च है?

**Options:**

1) Prime Minister

प्रधानमंत्री

2) Religion

धर्म

3) Constitution and Parliament both

संविधान और संसद दोनों

4) Supreme Court

सर्वोच्च न्यायालय

**Correct Answer:** Constitution and Parliament both

संविधान और संसद दोनों

**Candidate Answer:** Constitution and Parliament both

संविधान और संसद दोनों

**QID : 282** - The main cause of poverty in the underdeveloped countries is \_\_\_\_\_.

अल्पविकसित देशों में गरीबी का मुख्य कारण है \_\_\_\_\_।

**Options:**

1) voluntary inactivity

स्वैच्छिक निष्क्रियता

2) equality in income

आय में समानता

3) lack of cultural activities

सांस्कृतिक गतिविधियों का अभाव

4) lack of intelligence in people

लोगों में बुद्धि का अभाव

**Correct Answer:** voluntary inactivity

स्वैच्छिक निष्क्रियता

**Candidate Answer:** voluntary inactivity

स्वैच्छिक निष्क्रियता

**QID : 283** - \_\_\_\_\_ gets affected with the change in Bank Rate.

बैंक दर में परिवर्तन से प्रभावित होता है \_\_\_\_\_।

**Options:**

- 1) Market rate of interest  
ब्याज की बाजार दर
- 2) Selected investment industry  
निवेश के चुनिंदा उद्योग
- 3) Lending bank  
ऋण देने वाले बैंक
- 4) Cash reserve ratio  
नकदी आरक्षण अनुपात

**Correct Answer:** Market rate of interest  
ब्याज की बाजार दर

**Candidate Answer:** Market rate of interest  
ब्याज की बाजार दर

**QID : 284** - What is the unit of radioactivity?

रेडियोधर्मिता की इकाई क्या है?

**Options:**

- 1) Angstrom  
एंगस्ट्रॉम
- 2) Candela  
कैंडेला
- 3) Fermi  
फर्मी
- 4) Curie  
क्यूरी

**Correct Answer:** Curie  
क्यूरी

**Candidate Answer:** Curie  
क्यूरी

**QID : 285** - \_\_\_\_\_ turns the red litmus paper into blue.

लाल लिटमस पत्र को नीला कर देता है \_\_\_\_\_।

**Options:**

- 1) Acid  
अम्ल
- 2) Base  
भस्म
- 3) Salts  
लवण
- 4) No option is correct.  
कोई भी विकल्प सही नहीं है।

**Correct Answer:** Base  
भस्म

**Candidate Answer:** Base  
भस्म

**QID : 286** - According to Newton's which law of motion is possible to swim?

जल में तैरना न्यूटन की गति के किस नियम के कारण संभव है

**Options:**

- 1) First law  
प्रथम नियम
- 2) Second law  
द्वितीय नियम
- 3) Third law  
तृतीय नियम
- 4) All options are correct.  
सभी विकल्प सही हैं।

**Correct Answer:** Third law  
तृतीय नियम

**Candidate Answer:** Third law  
तृतीय नियम

**QID : 287** - Energy is formed on the Sun \_\_\_\_\_.

सूर्य पर उर्जा का निर्माण होता है: \_\_\_\_\_।

**Options:**

- 1) by nuclear fission  
नाभिकीय विखंडन द्वारा
- 2) by nuclear fusion  
नाभिकीय संलयन द्वारा
- 3) by oxidation reactions  
ऑक्सीकरण अभिक्रियाओं द्वारा
- 4) by degradation reactions  
अवकरण अभिक्रियाओं द्वारा

**Correct Answer:** by nuclear fusion  
नाभिकीय संलयन द्वारा

**Candidate Answer:** by nuclear fusion  
नाभिकीय संलयन द्वारा

**QID : 288** - Which of the following diseases is caused by bacteria?

निम्नलिखित में से कौन सा रोग बैक्टीरिया से होता है

**Options:**

- 1) Tuberculosis  
तपेदिक
- 2) Jaundice  
पीलिया
- 3) Chicken pox  
चेचक
- 4) Mumps  
म्सप्स

**Correct Answer:** Tuberculosis  
तपेदिक

**Candidate Answer:** Jaundice  
पीलिया

**QID : 289** - For which discovery was Hargovind Khorana was given honour?

हरगोविंद खुराना को किस खोज के लिए सम्मानित किया गया?

**Options:**

- 1) For protein synthesis  
प्रोटीन संश्लेषण के लिए
- 2) For genes synthesis  
जीन संश्लेषण के लिए
- 3) For the synthesis of nitrogen alkalis  
नाइट्रोजन क्षारों का संश्लेषण के लिए
- 4) No option is correct.  
कोई भी विकल्प सही नहीं है।

**Correct Answer:** For genes synthesis  
जीन संश्लेषण के लिए

**Candidate Answer:** For genes synthesis  
जीन संश्लेषण के लिए

**QID : 290** - Ozone layer present in the atmosphere absorbs \_\_\_\_\_.

वायुमंडल में उपस्थित ओजोन परत अवशोषित करती है \_\_\_\_\_।

**Options:**

- 1) Cosmic rays  
ब्रम्हाडीय किरणों को
- 2) To infrared rays  
अवरक्त किरणों को
- 3) Ultraviolet rays  
पराबैंगनी किरणों को
- 4) All radiations  
सभी विकिरणों को

**Correct Answer:** Ultraviolet rays  
पराबैंगनी किरणों को

**Candidate Answer:** Ultraviolet rays  
पराबैंगनी किरणों को

**QID : 291** - Primary or main source of energy in ecosystem is \_\_\_\_\_.

पारितंत्र में उर्जा का प्राथमिक या मुख्य स्रोत होता है \_\_\_\_\_।

**Options:**

- 1) Sunlight  
सूर्य का प्रकाश
- 2) Accumulated sugar in plants  
पौधों में संचित शर्करा
- 3) Free heat in fermentation  
किण्वन में मुक्त ऊष्मा
- 4) Free heat during respiration  
श्वसन के दौरान मुक्त ऊष्मा

**Correct Answer:** Sunlight

सूर्य का प्रकाश

**Candidate Answer:** Sunlight

सूर्य का प्रकाश

**QID : 292** - Who developed the Integrated Circuit Chip?

इंटीग्रेटेड सर्किट चिप का विकास किसने किया है?

**Options:**

- 1) C.V. Raman  
सी.वी.रमन
- 2) Robert Noyce  
रॉबर्ट नोयस
- 3) Sabeer Bhatia  
सबीर भाटिया
- 4) Charles Babbage  
चार्ल्स बेबेज

**Correct Answer:** Robert Noyce

रॉबर्ट नोयस

**Candidate Answer:** Robert Noyce

रॉबर्ट नोयस

**QID : 293** - What is the number of players in one side in Water Polo?

वाटर पोलो में एक पक्ष में खिलाड़ियों की संख्या कितनी होती है?

**Options:**

- 1) 5
- 2) 6
- 3) 7
- 4) 8

**Correct Answer:** 7**Candidate Answer:** 7**QID : 294** - To which ancient subject of India is the famous book "Lilavati" related to?

प्रसिद्ध ग्रन्थ "लीलावती" भारत के किस प्राचीन विषय से संबंधित है ?

**Options:**

- 1) Chemistry  
रसायन
- 2) Philosophy  
दर्शन
- 3) Mathematics  
गणित
- 4) Treatment  
चिकित्सा

**Correct Answer:** Mathematics

गणित

**Candidate Answer:** Philosophy

दर्शन

**QID : 295** - What is the purpose of 'Teerth Darshan' scheme of Haryana Government?

हरियाणा सरकार द्वारा 'तीर्थ दर्शन' योजना का उद्देश्य क्या है?

**Options:**

- 1) Tour of pilgrimages in Haryana  
हरियाणा के तीर्थ स्थल की यात्रा
- 2) Promotions of pilgrimages through Television  
टेलीविजन के माध्यम से तीर्थस्थलों का प्रचार
- 3) Pilgrimage to senior citizens  
वरिष्ठ नागरिकों को तीर्थयात्रा करवाना
- 4) No option is correct.  
कोई भी विकल्प सही नहीं है।

**Correct Answer:** Pilgrimage to senior citizens  
वरिष्ठ नागरिकों को तीर्थयात्रा करवाना

**Candidate Answer:** Pilgrimage to senior citizens  
वरिष्ठ नागरिकों को तीर्थयात्रा करवाना

**QID : 296** - Who discovered the Law of Electrostatic Attraction?

स्थिरवैद्युत आकर्षण के नियम की खोज किसने की?

**Options:**

- 1) Newton  
न्यूटन
- 2) Coulomb  
कूलम्ब
- 3) Max Planck  
मैक्स प्लैंक
- 4) Michael Faraday  
माइकल फैराडे

**Correct Answer:** Coulomb  
कूलम्ब

**Candidate Answer:** Coulomb  
कूलम्ब

**QID : 297** - Which Indian dance style is the oldest one?

भारतीय शास्त्रीय नृत्य की सबसे प्राचीन शैली कौन सी है?

**Options:**

- 1) Odyssey  
ओडिसी
- 2) Kuchipudi  
कुचिपुडी
- 3) Bharatanatyam  
भरतनाट्यम
- 4) Kathakali  
कथकली

**Correct Answer:** Bharatanatyam  
भरतनाट्यम

**Candidate Answer:** Bharatanatyam  
भरतनाट्यम

**QID : 298** - The first author to receive the "Bharatiya Jnanpith Award" was \_\_\_\_\_.

"भारतीय ज्ञानपीठ पुरस्कार" के प्रथम विजेता साहित्यकार थे \_\_\_\_\_।

**Options:**

- 1) of Hindi literature  
हिन्दी साहित्य के
- 2) of Bengali literature  
बांग्ला साहित्य के
- 3) of Kannada literature  
कन्नड़ साहित्य के
- 4) of Malayalam literature  
मलयालम साहित्य के

**Correct Answer:** of Malayalam literature  
मलयालम साहित्य के

**Candidate Answer:** [ NOT ANSWERED ]

**QID : 299** - Which is the first country in Europe to pay a basic monthly income to the unemployed?

बेरोजगारों के लिए एक बुनियादी मासिक आय का भुगतान करने वाला यूरोप का पहला देश कौन है?

**Options:**

1) Sweden

स्वीडन

2) Finland

फिनलैंड

3) France

फ्रांस

4) Britain

ब्रिटेन

**Correct Answer:** Finland

फिनलैंड

**Candidate Answer:** [ NOT ANSWERED ]

**QID : 300** - Which of the following country has the same standard time as India?

निम्नलिखित में किस देश का मानक समय वही है, जो भारत का भी है?

**Options:**

1) Nepal

नेपाल

2) Bhutan

भूटान

3) Bangladesh

बांग्लादेश

4) Sri Lanka

श्रीलंका

**Correct Answer:** Sri Lanka

श्रीलंका

**Candidate Answer:** Bangladesh

बांग्लादेश