

QID : 201 -

In the following question, select the number which can be placed at the sign of question mark (?) from the given alternatives.

निम्नलिखित प्रश्न में दिए गए विकल्पों में से प्रश्न चिह्न (?) के स्थान पर आने वाली संख्या को चुनिए।

3	4	2	23
7	2	3	41
8	2	3	?

Options:

- 1) 25
- 2) 37
- 3) 43
- 4) 47

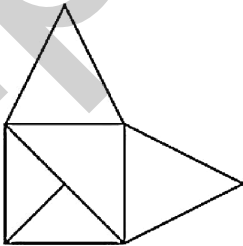
Correct Answer: 47

Candidate Answer: 47

QID : 202 -

How many triangles are there in the given figure?

दी गई आकृति में कितने त्रिभुज हैं?



Options:

- 1) 5
- 2) 6
- 3) 7
- 4) 8

Correct Answer: 6

Candidate Answer: 6

QID : 203 -

A word is represented by only one set of numbers as given in any one of the alternatives. The sets of numbers given in the alternatives are represented by two classes of alphabets as shown in the given two matrices. The columns and rows of **Matrix-I** are numbered from 0 to 4 and that of **Matrix-II** are numbered from 5 to 9. A letter from these matrices can be represented first by its row and next by its column, for example, 'D' can be represented by 02, 79, etc., and 'Z' can be represented by 00, 77, etc. Similarly, you have to identify the set for the word "TRANK".

एक शब्द केवल एक संख्या-समूह द्वारा दर्शाया गया है, जैसा कि विकल्पों में से किसी एक में दिया गया है। विकल्पों में दिए गए संख्या-समूह अक्षरों के दो वर्गों द्वारा दर्शाए गए हैं, जैसा कि दिए गए दो आव्यूहों में है। आव्यूह-I के स्तम्भ और पंक्ति की संख्या 0 से 4 है और आव्यूह-II की 5 से 9। इन आव्यूहों से एक अक्षर को पहले उसकी पंक्ति और बाद में स्तम्भ संख्या द्वारा दर्शाया जा सकता है। उदाहरण के लिए 'D' को 02, 79 आदि द्वारा दर्शाया जा सकता है तथा 'Z' को 00, 77, आदि द्वारा दर्शाया जा सकता है। इसी तरह से आपको प्रश्न में दिए शब्द "TRANK" के लिए समूह को पहचानना है।

Matrix-I
आव्यूह-I

	0	1	2	3	4
0	Z	O	D	W	X
1	G	M	N	H	V
2	E	O	Y	K	P
3	D	G	W	L	R
4	A	E	U	N	K

Matrix-II
आव्यूह-II

	5	6	7	8	9
5	A	V	X	P	U
6	K	M	O	T	S
7	L	T	Z	A	D
8	F	H	R	L	N
9	U	J	Q	V	X

Options:

- 1) 76, 24, 40, 12, 34
- 2) 10, 11, 55, 89, 23
- 3) 68, 87, 78, 12, 44
- 4) 76, 21, 55, 43, 34

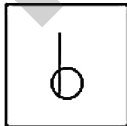
Correct Answer: 68, 87, 78, 12, 44

Candidate Answer: 68, 87, 78, 12, 44

QID : 204 -

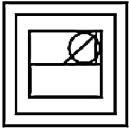
From the given answer figures, select the one in which the question figure is hidden/embedded.

दी गई उत्तर आकृतियों में से उस उत्तर आकृति को चुनिए जिस में प्रश्न आकृति निहित है।

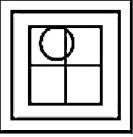


Options:

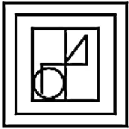
1)



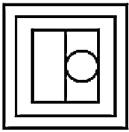
2)



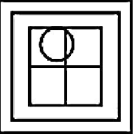
3)



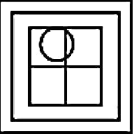
4)



Correct Answer:



Candidate Answer:



QID : 205 -

Which answer figure will complete the pattern in the question figure?

कौन सी उत्तर आकृति प्रश्न आकृति के प्रतिरूप को पूरा करेगी?

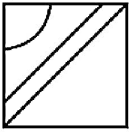


Options:

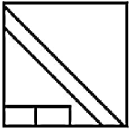
1)



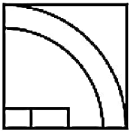
2)



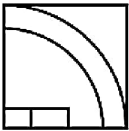
3)



4)



Correct Answer:



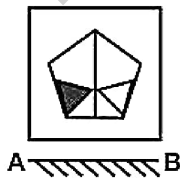
Candidate Answer:



QID : 206 -

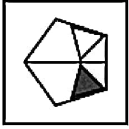
If a mirror is placed on the line AB, then which of the answer figures is the right image of the given figure?

यदि एक दर्पण को AB रेखा पर रखा जाए, तो दी गई उत्तर आकृतियों में से कौन सी आकृति प्रश्न आकृति की सही प्रतिबिम्ब होगी?

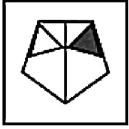


Options:

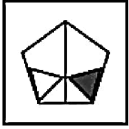
1)



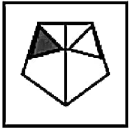
2)



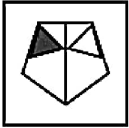
3)



4)



Correct Answer:



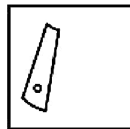
Candidate Answer:



QID : 207 -

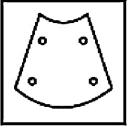
A piece of paper is folded and punched as shown below in the question figures. From the given answer figures, indicate how it will appear when opened?

नीचे के प्रश्न आकृतियों में दिखाए अनुसार कागज को मोड़कर छेदने तथा खोलने के बाद वह किस उत्तर आकृति जैसा दिखाई देगा?



Options:

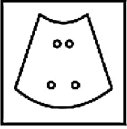
1)



2)



3)



4)



Correct Answer:



Candidate Answer:



QID : 208 - If 'P' means '+', 'Q' means '+', 'R' means 'x' and 'S' means '-', then

4 Q 9 R 36 P 4 S 12 = ?

यदि 'P' का अर्थ '+', 'Q' का अर्थ '+', 'R' का अर्थ 'x' तथा 'S' का अर्थ '-' हो, तो

4 Q 9 R 36 P 4 S 12 = ?

Options:

- 1) 73
- 2) 47
- 3) 68
- 4) 113

Correct Answer: 73

Candidate Answer: 73

QID : 209 - If 6 # 4 # 0 = 046 and 7 # 1 # 3 = 317, then

3 # 0 # 1 = ?

यदि 6 # 4 # 0 = 046 तथा 7 # 1 # 3 = 317 हो, तो

3 # 0 # 1 = ?

Options:

- 1) 310
- 2) 103
- 3) 13
- 4) 31

Correct Answer: 103

Candidate Answer: 103

QID : 210 - Arrange the given words in the sequence in which they occur in the dictionary.

1. Rest
2. Raid
3. Ring
4. Reap
5. Range

निम्नलिखित शब्दों को शब्दकोश में आने वाले क्रम के अनुसार लिखें।

1. Rest
2. Raid
3. Ring
4. Reap
5. Range

Options:

1) 25143

2) 52143

3) 25413

4) 52413

Correct Answer: 25413

Candidate Answer: 25413

QID : 211 - In the following question, select the missing number from the given series.

29, 27, 24, 20, 15, ?

निम्नलिखित प्रश्न में दिए गए विकल्पों में से लुप्त अंक ज्ञात कीजिए।

29, 27, 24, 20, 15, ?

Options:

1) 9

2) 8

3) 10

4) 11

Correct Answer: 9

Candidate Answer: 9

QID : 212 - A series is given with one term missing. Select the correct alternative from the given ones that will complete the series.

CD, GH, KL, OP, ?

एक अनुक्रम दिया गया है, जिसमें से एक पद लुप्त है। दिए गए विकल्पों में से वह सही विकल्प चुनिए, जो अनुक्रम को पूरा करे।

CD, GH, KL, OP, ?

Options:

1) ST

2) TS

3) QR

4) SU

Correct Answer: ST

Candidate Answer: ST

QID : 213 - In the following question, select the odd word from the given alternatives.

निम्नलिखित प्रश्न में दिए गए विकल्पों में से विषम शब्द को चुनिए।

Options:

1) Cup

कप

2) Water

जल

3) Jug

जग

4) Bucket

बाल्टी

Correct Answer: Water

जल

Candidate Answer: Water

जल

QID : 214 - In the following question, select the odd number pair from the given alternatives.

निम्नलिखित प्रश्न में दिए गए विकल्पों में से विषम संख्या युग्म को चुनिए।

Options:

- 1) 17 – 19
- 2) 23 – 25
- 3) 33 – 35
- 4) 43 – 39

Correct Answer: 43 – 39

Candidate Answer: 43 – 39

QID : 215 - In the following question, select the odd letters from the given alternatives.

निम्नलिखित प्रश्न में दिए गए विकल्पों में से विषम अक्षरों को चुनिए।

Options:

- 1) HJ
- 2) MP
- 3) RT
- 4) WY

Correct Answer: MP

Candidate Answer: MP

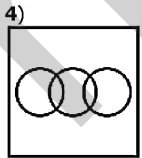
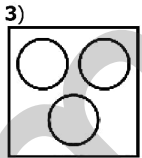
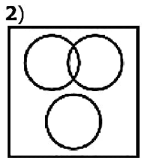
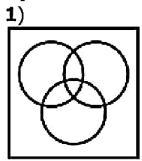
QID : 216 - Identify the diagram that best represents the relationship among the given classes.

Dog, Pet animals, Pencil

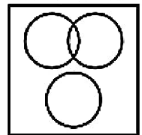
वह आरेख चुनिए जो नीचे दिए गए वर्गों के बीच के संबंध का सही निरूपण करता है।

कुत्ता, पालतू जानवर, पेंसिल

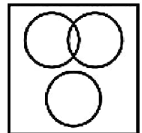
Options:



Correct Answer:



Candidate Answer:



QID : 217 - In the following question, select the related word from the given alternatives.

Fresh : Stale :: Straight : ?

निम्नलिखित प्रश्न में दिए गए विकल्पों में से संबंधित शब्द को चुनिए।

ताजा : बासी :: सीधा : ?

Options:

1) Twisted

मुड़ा हुआ

2) Line

रेखा

3) Road

सड़क

4) Join

जोड़ना

Correct Answer: Twisted

मुड़ा हुआ

Candidate Answer: Twisted

मुड़ा हुआ

QID : 218 - In the following question, select the related number pair from the given alternatives.

12 : 146 :: ? : ?

निम्नलिखित प्रश्न में दिए गए विकल्पों में से संबंधित संख्या युग्म को चुनिए।

12 : 146 :: ? : ?

Options:

1) 16 : 258

2) 13 : 167

3) 15 : 228

4) 14 : 193

Correct Answer: 16 : 258

Candidate Answer: 16 : 258

QID : 219 - In the following question, select the related letters from the given alternatives.

CAB : FEG :: RUN : ?

निम्नलिखित प्रश्न में दिए गए विकल्पों में से संबंधित अक्षरों को चुनिए।

CAB : FEG :: RUN : ?

Options:

1) UYS

2) UYT

3) UWS

4) UVS

Correct Answer: UYS

Candidate Answer: UYS

QID : 220 - In the following question, select the word which cannot be formed using the letters of the given word.

RINGINGS

निम्नलिखित विकल्पों में से वह शब्द चुनिए जो दिए गए शब्द के अक्षरों का प्रयोग करके नहीं बनाया जा सकता।

RINGINGS

Options:

1) RING

2) SING

3) GRIN

4) GRAIN

Correct Answer: GRAIN

Candidate Answer: GRAIN

QID : 221 - If North is called South, South is called North and East is called West, then what will be North-East called as?

यदि उत्तर को दक्षिण कहा जाता है, दक्षिण को उत्तर कहा जाता है तथा पूर्व को पश्चिम कहा जाता है, तो उत्तर-पूर्व को क्या कहा जायेगा?

Options:

- 1) North-West
उत्तर-पश्चिम
- 2) South-West
दक्षिण-पश्चिम
- 3) West
पश्चिम
- 4) South
दक्षिण

Correct Answer: South-West

दक्षिण-पश्चिम

Candidate Answer: South-West

दक्षिण-पश्चिम

QID : 222 - Beena is 20th from either end of a row. How many people are there in the row?

बीना एक पंक्ति के दोनों छोरों से 20 वीं है। पंक्ति में कुल कितने व्यक्ति हैं?

Options:

- 1) 39
- 2) 40
- 3) 41
- 4) 38

Correct Answer: 39**Candidate Answer:** 39**QID : 223** - In the following question below are given some statements followed by some conclusions. Taking the given statements to be true even if they seem to be at variance from commonly known facts, read all the conclusions and then decide which of the given conclusion logically follows the given statements.**Statements:**

- I. Some pens are pencils.
- II. Some pencils are cups.

Conclusions:

- I. Some cups are pens.
- II. Some pencils are pens.

नीचे दिए गए प्रश्न में कुछ कथन और उनके बाद उन कथनों पर आधारित कुछ निष्कर्ष दिए गए हैं, हालांकि उनमें सामान्य ज्ञात तथ्यों से भिन्नता हो सकती है। सभी निष्कर्ष पढ़ें और फिर निर्धारित करें कि दिए गए कौन से निष्कर्ष, दिए गए कथनों के आधार पर युक्तिसंगत हैं।

कथन:

- I. कुछ कलम पेंसिल हैं।
- II. कुछ पेंसिल कप हैं।

निष्कर्ष:

- I. कुछ कप कलम हैं।
- II. कुछ पेंसिल कलम हैं।

Options:

- 1) Only conclusion (I) follows.
केवल निष्कर्ष (I) सही है।
- 2) Only conclusion (II) follows.
केवल निष्कर्ष (II) सही है।
- 3) Both conclusion follow.
दोनों ही निष्कर्ष सही हैं।
- 4) Neither conclusion (I) nor conclusion (II) follows.
न तो निष्कर्ष (I) न ही निष्कर्ष (II) सही है।

Correct Answer: Only conclusion (II) follows.

केवल निष्कर्ष (II) सही है।

Candidate Answer: Neither conclusion (I) nor conclusion (II) follows.

न तो निष्कर्ष (I) न ही निष्कर्ष (II) सही है।

QID : 224 - In a certain code language, 'pink' is written as 'wood', 'wood' is written as 'red', 'red' is written as 'stone', 'stone' is written as 'car' and 'car' is written as 'sky'. What do we drive?

एक विशिष्ट कोड भाषा में, 'गुलाबी' को 'लकड़ी', 'लकड़ी' को 'लाल', 'लाल' को 'पत्थर', 'पत्थर' को 'गाड़ी' तथा 'गाड़ी' को 'आकाश' लिखा जाता है। हम क्या चलाते हैं?

Options:

- 1) car
गाड़ी
- 2) stone
पत्थर
- 3) sky
आकाश
- 4) red
लाल

Correct Answer: sky
आकाश

Candidate Answer: sky
आकाश

QID : 225 - In a certain code language, "TROY" is written as "156" and "HULK" is written as "104". How is "MIST" written in that code language?

एक विशिष्ट कोड भाषा में, "TROY" को "156" तथा "HULK" को "104" लिखा जाता है। इस कोड भाषा में "MIST" को किस प्रकार लिखा जाएगा?

Options:

- 1) 112
- 2) 132
- 3) 122
- 4) 146

Correct Answer: 122

Candidate Answer: 132

QID : 226 - Sarojini allows 4% discount on the marked price of her article and still earns a profit of 20%. What is the cost price of a shirt if its marked price is Rs 850?

सरोजिनी अपनी एक वस्तु के अंकित मूल्य पर 4% की छूट देती है और फिर भी 20% का लाभ प्राप्त करती है। वस्तु का क्रय मूल्य क्या है, यदि इसका अंकित मूल्य 850 रु है?

Options:

- 1) Rs 680
680 रु
- 2) Rs 780
780 रु
- 3) Rs 720
720 रु
- 4) Rs 520
520 रु

Correct Answer: Rs 680
680 रु

Candidate Answer: Rs 680
680 रु

QID : 227 - What is the sum of all even integers between 15 and 37?

15 और 37 के बीच की सभी पूर्णांक सम संख्याओं का योग क्या है?

Options:

- 1) 366
- 2) 378
- 3) 288
- 4) 286

Correct Answer: 286

Candidate Answer: 286

QID : 228 - How many integers are there between 63 and 345 which are exactly divisible by 8?

63 और 345 के बीच कितनी पूर्णांक संख्याएं हैं, जो पूरी तरह से 8 से विभाज्य हैं?

Options:

- 1) 32
- 2) 33
- 3) 34
- 4) 36

Correct Answer: 36

Candidate Answer: [NOT ANSWERED]

QID : 229 - Prem buys a table for Rs 450 and spends Rs 30 on its transportation. If he sells the table for Rs 600 what will be his gain percent?

प्रेम 450 रु में एक टेबल खरीदता है और इसकी दुलाई पर 30 रु खर्च करता है। यदि वह टेबल 600 रु में बेचता है, तो उसका लाभ प्रतिशत क्या होगा?

Options:

- 1) 30%
- 2) 25%
- 3) 28%
- 4) 24%

Correct Answer: 25%

Candidate Answer: 25%

QID : 230 - A bus runs at an average speed of 45 km/hr. If it completes 405 km long-journey with a break of 1 hour, what is the total time taken during the journey?

एक बस 45 किमी/घंटा की औसत गति से चलती है। अगर वो 405 किमी की यात्रा 1 घंटे के विराम के साथ पूरा करती है, तो यात्रा पूरा होने में कितना समय लगेगा?

Options:

- 1) 9 hrs
9 घंटे
- 2) 10 hrs
10 घंटे
- 3) 11 hrs
11 घंटे
- 4) 12 hrs
12 घंटे

Correct Answer: 10 hrs

10 घंटे

Candidate Answer: 10 hrs

10 घंटे

QID : 231 - What will be the sum of all two digit positive numbers divisible by 3?

3 से विभाज्य दो अंकों की सभी धनात्मक संख्याओं का योग क्या होगा?

Options:

- 1) 1680
- 2) 1665
- 3) 1689
- 4) 1683

Correct Answer: 1665

Candidate Answer: [NOT ANSWERED]

QID : 232 - What is the value of (48% of 6400) + (84% of 8400).

(6400 का 48%) + (8400 का 84%) का मान क्या है।

Options:

- 1) 10128
- 2) 10228
- 3) 11128
- 4) 11228

Correct Answer: 10128

Candidate Answer: 10128

QID : 233 - Suresh does complete a work in 20 hours. Ram is 25% more efficient than Suresh. What is the total number of hours Ram takes to complete the same work?

सुरेश एक काम को 20 घंटे में पूरा करता है। राम, सुरेश से 25% अधिक कार्यकुशल है। राम उसी काम को पूरा करने के लिए कितने घंटे का समय लेता है?

Options:

- 1) 24 hrs
24 घंटे
- 2) 18 hrs
18 घंटे
- 3) 16 hrs
16 घंटे
- 4) 25 hrs
25 घंटे

Correct Answer: 16 hrs

16 घंटे

Candidate Answer: 25 hrs

25 घंटे

QID : 234 - What least number must be added to 750 so that the sum is completely divisible by 59?

750 में न्यूनतम कौन सी संख्या जोड़ी जा

Options:

- 1) 15
- 2) 18
- 3) 11
- 4) 17

Correct Answer: 17**Candidate Answer:** 17

QID : 235 - The average age of a class of 29 students is 10 years. If the age of the teacher is added, the average age increases by 6 months. What is the age of the teacher?

29 छात्रों की एक कक्षा की औसत आयु 10 वर्ष है। यदि क्लास टीचर की आयु भी उसमें जोड़ दें, तो औसत आयु 6 महीने बढ़ जाती है। क्लास टीचर की उम्र क्या है?

Options:

- 1) 25 yrs
25 वर्ष
- 2) 24 yrs
24 वर्ष
- 3) 30 yrs
30 वर्ष
- 4) 32 yrs
32 वर्ष

Correct Answer: 25 yrs

25 वर्ष

Candidate Answer: 25 yrs

25 वर्ष

QID : 236 - A seller offers 17% discount on a TV set with a marked price of Rs 5600. If he still earns a profit of Rs 500, what is the cost price of the TV set?

एक विक्रेता 5600 रु अंकित मूल्य वाले एक टीवी सेट पर 17% छूट देता है। अगर फिर भी वह 500 रु का लाभ कमाता है, तो टीवी सेट का क्रय मूल्य क्या है?

Options:

- 1) Rs 5100
5100 रु
- 2) Rs 4148
4148 रु
- 3) Rs 4950
4950 रु
- 4) Rs 4930
4930 रु

Correct Answer: Rs 4148

4148 रु

Candidate Answer: Rs 4148

4148 रु

QID : 237 - The total surface area of a cube is 2166 cm^2 . What is the volume of this cube?

एक घन का सम्पूर्ण पृष्ठ क्षेत्रफल 2166 सेमी^2 है। इस घन का आयतन क्या है?

Options:

- 1) 6759 cm^3
6759 सेमी³
- 2) 6959 cm^3
6959 सेमी³
- 3) 6859 cm^3
6859 सेमी³
- 4) 7059 cm^3
7059 सेमी³

Correct Answer: 6859 cm^3 6859 सेमी³**Candidate Answer:** 6859 cm^3 6859 सेमी³

QID : 238 - A cyclist covers a distance of 22 kms in 4 hours. What is the average speed of the cyclists?

एक साइकिल सवार 22 किमी की दूरी 4 घंटे में तय करता है। साइकिल सवार की औसत गति क्या है?

Options:

- 1) 4 km/hr
4 किमी./घंटा
- 2) 4.5 km/hr
4.5 किमी./घंटा
- 3) 5.5 km/hr
5.5 किमी./घंटा
- 4) 10 km/hr
10 किमी./घंटा

Correct Answer: 5.5 km/hr
5.5 किमी./घंटा

Candidate Answer: 5.5 km/hr
5.5 किमी./घंटा

QID : 239 - Sita deposited Rs 5,000 at 10% simple interest for 2 years. How much more money will Sita have in her account at the end of two years, if it is compound semi-annually?

सीता ने 2 साल के लिए 10% साधारण ब्याज पर 5,000 रु जमा किए। यदि यह अर्द्ध-वार्षिक सयोजन चक्रवृद्धि ब्याज है, तो दो वर्ष की समाप्ति पर सीता के खाते में कितना अधिक धन होगा?

Options:

- 1) Rs. 50
50 रु
- 2) Rs. 40
40 रु
- 3) Rs. 77.50
77.50 रु
- 4) Rs. 85.50
85.50 रु

Correct Answer: Rs. 77.50
77.50 रु

Candidate Answer: Rs. 85.50
85.50 रु

QID : 240 - How many of the following numbers are divisible by 36?

324, 338, 342, 356, 360, 1080

निम्नांकित में से कितनी संख्याएँ 36 से विभाज्य हैं?

324, 338, 342, 356, 360, 1080

Options:

- 1) 2
- 2) 3
- 3) 4
- 4) 5

Correct Answer: 3

Candidate Answer: 3

QID : 241 - The monthly salaries of A and B are in the ratio 13:15. If both of them get a salary increment of Rs 3000 per month, the new ratio becomes 29:33. What is the new monthly salary of A?

A तथा B के मासिक वेतनों का अनुपात 13:15 है। अगर दोनों को 3000 रु की मासिक वेतन वृद्धि मिलती है, तो नया अनुपात 29:33 हो जाता है। A का नया मासिक वेतन क्या है?

Options:

- 1) Rs 29000
29000 रु
- 2) Rs 30000
30000 रु
- 3) Rs 33000
33000 रु
- 4) Rs 26000
26000 रु

Correct Answer: Rs 29000
29000 रु

Candidate Answer: [NOT ANSWERED]

QID : 242 - Price of a house came down by 20% during recession. After one year, the price increased by 25%. What was the effective change percent in the price of house over the original price?

मंदी के दौरान एक घर की कीमत 20% कम हो गई। एक साल बाद कीमत में 25% की वृद्धि हुई। घर के मूल कीमत में कितने प्रतिशत का बदलाव हुआ?

Options:

- 1) 0%
- 2) 5%
- 3) -5%
- 4) 10%

Correct Answer: 0%

Candidate Answer: 0%

QID : 243 - A shopkeeper buys two dozen umbrella for Rs 3600. Four of the umbrellas were damaged during transportation. If the shopkeeper wants a profit of 10 percent then what should be the selling price for each umbrella?

एक दुकानदार दो दर्जन छाते 3600 रु में खरीदता है। चार छाते ढुलाई के दौरान टूट गए। अगर दुकानदार को 10 प्रतिशत का लाभ चाहिए, तो प्रत्येक छाते का विक्रय मूल्य क्या होगा?

Options:

- 1) Rs 188
188 रु
- 2) Rs 198
198 रु
- 3) Rs 178
178 रु
- 4) Rs 208
208 रु

Correct Answer: Rs 198

198 रु

Candidate Answer: Rs 198

198 रु

QID : 244 - A wall of 100 meter can be built by 7 large robots or 10 small robots in 10 days. How many days will 14 large robots and 20 small robots take to build a wall of 600 meter?

100 मीटर की दीवार को 7 बड़े रोबोट या 10 छोटे रोबोट 10 दिनों में बना सकते हैं। 14 बड़े रोबोट और 20 छोटे रोबोट 600 मीटर की दीवार को बनाने के लिए कितने दिन लेंगे?

Options:

- 1) 30
- 2) 25
- 3) 20
- 4) 15

Correct Answer: 15**Candidate Answer:** 15

QID : 245 - If Rs 2752 is divided in the ratio of 9:11:12 among A, B and C respectively, what will be the share of A?

अगर 2752 रु को A, B तथा C के बीच क्रमशः 9:11:12 के अनुपात में विभाजित किया जाता है, तो A का हिस्सा क्या होगा?

Options:

- 1) Rs 1046
1046 रु
- 2) Rs 1032
1032 रु
- 3) Rs 946
946 रु
- 4) Rs 774
774 रु

Correct Answer: Rs 774

774 रु

Candidate Answer: Rs 774

774 रु

QID : 246 - What is the largest 4-digit number divisible by 19?

19 से विभाज्य होने वाली 4 अंकों की सबसे बड़ी संख्या कौन सी है?

Options:


- 1) 9999
- 2) 9989
- 3) 9994
- 4) 9981

Correct Answer: 9994**Candidate Answer:** [NOT ANSWERED]

QID : 247 -

The pie-chart below shows enrolment in 5 subjects at graduate level under 25 universities of a state. If the total number of student enrolled in the 5 subjects is 12500. Answer the following question on the basis of the data given in the chart below.

नीचे दिया गया पाई चार्ट किसी राज्य के 25 विश्वविद्यालयों में स्नातक स्तर पर 5 विषयों के नामांकन का विवरण देता है। अगर पाँचों विषयों को मिलाकर कुल 12500 छात्र नामांकित हैं, तो निम्नलिखित प्रश्न का उत्तर पाई चार्ट में दर्शाए गए आंकड़ों के आधार पर दें।



How many students are enrolled under Botany and Zoology together in all universities of the state?

राज्य के सभी विश्वविद्यालयों को मिलाकर वनस्पति विज्ञान तथा जंतु विज्ञान विषयों में कुल कितने छात्र नामांकित हैं?

Options:

1) 6525

2) 5375

3) 6520

4) 6550

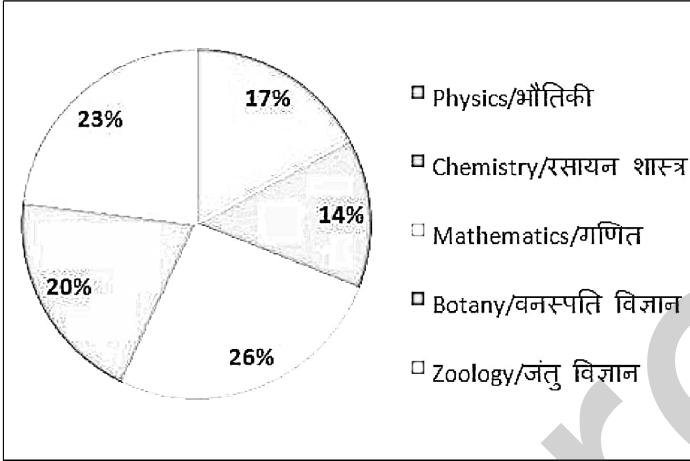
Correct Answer: 5375

Candidate Answer: 6550

QID : 248 -

The pie-chart below shows enrolment in 5 subjects at graduate level under 25 universities of a state. If the total number of student enrolled in the 5 subjects is 12500. Answer the following question on the basis of the data given in the chart below.

नीचे दिया गया पाई चार्ट किसी राज्य के 25 विश्वविद्यालयों में स्नातक स्तर पर 5 विषयों के नामांकन का विवरण देता है। अगर पाँचों विषयों को मिलाकर कुल 12500 छात्र नामांकित हैं, तो निम्नलिखित प्रश्न का उत्तर पाई चार्ट में दर्शाए गए आंकड़ों के आधार पर दें।



What is the average enrollment in Botany across universities?

राज्य के विश्वविद्यालयों में वनस्पति विज्ञान विषय में औसत नामांकन कितना है?

Options:

- 1) 100
- 2) 105
- 3) 120
- 4) 125


Correct Answer: 100

Candidate Answer: 125

QID : 249 -

The pie-chart below shows enrolment in 5 subjects at graduate level under 25 universities of a state. If the total number of student enrolled in the 5 subjects is 12500. Answer the following question on the basis of the data given in the chart below.

नीचे दिया गया पाई चार्ट किसी राज्य के 25 विश्वविद्यालयों में स्नातक स्तर पर 5 विषयों के नामांकन का विवरण देता है। अगर पाँचों विषयों को मिलाकर कुल 12500 छात्र नामांकित हैं, तो निम्नलिखित प्रश्न का उत्तर पाई चार्ट में दर्शाए गए आंकड़ों के आधार पर दें।



What is the difference between the average number of students enrolled in Mathematics and Chemistry across universities?

विश्वविद्यालयों में गणित और रसायन विज्ञान में नामांकित छात्रों की औसत संख्या के बीच अंतर क्या है?

Options:

- 1) 60
- 2) 130
- 3) 70
- 4) 80


Correct Answer: 60

Candidate Answer: 60

QID : 250 -

The pie-chart below shows enrolment in 5 subjects at graduate level under 25 universities of a state. If the total number of student enrolled in the 5 subjects is 12500. Answer the following question on the basis of the data given in the chart below.

नीचे दिया गया पाई चार्ट किसी राज्य के 25 विश्वविद्यालयों में स्नातक स्तर पर 5 विषयों के नामांकन का विवरण देता है। अगर पाँचों विषयों को मिलाकर कुल 12500 छात्र नामांकित हैं, तो निम्नलिखित प्रश्न का उत्तर पाई चार्ट में दर्शाए गए आंकड़ों के आधार पर दें।



How many less students are enrolled in Physics than those in Mathematics across the state?

राज्य में गणित के मुकाबले भौतिकी में कितने कम छात्र नामांकित हैं?

Options:

- 1) 1150
- 2) 1200
- 3) 1125
- 4) 1250

Correct Answer: 1125

Candidate Answer: 1200

QID : 251 - In the following question, some part of the sentence may have errors. Find out which part of the sentence has an error and select the appropriate option. If a sentence is free from error, select 'No Error'.

Richer countries can simply (1)/ buy up excess credits from poorer countries (2)/ and continue to polluting. (3)/ No error (4)

Options:

- 1) 1
- 2) 2
- 3) 3
- 4) 4

Correct Answer: 3

Candidate Answer: 1

QID : 252 - In the following question, some part of the sentence may have errors. Find out which part of the sentence has an error and select the appropriate option. If a sentence is free from error, select 'No Error'.

He had no trade but that of cobbler (1)/ which his father had taught him, and he found (2)/ the work class of his native country dominated by Communists. (3)/ No error (4)

Options:

- 1) 1
- 2) 2
- 3) 3
- 4) 4

Correct Answer: 3

Candidate Answer: 1

QID : 253 - In the following question, the sentence given with blank to be filled in with an appropriate word. Select the correct alternative out of the four and indicate it by selecting the appropriate option.

The principal _____ the audience for their visit that day.

Options:

- 1) smiled
- 2) thanking
- 3) curled
- 4) thanked

Correct Answer: thanked

Candidate Answer: thanked

QID : 254 - In the following question, the sentence given with blank to be filled in with an appropriate word. Select the correct alternative out of the four and indicate it by selecting the appropriate option.

The sun _____ in the east.

Options:

- 1) rose
- 2) rises
- 3) rise
- 4) rising

Correct Answer: rises

Candidate Answer: rises

QID : 255 - In the following question, out of the given four alternatives, select the one which best expresses the meaning of the given word.

Hasty

Options:

- 1) Quick
- 2) Lazy
- 3) Slow
- 4) Delayed

Correct Answer: Quick

Candidate Answer: Lazy

QID : 256 - In the following question, out of the given four alternatives, select the one which best expresses the meaning of the given word.

Mitigate

Options:

- 1) Incite
- 2) Intensify
- 3) Irritate
- 4) Reduce

Correct Answer: Reduce

Candidate Answer: [NOT ANSWERED]

QID : 257 - In the following question, out of the given four alternatives, select the one which best expresses the meaning of the given word.

Praise

Options:

- 1) Blame
- 2) Criticize
- 3) Censure
- 4) Compliment

Correct Answer: Compliment

Candidate Answer: Compliment

QID : 258 - In the following question, out of the given four alternatives, select the one which is opposite in meaning of the given word.

Interrogate

Options:

- 1) Reply
- 2) Grill
- 3) Inquire
- 4) Pump

Correct Answer: Reply

Candidate Answer: Reply

QID : 259 - In the following question, out of the given four alternatives, select the one which is opposite in meaning of the given word.

Commence

Options:

- 1) Terminate
- 2) Begin
- 3) Initiate
- 4) Originate

Correct Answer: Terminate

Candidate Answer: Terminate

QID : 260 - In the following question, out of the given four alternatives, select the one which is opposite in meaning of the given word.

Lofty

Options:

- 1) High
- 2) Elevated
- 3) Lifted
- 4) Below

Correct Answer: Below

Candidate Answer: Elevated

QID : 261 - In the following question, out of the four given alternatives, select the alternative which best expresses the meaning of the Idiom/Phrase.

Horse around

Options:

- 1) To behave in a silly and noisy way
- 2) Avoid starvation
- 3) Keep the spirits up
- 4) Beaten dishonestly

Correct Answer: To behave in a silly and noisy way

Candidate Answer: Keep the spirits up

QID : 262 - In the following question, out of the four given alternatives, select the alternative which best expresses the meaning of the Idiom/Phrase.

All in

Options:

- 1) Exhausted
- 2) Igniting
- 3) Brightened
- 4) Flared up

Correct Answer: Exhausted

Candidate Answer: [NOT ANSWERED]

QID : 263 - Improve the bracketed part of the sentence.

This enhancement of pets means taking care of a pet's appearance, **(personal hygienic)**, and health issues.

Options:

- 1) personal hygiene
- 2) professional hygiene
- 3) official hygiene
- 4) No improvement

Correct Answer: personal hygiene

Candidate Answer: personal hygiene

QID : 264 - Improve the bracketed part of the sentence.

Now people are focusing on their fitness not only for their aesthetic appeal **(also but)** for their health.

Options:

- 1) but even
- 2) but also
- 3) even but
- 4) No improvement

Correct Answer: but also

Candidate Answer: but also

QID : 265 - In the following question, out of the four given alternatives, select the alternative which is the best substitute of the phrase.

Not endowed with life

Options:

- 1) Inmate
- 2) Inanimate
- 3) Humate
- 4) Ultimate

Correct Answer: Inanimate

Candidate Answer: [NOT ANSWERED]

QID : 266 - In the following question, out of the four given alternatives, select the alternative which is the best substitute of the phrase.

A picture drawn to make people laugh.

Options:

- 1) Aperture
- 2) Caricature
- 3) Puncture
- 4) Overture

Correct Answer: Caricature

Candidate Answer: [NOT ANSWERED]

QID : 267 - In the following question, a word has been written in four different ways out of which only one is correctly spelt. Select the correctly spelt word.

Options:

- 1) Charaectristic
- 2) Characteristic
- 3) Chracteristic
- 4) Chaeracteristic

Correct Answer: Characteristic

Candidate Answer: Characteristic

QID : 268 - In the following question, a word has been written in four different ways out of which only one is correctly spelt. Select the correctly spelt word.

Options:

- 1) Mortgage
- 2) Maurtgage
- 3) Mourtagage
- 4) Mourtgage

Correct Answer: Mortgage

Candidate Answer: Mourtgage

QID : 269 - Rearrange the parts of the sentence in correct order.

Hunger can be defined as

P: sensation caused by want of

Q: food; craving appetite

R: an uneasy or painful

Options:

- 1) PRQ
- 2) RPQ
- 3) QRP
- 4) PQR

Correct Answer: RPQ

Candidate Answer: PRQ

QID : 270 - Rearrange the parts of the sentence in correct order.

The changing social system is a

P: also brings change

Q: in the status of its members

R: universal factor which

Options:

- 1) RPQ
- 2) PRQ
- 3) QRP
- 4) PQR

Correct Answer: RPQ

Candidate Answer: RPQ

QID : 271 - In the following passage some of the words have been left out. Read the passage carefully and select the correct answer for the given blank out of the four alternatives.

Knowledge helps us to _____ our planning into the right action and _____ to get the _____ between right or wrong and good or bad. It helps us to _____ our weaknesses and faults as well as makes us able to face the dangers and difficulties by showing lots of courage and confidence. It makes a person _____ powerful by giving him mental, moral and spiritual advancement in the life.

helps us to _____ our planning

Options:

- 1) convert
- 2) divert
- 3) retreat
- 4) erect

Correct Answer: convert

Candidate Answer: retreat

QID : 272 - In the following passage some of the words have been left out. Read the passage carefully and select the correct answer for the given blank out of the four alternatives.

Knowledge helps us to _____ our planning into the right action and _____ to get the _____ between right or wrong and good or bad. It helps us to _____ our weaknesses and faults as well as makes us able to face the dangers and difficulties by showing lots of courage and confidence. It makes a person _____ powerful by giving him mental, moral and spiritual advancement in the life.

action and _____ to

Options:

- 1) durable
- 2) enables
- 3) cables
- 4) tables

Correct Answer: enables

Candidate Answer: enables

QID : 273 - In the following passage some of the words have been left out. Read the passage carefully and select the correct answer for the given blank out of the four alternatives.

Knowledge helps us to _____ our planning into the right action and _____ to get the _____ between right or wrong and good or bad. It helps us to _____ our weaknesses and faults as well as makes us able to face the dangers and difficulties by showing lots of courage and confidence. It makes a person _____ powerful by giving him mental, moral and spiritual advancement in the life.

get the _____ between right

Options:

- 1) similarity
- 2) variety
- 3) difference
- 4) resemblances

Correct Answer: difference

Candidate Answer: resemblances

QID : 274 - In the following passage some of the words have been left out. Read the passage carefully and select the correct answer for the given blank out of the four alternatives.

Knowledge helps us to _____ our planning into the right action and _____ to get the _____ between right or wrong and good or bad. It helps us to _____ our weaknesses and faults as well as makes us able to face the dangers and difficulties by showing lots of courage and confidence. It makes a person _____ powerful by giving him mental, moral and spiritual advancement in the life.

to _____ our weaknesses

Options:

- 1) showcase
- 2) loose
- 3) win
- 4) overcome

Correct Answer: overcome

Candidate Answer: overcome

QID : 275 - In the following passage some of the words have been left out. Read the passage carefully and select the correct answer for the given blank out of the four alternatives.

Knowledge helps us to _____ our planning into the right action and _____ to get the _____ between right or wrong and good or bad. It helps us to _____ our weaknesses and faults as well as makes us able to face the dangers and difficulties by showing lots of courage and confidence. It makes a person _____ powerful by giving him mental, moral and spiritual advancement in the life.

a person _____ powerful by giving

Options:

- 1) most
- 2) hardly
- 3) rarely
- 4) more

Correct Answer: more

Candidate Answer: more

QID : 276 - The Harappan site Ropar was situated on the banks of which river?

हड़प्पाकालीन स्थल रोपड़ किस नदी के किनारे स्थित था ?

Options:

- 1) Chenab
चिनाब
- 2) Sutlej
सतलज
- 3) Indus
सिंधु
- 4) Ravi
रावी

Correct Answer: Sutlej

सतलज

Candidate Answer: Indus

सिंधु

QID : 277 - The real name of Mahavira was _____.

महावीर का मूल नाम _____ था।

Options:

- 1) Siddhartha
सिद्धार्थ
- 2) Gautam
गौतम
- 3) Vardhaman
वर्धमान
- 4) No option is correct.
कोई भी विकल्प सही नहीं है।

Correct Answer: Vardhaman

वर्धमान

Candidate Answer: Gautam

गौतम

QID : 278 - How many latitudes are there in total?

कुल अक्षांशों की संख्या कितनी है?

Options:

- 1) 66
- 2) 90
- 3) 180
- 4) 360

Correct Answer: 180

Candidate Answer: 360

QID : 279 - On which Island "Jakarta", the Indonesian capital is located?

इंडोनेशिया की राजधानी "जकार्ता" किस द्वीप पर स्थित है?

Options:

- 1) Sulawesi
सुलावेसी
- 2) Java
जावा
- 3) Sumatra
सुमात्रा
- 4) Bali
बाली

Correct Answer: Java
जावा

Candidate Answer: Sumatra
सुमात्रा

QID : 280 - Who made the Indian Constitution?

भारतीय संविधान को किसने बनाया?

Options:

- 1) The Constituent Assembly
संविधान सभा ने
- 2) British Parliament
ब्रिटिश संसद ने
- 3) Indian Parliament
भारतीय संसद ने
- 4) The governor general
गवर्नर जनरल ने

Correct Answer: The Constituent Assembly
संविधान सभा ने

Candidate Answer: The Constituent Assembly
संविधान सभा ने

QID : 281 - Who among the following holds the supreme position in the Indian political system?

निम्नलिखित में से कौन भारतीय राजव्यवस्था में सर्वोच्च है?

Options:

- 1) Prime Minister
प्रधानमंत्री
- 2) Religion
धर्म
- 3) Constitution and Parliament both
संविधान और संसद दोनों
- 4) Supreme Court
सर्वोच्च न्यायालय

Correct Answer: Constitution and Parliament both
संविधान और संसद दोनों

Candidate Answer: Constitution and Parliament both
संविधान और संसद दोनों

QID : 282 - The main cause of poverty in the underdeveloped countries is _____.

अल्पविकसित देशों में गरीबी का मुख्य कारण है _____।

Options:

- 1) voluntary inactivity
स्वैच्छिक निष्क्रियता
- 2) equality in income
आय में समानता
- 3) lack of cultural activities
सांस्कृतिक गतिविधियों का अभाव
- 4) lack of intelligence in people
लोगों में बुद्धि का अभाव

Correct Answer: voluntary inactivity
स्वैच्छिक निष्क्रियता

Candidate Answer: voluntary inactivity
स्वैच्छिक निष्क्रियता

QID : 283 - _____ gets affected with the change in Bank Rate.

बैंक दर में परिवर्तन से प्रभावित होता है _____।

Options:

- 1) Market rate of interest
ब्याज की बाजार दर
- 2) Selected investment industry
निवेश के चुनिंदा उद्योग
- 3) Lending bank
ऋण देने वाले बैंक
- 4) Cash reserve ratio
नकदी आरक्षण अनुपात

Correct Answer: Market rate of interest
ब्याज की बाजार दर

Candidate Answer: Market rate of interest
ब्याज की बाजार दर

QID : 284 - What is the unit of radioactivity?

रेडियोधर्मिता की इकाई क्या है?

Options:

- 1) Angstrom
एंगस्ट्रॉम
- 2) Candela
कैंडेला
- 3) Fermi
फर्मी
- 4) Curie
क्यूरी

Correct Answer: Curie
क्यूरी

Candidate Answer: Curie
क्यूरी

QID : 285 - _____ turns the red litmus paper into blue.

लाल लिटमस पत्र को नीला कर देता है _____।

Options:

- 1) Acid
अम्ल
- 2) Base
भस्म
- 3) Salts
लवण
- 4) No option is correct.
कोई भी विकल्प सही नहीं है।

Correct Answer: Base
भस्म

Candidate Answer: Base
भस्म

QID : 286 - According to Newton's which law of motion is possible to swim?

जल में तैरना न्यूटन की गति के किस नियम के कारण संभव है

Options:

- 1) First law
प्रथम नियम
- 2) Second law
द्वितीय नियम
- 3) Third law
तृतीय नियम
- 4) All options are correct.
सभी विकल्प सही हैं।

Correct Answer: Third law
तृतीय नियम

Candidate Answer: Third law
तृतीय नियम

QID : 287 - Energy is formed on the Sun _____.

सूर्य पर उर्जा का निर्माण होता है: _____।

Options:

- 1) by nuclear fission
नाभिकीय विखंडन द्वारा
- 2) by nuclear fusion
नाभिकीय संलयन द्वारा
- 3) by oxidation reactions
ऑक्सीकरण अभिक्रियाओं द्वारा
- 4) by degradation reactions
अवकरण अभिक्रियाओं द्वारा

Correct Answer: by nuclear fusion
नाभिकीय संलयन द्वारा

Candidate Answer: by nuclear fusion
नाभिकीय संलयन द्वारा

QID : 288 - Which of the following diseases is caused by bacteria?

निम्नलिखित में से कौन सा रोग बैक्टीरिया से होता है

Options:

- 1) Tuberculosis
तपेदिक
- 2) Jaundice
पीलिया
- 3) Chicken pox
चेचक
- 4) Mumps
म्सप्स

Correct Answer: Tuberculosis
तपेदिक

Candidate Answer: Jaundice
पीलिया

QID : 289 - For which discovery was Hargovind Khorana was given honour?

हरगोविंद खुराना को किस खोज के लिए सम्मानित किया गया?

Options:

- 1) For protein synthesis
प्रोटीन संश्लेषण के लिए
- 2) For genes synthesis
जीन संश्लेषण के लिए
- 3) For the synthesis of nitrogen alkalis
नाइट्रोजन क्षारों का संश्लेषण के लिए
- 4) No option is correct.
कोई भी विकल्प सही नहीं है।

Correct Answer: For genes synthesis
जीन संश्लेषण के लिए

Candidate Answer: For genes synthesis
जीन संश्लेषण के लिए

QID : 290 - Ozone layer present in the atmosphere absorbs _____.

वायुमंडल में उपस्थित ओजोन परत अवशोषित करती है _____।

Options:

- 1) Cosmic rays
ब्रम्हांडीय किरणों को
- 2) To infrared rays
अवरक्त किरणों को
- 3) Ultraviolet rays
पराबैंगनी किरणों को
- 4) All radiations
सभी विकिरणों को

Correct Answer: Ultraviolet rays
पराबैंगनी किरणों को

Candidate Answer: Ultraviolet rays
पराबैंगनी किरणों को

QID : 291 - Primary or main source of energy in ecosystem is _____.

पारितंत्र में उर्जा का प्राथमिक या मुख्य स्रोत होता है _____।

Options:

- 1) Sunlight
सूर्य का प्रकाश
- 2) Accumulated sugar in plants
पौधों में संचित शर्करा
- 3) Free heat in fermentation
किण्वन में मुक्त ऊष्मा
- 4) Free heat during respiration
श्वसन के दौरान मुक्त ऊष्मा

Correct Answer: Sunlight

सूर्य का प्रकाश

Candidate Answer: Sunlight

सूर्य का प्रकाश

QID : 292 - Who developed the Integrated Circuit Chip?

इंटीग्रेटेड सर्किट चिप का विकास किसने किया है?

Options:

- 1) C.V. Raman
सी.वी.रमन
- 2) Robert Noyce
रॉबर्ट नोयस
- 3) Sabeer Bhatia
सबीर भाटिया
- 4) Charles Babbage
चार्ल्स बेबेज

Correct Answer: Robert Noyce

रॉबर्ट नोयस

Candidate Answer: Robert Noyce

रॉबर्ट नोयस

QID : 293 - What is the number of players in one side in Water Polo?

वाटर पोलो में एक पक्ष में खिलाड़ियों की संख्या कितनी होती है?

Options:

- 1) 5
- 2) 6
- 3) 7
- 4) 8

Correct Answer: 7**Candidate Answer:** 7**QID : 294** - To which ancient subject of India is the famous book "Lilavati" related to?

प्रसिद्ध ग्रन्थ "लीलावती" भारत के किस प्राचीन विषय से संबंधित है ?

Options:

- 1) Chemistry
रसायन
- 2) Philosophy
दर्शन
- 3) Mathematics
गणित
- 4) Treatment
चिकित्सा

Correct Answer: Mathematics

गणित

Candidate Answer: Philosophy

दर्शन

QID : 295 - What is the purpose of 'Teerth Darshan' scheme of Haryana Government?

हरियाणा सरकार द्वारा 'तीर्थ दर्शन' योजना का उद्देश्य क्या है?

Options:

- 1) Tour of pilgrimages in Haryana
हरियाणा के तीर्थ स्थल की यात्रा
- 2) Promotions of pilgrimages through Television
टेलीविजन के माध्यम से तीर्थस्थलों का प्रचार
- 3) Pilgrimage to senior citizens
वरिष्ठ नागरिकों को तीर्थयात्रा करवाना
- 4) No option is correct.
कोई भी विकल्प सही नहीं है।

Correct Answer: Pilgrimage to senior citizens
वरिष्ठ नागरिकों को तीर्थयात्रा करवाना

Candidate Answer: Pilgrimage to senior citizens
वरिष्ठ नागरिकों को तीर्थयात्रा करवाना

QID : 296 - Who discovered the Law of Electrostatic Attraction?

स्थिरवैद्युत आकर्षण के नियम की खोज किसने की?

Options:

- 1) Newton
न्यूटन
- 2) Coulomb
कूलाम्ब
- 3) Max Planck
मैक्स प्लैंक
- 4) Michael Faraday
माइकल फेराडे

Correct Answer: Coulomb
कूलाम्ब

Candidate Answer: Coulomb
कूलाम्ब

QID : 297 - Which Indian dance style is the oldest one?

भारतीय शास्त्रीय नृत्य की सबसे प्राचीन शैली कौन सी है?

Options:

- 1) Odyssey
ओडिसी
- 2) Kuchipudi
कुचिपुडी
- 3) Bharatanatyam
भरतनाट्यम
- 4) Kathakali
कथकली

Correct Answer: Bharatanatyam
भरतनाट्यम

Candidate Answer: Bharatanatyam
भरतनाट्यम

QID : 298 - The first author to receive the "Bharatiya Jnanpith Award" was _____.

"भारतीय ज्ञानपीठ पुरस्कार" के प्रथम विजेता साहित्यकार थे _____।

Options:

- 1) of Hindi literature
हिन्दी साहित्य के
- 2) of Bengali literature
बांग्ला साहित्य के
- 3) of Kannada literature
कन्नड़ साहित्य के
- 4) of Malayalam literature
मलयालम साहित्य के

Correct Answer: of Malayalam literature
मलयालम साहित्य के

Candidate Answer: [NOT ANSWERED]

QID : 299 - Which is the first country in Europe to pay a basic monthly income to the unemployed?

बेरोजगारों के लिए एक बुनियादी मासिक आय का भुगतान करने वाला यूरोप का पहला देश कौन है?

Options:

1) Sweden

स्वीडन

2) Finland

फिनलैंड

3) France

फ्रांस

4) Britain

ब्रिटेन

Correct Answer: Finland

फिनलैंड

Candidate Answer: [NOT ANSWERED]

QID : 300 - Which of the following country has the same standard time as India?

निम्नलिखित में किस देश का मानक समय वही है, जो भारत का भी है?

Options:

1) Nepal

नेपाल

2) Bhutan

भूटान

3) Bangladesh

बांग्लादेश

4) Sri Lanka

श्रीलंका

Correct Answer: Sri Lanka

श्रीलंका

Candidate Answer: Bangladesh

बांग्लादेश