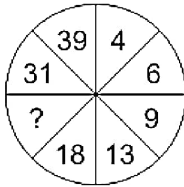


**QID : 101 -**

In the following question, select the number which can be placed at the sign of question mark (?) from the given alternatives.

निम्नलिखित प्रश्न में दिए गए विकल्पों में से प्रश्न चिह्न (?) के स्थान पर आने वाली संख्या को चुनिए।



**Options:**

- 1) 30
- 2) 24
- 3) 20
- 4) 25

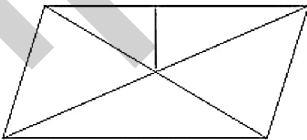
**Correct Answer:** 24

**Candidate Answer:** 30

**QID : 102 -**

How many triangles are there in the given figure?

दी गई आकृति में कितने त्रिभुज हैं?



**Options:**

- 1) 8
- 2) 10
- 3) 12
- 4) 6

**Correct Answer:** 10

**Candidate Answer:** 8

**QID : 103 -**

A word is represented by only one set of numbers as given in any one of the alternatives. The sets of numbers given in the alternatives are represented by two classes of alphabets as shown in the given two matrices. The columns and rows of **Matrix-I** are numbered from 0 to 4 and that of **Matrix-II** are numbered from 5 to 9. A letter from these matrices can be represented first by its row and next by its column, for example, 'W' can be represented by 02, 66, etc., and 'R' can be represented by 41, 89, etc. Similarly, you have to identify the set for the word "STORK".

एक शब्द केवल एक संख्या-समूह द्वारा दर्शाया गया है, जैसा कि विकल्पों में से किसी एक में दिया गया है। विकल्पों में दिए गए संख्या-समूह अक्षरों के दो वर्गों द्वारा दर्शाए गए हैं, जैसा कि दिए गए दो आव्यूहों में है। **आव्यूह-I** के स्तम्भ और पंक्ति की संख्या 0 से 4 है और **आव्यूह-II** की 5 से 9। इन आव्यूहों से एक अक्षर को पहले उसकी पंक्ति और बाद में स्तम्भ संख्या द्वारा दर्शाया जा सकता है। उदाहरण के लिए 'W' को 02, 66, आदि द्वारा दर्शाया जा सकता है तथा 'R' को 41, 89, आदि द्वारा दर्शाया जा सकता है। इसी तरह से आपको प्रश्न में दिए शब्द "STORK" के लिए समूह को पहचानना है।

**Matrix-I**  
**आव्यूह-I**

	0	1	2	3	4
0	Z	C	W	G	I
1	K	M	O	Q	S
2	U	W	Y	B	A
3	F	H	G	L	N
4	D	R	T	V	O

**Matrix-II**  
**आव्यूह-II**

	5	6	7	8	9
5	X	K	D	F	R
6	G	W	N	H	V
7	E	O	Y	J	T
8	C	F	I	L	R
9	K	S	U	N	P

**Options:**

- 1) 14, 42, 12, 41, 10
- 2) 96, 79, 44, 32, 56
- 3) 20, 12, 69, 89, 10
- 4) 14, 42, 75, 59, 95


**Correct Answer:** 14, 42, 12, 41, 10

**Candidate Answer:** 14, 42, 12, 41, 10

**QID : 104 -**

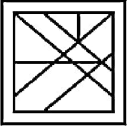
From the given answer figures, select the one in which the question figure is hidden/embedded.

दी गई उत्तर आकृतियों में से उस उत्तर आकृति को चुनिए जिस में प्रश्न आकृति निहित है।

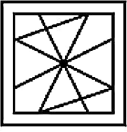


Options:

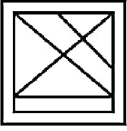
1)



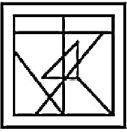
2)



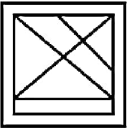
3)



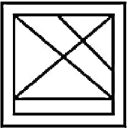
4)



Correct Answer:



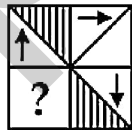
Candidate Answer:



QID : 105 -

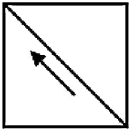
Which answer figure will complete the pattern in the question figure?

कौन सी उत्तर आकृति प्रश्न आकृति के प्रतिरूप को पूरा करेगी?

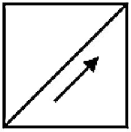


Options:

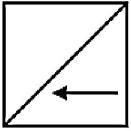
1)



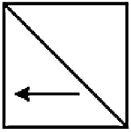
2)



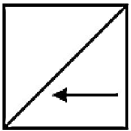
3)



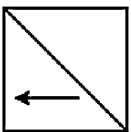
4)



Correct Answer:



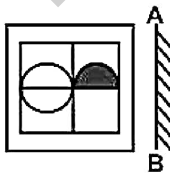
Candidate Answer:



QID : 106 -

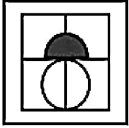
If a mirror is placed on the line AB, then which of the answer figures is the right image of the given figure?

यदि एक दर्पण को AB रेखा पर रखा जाए, तो दी गई उत्तर आकृतियों में से कौन सी आकृति प्रश्न आकृति की सही प्रतिबिम्ब होगी?

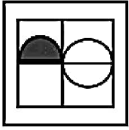


Options:

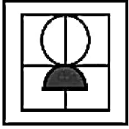
1)



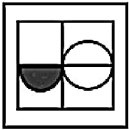
2)



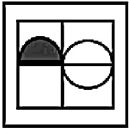
3)



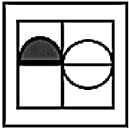
4)



Correct Answer:



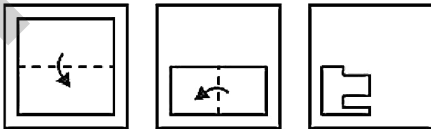
Candidate Answer:



QID : 107 -

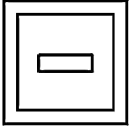
A piece of paper is folded and punched as shown below in the question figures. From the given answer figures, indicate how it will appear when opened?

नीचे के प्रश्न आकृतियों में दिखाए अनुसार कागज को मोड़कर छेदने तथा खोलने के बाद वह किस उत्तर आकृति जैसा दिखाई देगा?

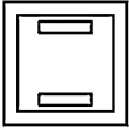


Options:


1)




2)




3)



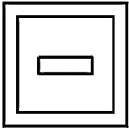
4)



Correct Answer:



Candidate Answer:



QID : 108 - If 'A' means '+', 'B' means '-', 'C' means '÷' and 'D' means '×', then

42 A 6 D 9 C 18 B 2 = ?

यदि 'A' का अर्थ '+', 'B' का अर्थ '-', 'C' का अर्थ '÷' तथा 'D' का अर्थ '×' हो, तो

42 A 6 D 9 C 18 B 2 = ?

Options:

- 1) 49
- 2) 55
- 3) 69
- 4) 43

Correct Answer: 43

Candidate Answer: 69

QID : 109 - If  $17 @ 4 C 6 = 15$  and  $16 @ 11 C 10 = 17$ , then

4 @ 6 C 2 = ?

यदि  $17 @ 4 C 6 = 15$  तथा  $16 @ 11 C 10 = 17$  हो, तो

4 @ 6 C 2 = ?

Options:

- 1) 10
- 2) 8
- 3) 16
- 4) 24

Correct Answer: 8

Candidate Answer: 8

**QID : 110** - Arrange the given words in the sequence in which they occur in the dictionary.

1. Roast
2. Roman
3. Robber
4. Roaland
5. Roster

निम्नलिखित शब्दों को शब्दकोश में आने वाले क्रम के अनुसार लिखें।

1. Roast
2. Roman
3. Robber
4. Roaland
5. Roster

**Options:**

1) 14325

2) 14352

3) 43125

4) 41325

**Correct Answer:** 41325

**Candidate Answer:** 14325

**QID : 111** - In the following question, select the missing number from the given series.

**19, 23, 32, 48, 73, ?**

निम्नलिखित प्रश्न में दिए गए विकल्पों में से लुप्त अंक ज्ञात कीजिए।

**19, 23, 32, 48, 73, ?**

**Options:**

1) 130

2) 119

3) 132

4) 109

**Correct Answer:** 109

**Candidate Answer:** 109

**QID : 112** - A series is given with one term missing. Select the correct alternative from the given ones that will complete the series.

**OP, RS, VW, AB, ?**

एक अनुक्रम दिया गया है, जिसमें से एक पद लुप्त है। दिए गए विकल्पों में से वह सही विकल्प चुनिए, जो अनुक्रम को पूरा करे।

**OP, RS, VW, AB, ?**

**Options:**

1) GH

2) IJ

3) KL

4) FG

**Correct Answer:** GH

**Candidate Answer:** FG

**QID : 113** - In the following question, select the odd word from the given alternatives.

निम्नलिखित प्रश्न में दिए गए विकल्पों में से विषम शब्द को चुनिए।

**Options:**

1) Cup

कप

2) Plate

प्लेट

3) Spoon

चम्मच

4) Bread

ब्रेड

**Correct Answer:** Bread

ब्रेड

**Candidate Answer:** Bread

ब्रेड

**QID : 114** - In the following question, select the odd number pair from the given alternatives.

निम्नलिखित प्रश्न में दिए गए विकल्पों में से विषम संख्या युग्म को चुनिए।

**Options:**

- 1) 9-36
- 2) 8 - 56
- 3) 6 -42
- 4) 4-28

**Correct Answer:** 9-36

**Candidate Answer:** 9-36

**QID : 115** - In the following question, select the odd letters from the given alternatives.

निम्नलिखित प्रश्न में दिए गए विकल्पों में से विषम अक्षरों को चुनिए।

**Options:**

- 1) JHG
- 2) NLK
- 3) RPO
- 4) AZX

**Correct Answer:** AZX

**Candidate Answer:** RPO

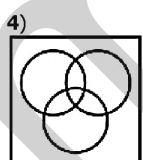
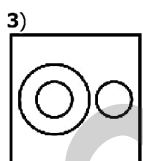
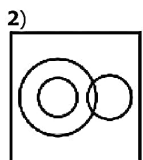
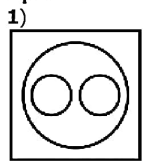
**QID : 116** - Identify the diagram that best represents the relationship among the given classes.

**Pen, Stationery, Cap**

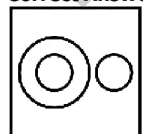
वह आरेख चुनिए जो नीचे दिए गए वर्गों के बीच के संबंध का सही निरूपण करता है।

कलम, लेखन सामग्री, टोपी

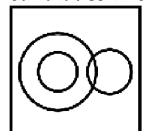
**Options:**



**Correct Answer:**



**Candidate Answer:**





**QID : 117** - In the following question, select the related word from the given alternatives.

**White : Colour :: Shirt : ?**

निम्नलिखित प्रश्न में दिए गए विकल्पों में से संबंधित शब्द को चुनिए।

**सफेद : रंग :: कमीज़ : ?**

**Options:**

1) Garment

वस्त्र

2) Stich

सिली हुई

3) Button

बटन

4) Collar

कॉलर

**Correct Answer:** Garment

वस्त्र

**Candidate Answer:** Garment

वस्त्र

**QID : 118** - In the following question, select the related number from the given alternatives.

**100 : 10000 :: 20 : ?**

निम्नलिखित प्रश्न में दिए गए विकल्पों में से संबंधित संख्या को चुनिए।

**100 : 10000 :: 20 : ?**

**Options:**

1) 40

2) 30

3) 45

4) 400

**Correct Answer:** 400

**Candidate Answer:** 400

**QID : 119** - In the following question, select the related letters from the given alternatives.

**OPQR : ABCD :: QRST : ?**

निम्नलिखित प्रश्न में दिए गए विकल्पों में से संबंधित अक्षरों को चुनिए।

**OPQR : ABCD :: QRST : ?**

**Options:**

1) ABPQ

2) CDFE

3) CDEF

4) TSRQ

**Correct Answer:** CDEF

**Candidate Answer:** CDEF

**QID : 120** - In the following question, select the word which cannot be formed using the letters of the given word.

**PREDICAMENT**

निम्नलिखित विकल्पों में से वह शब्द चुनिए जो दिए गए शब्द के अक्षरों का प्रयोग करके नहीं बनाया जा सकता।

**PREDICAMENT**

**Options:**

1) DICE

2) MATE

3) TEAM

4) RAIL

**Correct Answer:** RAIL

**Candidate Answer:** RAIL

**QID : 121** - In a row of students, Amit is 33<sup>rd</sup> from top and 16<sup>th</sup> from bottom. How many students are there in the row?

छात्रों की एक पंक्ति में, अमित ऊपर से 33-वाँ तथा नीचे से 16-वाँ है। पंक्ति में कुल कितने लड़के छात्र हैं?

**Options:**

- 1) 48
- 2) 49
- 3) 52
- 4) 51

**Correct Answer:** 48**Candidate Answer:** 48**QID : 122** - T walks 17 km towards west. He turns right and walks 15 km. He turns right and walks 17 km. How far (in km) is he from his starting point?

T पश्चिम की ओर 17 कि.मी. चलता है। वह दायीं ओर मुड़ता है तथा 15 कि.मी. चलता है। वह दायीं ओर मुड़ता है तथा 17 कि.मी. चलता है। वह अपने आरंभिक बिन्दु से कितनी दूरी (कि.मी. में) पर है?

**Options:**

- 1) 15
- 2) 17
- 3) 32
- 4) 53

**Correct Answer:** 15**Candidate Answer:** 32**QID : 123** - In the following question below are given some statements followed by some conclusions. Taking the given statements to be true even if they seem to be at variance from commonly known facts, read all the conclusions and then decide which of the given conclusion logically follows the given statements.**Statements:**

- I. All R are S.
- II. All L are R.

**Conclusions:**

- I. All R are L.
- II. All L are S.

नीचे दिए गए प्रश्न में कुछ कथन और उनके बाद उन कथनों पर आधारित कुछ निष्कर्ष दिए गए हैं, हालांकि उनमें सामान्य ज्ञात तथ्यों से भिन्नता हो सकती है। सभी निष्कर्ष पढ़ें और फिर निर्धारित करें कि दिए गए कौन से निष्कर्ष, दिए गए कथनों के आधार पर युक्तिसंगत हैं।

**कथन:**

- I. सभी R, S हैं।
- II. सभी L, R हैं।

**निष्कर्ष:**

- I. सभी R, L हैं।
- II. सभी L, S हैं।

**Options:**

- 1) Only conclusion (I) follows.  
केवल निष्कर्ष (I) सही है।
- 2) Only conclusion (II) follows.  
केवल निष्कर्ष (II) सही है।
- 3) Both conclusion follow.  
दोनों ही निष्कर्ष सही हैं।
- 4) Neither conclusion (I) nor conclusion (II) follows.  
न तो निष्कर्ष (I) न ही निष्कर्ष (II) सही है।

**Correct Answer:** Only conclusion (II) follows.

केवल निष्कर्ष (II) सही है।

**Candidate Answer:** Both conclusion follow.

दोनों ही निष्कर्ष सही हैं।

**QID : 124** - In a certain code language, 'soil' is written as 'glass', 'glass' is written as 'wood', 'wood' is written as 'grass', 'grass' is written as 'pink' and 'pink' is written as 'yellow'. What do horse eat as per the code?

एक विशिष्ट कोड भाषा में, 'मृदा' को 'कांच', 'कांच' को 'लकड़ी', 'लकड़ी' को 'घास', 'घास' को 'गुलाबी' तथा 'गुलाबी' को 'पीला' लिखा जाता है। कोड के आधार पर घोड़ा क्या खाता है?

**Options:**

- 1) grass  
घास
- 2) pink  
गुलाबी
- 3) yellow  
पीला
- 4) glass  
कांच

**Correct Answer:** pink

गुलाबी

**Candidate Answer:** pink

गुलाबी

**QID : 125** - In a certain code language, "POLE" is written as "45" and "KICK" is written as "31". How is "FAIR" written in that code language?

एक विशिष्ट कोड भाषा में, "POLE" को "45" तथा "KICK" को "31" लिखा जाता है। इस कोड भाषा में "FAIR" को किस प्रकार लिखा जाएगा?

**Options:**

1) 28

2) 25

3) 33

4) 31

**Correct Answer:** 31

**Candidate Answer:** 28

**QID : 126** - What is the highest common factor of (7/11) and (35/55)?

(7/11) तथा (35/55) का महत्तम समापवर्तक क्या है?

**Options:**

1) 7/55

2) 7/62

3) 1/11

4) 6/23

**Correct Answer:** 7/55

**Candidate Answer:** 7/55

**QID : 127** - For what value of B, 2B06 is completely divisible by 9?

B के किस मान के लिए 2B06, 9 से पूर्णतः विभाज्य है?

**Options:**

1) 3

2) 2

3) 1

4) 4

**Correct Answer:** 1

**Candidate Answer:** 1

**QID : 128** - What is the unit's digit of  $22^{471}$ ?

$22^{471}$  का इकाई अंक क्या है?

**Options:**

1) 2

2) 4

3) 8

4) 9

**Correct Answer:** 8

**Candidate Answer:** 2

**QID : 129** - What is the least common multiple of 16, 40 and 64?

16, 40 तथा 64 का लघुत्तम समापवर्त्य क्या है?

**Options:**

1) 256

2) 320

3) 384

4) 512

**Correct Answer:** 320

**Candidate Answer:** 512

**QID : 130** - What is the value of  $(3.2 + 2.5)^2 - (3.2 - 2.5)^2$ ?

$(3.2 + 2.5)^2 - (3.2 - 2.5)^2$  का मान क्या है?

**Options:**

1) 32.98

2) 33

3) 34.11

4) 37

**Correct Answer:** 32

**Candidate Answer:** 32.98

**QID : 131** - Which of the following statement(s) is/are true?

I.  $(7/9) > (6/8)$

II.  $(9/5) > (7/4)$

निम्नलिखित में से कौन सा/से कथन सत्य है/हैं?

I.  $(7/9) > (6/8)$

II.  $(9/5) > (7/4)$

**Options:**

1) Only I

केवल I

2) Only II

केवल II

3) Both I and II

I तथा II दोनों

4) Neither I nor II

न तो I न ही II

**Correct Answer:** Both I and II

I तथा II दोनों

**Candidate Answer:** Both I and II

I तथा II दोनों

**QID : 132** - Three taps A, B and C can fill a tank in 180, 20 and 90 minutes respectively. If all the taps are opened together, then in how many minutes will the tank be filled?

तीन नल A, B तथा C एक टंकी को क्रमशः 180, 20 तथा 90 मिनट में भर सकते हैं। यदि सभी नलों को एक साथ खोल दिया जाये, तो टंकी कितने मिनट में भर जायेगी?

**Options:**

1) 15

2) 25

3) 30

4) 35

**Correct Answer:** 15

**Candidate Answer:** 30

**QID : 133** - A pipe can fill a tank in 12 hours. Due the leak in its bottom, the tank is filled in 16 hours. If the tank is full, then that leak can empty the tank in how many hours?

एक पाईप एक टंकी को 12 घंटे में भर सकता है। टंकी के तल में छेद होने के कारण, टंकी 16 घंटे में भरती है। यदि टंकी पूरी भरी हो, तो वह छेद टंकी को कितने घंटे में खाली कर सकता है?

**Options:**

1) 60

2) 52

3) 48

4) 65

**Correct Answer:** 48

**Candidate Answer:** 48

**QID : 134** - What is the area (in  $\text{cm}^2$ ) of a triangle having sides  $5\sqrt{5}$  cm, 10 cm and 15 cm?

$5\sqrt{5}$  से.मी., 10 से.मी. तथा 15 से.मी. भुजा वाले त्रिभुज का क्षेत्रफल (से.मी.<sup>2</sup> में) क्या है?

**Options:**

1)  $25\sqrt{5}$

2)  $30\sqrt{5}$

3)  $20\sqrt{5}$

4)  $22\sqrt{5}$

**Correct Answer:**  $25\sqrt{5}$

**Candidate Answer:**  $25\sqrt{5}$

**QID : 135** - A profit of 25% is made after giving a discount of 5% on an article. If the marked price of the article is Rs 2625, then what is its cost price (in Rs)?

एक वस्तु पर 5% की छूट देने के पश्चात 25% का लाभ होता है। यदि वस्तु का अंकित मूल्य 2625 रु है, तो उसका क्रय मूल्य (रु में) क्या है?

**Options:**

1) 2075

2) 2135

3) 2025

4) 1995

**Correct Answer:** 1995

**Candidate Answer:** 2135

**QID : 136** - An article has marked price of Rs 8000 and is available at a discount of 20%. The shopkeeper gives another discount to the buyer and sells the article for Rs 5440. What is the second discount (in %) offered?

एक वस्तु का अंकित मूल्य 8000 रु है तथा 20% की छूट पर उपलब्ध है। दुकानदार ग्राहक को एक अतिरिक्त छूट देता है तथा वस्तु को 5440 रु में बेच देता है। दूसरी बार दी गई छूट (% में) कितनी है?

**Options:**

- 1) 15
- 2) 20
- 3) 25
- 4) 30

**Correct Answer:** 15

**Candidate Answer:** 15

**QID : 137** - Incomes of X and Y are in the ratio 7 : 8. Their expenditures are in the ratio 4 : 5. If both save Rs 960 at the end of the month, then what is the income (in Rs) of X?

X तथा Y की आय 7 : 8 के अनुपात में है। उनके व्यय 4 : 5 के अनुपात में है। यदि दोनों माह के अंत में 960 रु की बचत करते हैं, तो X की आय (रु में) क्या है?

**Options:**

- 1) 2240
- 2) 2560
- 3) 1280
- 4) 1600

**Correct Answer:** 2240

**Candidate Answer:** 1280

**QID : 138** - If 4.5 of a = 6.5 of b, then what is a : b?

यदि a का 4.5 = b का 6.5 हो, तो a : b क्या है?

**Options:**

- 1) 10 : 13
- 2) 13 : 9
- 3) 13 : 5
- 4) 5 : 9

**Correct Answer:** 13 : 9

**Candidate Answer:** 10 : 13

**QID : 139** - The average weight of a class is 36 kg. If a student with weight 15 kg joins the class, then new average weight becomes 33 kg. How many total students are there in the class?

एक कक्षा का औसत भार 36 कि.ग्रा. है। यदि एक 15 कि.ग्रा. भार वाला छात्र कक्षा में शामिल हो जाए, तो नया औसतन भार 33 कि.ग्रा. हो जाता है। कक्षा में कुल कितने छात्र हैं?

**Options:**

- 1) 5
- 2) 6
- 3) 8
- 4) 9

**Correct Answer:** 6

**Candidate Answer:** 5

**QID : 140** - An article was sold at 21% gain. Had it been sold for Rs 640 more, then the gain would have been 37%. What is the cost price (in Rs) of the article?

एक वस्तु को 21% लाभ पर बेचा गया। यदि 640 रु के अधिक मूल्य पर उसे बेचा जाता, तो 37% का लाभ होता। वस्तु का क्रय मूल्य (रु में) क्या है?

**Options:**

- 1) 6250
- 2) 4000
- 3) 5700
- 4) 6500

**Correct Answer:** 4000

**Candidate Answer:** 4000

**QID : 141** - An article is sold at a loss of 20%. If the selling price is doubled, then what will be the profit percentage?

एक वस्तु को 20% की हानि पर बेचा जाता है। यदि विक्रय मूल्य दोगुना कर दिया जाए, तो लाभ प्रतिशत क्या होगा?

**Options:**

- 1) 160
- 2) 100
- 3) 60
- 4) 37.5

**Correct Answer:** 60

**Candidate Answer:** 100

**QID : 142** - A number is increased first by 10% and then it is decreased by 20%. What is the percentage change in the number?

एक संख्या को पहले 10% से बढ़ाया जाता है तथा फिर उसे 20% से घटाया जाता है। संख्या में कितना प्रतिशत परिवर्तन हुआ है?

**Options:**

- 1) 12% increase  
12% की वृद्धि
- 2) 12% decrease  
12% की कमी
- 3) 32% increase  
32% की वृद्धि
- 4) 32% decrease  
32% की कमी

**Correct Answer:** 12% decrease

12% की कमी

**Candidate Answer:** 12% decrease

12% की कमी

**QID : 143** - Two numbers are 20% and 5% less than a third number. First number is what percent of the second number?

दो संख्याएँ एक तीसरी संख्या से क्रमशः 20% तथा 5% कम हैं। पहली संख्या, दूसरी संख्या का कितना प्रतिशत है?

**Options:**

- 1) 89.23
- 2) 93.11
- 3) 84.21
- 4) 87.38

**Correct Answer:** 84.21

**Candidate Answer:** 93.11

**QID : 144** - The downstream speed of a boat is 65 km/hr and the speed of current is 5 km/hr. What is the total time (in hours) taken by the boat to cover 220 km upstream and 130 km downstream?

किसी नाव की गति धारा के अनुकूल 65 कि.मी./घंटा है तथा धारा की गति 5 कि.मी./घंटा है। धारा के विपरीत 220 कि.मी. तथा धारा के अनुकूल 130 कि.मी. की दूरी तय करने में नाव द्वारा कुल कितना समय (घंटों में) लिया जायेगा?

**Options:**

- 1) 5
- 2) 6
- 3) 8
- 4) 10

**Correct Answer:** 6

**Candidate Answer:** 6

**QID : 145** - A man goes to a place at a speed of 50 km/hr and comes back with a different speed. If the average speed is 75 km/hr, then what is the return speed (in km/hr)?

एक व्यक्ति 50 कि.मी./घंटा की गति से किसी एक स्थान पर जाता है तथा एक भिन्न गति से वापस आता है। यदि औसत गति 75 कि.मी./घंटा है, तो वापस आते समय गति (कि.मी./घंटा में) क्या है?

**Options:**

- 1) 125
- 2) 180
- 3) 160
- 4) 150

**Correct Answer:** 150

**Candidate Answer:** 125

**QID : 146** - What is the compound interest (in Rs) on a sum of Rs 10000 for 2 years at the rate of 5% per annum compounded annually?

10000 रु के मूलधन पर 5% की वार्षिक दर पर वार्षिक संयोजन से 2 वर्षों का चक्रवृद्धि ब्याज (रु में) क्या है?

**Options:**

- 1) 1000
- 2) 1025
- 3) 1500
- 4) 1250

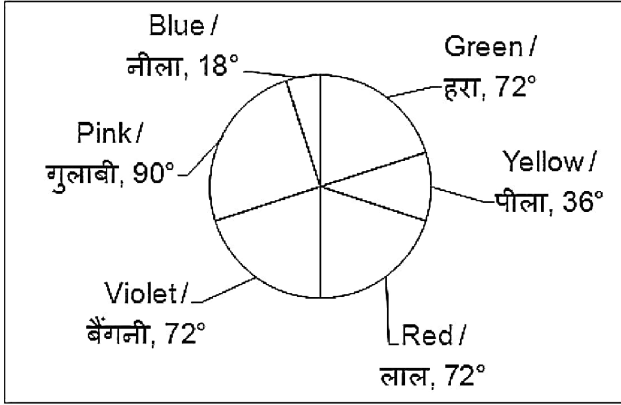
**Correct Answer:** 1025

**Candidate Answer:** 1025

QID : 147 -

The pie chart given below shows the number of students who like the 6 given colours. The total number of students is 900.

नीचे दिए गए वृत्त चित्र में दिए गए 6 रंगों को पसंद करने वाले छात्रों की संख्या को दर्शाया गया है। छात्रों की कुल संख्या 900 है।



What is the average number of students who like blue, green and yellow colour?

नीला, हरा तथा पीला रंग पसंद करने वाले छात्रों की औसत संख्या क्या है?

Options:

- 1) 126
- 2) 300
- 3) 105
- 4) 378

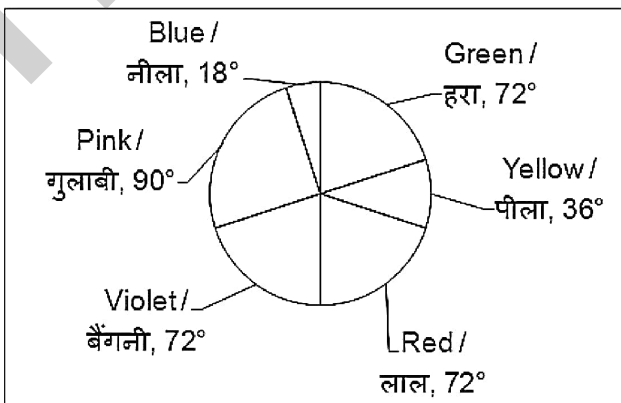
Correct Answer: 105

Candidate Answer: 126

QID : 148 -

The pie chart given below shows the number of students who like the 6 given colours. The total number of students is 900.

नीचे दिए गए वृत्त चित्र में दिए गए 6 रंगों को पसंद करने वाले छात्रों की संख्या को दर्शाया गया है। छात्रों की कुल संख्या 900 है।



What is the difference between the number of students who like blue colour and those who like red colour?

नीला रंग पसंद करने वाले तथा लाल रंग पसंद करने वाले छात्रों की संख्या के मध्य अंतर क्या है?

Options:

- 1) 54
- 2) 135
- 3) 45
- 4) 30

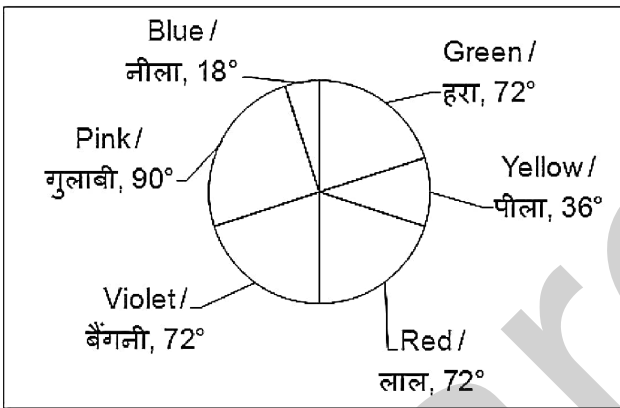
Correct Answer: 135

Candidate Answer: 54

QID : 149 -

The pie chart given below shows the number of students who like the 6 given colours. The total number of students is 900.

नीचे दिए गए वृत्त चित्र में दिए गए 6 रंगों को पसंद करने वाले छात्रों की संख्या को दर्शाया गया है। छात्रों की कुल संख्या 900 है।



What is the total number of students who like pink, red and blue colour?

गुलाबी, लाल तथा नीला रंग पसंद करने वाले छात्रों की कुल संख्या क्या है?

Options:

- 1) 250
- 2) 400
- 3) 450
- 4) 540

Correct Answer: 450

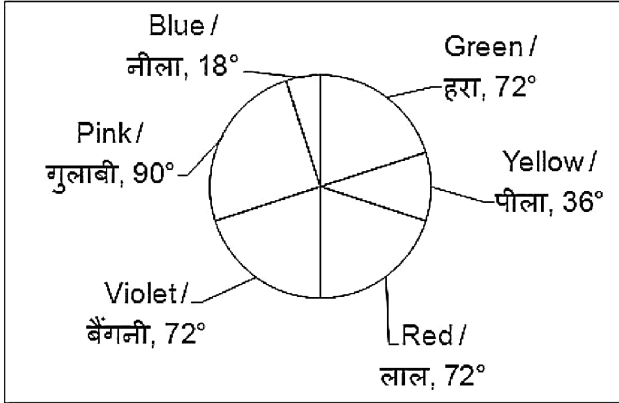
Candidate Answer: [ NOT ANSWERED ]



**QID : 150 -**

The pie chart given below shows the number of students who like the 6 given colours. The total number of students is 900.

नीचे दिए गए वृत्त चित्र में दिए गए 6 रंगों को पसंद करने वाले छात्रों की संख्या को दर्शाया गया है। छात्रों की कुल संख्या 900 है।



What is the ratio of number of students who like violet colour to the number of students who like blue and yellow colour?

बैंगनी रंग पसंद करने वाले छात्रों की संख्या का नीले तथा पीले रंग को पसंद करने वाले छात्रों की संख्या से क्या अनुपात है?

**Options:**

- 1) 4 : 1
- 2) 1 : 2
- 3) 4 : 3
- 4) 2 : 3

**Correct Answer:** 4 : 3

**Candidate Answer:** 4 : 3

**QID : 151 -** In the following question, some part of the sentence may have errors. Find out which part of the sentence has an error and select the appropriate option. If a sentence is free from error, select 'No Error'.

Beijing has to aggressively woo the countries (1)/ rich on energy resources, which also represent (2)/ emerging markets for Chinese products. (3)/ No error (4)

**Options:**

- 1) 1
- 2) 2
- 3) 3
- 4) 4

**Correct Answer:** 2

**Candidate Answer:** 1

**QID : 152 -** In the following question, some part of the sentence may have errors. Find out which part of the sentence has an error and select the appropriate option. If a sentence is free from error, select 'No Error'.

There is increased sophistication of hacking tools that are openly available (1)/ to the public on the Internet, and there are (2)/ increasing damages being caused by viruses. (3)/ No error (4)

**Options:**

- 1) 1
- 2) 2
- 3) 3
- 4) 4

**Correct Answer:** 4

**Candidate Answer:** 4

**QID : 153 -** In the following question, the sentence given with blank to be filled in with an appropriate word. Select the correct alternative out of the four and indicate it by selecting the appropriate option.

He \_\_\_\_\_ for a morning walk daily.

**Options:**

- 1) go
- 2) want
- 3) gone
- 4) goes

**Correct Answer:** goes

**Candidate Answer:** gone

**QID : 154** - In the following question, the sentence given with blank to be filled in with an appropriate word. Select the correct alternative out of the four and indicate it by selecting the appropriate option.

I am \_\_\_\_\_ 'Harry Potter'.

**Options:**

- 1) reads
- 2) have read
- 3) read
- 4) reading

**Correct Answer:** reading

**Candidate Answer:** read

**QID : 155** - In the following question, out of the given four alternatives, select the one which best expresses the meaning of the given word.

**Wander**

**Options:**

- 1) Stay
- 2) Deviate
- 3) Fun
- 4) Lock

**Correct Answer:** Deviate

**Candidate Answer:** Lock

**QID : 156** - In the following question, out of the given four alternatives, select the one which best expresses the meaning of the given word.

**Predicament**

**Options:**

- 1) Plight
- 2) Solution
- 3) Advantage
- 4) Truth

**Correct Answer:** Plight

**Candidate Answer:** Advantage

**QID : 157** - In the following question, out of the given four alternatives, select the one which best expresses the meaning of the given word.

**Acute**

**Options:**

- 1) Slow
- 2) Sharp
- 3) Dense
- 4) Obtuse

**Correct Answer:** Sharp

**Candidate Answer:** Obtuse

**QID : 158** - In the following question, out of the given four alternatives, select the one which is opposite in meaning of the given word.

**Rapture**

**Options:**

- 1) Calmness
- 2) Bliss
- 3) Cheer
- 4) Elation

**Correct Answer:** Calmness

**Candidate Answer:** Cheer

**QID : 159** - In the following question, out of the given four alternatives, select the one which is opposite in meaning of the given word.

**Flee**

**Options:**

1) Submit

2) Avoid

3) Blow

4) Depart

**Correct Answer:** Submit

**Candidate Answer:** Avoid

**QID : 160** - In the following question, out of the given four alternatives, select the one which is opposite in meaning of the given word.

**Combative**

**Options:**

1) Peaceful

2) Cussed

3) Energetic

4) Militant

**Correct Answer:** Peaceful

**Candidate Answer:** Energetic

**QID : 161** - In the following question, out of the four given alternatives, select the alternative which best expresses the meaning of the Idiom/Phrase.

**Crash and burn**

**Options:**

1) To fail completely

2) To deceive

3) To gamble

4) To waste

**Correct Answer:** To fail completely

**Candidate Answer:** To gamble

**QID : 162** - In the following question, out of the four given alternatives, select the alternative which best expresses the meaning of the Idiom/Phrase.

**Cost an arm and a leg**

**Options:**

1) Extremely expensive

2) Working all night

3) Very cheap

4) Paying for useless thing

**Correct Answer:** Extremely expensive

**Candidate Answer:** Working all night

**QID : 163** - Improve the bracketed part of the sentence.

Here is one (**another**) opportunity for aspirants to grab for better prospects.

**Options:**

1) more

2) other

3) each

4) No improvement

**Correct Answer:** more

**Candidate Answer:** more

**QID : 164** - Improve the bracketed part of the sentence.

A personal interview (**have to be**) conducted to check interpersonal skills of the candidate.

**Options:**

1) can to be

2) may to be

3) has to be

4) No improvement

**Correct Answer:** has to be

**Candidate Answer:** No improvement

**QID : 165** - In the following question, out of the four given alternatives, select the alternative which is the best substitute of the phrase.

**Give Tit for Tat**

**Options:**

1) Retaliate

2) Retreat

3) Resurrect

4) Reprise

**Correct Answer:** Retaliate

**Candidate Answer:** Retaliate

**QID : 166** - In the following question, out of the four given alternatives, select the alternative which is the best substitute of the phrase.

**An instrument for measuring body temperature**

**Options:**

1) Barometer

2) Thermometer

3) Ammeter

4) Kilometer

**Correct Answer:** Thermometer

**Candidate Answer:** Ammeter

**QID : 167** - In the following question, a word has been written in four different ways out of which only one is correctly spelt. Select the correctly spelt word.

**Options:**

1) Courious

2) Cuorious

3) Curious

4) Cureious

**Correct Answer:** Curious

**Candidate Answer:** Curious

**QID : 168** - In the following question, a word has been written in four different ways out of which only one is correctly spelt. Select the correctly spelt word.

**Options:**

1) Voge

2) Vogue

3) Wogue

4) Vougue

**Correct Answer:** Vogue

**Candidate Answer:** Vogue

**QID : 169** - Rearrange the parts of the sentence in correct order.

Everyone should respect

**P:** others while driving or

**Q:** take care of their safety

**R:** walking on the road and

**Options:**

1) PRQ

2) QRP

3) QPR

4) RQP

**Correct Answer:** PRQ

**Candidate Answer:** RQP

**QID : 170** - Rearrange the parts of the sentence in correct order.

Tolerance is considered

**P:** as a good quality of

**Q:** important to make a society

**R:** a man and it is most

**Options:**

1) PRQ

2) QRP

3) QPR

4) RQP

**Correct Answer:** PRQ

**Candidate Answer:** PRQ

**QID : 171** - In the following passage some of the words have been left out. Read the passage carefully and select the correct answer for the given blank out of the four alternatives.

Deforestation is said to be \_\_\_\_\_ of the main causes of shortage of rainfall that leads \_\_\_\_\_ drought. Adequate amount of trees and vegetation is required on \_\_\_\_\_ to limit evaporation of water, store enough water on land and attract rainfall. Deforestation and construction of concrete buildings in their place have caused a major disbalance in the environment. It \_\_\_\_\_ the capacity of the soil to hold water and increases evaporation. Both these are a \_\_\_\_\_ of low rainfall.

**to be \_\_\_\_\_ of the main**

**Options:**

- 1) one
- 2) none
- 3) all
- 4) some

**Correct Answer:** one

**Candidate Answer:** all

**QID : 172** - In the following passage some of the words have been left out. Read the passage carefully and select the correct answer for the given blank out of the four alternatives.

Deforestation is said to be \_\_\_\_\_ of the main causes of shortage of rainfall that leads \_\_\_\_\_ drought. Adequate amount of trees and vegetation is required on \_\_\_\_\_ to limit evaporation of water, store enough water on land and attract rainfall. Deforestation and construction of concrete buildings in their place have caused a major disbalance in the environment. It \_\_\_\_\_ the capacity of the soil to hold water and increases evaporation. Both these are a \_\_\_\_\_ of low rainfall.

**that leads \_\_\_\_\_ drought.**

**Options:**

- 1) of
- 2) to
- 3) for
- 4) on

**Correct Answer:** to

**Candidate Answer:** for

**QID : 173** - In the following passage some of the words have been left out. Read the passage carefully and select the correct answer for the given blank out of the four alternatives.

Deforestation is said to be \_\_\_\_\_ of the main causes of shortage of rainfall that leads \_\_\_\_\_ drought. Adequate amount of trees and vegetation is required on \_\_\_\_\_ to limit evaporation of water, store enough water on land and attract rainfall. Deforestation and construction of concrete buildings in their place have caused a major disbalance in the environment. It \_\_\_\_\_ the capacity of the soil to hold water and increases evaporation. Both these are a \_\_\_\_\_ of low rainfall.

**required on \_\_\_\_\_ to limit**

**Options:**

- 1) sea
- 2) water
- 3) land
- 4) air

**Correct Answer:** land

**Candidate Answer:** water

**QID : 174** - In the following passage some of the words have been left out. Read the passage carefully and select the correct answer for the given blank out of the four alternatives.

Deforestation is said to be \_\_\_\_\_ of the main causes of shortage of rainfall that leads \_\_\_\_\_ drought. Adequate amount of trees and vegetation is required on \_\_\_\_\_ to limit evaporation of water, store enough water on land and attract rainfall. Deforestation and construction of concrete buildings in their place have caused a major disbalance in the environment. It \_\_\_\_\_ the capacity of the soil to hold water and increases evaporation. Both these are a \_\_\_\_\_ of low rainfall.

**It \_\_\_\_\_ the capacity**

**Options:**

- 1) highers
- 2) increases
- 3) rises
- 4) lowers

**Correct Answer:** lowers

**Candidate Answer:** increases

**QID : 175** - In the following passage some of the words have been left out. Read the passage carefully and select the correct answer for the given blank out of the four alternatives.

Deforestation is said to be \_\_\_\_\_ of the main causes of shortage of rainfall that leads \_\_\_\_\_ drought. Adequate amount of trees and vegetation is required on \_\_\_\_\_ to limit evaporation of water, store enough water on land and attract rainfall. Deforestation and construction of concrete buildings in their place have caused a major disbalance in the environment. It \_\_\_\_\_ the capacity of the soil to hold water and increases evaporation. Both these are a \_\_\_\_\_ of low rainfall.

a \_\_\_\_\_ of low rainfall.

**Options:**

- 1) result
- 2) incentive
- 3) effect
- 4) cause

**Correct Answer:** cause

**Candidate Answer:** effect

**QID : 176** - A country or state which imposes no tax or very low tax is known as \_\_\_\_\_.

ऐसा देश या राज्य जो बिना कर या बहुत कम कर को लागू करता है, कहलाता है \_\_\_\_\_।

**Options:**

- 1) Tax Tourism  
टैक्स टूरिज्म
- 2) Tax Terrorism  
टैक्स टेररिज्म
- 3) Tax Haven  
टैक्स हैवन
- 4) Tax Keeper  
टैक्स कीपर

**Correct Answer:** Tax Haven

टैक्स हैवन

**Candidate Answer:** Tax Keeper

टैक्स कीपर

**QID : 177** - Under HRIDAY scheme which of the following city is **NOT** included?

हृदय योजना के तहत निम्नलिखित में से कौन सा शहर शामिल नहीं है?

**Options:**

- 1) Varanasi  
वाराणसी
- 2) Madurai  
मदुरै
- 3) Puri  
पुरी
- 4) Amravati  
अमरावती

**Correct Answer:** Madurai

मदुरै

**Candidate Answer:** Amravati

अमरावती

**QID : 178** - How many articles were there originally in Constitution of India?

मूल रूप से भारत के संविधान में कितने अनुच्छेद थे?

**Options:**

- 1) 444
- 2) 397
- 3) 395
- 4) 398

**Correct Answer:** 395

**Candidate Answer:** 395

**QID : 179** - Who was the chairman of Drafting Committee of Indian Constitution ?

भारतीय संविधान की मसौदा समिति के अध्यक्ष कौन थे?

**Options:**

- 1) Dr Rajendra Prasad  
डॉ राजेन्द्र प्रसाद
- 2) Dr Bhimrao Ambedkar  
डॉ भीमराव अम्बेडकर
- 3) Sardar Patel  
सरदार पटेल
- 4) C Rajgopalachari  
सी राजगोपालाचारी

**Correct Answer:** Dr Bhimrao Ambedkar  
डॉ भीमराव अम्बेडकर

**Candidate Answer:** C Rajgopalachari  
सी राजगोपालाचारी

**QID : 180** - Who is considered as the chief architect of Taj Mahal?

ताजमहल का मुख्य वास्तुकार किसे माना जाता है?

**Options:**

- 1) Ajmal Khan  
अजमल खान
- 2) Mohammad Khan  
मोहम्मद खान
- 3) Ahmad Lahauri  
अहमद लाहौरी
- 4) Ahmad Khan  
अहमद खान

**Correct Answer:** Ahmad Lahauri  
अहमद लाहौरी

**Candidate Answer:** Mohammad Khan  
मोहम्मद खान

**QID : 181** - Which of following ruling dynasties has not been mentioned in the Sangam literature?

संगम साहित्य में निम्नलिखित में से किस राजवंश का उल्लेख नहीं किया गया है?

**Options:**

- 1) Chola  
चोल
- 2) Chera  
चेर
- 3) Pandya  
पाण्ड्य
- 4) Kadamba  
कदंब

**Correct Answer:** Kadamba  
कदंब

**Candidate Answer:** Pandya  
पाण्ड्य

**QID : 182** - A landmass bounded by sea on three sides is referred to as \_\_\_\_\_.

तीन तरफ समुद्र से घिरे एक भू-भाग को \_\_\_\_\_ के रूप में जाना जाता है।

**Options:**

- 1) Coast  
तट
- 2) Island  
द्वीप
- 3) Peninsula  
प्रायद्वीप
- 4) Plateau  
पठार

**Correct Answer:** Peninsula  
प्रायद्वीप

**Candidate Answer:** Coast  
तट

**QID : 183** - The Western Ghats are also known as \_\_\_\_\_.

पश्चिमी घाट को \_\_\_\_\_ से भी जाना जाता है।

**Options:**

1) Himalaya

हिमालय

2) Sahyadri

सहयाद्रि

3) Vindhyaachal

विंध्याचल

4) Annamudi

अन्नामुडी

**Correct Answer:** Sahyadri

सहयाद्रि

**Candidate Answer:** Vindhyaachal

विंध्याचल

**QID : 184** - Which of the following vitamins is responsible for blood clotting?

निम्न में से कौन सा विटामिन रक्त के थक्के के लिए जिम्मेदार है?

**Options:**

1) Vitamin C

विटामिन सी

2) Vitamin D

विटामिन डी

3) Vitamin E

विटामिन ई

4) Vitamin K

विटामिन K

**Correct Answer:** Vitamin K

विटामिन K

**Candidate Answer:** Vitamin K

विटामिन K

**QID : 185** - Kidney stones are mainly formed by which of the following compound?

गुर्दा की पथरी मुख्य रूप से निम्नलिखित में से किस यौगिक से बनती है?

**Options:**

1) Calcium Silicate

कैल्शियम सिलिकेट

2) Calcium Oxalate

कैल्शियम ऑक्सलेट

3) Calcium Chloride

कैल्शियम क्लोराइड

4) Calcium Oxide

कैल्शियम ऑक्साइड

**Correct Answer:** Calcium Oxalate

कैल्शियम ऑक्सलेट

**Candidate Answer:** Calcium Oxalate

कैल्शियम ऑक्सलेट

**QID : 186** - Who described DNA double helix?

डीएनए डबल हेलिक्स का वर्णन किसने किया?

**Options:**

1) Friedrich Miescher

फ्रेडरिक मिशर

2) James Watson

जेम्स वॉटसन

3) Francis Crick

फ्रांसिस क्रिक

4) Both James Watson and Francis Crick

जेम्स वॉटसन और फ्रांसिस क्रिक दोनों ने

**Correct Answer:** Both James Watson and Francis Crick

जेम्स वॉटसन और फ्रांसिस क्रिक दोनों ने

**Candidate Answer:** [ NOT ANSWERED ]

**QID : 187** - Pick out the scalar quantity from the followings.

निम्नलिखित में से अदिश राशि चुनें।



**Options:**

1) Force

बल

2) Acceleration

त्वरण

3) Work

काम

4) Velocity

वेग

**Correct Answer:** Work

काम

**Candidate Answer:** Acceleration

त्वरण

**QID : 188** - Which of the following is the hardest metal?

निम्नलिखित में से कौन सबसे कठोर धातु है?

**Options:**

1) Gold

सोना

2) Iron

लोहा

3) Platinum

प्लैटिनम

4) Tungsten

टंगस्टन

**Correct Answer:** Tungsten

टंगस्टन

**Candidate Answer:** Iron

लोहा

**QID : 189** - Microprocessors as switching devices are for which generation computers?

स्विचिंग डिवाइस के रूप में माइक्रोप्रोसेसर किस पीढ़ी के कंप्यूटर के लिए हैं?

**Options:**

1) 1st Generation

पहली पीढ़ी

2) 2nd Generation

दूसरी पीढ़ी

3) 3rd Generation

तीसरी पीढ़ी

4) 4th Generation

चौथी पीढ़ी

**Correct Answer:** 4th Generation

चौथी पीढ़ी

**Candidate Answer:** 3rd Generation

तीसरी पीढ़ी

**QID : 190** - During oxidation process electrons are \_\_\_\_\_.

ऑक्सीकरण प्रक्रिया के दौरान इलेक्ट्रॉनों की \_\_\_\_\_ होती है।

**Options:**

1) gained

प्राप्ति

2) lost

क्षति

3) paired up

युग्मन

4) None of the option is correct.

कोई भी विकल्प सही नहीं है।

**Correct Answer:** lost

क्षति

**Candidate Answer:** gained

प्राप्ति

**QID : 191** - Which transitions are studied by UV Spectrometer?

यू वी स्पेक्ट्रोमीटर द्वारा किस प्रक्रिया का अध्ययन किया जाता है?

**Options:**

1) Rotational

रोटेशनल

2) Electronic

इलेक्ट्रॉनिक

3) Nuclear

नाभिकीय

4) Vibrational

कंपन

**Correct Answer:** Electronic

इलेक्ट्रॉनिक

**Candidate Answer:** Electronic

इलेक्ट्रॉनिक

**QID : 192** - Layer which saves life from harmful effects of UV radiations is known as \_\_\_\_\_.

जो परत यू वी विकिरणों के हानिकारक प्रभावों से जीवन को बचाता है, उसे \_\_\_\_\_ कहा जाता है।

**Options:**

1) Ozone Layer

ओजोन परत

2) Alpha Layer

अल्फा परत

3) Gamma Layer

गामा परत

4) Infrared Layer

इन्फ्रारेड लेयर

**Correct Answer:** Ozone Layer

ओजोन परत

**Candidate Answer:** Ozone Layer

ओजोन परत

**QID : 193** - Which of the following state governments launched "Shaheed Gram Vikas Yojana" aimed at developing villages of freedom fighters in the state?

निम्नलिखित में से किस राज्य सरकार ने स्वतंत्रता सेनानियों के गांवों के विकास के उद्देश्य से "शहीद ग्राम विकास योजना" की स्थापना की?

**Options:**

1) Uttar Pradesh

उत्तर प्रदेश

2) Bihar

बिहार

3) Jharkhand

झारखंड

4) Madhya Pradesh

मध्य प्रदेश

**Correct Answer:** Jharkhand

झारखंड

**Candidate Answer:** Bihar

बिहार

**QID : 194** - Who first discovered that the earth revolves around the sun?

सबसे पहले किसने यह खोजा कि पृथ्वी सूर्य के चारों ओर चक्कर लगाती है?

**Options:**

1) Newton

न्यूटन

2) Dalton

डाल्टन

3) Copernicus

कोपरनिकस

4) Einstein

आइंस्टाइन

**Correct Answer:** Copernicus

कोपरनिकस

**Candidate Answer:** Copernicus

कोपरनिकस

**QID : 195** - The 2018 FIFA World Cup is scheduled to take place in \_\_\_\_\_.

2018 फीफा विश्व कप के लिए निर्धारित स्थान \_\_\_\_\_ है।

**Options:**

- 1) India  
इंडिया
- 2) Argentina  
अर्जेंटीना
- 3) USA  
अमेरीका
- 4) Russia  
रूस

**Correct Answer:** Russia

रूस

**Candidate Answer:** USA

अमेरीका

**QID : 196** - The famous Nabakalebara festival belongs to which of the following states?

प्रसिद्ध नबकलेबर त्योहार निम्नलिखित में से किस राज्य के अंतर्गत आता है?

**Options:**

- 1) West Bengal  
पश्चिम बंगाल
- 2) Odisha  
ओडिशा
- 3) Bihar  
बिहार
- 4) Jharkhand  
झारखंड

**Correct Answer:** Odisha

ओडिशा

**Candidate Answer:** Odisha

ओडिशा

**QID : 197** - Sharad Joshi Samman is awarded for \_\_\_\_\_.

शरद जोशी सम्मान \_\_\_\_\_ के लिए प्रदान जाता है।

**Options:**

- 1) Satire & Essay  
व्यंग्य और निबंध
- 2) Cartoon  
कार्टून
- 3) Social Service  
समाज सेवा
- 4) None of the option is correct.  
कोई भी विकल्प सही नहीं है।

**Correct Answer:** Satire & Essay

व्यंग्य और निबंध

**Candidate Answer:** Social Service

समाज सेवा

**QID : 198** - Who is the author of book "Khullam Khulla"?

पुस्तक "खुल्लम खुल्ला" के लेखक कौन हैं?

**Options:**

- 1) Navjot Singh Sidhu  
नवजोत सिंह सिद्धू
- 2) Kapil Dev  
कपिल देव
- 3) Madhur Bhandarkar  
मधुर भंडारकर
- 4) Rishi Kapoor  
ऋषि कपूर

**Correct Answer:** Rishi Kapoor

ऋषि कपूर

**Candidate Answer:** Rishi Kapoor

ऋषि कपूर

**QID : 199** - Which of the following countries hosted the International Military Music Festival (IMMF-2017) in year 2017?

निम्नलिखित में से किस देश ने वर्ष 2017 में अंतर्राष्ट्रीय सैन्य संगीत समारोह (आईएमएमएफ-2017) का आयोजन किया?

**Options:**

1) India

भारत

2) China

चीन

3) Russia

रूस

4) USA

अमेरिका

**Correct Answer:** Russia

रूस

**Candidate Answer:** USA

अमेरिका

**QID : 200** - Which country launched its "climate-smart snow leopard landscape management plan" in year 2017?

वर्ष 2017 में किस देश ने अपनी "क्लाइमेट-स्मार्ट स्नो लेपर्ड लैंडस्केप मैनेजमेंट प्लान" शुरू की?

**Options:**

1) China

चीन

2) Nepal

नेपाल

3) Bhutan

भूटान

4) India

भारत

**Correct Answer:** Nepal

नेपाल

**Candidate Answer:** China

चीन