



Staff Selection Commission
(Government Of India)

REGISTRATION NUMBER : examstocks.com
EXAM DATE : 29-October-2017
EXAM NAME : SSC Examination
TOTAL MARKS : 150

CANDIDATE NAME : examstocks.com
EXAM START TIME : 10:00:00 EXAM
DURATION : 01:30 Hrs TOTAL NO OF
QUESTIONS : 100

QID : 1 -

In the following question, select the number which can be placed at the sign of question mark (?) from the given alternatives.

निम्नलिखित प्रश्न में दिए गए विकल्पों में से प्रश्न चिह्न (?) के स्थान पर आने वाली संख्या को चुनिए।

4	8	16	32
6	12	24	48
11	22	44	?

Options:

- 1) 80
- 2) 88
- 3) 56
- 4) 64

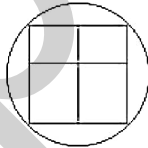
Correct Answer: 88

Candidate Answer: 88

QID : 2 -

How many rectangles are there in the given figure?

दी गई आकृति में कितने आयत हैं?



Options:

- 1) 10
- 2) 8
- 3) 9
- 4) 7

Correct Answer: 9

Candidate Answer: 9

QID : 3 -

A word is represented by only one set of numbers as given in any one of the alternatives. The sets of numbers given in the alternatives are represented by two classes of alphabets as shown in the given two matrices. The columns and rows of **Matrix-I** are numbered from 0 to 4 and that of **Matrix-II** are numbered from 5 to 9. A letter from these matrices can be represented first by its row and next by its column, for example, 'E' can be represented by 20, 59, etc., and 'N' can be represented by 12, 89, etc. Similarly, you have to identify the set for the word "ESTOP".

एक शब्द केवल एक संख्या-समूह द्वारा दर्शाया गया है। जैसा कि विकल्पों में से किसी एक में दिया गया है। विकल्पों में दिए गए संख्या-समूह अक्षरों के दो वर्गों द्वारा दर्शाए गए हैं। जैसा कि दिए गए दो आव्यूहों में है। आव्यूह-I के स्तम्भ और पंक्ति की संख्या 0 से 4 है और आव्यूह-II की 5 से 9। इन आव्यूहों से एक अक्षर को पहले उसकी पंक्ति और बाद में स्तम्भ संख्या द्वारा दर्शाया जा सकता है। उदाहरण के लिए 'E' को 20, 59, आदि द्वारा दर्शाया जा सकता है तथा 'N' को 12, 89, आदि द्वारा दर्शाया जा सकता है। इसी तरह से आपको प्रश्न में दिए शब्द "ESTOP" के लिए समूह को पहचानना है।

Matrix-I आव्यूह-I						Matrix-II आव्यूह-II					
	0	1	2	3	4		5	6	7	8	9
0	O	K	D	F	X	5	R	C	W	G	E
1	G	M	N	H	V	6	K	M	O	Q	S
2	E	O	Y	J	T	7	U	W	Y	B	A
3	C	F	I	L	R	8	E	H	G	L	N
4	A	S	U	N	P	9	A	R	T	S	X

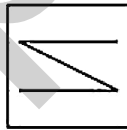
Options:

- 1) 20, 41, 24, 00, 41
- 2) 59, 98, 97, 21, 44
- 3) 85, 69, 79, 67, 43
- 4) 59, 58, 97, 59, 89

Correct Answer: 59, 98, 97, 21, 44**Candidate Answer:** 59, 98, 97, 21, 44**QID : 4 -**

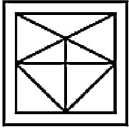
From the given answer figures, select the one in which the question figure is hidden/embedded.

दी गई उत्तर आकृतियों में से उस उत्तर आकृति को चुनिए जिस में प्रश्न आकृति निहित है।

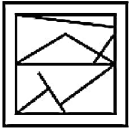


Options:

1)



2)



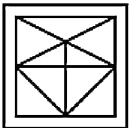
3)



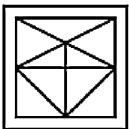
4)



Correct Answer:



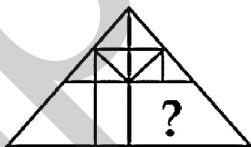
Candidate Answer:



QID : 5 -

Which answer figure will complete the pattern in the question figure?

कौन सी उत्तर आकृति प्रश्न आकृति के प्रतिरूप को पूरा करेगी?

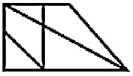


Options:

1)



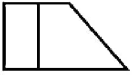
2)



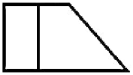
3)



4)



Correct Answer:



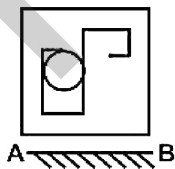
Candidate Answer:



QID : 6 -

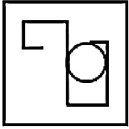
If a mirror is placed on the line AB, then which of the answer figures is the right image of the given figure?

यदि एक दर्पण को AB रेखा पर रखा जाए, तो दी गई उत्तर आकृतियों में से कौन सी आकृति प्रश्न आकृति की सही प्रतिबिम्ब होगी?

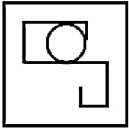


Options:

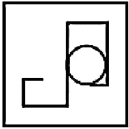
1)



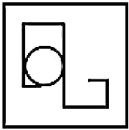
2)



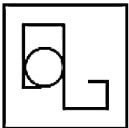
3)



4)



Correct Answer:



Candidate Answer: [NOT ANSWERED]

QID : 7 -

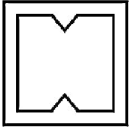
A piece of paper is folded and punched as shown below in the question figures. From the given answer figures, indicate how it will appear when opened?

नीचे के प्रश्न आकृतियों में दिखाए अनुसार कागज को मोड़कर छेदने तथा खोलने के बाद वह किस उत्तर आकृति जैसा दिखाई देगा?

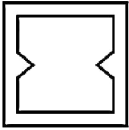


Options:

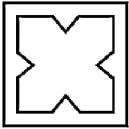
1)



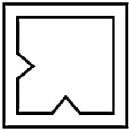
2)



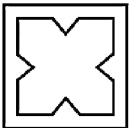
3)



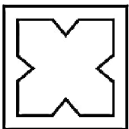
4)



Correct Answer:



Candidate Answer:



QID : 8 - What will come in place of question mark (?) in the given equation?

$$9 ? 6 ? 4 ? 16 = 33$$

दिए गए समीकरण में प्रश्न चिह्न (?) के स्थान पर क्या आएगा?

$$9 ? 6 ? 4 ? 16 = 33$$

Options:

1) \div , + and \times

\div , + तथा \times

2) +, - and \div

+, - तथा \div

3) \div , \times and +

\div , \times तथा +

4) +, \div and \times

+, \div तथा \times

Correct Answer: +, \div and \times

+, \div तथा \times

Candidate Answer: +, \div and \times

+, \div तथा \times

QID : 9 - If $6 + 4 - 16 = 24$ and $9 + 2 - 8 = 36$, then

$$13 + 3 - 15 = ?$$

यदि $6 + 4 - 16 = 24$ तथा $9 + 2 - 8 = 36$ हो, तो

$$13 + 3 - 15 = ?$$

Options:

1) 78

2) 39

3) 42

4) 65

Correct Answer: 65

Candidate Answer: 65

QID : 10 - Arrange the given words in the sequence in which they occur in the dictionary.

1. Noble
2. Notable
3. Nomadic
4. Norway
5. Nostalgia

निम्नलिखित शब्दों को शब्दकोश में आने वाले क्रम के अनुसार लिखें।

1. Noble
2. Notable
3. Nomadic
4. Norway
5. Nostalgia

Options:

- 1) 13452
- 2) 13425
- 3) 13542
- 4) 13524

Correct Answer: 13452

Candidate Answer: 13452

QID : 11 - In the following question, select the missing number from the given series.

4, 5, 9, 14, 23, ?

निम्नलिखित प्रश्न में दिए गए विकल्पों में से लुप्त अंक ज्ञात कीजिए।

4, 5, 9, 14, 23, ?

Options:

- 1) 38
- 2) 37
- 3) 42
- 4) 33

Correct Answer: 37

Candidate Answer: 37

QID : 12 - A series is given with one term missing. Select the correct alternative from the given ones that will complete the series.

LNP, QSU, VXZ, ?

एक अनुक्रम दिया गया है, जिसमें से एक पद लुप्त है। दिए गए विकल्पों में से वह सही विकल्प चुनिए, जो अनुक्रम को पूरा करे।

LNP, QSU, VXZ, ?

Options:

- 1) BDF
- 2) ABC
- 3) ACE
- 4) BCD

Correct Answer: ACE

Candidate Answer: ABC

QID : 13 - In the following question, select the odd word from the given alternatives.

निम्नलिखित प्रश्न में दिए गए विकल्पों में से विषम शब्द को चुनिए।

Options:

- 1) Sun
सूर्य
- 2) Summer
ग्रीष्म
- 3) Winter
शीत
- 4) Autumn
पतझड़

Correct Answer: Sun

सूर्य

Candidate Answer: Sun

सूर्य

QID : 14 - In the following question, select the odd number pair from the given alternatives.

निम्नलिखित प्रश्न में दिए गए विकल्पों में से विषम संख्या युग्म को चुनिए।

Options:

- 1) 21 - 441
- 2) 8 - 169
- 3) 22 - 462
- 4) 7 - 147

Correct Answer: 8 – 169

Candidate Answer: 8 – 169

QID : 15 - In the following question, select the odd letters from the given alternatives.

निम्नलिखित प्रश्न में दिए गए विकल्पों में से विषम अक्षरों को चुनिए।

Options:

- 1) WYA
- 2) PRT
- 3) MOQ
- 4) LNR

Correct Answer: LNR

Candidate Answer: LNR

QID : 16 - Identify the diagram that best represents the relationship among the given classes.


Crops, Cotton, Wheat

वह आरेख चुनिए जो नीचे दिए गए वर्गों के बीच के संबंध का सही निरूपण करता है।

फसल, कपास, गेहूँ

Options:

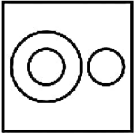
1)



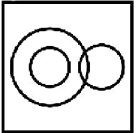
2)



3)



4)



Correct Answer:



Candidate Answer:



QID : 17 - In the following question, select the related word from the given alternatives.

Light : Dark :: Happy : ?

निम्नलिखित प्रश्न में दिए गए विकल्पों में से संबंधित शब्द को चुनिए।

हल्का : गहरा :: खुश : ?

Options:

- 1) Large
- बड़ा
- 2) Sad
- उदास
- 3) Laugh
- हसना
- 4) Cry
- रोना

Correct Answer: Sad

उदास

Candidate Answer: Sad

उदास

QID : 18 - In the following question, select the related number from the given alternatives.

14 : 154 :: 11 : ?

निम्नलिखित प्रश्न में दिए गए विकल्पों में से संबंधित संख्या को चुनिए।

14 : 154 :: 11 : ?

Options:

- 1) 121
- 2) 143
- 3) 150
- 4) 131

Correct Answer: 121

Candidate Answer: 121

QID : 19 - In the following question, select the related letters from the given alternatives.

SHINE : ENIHS :: POOL : ?

निम्नलिखित प्रश्न में दिए गए विकल्पों में से संबंधित अक्षरों को चुनिए।

SHINE : ENIHS :: POOL : ?

Options:

- 1) LOOM
- 2) LOOP
- 3) POOM
- 4) PQQL

Correct Answer: LOOP

Candidate Answer: LOOP

QID : 20 - In the following question, select the word which cannot be formed using the letters of the given word.

ADVERTISEMENT

निम्नलिखित विकल्पों में से वह शब्द चुनिए जो दिए गए शब्द के अक्षरों का प्रयोग करके नहीं बनाया जा सकता।

ADVERTISEMENT

Options:

- 1) ADVERTISE
- 2) SITE
- 3) MEN
- 4) RUDE

Correct Answer: RUDE

Candidate Answer: RUDE

QID : 21 - L is 1 years older to H. H is 3 years younger to N. N is 2 years older to O. O is 4 years younger to P. Who is the youngest?

L, H से 1 वर्ष बड़ा है। H, N से 3 वर्ष छोटा है। N, O से 2 वर्ष बड़ा है। O, P से 4 वर्ष छोटा है। सबसे छोटा कौन है?

Options:

- 1) H
- 2) L
- 3) O
- 4) P

Correct Answer: H

Candidate Answer: H

QID : 22 - Kapil walks 35 km towards south. He turns right and walks another 35 km. He turns right and walks another 35 km. In which direction is he from his starting point?

कपिल दक्षिण की ओर 35 कि.मी. चलता है। वह दायीं ओर मुड़ता है तथा 35 कि.मी. और चलता है। वह दायीं ओर मुड़ता है तथा 35 कि.मी. और चलता है। वह अपने आरंभिक बिन्दु से किस दिशा में है?

Options:

- 1) East
पूर्व
- 2) North
उत्तर
- 3) South
दक्षिण
- 4) West
पश्चिम

Correct Answer: West

पश्चिम

Candidate Answer: West
पश्चिम

QID : 23 - In the following question below are given some statements followed by some conclusions. Taking the given statements to be true even if they seem to be at variance from commonly known facts, read all the conclusions and then decide which of the given conclusion logically follows the given statements.

Statements:

- I. No book is copy.
- II. Some books are pens.

Conclusions:

- I. Some books are copies.
- II. No pen is copy.

नीचे दिए गए प्रश्न में कुछ कथन और उनके बाद उन कथनों पर आधारित कुछ निष्कर्ष दिए गए हैं, हालांकि उनमें सामान्य ज्ञात तथ्यों से भिन्नता हो सकती है। सभी निष्कर्ष पढ़ें और फिर निर्धारित करें कि दिए गए कौन से निष्कर्ष, दिए गए कथनों के आधार पर युक्तिसंगत हैं।

कथन:

- I. कोई पुस्तक कॉपी नहीं है।
- II. कुछ पुस्तकें कलम हैं।

निष्कर्ष:

- I. कुछ पुस्तकें कॉपियाँ हैं।
- II. कोई कलम कॉपी नहीं है।

Options:

- 1) Only conclusion (I) follows.
केवल निष्कर्ष (I) सही है।
- 2) Only conclusion (II) follows.
केवल निष्कर्ष (II) सही है।
- 3) Both conclusion follow.
दोनों ही निष्कर्ष सही हैं।
- 4) Neither conclusion (I) nor conclusion (II) follows.
न तो निष्कर्ष (I) न ही निष्कर्ष (II) सही है।

Correct Answer: Neither conclusion (I) nor conclusion (II) follows.

न तो निष्कर्ष (I) न ही निष्कर्ष (II) सही है।

Candidate Answer: Neither conclusion (I) nor conclusion (II) follows.

न तो निष्कर्ष (I) न ही निष्कर्ष (II) सही है।

QID : 24 - In a certain code language, "STALL" is written as "46933" and "TRUFLE" is written as "672035". How is "TURTLE" written in that code language?

एक विशिष्ट कोड भाषा में, "STALL" को "46933" तथा "TRUFLE" को "672035" लिखा जाता है। इस कोड भाषा में "TURTLE" को किस प्रकार लिखा जाएगा?

Options:

- 1) 762536
- 2) 635762
- 3) 627635
- 4) 26536

Correct Answer: 627635

Candidate Answer: 627635

QID : 25 - In a certain code language, "TURN" is written as "70" and "FUEL" is written as "41". How is "LURE" written in that code language?

एक विशिष्ट कोड भाषा में, "TURN" को "70" तथा "FUEL" को "41" लिखा जाता है। इस कोड भाषा में "LURE" को किस प्रकार लिखा जाएगा?

Options:

- 1) 52
- 2) 50
- 3) 49
- 4) 53

Correct Answer: 53

Candidate Answer: 53

QID : 26 - What least number should be added to 41116, so that the sum is completely divisible by 8?

41116 में कम से कम कितनी संख्या जोड़ी जानी चाहिए कि योगफल 8 से पूर्णतः विभाज्य हो जाए?

Options:

- 1) 4
- 2) 5
- 3) 8
- 4) 12

Correct Answer: 4

Candidate Answer: 4

QID : 27 - A divisor is 10 times the quotient and 5 times the remainder. If the remainder is 46, what is the dividend?

एक भाजक, भागफल का 10 गुना और शेष का 5 गुना है। यदि शेष 46 है, तो भाज्य क्या है?

Options:

- 1) 4236
- 2) 4306
- 3) 4336
- 4) 5336

Correct Answer: 5336

Candidate Answer: 5336

QID : 28 - When a number is divided by 24, the remainder is 16. If the same number is divided by 12, what will be the remainder?

जब किसी संख्या को 24 से भाग दिया जाता है, तो शेष 16 है। यदि उसी संख्या को 12 से भाग दिया जाता है, तो शेष क्या होगा?

Options:

- 1) 3
- 2) 4
- 3) 6
- 4) 8

Correct Answer: 4

Candidate Answer: 4

QID : 29 - What is the smallest number of 5-digits, which is completely divisible by 476?

5 अंकों की सबसे छोटी संख्या क्या है, जो 476 से पूर्णतः विभाज्य है?

Options:

- 1) 10004
- 2) 10472
- 3) 10476
- 4) 47600

Correct Answer: 10472

Candidate Answer: 10472

QID : 30 - If the sum of two numbers be multiplied by each number separately, the products so obtained are 247 and 114. What is the sum of the numbers?

यदि दो संख्याओं के योग को प्रत्येक संख्या से अलग-अलग गुणा किया जाता है, तो प्राप्त गुणनफल 247 और 114 हैं। संख्याओं का क्या योग है?

Options:

- 1) 19
- 2) 20
- 3) 21
- 4) 23

Correct Answer: 19

Candidate Answer: [NOT ANSWERED]

QID : 31 - The sum of a natural number and its square, equals the product of the first three prime numbers. The number is _____.

किसी प्राकृत संख्या और उसके वर्ग का योग, प्रथम तीन अभाज्य संख्याओं के गुणनफल के बराबर है। वह संख्या _____ है।

Options:

- 1) 2
- 2) 3
- 3) 5
- 4) 6

Correct Answer: 5

Candidate Answer: 5

QID : 32 - A can do a piece of work in 12 hours, while B can do it in 8 hours. If A and B both work together, so in how many hours the work will be completed?

A किसी काम को 12 घंटे में पूरा कर सकता है, जबकि B उसे 8 घंटे में पूरा कर सकता है। यदि A और B दोनों साथ मिलकर काम करते हैं, तो कितने घंटे में काम पूरा हो जाएगा?

Options:

1) 10 hours

10 घंटे

2) 4 hours

4 घंटे

3) 5 hours 15 minutes

5 घंटे 15 मिनट

4) 4 hours 48 minutes

4 घंटे 48 मिनट

Correct Answer: 4 hours 48 minutes

4 घंटे 48 मिनट

Candidate Answer: 4 hours 48 minutes

4 घंटे 48 मिनट

QID : 33 - 18 boys can do a piece of work in 24 days. In how many days can 27 boys do the same work?

18 लड़के किसी काम को 24 दिनों में पूरा कर सकते हैं। 27 लड़के उसी काम को कितने दिनों में पूरा कर सकते हैं?

Options:

1) 16 days

16 दिन

2) 32 days

32 दिन

3) 23 days

23 दिन

4) 48 days

48 दिन

Correct Answer: 16 days

16 दिन

Candidate Answer: 16 days

16 दिन

QID : 34 - The volume of a solid hemisphere is 19404 cm^3 . What will be its total surface area?किसी ठोस अर्ध-गोले का आयतन 19404 से.मी.^3 है। इसके सम्पूर्ण पृष्ठ क्षेत्रफल क्या होगा?**Options:**1) 4158 cm^2 4158 से.मी^2 2) 2858 cm^2 2858 से.मी^2 3) 1738 cm^2 1738 से.मी^2 4) 2038 cm^2 2038 से.मी^2 **Correct Answer:** 4158 cm^2 4158 से.मी^2 **Candidate Answer:** [NOT ANSWERED]**QID : 35** - A dealer marks his goods at 25% above the cost price and allows a discount of 10% for cash payment. What percentage of profit will the dealer have?

एक विक्रेता अपने सामान पर मूल्य, क्रय मूल्य से 25% अधिक अंकित करता है और नकद भुगतान पर 10% की छूट देता है। विक्रेता को कितने प्रतिशत का लाभ होगा?

Options:

1) 17.5%

2) 15%

3) 12.5%

4) 20%

Correct Answer: 12.5%**Candidate Answer:** 12.5%**QID : 36** - The average of five numbers is 27. If one number is excluded, the average becomes 25. What is the excluded number?

पांच संख्याओं का औसत 27 है। यदि एक संख्या बाहर कर दी जाती है, तो औसत 25 हो जाता है। बाहर की गई संख्या क्या है?

Options:

1) 25

2) 27

3) 30

4) 35

Correct Answer: 35**Candidate Answer:** 35**QID : 37** - The ratio of the ages of Meena and Meera is 4 : 3 and the sum of their ages is 28 years. What will be the ratio of their ages after 8 years?

मीना और मीरा की आयु का अनुपात 4 :

Options:

- 1) 4 : 3
- 2) 12 : 11
- 3) 7 : 4
- 4) 6 : 5

Correct Answer: 6 : 5

Candidate Answer: 6 : 5

QID : 38 - The annual incomes of A and B are in the ratio of 4 : 3 and the ratio of their expenditures is 3 : 2. If each of them saves Rs 600 in the year, then what is the annual income of A?

A और B की वार्षिक आय 4 : 3 के अनुपात में है और उनके खर्च का अनुपात 3 : 2 है। यदि उनमें से प्रत्येक साल में 600 रु बचत करता है, तो A की वार्षिक आय कितनी है?

Options:

- 1) Rs. 4800
4800 रु
- 2) Rs. 1800
1800 रु
- 3) Rs. 1200
1200 रु
- 4) Rs. 2400
2400 रु

Correct Answer: Rs. 2400

2400 रु

Candidate Answer: Rs. 2400

2400 रु

QID : 39 - What is the average of all even natural numbers upto 100?

100 तक की सभी सम प्राकृत संख्याओं का औसत कितना है?

Options:

- 1) 50
- 2) 51
- 3) 25.5
- 4) No option is correct.
कोई भी विकल्प सही नहीं है

Correct Answer: 51

Candidate Answer: 51

QID : 40 - While selling a watch a shopkeeper gives a discount of 5%. If he gives a discount of 7%, he earns Rs 150 less as profit. What is the marked price of the watch?

एक घड़ी बेचने के दौरान एक दूकानदार 5% की छूट देता है। यदि वह 7% की छूट देता है, तो वह 150 रु कम लाभ कमाता है। घड़ी का अंकित मूल्य क्या है?

Options:

- 1) Rs. 6975
6975 रु
- 2) Rs. 7125
7125 रु
- 3) Rs. 7875
7875 रु
- 4) Rs. 7500
7500 रु

Correct Answer: Rs. 7500

7500 रु

Candidate Answer: Rs. 7500

7500 रु

QID : 41 - A sofa set carrying a sale price ticket of Rs 5000 is sold at a discount of 4%, thereby gaining 20%. What is the trader's cost price of the sofa set?

5000 रु विक्रय मूल्य की पर्ची लगी एक सोफा सेट 4% छूट पर बेचा जाता है, जिससे 20% लाभ होता है। सोफा सेट पर व्यापारी का क्रय मूल्य क्या है?

Options:

- 1) Rs. 3600
3600 रु
- 2) Rs. 3800
3800 रु
- 3) Rs. 4000
4000 रु
- 4) Rs. 4200
4200 रु

Correct Answer: Rs. 4000

4000 रु

Candidate Answer: Rs. 4000
4000 रु

QID : 42 - 31% of employees pay tax in the year 2016. Non-tax paying employees are 20700. What are the total number of employees in the company?

किसी कंपनी में वर्ष 2016 में 31% कर्मचारियों ने कर का भुगतान किया। गैर-कर भुगतान कर्मचारी 20700 हैं। कंपनी में कर्मचारियों की कुल संख्या क्या है?

Options:

- 1) 31160
- 2) 64750
- 3) 30000
- 4) 66775

Correct Answer: 30000

Candidate Answer: 30000

QID : 43 - If X earns 25% more than Y, what percent less does Y earn than X?

यदि X, Y से 25% अधिक कमाता है, तो Y, X से कितने प्रतिशत कम कमाता है?

Options:

- 1) 16%
- 2) 10%
- 3) 20%
- 4) 25%

Correct Answer: 20%

Candidate Answer: 20%

QID : 44 - A train covers a distance in 50 minutes if it runs at a uniform speed of 48 km/hr. What will be the speed at which the train must run to reduce the time of journey to 40 minutes?

एक ट्रेन किसी दूरी को 50 मिनट में तय करती है यदि वह 48 किमी/घंटा की एक समान गति से चलती है। यात्रा के समय को 40 मिनट करने के लिए ट्रेन को किस गति से चलना चाहिए?

Options:

- 1) 50 km/hr
50 किमी/घंटा
- 2) 55 km/hr
55 किमी/घंटा
- 3) 60 km/hr
60 किमी/घंटा
- 4) 70 km/hr
70 किमी/घंटा

Correct Answer: 60 km/hr

60 किमी/घंटा

Candidate Answer: 60 km/hr

60 किमी/घंटा

QID : 45 - A man travelled a distance of 80 km in 7 hrs, partly on foot at the rate of 8 km/hr and partly on bicycle at 16 km/hr. What is the distance travelled on the foot?

एक आदमी 7 घंटे में 80 किमी की दूरी, आंशिक रूप से 8 किमी/घंटा की दर से पैदल चलकर और आंशिक रूप से 16 किमी/घंटे की दर से साइकिल से तय करता है। पैदल चलकर तय की गई दूरी कितनी है?

Options:

- 1) 32 km
32 किमी
- 2) 48 km
48 किमी
- 3) 36 km
36 किमी
- 4) 44 km
44 किमी

Correct Answer: 32 km

32 किमी

Candidate Answer: 32 km

32 किमी

QID : 46 - Rs 6000 becomes Rs 7200 in 4 years at a certain rate of simple interest. If the rate of interest becomes 1.5 times, then what will be the amount received on the same principal in 5 years?

साधारण ब्याज की एक निश्चित दर से 6000 रु , 4 साल में 7200 रु हो जाती है। यदि ब्याज की दर 1.5 गुना हो जाती है, तो 5 वर्षों में उसी मूलधन पर कितनी धनराशि प्राप्त होगी।

Options:

- 1) Rs. 8000
8000 ₹
- 2) Rs. 8250
8250 ₹
- 3) Rs. 9250
9250 ₹
- 4) Rs. 9000
9000 ₹

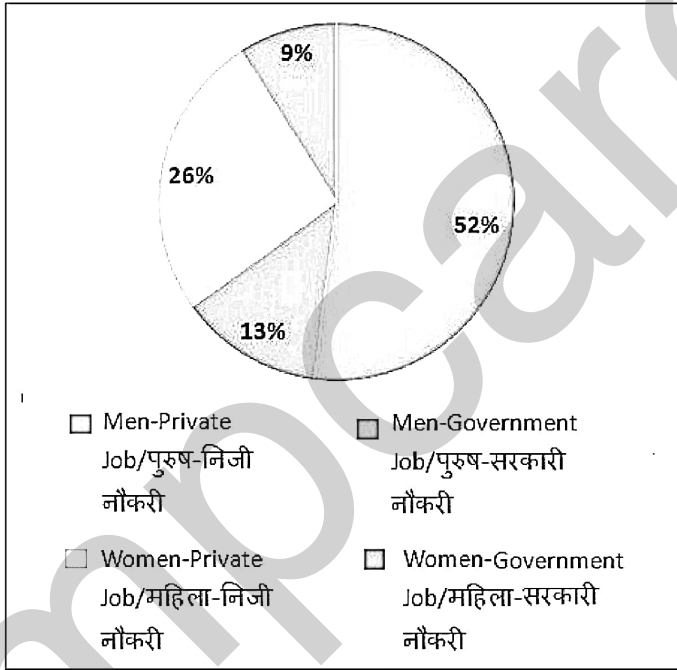
Correct Answer: Rs. 8250
8250 ₹

Candidate Answer: Rs. 8250
8250 ₹

QID : 47 -

The following pie-chart shows the percentage of working males and females in government and private jobs in a city with working population of 21000 people. Answer the question below on the basis of data given in the chart.

नीचे दिए गए पाई चार्ट में किसी शहर के 21000 कामगार पुरुष और महिलाओं के सरकारी और निजी क्षेत्र में नौकरियों का विवरण दिया गया है। निम्नलिखित प्रश्न का उत्तर पाई चार्ट में दर्शाए गए आंकड़ों के आधार पर दें।



How many more working women are in private jobs than the men in government jobs?

निजी क्षेत्र में कामगार महिलाओं की संख्या सरकारी क्षेत्र में काम कर रहे पुरुषों की संख्या से कितनी अधिक है?

Options:

- 1) 2730
- 2) 2840
- 3) 2620
- 4) 1300

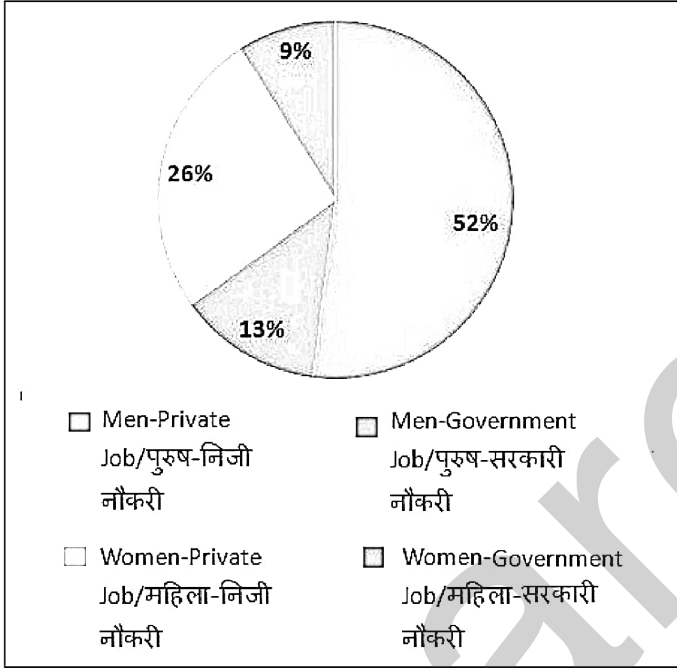
Correct Answer: 2730

Candidate Answer: 2730

QID : 48 -

The following pie-chart shows the percentage of working males and females in government and private jobs in a city with working population of 21000 people. Answer the question below on the basis of data given in the chart.

नीचे दिए गए पाई चार्ट में किसी शहर के 21000 कामगार पुरुष और महिलाओं के सरकारी और निजी क्षेत्र में नौकरियों का वितरण दिया गया है। निम्नलिखित प्रश्न का उत्तर पाई चार्ट में दर्शाए गए आंकड़ों के आधार पर दें।



What is the population of working women in the city?

शहर में कामगार महिलाओं की कुल संख्या क्या है?

Options:

1) 7340

2) 7330

3) 7350

4) 6350

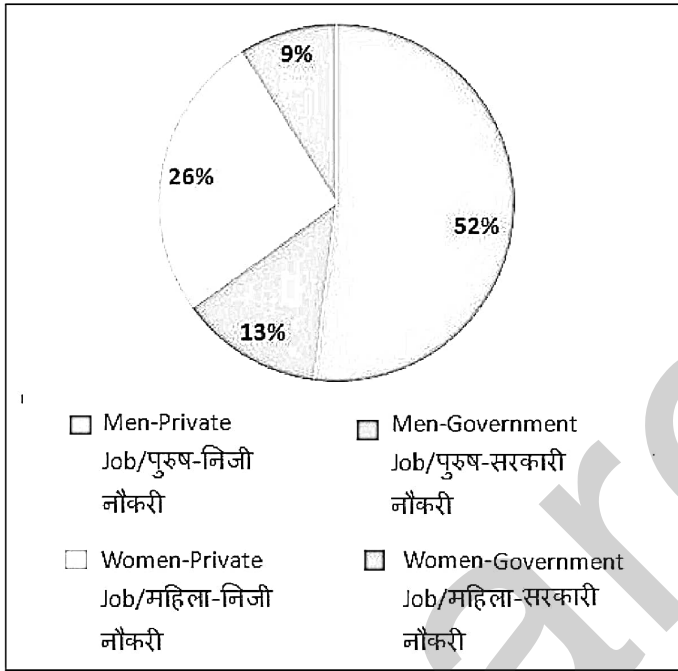
Correct Answer: 7350

Candidate Answer: 6350

QID : 49 -

The following pie-chart shows the percentage of working males and females in government and private jobs in a city with working population of 21000 people. Answer the question below on the basis of data given in the chart.

नीचे दिए गए पाई चार्ट में किसी शहर के 21000 कामगार पुरुष और महिलाओं के सरकारी और निजी क्षेत्र में नौकरियों का वितरण दिया गया है। निम्नलिखित प्रश्न का उत्तर पाई चार्ट में दर्शाए गए आंकड़ों के आधार पर दें।



What is the ratio of men in Private jobs to the women in private jobs?

निजी नौकरियों में पुरुषों और निजी नौकरियों में महिलाओं का अनुपात क्या है?

Options:

- 1) 1 : 2
- 2) 1 : 26
- 3) 2 : 1
- 4) 1 : 3

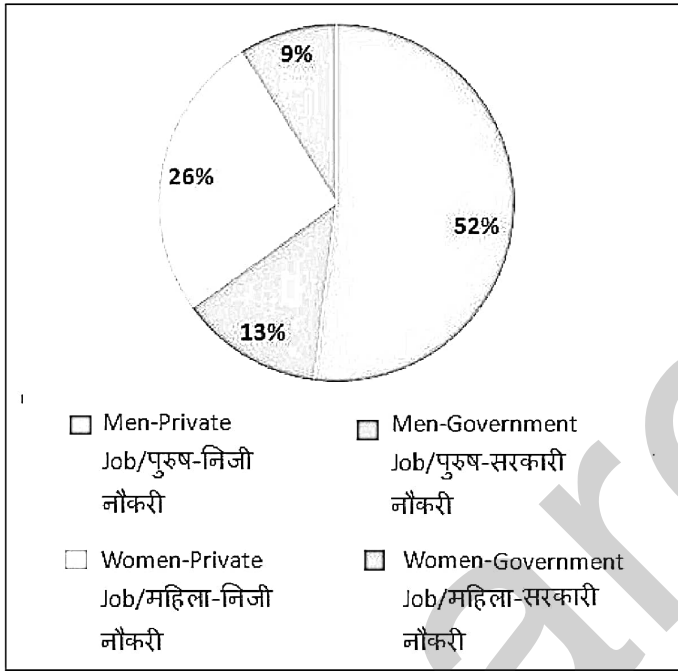
Correct Answer: 1 : 2

Candidate Answer: 2 : 1

QID : 50 -

The following pie-chart shows the percentage of working males and females in government and private jobs in a city with working population of 21000 people. Answer the question below on the basis of data given in the chart.

नीचे दिए गए पाई चार्ट में किसी शहर के 21000 कामगार पुरुष और महिलाओं के सरकारी और निजी क्षेत्र में नौकरियों का वितरण दिया गया है। निम्नलिखित प्रश्न का उत्तर पाई चार्ट में दर्शाए गए आंकड़ों के आधार पर दें।



How many people are in government jobs?

सरकारी नौकरियों में कितने लोग हैं?

Options:

1) 4840

2) 4200

3) 4510

4) 4620

Correct Answer: 4620

Candidate Answer: 4620

QID : 51 - In the following question, some part of the sentence may have errors. Find out which part of the sentence has an error and select the appropriate option. If a sentence is free from error, select 'No Error'.

For more than three years, Anna Feng don't tell her (1)/ husband that she had sunk nearly half of (2)/ their savings into the Shanghai stock market. (3)/ No error (4)

Options:

1) 1

2) 2

3) 3

4) 4

Correct Answer: 1

Candidate Answer: 1

QID : 52 - In the following question, some part of the sentence may have errors. Find out which part of the sentence has an error and select the appropriate option. If a sentence is free from error, select 'No Error'.

However, guidelines for private not-for-profit universities should be made clear, (1)/ simple and transparent to ensure that it are truly not for profit and (2)/ offer a level playing field to all those who might want to set up a private university. (3)/ No error (4)

Options:

1) 1

2) 2

3) 3

4) 4

Correct Answer: 2

Candidate Answer: 2

QID : 53 - In the following question, the sentence given with blank to be filled in with an appropriate word. Select the correct alternative out of the four and indicate it by selecting the appropriate option.

We will _____ all the orders at once.

Options:
1) execute

2) executed

3) executes

4) be executed

Correct Answer: execute

Candidate Answer: execute

QID : 54 - In the following question, the sentence given with blank to be filled in with an appropriate word. Select the correct alternative out of the four and indicate it by selecting the appropriate option.

English is _____ all over the world.

Options:
1) been spoken

2) speaking

3) spoken

4) speaks

Correct Answer: spoken

Candidate Answer: spoken

QID : 55 - In the following question, out of the given four alternatives, select the one which best expresses the meaning of the given word.

Blister

Options:
1) Defend

2) Resist

3) Shield

4) Bubble

Correct Answer: Bubble

Candidate Answer: [NOT ANSWERED]

QID : 56 - In the following question, out of the given four alternatives, select the one which best expresses the meaning of the given word.

Erudite

Options:
1) Learned

2) Ignorant

3) Uncultured

4) Stupid

Correct Answer: Learned

Candidate Answer: Learned

QID : 57 - In the following question, out of the given four alternatives, select the one which best expresses the meaning of the given word.

Duo

Options:
1) One

2) Pair

3) Single

4) Triplet

Correct Answer: Pair

Candidate Answer: Pair

QID : 58 - In the following question, out of the given four alternatives, select the one which is opposite in meaning of the given word.

Retreat

Options:

- 1) Avoid
- 2) Advance
- 3) Back
- 4) Depart

Correct Answer: Advance

Candidate Answer: Advance

QID : 59 - In the following question, out of the given four alternatives, select the one which is opposite in meaning of the given word.

Argue

Options:

- 1) Cross
- 2) Buck
- 3) Agree
- 4) Altercate

Correct Answer: Agree

Candidate Answer: Agree

QID : 60 - In the following question, out of the given four alternatives, select the one which is opposite in meaning of the given word.

Amuse

Options:

- 1) Bore
- 2) Cheer
- 3) Delight
- 4) Divert

Correct Answer: Bore

Candidate Answer: Bore

QID : 61 - In the following question, out of the four given alternatives, select the alternative which best expresses the meaning of the Idiom/Phrase.

Bite off more than you can chew

Options:

- 1) To take on a task that is too big to handle
- 2) To gulp everything
- 3) To eat big bites
- 4) To bite someone sadly

Correct Answer: To take on a task that is too big to handle

Candidate Answer: To take on a task that is too big to handle

QID : 62 - In the following question, out of the four given alternatives, select the alternative which best expresses the meaning of the Idiom/Phrase.

Call it a day

Options:

- 1) To declare the end of a task
- 2) To call someone
- 3) Delay calling
- 4) To sue someone

Correct Answer: To declare the end of a task

Candidate Answer: To declare the end of a task

QID : 63 - Improve the bracketed part of the sentence.

One quickly realizes that the trends in technology **(have)** leaving our students behind.

Options:

- 1) are
- 2) were
- 3) might
- 4) No improvement

Correct Answer: are

Candidate Answer: are

QID : 64 - Improve the bracketed part of the sentence.

The age excuse of being too old comes from an inclination to identify (**oneself**) with the number of trips you have made around the sun.

Options:

- 1) theyself
- 2) itself
- 3) yourself
- 4) No improvement

Correct Answer: yourself

Candidate Answer: yourself

QID : 65 - In the following question, out of the four given alternatives, select the alternative which is the best substitute of the phrase.

To give up a throne voluntarily.

Options:

- 1) Fortunate
- 2) Abdicate
- 3) Duplicate
- 4) Alliterated

Correct Answer: Abdicate

Candidate Answer: Abdicate

QID : 66 - In the following question, out of the four given alternatives, select the alternative which is the best substitute of the phrase.

Which does not favour any one religion.

Options:

- 1) Spectacular
- 2) Vernacular
- 3) Secular
- 4) Articular

Correct Answer: Secular

Candidate Answer: Secular

QID : 67 - In the following question, a word has been written in four different ways out of which only one is correctly spelt. Select the correctly spelt word.

Options:

- 1) Buoyant
- 2) Bouyant
- 3) Boyent
- 4) Buoyent

Correct Answer: Buoyant

Candidate Answer: Buoyant

QID : 68 - In the following question, a word has been written in four different ways out of which only one is correctly spelt. Select the correctly spelt word.

Options:

- 1) Chripe
- 2) Chirpy
- 3) Chirpie
- 4) Chirepee

Correct Answer: Chirpy

Candidate Answer: Chirpy

QID : 69 - Rearrange the parts of the sentence in correct order.

Ludhiana is

P: city in Punjab

Q: more populated

R: than any other

Options:

- 1) PQR
- 2) RQP
- 3) PRQ
- 4) QRP

Correct Answer: QRP

Candidate Answer: QRP

QID : 70 - Rearrange the parts of the sentence in correct order.

All that I

P: that you had

Q: better revise this essay

R: wish to tell you is

Options:

1) PQR

2) RQP

3) QRP

4) RPQ

Correct Answer: RPQ

Candidate Answer: RPQ

QID : 71 - In the following passage some of the words have been left out. Read the passage carefully and select the correct answer for the given blank out of the four alternatives.

"United we stand, divided we _____" is the famous proverb that almost _____ knows. It means that people who are united are the happy people and can _____ any goal in life; but if we keep on fighting and stay away from each other, we fail. Unity _____ great significance in every phase of our lives, be it personal or professional. In sports, at office, in family; everywhere happiness and success are the _____ of unity.

divided we _____"

Options:

1) fall

2) stand

3) rise

4) progress

Correct Answer: fall

Candidate Answer: fall

QID : 72 - In the following passage some of the words have been left out. Read the passage carefully and select the correct answer for the given blank out of the four alternatives.

"United we stand, divided we _____" is the famous proverb that almost _____ knows. It means that people who are united are the happy people and can _____ any goal in life; but if we keep on fighting and stay away from each other, we fail. Unity _____ great significance in every phase of our lives, be it personal or professional. In sports, at office, in family; everywhere happiness and success are the _____ of unity.

that almost _____ knows.

Options:

1) all

2) everyone

3) each

4) none

Correct Answer: everyone

Candidate Answer: everyone

QID : 73 - In the following passage some of the words have been left out. Read the passage carefully and select the correct answer for the given blank out of the four alternatives.

"United we stand, divided we _____" is the famous proverb that almost _____ knows. It means that people who are united are the happy people and can _____ any goal in life; but if we keep on fighting and stay away from each other, we fail. Unity _____ great significance in every phase of our lives, be it personal or professional. In sports, at office, in family; everywhere happiness and success are the _____ of unity.

can _____ any goal in life;

Options:

1) believe

2) retrieve

3) achieve

4) conceive

Correct Answer: achieve

Candidate Answer: achieve

QID : 74 - In the following passage some of the words have been left out. Read the passage carefully and select the correct answer for the given blank out of the four alternatives.

"United we stand, divided we _____" is the famous proverb that almost _____ knows. It means that people who are united are the happy people and can _____ any goal in life; but if we keep on fighting and stay away from each other, we fail. Unity _____ great significance in every phase of our lives, be it personal or professional. In sports, at office, in family; everywhere happiness and success are the _____ of unity.

Unity _____ great significance

Options:

1) folds

2) bold

3) sold

4) holds

Correct Answer: holds**Candidate Answer:** holds

QID : 75 - In the following passage some of the words have been left out. Read the passage carefully and select the correct answer for the given blank out of the four alternatives.

"United we stand, divided we _____" is the famous proverb that almost _____ knows. It means that people who are united are the happy people and can _____ any goal in life; but if we keep on fighting and stay away from each other, we fail. Unity _____ great significance in every phase of our lives, be it personal or professional. In sports, at office, in family; everywhere happiness and success are the _____ of unity.

_____ success are the _____ of unity.

Options:

1) cause

2) affects

3) cost

4) result

Correct Answer: result**Candidate Answer:** result

QID : 76 - The epitome of Indian music is called _____.

भारतीय संगीत का आदिग्रंथ कहा जाता है _____।

Options:

1) Rig Veda

ऋग्वेद

2) Upanishad

उपनिषद्

3) Yajurveda

यजुर्वेद

4) Samaveda

सामवेद

Correct Answer: Samaveda

सामवेद

Candidate Answer: Samaveda

सामवेद

QID : 77 - In which language and script most of the Ashoka's records were written?

अशोक के अधिकांश अभिलेख किस भाषा व लिपि में हैं ?

Options:

1) Prakrit and Brahmi

प्राकृत व ब्राह्मी

2) Sanskrit and Brahmi

संस्कृत व ब्राह्मी

3) Pali and Brahmi

पालि व ब्राह्मी

4) No option is correct

कोई भी विकल्प सही नहीं है

Correct Answer: Prakrit and Brahmi

प्राकृत व ब्राह्मी

Candidate Answer: Prakrit and Brahmi

प्राकृत व ब्राह्मी

QID : 78 - Which volcano erupts most often?

किस ज्वालामुखी में अक्सर उद्गार होती है ?

Options:

- 1) Active volcano
जाग्रत ज्वालामुखी
- 2) Dormant volcano
प्रसुप्त ज्वालामुखी
- 3) Dead volcano
मृत ज्वालामुखी
- 4) Inactive volcano
शांत ज्वालामुखी

Correct Answer: Active volcano
जाग्रत ज्वालामुखी

Candidate Answer: Active volcano
जाग्रत ज्वालामुखी

QID : 79 - Where does the El-Nino current occurs?

एल-निनो जलधारा कहाँ प्रकट होती है ?

Options:

- 1) On the coast of Brazil
ब्राजील के तट पर
- 2) On the coast of Peru
पेरू के तट पर
- 3) On the coast of Alaska
अलास्का के तट पर
- 4) On the coast of west Australia
पश्चिमी आस्ट्रेलिया के तट पर

Correct Answer: On the coast of Peru
पेरू के तट पर

Candidate Answer: [NOT ANSWERED]

QID : 80 - A Republic is _____.

गणतंत्र होता है _____।

Options:

- 1) Only a democratic state
केवल एक लोकतांत्रिक राज्य
- 2) Presidential system governing state
अध्यक्षीय पद्धति शासन वाला राज्य
- 3) Parliamentary system governing state
संसदीय पद्धति शासन वाला राज्य
- 4) State where the President is not as an inherited
राज्य जहाँ पर अध्यक्ष वंशागुप्त रूप से न हो

Correct Answer: State where the President is not as an inherited
राज्य जहाँ पर अध्यक्ष वंशागुप्त रूप से न हो

Candidate Answer: Parliamentary system governing state
संसदीय पद्धति शासन वाला राज्य

QID : 81 - In which part of the Indian Constitution are the Directive Principles of State policy mentioned?

संविधान के किस भाग में नीति निर्देशक तत्वों का उल्लेख किया गया है ?

Options:

- 1) In the third part
तृतीय भाग में
- 2) In the fourth part
चतुर्थ भाग में
- 3) In the second part
द्वितीय भाग में
- 4) In the ninth part
नवम भाग में

Correct Answer: In the fourth part
चतुर्थ भाग में

Candidate Answer: In the fourth part
चतुर्थ भाग में

QID : 82 - What is the reason for the currency inflation?

मुद्रा-स्फीति किस कारण से होती है ?

Options:

1) Production declines

उत्पादन में हास

2) Growth in currency supply and declining production

मुद्रा पूर्ति में वृद्धि तथा उत्पादन में हास

3) Increase in currency supply

मुद्रा पूर्ति में वृद्धि

4) Increase in production

उत्पादन में वृद्धि

Correct Answer: Increase in currency supply

मुद्रा पूर्ति में वृद्धि

Candidate Answer: Growth in currency supply and declining production

मुद्रा पूर्ति में वृद्धि तथा उत्पादन में हास

QID : 83 - Highest organization for industrial finance in India is _____.

भारत में औद्योगिक वित्त का शिखर संगठन है _____।

Options:

1) I.D.B.I

2) R.B.I

3) I.C.I.C.I

4) I.F.C.I

Correct Answer: I.D.B.I

Candidate Answer: I.F.C.I

QID : 84 - The Isotones are _____.

आइसोटोन (Isotones) होते हैं _____।

Options:

1) Equal number of protons

समान संख्या में प्रोटॉन

2) Equal number of neutrons

समान संख्या में न्यूट्रॉन

3) Equal number of nuclei

समान संख्या में न्यूक्लियस

4) No option is correct

कोई विकल्प सही नहीं है

Correct Answer: Equal number of neutrons

समान संख्या में न्यूट्रॉन

Candidate Answer: Equal number of neutrons

समान संख्या में न्यूट्रॉन

QID : 85 - The pH value of acidic solution is _____.

अल्मीय घोल का pH मान होता है _____।

Options:

1) 7

2) Less than 7

7 से कम

3) More than 7

7 से अधिक

4) 14

Correct Answer: Less than 7

7 से कम

Candidate Answer: Less than 7

7 से कम

QID : 86 - The man climbing a mountain leans forward because _____.

पहाड़ी पर चढ़ता एक व्यक्ति आगे की ओर झुक जाता है क्योंकि _____।

Options:

1) of speeding up

तेज चल सके

2) of reducing the chances of sliding

फिसलने की सम्भावना कम हो जाये

3) for power conservation

शक्ति संरक्षण हेतु

4) to increase stability

स्थायित्व बढ़ाने के लिए

Correct Answer: to increase stability
स्थायित्व बढ़ाने के लिए

Candidate Answer: to increase stability
स्थायित्व बढ़ाने के लिए

QID : 87 - When a stone is brought to the earth from moon then its _____.

जब एक पत्थर को चंद्र की सतह से पृथ्वी पर लाया जाता है तो _____।

Options:

1) mass will change

इसका द्रव्यमान बदल जायेगा

2) weight will change but not the mass

इसका भार बदल जायेगा परन्तु द्रव्यमान नहीं

3) both weight and mass will change

भार और द्रव्यमान दोनों बदल जायेंगे

4) no mass or weight will change

न द्रव्यमान और न ही भार बदलेंगे

Correct Answer: weight will change but not the mass

इसका भार बदल जायेगा परन्तु द्रव्यमान नहीं

Candidate Answer: weight will change but not the mass

इसका भार बदल जायेगा परन्तु द्रव्यमान नहीं

QID : 88 - Which one of the following is **NOT** an example of a true fruit?

निम्नलिखित में कौन एक सही मायने में फल का उदाहरण नहीं है?

Options:

1) Apple

सेब

2) Guava

अमरुद

3) Mango

आम

4) tomatoes

टमाटर

Correct Answer: Apple

सेब

Candidate Answer: Apple

सेब

QID : 89 - Cutting and displacement of land by the action of water and wind is called _____.

वायु एवं जल की क्रिया द्वारा भूमि का कटाव कहलाता है _____।

Options:

1) Erosion

अपरदन

2) Fossilization

जीवाश्मीकरण

3) Calibration

कैलिब्रेशन

4) Salination

लवणन

Correct Answer: Erosion

अपरदन

Candidate Answer: Erosion

अपरदन

QID : 90 - Silk farming is called _____.

रेशम पालन कहलाता है _____।

Options:

1) Epiculture

एपीकल्चर

2) Sericulture

सेरीकल्चर

3) Pisciculture

पीसीकल्चर

4) Horticulture

हॉर्टीकल्चर

Correct Answer: Sericulture

सेरीकल्चर

Candidate Answer: Sericulture
सेरीकल्चर

QID : 91 - Which of the following is the largest compounding of Solar energy?

सौर ऊर्जा का सबसे बड़ा योगिकीकरण इनमें से कौन है ?

Options:

- 1) Bacteria
बैक्टीरिया
- 2) Protozoa
प्रोटोजोआ
- 3) Fungus
कवक
- 4) Green plants
हरे पौधे

Correct Answer: Green plants
हरे पौधे

Candidate Answer: Green plants
हरे पौधे

QID : 92 - Oracle is _____.

ओरेकल है _____।

Options:

- 1) An operating system
एक प्रचालन तंत्र
- 2) Word processing software
शब्द संसाधक सॉफ्टवेयर
- 3) Database software
डाटाबेस सॉफ्टवेयर
- 4) No option is correct.
कोई भी विकल्प सही नहीं है।

Correct Answer: Database software
डाटाबेस सॉफ्टवेयर

Candidate Answer: [NOT ANSWERED]

QID : 93 - How many number of players are there on one side in Rugby Football?

रग्बी फुटबॉल में प्रत्येक पक्ष में खिलाड़ियों की संख्या कितनी होती है ?

Options:

- 1) 15
- 2) 16
- 3) 12
- 4) 11

Correct Answer: 15

Candidate Answer: [NOT ANSWERED]

QID : 94 - For which book did Arundhati Roy receive the Booker Prize?

अरुंधती राय को किस पुस्तक के बुकर पुरस्कार प्राप्त हुआ था?

Options:

- 1) The End of Imagination
द एंड ऑफ़ इमेजिनेशन
- 2) Kashmir: The Case for Freedom
कश्मीर: द केस फॉर फ्रीडम
- 3) The God of Small Things
द गॉड ऑफ़ स्मॉल थिंग्स
- 4) The Ministry of Utmost Happiness
द मिनिस्ट्री ऑफ़ अटमोस्ट हैप्पीनेस

Correct Answer: The God of Small Things
द गॉड ऑफ़ स्मॉल थिंग्स

Candidate Answer: The God of Small Things
द गॉड ऑफ़ स्मॉल थिंग्स

QID : 95 - Who is the brand ambassador of "Darwaza Band" campaign?

"दरवाज़ा बन्द" अभियान का ब्रांड अम्बेसडर इन में से कौन है?

Options:

- 1) Aamir Khan
आमिर खान
- 2) Ranveer Kapoor
रणवीर कपूर
- 3) Amitabh Bachchan
अमिताभ बच्चन
- 4) Salman Khan
सलमान खान

Correct Answer: Amitabh Bachchan
अमिताभ बच्चन

Candidate Answer: Amitabh Bachchan
अमिताभ बच्चन

QID : 96 - Who invented the Triode bulb?

ट्रायोड बल्ब का आविष्कार किसने किया था?

Options:

- 1) Rutherford
रदरफोर्ड
- 2) Madam Curie
मैडम क्यूरी
- 3) Fox Talbot
फॉक्स टालबॉट
- 4) Lee de Forest
ली डि फ़ॉरेस्ट

Correct Answer: Lee de Forest
ली डि फ़ॉरेस्ट

Candidate Answer: [NOT ANSWERED]

QID : 97 - To which state is the Kangra school of painting related?

कांगड़ा चित्रकला शैली का संबंध किस राज्य से है?

Options:

- 1) Rajasthan
राजस्थान
- 2) Himachal Pradesh
हिमाचल प्रदेश
- 3) Jammu and Kashmir
जम्मू-कश्मीर
- 4) Punjab
पंजाब

Correct Answer: Himachal Pradesh
हिमाचल प्रदेश

Candidate Answer: Himachal Pradesh
हिमाचल प्रदेश

QID : 98 - Which of the following award is **NOT** related to the field of sports?

निम्नलिखित में से कौन-सा पुरस्कार खेलकूद के क्षेत्र से सम्बन्धित नहीं है?

Options:

- 1) Arjuna Award
अर्जुन पुरस्कार
- 2) Dronacharya Award
द्रोणाचार्य पुरस्कार
- 3) Dhyan Chand Awards
ध्यानचंद पुरस्कार
- 4) Norman Borlaug award
नॉर्मन बोरलॉग पुरस्कार

Correct Answer: Norman Borlaug award
नॉर्मन बोरलॉग पुरस्कार

Candidate Answer: Norman Borlaug award
नॉर्मन बोरलॉग पुरस्कार

QID : 99 - Which country will host the meeting of Commonwealth Heads of Government (CHOGM) in 2018?

वर्ष 2018 में राष्ट्रमंडल देशों के शासनाध्यक्षों की बैठक (CHOGM) की मेजबानी किस देश द्वारा की जाएगी?

Options:

1) Britain

ब्रिटेन

2) India

भारत

3) Australia

ऑस्ट्रेलिया

4) Malaysia

मलेशिया

Correct Answer: Britain

ब्रिटेन

Candidate Answer: [NOT ANSWERED]

QID : 100 - What is the national game of Bhutan?

भूटान का राष्ट्रीय खेल क्या है?

Options:

1) Archery

तीरंदाजी

2) Mountaineering

पर्वतारोहण

3) Skiing

स्कीइंग

4) Football

फुटबॉल

Correct Answer: Archery

तीरंदाजी

Candidate Answer: [NOT ANSWERED]