

**QID : 201 -**

In the following question, select the number which can be placed at the sign of question mark (?) from the given alternatives.

निम्नलिखित प्रश्न में दिए गए विकल्पों में से प्रश्न चिह्न (?) के स्थान पर आने वाली संख्या को चुनिए।

1	3
2	36

2	3
4	81

4	1
6	?

**Options:**

- 1) 121
- 2) 100
- 3) 89
- 4) 113

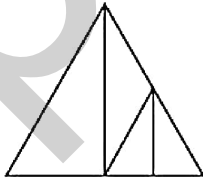
**Correct Answer:** 121

**Candidate Answer:** 121

**QID : 202 -**

How many triangles are there in the given figure?

दी गई आकृति में कितने त्रिभुज हैं?



**Options:**

- 1) 5
- 2) 7
- 3) 8
- 4) 9

**Correct Answer:** 7

**Candidate Answer:** 7

**QID : 203 -**

A word is represented by only one set of numbers as given in any one of the alternatives. The sets of numbers given in the alternatives are represented by two classes of alphabets as shown in the given two matrices. The columns and rows of **Matrix-I** are numbered from 0 to 4 and that of **Matrix-II** are numbered from 5 to 9. A letter from these matrices can be represented first by its row and next by its column, for example, 'D' can be represented by 02, 79, etc., and 'Z' can be represented by 00, 77, etc. Similarly, you have to identify the set for the word "MAKE".

एक शब्द केवल एक संख्या-समूह द्वारा दर्शाया गया है, जैसा कि विकल्पों में से किसी एक में दिया गया है। विकल्पों में दिए गए संख्या-समूह अक्षरों के दो वर्गों द्वारा दर्शाए गए हैं, जैसा कि दिए गए दो आव्यूहों में है। आव्यूह-I के स्तम्भ और पंक्ति की संख्या 0 से 4 है और आव्यूह-II की 5 से 9। इन आव्यूहों से एक अक्षर को पहले उसकी पंक्ति और बाद में स्तम्भ संख्या द्वारा दर्शाया जा सकता है। उदाहरण के लिए 'D' को 02, 79 आदि द्वारा दर्शाया जा सकता है तथा 'Z' को 00, 77, आदि द्वारा दर्शाया जा सकता है। इसी तरह से आपको प्रश्न में दिए शब्द "MAKE" के लिए समूह को पहचानना है।

**Matrix-I**  
आव्यूह-I

	0	1	2	3	4
0	Z	C	D	G	M
1	G	A	N	H	V
2	U	O	Y	K	T
3	D	G	M	L	R
4	A	E	U	C	K

**Matrix-II**  
आव्यूह-II

	5	6	7	8	9
5	F	R	O	T	W
6	K	M	J	C	S
7	L	P	Z	Y	D
8	F	E	J	A	N
9	U	W	Q	V	X

**Options:**

- 1) 04, 11, 23, 86
- 2) 11, 40, 45, 23
- 3) 43, 88, 12, 41
- 4) 66, 55, 67, 34

**Correct Answer:** 04, 11, 23, 86

**Candidate Answer:** 04, 11, 23, 86

**QID : 204 -**

From the given answer figures, select the one in which the question figure is hidden/embedded.

दी गई उत्तर आकृतियों में से उस उत्तर आकृति को चुनिए जिस में प्रश्न आकृति निहित है।



Options:

1)



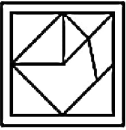
2)



3)



4)



Correct Answer:



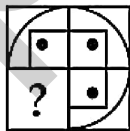
Candidate Answer:



QID : 205 -

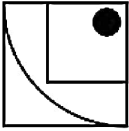
Which answer figure will complete the pattern in the question figure?

कौन सी उत्तर आकृति प्रश्न आकृति के प्रतिरूप को पूरा करेगी?

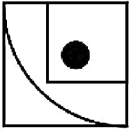


Options:

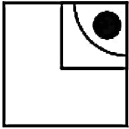
1)



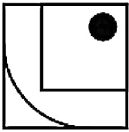
2)



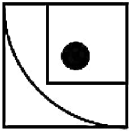
3)



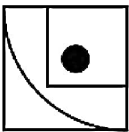
4)



Correct Answer:



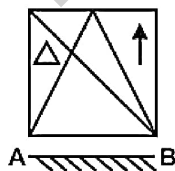
Candidate Answer:



QID : 206 -

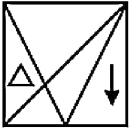
If a mirror is placed on the line AB, then which of the answer figures is the right image of the given figure?

यदि एक दर्पण को AB रेखा पर रखा जाए, तो दी गई उत्तर आकृतियों में से कौन सी आकृति प्रश्न आकृति की सही प्रतिबिम्ब होगी?



Options:

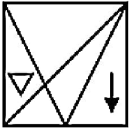
1)



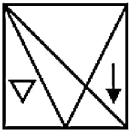
2)



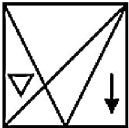
3)



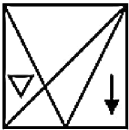
4)



Correct Answer:



Candidate Answer:



QID : 207 -

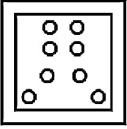
A piece of paper is folded and punched as shown below in the question figures. From the given answer figures, indicate how it will appear when opened?

नीचे के प्रश्न आकृतियों में दिखाए अनुसार कागज को मोड़कर छेदने तथा खोलने के बाद वह किस उत्तर आकृति जैसा दिखाई देगा?

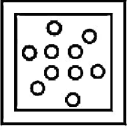


Options:

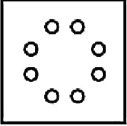
1)



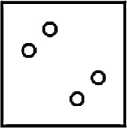
2)



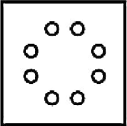
3)



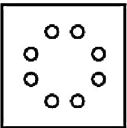
4)



Correct Answer:



Candidate Answer:



QID : 208 - By interchanging which two signs the equation will be correct?

$$4 + 9 \div 18 \times 11 - 6 = 7$$

किन दो चिह्नों को आपस में परस्पर बदलने पर समीकरण सही हो जाएगा?

$$4 + 9 \div 18 \times 11 - 6 = 7$$

Options:

1)  $\times$  and  $\div$

$\times$  तथा  $\div$

2)  $+$  and  $\times$

$+$  तथा  $\times$

3)  $\div$  and  $-$

$\div$  तथा  $-$

4)  $-$  and  $+$

$-$  तथा  $+$

Correct Answer:  $+$  and  $\times$

$+$  तथा  $\times$

Candidate Answer: [ NOT ANSWERED ]

QID : 209 - If  $4 \# 3 @ 1 = 13$  and  $5 \# 2 @ 2 = 12$ , then

$$6 @ 1 \# 4 = ?$$

यदि  $4 \# 3 @ 1 = 13$  तथा  $5 \# 2 @ 2 = 12$  हो, तो

$$6 @ 1 \# 4 = ?$$

Options:

1) 11

2) 10

3) 12

4) 8

Correct Answer: 10

Candidate Answer: 10

**QID : 210** - Arrange the given words in the sequence in which they occur in the dictionary.

1. Modest
2. Monkey
3. Modern
4. Modular
5. Monger

निम्नलिखित शब्दों को शब्दकोश में आने वाले क्रम के अनुसार लिखें।

1. Modest
2. Monkey
3. Modern
4. Modular
5. Monger

**Options:**

1) 34125

2) 31425

3) 34152

4) 31452

**Correct Answer:** 31452

**Candidate Answer:** 31452

**QID : 211** - In the following question, select the missing number from the given series.

**3, 3, 6, 18, 72, ?**

निम्नलिखित प्रश्न में दिए गए विकल्पों में से लुप्त अंक ज्ञात कीजिए।

**3, 3, 6, 18, 72, ?**

**Options:**

1) 320

2) 360

3) 480

4) 540

**Correct Answer:** 360

**Candidate Answer:** 360

**QID : 212** - A series is given with one term missing. Select the correct alternative from the given ones that will complete the series.

**E, H, K, N, Q, ?**

एक अनुक्रम दिया गया है, जिसमें से एक पद लुप्त है। दिए गए विकल्पों में से वह सही विकल्प चुनिए, जो अनुक्रम को पूरा करे।

**E, H, K, N, Q, ?**

**Options:**

1) V

2) T

3) U

4) S

**Correct Answer:** T

**Candidate Answer:** T

**QID : 213** - In the following question, select the odd word from the given alternatives.

निम्नलिखित प्रश्न में दिए गए विकल्पों में से विषम शब्द को चुनिए।

**Options:**

1) Bus

बस

2) Car

कार

3) Truck

ट्रक

4) Aeroplane

हवाई जहाज

**Correct Answer:** Aeroplane

हवाई जहाज

**Candidate Answer:** Aeroplane

हवाई जहाज

**QID : 214** - In the following question, select the odd number pair from the given alternatives.

निम्नलिखित प्रश्न में दिए गए विकल्पों में से

**Options:**

1) 6 - 12

2) 7 - 14

3) 3 - 5

4) 4 - 8

**Correct Answer:** 3 - 5

**Candidate Answer:** 3 - 5

**QID : 215** - In the following question, select the odd letters from the given alternatives.

निम्नलिखित प्रश्न में दिए गए विकल्पों में से विषम अक्षरों को चुनिए।

**Options:**

1) FE

2) NM

3) DC

4) QR

**Correct Answer:** QR

**Candidate Answer:** QR

**QID : 216** - Identify the diagram that best represents the relationship among the given classes.

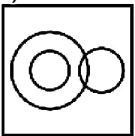
**Milk, Liquid, Pen**

वह आरेख चुनिए जो नीचे दिए गए वर्गों के बीच के संबंध का सही निरूपण करता है।

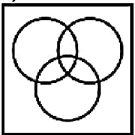
दूध, तरल, कलम

**Options:**

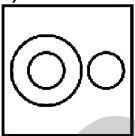
1)



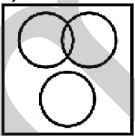
2)



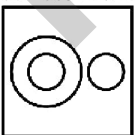
3)



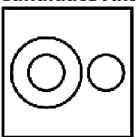
4)



**Correct Answer:**



**Candidate Answer:**



**QID : 217** - In the following question, select the related word from the given alternatives.

**Summer : Hot :: Winter : ?**

निम्नलिखित प्रश्न में दिए गए विकल्पों में से संबंधित शब्द को चुनिए।

ग्रीष्मकाल : गर्मी :: शीतकाल : ?



**Options:**

- 1) Cold  
ठंडा
- 2) Ice  
बर्फ
- 3) Cotton  
कपास
- 4) Jacket  
जैकेट

**Correct Answer:** Cold  
ठंडा

**Candidate Answer:** Cold  
ठंडा

**QID : 218** - In the following question, select the related number from the given alternatives.

**12 : 145 :: 16 : ?**

निम्नलिखित प्रश्न में दिए गए विकल्पों में से संबंधित संख्या को चुनिए।

**12 : 145 :: 16 : ?**

**Options:**

- 1) 255
- 2) 257
- 3) 349
- 4) 423

**Correct Answer:** 257

**Candidate Answer:** 257

**QID : 219** - In the following question, select the related letters from the given alternatives.

**MARKET : TEGRAM :: SATURN : ?**

निम्नलिखित प्रश्न में दिए गए विकल्पों में से संबंधित अक्षरों को चुनिए।

**MARKET : TEGRAM :: SATURN : ?**

**Options:**

- 1) NRUTAS
- 2) NRTUAS
- 3) NRUATS
- 4) NURTAS

**Correct Answer:** NRUTAS

**Candidate Answer:** NRUTAS

**QID : 220** - In the following question, select the word which cannot be formed using the letters of the given word.

**POSSIBILITIES**

निम्नलिखित विकल्पों में से वह शब्द चुनिए जो दिए गए शब्द के अक्षरों का प्रयोग करके नहीं बनाया जा सकता।

**POSSIBILITIES**

**Options:**

- 1) POSTER
- 2) BOSS
- 3) BILE
- 4) SOIL

**Correct Answer:** POSTER

**Candidate Answer:** POSTER

**QID : 221** - From directional perspective, If North is called West, North-West is called South-West and South-West is called South-East, then what will be North-East called as?

दिशा के आधार पर, यदि उत्तर को पश्चिम कहा जाता है, उत्तर-पश्चिम को दक्षिण-पश्चिम कहा जाता है तथा दक्षिण-पश्चिम को दक्षिण-पूर्व कहा जाता है, तो उत्तर-पूर्व को क्या कहा जायेगा?

**Options:**

- 1) West  
पश्चिम
- 2) South-East  
दक्षिण-पूर्व
- 3) North  
उत्तर
- 4) North-West  
उत्तर-पश्चिम

**Correct Answer:** North-West  
उत्तर-पश्चिम

**Candidate Answer:** North-West  
उत्तर-पश्चिम

**QID : 222** - Pointing to a lady, Vikas said "She is the daughter of the wife of my father". How is the lady related to Vikas?

एक महिला की ओर संकेत करते हुए, विकास ने कहा, "वह मेरे पिता की पत्नी की बेटी है?" वह महिला, विकास से किस प्रकार संबंधित है?

**Options:**

- 1) Aunt  
बुआ
- 2) Sister  
बहन
- 3) Daughter  
पुत्री
- 4) Wife  
पत्नी

**Correct Answer:** Sister  
बहन

**Candidate Answer:** Sister  
बहन

**QID : 223** - In the following question below are given some statements followed by some conclusions. Taking the given statements to be true even if they seem to be at variance from commonly known facts, read all the conclusions and then decide which of the given conclusion logically follows the given statements.

**Statements:**

- I. All short are fat.
- II. Some short are fair.

**Conclusions:**

- I. Some fair are fat.
- II. Some fat are fair.

नीचे दिए गए प्रश्न में कुछ कथन और उनके बाद उन कथनों पर आधारित कुछ निष्कर्ष दिए गए हैं, हालांकि उनमें सामान्य ज्ञात तथ्यों से भिन्नता हो सकती है। सभी निष्कर्ष पढ़ें और फिर निर्धारित करें कि दिए गए कौन से निष्कर्ष, दिए गए कथनों के आधार पर युक्तिसंगत हैं।

**कथन:**

- I. सभी छोटे मोटे हैं।
- II. कुछ छोटे गोरे हैं।

**निष्कर्ष:**

- I. कुछ गोरे मोटे हैं।
- II. कुछ मोटे गोरे हैं।

**Options:**

- 1) Only conclusion (I) follows.  
केवल निष्कर्ष (I) सही है।
- 2) Only conclusion (II) follows.  
केवल निष्कर्ष (II) सही है।
- 3) Both conclusion follow.  
दोनों ही निष्कर्ष सही हैं।
- 4) Neither conclusion (I) nor conclusion (II) follows.  
न तो निष्कर्ष (I) न ही निष्कर्ष (II) सही है।

**Correct Answer:** Both conclusion follow.  
दोनों ही निष्कर्ष सही हैं।

**Candidate Answer:** Both conclusion follow.  
दोनों ही निष्कर्ष सही हैं।

**QID : 224** - In a certain code language, "TIMBER" is written as "UKPFJX". How is "TRAIL" written in that code language?

एक विशिष्ट कोड भाषा में, "TIMBER" को "UKPFJX" लिखा जाता है। इस कोड भाषा में "TRAIL" को किस प्रकार लिखा जाएगा?

**Options:**

- 1) VTMEF
- 2) UTDMQ
- 3) QTUMD
- 4) FMUQT

**Correct Answer:** UTDMQ

**Candidate Answer:** UTDMQ

**QID : 225** - In a certain code language, "TIN" is written as "47" and "TAX" is written as "49". How is "TOPS" written in that code language?

एक विशिष्ट कोड भाषा में, "TIN" को "47" तथा "TAX" को "49" लिखा जाता है। इस कोड भाषा में "TOPS" को किस प्रकार लिखा जाएगा?

**Options:**

- 1) 72
- 2) 69
- 3) 73
- 4) 74

**Correct Answer:** 74

**Candidate Answer:** 74

**QID : 226** - If  $A = 4^5 \times 7^3$  and  $B = 7^2 \times 4^6$ , then what is the value of  $A \times B$ ?

यदि  $A = 4^5 \times 7^3$  तथा  $B = 7^2 \times 4^6$  है, तो  $A \times B$  का मान क्या है?

**Options:**

- 1)  $4^{11} \times 7^5$
- 2)  $4^{10} \times 7^{18}$
- 3)  $4^{30} \times 7^6$
- 4)  $4^7 \times 7^9$

**Correct Answer:**  $4^{11} \times 7^5$

**Candidate Answer:**  $4^{11} \times 7^5$

**QID : 227** - What is the value of  $21 + 24 + 27 \dots + 51$ ?

$21 + 24 + 27 \dots + 51$  का मान क्या है?

**Options:**

- 1) 324
- 2) 396
- 3) 416
- 4) 288

**Correct Answer:** 396

**Candidate Answer:** 396

**QID : 228** - A number  $M$  is divisible by 25. If  $(M + 5)(M + 1)$  is divided by 25, then what will be the remainder?

एक संख्या  $M$ , 25 से विभाज्य है। यदि  $(M + 5)(M + 1)$  को 25 से विभाजित किया जाता है, तो शेषफल क्या होगा?

**Options:**

- 1) 5
- 2) 6
- 3) 1
- 4) 3

**Correct Answer:** 5

**Candidate Answer:** 5

**QID : 229** - Which of the following statement(s) is/are true?

I.  $(7)^{450} > (9)^{300}$

II.  $(2)^{900} > (7)^{450}$

निम्नलिखित में से कौन सा/से कथन सत्य है/हैं?

I.  $(7)^{450} > (9)^{300}$

II.  $(2)^{900} > (7)^{450}$

**Options:**

- 1) Only I  
केवल I
- 2) Only II  
केवल II
- 3) Both I and II  
I तथा II दोनों
- 4) Neither I nor II  
न तो I न ही II

**Correct Answer:** Only I

केवल I

**Candidate Answer:** [ NOT ANSWERED ]

**QID : 230** - What is the value of  $(4.6 + 3.1)^2 - (4.6 - 3.1)^2$ ?

$(4.6 + 3.1)^2 - (4.6 - 3.1)^2$  का मान क्या है?

**Options:**

- 1) 54.68
- 2) 58.86
- 3) 53.32
- 4) 57.04

**Correct Answer:** 57.04

**Candidate Answer:** 57.04

**QID : 231** - Which of the following number is an odd and prime number?

निम्नलिखित में से कौन सी संख्या एक विषम तथा अभाज्य संख्या है?

**Options:**

- 1) 61
- 2) 87
- 3) 81
- 4) 69

**Correct Answer:** 61

**Candidate Answer:** 61

**QID : 232** - M alone can do a work in 50 days. M is 10% less efficient than N. In how many days can N alone do the same work?

M एक कार्य को अकेला 50 दिनों में पूरा करता है। M, N से 10% कम कार्यकुशल है। N अकेला उस कार्य को कितने दिनों में पूरा करेगा?

**Options:**

- 1) 60
- 2) 45
- 3) 40
- 4) 43

**Correct Answer:** 45

**Candidate Answer:** 45

**QID : 233** - Three taps R, S and T can fill a tank in 90, 100 and 180 minutes respectively. If all the taps are opened together, then in how many minutes will the tank be filled?

तीन नल R, S तथा T एक टंकी को क्रमशः 90, 100, तथा 180 मिनटों में भर सकते हैं। यदि सभी नलों को एक साथ खोल दिया जाये, तो टंकी कितने मिनटों में भर जायेगी?

**Options:**

- 1) 120
- 2) 37.5
- 3) 45
- 4) 90

**Correct Answer:** 37.5

**Candidate Answer:** 37.5

**QID : 234** - What is the area (in  $\text{cm}^2$ ) of the rhombus having side as 20 cm and one of the diagonal as 24 cm?

एक समचतुर्भुज जिसकी भुजा 20 से.मी. है तथा एक विकर्ण 24 से.मी. है, का क्षेत्रफल (से.मी.<sup>2</sup> में) क्या है?

**Options:**

- 1) 768
- 2) 384
- 3) 480
- 4) 240

**Correct Answer:** 384

**Candidate Answer:** 240

**QID : 235** - A shopkeeper offers 35% discount on shirts which have been marked 60% above the cost price. Ajay bought the shirt for Rs 728. What was the cost price (in Rs) of the shirt?

एक दुकानदार क्रय मूल्य से 60% अधिक अंकित मूल्य वाली कमीज़ों पर 35% की छूट देता है। अजय ने 728 रु में कमीज़ खरीदी। उस कमीज़ का क्रय मूल्य (रु में) क्या था?

**Options:**

- 1) 520
- 2) 700
- 3) 480
- 4) 680

**Correct Answer:** 700

**Candidate Answer:** 700

**QID : 236** - The cost price of an article is 90% of the marked price. What is the gain percentage after allowing a discount of 1% on the marked price?

किसी वस्तु का क्रय मूल्य उसके अंकित मूल्य का 90% है। अंकित मूल्य पर 1% की छूट देने के पश्चात लाभ प्रतिशत क्या है?

**Options:**

- 1) 12.5
- 2) 20
- 3) 10
- 4) 8.33

**Correct Answer:** 10

**Candidate Answer:** 10

**QID : 237** - In what ratio a man must mix pulses at Rs 11.10 per kg with Rs 15.20 per kg pulse so as to make a mixture worth Rs 13.20 per kg?

एक व्यक्ति किस अनुपात में 11.10 रु प्रति कि.ग्रा. वाली दाल को 15.20 रु प्रति कि.ग्रा. वाली दाल के साथ मिलाये ताकि मिश्रण की कीमत 13.20 रु प्रति कि.ग्रा. हो जाये?

**Options:**

- 1) 4 : 3
- 2) 16 : 27
- 3) 4 : 7
- 4) 20 : 21

**Correct Answer:** 20 : 21

**Candidate Answer:** 20 : 21

**QID : 238** - Rs 1050 is divided among M, N and P in the ratio 3 : 5 : 7 respectively. What is the difference (in Rs) between the shares of M and N?

1050 रु को M, N तथा P में क्रमशः 3 : 5 : 7 के अनुपात में बाँटा जाता है। M तथा N के हिस्से में क्या अंतर (रु में) है?

**Options:**

- 1) 140
- 2) 210
- 3) 155
- 4) 315

**Correct Answer:** 140

**Candidate Answer:** 140

**QID : 239** - Average of 12 numbers is 15. If a number 41 is also included, then what will be the average of these 13 numbers?

12 संख्याओं का औसत 15 है। यदि एक संख्या 41 को भी शामिल कर लिया जाये, तो इन 13 संख्याओं का औसत क्या होगा?

**Options:**

- 1) 16
- 2) 18
- 3) 19
- 4) 17

**Correct Answer:** 17

**Candidate Answer:** 17

**QID : 240** - By selling 96 litres of milk, a person's gain is equals to the cost price of 24 litres of milk. What is his gain percent?

96 लीटर दूध बेचकर एक व्यक्ति को 24 लीटर दूध के क्रय मूल्य के बराबर लाभ होता है। उसका लाभ प्रतिशत क्या है?

**Options:**

- 1) 30
- 2) 18.18
- 3) 25
- 4) 16.67

**Correct Answer:** 25

**Candidate Answer:** [ NOT ANSWERED ]

**QID : 241** - A man sold 280 chairs and had a gain equal to selling price of 35 chairs. What is his profit percentage?

एक व्यक्ति 280 कुर्सियों को बेचकर 35 कुर्सियों के विक्रय मूल्य के बराबर लाभ कमाता है। उसका लाभ प्रतिशत क्या है?

**Options:**

- 1) 20
- 2) 14.28
- 3) 15
- 4) 16.67

**Correct Answer:** 14.28

**Candidate Answer:** 14.28

**QID : 242** - A man saves 64% of his income in 8 months. If he wants to save the same amount in 4 months, then by how much percentage should he increase his monthly savings?

एक व्यक्ति 8 महीने में अपनी आय का 64% बचाता है। यदि वह उतनी ही राशि 4 महीने में बचाना चाहता है, तो उसे अपनी मासिक बचत कितने प्रतिशत से बढ़ानी चाहिए?

**Options:**

- 1) 80
- 2) 75
- 3) 100
- 4) 95

**Correct Answer:** 100

**Candidate Answer:** [ NOT ANSWERED ]

**QID : 243** - A man spends 65% of his income and saves the rest. If his income increases by 25% and spending increases by 20%, then what is the percentage change in his savings?

एक व्यक्ति अपनी आय का 65% खर्च कर देता है तथा बाकी बचाता है। यदि उसकी आय 25% से बढ़ती है तथा खर्च भी 20% से बढ़ जाता है, तो उसकी बचत में कितना प्रतिशत परिवर्तन हुआ है?

**Options:**

- 1) 31.67% increase  
31.67% की वृद्धि
- 2) 34.28% increase  
34.28% की वृद्धि
- 3) 41.66% decrease  
41.66% की कमी
- 4) 29.87% decrease  
29.87% की कमी

**Correct Answer:** 34.28% increase

34.28% की वृद्धि

**Candidate Answer:** [ NOT ANSWERED ]

**QID : 244** - A train running with a speed of 18 km/hr, crosses an electric pole. If the length of train is 540 metre, then what is the time taken (in seconds) by the train to cross the pole?

एक 18 कि.मी./घंटा की गति से चलने वाली रेलगाड़ी, एक बिजली के खम्बे को पार करती है। यदि रेलगाड़ी की लम्बाई 540 मीटर है, तो रेलगाड़ी खम्बे को पार करने में कितना समय (सेकण्डों में) लेती है?

**Options:**

- 1) 110
- 2) 100
- 3) 108
- 4) 105

**Correct Answer:** 108

**Candidate Answer:** 108

**QID : 245** - A 100 metre long train crosses a 800 metre long bridge. If the speed of train 30 km/hr, then what is the time taken (in seconds) to cross the bridge?

एक 100 मीटर लम्बी रेलगाड़ी, एक 800 मीटर लम्बे पुल को पार करती है। यदि रेलगाड़ी की गति 30 कि.मी./घंटा है, तो पुल पार करने में कितना समय (सेकण्डों में) लगता है?

**Options:**

- 1) 105
- 2) 108
- 3) 118
- 4) 120

**Correct Answer:** 108

**Candidate Answer:** 108

**QID : 246** - What is the sum (in Rs) of money which will become Rs 201840 at the rate of 16% per annum at compound interest in two years?

वह धनराशि (रु में) क्या है जो दो वर्षों में 16% की वार्षिक ब्याज दर से चक्रवृद्धि ब्याज पर 201840 रु हो जाएगी?

**Options:**

- 1) 160000
- 2) 150000
- 3) 180000
- 4) 200000

**Correct Answer:** 150000

**Candidate Answer:** [ NOT ANSWERED ]

QID : 247 -

The table given below shows the number of mobile covers sold (in thousands) by 2 companies VAPT and ABC from year 2011 to 2015.

नीचे दी गई तालिका में वर्ष 2011 से 2015 तक 2 कंपनियों VAPT तथा ABC द्वारा बेचे गये मोबाइल कवरों की संख्या (हजारों में) को दर्शाया गया है।

Year / वर्ष	Company / कंपनी	
	VAPT	ABC
2011	50	40
2012	70	60
2013	84	82
2014	105	100
2015	100	96

Companies VAPT and ABC show the same difference in the number of mobile covers sold for which of the following years?

कंपनियाँ VAPT तथा ABC द्वारा बेचे गये मोबाइल कवरों की संख्या का अंतर निम्नलिखित में से किन वर्षों में समान था?

**Options:**

1) 2012 and 2013

2012 तथा 2013

2) 2011 and 2012

2011 तथा 2012

3) 2012 and 2014

2012 तथा 2014

4) None of these

इनमें से कोई नहीं

**Correct Answer:** 2011 and 2012

2011 तथा 2012

**Candidate Answer:** 2011 and 2012

2011 तथा 2012

QID : 248 -

The table given below shows the number of mobile covers sold (in thousands) by 2 companies VAPT and ABC from year 2011 to 2015.

नीचे दी गई तालिका में वर्ष 2011 से 2015 तक 2 कंपनियों VAPT तथा ABC द्वारा बेचे गये मोबाइल कवरों की संख्या (हजारों में) को दर्शाया गया है।

Year / वर्ष	Company / कंपनी	
	VAPT	ABC
2011	50	40
2012	70	60
2013	84	82
2014	105	100
2015	100	96

What is the percentage change in the number of mobile covers sold by company VAPT from year 2011 to year 2013?

वर्ष 2011 से वर्ष 2013 तक कंपनी VAPT द्वारा बेचे गये मोबाइल कवरों की संख्या में प्रतिशत परिवर्तन क्या है?

**Options:**

1) 68

2) 84

3) 78

4) 74

Correct Answer: 68

Candidate Answer: 68

QID : 249 -

The table given below shows the number of mobile covers sold (in thousands) by 2 companies VAPT and ABC from year 2011 to 2015.

नीचे दी गई तालिका में वर्ष 2011 से 2015 तक 2 कंपनियों VAPT तथा ABC द्वारा बेचे गये मोबाइल कवरों की संख्या (हजारों में) को दर्शाया गया है।

Year / वर्ष	Company / कंपनी	
	VAPT	ABC
2011	50	40
2012	70	60
2013	84	82
2014	105	100
2015	100	96

What is the average number (in thousands) of mobile covers sold by company VAPT over the 5 given years?

कंपनी VAPT द्वारा दिए गए 5 वर्षों में बेचे गये मोबाइल कवरों की औसत संख्या (हजारों में) क्या है?

Options:

1) 80

2) 81.8

3) 84

4) 92

Correct Answer: 81.8

Candidate Answer: 81.8

QID : 250 -

The table given below shows the number of mobile covers sold (in thousands) by 2 companies VAPT and ABC from year 2011 to 2015.

नीचे दी गई तालिका में वर्ष 2011 से 2015 तक 2 कंपनियों VAPT तथा ABC द्वारा बेचे गये मोबाइल कवरों की संख्या (हजारों में) को दर्शाया गया है।

Year / वर्ष	Company / कंपनी	
	VAPT	ABC
2011	50	40
2012	70	60
2013	84	82
2014	105	100
2015	100	96

What is the percentage change in the number of mobile covers sold by company ABC from year 2012 to year 2015?

वर्ष 2012 से वर्ष 2015 तक कंपनी ABC द्वारा बेचे गये मोबाइल कवरों की संख्या में प्रतिशत परिवर्तन क्या है?



**Options:**

- 1) 36
- 2) 66
- 3) 60
- 4) 90

**Correct Answer:** 60

**Candidate Answer:** 60

**QID : 251** - In the following question, some part of the sentence may have errors. Find out which part of the sentence has an error and select the appropriate option. If a sentence is free from error, select 'No Error'.

The traffic police department has put up huge notice boards at all the **(1)**/ major junctions of the city warning drivers for refrain from using **(2)**/ cell phones while driving or else their licences will be impounded. **(3)**/ No error **(4)**

**Options:**

- 1) 1
- 2) 2
- 3) 3
- 4) 4

**Correct Answer:** 2

**Candidate Answer:** 1

**QID : 252** - In the following question, some part of the sentence may have errors. Find out which part of the sentence has an error and select the appropriate option. If a sentence is free from error, select 'No Error'.

Contrary to popular perception, the inclusion segment is not a singular impoverished **(1)**/ undifferentiated mass and it is important to navigate its diversity **(2)**/ this identify the right target customers for various programs. **(3)**/ No error **(4)**

**Options:**

- 1) 1
- 2) 2
- 3) 3
- 4) 4

**Correct Answer:** 3

**Candidate Answer:** [ NOT ANSWERED ]

**QID : 253** - In the following question, the sentence given with blank to be filled in with an appropriate word. Select the correct alternative out of the four and indicate it by selecting the appropriate option.

**Have you \_\_\_\_\_ your pen?**

**Options:**

- 1) find
- 2) found
- 3) finds
- 4) finded

**Correct Answer:** found

**Candidate Answer:** found

**QID : 254** - In the following question, the sentence given with blank to be filled in with an appropriate word. Select the correct alternative out of the four and indicate it by selecting the appropriate option.

**Mr. Yukimura should be \_\_\_\_\_ as the chairman.**

**Options:**

- 1) appointed
- 2) smiled
- 3) coughed
- 4) smirked

**Correct Answer:** appointed

**Candidate Answer:** smirked

**QID : 255** - In the following question, out of the given four alternatives, select the one which best expresses the meaning of the given word.

**Prompt**

**Options:**

- 1) Immediate
- 2) Late
- 3) Tardy
- 4) Slow

**Correct Answer:** Immediate

**Candidate Answer:** Immediate

**QID : 256** - In the following question, out of the given four alternatives, select the one which best expresses the meaning of the given word.

**Quake**

**Options:**

- 1) Tremble
- 2) Still
- 3) Order
- 4) Tranquil

**Correct Answer:** Tremble

**Candidate Answer:** Tremble

**QID : 257** - In the following question, out of the given four alternatives, select the one which best expresses the meaning of the given word.

**Rip**

**Options:**

- 1) Tear
- 2) Closure
- 3) Sew
- 4) Value

**Correct Answer:** Tear

**Candidate Answer:** Value

**QID : 258** - In the following question, out of the given four alternatives, select the one which is opposite in meaning of the given word.

**Dwell**

**Options:**

- 1) Abide
- 2) Bunk
- 3) Hole up
- 4) Move on

**Correct Answer:** Move on

**Candidate Answer:** Move on

**QID : 259** - In the following question, out of the given four alternatives, select the one which is opposite in meaning of the given word.

**Encroach**

**Options:**

- 1) Keep away
- 2) Barge in
- 3) Crash
- 4) Horn in

**Correct Answer:** Keep away

**Candidate Answer:** Keep away

**QID : 260** - In the following question, out of the given four alternatives, select the one which is opposite in meaning of the given word.

**Endow**

**Options:**

- 1) Deprive
- 2) Award
- 3) Back
- 4) Bestow

**Correct Answer:** Deprive

**Candidate Answer:** [ NOT ANSWERED ]

**QID : 261** - In the following question, out of the four given alternatives, select the alternative which best expresses the meaning of the Idiom/Phrase.

**Second to none**

**Options:**

- 1) As good as or better than all others
- 2) Creating warm all around
- 3) To keep a secret of other
- 4) Most reliable person

**Correct Answer:** As good as or better than all others

**Candidate Answer:** As good as or better than all others

**QID : 262** - In the following question, out of the four given alternatives, select the alternative which best expresses the meaning of the Idiom/Phrase.

**Keep a low profile**

**Options:**

- 1) To avoid attracting attention to yourself
- 2) Observe a threshold
- 3) Take the help of
- 4) Being very miser

**Correct Answer:** To avoid attracting attention to yourself

**Candidate Answer:** To avoid attracting attention to yourself

**QID : 263** - Improve the bracketed part of the sentence.

All over the world, it is a niche programme and not a mass programme, where **(each off)** can get into it.

**Options:**

- 1) everybody
- 2) each one
- 3) all me
- 4) No improvement

**Correct Answer:** everybody

**Candidate Answer:** everybody

**QID : 264** - Improve the bracketed part of the sentence.

There has been a substantial drop in number of the people (**opted**) for new telephone connection from the public sector telephone company in the recent months.

**Options:**

- 1) optioning
- 2) opting
- 3) opt
- 4) No improvement

**Correct Answer:** opting

**Candidate Answer:** No improvement

**QID : 265** - In the following question, out of the four given alternatives, select the alternative which is the best substitute of the phrase.

**Time when night and day are of equal length.**

**Options:**

- 1) Equinox
- 2) Equivocal
- 3) Equate
- 4) Equidistant

**Correct Answer:** Equinox

**Candidate Answer:** [ NOT ANSWERED ]

**QID : 266** - In the following question, out of the four given alternatives, select the alternative which is the best substitute of the phrase.

**Fertile spot in desert.**

**Options:**

- 1) Oasis
- 2) Tributary
- 3) Well
- 4) Peninsula

**Correct Answer:** Oasis

**Candidate Answer:** [ NOT ANSWERED ]

**QID : 267** - In the following question, a word has been written in four different ways out of which only one is correctly spelt. Select the correctly spelt word.

**Options:**

- 1) Circate
- 2) Circuit
- 3) Sircuit
- 4) Circiut

**Correct Answer:** Circuit

**Candidate Answer:** Circuit

**QID : 268** - In the following question, a word has been written in four different ways out of which only one is correctly spelt. Select the correctly spelt word.

**Options:**

- 1) Concurence
- 2) Concurrreeme
- 3) Concurrence
- 4) Concureence

**Correct Answer:** Concurrence

**Candidate Answer:** Concurrence

**QID : 269** - Rearrange the parts of the sentence in correct order.

Cleanliness is a greatest

**P:** responsibility to enhance the standard of life

**Q:** virtue which should be followed

**R:** by everyone as a great

**Options:**

- 1) QRP
- 2) RPQ
- 3) PQR
- 4) PRQ

**Correct Answer:** QRP

**Candidate Answer:** QRP

**QID : 270** - Rearrange the parts of the sentence in correct order.

National integration is of

**P:** the individual level development in this

**Q:** country and make it a strong country

**R:** great importance in India to enhance

**Options:**

- 1) QRP
- 2) RPQ
- 3) PQR
- 4) PRQ

**Correct Answer:** RPQ

**Candidate Answer:** RPQ

**QID : 271** - In the following passage some of the words have been left out. Read the passage carefully and select the correct answer for the given blank out of the four alternatives.

Changes in the climatic conditions are also having a \_\_\_\_\_ impact on the water system. It has \_\_\_\_\_ in the \_\_\_\_\_ of glaciers and erratic rainfall patterns that in \_\_\_\_\_ are leading to environmental imbalance. It is important to take the climate change issue seriously and control human activities that are contributing \_\_\_\_\_ this change.

**also having a \_\_\_\_\_ impact**

**Options:**

- 1) indifferent
- 2) positive
- 3) neutral
- 4) negative

**Correct Answer:** negative

**Candidate Answer:** indifferent

**QID : 272** - In the following passage some of the words have been left out. Read the passage carefully and select the correct answer for the given blank out of the four alternatives.

Changes in the climatic conditions are also having a \_\_\_\_\_ impact on the water system. It has \_\_\_\_\_ in the \_\_\_\_\_ of glaciers and erratic rainfall patterns that in \_\_\_\_\_ are leading to environmental imbalance. It is important to take the climate change issue seriously and control human activities that are contributing \_\_\_\_\_ this change.

**It has \_\_\_\_\_**

**Options:**

- 1) affected
- 2) resulted
- 3) incorporated
- 4) decorated

**Correct Answer:** resulted

**Candidate Answer:** affected

**QID : 273** - In the following passage some of the words have been left out. Read the passage carefully and select the correct answer for the given blank out of the four alternatives.

Changes in the climatic conditions are also having a \_\_\_\_\_ impact on the water system. It has \_\_\_\_\_ in the \_\_\_\_\_ of glaciers and erratic rainfall patterns that in \_\_\_\_\_ are leading to environmental imbalance. It is important to take the climate change issue seriously and control human activities that are contributing \_\_\_\_\_ this change.

**in the \_\_\_\_\_ of glaciers**

**Options:**

- 1) freezing
- 2) heating
- 3) melting
- 4) creating

**Correct Answer:** melting

**Candidate Answer:** melting

**QID : 274** - In the following passage some of the words have been left out. Read the passage carefully and select the correct answer for the given blank out of the four alternatives.

Changes in the climatic conditions are also having a \_\_\_\_\_ impact on the water system. It has \_\_\_\_\_ in the \_\_\_\_\_ of glaciers and erratic rainfall patterns that in \_\_\_\_\_ are leading to environmental imbalance. It is important to take the climate change issue seriously and control human activities that are contributing \_\_\_\_\_ this change.

**patterns that in \_\_\_\_\_ are leading**

**Options:**

- 1) turn
- 2) advance
- 3) rational
- 4) cult

**Correct Answer:** turn

**Candidate Answer:** turn

**QID : 275** - In the following passage some of the words have been left out. Read the passage carefully and select the correct answer for the given blank out of the four alternatives.

Changes in the climatic conditions are also having a \_\_\_\_\_ impact on the water system. It has \_\_\_\_\_ in the \_\_\_\_\_ of glaciers and erratic rainfall patterns that in \_\_\_\_\_ are leading to environmental imbalance. It is important to take the climate change issue seriously and control human activities that are contributing \_\_\_\_\_ this change.

**that are contributing \_\_\_\_\_ this change.**

**Options:**

- 1) above
- 2) on
- 3) of
- 4) towards

**Correct Answer:** towards

**Candidate Answer:** of

**QID : 276** - Which one of the following is not considered as fixed capital?

निम्नलिखित में कौन सा एक 'स्थिर पूंजी' के रूप में नहीं माना जाता है?

**Options:**

- 1) Tools  
उपकरण (औजार)
- 2) Machines  
मशीनें
- 3) Money  
मुद्रा
- 4) Building  
इमारत

**Correct Answer:** Money  
मुद्रा

**Candidate Answer:** Money  
मुद्रा

**QID : 277** - 'Disguised unemployment' is prominently found in \_\_\_\_\_.

'प्रच्छन्न बेरोजगारी' प्रमुख रूप से \_\_\_\_\_ में पाया जाता है

**Options:**

- 1) urban areas  
शहरी क्षेत्र
- 2) semi-urban areas  
अर्ध-शहरी क्षेत्र
- 3) rural areas  
ग्रामीण क्षेत्र
- 4) No option is correct  
कोई विकल्प सही नहीं है।

**Correct Answer:** rural areas  
ग्रामीण क्षेत्र

**Candidate Answer:** [ NOT ANSWERED ]

**QID : 278** - Who among the following was the first Chief Election Commissioner of India?

भारत के पहले मुख्य चुनाव आयुक्त निम्नलिखित में से कौन थे?

**Options:**

- 1) K.V.K. Sundaram  
के.वी.के. सुंदरम
- 2) Sukumar Sen  
सुकुमार सेन
- 3) Dr. Nagendra Singh  
डॉ. नागेंद्र सिंह
- 4) T. Swaminathan  
टी. स्वामीनाथन

**Correct Answer:** Sukumar Sen  
सुकुमार सेन

**Candidate Answer:** Sukumar Sen  
सुकुमार सेन

**QID : 279** - Who of the following administers oath of the office and secrecy to the President of India?

भारत के राष्ट्रपति को पद और गोपनीयता की शपथ निम्नलिखित में से कौन दिलाता है?

**Options:**

- 1) Vice President  
उप राष्ट्रपति
- 2) Prime Minister  
प्रधानमंत्री
- 3) Chief Justice of the Supreme Court  
उच्चतम न्यायालय के मुख्य न्यायाधीश
- 4) Lok Sabha Speaker  
लोकसभा अध्यक्ष

**Correct Answer:** Chief Justice of the Supreme Court  
उच्चतम न्यायालय के मुख्य न्यायाधीश

**Candidate Answer:** Chief Justice of the Supreme Court  
उच्चतम न्यायालय के मुख्य न्यायाधीश

**QID : 280** - Which one of the following places of Indus Valley Civilization was situated on the bank of Ravi River?

सिंधु घाटी सभ्यता के निम्नलिखित स्थानों में से कौन सा एक स्थान रावी नदी के किनारे पर स्थित था?

**Options:**

- 1) Lothal  
लोथल
- 2) Mohenjodaro  
मोहनजोदड़ो
- 3) Chanhudaro  
चन्हुदड़ो
- 4) Harappa  
हड़प्पा

**Correct Answer:** Harappa  
हड़प्पा

**Candidate Answer:** [ NOT ANSWERED ]

**QID : 281** - Tipu Sultan was defeated by the British forces in the \_\_\_\_\_ Anglo-Mysore war.

टीपू सुल्तान को ब्रिटिश सेना ने \_\_\_\_\_ आंग्ल-मैसूर युद्ध में पराजित किया था।

**Options:**

- 1) First  
प्रथम
- 2) Second  
दूसरा
- 3) Third  
तीसरे
- 4) Fifth  
पांचवां

**Correct Answer:** Third  
तीसरे

**Candidate Answer:** Third  
तीसरे

**QID : 282** - Which one of the following landscapes is **not** formed by the running water or river?

निम्न में से कौन सा एक भूदृश्य बहते जल या नदी से निर्मित **नहीं** होता है?

**Options:**

- 1) V-shaped Valley  
वी-आकार की घाटी
- 2) Meander  
विसर्प
- 3) Pothole  
गड्ढा
- 4) Moraine  
हिमोढ़

**Correct Answer:** Moraine  
हिमोढ़

**Candidate Answer:** [ NOT ANSWERED ]

**QID : 283** - Which of these is the major source of fresh water in India?

भारत में ताजे जल का प्रमुख स्रोत कौन सा है?

**Options:**

- 1) Ground water  
भूजल
- 2) Ocean water  
महासागरीय जल
- 3) Tanks  
टैंक
- 4) Water falls  
जल प्रपात

**Correct Answer:** Ground water  
भूजल

**Candidate Answer:** [ NOT ANSWERED ]

**QID : 284** - From which part of the organ does the digestion of food in the human body start?

मानव शरीर में भोजन का पाचन निम्नलिखित में से किस अंग से शुरू होता है?

**Options:**

- 1) Mouth  
मुख
- 2) Stomach  
आमाशय
- 3) Small Intestine  
छोटी आंत
- 4) Large Intestine  
बड़ी आंत

**Correct Answer:** Mouth  
मुख

**Candidate Answer:** [ NOT ANSWERED ]

**QID : 285** - Which one of the following has the capability of cell division in plants?

निम्नलिखित में कौन सा एक पौधों में कोशिका विभाजन की क्षमता रखता है?

**Options:**

- 1) Parenchyma  
पैरेन्काइमा
- 2) Sclerenchyma  
स्केलेरेनकाइमा
- 3) Xylem  
जाइलम
- 4) Apical Meristem  
शीर्ष विभाजक

**Correct Answer:** Apical Meristem

शीर्ष विभाजक

**Candidate Answer:** [ NOT ANSWERED ]

**QID : 286** - Which one of the following is a true fish?

निम्न में से कौन सा एक वास्तविक मछली है?

**Options:**

- 1) Jellyfish  
जेलीफ़िश
- 2) Starfish  
स्टारफ़िश
- 3) Dogfish  
डॉगफ़िश
- 4) Silverfish  
सिल्वरफ़िश

**Correct Answer:** Dogfish

डॉगफ़िश

**Candidate Answer:** [ NOT ANSWERED ]

**QID : 287** - When a car starts suddenly from rest, the people sitting inside the car move backwards. This event is an example of:

जब कोई कार विराम से अचानक चल पड़ती है, उसमें बैठे सवार पीछे की तरफ झुक जाते हैं। यह घटना \_\_\_\_\_ का उदाहरण है।

**Options:**

- 1) Newton's First Law of Motion  
न्यूटन के प्रथम गति का नियम
- 2) Newton's Second Law of Motion  
न्यूटन के गति का दूसरा नियम
- 3) Newton's Third Law of Motion  
न्यूटन के गति का तीसरा नियम
- 4) No option is correct  
कोई विकल्प सही नहीं है।

**Correct Answer:** Newton's First Law of Motion

न्यूटन के प्रथम गति का नियम

**Candidate Answer:** Newton's Second Law of Motion

न्यूटन के गति का दूसरा नियम

**QID : 288** - Which of the following wave types is an example of the waves produced by a moving motorboat on the surface of water?

निम्नलिखित में कौन सा तरंग जल के सतह पर एक गतिशील मोटरबोट द्वारा उत्पन्न तरंग का एक उदाहरण है?

**Options:**

- 1) Longitudinal only  
केवल अनुदैर्घ्य
- 2) Transverse waves only  
केवल आड़ी तरंगे
- 3) Electromagnetic Waves  
विद्युतचुम्बकीय तरंगे
- 4) Both Longitudinal and Transversal  
अनुदैर्घ्य और आड़ी दोनों

**Correct Answer:** Both Longitudinal and Transversal

अनुदैर्घ्य और आड़ी दोनों

**Candidate Answer:** [ NOT ANSWERED ]

**QID : 289** - Which of the following keys is used in computer to change the lower case letter mode to uppercase?

निम्नलिखित में किस कंप्यूटर कुंजी द्वारा छोटे अक्षरों को बड़े अक्षरों में बदला जाता है?

**Options:**

- 1) Alt  
ऑल्ट
- 2) Ctrl  
कंट्रोल
- 3) Caps Lock  
कैप्स लॉक
- 4) Enter  
एंटर

**Correct Answer:** Caps Lock

कैप्स लॉक

**Candidate Answer:** Caps Lock  
कैप्स लॉक

**QID : 290** - Who discovered Proton, one of the fundamental particle of an atom?

परमाणु के एक मौलिक कण, प्रोटोन, की खोज किसने की थी?

**Options:**

- 1) Chadwick  
चाडविक
- 2) J.J. Thomson  
जे.जे. थॉमसन
- 3) Rutherford  
रदरफोर्ड
- 4) Newton  
न्यूटन

**Correct Answer:** Rutherford  
रदरफोर्ड

**Candidate Answer:** J.J. Thomson  
जे.जे. थॉमसन

**QID : 291** - During summer, water kept in an earthen pot becomes cool because of the phenomenon of \_\_\_\_\_.

ग्रीष्म ऋतु में मिट्टी के घड़े में रखा पानी \_\_\_\_\_ की प्रक्रिया (घटना) के कारण ठंडा हो जाता है.

**Options:**

- 1) Osmosis  
परासरण
- 2) Evaporation  
भाप
- 3) Diffusion  
विसरण
- 4) Transpiration  
वाष्पोत्सर्जन

**Correct Answer:** Evaporation  
भाप

**Candidate Answer:** [ NOT ANSWERED ]

**QID : 292** - Which one of the following is not a human made environment?

निम्नलिखित में कौन सा एक मानव निर्मित पर्यावरण नहीं है?

**Options:**

- 1) swimming pool  
स्विमिंग पूल
- 2) zoo  
चिड़ियाघर
- 3) lake  
झील
- 4) garden  
बाग

**Correct Answer:** lake  
झील

**Candidate Answer:** lake  
झील

**QID : 293** - In which of the following years was the Pradhan Mantri Gram Sadak Yojana (PMGSY) launched?

निम्नलिखित में से किस वर्ष प्रधान मंत्री ग्राम सड़क योजना (पीएमजीएसवाई) शुरू की गई थी?

**Options:**

- 1) 1988
- 2) 2000
- 3) 2002
- 4) 2004

**Correct Answer:** 2000

**Candidate Answer:** [ NOT ANSWERED ]

**QID : 294** - Who among the following scientist discovered the Law of Floatation?

निम्नलिखित वैज्ञानिकों में से किसने उत्प्लावन के नियमों की खोज की?

**Options:**

- 1) Newton  
न्यूटन
- 2) Thomas Edison  
थॉमस एडिसन
- 3) Archimedes  
आर्किमिडीज
- 4) John Dalton  
जॉन डाल्टन

**Correct Answer:** Archimedes  
आर्किमिडीज



**Candidate Answer:** Archimedes  
आर्किमिडीज

**QID : 295** - Who is the first Indian woman gymnast to qualify for the Olympics?

ओलंपिक के लिए क्वालीफाई प्राप्त करने वाली पहली भारतीय महिला जिमनास्ट कौन है?

**Options:**

- 1) Karnam Malleswari  
कर्णम मल्लेश्वरी
- 2) P.T. Usha  
पी.टी. उषा
- 3) Dipa Karmakar  
दीपा कर्माकर
- 4) Gita Fogat  
गीता फोगाट

**Correct Answer:** Dipa Karmakar  
दीपा कर्माकर

**Candidate Answer:** [ NOT ANSWERED ]

**QID : 296** - Which of the following folk-dance forms is related to Odisha?

निम्नलिखित में से कौन-सा लोक-नृत्य ओडिशा से सम्बंधित है?

**Options:**

- 1) Chhau  
छऊ
- 2) Tamasha  
तमाशा
- 3) Mallakhamb  
मलखम्ब
- 4) No option is correct.  
कोई विकल्प सही नहीं है।

**Correct Answer:** Chhau  
छऊ

**Candidate Answer:** No option is correct.  
कोई विकल्प सही नहीं है।

**QID : 297** - Which of the following is the second highest gallantry award in India?

निम्नलिखित में से कौन सा एक भारत में वीरता का दूसरा सर्वोच्च पुरस्कार है?

**Options:**

- 1) Veer Chakra  
वीर चक्र
- 2) Mahvir Chakra  
महावीर चक्र
- 3) Ashok Chakra  
अशोक चक्र
- 4) Shaurya Chakra  
शौर्य चक्र

**Correct Answer:** Mahvir Chakra  
महावीर चक्र

**Candidate Answer:** [ NOT ANSWERED ]

**QID : 298** - Who has written the book "Harry Potter and the Cursed Child"?

"हैरी पॉटर एंड द कर्स्ट चाइल्ड" नामक पुस्तक किसने लिखी है?

**Options:**

- 1) Patrick Suskind  
पैट्रिक सुस्काइंड
- 2) Anne Frank  
ऐन फ्रैंक
- 3) JK Rowling  
जेके रॉलिंग
- 4) Elena Ferrante  
इलीना फेरान्टे

**Correct Answer:** JK Rowling  
जेके रॉलिंग

**Candidate Answer:** JK Rowling  
जेके रॉलिंग

**QID : 299** - Which of the following countries is committed to strengthen bilateral relations with India in the field of Agriculture recently in Jan 2017?

जनवरी 2017 में निम्नलिखित में से किस देश ने हाल ही में कृषि के क्षेत्र में भारत के साथ द्विपक्षीय संबंधों को मजबूत करने के लिए प्रतिबद्धता जतायी है?

**Options:**

- 1) France  
फ्रांस
- 2) Russia  
रूस
- 3) Israel  
इजराइल
- 4) UK  
यूके

**Correct Answer:** Israel

इजराइल

**Candidate Answer:** [ NOT ANSWERED ]

**QID : 300** - Which of the following countries does not share the land boundary with Myanmar?

निम्नलिखित देशों में से कौन सा एक देश म्यांमार के साथ थल सीमा साझा नहीं करता है?

**Options:**

1) Bangladesh

बांग्लादेश

2) India

भारत

3) Cambodia

कंबोडिया

4) Laos

लाओस

**Correct Answer:** Cambodia

कंबोडिया

**Candidate Answer:** Bangladesh

बांग्लादेश