



**Staff Selection Commission**  
(Government Of India)

REGISTRATION NUMBER : examstocks.com  
EXAM DATE : 30-October-2017  
EXAM NAME : SSC Examination TOTAL  
MARKS : 150

CANDIDATE NAME : examstocks.com  
EXAM START TIME : 10:00:00  
EXAM DURATION : 01:30 Hrs  
TOTAL NO OF QUESTIONS : 100

QID : 1 -

In the following question, select the number which can be placed at the sign of question mark (?) from the given alternatives.

निम्नलिखित प्रश्न में दिए गए विकल्पों में से प्रश्न चिह्न (?) के स्थान पर आने वाली संख्या को चुनिए।

2	5	8
4	10	16
6	15	24
8	20	?

Options:

- 1) 29
- 2) 30
- 3) 32
- 4) 26

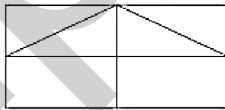
Correct Answer: 32

Candidate Answer: 32

QID : 2 -

How many rectangles are there in the given figure?

दी गई आकृति में कितने आयत हैं?



Options:

- 1) 10
- 2) 9
- 3) 8
- 4) 11

Correct Answer: 9

Candidate Answer: 9

QID : 3 -

A word is represented by only one set of numbers as given in any one of the alternatives. The sets of numbers given in the alternatives are represented by two classes of alphabets as shown in the given two matrices. The columns and rows of **Matrix-I** are numbered from 0 to 4 and that of **Matrix-II** are numbered from 5 to 9. A letter from these matrices can be represented first by its row and next by its column, for example, 'K' can be represented by 01, 65, etc., and 'A' can be represented by 44, 95, etc. Similarly, you have to identify the set for the word "CHAMP".

एक शब्द केवल एक संख्या-समूह द्वारा दर्शाया गया है, जैसा कि विकल्पों में से किसी एक में दिया गया है। विकल्पों में दिए गए संख्या-समूह अक्षरों के दो वर्गों द्वारा दर्शाए गए हैं, जैसा कि दिए गए दो आव्यूहों में है। आव्यूह-I के स्तम्भ और पंक्ति की संख्या 0 से 4 है और आव्यूह-II की 5 से 9। इन आव्यूहों से एक अक्षर को पहले उसकी पंक्ति और बाद में स्तम्भ संख्या द्वारा दर्शाया जा सकता है। उदाहरण के लिए 'K' को 01, 65, आदि द्वारा दर्शाया जा सकता है तथा 'A' को 44, 95, आदि द्वारा दर्शाया जा सकता है। इसी तरह से आपको प्रश्न में दिए शब्द "CHAMP" के लिए समूह को पहचानना है।

Matrix-I आव्यूह-I						Matrix-II आव्यूह-II					
	0	1	2	3	4	5	6	7	8	9	
0	V	K	D	F	R	5	W	C	U	G	I
1	C	W	O	H	V	6	K	I	H	Q	S
2	T	S	Y	J	S	7	U	E	Y	B	A
3	H	F	I	C	R	8	F	H	P	L	N
4	D	S	U	N	A	9	A	R	M	T	O

Options:

1) 10, 13, 44, 11, 41

2) 56, 67, 97, 67, 43

3) 58, 86, 44, 59, 87

4) 33, 13, 79, 97, 87

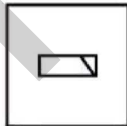
Correct Answer: 33, 13, 79, 97, 87

Candidate Answer: 33, 13, 79, 97, 87

QID : 4 -

From the given answer figures, select the one in which the question figure is hidden/embedded.

दी गई उत्तर आकृतियों में से उस उत्तर आकृति को चुनिए जिस में प्रश्न आकृति निहित है।

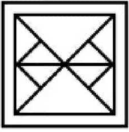


Options:

1)




2)



3)



4)



Correct Answer:



Candidate Answer:



QID : 5 -


Which answer figure will complete the pattern in the question figure?

कौन सी उत्तर आकृति प्रश्न आकृति के प्रतिरूप को पूरा करेगी?




Options:

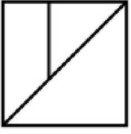
1)



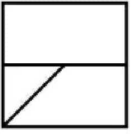
2)




3)




4)



Correct Answer:



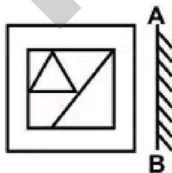
Candidate Answer:



QID : 6 -

If a mirror is placed on the line AB, then which of the answer figures is the right image of the given figure?

यदि एक दर्पण को AB रेखा पर रखा जाए, तो दी गई उत्तर आकृतियों में से कौन सी आकृति प्रश्न आकृति की सही प्रतिबिम्ब होगी?

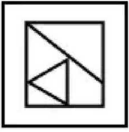


Options:

1)



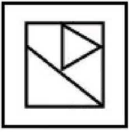
2)



3)



4)



Correct Answer:



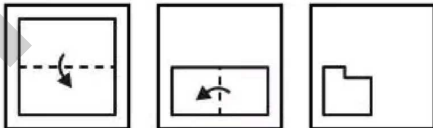
Candidate Answer:



QID : 7 -

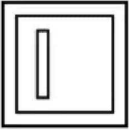
A piece of paper is folded and punched as shown below in the question figures. From the given answer figures, indicate how it will appear when opened?

नीचे के प्रश्न आकृतियों में दिखाए अनुसार कागज को मोड़कर छेदने तथा खोलने के बाद वह किस उत्तर आकृति जैसा दिखाई देगा?



Options:

1)



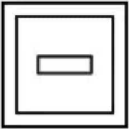
2)



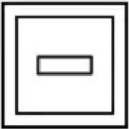
3)



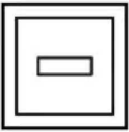
4)



Correct Answer:



Candidate Answer:



QID : 8 - If 'A' means '+', 'B' means '-', 'C' means '÷' and 'D' means 'x', then

13 B 11 A 56 C 14 D 2 = ?

यदि 'A' का अर्थ '+', 'B' का अर्थ '-', 'C' का अर्थ '÷' तथा 'D' का अर्थ 'x' हो, तो

13 B 11 A 56 C 14 D 2 = ?

Options:

- 1) 20
- 2) 29
- 3) 10
- 4) 14

Correct Answer: 10

Candidate Answer: 10

QID : 9 - If  $13 @ 3 C 2 = 14$  and  $12 @ 6 C 2 = 16$ , then

$14 @ 2 C 10 = ?$

यदि  $13 @ 3 C 2 = 14$  तथा  $12 @ 6 C 2 = 16$  हो, तो

$14 @ 2 C 10 = ?$

Options:

- 1) 3
- 2) 6
- 3) 9
- 4) 11

Correct Answer: 6

Candidate Answer: 6



**QID : 10** - Arrange the given words in the sequence in which they occur in the dictionary.

1. Slave
2. Snake
3. Snipper
4. Snorkel
5. Simple

निम्नलिखित शब्दों को शब्दकोश में आने वाले क्रम के अनुसार लिखें।

1. Slave
2. Snake
3. Snipper
4. Snorkel
5. Simple

**Options:**

1) 51243

2) 51324

3) 51234

4) 51432

**Correct Answer:** 51234

**Candidate Answer:** 51234

**QID : 11** - In the following question, select the missing number from the given series.

15, 17, 20, 25, 32, ?

निम्नलिखित प्रश्न में दिए गए विकल्पों में से लुप्त अंक ज्ञात कीजिए।

15, 17, 20, 25, 32, ?

**Options:**

1) 41

2) 36

3) 43

4) 39

**Correct Answer:** 43

**Candidate Answer:** 43

**QID : 12** - A series is given with one term missing. Select the correct alternative from the given ones that will complete the series.

MO, QS, UW, ?

एक अनुक्रम दिया गया है, जिसमें से एक पद लुप्त है। दिए गए विकल्पों में से वह सही विकल्प चुनिए, जो अनुक्रम को पूरा करे।

MO, QS, UW, ?

**Options:**

1) YZ

2) YA

3) ZB

4) XZ

**Correct Answer:** YA

**Candidate Answer:** YA

**QID : 13** - In the following question, select the odd word from the given alternatives.

निम्नलिखित प्रश्न में दिए गए विकल्पों में से विषम शब्द को चुनिए।

**Options:**

1) Gold

सोना

2) Silver

चाँदी

3) Iron

लोहा

4) Neon

निऑन

**Correct Answer:** Neon

निऑन

**Candidate Answer:** Neon

निऑन

**QID : 14** - In the following question, select the odd number from the given alternatives.

निम्नलिखित प्रश्न में दिए गए विकल्पों में से विषम संख्या को चुनिए।

**Options:**

1) 49

2) 64

3) 81

4) 26

**Correct Answer:** 26

**Candidate Answer:** 26

**QID : 15** - In the following question, select the odd letters from the given alternatives.

निम्नलिखित प्रश्न में दिए गए विकल्पों में से विषम अक्षरों को चुनिए।

**Options:**

1) WXZ

2) GHJ

3) MNQ

4) KLN

**Correct Answer:** MNQ

**Candidate Answer:** MNQ

**QID : 16** - Identify the diagram that best represents the relationship among the given classes.

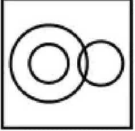
**Doctor, Director, Actress**

वह आरेख चुनिए जो नीचे दिए गए वर्गों के बीच के संबंध का सही निरूपण करता है।

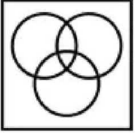
चिकित्सक, निर्देशक, अभिनेत्री

**Options:**

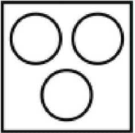
1)



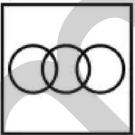
2)



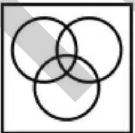
3)




4)



**Correct Answer:**



**Candidate Answer:**



**QID : 17** - In the following question, select the related word from the given alternatives.

**Necklace : Pearl :: Bouquet : ?**

निम्नलिखित प्रश्न में दिए गए विकल्पों में से संबंधित शब्द को चुनिए।

**हार : मोती :: गुलदस्ता : ?**



**Options:**

- 1) Flower  
फूल
- 2) Fruit  
फल
- 3) Garden  
बाग
- 4) Petal  
पत्ती

**Correct Answer:** Flower

फूल

**Candidate Answer:** Flower

फूल

**QID : 18** - In the following question, select the related number from the given alternatives.

**18 : 5832 :: 17 : ?**

निम्नलिखित प्रश्न में दिए गए विकल्पों में से संबंधित संख्या को चुनिए।

**18 : 5832 :: 17 : ?**

**Options:**

- 1) 4900
- 2) 4096
- 3) 4913
- 4) 10000

**Correct Answer:** 4913

**Candidate Answer:** 4913

**QID : 19** - In the following question, select the related letters from the given alternatives.

**OPQ : STU :: WXY : ?**

निम्नलिखित प्रश्न में दिए गए विकल्पों में से संबंधित अक्षरों को चुनिए।

**OPQ : STU :: WXY : ?**

**Options:**

- 1) ABD
- 2) ABC
- 3) ZAB
- 4) BDC

**Correct Answer:** ABC

**Candidate Answer:** ABC

**QID : 20** - In the following question, select the word which cannot be formed using the letters of the given word.

**EVANESCENT**

निम्नलिखित विकल्पों में से वह शब्द चुनिए जो दिए गए शब्द के अक्षरों का प्रयोग करके नहीं बनाया जा सकता।

**EVANESCENT**

**Options:**

- 1) SCENT
- 2) NOSE
- 3) NEST
- 4) SCAN

**Correct Answer:** NOSE

**Candidate Answer:** NOSE

**QID : 21** - Sunita walks 24 km towards west. She turns right and walks another 24 km. She turns right and walks another 28 km. In which direction is she from her starting point?

सुनीता पश्चिम की ओर 24 कि.मी. चलती है। वह दायीं ओर मुड़ती है तथा 24 कि.मी. और चलती है। वह दायीं ओर मुड़ती है तथा 28 कि.मी. और चलती है। वह अपने आरंभिक बिन्दु से किस दिशा में है?

**Options:**

- 1) North  
उत्तर
- 2) East  
पूर्व
- 3) North-East  
उत्तर-पूर्व
- 4) North-West  
उत्तर-पश्चिम

**Correct Answer:** North-East

उत्तर-पूर्व

**Candidate Answer:** North-East

उत्तर-पूर्व

**QID : 22** - Weight of B is thrice that of C. Weight of C is half of D. Weight of D is 5 times of F. Weight of F is twice of E. The weight of C is greater than the weight of how many persons among B, D, E and F?

B का भार C का तिगुना है। C का भार D का आधा है। D का भार F का 5 गुना है। F का भार E का दोगुना है। C का भार, B, D, E तथा F में से कितने व्यक्तियों के भार से अधिक है?

**Options:**

1) 2

2) 1

3) 0

4) 4

**Correct Answer:** 2

**Candidate Answer:** 2

**QID : 23** - In the following question below are given some statements followed by some conclusions. Taking the given statements to be true even if they seem to be at variance from commonly known facts, read all the conclusions and then decide which of the given conclusion logically follows the given statements.

**Statements:**

I. All blue are red.

II. Some blue are pink.

**Conclusions:**

I. Some pink are not blue.

II. Some red are pink.

नीचे दिए गए प्रश्न में कुछ कथन और उनके बाद उन कथनों पर आधारित कुछ निष्कर्ष दिए गए हैं, हालांकि उनमें सामान्य ज्ञात तथ्यों से भिन्नता हो सकती है। सभी निष्कर्ष पढ़ें और फिर निर्धारित करें कि दिए गए कौन से निष्कर्ष, दिए गए कथनों के आधार पर युक्तिसंगत हैं।

**कथन:**

I. सभी नीले लाल हैं।

II. कुछ नीले गुलाबी हैं।

**निष्कर्ष:**

I. कुछ गुलाबी नीले नहीं हैं।

II. कुछ लाल गुलाबी हैं।

**Options:**

1) Only conclusion (I) follows.

केवल निष्कर्ष (I) सही है।

2) Only conclusion (II) follows.

केवल निष्कर्ष (II) सही है।

3) Both conclusion follow.

दोनों ही निष्कर्ष सही हैं।

4) Neither conclusion (I) nor conclusion (II) follows.

न तो निष्कर्ष (I) न ही निष्कर्ष (II) सही है।

**Correct Answer:** Only conclusion (II) follows.

केवल निष्कर्ष (II) सही है।

**Candidate Answer:** Both conclusion follow.

दोनों ही निष्कर्ष सही हैं।

**QID : 24** - In a certain code language, "STROKE" is written as "HGILPV". How is "PLAZO" written in that code language?

एक विशिष्ट कोड भाषा में, "STROKE" को "HGILPV" लिखा जाता है। इस कोड भाषा में "PLAZO" को किस प्रकार लिखा जाएगा?

**Options:**

1) KOZAL

2) LAZOK

3) AZOKL

4) ZOKLA

**Correct Answer:** KOZAL

**Candidate Answer:** KOZAL

**QID : 25** - In a certain code language, "FIT" is written as "33" and "FAT" is written as "25". How is "KIN" written in that code language?

एक विशिष्ट कोड भाषा में, "FIT" को "33" तथा "FAT" को "25" लिखा जाता है। इस कोड भाषा में "KIN" को किस प्रकार लिखा जाएगा?

**Options:**

1) 32

2) 36

3) 30

4) 34

**Correct Answer:** 32

**Candidate Answer:** 32

**QID : 26** - For what value of N, 23N7 is completely divisible by 9?

N के किस मान के लिए 23N7, 9 से पूर्णतः विभाज्य है?

**Options:**

- 1) 5
- 2) 7
- 3) 6
- 4) 4

**Correct Answer:** 6

**Candidate Answer:** 6

**QID : 27** - Which of the following statement(s) is/are true?

- I. There are 13 multiples of 7 from 1 to 100.
- II. There are 5 multiples of 19 from 1 to 100.

निम्नलिखित में से कौन सा/से कथन सत्य है/हैं?

- I. 1 से 100 तक 7 के 13 गुणांक है।
- II. 1 से 100 तक 19 के 5 गुणांक है।

**Options:**

- 1) Only I  
केवल I
- 2) Only II  
केवल II
- 3) Both I and II  
I तथा II दोनों
- 4) Neither I nor II  
न तो I न ही II

**Correct Answer:** Only II  
केवल II

**Candidate Answer:** Only II  
केवल II

**QID : 28** - What is the value of  $9^2 + 11^2 + \dots + 21^2$ ?

$9^2 + 11^2 + \dots + 21^2$  का मान क्या है?

**Options:**

- 1) 1441
- 2) 1346
- 3) 1532
- 4) 1687

**Correct Answer:** 1687

**Candidate Answer:** 1687

**QID : 29** - A number **M** is completely divisible by 20. If  $(M + 4)(M + 3)$  is divided by 20, then what will be the remainder?

एक संख्या **M**, 20 से पूर्णतः विभाज्य है। यदि  $(M + 4)(M + 3)$  को 20 से विभाजित किया जाता है, तो शेषफल क्या होगा?

**Options:**

- 1) 1
- 2) 12
- 3) 8
- 4) 9

**Correct Answer:** 12

**Candidate Answer:** 12

**QID : 30** - How many numbers are there from 5 to 125 which are divisible by both 3 and 7?

5 से 125 तक ऐसी कितनी संख्याएँ हैं जो 3 तथा 7 दोनों से विभाज्य होती हैं?

**Options:**

- 1) 6
- 2) 4
- 3) 2
- 4) 5

**Correct Answer:** 5

**Candidate Answer:** 5

**QID : 31** - Which of the following number is neither prime nor composite?

निम्नलिखित में से कौन सी संख्या न तो अभाज्य है न ही संयुक्त है?

**Options:**

- 1) 2
- 2) 1
- 3) 3
- 4) 5

**Correct Answer:** 1

**Candidate Answer:** 1

**QID : 32** - A can do a piece of work in 30 days and B can do the same piece of work in 20 days. They start working together and work for 4 days and then both leave the work. C alone finishes the remaining work in 18 days. In how many days will C alone finish the whole work?

A एक कार्य को 30 दिनों में कर सकता है तथा B उसी कार्य को 20 दिनों में कर सकता है। दोनों साथ कार्य करना प्रारंभ करते हैं तथा 4 दिन तक कार्य करते हैं तथा फिर दोनों कार्य छोड़ देते हैं। C शेष कार्य को अकेला 18 दिनों में समाप्त करता है। C अकेला पूरे कार्य को कितने दिनों में पूरा करेगा?

**Options:**

- 1) 30
- 2) 27
- 3) 25
- 4) 24

**Correct Answer:** 27

**Candidate Answer:** 27

**QID : 33** - W and T together can do a work in 12 days. W alone can do the work in 15 days. In how many days can T alone do the work?

W तथा T एक कार्य को मिलकर 12 दिनों में कर सकते हैं। W अकेला कार्य को 15 दिनों में कर सकता है। T अकेला उस कार्य को कितने दिन में कर सकता है?

**Options:**

- 1) 65
- 2) 72
- 3) 45
- 4) 60

**Correct Answer:** 60

**Candidate Answer:** 60

**QID : 34** - The angles of a triangle are in the ratio of 4 : 4 : 2. What is the measure of the smallest angle (in degrees)?

किसी त्रिभुज के कोणों का अनुपात 4 : 4 : 2 है। सबसे छोटे कोण का मान (डिग्री में) क्या है?

**Options:**

- 1) 72
- 2) 36
- 3) 44
- 4) 54

**Correct Answer:** 36

**Candidate Answer:** 36

**QID : 35** - A profit of 20% is made after giving a discount of 15% on an article. If the marked price of the article is Rs 2760, then what is its cost price (in Rs)?

एक वस्तु पर 15% की छूट देने के पश्चात 20% का लाभ होता है। यदि वस्तु का अंकित मूल्य 2760 रु है, तो उसका क्रय मूल्य (रु में) क्या है?

**Options:**

- 1) 1955
- 2) 2150
- 3) 1845
- 4) 1890

**Correct Answer:** 1955

**Candidate Answer:** 1955

**QID : 36** - An article has marked price of Rs 6000 and is available at a discount of 10%. The shopkeeper gives another discount to the buyer and sells the article for Rs 4050. What is the second discount (in %) offered?

एक वस्तु का अंकित मूल्य 6000 रु है तथा 10% की छूट पर उपलब्ध है। दुकानदार ग्राहक को एक अतिरिक्त छूट देता है तथा वस्तु को 4050 रु में बेच देता है। दूसरी बार दी गई छूट (% में) कितनी है?

**Options:**

- 1) 15
- 2) 20
- 3) 10
- 4) 25

**Correct Answer:** 25

**Candidate Answer:** 25

**QID : 37** - Incomes of X and Y are in the ratio 15 : 13. Their expenditures are in the ratio 13 : 11. If both save Rs 9600 at the end of the month, then what is the income (in Rs) of X?

X तथा Y की आय 15 : 13 के अनुपात में है। उनके व्यय 13 : 11 के अनुपात में है। यदि दोनों माह के अंत में 9600 रु की बचत करते हैं, तो X की आय (रु में) क्या है?

**Options:**

- 1) 62400
- 2) 52800
- 3) 80400
- 4) 72000

**Correct Answer:** 72000

**Candidate Answer:** 72000

**QID : 38** - Three numbers are in the ratio 4 : 3 : 1. If the sum of their squares is 1664, then what are the numbers?

तीन संख्याएँ 4 : 3 : 1 के अनुपात में हैं। यदि उनके वर्गों का योग 1664 है, तो संख्याएँ क्या हैं?

**Options:**

- 1) 32, 24, 8
- 2) 32, 16, 24
- 3) 4, 16, 32
- 4) 28, 7, 4

**Correct Answer:** 32, 24, 8

**Candidate Answer:** 32, 24, 8

**QID : 39** - The average of 7 consecutive numbers is 21. If previous 2 numbers are also included, then what will be the new average?

7 क्रमागत संख्याओं का औसत 21 है। यदि पिछली 2 संख्याओं को भी शामिल कर लिया जाए, तो नया औसत क्या होगा?

**Options:**

- 1) 19
- 2) 20
- 3) 19.5
- 4) 20.5

**Correct Answer:** 20

**Candidate Answer:** 20

**QID : 40** - A wholeseller buys an article for Rs 42 and sells it for Rs 36. What is his loss percent?

एक थोक विक्रेता एक वस्तु 42 रु में खरीदता है तथा उसे 36 रु में बेचता है। उसका हानि प्रतिशत क्या है?

**Options:**

- 1) 14.28
- 2) 20
- 3) 16.67
- 4) 11.11

**Correct Answer:** 14.28

**Candidate Answer:** 14.28

**QID : 41** - A man sold 450 chairs and had a gain equal to selling price of 50 chairs. What is his profit percentage?

एक व्यक्ति को 450 कुर्सियों को बेचकर 50 कुर्सियों के विक्रय मूल्य के बराबर लाभ हुआ। उसका लाभ प्रतिशत क्या है?

**Options:**

- 1) 12.5
- 2) 25
- 3) 16.66
- 4) 20

**Correct Answer:** 12.5

**Candidate Answer:** 12.5

**QID : 42** - Out of the total books, 20% of books are of type-1. 30% of remaining books are of type-2. 60% of remaining books are of type-3. The remaining 448 books are of type-4. How many total books are there?

कुल पुस्तकों में से 20% पुस्तक प्रकार-1 की हैं। शेष पुस्तकों में से 30% प्रकार-2 की हैं। शेष पुस्तकों में से की 60% प्रकार-3 की हैं। बची हुई शेष 448 पुस्तकें प्रकार-4 की हैं। कुल कितनी पुस्तकें हैं?

**Options:**

- 1) 1000
- 2) 2000
- 3) 1500
- 4) 1800

**Correct Answer:** 2000

**Candidate Answer:** 2000

**QID : 43** - A number is increased by 25%. To obtain the old number, by how much should it be decreased?

एक संख्या को 25% से बढ़ाया गया। पुरानी संख्या प्राप्त करने के लिए, उसे कितने प्रतिशत से घटाया जाये?

**Options:**

- 1) 15
- 2) 20
- 3) 25
- 4) 18

**Correct Answer:** 20

**Candidate Answer:** 20

**QID : 44** - The speed of a stream is 3 km/hr. A boat goes 36 km and comes back to the starting point in 9 hours. What is the speed (in km/hr) of the boat in still water?

एक धारा की गति 3 कि.मी./घंटा है। एक नाव 36 कि.मी. की दूरी तय करके वापस अपने आरंभिक बिंदु पर 9 घंटे में आ जाती है। शांत जल में नाव की गति (कि.मी./घंटा में) क्या है?

Options:

- 1) 8
- 2) 9
- 3) 10
- 4) 7

Correct Answer: 9

Candidate Answer: 9

QID : 45 - Two men are standing on opposite ends of a 1500 metre long bridge. If they walk towards each other with speeds of 25 m/s and 5 m/s respectively, then how much time (in seconds) will they take to meet each other?

दो व्यक्ति 1500 मीटर लम्बे एक पुल के विपरीत किनारों पर खड़े हैं। यदि वे क्रमशः 25 मी./से. तथा 5 मी./से. की गति से एक दूसरे की ओर चलना प्रारंभ करें, तो वे आपस में मिलने में कितना समय (सेकण्डों में) लेंगे?

Options:

- 1) 40
- 2) 50
- 3) 60
- 4) 80

Correct Answer: 50

Candidate Answer: 50

QID : 46 - What is the simple interest (in Rs) on a principal of Rs 12000 at the rate of 2% per annum for 2 years?

12000 रु के मूलधन पर 2% की वार्षिक दर से 2 वर्षों का साधारण ब्याज (रु में) क्या है?

Options:

- 1) 500
- 2) 240
- 3) 480
- 4) 550

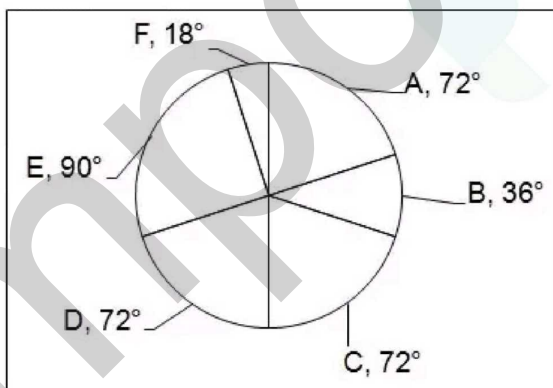
Correct Answer: 480

Candidate Answer: 480

QID : 47 -

The pie chart given below shows the number of students in 6 different sections. The total number of students is 1800.

नीचे दिए गए वृत्त चित्र में 6 विभिन्न वर्गों में छात्रों की संख्या को दर्शाया गया है। छात्रों की कुल संख्या 1800 है।



What is the average number of students in section A, B and F?

वर्ग A, B तथा F में छात्रों की औसत संख्या क्या है?

Options:

- 1) 252
- 2) 600
- 3) 210
- 4) 756

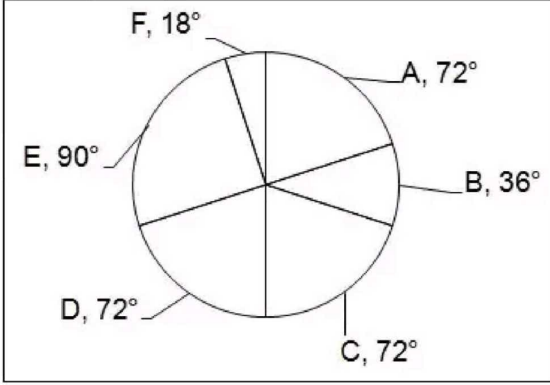
Correct Answer: 210

Candidate Answer: 210

QID : 48 -

The pie chart given below shows the number of students in 6 different sections. The total number of students is 1800.

नीचे दिए गए वृत्त चित्र में 6 विभिन्न वर्गों में छात्रों की संख्या को दर्शाया गया है। छात्रों की कुल संख्या 1800 है।



What is the difference between the number of students in section F to the number of students in section C?

वर्ग F में छात्रों की संख्या तथा वर्ग C में छात्रों की संख्या के मध्य अंतर क्या है?

Options:

- 1) 108
- 2) 270
- 3) 90
- 4) 60

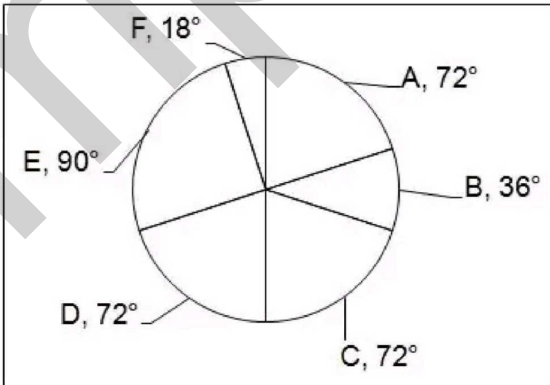
Correct Answer: 270

Candidate Answer: 270

QID : 49 -

The pie chart given below shows the number of students in 6 different sections. The total number of students is 1800.

नीचे दिए गए वृत्त चित्र में 6 विभिन्न वर्गों में छात्रों की संख्या को दर्शाया गया है। छात्रों की कुल संख्या 1800 है।



What is the total number of students in section E, C and F?

वर्ग E, C तथा F में छात्रों की कुल संख्या क्या है?

Options:

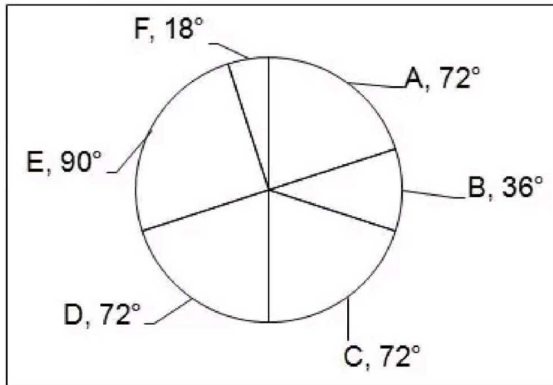
- 1) 500
- 2) 800
- 3) 900
- 4) 1080

Correct Answer: 900  
Candidate Answer: 900

QID : 50 -

The pie chart given below shows the number of students in 6 different sections. The total number of students is 1800.

नीचे दिए गए वृत्त चित्र में 6 विभिन्न वर्गों में छात्रों की संख्या को दर्शाया गया है। छात्रों की कुल संख्या 1800 है।



What is the ratio of number of students in section D to the number of students in section F and B?

वर्ग D में छात्रों की संख्या का वर्ग F तथा B में छात्रों की संख्या से क्या अनुपात है?

Options:

- 1) 4 : 1
- 2) 1 : 2
- 3) 4 : 3
- 4) 2 : 3

Correct Answer: 4 : 3

Candidate Answer: 4 : 3

QID : 51 - In the following question, some part of the sentence may have errors. Find out which part of the sentence has an error and select the appropriate option. If a sentence is free from error, select 'No Error'.

Many pilgrims died in a stampede while boarding (1)/ a private ferry to the holy place on (2)/ the first day of the ten day long festival. (3)/ No error (4)

Options:

- 1) 1
- 2) 2
- 3) 3
- 4) 4

Correct Answer: 3

Candidate Answer: 3

QID : 52 - In the following question, some part of the sentence may have errors. Find out which part of the sentence has an error and select the appropriate option. If a sentence is free from error, select 'No Error'.

Companies in countries as the United States (1)/ left out of the trade pacts could face (2)/ disadvantages when trying to tap fast growing Asian markets. (3)/ No error (4)

Options:

- 1) 1
- 2) 2
- 3) 3
- 4) 4

Correct Answer: 1

Candidate Answer: 3

QID : 53 - In the following question, the sentence given with blank to be filled in with an appropriate word. Select the correct alternative out of the four and indicate it by selecting the appropriate option.

Why \_\_\_\_\_ your friend set this meeting?

Options:

- 1) did
- 2) done
- 3) doing
- 4) won

Correct Answer: did

Candidate Answer: did



**QID : 54** - In the following question, the sentence given with blank to be filled in with an appropriate word. Select the correct alternative out of the four and indicate it by selecting the appropriate option.

By \_\_\_\_\_ was this done?

**Options:**

- 1) whose
- 2) why
- 3) whom
- 4) where

**Correct Answer:** whom

**Candidate Answer:** whom

**QID : 55** - In the following question, out of the given four alternatives, select the one which best expresses the meaning of the given word.

**Rhythm**

**Options:**

- 1) Ugliness
- 2) Tempo
- 3) Inelegance
- 4) Crudeness

**Correct Answer:** Tempo

**Candidate Answer:** Crudeness

**QID : 56** - In the following question, out of the given four alternatives, select the one which best expresses the meaning of the given word.

**Revelation**

**Options:**

- 1) Secret
- 2) Break
- 3) Denial
- 4) Refusal

**Correct Answer:** Break

**Candidate Answer:** Break

**QID : 57** - In the following question, out of the given four alternatives, select the one which best expresses the meaning of the given word.

**Deplore**

**Options:**

- 1) Approve
- 2) Regret
- 3) Praise
- 4) Rejoice

**Correct Answer:** Regret

**Candidate Answer:** Praise

**QID : 58** - In the following question, out of the given four alternatives, select the one which is opposite in meaning of the given word.

**Bare**

**Options:**

- 1) Bald
- 2) Covered
- 3) Naked
- 4) Shorn

**Correct Answer:** Covered

**Candidate Answer:** [ NOT ANSWERED ]

**QID : 59** - In the following question, out of the given four alternatives, select the one which is opposite in meaning of the given word.

**Capture**

**Options:**

- 1) Arrest
- 2) Catching
- 3) Grab
- 4) Release

**Correct Answer:** Release

**Candidate Answer:** Release

**QID : 60** - In the following question, out of the given four alternatives, select the one which is opposite in meaning of the given word.

**Command**

**Options:**

- 1) Permission
- 2) Ban
- 3) Act
- 4) Call

**Correct Answer:** Permission

**Candidate Answer:** Permission

**QID : 61** - In the following question, out of the four given alternatives, select the alternative which best expresses the meaning of the Idiom/Phrase.

**Ball is in your court**



**Options:**

- 1) It is up to you to take the next step
- 2) You have to play now
- 3) It is you who has to help now
- 4) It is you who has to bat

**Correct Answer:** It is up to you to take the next step

**Candidate Answer:** It is up to you to take the next step

**QID : 62** - In the following question, out of the four given alternatives, select the alternative which best expresses the meaning of the Idiom/Phrase.

**Cry over spilt milk**

**Options:**

- 1) To complain about a loss from the past
- 2) Exaggerate small problem
- 3) Made to undergo graving tests
- 4) Cautionary talk given in private

**Correct Answer:** To complain about a loss from the past

**Candidate Answer:** To complain about a loss from the past

**QID : 63** - Improve the bracketed part of the sentence.

The quality of service (**providing**) was excellent especially in the hospitals run by charitable trusts and religious foundations.

**Options:**

- 1) provides
- 2) provide
- 3) provided
- 4) No improvement

**Correct Answer:** provided

**Candidate Answer:** provides

**QID : 64** - Improve the bracketed part of the sentence.

People in the remote village of Kerela are now totally self sufficient and liberal and no longer (**waited**) till people from urban areas dish out empowerment as a special privilege or favour.

**Options:**

- 1) wait
- 2) waiting
- 3) waits
- 4) No improvement

**Correct Answer:** wait

**Candidate Answer:** waiting

**QID : 65** - In the following question, out of the four given alternatives, select the alternative which is the best substitute of the phrase.

**A partner in crime.**

**Options:**

- 1) Accomplice
- 2) Apprentice
- 3) Practioner
- 4) Cowardice

**Correct Answer:** Accomplice

**Candidate Answer:** Accomplice

**QID : 66** - In the following question, out of the four given alternatives, select the alternative which is the best substitute of the phrase.

**The period between the beginning of puberty and adulthood.**

**Options:**

- 1) Infant
- 2) Child
- 3) Adult
- 4) Adolescence

**Correct Answer:** Adolescence

**Candidate Answer:** Child

**QID : 67** - In the following question, a word has been written in four different ways out of which only one is correctly spelt. Select the correctly spelt word.

**Options:**

- 1) Houliday
- 2) Holiday
- 3) Hauliday
- 4) Holeday

**Correct Answer:** Holiday

**Candidate Answer:** Holiday

**QID : 68** - In the following question, a word has been written in four different ways out of which only one is correctly spelt. Select the correctly spelt word.

**Options:**

- 1) Swacter
- 2) Sweator
- 3) Sveater
- 4) Sweater

**Correct Answer:** Sweater

**Candidate Answer:** Sweater

**QID : 69** - Rearrange the parts of the sentence in correct order.

Real happiness  
**P:** in material  
**Q:** possessions alone  
**R:** does not lie

**Options:**

- 1) PQR
- 2) RQP
- 3) RPQ
- 4) QPR

**Correct Answer:** RPQ

**Candidate Answer:** RPQ

**QID : 70** - Rearrange the parts of the sentence in correct order.

He drove his  
**P:** slimy road to  
**Q:** reach Shimla  
**R:** car through

**Options:**

- 1) QRP
- 2) PQR
- 3) RPQ
- 4) PRQ

**Correct Answer:** RPQ

**Candidate Answer:** RPQ

**QID : 71** - In the following passage some of the words have been left out. Read the passage carefully and select the correct answer for the given blank out of the four alternatives.

The use of technological equipment has given \_\_\_\_\_ to various types of pollution. The industrial waste is \_\_\_\_\_ in the seas and other water bodies, thereby leading to water pollution, the smoke \_\_\_\_\_ by factories and vehicles causes air pollution, noise pollution is also a result of the production/ use of technological devices. Industrial waste has also \_\_\_\_\_ to soil pollution. Technological \_\_\_\_\_ has also given way to thermal, radioactive and light pollution.

**equipment has given \_\_\_\_\_ to various**

**Options:**

- 1) rise
- 2) surprise
- 3) wise
- 4) size

**Correct Answer:** rise

**Candidate Answer:** rise

**QID : 72** - In the following passage some of the words have been left out. Read the passage carefully and select the correct answer for the given blank out of the four alternatives.

The use of technological equipment has given \_\_\_\_\_ to various types of pollution. The industrial waste is \_\_\_\_\_ in the seas and other water bodies, thereby leading to water pollution, the smoke \_\_\_\_\_ by factories and vehicles causes air pollution, noise pollution is also a result of the production/ use of technological devices. Industrial waste has also \_\_\_\_\_ to soil pollution. Technological \_\_\_\_\_ has also given way to thermal, radioactive and light pollution.

**waste is \_\_\_\_\_ in the seas**

**Options:**

- 1) crown
- 2) thrown
- 3) drawn
- 4) moron

**Correct Answer:** thrown

**Candidate Answer:** thrown

**QID : 73** - In the following passage some of the words have been left out. Read the passage carefully and select the correct answer for the given blank out of the four alternatives.

The use of technological equipment has given \_\_\_\_\_ to various types of pollution. The industrial waste is \_\_\_\_\_ in the seas and other water bodies, thereby leading to water pollution, the smoke \_\_\_\_\_ by factories and vehicles causes air pollution, noise pollution is also a result of the production/ use of technological devices. Industrial waste has also \_\_\_\_\_ to soil pollution. Technological \_\_\_\_\_ has also given way to thermal, radioactive and light pollution.

**the smoke \_\_\_\_\_ by factories**

**Options:**

- 1) remilted
- 2) admilted
- 3) emilted
- 4) transmilted

**Correct Answer:** emitted

**Candidate Answer:** emitted

**QID : 74** - In the following passage some of the words have been left out. Read the passage carefully and select the correct answer for the given blank out of the four alternatives.

The use of technological equipment has given \_\_\_\_\_ to various types of pollution. The industrial waste is \_\_\_\_\_ in the seas and other water bodies, thereby leading to water pollution, the smoke \_\_\_\_\_ by factories and vehicles causes air pollution, noise pollution is also a result of the production/ use of technological devices. Industrial waste has also \_\_\_\_\_ to soil pollution. Technological \_\_\_\_\_ has also given way to thermal, radioactive and light pollution.

**waste has also \_\_\_\_\_ to soil**

**Options:**

- 1) inculcated
- 2) result
- 3) initiate
- 4) led

**Correct Answer:** led

**Candidate Answer:** initiate

**QID : 75** - In the following passage some of the words have been left out. Read the passage carefully and select the correct answer for the given blank out of the four alternatives.

The use of technological equipment has given \_\_\_\_\_ to various types of pollution. The industrial waste is \_\_\_\_\_ in the seas and other water bodies, thereby leading to water pollution, the smoke \_\_\_\_\_ by factories and vehicles causes air pollution, noise pollution is also a result of the production/ use of technological devices. Industrial waste has also \_\_\_\_\_ to soil pollution. Technological \_\_\_\_\_ has also given way to thermal, radioactive and light pollution.

**Technological \_\_\_\_\_ has also given way to thermal**

**Options:**

- 1) regression
- 2) repairmen
- 3) increment
- 4) advancement

**Correct Answer:** advancement

**Candidate Answer:** increment

**QID : 76** - Who is the chairman of NITI Aayog?

नीति आयोग के अध्यक्ष कौन हैं?

**Options:**

- 1) Arvind Panagairya  
अरविंद पानगढ़िया
- 2) Rajeev Kumar  
राजीव कुमार
- 3) Narendra Modi  
नरेंद्र मोदी
- 4) Arun Jaitley  
अरुण जेटली

**Correct Answer:** Narendra Modi

नरेंद्र मोदी

**Candidate Answer:** Narendra Modi

नरेंद्र मोदी

**QID : 77** - Which of the following is related to oil seed production?

निम्न में से कौन तेल के उत्पादन से संबंधित है?

**Options:**

- 1) White revolution  
श्वेत क्रांति
- 2) Yellow revolution  
पीली क्रांति
- 3) Green revolution  
हरित क्रांति
- 4) Brown revolution  
भूरी क्रांति

**Correct Answer:** Yellow revolution

पीली क्रांति

**Candidate Answer:** Yellow revolution

पीली क्रांति

**QID : 78** - On which day the Indian Constitution came into force?

भारतीय संविधान किस तिथि को लागू हुआ?

**Options:**

- 1) Margsheersh Shukla Saptami, Samvat 2006 Vikrami  
मार्गशीर्ष शुक्ल सप्तमी, संवत् 2006 विक्रमी
- 2) Margsheersh Shukla Saptami, Samvat 2007 Vikrami  
मार्गशीर्ष शुक्ल सप्तमी, संवत् 2007 विक्रमी
- 3) Margsheersh Shukla Saptami, Samvat 2008 Vikrami  
मार्गशीर्ष शुक्ल सप्तमी, संवत् 2008 विक्रमी
- 4) Margsheersh Shukla Saptami, Samvat 2009 Vikrami  
मार्गशीर्ष शुक्ल सप्तमी, संवत् 2009 विक्रमी

**Correct Answer:** Margsheersh Shukla Saptami, Samvat 2006 Vikrami

मार्गशीर्ष शुक्ल सप्तमी, संवत् 2006 विक्रमी

**Candidate Answer:** Margsheersh Shukla Saptami, Samvat 2006 Vikrami

मार्गशीर्ष शुक्ल सप्तमी, संवत् 2006 विक्रमी

**QID : 79** - What does the term "Fourth estate" refer to?

'चौथा स्तंभ' शब्द किससे संबंधित है?

**Options:**

- 1) Legislature  
विधान मंडल
- 2) Heritage buildings  
विरासत भवन
- 3) Judiciary  
न्यायिक
- 4) Press  
प्रेस

**Correct Answer:** Press  
प्रेस

**Candidate Answer:** [ NOT ANSWERED ]

**QID : 80** - The script of Indus valley Civilization is/was \_\_\_\_\_.

सिंधु घाटी सभ्यता की लिपि है/थी \_\_\_\_\_।

**Options:**

- 1) Brahmi  
ब्राह्मी
- 2) Pali  
पाली
- 3) Dravidian  
द्रविड़
- 4) It is still undeciphered.  
यह अभी भी अपठित है।

**Correct Answer:** It is still undeciphered.  
यह अभी भी अपठित है।

**Candidate Answer:** It is still undeciphered.  
यह अभी भी अपठित है।

**QID : 81** - Who installed the "bell of justice"?

"न्याय का घंटा" किसने स्थापित किया था?

**Options:**

- 1) Humayun  
हुमायूँ
- 2) Babur  
बाबर
- 3) Jahangir  
जहांगीर
- 4) Akbar  
अकबर

**Correct Answer:** Jahangir  
जहांगीर

**Candidate Answer:** Jahangir  
जहांगीर

**QID : 82** - What percentage of the Earth's area is approximately filled with water?

पृथ्वी के क्षेत्र का कितना प्रतिशत लगभग पानी से भरा है?

**Options:**

- 1) 50%
- 2) 60%
- 3) 70%
- 4) 80%

**Correct Answer:** 70%

**Candidate Answer:** 70%

**QID : 83** - Chambal river is the tributary of which of the following river?

चंबल नदी किसकी उपनदी है?

**Options:**

- 1) Yamuna  
यमुना
- 2) Ganga  
गंगा
- 3) Narmada  
नर्मदा
- 4) Godavari  
गोदावरी

**Correct Answer:** Yamuna  
यमुना

**Candidate Answer:** Ganga  
गंगा

**QID : 84** - Which one of the following items is not a source of Vitamin C?

निम्नलिखित में से कौन सी वस्तु विटामिन सी का स्रोत नहीं है?

**Options:**

- 1) Potato  
आलू
- 2) Tomato  
टमाटर
- 3) Guava  
अमरूद
- 4) Egg  
अंडा

**Correct Answer:** Egg  
अंडा

**Candidate Answer:** Potato  
आलू

**QID : 85** - What is the normal temperature of the human body?

मानव शरीर का सामान्य तापमान क्या है?

**Options:**

- 1) 30.5° C  
30.5 डिग्री सेल्सियस
- 2) 37° C  
37 डिग्री सेल्सियस
- 3) 98.4° C  
98.4 डिग्री सेल्सियस
- 4) 97.4° C  
97.4 डिग्री सेल्सियस

**Correct Answer:** 37° C  
37 डिग्री सेल्सियस

**Candidate Answer:** 37° C  
37 डिग्री सेल्सियस

**QID : 86** - Iodization of Salt is a public health measure to prevent \_\_\_\_\_.

नमक का आयोडनीकरण \_\_\_\_\_ रोकने के लिए एक सार्वजनिक स्वास्थ्य उपाय है।

**Options:**

- 1) Diabetes  
मधुमेह
- 2) Tuberculosis  
यक्ष्मा
- 3) Goitre  
घेघा
- 4) Anemia  
एनिमिया

**Correct Answer:** Goitre  
घेघा

**Candidate Answer:** Goitre  
घेघा

**QID : 87** - A light year is the unit of which of the following?

प्रकाश वर्ष निम्नलिखित में से किसकी इकाई है?

**Options:**

- 1) Light  
प्रकाश
- 2) Speed  
गति
- 3) Sound  
ध्वनि
- 4) Distance  
दूरी

**Correct Answer:** Distance  
दूरी

**Candidate Answer:** Distance  
दूरी

**QID : 88** - Which are the primary Colours?

प्राथमिक रंग कौन से हैं?

**Options:**

- 1) Yellow, Green, Blue  
पीला, हरा, नीला
- 2) Red, Magenta, Blue  
लाल, मैजेंटा, नीला
- 3) Red, Green, White  
लाल, हरा, सफेद
- 4) Red, Green, Blue  
लाल, हरा, नीला

**Correct Answer:** Red, Green, Blue  
लाल, हरा, नीला

**Candidate Answer:** Red, Green, Blue  
लाल, हरा, नीला

**QID : 89** - Which of the following is not an input device?

इनमें से कौन सा एक इनपुट डिवाइस नहीं है?

**Options:**

- 1) Microprocessor  
माइक्रोप्रोसेसर
- 2) Mouse  
माउस
- 3) Keyboard  
कीबोर्ड
- 4) Joystick  
जॉय स्टिक

**Correct Answer:** Microprocessor  
माइक्रोप्रोसेसर

**Candidate Answer:** Microprocessor  
माइक्रोप्रोसेसर

**QID : 90** - Primarily which kind of acid is present in apple?

मुख्य रूप से सेब में किस प्रकार का अम्ल पाया जाता है?

**Options:**

- 1) Citric acid  
साइट्रिक एसिड
- 2) Lactic acid  
दुग्धाम्ल
- 3) Tartaric acid  
टारटरिक अम्ल
- 4) Malic acid  
मैलिक एसिड

**Correct Answer:** Malic acid  
मैलिक एसिड

**Candidate Answer:** Malic acid  
मैलिक एसिड

**QID : 91** - Which of the following gases is used for artificial ripening of green fruits?

निम्न में से किस गैस का उपयोग हरे फल को कृत्रिम तरीके से पकाने के लिए किया जाता है?

**Options:**

- 1) Ethane  
इथेन
- 2) Ethylene  
एथिलीन
- 3) Carbon dioxide  
कार्बन डाइऑक्साइड
- 4) Acetylene  
एसिटिलीन

**Correct Answer:** Acetylene  
एसिटिलीन

**Candidate Answer:** Acetylene  
एसिटिलीन

**QID : 92** - Which of the following living beings is most likely to produce greenhouse gases?

निम्नलिखित में से कौन सा सजीव सबसे अधिक ग्रीनहाउस गैस उत्पन्न कर सकता है?

**Options:**

- 1) Bacteria  
जीवाणु
- 2) Fungi  
कवक
- 3) Earthworm  
केंचुआ
- 4) Green Plants  
हरे पौधे

**Correct Answer:** Green Plants  
हरे पौधे

**Candidate Answer:** Earthworm  
केंचुआ

**QID : 93** - What is the cover amount for partial disability in Pradhan Mantri Suraksha Bima Yojana?

प्रधानमंत्री सुरक्षा बीमा योजना में आंशिक विकलांगता के लिए कवर राशि क्या है?

**Options:**

- 1) 4 Lakh  
4 लाख
- 2) 3 Lakh  
3 लाख
- 3) 2 Lakh  
2 लाख
- 4) 1 Lakh  
1 लाख

**Correct Answer:** 1 Lakh  
1 लाख

**Candidate Answer:** 1 Lakh

1 लाख

**QID : 94** - Who invented the fountain pen?

फाउंटेन पेन का आविष्कार किसने किया?

**Options:**

1) Dresser

ड्रेसर

2) Petrache Poenaru

पेत्राशे पोएनरू

3) Alxender Fleming

अलेक्जेंडर फ्लेमिंग

4) Edward Jenner

एडवर्ड जेनर

**Correct Answer:** Petrache Poenaru

पेत्राशे पोएनरू

**Candidate Answer:** Alxender Fleming

अलेक्जेंडर फ्लेमिंग

**QID : 95** - When was the first Common Wealth Games held?

पहले राष्ट्रमंडल खेलों का आयोजन कब हुआ था?

**Options:**

1) 1920

2) 1930

3) 1940

4) 1950

**Correct Answer:** 1930

**Candidate Answer:** [ NOT ANSWERED ]

**QID : 96** - Who does **not** belong to Madhubani Painting?

कौन मधुबनी चित्रकारी से संबंधित **नहीं** है?

**Options:**

1) Bharti Dayal

भारती दयाल

2) Baua Devi

बौआ देवी

3) Madhu Kishwar

मधु किश्वर

4) Ganga Devi

गंगा देवी

**Correct Answer:** Madhu Kishwar

मधु किश्वर

**Candidate Answer:** Ganga Devi

गंगा देवी

**QID : 97** - Which is the highest gallantry award in India?

भारत में वीरता का सर्वोच्च पुरस्कार कौन सा है?

**Options:**

1) Ashoka Chakra

अशोक चक्र

2) Param Vir Chakra

परमवीर चक्र

3) Mahavir Chakra

महावीर चक्र

4) Bharat Ratna

भारत रत्न

**Correct Answer:** Param Vir Chakra

परमवीर चक्र

**Candidate Answer:** Ashoka Chakra

अशोक चक्र

**QID : 98** - Who is author of the book "The Namesake"?

"द नेमसेक" के लेखक कौन हैं?

**Options:**

1) Amitav Ghosh

अमिताभ घोष

2) Arundhati Roy

अरुंधति राय

3) Kiran Desai

किरण देसाई

4) Jhumpa Lahiri

झुम्पा लाहिड़ी

**Correct Answer:** Jhumpa Lahiri

झुम्पा लाहिड़ी

**Candidate Answer:** [ NOT ANSWERED ]



**QID : 99** - Which country imposed the world's toughest law against plastic bags recently?

हाल ही में किस देश ने प्लास्टिक बैग के खिलाफ दुनिया का सबसे मुश्किल कानून लागू किया?

**Options:**

- 1) Japan  
जापान
- 2) India  
भारत
- 3) Kenya  
केन्या
- 4) France  
फ्रांस

**Correct Answer:** Kenya  
केन्या

**Candidate Answer:** Kenya  
केन्या

**QID : 100** - MPhil in Hindi degree is awarded for the first time in which of the following country?

निम्नलिखित में से किस देश में पहली बार हिंदी में एमफिल से सम्मानित किया गया है?

**Options:**

- 1) Bangladesh  
बांग्लादेश
- 2) Pakistan  
पाकिस्तान
- 3) Sri Lanka  
श्रीलंका
- 4) Afghanistan  
अफ़ग़ानिस्तान

**Correct Answer:** Pakistan  
पाकिस्तान

**Candidate Answer:** [ NOT ANSWERED ]

