

QID : 101 -

In the following question, select the number which can be placed at the sign of question mark (?) from the given alternatives.

निम्नलिखित प्रश्न में दिए गए विकल्पों में से प्रश्न चिह्न (?) के स्थान पर आने वाली संख्या को चुनिए।

3	4
7	19

5	2
3	13

8	4
3	?

Options:

- 1) 35
- 2) 37
- 3) 39
- 4) 41

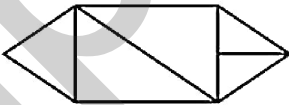
Correct Answer: 35

Candidate Answer: 35

QID : 102 -

How many triangles are there in the given figure?

दी गई आकृति में कितने त्रिभुज हैं?



Options:

- 1) 5
- 2) 6
- 3) 7
- 4) 8

Correct Answer: 6

Candidate Answer: 6

QID : 103 -

A word is represented by only one set of numbers as given in any one of the alternatives. The sets of numbers given in the alternatives are represented by two classes of alphabets as shown in the given two matrices. The columns and rows of **Matrix-I** are numbered from 0 to 4 and that of **Matrix-II** are numbered from 5 to 9. A letter from these matrices can be represented first by its row and next by its column, for example, 'A' can be represented by 24, 95, etc., and 'M' can be represented by 11, 66, etc. Similarly, you have to identify the set for the word "PLEAN".

एक शब्द केवल एक संख्या-समूह द्वारा दर्शाया गया है, जैसा कि विकल्पों में से किसी एक में दिया गया है। विकल्पों में दिए गए संख्या-समूह अक्षरों के दो वर्गों द्वारा दर्शाए गए हैं, जैसा कि दिए गए दो आव्यूहों में है। आव्यूह-I के स्तम्भ और पंक्ति की संख्या 0 से 4 है और आव्यूह-II की 5 से 9। इन आव्यूहों से एक अक्षर को पहले उसकी पंक्ति और बाद में स्तम्भ संख्या द्वारा दर्शाया जा सकता है। उदाहरण के लिए 'A' को 24, 95, आदि द्वारा दर्शाया जा सकता है तथा 'M' को 11, 66, आदि द्वारा दर्शाया जा सकता है। इसी तरह से आपको प्रश्न में दिए शब्द "PLEAN" के लिए समूह को पहचानना है।

Matrix-I
आव्यूह-I

	0	1	2	3	4
0	P	C	W	G	I
1	K	M	O	Q	S
2	U	W	Y	B	A
3	F	H	J	L	N
4	A	P	T	V	X

Matrix-II
आव्यूह-II

	5	6	7	8	9
5	O	K	D	F	X
6	G	M	N	H	V
7	E	O	Y	J	T
8	C	F	W	L	P
9	A	S	U	N	P

Options:

- 1) 99, 00, 69, 86, 32
- 2) 02, 04, 88, 30, 42
- 3) 89, 88, 75, 31, 03
- 4) 00, 33, 75, 24, 98

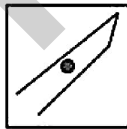
Correct Answer: 00, 33, 75, 24, 98

Candidate Answer: 00, 33, 75, 24, 98

QID : 104 -

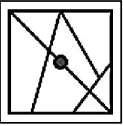
From the given answer figures, select the one in which the question figure is hidden/embedded.

दी गई उत्तर आकृतियों में से उस उत्तर आकृति को चुनिए जिस में प्रश्न आकृति निहित है।

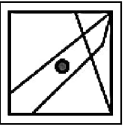


Options:

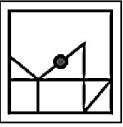
1)



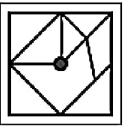
2)



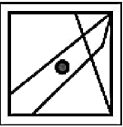
3)



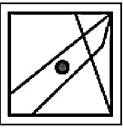
4)



Correct Answer:



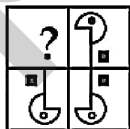
Candidate Answer:



QID : 105 -

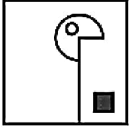
Which answer figure will complete the pattern in the question figure?

कौन सी उत्तर आकृति प्रश्न आकृति के प्रतिरूप को पूरा करेगी?

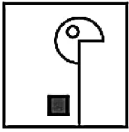


Options:

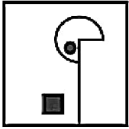
1)



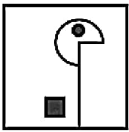
2)



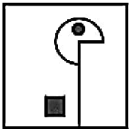
3)



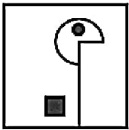
4)



Correct Answer:



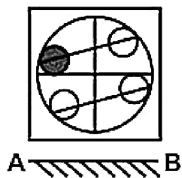
Candidate Answer:



QID : 106 -

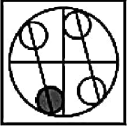
If a mirror is placed on the line AB, then which of the answer figures is the right image of the given figure?

यदि एक दर्पण को AB रेखा पर रखा जाए, तो दी गई उत्तर आकृतियों में से कौन सी आकृति प्रश्न आकृति की सही प्रतिबिम्ब होगी?

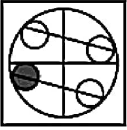


Options:

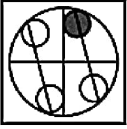
1)



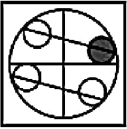
2)



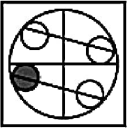
3)



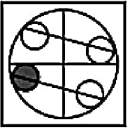
4)



Correct Answer:



Candidate Answer:



QID : 107 -

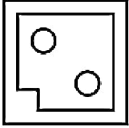
A piece of paper is folded and punched as shown below in the question figures. From the given answer figures, indicate how it will appear when opened?

नीचे के प्रश्न आकृतियों में दिखाए अनुसार कागज को मोड़कर छेदने तथा खोलने के बाद वह किस उत्तर आकृति जैसा दिखाई देगा?

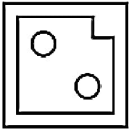


Options:

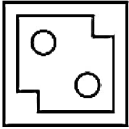
1)



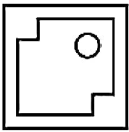
2)



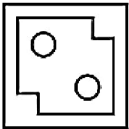
3)



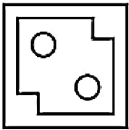
4)



Correct Answer:



Candidate Answer:



QID : 108 - If 'A' means '+', 'B' means '×', 'C' means '÷' and 'D' means '-', then

19 D 3 A 11 B 12 C 132 = ?

यदि 'A' का अर्थ '+', 'B' का अर्थ '×', 'C' का अर्थ '÷' तथा 'D' का अर्थ '-' हो, तो

19 D 3 A 11 B 12 C 132 = ?

Options:

- 1) 14
- 2) 17
- 3) 23
- 4) 35

Correct Answer: 17

Candidate Answer: 17

QID : 109 - If $6 A 3 C 2 = 7$ and $17 A 7 C 11 = 13$, then

21 A 1 C 12 = ?

यदि $6 A 3 C 2 = 7$ तथा $17 A 7 C 11 = 13$ हो, तो

21 A 1 C 12 = ?

Options:

- 1) 17
- 2) 14
- 3) 15
- 4) 10

Correct Answer: 10

Candidate Answer: 10

QID : 110 - Arrange the given words in the sequence in which they occur in the dictionary.

1. Crow
2. Gown
3. Creep
4. Crane
5. Crest

निम्नलिखित शब्दों को शब्दकोश में आने वाले क्रम के अनुसार लिखें।

1. Crow
2. Gown
3. Creep
4. Crane
5. Crest

Options:

1) 43512

2) 43521

3) 45321

4) 45312

Correct Answer: 43512

Candidate Answer: 43512

QID : 111 - In the following question, select the missing number from the given series.

2, 6, 18, 54, ?

निम्नलिखित प्रश्न में दिए गए विकल्पों में से लुप्त अंक ज्ञात कीजिए।

2, 6, 18, 54, ?

Options:

1) 152

2) 162

3) 148

4) 164

Correct Answer: 162

Candidate Answer: 162

QID : 112 - A series is given with one term missing. Select the correct alternative from the given ones that will complete the series.

X, V, ?, R, P

एक अनुक्रम दिया गया है, जिसमें से एक पद लुप्त है। दिए गए विकल्पों में से वह सही विकल्प चुनिए, जो अनुक्रम को पूरा करे।

X, V, ?, R, P

Options:

1) S

2) T

3) U

4) Q

Correct Answer: T

Candidate Answer: T

QID : 113 - In the following question, select the odd word from the given alternatives.

निम्नलिखित प्रश्न में दिए गए विकल्पों में से विषम शब्द को चुनिए।

Options:

1) Russian

रूसी

2) Hindi

हिन्दी

3) Punjabi

पंजाबी

4) Economics

अर्थशास्त्र

Correct Answer: Economics

अर्थशास्त्र

Candidate Answer: Economics

अर्थशास्त्र

QID : 114 - In the following question, select the odd number pair from the given alternatives.

निम्नलिखित प्रश्न में दिए गए विकल्पों में से विषम

Options:

- 1) 8 - 13
- 2) 5 - 10
- 3) 7 - 12
- 4) 9 - 16

Correct Answer: 9 - 16

Candidate Answer: 5 - 10

QID : 115 - In the following question, select the odd letters from the given alternatives.

निम्नलिखित प्रश्न में दिए गए विकल्पों में से विषम अक्षरों को चुनिए।

Options:

- 1) QP
- 2) NM
- 3) VU
- 4) IJ

Correct Answer: IJ

Candidate Answer: IJ

QID : 116 - Identify the diagram that best represents the relationship among the given classes.

Trouser, Shirt, Garment

वह आरेख चुनिए जो नीचे दिए गए वर्गों के बीच के संबंध का सही निरूपण करता है।

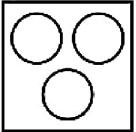
पतलून, कमीज़, वस्त्र

Options:

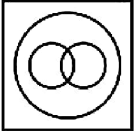
1)



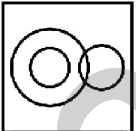
2)



3)



4)



Correct Answer:



Candidate Answer:



QID : 117 - In the following question, select the related word from the given alternatives.

Dawn : Dusk :: Up : ?

निम्नलिखित प्रश्न में दिए गए विकल्पों में से संबंधित शब्द को चुनिए।

ऊषाकाल : संध्याकाल :: ऊपर : ?

Options:

- 1) Top
सबसे ऊपर
- 2) Long
लम्बा
- 3) Down
नीचे
- 4) Going
जाना

Correct Answer: Down
नीचे

Candidate Answer: Down
नीचे

QID : 118 - In the following question, select the related number from the given alternatives.

12 : 144 :: 14 : ?

निम्नलिखित प्रश्न में दिए गए विकल्पों में से संबंधित संख्या को चुनिए।

12 : 144 :: 14 : ?

Options:

- 1) 196
- 2) 172
- 3) 189
- 4) 156

Correct Answer: 196

Candidate Answer: 196

QID : 119 - In the following question, select the related letters from the given alternatives.

PHONE : ENOHP :: CALLER : ?

निम्नलिखित प्रश्न में दिए गए विकल्पों में से संबंधित अक्षरों को चुनिए।

PHONE : ENOHP :: CALLER : ?

Options:

- 1) RELLAC
- 2) LLREAC
- 3) RECALL
- 4) RELKAC

Correct Answer: RELLAC

Candidate Answer: RELLAC

QID : 120 - In the following question, select the word which cannot be formed using the letters of the given word.

SINGULAR

निम्नलिखित विकल्पों में से वह शब्द चुनिए जो दिए गए शब्द के अक्षरों का प्रयोग करके नहीं बनाया जा सकता।

SINGULAR

Options:

- 1) SIGN
- 2) SIGNAL
- 3) RAINS
- 4) RAISE

Correct Answer: RAISE

Candidate Answer: RAISE

QID : 121 - Raju remembers his birthday is before 18th January. His wife remembers his birthday is after 16th January. On which date of January is his birthday?

राजू को याद है कि उसका जन्मदिन 18 जनवरी से पहले है। उसकी पत्नी को याद है कि उसका जन्मदिन 16 जनवरी के पश्चात है। उसका जन्मदिन जनवरी की कौन सी तिथि को है?

Options:

- 1) 17
- 2) 16
- 3) 18
- 4) 16 or 17
16 अथवा 17

Correct Answer: 17

Candidate Answer: 17

QID : 122 - A is mother of B. B is son of C. C is brother of D. D is niece of E. How is C related to E?

A, B की माता है। B, C का पुत्र है। C, D का भाई है। D, E की भतीजी है। C, E से किस प्रकार संबंधित है?

Options:

- 1) Nephew
भतीजा
- 2) Father
पिता
- 3) Husband
पति
- 4) Brother-in-law
जीजा

Correct Answer: Nephew

भतीजा

Candidate Answer: Nephew

भतीजा

QID : 123 - In the following question below are given some statements followed by some conclusions. Taking the given statements to be true even if they seem to be at variance from commonly known facts, read all the conclusions and then decide which of the given conclusion logically follows the given statements.

Statements:

- I. All pens are pencils.
- II. All pencils are cups.

Conclusions:

- I. Some cups are pens.
- II. Some cups are pencils.

नीचे दिए गए प्रश्न में कुछ कथन और उनके बाद उन कथनों पर आधारित कुछ निष्कर्ष दिए गए हैं, हालांकि उनमें सामान्य ज्ञात तथ्यों से भिन्नता हो सकती है। सभी निष्कर्ष पढ़ें और फिर निर्धारित करें कि दिए गए कौन से निष्कर्ष, दिए गए कथनों के आधार पर युक्तिसंगत हैं।

कथन:

- I. सभी कलम पेंसिल हैं।
- II. सभी पेंसिल कप हैं।

निष्कर्ष:

- I. कुछ कप कलम हैं।
- II. कुछ कप पेंसिल हैं।

Options:

- 1) Only conclusion (I) follows.
केवल निष्कर्ष (I) सही है।
- 2) Only conclusion (II) follows.
केवल निष्कर्ष (II) सही है।
- 3) Both conclusion follow.
दोनों ही निष्कर्ष सही हैं।
- 4) Neither conclusion (I) nor conclusion (II) follows.
न तो निष्कर्ष (I) न ही निष्कर्ष (II) सही है।

Correct Answer: Both conclusion follow.

दोनों ही निष्कर्ष सही हैं।

Candidate Answer: Both conclusion follow.

दोनों ही निष्कर्ष सही हैं।

QID : 124 - In a certain code language, "SPROUT" is written as "XUWTZY". How is "STEAM" written in that code language?

एक विशिष्ट कोड भाषा में, "SPROUT" को "XUWTZY" लिखा जाता है। इस कोड भाषा में "STEAM" को किस प्रकार लिखा जाएगा?

Options:

- 1) ZAFIP
- 2) RFJYX
- 3) XYJFR
- 4) AZUFY

Correct Answer: XYJFR

Candidate Answer: XYJFR

QID : 125 - In a certain code language, "FLIP" is written as "38" and "TRIP" is written as "58". How is "MAKE" written in that code language?

एक विशिष्ट कोड भाषा में, "FLIP" को "38" तथा "TRIP" को "58" लिखा जाता है। इस कोड भाषा में "MAKE" को किस प्रकार लिखा जाएगा?

Options:

- 1) 26
- 2) 32
- 3) 28
- 4) 25

Correct Answer: 25

Candidate Answer: 25

QID : 126 - What is the value of $(.4)^2 + (.04)^2 + (.004)^2$?

$(.4)^2 + (.04)^2 + (.004)^2$ का मान क्या है?

Options:

- 1) 0.161616
- 2) 0.0161606
- 3) 0.001616
- 4) 0.000616

Correct Answer: 0.161616

Candidate Answer: 0.161616

QID : 127 - What is the value of $(2.7 + 2.5)^2 - (2.7 - 2.5)^2$?

$(2.7 + 2.5)^2 - (2.7 - 2.5)^2$ का मान क्या है?

Options:

- 1) 27
- 2) 28
- 3) 26
- 4) 29

Correct Answer: 27

Candidate Answer: 27

QID : 128 - What is the least common multiple of $(6/5)$ and $(8/25)$?

$(6/5)$ तथा $(8/25)$ का लघुतम समापवर्त्य क्या है?

Options:

1) 2

2) $24/3$

3) 6

4) $24/5$

Correct Answer: $24/5$

Candidate Answer: $24/5$

QID : 129 - What is the simplified value of $[(\sqrt{9} + \sqrt{7}) \div (\sqrt{9} - \sqrt{7})]$

$[(\sqrt{9} + \sqrt{7}) \div (\sqrt{9} - \sqrt{7})]$ का सरलीकृत मान क्या है?

Options:

1) $7 - \sqrt{56}$

2) $8 - \sqrt{63}$

3) $8 + \sqrt{63}$

4) $7 + \sqrt{56}$

Correct Answer: $8 + \sqrt{63}$

Candidate Answer: $8 + \sqrt{63}$

QID : 130 - Which of the following statement(s) is/are true?

I. $(4/9) > (4/7)$

II. $(5/7) > (4/9)$

निम्नलिखित में से कौन सा/से कथन सत्य है/हैं?

I. $(4/9) > (4/7)$

II. $(5/7) > (4/9)$

Options:

1) Only I

केवल I

2) Only II

केवल II

3) Both I and II

I तथा II दोनों

4) Neither I nor II

न तो I न ही II

Correct Answer: Only II

केवल II

Candidate Answer: Only II

केवल II

QID : 131 - Which of the following number is divisible by 8?

निम्नलिखित में से कौन सी संख्या 8 से विभाज्य है?

Options:

1) 98654

2) 97824

3) 99892

4) 112326

Correct Answer: 97824

Candidate Answer: 97824

QID : 132 - A, B and C undertook a work for Rs 80000. Together A and B complete $(\frac{3}{4})^{\text{th}}$ part of the work. What is the share (in Rs.) of C?

A, B तथा C ने एक कार्य को 80000 रु में लिया। A तथा B मिलकर कार्य का $(\frac{3}{4})$ -वां हिस्सा पूरा करते हैं। C का हिस्सा (रु में) क्या है?

Options:

- 1) 20000
- 2) 25000
- 3) 30000
- 4) 22000

Correct Answer: 20000

Candidate Answer: 20000

QID : 133 - X alone can do a work in 300 hours. Y alone can do the same work in 450 hours. X, Y and Z together can do the same work in 90 hours. In how many hours can Z alone do the work?

X एक कार्य को अकेला 300 घंटे में पूरा करता है। Y उसी कार्य को अकेला 450 घंटे में करता है। X, Y तथा Z मिलकर उसी कार्य को 90 घंटे में पूरा करते हैं। Z अकेला उसी कार्य को कितने घंटे में करेगा?

Options:

- 1) 150
- 2) 180
- 3) 220
- 4) 200

Correct Answer: 180

Candidate Answer: 180

QID : 134 - The angles of a triangle are in the ratio of 1 : 2 : 3. What is the measure of the smallest angle (in degrees)?

किसी त्रिभुज के कोणों का अनुपात 1 : 2 : 3 है। सबसे छोटे कोण का मान (डिग्री में) क्या है?

Options:

- 1) 60
- 2) 30
- 3) 90
- 4) 45

Correct Answer: 30

Candidate Answer: 30

QID : 135 - A profit of 20% is made after giving a discount of 10% on an article. If the marked price of the article is Rs 3000, then what is its cost price (in Rs)?

एक वस्तु पर 10% की छूट देने के पश्चात 20% का लाभ होता है। यदि वस्तु का अंकित मूल्य 3000 रु है, तो उसका क्रय मूल्य (रु में) क्या है?

Options:

- 1) 3060
- 2) 2250
- 3) 2500
- 4) 2750

Correct Answer: 2250

Candidate Answer: 2250

QID : 136 - Akash purchased an article at a discount of 40% and sold it to Vinay at 10% profit. What is the ratio between the marked price and the price for which Vinay purchased the article?

आकाश किसी वस्तु को 40% की छूट पर खरीदता है तथा इसे विनय को 10% के लाभ पर बेच देता है। अंकित मूल्य तथा जिस मूल्य पर विनय ने वस्तु को खरीदा है, के बीच का अनुपात क्या है?

Options:

- 1) 11 : 5
- 2) 50 : 33
- 3) 11 : 7
- 4) 25 : 16

Correct Answer: 50 : 33

Candidate Answer: 50 : 33

QID : 137 - If the sum of two numbers is equal to seven times of their difference, then what is the ratio of the numbers?

यदि दो संख्याओं का योग उनके अंतर के सात गुना के बराबर है, तो संख्याओं का अनुपात क्या है?

Options:

- 1) 4 : 3
- 2) 3 : 1
- 3) 4 : 1
- 4) 1 : 6

Correct Answer: 4 : 3

Candidate Answer: 4 : 3

QID : 138 - Three numbers are in the ratio 2 : 3 : 5. If the sum of their squares is 950, then what are the numbers?

तीन संख्याएँ 2 : 3 : 5 के अनुपात में हैं। यदि उनके वर्गों का योग 950 है, तो संख्याएँ क्या हैं?

Options:

1) 10, 15, 20

2) 10, 15, 25

3) 20, 10, 25

4) 30, 15, 25

Correct Answer: 10, 15, 25

Candidate Answer: 10, 15, 25

QID : 139 - The average of 5 consecutive numbers is 18. If next 2 numbers are also included, then what will be the new average?

5 क्रमागत संख्याओं का औसत 18 है। यदि अगली 2 संख्याओं को भी शामिल कर लिया जाये, तो नया औसत क्या होगा?

Options:

1) 18.5

2) 19

3) 19.5

4) 20

Correct Answer: 19

Candidate Answer: 19

QID : 140 - An article is sold at a loss of 14%. If the selling price is tripled, then what will be the profit percentage?

एक वस्तु को 14% की हानि पर बेचा जाता है। यदि विक्रय मूल्य तिगुना कर दिया जाये, तो लाभ प्रतिशत क्या होगा?

Options:

1) 158

2) 100

3) 72

4) 125

Correct Answer: 158

Candidate Answer: 158

QID : 141 - If guava are bought at the rate of 3 for a rupee, then how many guavas must be sold for a rupee so as to gain 50%?

यदि एक रुपये में 3 की दर से अमरूद खरीदे जाते हैं, तो एक रुपये में कितने अमरूद बेचें जायें कि 50% का लाभ हो?

Options:

1) 1

2) 2

3) 4

4) 6

Correct Answer: 2

Candidate Answer: 2

QID : 142 - A number is multiplied by (7/11) instead of (2/3). New value is what percent of desired value?

एक संख्या को (2/3) की बजाए (7/11) से गुणा कर दिया जाता है। नया मान, अपेक्षित मान का कितना प्रतिशत है?

Options:

1) 95.45

2) 90.9

3) 86.29

4) 83.45

Correct Answer: 95.45

Candidate Answer: 95.45

QID : 143 - Two numbers are 15% and 25% less than a third number respectively. First number is what percent of the second number?

दो संख्याएँ एक तीसरी संख्या से क्रमशः 15% तथा 25% कम हैं। पहली संख्या, दूसरी संख्या का कितना प्रतिशत है?

Options:

1) 113.33

2) 119.99

3) 122.22

4) 106.66

Correct Answer: 113.33

Candidate Answer: 113.33

QID : 144 - The speed of a stream is 3 km/hr. A boat goes 60 km and comes back to the starting point in 15 hours. What is the speed (in km/hr) of the boat in still water?

एक धारा की गति 3 कि.मी./घंटा है। एक नाव 60 कि.मी. की दूरी का एक दिशा में आने और वापस आने में कुल 15 घंटे में आ जाती है। शांत जल में नाव की गति (कि.मी./घंटा में) क्या है?

Options:

- 1) 8
- 2) 9
- 3) 10
- 4) 12

Correct Answer: 9

Candidate Answer: 8

QID : 145 - Two men are standing on opposite ends of a 1600 metre long bridge. If they walk towards each other with speeds of 12 m/s and 4 m/s respectively, then in how much time (in seconds) will they meet each other?

दो व्यक्ति 1600 मीटर लम्बे पुल के विपरीत किनारों पर खड़े हैं। यदि वे क्रमशः 12 मी./से. तथा 4 मी./से. की गति से एक दूसरे की ओर चलना प्रारंभ करें, तो वे आपस में मिलने में कितना समय (सेकण्डों में) लेंगे?

Options:

- 1) 120
- 2) 100
- 3) 180
- 4) 150

Correct Answer: 100

Candidate Answer: 100

QID : 146 - In how much time (in years) will Rs 8500 amount to Rs 10200 at simple interest at the rate of 10% per annum?

कितने समय (वर्षों में) में 8500 रु की राशि 10% की वार्षिक दर से साधारण ब्याज पर 10200 रु हो जायेगी?

Options:

- 1) 2
- 2) 3
- 3) 5
- 4) 15

Correct Answer: 2

Candidate Answer: 2

QID : 147 -

The table given below shows the number of students (in 000') passing from 2 schools A and B each year from year 2012 to 2016.

नीचे दी गई तालिका में 2 विद्यालयों A तथा B से वर्ष 2012 से 2016 तक प्रत्येक वर्ष उत्तीर्ण हुए छात्रों की संख्या (000' में) को दर्शाया गया है।

Year / वर्ष	School / विद्यालय	
	A	B
2012	40	36
2013	44	48
2014	50	60
2015	48	54
2016	60	50

What is the percentage change in the number of students passed in school A from year 2012 to year 2015?

वर्ष 2012 से वर्ष 2015 तक विद्यालय A से उत्तीर्ण हुए छात्रों की संख्या में प्रतिशत परिवर्तन क्या है?

Options:

- 1) 4
- 2) 25
- 3) 20
- 4) 5

Correct Answer: 20

Candidate Answer: 20

QID : 148 -

The table given below shows the number of students (in 000') passing from 2 schools A and B each year from year 2012 to 2016.

नीचे दी गई तालिका में 2 विद्यालयों A तथा B से वर्ष 2012 से 2016 तक प्रत्येक वर्ष उत्तीर्ण हुए छात्रों की संख्या (000' में) को दर्शाया गया है।

Year / वर्ष	School / विद्यालय	
	A	B
2012	40	36
2013	44	48
2014	50	60
2015	48	54
2016	60	50

In how many years was the number of students passed in school B more than that of school A?

कितने वर्षों में, विद्यालय B में उत्तीर्ण हुए छात्रों की संख्या विद्यालय A से अधिक थी?

Options:

- 1) 2
- 2) 3
- 3) 5
- 4) 1

Correct Answer: 3

Candidate Answer: 3

QID : 149 -

The table given below shows the number of students (in 000') passing from 2 schools A and B each year from year 2012 to 2016.

नीचे दी गई तालिका में 2 विद्यालयों A तथा B से वर्ष 2012 से 2016 तक प्रत्येक वर्ष उत्तीर्ण हुए छात्रों की संख्या (000' में) को दर्शाया गया है।

Year / वर्ष	School / विद्यालय	
	A	B
2012	40	36
2013	44	48
2014	50	60
2015	48	54
2016	60	50

What is the average number (in 000') of students passed in school A over the given 5 years?

दिए गए 5 वर्षों में विद्यालय A में उत्तीर्ण हुए छात्रों की औसत संख्या (000' में) क्या है?

Options:

- 1) 49.6
- 2) 46
- 3) 48.4
- 4) 46.8

Correct Answer: 48.4

Candidate Answer: 48.4

QID : 150 -

The table given below shows the number of students (in 000') passing from 2 schools A and B each year from year 2012 to 2016.

नीचे दी गई तालिका में 2 विद्यालयों A तथा B से वर्ष 2012 से 2016 तक प्रत्येक वर्ष उत्तीर्ण हुए छात्रों की संख्या (000' में) को दर्शाया गया है।

Year / वर्ष	School / विद्यालय	
	A	B
2012	40	36
2013	44	48
2014	50	60
2015	48	54
2016	60	50

What is the ratio of the number of students passed in school A in year 2015 to that of number of students passed in school B in year 2012?

वर्ष 2015 में विद्यालय A में उत्तीर्ण हुए छात्रों की संख्या का वर्ष 2012 में विद्यालय B में उत्तीर्ण हुए छात्रों की संख्या से क्या अनुपात है?

Options:

- 1) 1 : 1
- 2) 24 : 25
- 3) 9 : 8
- 4) 4 : 3

Correct Answer: 4 : 3

Candidate Answer: 4 : 3

QID : 151 - In the following question, some part of the sentence may have errors. Find out which part of the sentence has an error and select the appropriate option. If a sentence is free from error, select 'No Error'.

That is, poets began to reflect (1)/ the complexities of modern culture (2)/ it's fierce disjunctions. (3)/ No error (4)

Options:

- 1) 1
- 2) 2
- 3) 3
- 4) 4

Correct Answer: 3

Candidate Answer: 3

QID : 152 - In the following question, some part of the sentence may have errors. Find out which part of the sentence has an error and select the appropriate option. If a sentence is free from error, select 'No Error'.

But it will a slight exaggeration to (1)/ equate the extinction of a language (2)/ to the death of the human being. (3)/ No error (4)

Options:

- 1) 1
- 2) 2
- 3) 3
- 4) 4

Correct Answer: 1

Candidate Answer: [NOT ANSWERED]

QID : 153 - In the following question, the sentence given with blank to be filled in with an appropriate word. Select the correct alternative out of the four and indicate it by selecting the appropriate option.

He is virtuous and _____.

Options:

- 1) honest
- 2) the honest
- 3) honesty
- 4) a honest

Correct Answer: honest

Candidate Answer: honest

QID : 154 - In the following question, the sentence given with blank to be filled in with an appropriate word. Select the correct alternative out of the four and indicate it by selecting the appropriate option.

It is _____ duty to help the poor.

Options:

- 1) everybody's
- 2) everyone
- 3) each one
- 4) everybody

Correct Answer: everybody's

Candidate Answer: everybody's

QID : 155 - In the following question, out of the given four alternatives, select the one which best expresses the meaning of the given word.

Interference

Options:

- 1) Barring
- 2) Assistance
- 3) Harmony
- 4) Concord

Correct Answer: Barring

Candidate Answer: Barring

QID : 156 - In the following question, out of the given four alternatives, select the one which best expresses the meaning of the given word.

Evasive

Options:

- 1) Devious
- 2) Straight
- 3) Ready
- 4) Direct

Correct Answer: Devious

Candidate Answer: [NOT ANSWERED]

QID : 157 - In the following question, out of the given four alternatives, select the one which best expresses the meaning of the given word.

Comic

Options:

- 1) Funny
- 2) Sober
- 3) Solemn
- 4) Tragic

Correct Answer: Funny

Candidate Answer: Funny

QID : 158 - In the following question, out of the given four alternatives, select the one which is opposite in meaning of the given word.

Wavering

Options:

- 1) Uncertain
- 2) Fickle
- 3) Unchanging
- 4) Unsure

Correct Answer: Unchanging

Candidate Answer: Uncertain

QID : 159 - In the following question, out of the given four alternatives, select the one which is opposite in meaning of the given word.

Vice

Options:

- 1) Decay
- 2) Evil
- 3) ill
- 4) Virtue

Correct Answer: Virtue

QID : 160 - In the following question, out of the given four alternatives, select the one which is opposite in meaning of the given word.

Iniquity

Options:

- 1) Sin
- 2) Evil
- 3) Infancy
- 4) Good

Correct Answer: Good

Candidate Answer: [NOT ANSWERED]

QID : 161 - In the following question, out of the four given alternatives, select the alternative which best expresses the meaning of the Idiom/Phrase.

Best of both worlds

Options:

- 1) All the advantages
- 2) To waste time here and there
- 3) To wish good luck
- 4) To keep quite

Correct Answer: All the advantages

Candidate Answer: To wish good luck

QID : 162 - In the following question, out of the four given alternatives, select the alternative which best expresses the meaning of the Idiom/Phrase.

Costs an arm and a leg

Options:

- 1) Showing disappointment
- 2) Done in secret
- 3) Something is very expensive
- 4) Boring work or task

Correct Answer: Something is very expensive

Candidate Answer: Something is very expensive

QID : 163 - Improve the bracketed part of the sentence.

The reason that India has remained a parliamentary democracy was not because such a democracy was imposed **(to)** it.

Options:

- 1) at
- 2) on
- 3) in
- 4) No improvement

Correct Answer: on

Candidate Answer: in

QID : 164 - Improve the bracketed part of the sentence.

Often, the novels Agatha Christie wrote dismissed as inferior to the **(most)** famous early works.

Options:

- 1) more
- 2) many
- 3) much
- 4) No improvement

Correct Answer: more

Candidate Answer: many

QID : 165 - In the following question, out of the four given alternatives, select the alternative which is the best substitute of the phrase.

One who passes interest in religion

Options:

- 1) Fanatic
- 2) Fluctuating
- 3) Fetish
- 4) Fission

Correct Answer: Fanatic

Candidate Answer: Fanatic

QID : 166 - In the following question, out of the four given alternatives, select the alternative which is the best substitute of the phrase.

An art of garden cultivation

Options:

- 1) Hibernation
- 2) Haemorrhage
- 3) Horticulture
- 4) Hiatus

Correct Answer: Horticulture

Candidate Answer: Horticulture

QID : 167 - In the following question, a word has been written in four different ways out of which only one is correctly spelt. Select the correctly spelt word.

Options:

- 1) Circus
- 2) Sircus
- 3) Sercus
- 4) Ciricus

Correct Answer: Circus

Candidate Answer: Circus

QID : 168 - In the following question, a word has been written in four different ways out of which only one is correctly spelt. Select the correctly spelt word.

Options:

- 1) Diamond
- 2) Daimond
- 3) Diamund
- 4) Diemond

Correct Answer: Diamond

Candidate Answer: Diamond

QID : 169 - Rearrange the parts of the sentence in correct order.

One day

P: he will feel

Q: his responsibility

R: sooner or later

Options:

- 1) PRQ
- 2) RQP
- 3) QPR
- 4) RPQ

Correct Answer: RPQ

Candidate Answer: RPQ

QID : 170 - Rearrange the parts of the sentence in correct order.

It was

P: for laughter

Q: occasion

R: scarcely an

Options:

- 1) PRQ
- 2) RQP
- 3) QPR
- 4) RPQ

Correct Answer: RQP

Candidate Answer: RQP

QID : 171 - In the following passage some of the words have been left out. Read the passage carefully and select the correct answer for the given blank out of the four alternatives.

The common courtesies of life are the endless little gestures we make almost unconsciously as we move through our day. As we go to work and _____ through our day, we _____ with bus drivers, waitresses, people on the street, and countless others. How we interact with these individuals can _____ their day and ours. The _____ courtesies of life, from treating a frazzled server with respect to smiling at the person seated across from us on the bus, should _____ be forgotten.

work and _____ through our day

Options:

- 1) muddle
- 2) distribute
- 3) fragment
- 4) create

Correct Answer: muddle

Candidate Answer: create

QID : 172 - In the following passage some of the words have been left out. Read the passage carefully and select the correct answer for the given blank out of the four alternatives.

The common courtesies of life are the endless little gestures we make almost unconsciously as we move through our day. As we go to work and _____ through our day, we _____ with bus drivers, waitresses, people on the street, and countless others. How we interact with these individuals can _____ their day and ours. The _____ courtesies of life, from treating a frazzled server with respect to smiling at the person seated across from us on the bus, should _____ be forgotten.

we _____ with bus drivers

Options:

- 1) attract
- 2) interact
- 3) retreat
- 4) reflect

Correct Answer: interact

Candidate Answer: interact

QID : 173 - In the following passage some of the words have been left out. Read the passage carefully and select the correct answer for the given blank out of the four alternatives.

The common courtesies of life are the endless little gestures we make almost unconsciously as we move through our day. As we go to work and _____ through our day, we _____ with bus drivers, waitresses, people on the street, and countless others. How we interact with these individuals can _____ their day and ours. The _____ courtesies of life, from treating a frazzled server with respect to smiling at the person seated across from us on the bus, should _____ be forgotten.

individuals can _____ their day

Options:

- 1) effect
- 2) suspect
- 3) affect
- 4) concept

Correct Answer: affect

Candidate Answer: effect

QID : 174 - In the following passage some of the words have been left out. Read the passage carefully and select the correct answer for the given blank out of the four alternatives.

The common courtesies of life are the endless little gestures we make almost unconsciously as we move through our day. As we go to work and _____ through our day, we _____ with bus drivers, waitresses, people on the street, and countless others. How we interact with these individuals can _____ their day and ours. The _____ courtesies of life, from treating a frazzled server with respect to smiling at the person seated across from us on the bus, should _____ be forgotten.

and ours. The _____ courtesies of life

Options:

- 1) different
- 2) contracting
- 3) debatable
- 4) common

Correct Answer: common

Candidate Answer: common

QID : 175 - In the following passage some of the words have been left out. Read the passage carefully and select the correct answer for the given blank out of the four alternatives.

The common courtesies of life are the endless little gestures we make almost unconsciously as we move through our day. As we go to work and _____ through our day, we _____ with bus drivers, waitresses, people on the street, and countless others. How we interact with these individuals can _____ their day and ours. The _____ courtesies of life, from treating a frazzled server with respect to smiling at the person seated across from us on the bus, should _____ be forgotten.

should _____ be forgotten

Options:

- 1) clever
- 2) waiver
- 3) shower
- 4) never

Correct Answer: never

Candidate Answer: never

QID : 176 - Which of the following metals have **NOT** been discovered from the Harappan sites so far?

हड़प्पाकालीन स्थलों में अभी तक किस धातु की प्राप्ति नहीं हुई है?

Options:

1) Copper

तांबा

2) Gold

स्वर्ण

3) Silver

चांदी

4) Iron

लोहा

Correct Answer: Iron

लोहा

Candidate Answer: Iron

लोहा

QID : 177 - Which of the following is **NOT** included in the "Triratna" of the Buddhism?

बौद्ध धर्म के त्रिरत्न में क्या शामिल नहीं है ?

Options:

1) Buddha

बुद्ध

2) Religion

धर्म

3) Sangha

संघ

4) Middle way

मध्यम मार्ग

Correct Answer: Middle way

मध्यम मार्ग

Candidate Answer: Middle way

मध्यम मार्ग

QID : 178 - In which type of rocks coal is found?

कोयला किस चट्टान में पाया जाता है ?

Options:

1) Metamorphic rock

परिवर्तित चट्टान

2) Sedimentary rock

परतदार चट्टान

3) Abiotic rock

अजैव चट्टान

4) Igneous rock

आग्नेय चट्टान

Correct Answer: Sedimentary rock

परतदार चट्टान

Candidate Answer: Metamorphic rock

परिवर्तित चट्टान

QID : 179 - Indian Desert is called _____.

भारतीय मरुस्थल को _____ कहते हैं।

Options:

1) Thar

थार

2) Sahara

सहारा

3) Gobi

गोबी

4) Atacama

अटाकामा

Correct Answer: Thar

थार

Candidate Answer: Thar

थार

QID : 180 - The Constituent Assembly held its final session on which day?

संविधान सभा ने संविधान को अंतिम रूप से किस दिन पारित किया ?

Options:

- 1) August 15, 1947
15 अगस्त, 1947
- 2) December 15, 1948
15 दिसंबर, 1948
- 3) November 26, 1949
26 नवंबर, 1949
- 4) January 26, 1950
26 जनवरी, 1950

Correct Answer: November 26, 1949
26 नवंबर, 1949

Candidate Answer: January 26, 1950
26 जनवरी, 1950

QID : 181 - The provision of federalism of the Indian Constitution has been borrowed from which nation?

भारतीय संविधान में संघवाद किस देश से लिया गया है ?

Options:

- 1) UAE
यूएई
- 2) USA
यूएसए
- 3) Australia
ऑस्ट्रेलिया
- 4) Canada
कनाडा

Correct Answer: Canada
कनाडा

Candidate Answer: USA
यूएसए

QID : 182 - India's legitimate currency is _____

भारत की विधिग्राह्य मुद्रा है _____.

Options:

- 1) Euro
यूरो
- 2) Rupee
रुपया
- 3) Dollar
डॉलर
- 4) Pound sterling
पौंड स्टर्लिंग

Correct Answer: Rupee
रुपया

Candidate Answer: Rupee
रुपया

QID : 183 - Which institution regulates the insurance sector in India?

भारत में बीमा क्षेत्र का नियमन कौन-सी संस्था करती है ?

Options:

- 1) DFHI
डीएफएचआई
- 2) SEBI
सेबी
- 3) IRDA
आईडीए
- 4) LIC
एलआईसी

Correct Answer: IRDA
आईडीए

Candidate Answer: IRDA
आईडीए

QID : 184 - On which principle does the Nuclear Power Plant work?

परमाणु शक्ति संयंत्र किस सिद्धांत पर काम करता है ?

Options:

- 1) Fission
विखंडन
- 2) Fusion
संलयन
- 3) Thermal combustion
तापीय दहन
- 4) No option is correct.
कोई भी विकल्प सही नहीं है

Correct Answer: Fission
विखंडन

Candidate Answer: Fission
विखंडन

QID : 185 - All acids produce _____ when dissolved in water.

सभी अम्ल जल में घुलकर प्रदान करते हैं _____।

Options:

- 1) OH-ion
OH- आयन
- 2) H+ ion
H+ आयन
- 3) Electron
इलेक्ट्रॉन
- 4) Neutron
न्यूट्रॉन

Correct Answer: H+ ion

H+ आयन

Candidate Answer: OH-ion

OH- आयन

QID : 186 - When someone lands on Moon, his body's _____.

जब कोई व्यक्ति चन्द्रमा पर उतरता है तो उसके शरीर में उपस्थित _____।

Options:

- 1) mass changes
द्रव्यमान में परिवर्तन होता है
- 2) weight decreases and the mass remains unchanged
भार घट जाता है तथा द्रव्यमान अपरिवर्तित रहती है
- 3) weight changes
भार में परिवर्तन होता है
- 4) mass and weight decrease both
द्रव्यमान तथा भार दोनों में कमी होती है

Correct Answer: weight decreases and the mass remains unchanged

भार घट जाता है तथा द्रव्यमान अपरिवर्तित रहती है

Candidate Answer: weight decreases and the mass remains unchanged

भार घट जाता है तथा द्रव्यमान अपरिवर्तित रहती है

QID : 187 - When a cyclist turns on a turn, he _____.

कोई साइकिल सवार किसी मोड़ में घूमता है, तो वह _____।

Options:

- 1) bends outward
बाहर की ओर झुकता है
- 2) bends inwards
अन्दर की ओर झुकता है
- 3) bends forward
आगे की ओर झुकता है
- 4) does not bend at all
बिलकुल नहीं झुकता है

Correct Answer: bends inwards

अन्दर की ओर झुकता है

Candidate Answer: bends inwards

अन्दर की ओर झुकता है

QID : 188 - Which of the following is a stem?

निम्नलिखित में से कौन एक तना है?

Options:

- 1) Potato
आलू
- 2) Carrot
गाजर
- 3) Sweet potato
शकरकंद
- 4) Radish
मूली

Correct Answer: Potato

आलू

Candidate Answer: Sweet potato

शकरकंद

QID : 189 - _____ provides various attractive colors to flowers and seeds.

फूलों और बीजों को विभिन्न प्रकार के आकर्षक रंग प्रदान करता है _____।

Options:

- 1) Leucoplast
ल्यूकोप्लास्ट
- 2) Chromoplast
क्रोमोप्लास्ट
- 3) Chloroplast
क्लोरोप्लास्ट
- 4) Tonoplast
टोनोप्लास्ट

Correct Answer: Chromoplast
क्रोमोप्लास्ट

Candidate Answer: [NOT ANSWERED]

QID : 190 - What is studied in Ornithology?

ऑर्निथोलॉजी (Ornithology) में किसका अध्ययन होता है ?

Options:

- 1) Bird
पक्षी
- 2) Mammals
स्तनधारी
- 3) Bat
चमगादड़
- 4) fish
मछली

Correct Answer: Bird
पक्षी

Candidate Answer: Bird
पक्षी

QID : 191 - Soil erosion can be prevented _____.

मृदा अपरदन रोका जा सकता है: _____.

Options:

- 1) by Overgrazing
अति चराई द्वारा
- 2) by Eradication of vegetation
वनस्पति उन्मूलन द्वारा
- 3) by afforestation
वनरोपण द्वारा
- 4) by increasing the number of birds
पक्षियों की संख्या में वृद्धि द्वारा

Correct Answer: by afforestation
वनरोपण द्वारा

Candidate Answer: by afforestation
वनरोपण द्वारा

QID : 192 - In computer science, what is "Memory" word related to?

कंप्यूटर विज्ञान में "मेमोरी" शब्द किससे संबंधित है ?

Options:

- 1) With Logic
लॉजिक से
- 2) With Control
कंट्रोल से
- 3) With Input
इनपुट से
- 4) With Storage
स्टोरेज से

Correct Answer: With Storage
स्टोरेज से

Candidate Answer: With Storage
स्टोरेज से

QID : 193 - Which game has 7 players in each side?

किस समूह के खेलों में प्रत्येक पक्ष में 7 खिलाड़ी होते हैं ?

Options:

- 1) Basketball and kabaddi
बास्केटबॉल व कबड्डी
- 2) Baseball and water polo
बेसबॉल व वाटर पोलो
- 3) Water polo and kabaddi
वाटर पोलो व कबड्डी
- 4) Polo and Kho-Kho
पोलो व खो-खो

Correct Answer: Water polo and kabaddi
वाटर पोलो व कबड्डी

Candidate Answer: Basketball and kabaddi
बास्केटबॉल व कबडी

QID : 194 - "Shrimadabhadgaw Gita" is a part of to which of the following book?

"श्रीमद्भागवत गीता" किस ग्रन्थ का भाग है?

Options:

- 1) Panchatantra
पंचतंत्र
- 2) Hitopadesh
हितोपदेश
- 3) Mahabharata
महाभारत
- 4) Ramayana
रामायण

Correct Answer: Mahabharata
महाभारत

Candidate Answer: Mahabharata
महाभारत

QID : 195 - From which of the following route did Prime Minister started "Udaan Yojna"?

प्रधानमंत्री ने 'उड़ान' योजना का प्रारम्भ इन में से किस मार्ग से किया?

Options:

- 1) Shimla-Delhi route
शिमला-दिल्ली मार्ग
- 2) Mumbai-Delhi route
मुंबई-दिल्ली मार्ग
- 3) Goa-Punjab route
गोवा-पंजाब मार्ग
- 4) Shimla-Tamilnadu route
शिमला-तमिलनाडु मार्ग

Correct Answer: Shimla-Delhi route
शिमला-दिल्ली मार्ग

Candidate Answer: Mumbai-Delhi route
मुंबई-दिल्ली मार्ग

QID : 196 - Who invented the process of the photography on metal?

धातु पर फोटोग्राफी की प्रक्रिया की खोज किसने की थी?

Options:

- 1) J Neepse
जे नीप्से
- 2) Roentgen
रॉन्टजेन
- 3) John Dalton
जॉन डाल्टन
- 4) Albert Einstein
अल्बर्ट आइंस्टीन

Correct Answer: J Neepse
जे नीप्से

Candidate Answer: [NOT ANSWERED]

QID : 197 - Which of the following is **NOT** a folk dance?

इनमें से कौन भारतीय लोक नृत्य नहीं है?

Options:

- 1) Ghoomar
घूमर
- 2) Kathakali
कथकली
- 3) Garba
गरबा
- 4) Dandiya
डांडिया

Correct Answer: Kathakali
कथकली

Candidate Answer: [NOT ANSWERED]

QID : 198 - The first Indian to be awarded the Magsaysay Award is _____.

मैगसेसे पुरस्कार से सम्मानित होने वाले प्रथम भारतीय _____ हैं।

Options:

- 1) Acharya Vinoba Bhave
आचार्य विनोबा भावे
- 2) Jai Prakash Narayan
जय प्रकाश नारायण
- 3) Mother Teresa
मदर टेरेसा
- 4) Kiran Bedi
किरण बेदी

Correct Answer: Acharya Vinoba Bhave
आचर्य विनोबा भावे

Candidate Answer: [NOT ANSWERED]

QID : 199 - Which of the following country's airways launched the world's longest flying service in 2017?

वर्ष 2017 में निम्नलिखित में से किस देश के एयरवेज द्वारा विश्व की सबसे लम्बी अवधी की उड़ान सेवा शुरू की गई?

Options:

1) Qatar

क़तर

2) Germany

जर्मनी

3) United Arab Emirates

संयुक्त अरब अमीरात

4) Japan

जापान

Correct Answer: Qatar

क़तर

Candidate Answer: [NOT ANSWERED]

QID : 200 - Which is the longest river in Sri Lanka?

श्रीलंका की सबसे लम्बी नदी कौन सी है?

Options:

1) Pamban river

पंबन नदी

2) Mahaweli River

महावेली नदी

3) Maha Oya River

महा ओया नदी

4) Kalu Ganga River

कालु गंगा नदी

Correct Answer: Mahaweli River

महावेली नदी

Candidate Answer: [NOT ANSWERED]