

QID : 101 -

In the following question, select the number which can be placed at the sign of question mark (?) from the given alternatives.

निम्नलिखित प्रश्न में दिए गए विकल्पों में से प्रश्न चिह्न (?) के स्थान पर आने वाली संख्या को चुनिए।

8	7	6	5
14	13	12	11
17	16	15	?

Options:

1) 13

2) 14

3) 12

4) 11

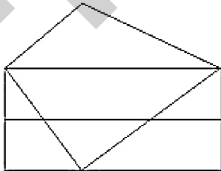
Correct Answer: 14

Candidate Answer: 14

QID : 102 -

How many rectangles are there in the given figure?

दी गई आकृति में कितने आयत हैं?



Options:

1) 4

2) 3

3) 2

4) 5

Correct Answer: 3

Candidate Answer: 4

QID : 103 -

A word is represented by only one set of numbers as given in any one of the alternatives. The sets of numbers given in the alternatives are represented by two classes of alphabets as shown in the given two matrices. The columns and rows of **Matrix-I** are numbered from 0 to 4 and that of **Matrix-II** are numbered from 5 to 9. A letter from these matrices can be represented first by its row and next by its column, for example, 'C' can be represented by 10, 56, etc., and 'F' can be represented by 31, 85, etc. Similarly, you have to identify the set for the word "**TRUMP**".

एक शब्द केवल एक संख्या-समूह द्वारा दर्शाया गया है, जैसा कि विकल्पों में से किसी एक में दिया गया है। विकल्पों में दिए गए संख्या-समूह अक्षरों के दो वर्गों द्वारा दर्शाए गए हैं, जैसा कि दिए गए दो आव्यूहों में है। **आव्यूह-I** के स्तम्भ और पंक्ति की संख्या 0 से 4 है और **आव्यूह-II** की 5 से 9। इन आव्यूहों से एक अक्षर को पहले उसकी पंक्ति और बाद में स्तम्भ संख्या द्वारा दर्शाया जा सकता है। उदाहरण के लिए 'C' को 10, 56, आदि द्वारा दर्शाया जा सकता है तथा 'F' को 31, 85, आदि द्वारा दर्शाया जा सकता है। इसी तरह से आपको प्रश्न में दिए शब्द "**TRUMP**" के लिए समूह को पहचानना है।

Matrix-I आव्यूह-I					Matrix-II आव्यूह-II						
	0	1	2	3	4		5	6	7	8	9
0	V	K	D	F	R	5	W	C	U	G	I
1	C	W	O	H	V	6	K	J	H	Q	S
2	T	S	Y	J	S	7	U	E	Y	B	A
3	H	F	J	C	R	8	F	H	P	L	N
4	D	S	U	N	A	9	A	R	M	T	O

Options:

- 1) 20, 04, 75, 11, 41
- 2) 98, 34, 42, 97, 87
- 3) 67, 96, 97, 67, 43
- 4) 20, 34, 44, 59, 87

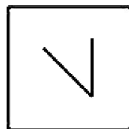
Correct Answer: 98, 34, 42, 97, 87

Candidate Answer: 98, 34, 42, 97, 87

QID : 104 -


From the given answer figures, select the one in which the question figure is hidden/embedded.

दी गई उत्तर आकृतियों में से उस उत्तर आकृति को चुनिए जिस में प्रश्न आकृति निहित है।

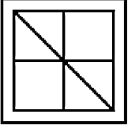


Options:


1)



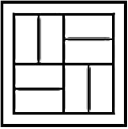
2)



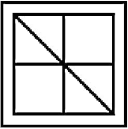
3)



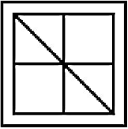
4)



Correct Answer:



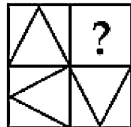
Candidate Answer:



QID : 105 -

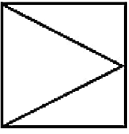
Which answer figure will complete the pattern in the question figure?

कौन सी उत्तर आकृति प्रश्न आकृति के प्रतिरूप को पूरा करेगी?

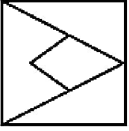


Options:

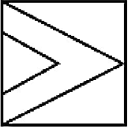
1)



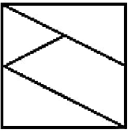
2)



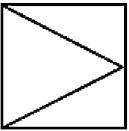
3)



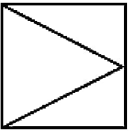
4)



Correct Answer:



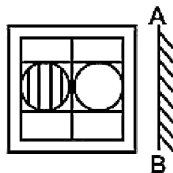
Candidate Answer:



QID : 106 -

If a mirror is placed on the line AB, then which of the answer figures is the right image of the given figure?

यदि एक दर्पण को AB रेखा पर रखा जाए, तो दी गई उत्तर आकृतियों में से कौन सी आकृति प्रश्न आकृति की सही प्रतिबिम्ब होगी?

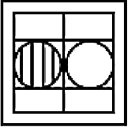


Options:

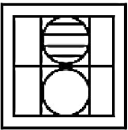
1)



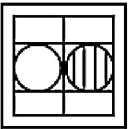
2)



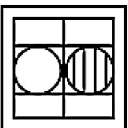
3)



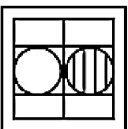
4)



Correct Answer:



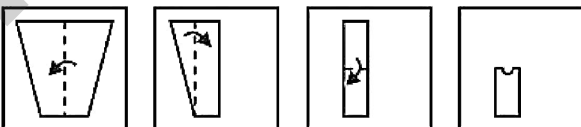
Candidate Answer:



QID : 107 -

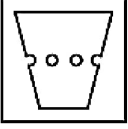
A piece of paper is folded and punched as shown below in the question figures. From the given answer figures, indicate how it will appear when opened?

नीचे के प्रश्न आकृतियों में दिखाए अनुसार कागज को मोड़कर छेदने तथा खोलने के बाद वह किस उत्तर आकृति जैसा दिखाई देगा?




Options:

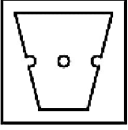
1)



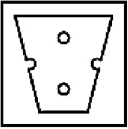
2)



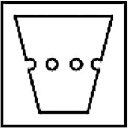
3)



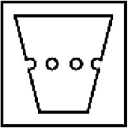
4)



Correct Answer:



Candidate Answer:



QID : 108 - If 'P' means '-', 'Q' means '÷', 'R' means '+' and 'S' means '×', then

4 Q 85 S 170 R 11 P 2 = ?

यदि 'P' का अर्थ '-', 'Q' का अर्थ '÷', 'R' का अर्थ '+' तथा 'S' का अर्थ '×' हो, तो

4 Q 85 S 170 R 11 P 2 = ?

Options:

- 1) 17
- 2) 15
- 3) 37
- 4) 43

Correct Answer: 17

Candidate Answer: [NOT ANSWERED]

QID : 109 - If 10 P 6 Q 3 = 13 and 11 P 12 Q 13 = 10, then

11 P 7 Q 6 = ?

यदि 10 P 6 Q 3 = 13 तथा 11 P 12 Q 13 = 10 हो, तो

11 P 7 Q 6 = ?

Options:

- 1) 11
- 2) 12
- 3) 9
- 4) 27

Correct Answer: 12

Candidate Answer: 12

QID : 110 - Arrange the given words in the sequence in which they occur in the dictionary.

1. Theme
2. Thirst
3. Thing
4. Thames
5. Thurst

निम्नलिखित शब्दों को शब्दकोश में आने वाले क्रम के अनुसार लिखें।

1. Theme
2. Thirst
3. Thing
4. Thames
5. Thurst

Options:

1) 42351

2) 41235

3) 43251

4) 41325

Correct Answer: 41325

Candidate Answer: 41325

QID : 111 - In the following question, select the missing number from the given series.

29, 31, 35, 41, 49, ?

निम्नलिखित प्रश्न में दिए गए विकल्पों में से लुप्त अंक ज्ञात कीजिए।

29, 31, 35, 41, 49, ?

Options:

1) 56

2) 59

3) 53

4) 63

Correct Answer: 59

Candidate Answer: 59

QID : 112 - A series is given with one term missing. Select the correct alternative from the given ones that will complete the series.

BD, FH, JL, ?

एक अनुक्रम दिया गया है, जिसमें से एक पद लुप्त है। दिए गए विकल्पों में से वह सही विकल्प चुनिए, जो अनुक्रम को पूरा करे।

BD, FH, JL, ?

Options:

1) MN

2) NO

3) MO

4) NP

Correct Answer: NP

Candidate Answer: NP

QID : 113 - In the following question, select the odd word from the given alternatives.

निम्नलिखित प्रश्न में दिए गए विकल्पों में से विषम शब्द को चुनिए।

Options:

1) Brain

मस्तिष्क

2) Lungs

फेफड़े

3) Kidneys

गुर्दे

4) Feet

पैरों के पंजे

Correct Answer: Feet

पैरों के पंजे

Candidate Answer: Feet

पैरों के पंजे

QID : 114 - In the following question, select the odd number pair from the given alternatives.

निम्नलिखित प्रश्न में दिए गए विकल्पों में से विषम संख्या युग्म को चुनिए।

Options:

1) 10 – 1001

2) 11 – 1332

3) 12 – 1727

4) 13 – 2198

Correct Answer: 12 – 1727

Candidate Answer: 11 – 1332

QID : 115 - In the following question, select the odd letters from the given alternatives.

निम्नलिखित प्रश्न में दिए गए विकल्पों में से विषम अक्षरों को चुनिए।

Options:

1) ZAB

2) YZA

3) PQR

4) YZB

Correct Answer: YZB

Candidate Answer: YZB

QID : 116 - Identify the diagram that best represents the relationship among the given classes.

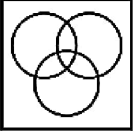
Cat, Rabbit, Humans

वह आरेख चुनिए जो नीचे दिए गए वर्गों के बीच के संबंध का सही निरूपण करता है।

बिल्ली, खरगोश, मनुष्य

Options:

1)



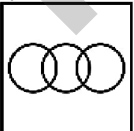
2)



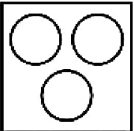
3)



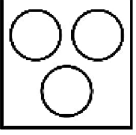
4)



Correct Answer:



Candidate Answer:



QID : 117 - In the following question, select the related word from the given alternatives.

Hibernation : Sleep :: Marathon : ?

निम्नलिखित प्रश्न में दिए गए विकल्पों में से संबंधित शब्द को चुनिए।

शीतनिद्रियता : नींद :: मैराथॉन : ?

Options:

- 1) Heat
ऊष्मा
- 2) Race
दौड़
- 3) Fatigue
थकान
- 4) Water
जल

Correct Answer: Race

दौड़

Candidate Answer: Fatigue

थकान

QID : 118 - In the following question, select the related number from the given alternatives.

22 : 490 :: 28 : ?

निम्नलिखित प्रश्न में दिए गए विकल्पों में से संबंधित संख्या को चुनिए।

22 : 490 :: 28 : ?

Options:

- 1) 784
- 2) 390
- 3) 564
- 4) 790

Correct Answer: 790

Candidate Answer: 784

QID : 119 - In the following question, select the related letters from the given alternatives.

OWL : PXM :: MAN : ?

निम्नलिखित प्रश्न में दिए गए विकल्पों में से संबंधित अक्षरों को चुनिए।

OWL : PXM :: MAN : ?

Options:

- 1) NBM
- 2) NBO
- 3) OBS
- 4) PQR

Correct Answer: NBO

Candidate Answer: NBO

QID : 120 - In the following question, select the word which cannot be formed using the letters of the given word.

DISTASTEFUL

निम्नलिखित विकल्पों में से वह शब्द चुनिए जो दिए गए शब्द के अक्षरों का प्रयोग करके नहीं बनाया जा सकता।

DISTASTEFUL

Options:

1) TASTE

2) DUST

3) STATE

4) TRUST

Correct Answer: TRUST**Candidate Answer:** TRUST**QID : 121** - In a row of boys, Prakash is 19th from top and 21st from bottom. How many boys are there in the row?

लड़कों की एक पंक्ति में, प्रकाश ऊपर से 19 वाँ है तथा नीचे से 21 वाँ है। पंक्ति में कुल कितने लड़के हैं?

Options:

1) 42

2) 39

3) 40

4) 44

Correct Answer: 39**Candidate Answer:** 39**QID : 122** - T is 5 years older than U. U is 8 years younger than V. V is 3 years older than W. W is 9 years younger than X. Which of the following have same age?

T, U से 5 वर्ष बड़ा है। U, V से 8 वर्ष छोटा है। V, W से 3 वर्ष बड़ा है। W, X से 9 वर्ष छोटा है। निम्नलिखित में से किनकी आयु समान है?

Options:

1) W and T

W तथा T

2) W and V

W तथा V

3) V and X

V तथा X

4) X and T

X तथा T

Correct Answer: W and T

W तथा T

Candidate Answer: W and T

W तथा T

QID : 123 - In the following question below are given some statements followed by some conclusions. Taking the given statements to be true even if they seem to be at variance from commonly known facts, read all the conclusions and then decide which of the given conclusion logically follows the given statements.**Statements:**

I. All T are S.

II. No T is R.

Conclusions:

I. Some R are S.

II. All S are T.

नीचे दिए गए प्रश्न में कुछ कथन और उनके बाद उन कथनों पर आधारित कुछ निष्कर्ष दिए गए हैं, हालांकि उनमें सामान्य ज्ञात तथ्यों से भिन्नता हो सकती है। सभी निष्कर्ष पढ़ें और फिर निर्धारित करें कि दिए गए कौन से निष्कर्ष, दिए गए कथनों के आधार पर युक्तिसंगत हैं।

कथन:

I. सभी T, S हैं।

II. कोई T, R नहीं है।

निष्कर्ष:

I. कुछ R, S हैं।

II. सभी S, T हैं।

Options:

1) Only conclusion (I) follows.

केवल निष्कर्ष (I) सही है।

2) Only conclusion (II) follows.

केवल निष्कर्ष (II) सही है।

3) Both conclusion follow.

दोनों ही निष्कर्ष सही हैं।

4) Neither conclusion (I) nor conclusion (II) follows.

न तो निष्कर्ष (I) न ही निष्कर्ष (II) सही है।

Correct Answer: Neither conclusion (I) nor conclusion (II) follows

न तो निष्कर्ष (I) न ही निष्कर्ष (II) सही है।

Candidate Answer: Neither conclusion (I) nor conclusion (II) follows.
न तो निष्कर्ष (I) न ही निष्कर्ष (II) सही है।

QID : 124 - In a certain code language, "TALENT" is written as "VZNGMV". How is "ACTIVA" written in that code language?

एक विशिष्ट कोड भाषा में, "TALENT" को "VZNGMV" लिखा जाता है। इस कोड भाषा में "ACTIVA" को किस प्रकार लिखा जाएगा?

Options:

- 1) CUKVBC
- 2) ZXGRZC
- 3) CRXZGX
- 4) CBVKUC

Correct Answer: CBVKUC

Candidate Answer: ZXGRZC

QID : 125 - In a certain code language, "HULK" is written as "56" and "STAR" is written as "62". How is "FULL" written in that code language?

एक विशिष्ट कोड भाषा में, "HULK" को "56" तथा "STAR" को "62" लिखा जाता है। इस कोड भाषा में "FULL" को किस प्रकार लिखा जाएगा?

Options:

- 1) 54
- 2) 55
- 3) 56
- 4) 50

Correct Answer: 55

Candidate Answer: 55

QID : 126 - When N is divided by 36, then remainder is 12. What will be the remainder when N will be divided by 9?

जब N को 36 से विभाजित किया जाता है, तो शेषफल 12 आता है। शेषफल क्या होगा जब N को 9 से विभाजित किया जायेगा?

Options:

- 1) 3
- 2) 4
- 3) 2
- 4) 1

Correct Answer: 3

Candidate Answer: 3

QID : 127 - What is the highest common factor of (6/19) and (16/57)?

(6/19) तथा (16/57) का महत्तम समापवर्तक क्या है?

Options:

- 1) 2/57
- 2) 57/2
- 3) 4/33
- 4) 29/4

Correct Answer: 2/57

Candidate Answer: 2/57

QID : 128 - How many numbers from 33 to 143 are divisible by both 4 and 7?

33 से 143 तक ऐसी कितनी संख्याएँ हैं जो 4 तथा 7 दोनों से विभाज्य होती है?

Options:

- 1) 4
- 2) 5
- 3) 3
- 4) 6

Correct Answer: 4

Candidate Answer: 4

QID : 129 - For what value of A, number 37A4 is divisible by 4?

A के किस मान के लिए संख्या 37A4, 4 से विभाज्य है?

Options:

- 1) 7
- 2) 0
- 3) 3
- 4) 1

Correct Answer: 0

Candidate Answer: 0

QID : 130 - Which of the following statement(s) is/are true?

I. $(\sqrt{6} - \sqrt{4}) < (\sqrt{7} - \sqrt{3})$

II. $(\sqrt{7} + \sqrt{3}) < (\sqrt{6} + \sqrt{4})$

निम्नलिखित में से कौन सा/से कथन सत्य है/हैं?

I. $(\sqrt{6} - \sqrt{4}) < (\sqrt{7} - \sqrt{3})$

II. $(\sqrt{7} + \sqrt{3}) < (\sqrt{6} + \sqrt{4})$

Options:

- 1) Only I
केवल I
- 2) Only II
केवल II
- 3) Both I and II
I तथा II दोनों
- 4) Neither I nor II
न तो I न ही II

Correct Answer: Both I and II

I तथा II दोनों

Candidate Answer: Only I

केवल I

QID : 131 - If $(7/6)$ of a cube of a number is 252, then what is the number?

यदि एक संख्या के घन का $(7/6)$, 252 है तो संख्या क्या है?

Options:

- 1) 5
- 2) 6
- 3) 7
- 4) 8

Correct Answer: 6

Candidate Answer: 6

QID : 132 - A pipe can fill a tank in 100 hours. Due to the leak in its bottom, the tank is filled in 120 hours. If the tank is full, then in how many hours that leak can empty the tank?

एक पाइप एक टंकी को 100 घंटे में भर सकता है। टंकी के तल में छिद्र होने के कारण, टंकी को भरने में 120 घंटे लगते हैं। यदि टंकी पूरी भरी हो, तो वह छिद्र टंकी को कितने घंटे में खाली कर सकता है?

Options:

- 1) 660
- 2) 500
- 3) 600
- 4) 650

Correct Answer: 600

Candidate Answer: [NOT ANSWERED]

QID : 133 - X alone can do a work in 20 days. X is 20% less efficient than Y. In how many days can Y alone do the work?

X एक कार्य को अकेला 20 दिनों में पूरा कर सकता है। X, Y से 20% कम कार्यकुशल है। Y अकेला उस कार्य को कितने दिनों में पूरा करेगा?

Options:

- 1) 18
- 2) 15
- 3) 16
- 4) 19

Correct Answer: 16

Candidate Answer: 15

QID : 134 - What is the area (in cm^2) of the rhombus having side as 10 cm and one of the diagonal as 12 cm?

एक समचतुर्भुज जिसकी भुजा 10 से.मी. है

Options:

- 1) 92
- 2) 96
- 3) 94
- 4) 98

Correct Answer: 96**Candidate Answer:** 96

QID : 135 - A merchant allows two successive discounts of 20% and 15% on selling an article. If he gets Rs 816 for the article, then what is the marked price (in Rs) of the article?

एक व्यापारी किसी वस्तु को बेचते समय, 20% तथा 15%, की दो क्रमिक छूट देता है। यदि वह इस वस्तु के 816 रु प्राप्त करता है, तो वस्तु का अंकित मूल्य (रु में) क्या है?

Options:

- 1) 1000
- 2) 1200
- 3) 980
- 4) 1280

Correct Answer: 1200**Candidate Answer:** [NOT ANSWERED]

QID : 136 - A shopkeeper gives a discount of 16% on the marked price. To earn profit of 26%, by how much percent should he mark the price of his goods higher than its cost price?

एक दुकानदार अंकित मूल्य पर 16% की छूट देता है। 26% का लाभ प्राप्त करने के लिए उसे अपनी वस्तुओं का मूल्य, क्रय मूल्य से कितना प्रतिशत अधिक अंकित करना चाहिए?

Options:

- 1) 20
- 2) 35
- 3) 25
- 4) 50

Correct Answer: 50**Candidate Answer:** [NOT ANSWERED]

QID : 137 - Of three positive numbers, the ratio of first and second is 4 : 7, that of second and third is 2 : 3. The product of first and third is 4200. What is the sum of the three numbers?

तीन धनात्मक संख्याओं में पहली तथा दूसरी का अनुपात 4 : 7 है, दूसरी तथा तीसरी का अनुपात 2 : 3 है। पहली तथा तीसरी का गुणनफल 4200 है। तीनों संख्याओं का योग क्या है?

Options:

- 1) 225
- 2) 215
- 3) 250
- 4) 235

Correct Answer: 215**Candidate Answer:** 215

QID : 138 - Three numbers are in the ratio 4 : 5 : 6. If the sum of their squares is 1925, then what are the numbers?

तीन संख्याएँ 4 : 5 : 6 के अनुपात में हैं। यदि उनके वर्गों का योग 1925 है, तो संख्याएँ क्या हैं?

Options:

- 1) 20, 25, 30
- 2) 15, 20, 40
- 3) 20, 35, 30
- 4) 40, 20, 10

Correct Answer: 20, 25, 30**Candidate Answer:** 20, 25, 30

QID : 139 - The average of N numbers is 21. If a number 57 is removed, then average becomes 17. What is the value of N?

N संख्याओं का औसत 21 है। यदि एक संख्या 57 को हटाया जाये, तो औसत 17 हो जाता है। N का मान क्या है?

Options:

1) 10

2) 8

3) 9

4) 11

Correct Answer: 10

Candidate Answer: 10

QID : 140 - By Selling 4 articles for 1 rupee, a man gains 25%. Had he sold 2 articles per rupee, then what will be the profit percentage?

1 रुपये में 4 वस्तुओं को बेचने पर एक व्यक्ति को 25% का लाभ होता है। यदि वह एक रुपये में 2 वस्तुएँ बेचे, तो लाभ प्रतिशत क्या होगा?

Options:

1) 120

2) 150

3) 100

4) 225

Correct Answer: 150

Candidate Answer: 150

QID : 141 - An article was sold at 19% gain. Had it been sold for Rs 750 more, then the gain would have been of 34%. What is the cost price (in Rs) of the article?

एक वस्तु को 19% लाभ पर बेचा गया। यदि 750 रु अधिक मूल्य पर उसे बेचा जाता, तो 34% का लाभ होता। वस्तु का क्रय मूल्य (रु में) क्या है?

Options:

1) 5500

2) 4000

3) 5000

4) 4800

Correct Answer: 5000

Candidate Answer: 4800

QID : 142 - A number is multiplied by $(\frac{6}{7})$ instead of $(\frac{5}{8})$. New value is what percent of desired value?

एक संख्या को $(\frac{5}{8})$ की बजाय $(\frac{6}{7})$ से गुणा कर दिया जाता है। नया मान अपेक्षित मान का कितना प्रतिशत है?

Options:

1) 139.22

2) 137.14

3) 143.33

4) 166.66

Correct Answer: 137.14

Candidate Answer: [NOT ANSWERED]

QID : 143 - L is 20% less than M. M is 20% more than N. N is 30% less than P. If P is 2000, then what is the value of L?

L, M से 20% कम है। M, N से 20% अधिक है। N, P से 30% कम है। यदि P, 2000 है, तो L का मान क्या है?

Options:

1) 1268

2) 1344

3) 1272

4) 1352

Correct Answer: 1344

Candidate Answer: [NOT ANSWERED]

QID : 144 - The downstream speed of a boat is 17 km/hr and the speed of current is 2 km/hr. What is the total time (in hours) taken by the boat to cover 65 km upstream and 170 km downstream?

किसी नाव की गति धारा के अनुकूल 17 कि.मी./घंटा है तथा धारा की गति 2 कि.मी./घंटा है। धारा के प्रतिकूल 65 कि.मी. तथा धारा के अनुकूल 170 कि.मी. की दूरी तय करने में नाव को कुल कितना समय (घंटों में) लगता है?

Options:

1) 10

2) 16

3) 18

4) 15

Correct Answer: 15

Candidate Answer: [NOT ANSWERED]

QID : 145 - A man goes to a place at a speed of 20 km/hr and comes back with a different speed. If the average speed is 8 km/hr, then what is the return speed (in km/hr)?

एक व्यक्ति 20 कि.मी./घंटा की गति से किसी स्थान पर जाता है तथा एक भिन्न गति से वापस आता है। यदि औसत गति 8 कि.मी./घंटा है, तो वापस आते समय गति (कि.मी./घंटा में) क्या है?

Options:

1) 5

2) 8

3) 6

4) 9

Correct Answer: 5

Candidate Answer: 5

QID : 146 - What is the compound interest (in Rs) on a sum of Rs 10000 for 3 years at the rate of 2% per annum compounded annually?

10000 रु के मूलधन पर 2% की वार्षिक दर पर वार्षिक संयोजन से 3 वर्षों का चक्रवृद्धि ब्याज (रु में) क्या है?

Options:

1) 492

2) 300

3) 612.08

4) 624

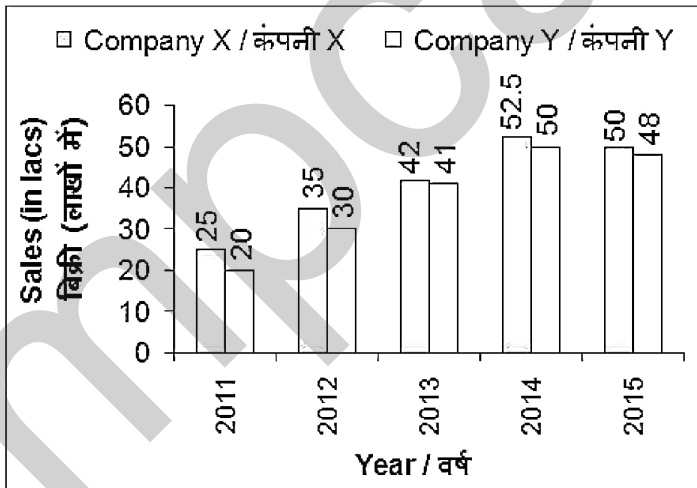
Correct Answer: 612.08

Candidate Answer: [NOT ANSWERED]

QID : 147 -

The bar chart given below shows the sales (in lacs) by 2 companies X and Y from year 2011 to 2015.

नीचे दिए गए दण्ड चित्र में वर्ष 2011 से 2015 तक 2 कंपनियों X तथा Y की बिक्री (लाखों में) को दर्शाया गया है।



Companies X and Y show the same difference in sales for which of the following years?

कंपनियों X तथा Y की बिक्री का अंतर निम्नलिखित में से किन वर्षों में समान था?

Options:

1) 2012 and 2013

2012 तथा 2013

2) 2011 and 2012

2011 तथा 2012

3) 2012 and 2014

2012 तथा 2014

4) None of these

इनमें से कोई नहीं

Correct Answer: 2011 and 2012

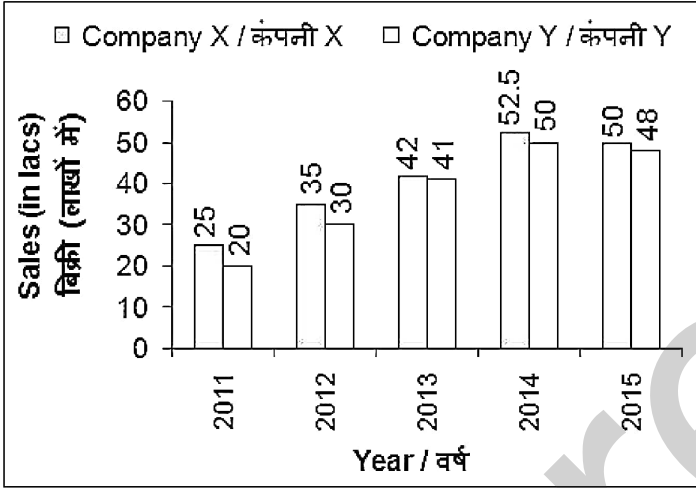
2011 तथा 2012

Candidate Answer: [NOT ANSWERED]

QID : 148 -

The bar chart given below shows the sales (in lacs) by 2 companies X and Y from year 2011 to 2015.

नीचे दिए गए दण्ड चित्र में वर्ष 2011 से 2015 तक 2 कंपनियों X तथा Y की बिक्री (लाखों में) को दर्शाया गया है।



What is the percentage change in sales of company Y from year 2012 to year 2015?

वर्ष 2012 से वर्ष 2015 तक कंपनी Y की बिक्री में प्रतिशत परिवर्तन क्या है?

Options:

- 1) 36
- 2) 66
- 3) 60
- 4) 90

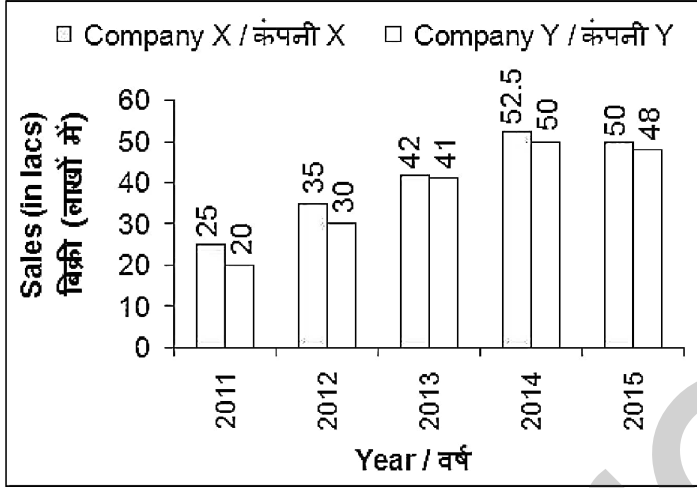
Correct Answer: 60

Candidate Answer: [NOT ANSWERED]

QID : 149 -

The bar chart given below shows the sales (in lacs) by 2 companies X and Y from year 2011 to 2015.

नीचे दिए गए दण्ड चित्र में वर्ष 2011 से 2015 तक 2 कंपनियों X तथा Y की बिक्री (लाखों में) को दर्शाया गया है।



What is the average sale (in lacs) of company Y over the 5 given years?

दिए गए 5 वर्षों में कंपनी Y की औसत बिक्री (लाखों में) क्या है?

Options:

- 1) 47
- 2) 37.8
- 3) 84
- 4) 42

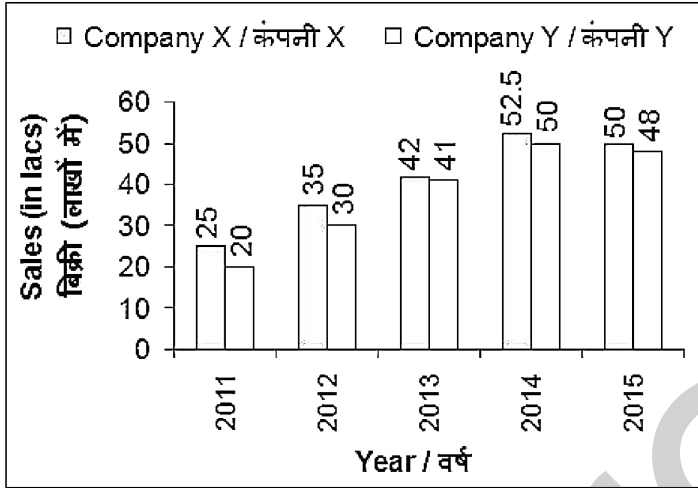
Correct Answer: 37.8

Candidate Answer: [NOT ANSWERED]

QID : 150 -

The bar chart given below shows the sales (in lacs) by 2 companies X and Y from year 2011 to 2015.

नीचे दिए गए दण्ड चित्र में वर्ष 2011 से 2015 तक 2 कंपनियों X तथा Y की बिक्री (लाखों में) को दर्शाया गया है।



What is the percentage change in sales of company X from year 2011 to 2013?

वर्ष 2011 से 2013 तक कंपनी X की बिक्री में प्रतिशत परिवर्तन क्या है?

Options:

- 1) 68
- 2) 84
- 3) 78
- 4) 34

Correct Answer: 68

Candidate Answer: [NOT ANSWERED]

QID : 151 - In the following question, some part of the sentence may have errors. Find out which part of the sentence has an error and select the appropriate option. If a sentence is free from error, select 'No Error'.

The doctor warned the patient against any (1)/ further consumption of alcohol if he desired (2)/ to get cured from the ailment and live a longing life. (3)/ No error (4)

Options:

- 1) 1
- 2) 2
- 3) 3
- 4) 4

Correct Answer: 3

Candidate Answer: 3

QID : 152 - In the following question, some part of the sentence may have errors. Find out which part of the sentence has an error and select the appropriate option. If a sentence is free from error, select 'No Error'.

The viability of FI business is under question, (1)/ because while banks and its delivery partners (2)/ continue to make investments, they haven't seen commensurate returns. (3)/ No error (4)

Options:

- 1) 1
- 2) 2
- 3) 3
- 4) 4

Correct Answer: 2

Candidate Answer: 2

QID : 153 - In the following question, the sentence given with blank to be filled in with an appropriate word. Select the correct alternative out of the four and indicate it by selecting the appropriate option.

He was laughed _____ by all his friends.

Options:

1) by

2) at

3) to

4) of

Correct Answer: at

Candidate Answer: by

QID : 154 - In the following question, the sentence given with blank to be filled in with an appropriate word. Select the correct alternative out of the four and indicate it by selecting the appropriate option.

They use videos _____ teach the kids.

Options:

1) to

2) for

3) of

4) in

Correct Answer: to

Candidate Answer: to

QID : 155 - In the following question, out of the given four alternatives, select the one which best expresses the meaning of the given word.

Integrand

Options:

1) Gleeful

2) Item

3) Happy

4) Pleased

Correct Answer: Item

Candidate Answer: Pleased

QID : 156 - In the following question, out of the given four alternatives, select the one which best expresses the meaning of the given word.

Overwhelmed

Options:

1) Surprised

2) Calm

3) Kind

4) Peaceable

Correct Answer: Surprised

Candidate Answer: Surprised

QID : 157 - In the following question, out of the given four alternatives, select the one which best expresses the meaning of the given word.

Startled

Options:

1) Composed

2) Amazed

3) Expected

4) Comforted

Correct Answer: Amazed

Candidate Answer: Amazed

QID : 158 - In the following question, out of the given four alternatives, select the one which is opposite in meaning of the given word.

Docile

Options:

- 1) Easy
- 2) Unwilling
- 3) Agreeable
- 4) Adaptable

Correct Answer: Unwilling

Candidate Answer: Agreeable

QID : 159 - In the following question, out of the given four alternatives, select the one which is opposite in meaning of the given word.

Truculent

Options:

- 1) Hateful
- 2) Brutal
- 3) Amiable
- 4) Abusive

Correct Answer: Amiable

Candidate Answer: Brutal

QID : 160 - In the following question, out of the given four alternatives, select the one which is opposite in meaning of the given word.

Zany

Options:

- 1) Funny
- 2) Sober
- 3) Dumb
- 4) Fool

Correct Answer: Sober

Candidate Answer: Fool

QID : 161 - In the following question, out of the four given alternatives, select the alternative which best expresses the meaning of the Idiom/Phrase.

The salt of the earth

Options:

- 1) A good, reliable, honest person
- 2) Selfish person
- 3) Notorious person
- 4) An angry person

Correct Answer: A good, reliable, honest person

Candidate Answer: An angry person

QID : 162 - In the following question, out of the four given alternatives, select the alternative which best expresses the meaning of the Idiom/Phrase.

Dead in the water

Options:

- 1) No chance of succeeding or making any progress
- 2) Yielding only confusion
- 3) Died while swimming
- 4) Landed in trouble

Correct Answer: No chance of succeeding or making any progress

Candidate Answer: No chance of succeeding or making any progress

QID : 163 - Improve the bracketed part of the sentence.

A university librarian reported (incr

Options:

- 1) increase
- 2) increases
- 3) increased
- 4) No improvement

Correct Answer: increased

Candidate Answer: No improvement

QID : 164 - Improve the bracketed part of the sentence.

In China, more than two-dozen higher education research centres, and several government agencies are involved in higher education policy **(to)** optimum planning.

Options:

- 1) at
- 2) for
- 3) in
- 4) No improvement

Correct Answer: for

Candidate Answer: No improvement

QID : 165 - In the following question, out of the four given alternatives, select the alternative which is the best substitute of the phrase.

That which cannot be seen through.

Options:

- 1) Transparent
- 2) Translucent
- 3) Neutral
- 4) Opaque

Correct Answer: Opaque

Candidate Answer: Opaque

QID : 166 - In the following question, out of the four given alternatives, select the alternative which is the best substitute of the phrase.

Power of reading thought of others.

Options:

- 1) Neuropathy
- 2) Telepathy
- 3) Homeopathy
- 4) Orthopathy

Correct Answer: Telepathy

Candidate Answer: Telepathy

QID : 167 - In the following question, a word has been written in four different ways out of which only one is correctly spelt. Select the correctly spelt word.

Options:

- 1) Actualy
- 2) Actually
- 3) Actually
- 4) Acaully

Correct Answer: Actually

Candidate Answer: Actually

QID : 168 - In the following question, a word has been written in four different ways out of which only one is correctly spelt. Select the correctly spelt word.



Options:

- 1) Jerney
- 2) Journey
- 3) Juorney
- 4) Journei

Correct Answer: Journey

Candidate Answer: Journey

QID : 169 - Rearrange the parts of the sentence in correct order.

When we are

P: compelled to act safely

Q: more aware of risks,

R: we feel more

Options:

- 1) PQR
- 2) RPQ
- 3) QPR
- 4) QRP

Correct Answer: QRP

Candidate Answer: QRP

QID : 170 - Rearrange the parts of the sentence in correct order.

Family planning

P: industrial countries, such as

Q: Japan and most of Europe

R: is national policy in many

Options:

- 1) PQR
- 2) RPQ
- 3) QPR
- 4) QRP

Correct Answer: RPQ

Candidate Answer: RPQ

QID : 171 - In the following passage some of the words have been left out. Read the passage carefully and select the correct answer for the given blank out of the four alternatives.

Unemployment is the _____ cause of various problems in the society. While the government has taken initiatives to _____ this problem, the measures taken are not _____ enough. The various factors causing this problem must be studied well to look for effective and integrated solutions for the _____. It is the time the government should recognize the sensitivity of the matter and take some _____ steps to reduce it.

the _____ cause of various problems

Options:

- 1) root
- 2) branch
- 3) leaves
- 4) tree

Correct Answer: root

Candidate Answer: root

QID : 172 - In the following passage some of the words have been left out. Read the passage carefully and select the correct answer for the given blank out of the four alternatives.

Unemployment is the _____ cause of various problems in the society. While the government has taken initiatives to _____ this problem, the measures taken are not _____ enough. The various factors causing this problem must be studied well to look for effective and integrated solutions for the _____. It is the time the government should recognize the sensitivity of the matter and take some _____ steps to reduce it.

initiatives to _____ this problem,



Options:

- 1) deduce
- 2) reduce
- 3) increase
- 4) result

Correct Answer: reduce

Candidate Answer: reduce

QID : 173 - In the following passage some of the words have been left out. Read the passage carefully and select the correct answer for the given blank out of the four alternatives.

Unemployment is the _____ cause of various problems in the society. While the government has taken initiatives to _____ this problem, the measures taken are not _____ enough. The various factors causing this problem must be studied well to look for effective and integrated solutions for the _____. It is the time the government should recognize the sensitivity of the matter and take some _____ steps to reduce it.

taken are not _____ enough.

Options:

- 1) affective
- 2) innovative
- 3) effective
- 4) creative

Correct Answer: effective

Candidate Answer: [NOT ANSWERED]

QID : 174 - In the following passage some of the words have been left out. Read the passage carefully and select the correct answer for the given blank out of the four alternatives.

Unemployment is the _____ cause of various problems in the society. While the government has taken initiatives to _____ this problem, the measures taken are not _____ enough. The various factors causing this problem must be studied well to look for effective and integrated solutions for the _____. It is the time the government should recognize the sensitivity of the matter and take some _____ steps to reduce it.

solutions for the _____.

Options:

- 1) similar
- 2) alike
- 3) distinct
- 4) same

Correct Answer: same

Candidate Answer: same

QID : 175 - In the following passage some of the words have been left out. Read the passage carefully and select the correct answer for the given blank out of the four alternatives.

Unemployment is the _____ cause of various problems in the society. While the government has taken initiatives to _____ this problem, the measures taken are not _____ enough. The various factors causing this problem must be studied well to look for effective and integrated solutions for the _____. It is the time the government should recognize the sensitivity of the matter and take some _____ steps to reduce it.

take some _____ steps to reduce

Options:

- 1) serious
- 2) mere
- 3) last
- 4) casual

Correct Answer: serious

Candidate Answer: serious

QID : 176 - Which of the following states has the highest irrigation coverage?

निम्नलिखित में से किस राज्य में सबसे अधिक सिंचित क्षेत्र है?



Options:

- 1) Punjab
पंजाब
- 2) Haryana
हरियाणा
- 3) Gujarat
गुजरात
- 4) Bihar
बिहार

Correct Answer: Punjab
पंजाब

Candidate Answer: [NOT ANSWERED]

QID : 177 - Which of the following is **NOT** an institution of World Bank?

निम्नलिखित में कौन विश्व बैंक की संस्था नहीं है?

Options:

- 1) IBRD
आईबीआरडी
- 2) IDA
आईडीए
- 3) IFC
आईएफसी
- 4) ADB
एडीबी

Correct Answer: ADB
एडीबी

Candidate Answer: [NOT ANSWERED]

QID : 178 - Which artist decorated the handwritten copy of the Indian Constitution?

किस कलाकार ने भारतीय संविधान की हस्तलिखित प्रतियां सजाई थीं?

Options:

- 1) Raja Ravi Verma
राजा रवि वर्मा
- 2) Mihir Sen
मिहिर सेन
- 3) Nandalal Bose
नंदलाल बोस
- 4) Ravindra Nath Tagore
रवींद्रनाथ टैगोर

Correct Answer: Nandalal Bose
नंदलाल बोस

Candidate Answer: [NOT ANSWERED]

QID : 179 - What can be maximum gap between two sessions of Parliament in India?

भारत में संसद के दो सत्रों के बीच अधिकतम कितना अंतर हो सकता है?

Options:

- 1) 3 months
3 महीने
- 2) 6 months
6 महीने
- 3) 1 year
1 साल
- 4) 4 months
4 महीने

Correct Answer: 6 months
6 महीने

Candidate Answer: 6 months
6 महीने

QID : 180 - Which of the following was the capital city of Maharaja Ranjit Singh's empire?

इनमें से कौन महाराजा रणजीत सिंह के साम्राज्य की राजधानी थी?

Options:

- 1) Lahore
लाहौर
- 2) Amritsar
अमृतसर
- 3) Ludhiana
लुधियाना
- 4) Jalandhar
जालंधर

Correct Answer: Lahore
लाहौर

Candidate Answer: [NOT ANSWERED]

QID : 181 - Who is known as the Father of Local Self-government?

स्थानीय स्वशासन के पिता के रूप में कौन जाना जाता है?

Options:

- 1) Lord Curzon
लॉर्ड कर्जन
- 2) Lord Ripon
लॉर्ड रिपन
- 3) Lord Carnwalis
लॉर्ड कॉर्नवालिस
- 4) Lord Dalhausie
लॉर्ड डलहौजी

Correct Answer: Lord Ripon
लॉर्ड रिपन

Candidate Answer: [NOT ANSWERED]

QID : 182 - Which of the following countries share longest land boundary with india?

निम्नलिखित में से कौन सा देश भारत के साथ सर्वाधिक भूमि सीमा साझा करता है?

Options:

- 1) Pakistan
पाकिस्तान
- 2) China
चीन
- 3) Nepal
नेपाल
- 4) Bangladesh
बांग्लादेश

Correct Answer: Bangladesh
बांग्लादेश

Candidate Answer: Bangladesh
बांग्लादेश

QID : 183 - The Nagarjuna Sagar project is constructed on the which of the following river?

नागार्जुन सागर परियोजना निम्न में से किस नदी पर निर्माण किया गया है?

Options:

- 1) Godavari
गोदावरी
- 2) Krishna
कृष्णा
- 3) Cauveri
कावेरी
- 4) Mahanadi
महानदी

Correct Answer: Krishna
कृष्णा

Candidate Answer: [NOT ANSWERED]

QID : 184 - What is the largest part of the human brain?

मानव मस्तिष्क का सबसे बड़ा हिस्सा कौन सा है?



Options:

- 1) Mid brain
मध्य मस्तिष्क
- 2) Medulla Oblongata
मेडुला ओब्लोंगैटा
- 3) Cerebrum
सेरीब्रम
- 4) Cerebellum
सेरिबेलम

Correct Answer: Cerebrum
सेरीब्रम

Candidate Answer: Cerebellum
सेरिबेलम

QID : 185 - Which animals may suffer from 'foot and mouth disease'?

निम्न में से कौन जानवर 'पैर और मुंह रोग' से पीड़ित हो सकता है?

Options:

- 1) Deer
हिरन
- 2) Sheep
भेड़
- 3) Goat
बकरी
- 4) All options are correct
सभी विकल्प सही हैं

Correct Answer: All options are correct
सभी विकल्प सही हैं

Candidate Answer: [NOT ANSWERED]

QID : 186 - Which one among the following is known as 'animal starch' ?

निम्नलिखित में से कौन सा एक 'पशु स्टार्च' के रूप में जाना जाता है?

Options:

- 1) Cellulose
सेल्यूलोज़
- 2) Glucose
शर्करा
- 3) Glycogen
ग्लाइकोजन
- 4) Pectin
पेक्टिन

Correct Answer: Glycogen
ग्लाइकोजन

Candidate Answer: Cellulose
सेल्यूलोज़

QID : 187 - Persons suffering from myopia are advised to use _____.

मायोपिया से ग्रस्त व्यक्तियों को _____ उपयोग करने की सलाह दी जाती है।

Options:

- 1) Concave Lens
अवतल लेंस
- 2) Convex Lens
उत्तल लेंस
- 3) Bifocal Lens
बायफोकल लेंस
- 4) None of the option is correct.
कोई भी विकल्प सही नहीं है।

Correct Answer: Concave Lens
अवतल लेंस

Candidate Answer: Concave Lens
अवतल लेंस

QID : 188 - What will be the impact on the duration of swinging of a pendulum if it is carried on moon?

पेंडुलम को चन्द्रमा पर ले जाने पर उसके लोलक के झूलने की समयावधि पर क्या प्रभाव होगा?

Options:

- 1) It will remain the same.
उतनी ही रहेगी
- 2) It will decrease.
घटेगी
- 3) It will be zero.
शून्य हो जाएगी
- 4) It will increase.
बढ़ेगी

Correct Answer: It will increase.
बढ़ेगी

Candidate Answer: It will decrease.
घटेगी

QID : 189 - Which of the following is first generation of computer?

इनमें से कौन सी कंप्यूटर की पहली पीढ़ी है?

Options:

- 1) ENIAC
 - 2) IBM-1401
 - 3) ASCII
 - 4) None of these
- इनमें से कोई नहीं

Correct Answer: ENIAC

Candidate Answer: [NOT ANSWERED]

QID : 190 - A non-volatile solid is added to water. Its boiling point will _____.

एक गैर-वाष्पशील ठोस पानी में जोड़ा जाता है। इसका कथनांक में _____ होगी/होगा।

Options:

- 1) decrease
कमी
- 2) increase
वृद्धि
- 3) no change
कोई परिवर्तन नहीं
- 4) No option is correct
कोई विकल्प सही नहीं है

Correct Answer: increase
वृद्धि

Candidate Answer: increase
वृद्धि

QID : 191 - Which of the following cells convert electrical energy into chemical energy?

निम्नलिखित में से किस सेल में विद्युत ऊर्जा को रासायनिक ऊर्जा में बदल दिया जाता है?

Options:

- 1) Galvanic
गैल्वैनिक
- 2) Electrochemical
विद्युत रासायनिक
- 3) Voltaic
वोल्टिक
- 4) Electrolytic
इलेक्ट्रोलाइटिक

Correct Answer: Electrolytic
इलेक्ट्रोलाइटिक

Candidate Answer: Electrochemical
विद्युत रासायनिक

QID : 192 - When was the Montreal protocol assigned to reduce production of Chlorofluorocarbons?

क्लोरोफ्लोरोकार्बन के उत्पादन को कम करने के लिए मॉन्ट्रियल प्रोटोकॉल को कब अभिहस्तांकित किया गया था?

Options:

- 1) 2001
- 2) 1980
- 3) 1987
- 4) 1994

Correct Answer: 1987

Candidate Answer: [NOT ANSWERED]

QID : 193 - Which of the following state government has signed an MoU with Microsoft India to develop a unique "farm price forecasting model"?

निम्नलिखित में से किस राज्य सरकार ने माइक्रोसॉफ्ट इंडिया के साथ एक अद्वितीय "कृषि मूल्य पूर्वानुमान मॉडल" विकसित करने के लिए एक समझौता ज्ञापन पर हस्ताक्षर किया है?

Options:

1) Assam

असम

2) Karnataka

कर्नाटक

3) Kerala

केरल

4) Tamilnadu

तमिलनाडु

Correct Answer: Karnataka

कर्नाटक

Candidate Answer: [NOT ANSWERED]

QID : 194 - Which one of the following was to be discovered first in the chromosphere of the sun?

निम्न में से कौन सा सूर्य की क्रोमोस्फीयर में पहले खोजा गया था?

Options:

1) Neon

नियॉन

2) Argon

आर्गन

3) Helium

हीलियम

4) Xenon

जेनोन

Correct Answer: Helium

हीलियम

Candidate Answer: Helium

हीलियम

QID : 195 - Who has won the 2017 Women's Singles Wimbledon Championship?

किसने 2017 महिला एकल विंबलडन चैम्पियनशिप जीती है?

Options:

1) Garbine Muguruza

गार्बिन मुगुरुज़ा

2) Venus Williams

वीनस विलियम्स

3) Serena Williams

सेरेना विलियम्स

4) Maria Sharapova

मारिया शारापोवा

Correct Answer: Garbine Muguruza

गार्बिन मुगुरुज़ा

Candidate Answer: Serena Williams

सेरेना विलियम्स

QID : 196 - The annual "Royal Kathina Ceremony" is associated with which of the following religions?

वार्षिक "रॉयल काथिना समारोह" निम्नलिखित धर्मों में से किसके साथ जुड़ा हुआ है?

Options:

1) Jainism

जैन

2) Parsi

पारसी

3) Buddhism

बौद्ध

4) Sikhism

सिख

Correct Answer: Buddhism

बौद्ध

Candidate Answer: Parsi

पारसी

QID : 197 - Which of the following award is given for the field of medicine?

निम्नलिखित में से कौन सा पुरस्कार चिकित्सा के क्षेत्र में दिया जाता है?

Options:

1) B.C. Roy Award

बी.सी. रॉय पुरस्कार

2) Kalinga Award

कलिंग पुरस्कार

3) Borlaug Award

बोरलॉग पुरस्कार

4) None of the option is correct.

कोई भी विकल्प सही नहीं है।

Correct Answer: B.C. Roy Award

बी.सी. रॉय पुरस्कार

Candidate Answer: B.C. Roy Award

बी.सी. रॉय पुरस्कार

QID : 198 - Who wrote the book "Old History, New Geography"?

"ओल्ड हिस्ट्री, न्यू जियोग्राफी" किताब किसने लिखा था?

Options:

1) Anand Sharma

आनंद शर्मा

2) Digvijay Singh

दिविजय सिंह

3) Jairam Ramesh

जयराम रमेश

4) Ashwini Kumar

अश्विनी कुमार

Correct Answer: Jairam Ramesh

जयराम रमेश

Candidate Answer: Anand Sharma

आनंद शर्मा

QID : 199 - Which country has signed a deal with Russia to buy S-400 missile defence systems in year 2017?

साल 2017 में किस देश ने एस-400 मिसाइल रक्षा प्रणाली खरीदने के लिए रूस के साथ एक समझौते पर हस्ताक्षर किया है?

Options:

1) Turkey

तुर्की

2) Syria

सीरिया

3) Iran

ईरान

4) Pakistan

पाकिस्तान

Correct Answer: Turkey

तुर्की

Candidate Answer: [NOT ANSWERED]

QID : 200 - With which country India signed four pacts in areas of health and transport in September 2017?

सितम्बर 2017 में स्वास्थ्य और परिवहन के क्षेत्र में भारत ने किस देश से चार समझौते पर हस्ताक्षर किया है?

Options:

1) Bangladesh

बांग्लादेश

2) Srilanka

श्रीलंका

3) Afghanistan

अफ़ग़ानिस्तान

4) Nepal

नेपाल

Correct Answer: Afghanistan

अफ़ग़ानिस्तान

Candidate Answer: [NOT ANSWERED]