

QID : 201 -

In the following question, select the number which can be placed at the sign of question mark (?) from the given alternatives.

निम्नलिखित प्रश्न में दिए गए विकल्पों में से प्रश्न चिह्न (?) के स्थान पर आने वाली संख्या को चुनिए।

18	22	14
324	484	196
9	11	?

Options:

- 1) 8
- 2) 10
- 3) 7
- 4) 11

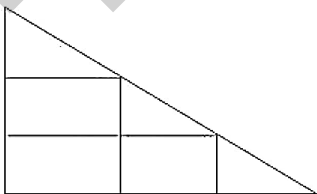
Correct Answer: 7

Candidate Answer: 7

QID : 202 -

How many rectangles are there in the given figure?

दी गई आकृति में कितने आयत हैं?



Options:

- 1) 4
- 2) 3
- 3) 5
- 4) 6

Correct Answer: 5

Candidate Answer: 4

QID : 203 -

A word is represented by only one set of numbers as given in any one of the alternatives. The sets of numbers given in the alternatives are represented by two classes of alphabets as shown in the given two matrices. The columns and rows of Matrix-I are numbered from 0 to 4 and that of Matrix-II are numbered from 5 to 9. A letter from these matrices can be represented first by its row and next by its column, for example, 'T' can be represented by 24, 97, etc., and 'M' can be represented by 11, 66, etc. Similarly, you have to identify the set for the word "AGAIN".

एक शब्द केवल एक संख्या-समूह द्वारा दर्शाया गया है, जैसा कि विकल्पों में से किसी एक में दिया गया है। विकल्पों में दिए गए संख्या-समूह अक्षरों के दो वर्गों द्वारा दर्शाए गए हैं, जैसा कि दिए गए दो आव्यूहों में है। आव्यूह-I के स्तम्भ और पंक्ति की संख्या 0 से 4 है और आव्यूह-II की 5 से 9। इन आव्यूहों से एक अक्षर को पहले उसकी पंक्ति और बाद में स्तम्भ संख्या द्वारा दर्शाया जा सकता है। उदाहरण के लिए 'T' को 24, 97, आदि द्वारा दर्शाया जा सकता है तथा 'M' को 11, 66, आदि द्वारा दर्शाया जा सकता है। इसी तरह से आपको प्रश्न में दिए शब्द "AGAIN" के लिए समूह को पहचानना है।

Matrix-I आव्यूह-I						Matrix-II आव्यूह-II					
	0	1	2	3	4	5	6	7	8	9	
0	X	K	D	F	X	5	Z	C	W	G	I
1	G	M	N	H	V	6	K	M	O	Q	S
2	E	O	Y	J	T	7	U	W	Y	B	A
3	C	F	I	L	R	8	E	H	G	L	N
4	A	S	U	N	P	9	A	R	T	V	X

Options:

- 1) 95, 10, 79, 59, 41
- 2) 40, 87, 40, 32, 12
- 3) 95, 56, 79, 32, 43
- 4) 13, 58, 69, 59, 89

Correct Answer: 40, 87, 40, 32, 12**Candidate Answer:** 40, 87, 40, 32, 12**QID : 204 -**

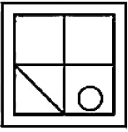
From the given answer figures, select the one in which the question figure is hidden/embedded.

दी गई उत्तर आकृतियों में से उस उत्तर आकृति को चुनिए जिस में प्रश्न आकृति निहित है।




Options:


1)



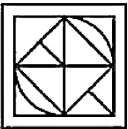
2)



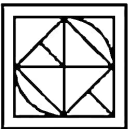
3)



4)



Correct Answer:



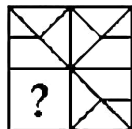
Candidate Answer:



QID : 205 -

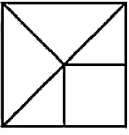
Which answer figure will complete the pattern in the question figure?

कौन सी उत्तर आकृति प्रश्न आकृति के प्रतिरूप को पूरा करेगी?

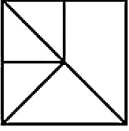


Options:

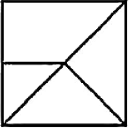
1)



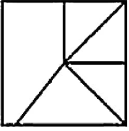
2)



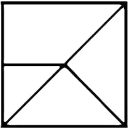
3)



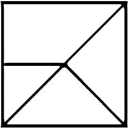
4)



Correct Answer:



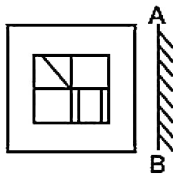
Candidate Answer:



QID : 206 -

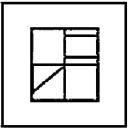
If a mirror is placed on the line AB, then which of the answer figures is the right image of the given figure?

यदि एक दर्पण को AB रेखा पर रखा जाए, तो दी गई उत्तर आकृतियों में से कौन सी आकृति प्रश्न आकृति की सही प्रतिबिम्ब होगी?

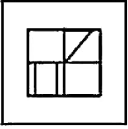


Options:

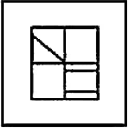
1)



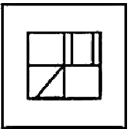
2)



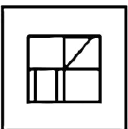
3)



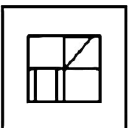
4)



Correct Answer:



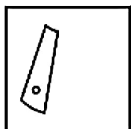
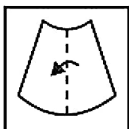
Candidate Answer:



QID : 207 -

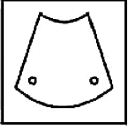
A piece of paper is folded and punched as shown below in the question figures. From the given answer figures, indicate how it will appear when opened?

नीचे के प्रश्न आकृतियों में दिखाए अनुसार कागज को मोड़कर छेदने तथा खोलने के बाद वह किस उत्तर आकृति जैसा दिखाई देगा?



Options:

1)



2)



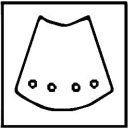
3)



4)



Correct Answer:



Candidate Answer:



QID : 208 - If '+' means '÷', 'x' means '-', '-' means '+' and '÷' means 'x', then

$$16 - 5 \times 2 + 4 \div 12 = ?$$

यदि '+' का अर्थ '÷', 'x' का अर्थ '-', '-' का अर्थ '+' तथा '÷' का अर्थ 'x' हो, तो

$$16 - 5 \times 2 + 4 \div 12 = ?$$

Options:

1) 15

2) 9

3) 12

4) 27

Correct Answer: 15

Candidate Answer: 15

QID : 209 - If $15 \text{ C } 5 \text{ D } 45 = 135$ and $13 \text{ C } 4 \text{ D } 12 = 39$, then

$$11 \text{ C } 33 \text{ D } 66 = ?$$

यदि $15 \text{ C } 5 \text{ D } 45 = 135$ तथा $13 \text{ C } 4 \text{ D } 12 = 39$ हो, तो

$$11 \text{ C } 33 \text{ D } 66 = ?$$

Options:

1) 22

2) 32

3) 44

4) 11

Correct Answer: 22

Candidate Answer: 22

QID : 210 - Arrange the given words in the sequence in which they occur in the dictionary.

1. Shame
2. Sheet
3. Shoot
4. Shut
5. Ship

निम्नलिखित शब्दों को शब्दकोश में आने वाले क्रम के अनुसार लिखें।

1. Shame
2. Sheet
3. Shoot
4. Shut
5. Ship

Options:

1) 12534

2) 12354

3) 12345

4) 12543

Correct Answer: 12534

Candidate Answer: 12534

QID : 211 - In the following question, select the missing number from the given series.

4, 5, 9, 18, 34, ?

निम्नलिखित प्रश्न में दिए गए विकल्पों में से लुप्त अंक ज्ञात कीजिए।

4, 5, 9, 18, 34, ?

Options:

1) 67

2) 63

3) 55

4) 59

Correct Answer: 59

Candidate Answer: 59

QID : 212 - A series is given with one term missing. Select the correct alternative from the given ones that will complete the series.

LM, OP, RS, UV, ?

एक अनुक्रम दिया गया है, जिसमें से एक पद लुप्त है। दिए गए विकल्पों में से वह सही विकल्प चुनिए, जो अनुक्रम को पूरा करे।

LM, OP, RS, UV, ?

Options:

1) WY

2) WX

3) XY

4) XZ

Correct Answer: XY

Candidate Answer: XY

QID : 213 - In the following question, select the odd word from the given alternatives.

निम्नलिखित प्रश्न में दिए गए विकल्पों में से विषम शब्द को चुनिए।

Options:

1) Mother

माता

2) Father

पिता

3) Sister

बहन

4) Friend

दोस्त

Correct Answer: Friend

दोस्त

Candidate Answer: Friend
दोस्त

QID : 214 - In the following question, select the odd number pair from the given alternatives.

निम्नलिखित प्रश्न में दिए गए विकल्पों में से विषम संख्या युग्म को चुनिए।

Options:

- 1) 8 – 136
- 2) 17 – 289
- 3) 6 – 102
- 4) 19 – 361

Correct Answer: 19 – 361

Candidate Answer: 19 – 361

QID : 215 - In the following question, select the odd letters from the given alternatives.

निम्नलिखित प्रश्न में दिए गए विकल्पों में से विषम अक्षरों को चुनिए।

Options:

- 1) MN
- 2) NM
- 3) FU
- 4) ZA

Correct Answer: NM

Candidate Answer: FU

QID : 216 - Identify the diagram that best represents the relationship among the given classes.

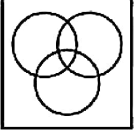
Teacher, Lawyer, Man

वह आरेख चुनिए जो नीचे दिए गए वर्गों के बीच के संबंध का सही निरूपण करता है।

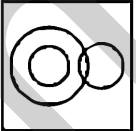
अध्यापक, वकील, पुरुष

Options:

1)



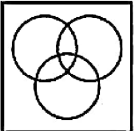
3)



4)



Correct Answer:



Candidate Answer:



QID : 217 - In the following question, select the related word from the given alternatives.

Synonym : Antonym :: Long : ?

निम्नलिखित प्रश्न में दिए गए विकल्पों में से संबंधित शब्द को चुनिए।

पर्यायवाची : विपर्याय :: लम्बा : ?

Options:

1) Short

छोटा

2) Fat

मोटा

3) Peak

चोटी

4) Night

रात्रि

Correct Answer: Short

छोटा

Candidate Answer: Short

छोटा

QID : 218 - In the following question, select the related number from the given alternatives.

14 : 2744 :: 19 : ?

निम्नलिखित प्रश्न में दिए गए विकल्पों में से संबंधित संख्या को चुनिए।

14 : 2744 :: 19 : ?

Options:

1) 6859

2) 7299

3) 6853

4) 6339

Correct Answer: 6859

Candidate Answer: 6859

QID : 219 - In the following question, select the related letters from the given alternatives.

OPEN : NEOP :: BEAT : ?

निम्नलिखित प्रश्न में दिए गए विकल्पों में से संबंधित अक्षरों को चुनिए।

OPEN : NEOP :: BEAT : ?

Options:

1) ATTA

2) ATBE

3) ATBF

4) TABE

Correct Answer: TABE

Candidate Answer: TABE

QID : 220 - In the following question, select the word which cannot be formed using the letters of the given word.

LEMONPIE

निम्नलिखित विकल्पों में से वह शब्द चुनिए जो दिए गए शब्द के अक्षरों का प्रयोग करके नहीं बनाया जा सकता।

LEMONPIE

Options:

- 1) MOLE
- 2) POLE
- 3) MEAN
- 4) MOIN

Correct Answer: MEAN**Candidate Answer:** MEAN**QID : 221** - T is 5 years older to U. U is 8 years younger to V. V is 3 years older to W. W is 9 years younger to X. Who are of same age?

T, U से 5 वर्ष बड़ा है। U, V से 8 वर्ष छोटा है। V, W से 3 वर्ष बड़ा है। W, X से 9 वर्ष छोटा है। कौन समान आयु के हैं?

Options:

- 1) W and T
W तथा T
- 2) W and V
W तथा V
- 3) V and X
V तथा X
- 4) X and T
X तथा T

Correct Answer: W and T

W तथा T

Candidate Answer: W and V

W तथा V

QID : 222 - The present ages of P and Q are 15 years and 21 years respectively. What will be the respective ratio of the ages of P and Q after 6 years?

P तथा Q की वर्तमान आयु क्रमशः 15 वर्ष तथा 21 वर्ष हैं। 6 वर्ष पश्चात P तथा Q की आयु का क्रमशः अनुपात क्या होगा?

Options:

- 1) 5 : 7
- 2) 5 : 6
- 3) 3 : 4
- 4) 7 : 9

Correct Answer: 7 : 9**Candidate Answer:** 7 : 9**QID : 223** - In the following question below are given some statements followed by some conclusions. Taking the given statements to be true even if they seem to be at variance from commonly known facts, read all the conclusions and then decide which of the given conclusion logically follows the given statements.**Statements:**

- I. All red are Sun.
- II. No red is hat.

Conclusions:

- I. No hat is Sun.
- II. All Sun are red.

नीचे दिए गए प्रश्न में कुछ कथन और उनके बाद उन कथनों पर आधारित कुछ निष्कर्ष दिए गए हैं, हालांकि उनमें सामान्य ज्ञात तथ्यों से भिन्नता हो सकती है। सभी निष्कर्ष पढ़ें और फिर निर्धारित करें कि दिए गए कौन से निष्कर्ष, दिए गए कथनों के आधार पर युक्तिसंगत हैं।

कथन:

- I. सभी लाल सूर्य हैं।
- II. कोई लाल टोपी नहीं है।

निष्कर्ष:

- I. कोई टोपी सूर्य नहीं है।
- II. सभी सूर्य लाल हैं।

Options:

- 1) Only conclusion (I) follows.
केवल निष्कर्ष (I) सही है।
- 2) Only conclusion (II) follows.
केवल निष्कर्ष (II) सही है।
- 3) Both conclusion follow.
दोनों ही निष्कर्ष सही हैं।
- 4) Neither conclusion (I) nor conclusion (II) follows.
न तो निष्कर्ष (I) न ही निष्कर्ष (II) सही है।

Correct Answer: Neither conclusion (I) nor conclusion (II) follows

न तो निष्कर्ष (I) न ही निष्कर्ष (II) सही है

Candidate Answer: Only conclusion (I) follows.
केवल निष्कर्ष (I) सही है।

QID : 224 - In a certain code language, 'round' is written as 'tall', 'tall' is written as 'red', 'red' is written as 'wood', 'wood' is written as 'bread' and 'bread' is written as 'soil'. What do we eat in breakfast?

एक विशिष्ट कोड भाषा में, 'गोल' को 'लम्बा', 'लम्बा' को 'लाल', 'लाल' को 'लकड़ी', 'लकड़ी' को 'ब्रेड' तथा 'ब्रेड' को 'मृदा' लिखा जाता है। हम नाश्ते में क्या खाते हैं?

Options:

- 1) soil
मृदा
- 2) wood
लकड़ी
- 3) bread
ब्रेड
- 4) tall
लम्बा

Correct Answer: soil

मृदा

Candidate Answer: soil

मृदा

QID : 225 - In a certain code language, "TOLL" is written as "57" and "TAX" is written as "43". How is "ROAD" written in that code language?

एक विशिष्ट कोड भाषा में, "TOLL" को "57" तथा "TAX" को "43" लिखा जाता है। इस कोड भाषा में "ROAD" को किस प्रकार लिखा जाएगा?

Options:

- 1) 33
- 2) 38
- 3) 36
- 4) 40

Correct Answer: 36

Candidate Answer: 36

QID : 226 - What is the simplified value of $[(\sqrt{23} - \sqrt{19}) \div (\sqrt{23} + \sqrt{19})]$?

$[(\sqrt{23} - \sqrt{19}) \div (\sqrt{23} + \sqrt{19})]$ का सरलीकृत मान क्या है?

Options:

- 1) $(21 - \sqrt{437})/2$
- 2) $(21 + \sqrt{437})/2$
- 3) $(21 + \sqrt{42})$
- 4) $(21 + 3\sqrt{42})$

Correct Answer: $(21 - \sqrt{437})/2$

Candidate Answer: $(21 - \sqrt{437})/2$

QID : 227 - If $A = 7^3 \times 6^4$ and $B = 7^5 \times 6^3$, then what is the value of $A \times B$?

यदि $A = 7^3 \times 6^4$ तथा $B = 7^5 \times 6^3$ है, तो $A \times B$ का मान क्या है?

Options:

- 1) $7^{14} \times 6^{11}$
- 2) $6^9 \times 7^6$
- 3) $7^{15} \times 6^{12}$
- 4) $7^8 \times 6^7$

Correct Answer: $7^8 \times 6^7$

Candidate Answer: $7^8 \times 6^7$

QID : 228 - If $(4/5)$ of a square of a number is 180, then what is that number?

यदि एक संख्या के वर्ग का $(4/5)$, 180 है, तो वह संख्या क्या है?

Options:

- 1) 15
- 2) 17
- 3) 25
- 4) 13

Correct Answer: 15

Candidate Answer: 15

QID : 229 -

What is the value of $\sqrt{7 + \sqrt{121 + \sqrt{441 + \sqrt{100}}}}$?

$\sqrt{7 + \sqrt{121 + \sqrt{441 + \sqrt{100}}}}$ का मान क्या है?

Options:

1) 9

2) 7

3) 11

4) $\sqrt{149}$

Correct Answer: 7

Candidate Answer: 7

QID : 230 -

Which of the following statement(s) is/are true?

I. $\sqrt[4]{7} > \sqrt[3]{9}$

II. $\sqrt[3]{2} > \sqrt[6]{3}$

निम्नलिखित में से कौन सा/से कथन सत्य है/हैं?

I. $\sqrt[4]{7} > \sqrt[3]{9}$

II. $\sqrt[3]{2} > \sqrt[6]{3}$

Options:

1) Only I

केवल I

2) Only II

केवल II

3) Both I and II

I तथा II दोनों

4) Neither I nor II

न तो I न ही II

Correct Answer: Only II

केवल II

Candidate Answer: Only II

केवल II

QID : 231 - What is the value of $14^2 + 16^2 + 18^2 + \dots + 30^2$?

$14^2 + 16^2 + 18^2 + \dots + 30^2$ का मान क्या है?

Options:

1) 4448

2) 4596

3) 3296

4) 5134

Correct Answer: 4596

Candidate Answer: 3296

QID : 232 - Two pipes P and Q can fill the tank alone in 200 and 300 hours respectively. If they are opened together, then in how many hours will the tank be filled?

दो पाईप P तथा Q एक टंकी को क्रमशः 200 तथा 300 घंटे में भर सकते हैं। यदि दोनों पाईपों को एक साथ खोल दिया जाये, तो टंकी कितने घंटे में भर जायेगी?

Options:

1) 240

2) 120

3) 150

4) 250

Correct Answer: 120

Candidate Answer: 120

QID : 233 - L alone can do a work in 20 days. M alone can do the same work in 30 days. L, M and N together can do the same work in 6 days. In how many days can N alone do the work?

L एक कार्य को अकेला 20 दिनों में पूरा करता है। M उसी कार्य को अकेला 30 दिनों में पूरा करता है। L, M तथा N मिलकर उसी कार्य को 6 दिनों में पूरा करते हैं। N अकेला उस कार्य को कितने दिनों में पूरा करेगा?

Options:

- 1) 12
- 2) 18
- 3) 8
- 4) 24

Correct Answer: 12

Candidate Answer: 12

QID : 234 - The ratio of the length and breadth of a rectangle is 11 : 3. If the perimeter of the rectangle is 420 cm, then what is the breadth (in cm) of the rectangle?

एक आयत की लम्बाई तथा चौड़ाई का अनुपात 11 : 3 है। यदि आयत का परिमाप 420 से.मी. है, तो आयत की चौड़ाई (से.मी. में) क्या है?

Options:

- 1) 40
- 2) 45
- 3) 42
- 4) 48

Correct Answer: 45

Candidate Answer: 45

QID : 235 - A trader gives a discount of 12% on the marked price. To earn profit of 32%, by how much percent should he mark the price of his goods higher than its cost price?

एक व्यापारी अंकित मूल्य पर 12% की छूट देता है। 32% का लाभ प्राप्त करने के लिए उसे अपनी वस्तुओं का मूल्य, क्रय मूल्य से कितना प्रतिशत अधिक अंकित करना चाहिए?

Options:

- 1) 40
- 2) 50
- 3) 30
- 4) 60

Correct Answer: 50

Candidate Answer: 50

QID : 236 - A profit of 15% is made after giving a discount of 10% on an article. If the marked price of the article is Rs 2300, then what is its cost price (in Rs)?

एक वस्तु पर 10% की छूट देने के पश्चात 15% का लाभ होता है। यदि वस्तु का अंकित मूल्य 2300 रु है, तो उसका क्रय मूल्य (रु में) क्या है?

Options:

- 1) 1800
- 2) 2000
- 3) 1950
- 4) 2100

Correct Answer: 1800

Candidate Answer: 1800

QID : 237 - If 9.8 of a = 9.1 of b, then what is a : b?

यदि a का 9.8 = b का 9.1 हो, तो a : b क्या है?

Options:

- 1) 14 : 15
- 2) 13 : 14
- 3) 11 : 13
- 4) 7 : 15

Correct Answer: 13 : 14

Candidate Answer: 13 : 14

QID : 238 - Three numbers are in the ratio 3 : 4 : 5. If the sum of their squares is 3200, then what are the numbers?

तीन संख्याएँ 3 : 4 : 5 के अनुपात में हैं। यदि उनके वर्गों का योग 3200 है, तो संख्याएँ क्या हैं?

Options:

1) 40, 16, 20

2) 24, 32, 40

3) 20, 18, 25

4) 25, 32, 30

Correct Answer: 24, 32, 40

Candidate Answer: 24, 32, 40

QID : 239 - The average weight of a class is 40 kg. If a student with weight 60 kg. joins the class, then new average weight becomes 42 kg. How many total students are there in the class?

एक कक्षा का औसत भार 40 कि.ग्रा. है। यदि एक 60 कि.ग्रा. भार वाला छात्र कक्षा में शामिल हो जाए, तो नया औसत भार 42 कि.ग्रा. हो जाता है। कक्षा में कुल कितने छात्र हैं?

Options:

1) 9

2) 10

3) 11

4) 12

Correct Answer: 9

Candidate Answer: [NOT ANSWERED]

QID : 240 - A sold a pen to B at a loss of 60%. B sold the pen to C at a profit of 30%. If C pays Rs 260 for pen, then for how much (in Rs) A bought the pen?

A ने B को 60% की हानि पर एक कलम बेची। B ने C को 30% के लाभ पर कलम बेची। यदि C कलम के लिए 260 रु चुकाता है, तो A ने कितने (रु में) कलम खरीदी थी?

Options:

1) 500

2) 450

3) 380

4) 400

Correct Answer: 500

Candidate Answer: 500

QID : 241 - On selling an article for Rs 462, a shopkeeper losses 40%. At what price (in Rs) he should sell the article in order to earn a profit of 20%?

एक वस्तु को 462 रु में बेचने पर एक दुकानदार को 40% की हानि होती है। 20% लाभ कमाने के लिए उसे उस वस्तु को कितने (रु में) बेचना चाहिए?

Options:

1) 924

2) 854

3) 946

4) 840

Correct Answer: 924

Candidate Answer: 924

QID : 242 - 800 is first increased by 10% and then it is again increased by 20%. What is the final value?

800 को पहले 10% से बढ़ाया गया तथा उसे फिर से 20% से बढ़ाया गया। अंतिम मान क्या है?

Options:

1) 1024

2) 1120

3) 1056

4) 1096

Correct Answer: 1056

Candidate Answer: 1056

QID : 243 - Two numbers are 20% and 25% less than a third number respectively. First number is what percent of the second number?

दो संख्याएँ, एक तीसरी संख्या से क्रमशः 20% तथा 25% कम हैं। पहली संख्या, दूसरी संख्या का कितना प्रतिशत है?

Options:

1) 111.75

2) 106.66

3) 103.33

Correct Answer: 106.66

Candidate Answer: 106.66

QID : 244 - If the speed of a boat in still water is 40 km/hr and the speed of the current is 5 km/hr, then how much time (in hours) will be taken by the boat to travel a distance 180 km downstream?

यदि स्थिर जल में नाव की गति 40 कि.मी./घंटा है तथा धारा की गति 5 कि.मी./घंटा हो, तो धारा के अनुकूल 180 कि.मी. की दूरी तय करने में नाव को कितना समय (घंटों में) लगेगा?

Options:

1) 3

2) 4

3) 6

4) 8

Correct Answer: 4

Candidate Answer: 4

QID : 245 - A 1000 metre long train crosses a 500 metre long bridge. If the speed of train is 30 km/hr, then what is the time taken (in seconds) to cross the bridge?

एक 1000 मीटर लम्बी रेलगाड़ी, एक 500 मीटर लम्बा पुल पार करती है। यदि रेलगाड़ी की गति 30 कि.मी./घंटा है, तो पुल पार करने में कितना समय (सेकण्डों में) लगता है?

Options:

1) 200

2) 150

3) 180

4) 120

Correct Answer: 180

Candidate Answer: 180

QID : 246 - In how much time (in years) will Rs 18000 amount to Rs 22500 at simple interest at the rate of 5% per annum?

कितने समय (वर्षों में) में 18000 रु की राशि 5% की वार्षिक दर से साधारण ब्याज पर 22500 रु हो जायेगी?

Options:

1) 10

2) 5

3) 6

4) 15

Correct Answer: 5

Candidate Answer: 5

QID : 247 -

The table given below shows the number of goals scored by 2 players P and Q in 5 matches I, II, III, IV and V.

नीचे दी गई तालिका में 5 मैचों I, II, III, IV तथा V में 2 खिलाड़ियों P तथा Q द्वारा किये गये गोलों की संख्या को दर्शाया गया है।

Match / मैच	Player / खिलाड़ी	
	P	Q
I	55	50
II	45	45
III	45	46
IV	48	45
V	47	44

What is the ratio of goals scored by player P in match IV to the goals scored by player Q in match III?

खिलाड़ी P द्वारा मैच IV में किये गये गोल का खिलाड़ी Q द्वारा मैच III में किये गये गोल से क्या अनुपात है?

Options:

1) 45 : 46

2) 24 : 23

3) 23 : 24

4) 96 : 95

Correct Answer: 24 : 23

Candidate Answer: 24 : 23

QID : 248 -

The table given below shows the number of goals scored by 2 players P and Q in 5 matches I, II, III, IV and V.

नीचे दी गई तालिका में 5 मैचों I, II, III, IV तथा V में 2 खिलाड़ियों P तथा Q द्वारा किये गये गोलों की संख्या को दर्शाया गया है।

Match / मैच	Player / खिलाड़ी	
	P	Q
I	55	50
II	45	45
III	45	46
IV	48	45
V	47	44

In how many matches did player P scored less goals than player Q?

कितने मैचों में खिलाड़ी P ने खिलाड़ी Q से कम गोल किये हैं?

Options:

- 1) 1
- 2) 2
- 3) 4
- 4) 5

Correct Answer: 1

Candidate Answer: 1

QID : 249 -

The table given below shows the number of goals scored by 2 players P and Q in 5 matches I, II, III, IV and V.

नीचे दी गई तालिका में 5 मैचों I, II, III, IV तथा V में 2 खिलाड़ियों P तथा Q द्वारा किये गये गोलों की संख्या को दर्शाया गया है।

Match / मैच	Player / खिलाड़ी	
	P	Q
I	55	50
II	45	45
III	45	46
IV	48	45
V	47	44

What is the average goals scored by player P in all the 5 matches?

सभी 5 मैचों में खिलाड़ी P द्वारा किये गये गोल का औसत क्या है?

Options:

- 1) 45
- 2) 48
- 3) 49
- 4) 53

Correct Answer: 48

Candidate Answer: 48

QID : 250 -

The table given below shows the number of goals scored by 2 players P and Q in 5 matches I, II, III, IV and V.

नीचे दी गई तालिका में 5 मैचों I, II, III, IV तथा V में 2 खिलाड़ियों P तथा Q द्वारा किये गये गोलों की संख्या को दर्शाया गया है।

Match / मैच	Player / खिलाड़ी	
	P	Q
I	55	50
II	45	45
III	45	46
IV	48	45
V	47	44

Goals scored by player Q in match V is what percent of goals scored by player P in match IV?

खिलाड़ी Q द्वारा मैच V में किये गये गोल खिलाड़ी P द्वारा मैच IV में किये गये गोल का कितना प्रतिशत है?

Options:

1) 85.78

2) 91.66

3) 88

4) 99

Correct Answer: 91.66

Candidate Answer: 91.66

QID : 251 - In the following question, some part of the sentence may have errors. Find out which part of the sentence has an error and select the appropriate option. If a sentence is free from error, select 'No Error'.

Privatisation is regarding who controlling the educational institute (1)/ and the role of government in the management and (2)/ funding of the institute, while corporatization is about making profits. (3)/ No error (4)

Options:

1) 1

2) 2

3) 3

4) 4

Correct Answer: 1

Candidate Answer: 1

QID : 252 - In the following question, some part of the sentence may have errors. Find out which part of the sentence has an error and select the appropriate option. If a sentence is free from error, select 'No Error'.

One way of doing this is to show the target audience (1)/ that a bank account is actual a lifestyle enabler (2)/ a convenient and safe means to send money to family or make a variety of purchases. (3)/ No error (4)

Options:

1) 1

2) 2

3) 3

4) 4

Correct Answer: 2

Candidate Answer: [NOT ANSWERED]

QID : 253 - In the following question, the sentence given with blank to be filled in with an appropriate word. Select the correct alternative out of the four and indicate it by selecting the appropriate option.

I _____ read another book tomorrow.

Options:

1) am

2) is

3) shall

4) was

Correct Answer: shall

Candidate Answer: shall

QID : 254 - In the following question, the sentence given with blank to be filled in with an appropriate word. Select the correct alternative out of the four and indicate it by selecting the appropriate option.

I wish I _____ the answer.

Options:

1) knowing

2) has been known

3) knows

4) knew

Correct Answer: knew

Candidate Answer: knew

QID : 255 - In the following question, out of the given four alternatives, select the one which best expresses the meaning of the given word.

Weird

Options:

1) Strange

2) Usual

3) Regular

4) Normal

Correct Answer: Strange

Candidate Answer: Strange

QID : 256 - In the following question, out of the given four alternatives, select the one which best expresses the meaning of the given word.

Confederate

Options:

1) Combined

2) Adversary

3) Enemy

4) Opponent

Correct Answer: Combined

Candidate Answer: Combined

QID : 257 - In the following question, out of the given four alternatives, select the one which best expresses the meaning of the given word.

Calculation

Options:

1) Counting

2) Ignorance

3) Stupidity

4) Conjecture

Correct Answer: Counting

Candidate Answer: Counting

QID : 258 - In the following question, out of the given four alternatives, select the one which is opposite in meaning of the given word.

Endorse

Options:

- 1) Affirm
- 2) Disapprove
- 3) Suppose
- 4) Authorize

Correct Answer: Disapprove

Candidate Answer: [NOT ANSWERED]

QID : 259 - In the following question, out of the given four alternatives, select the one which is opposite in meaning of the given word.

Ensnare

Options:

- 1) Precede
- 2) Appear
- 3) Befall
- 4) Arise

Correct Answer: Precede

Candidate Answer: [NOT ANSWERED]

QID : 260 - In the following question, out of the given four alternatives, select the one which is opposite in meaning of the given word.

Sedate

Options:

- 1) Exciting
- 2) Calm
- 3) Cool
- 4) Grave

Correct Answer: Exciting

Candidate Answer: Exciting

QID : 261 - In the following question, out of the four given alternatives, select the alternative which best expresses the meaning of the Idiom/Phrase.

Like pulling teeth

Options:

- 1) Extremely difficult
- 2) Behaving with caution
- 3) Literally and strictly
- 4) Giving news to others

Correct Answer: Extremely difficult

Candidate Answer: Behaving with caution

QID : 262 - In the following question, out of the four given alternatives, select the alternative which best expresses the meaning of the Idiom/Phrase.

Fly into a rage



Options:

- 1) To become extremely angry
- 2) To share things with other people
- 3) To dress up properly
- 4) To go straight ahead

Correct Answer: To become extremely angry

Candidate Answer: To share things with other people

QID : 263 - Improve the bracketed part of the sentence.

There are many people who don't have a house, we can't cater to **(those)**.

Options:

- 1) these
- 2) them
- 3) that
- 4) No improvement

Correct Answer: them

Candidate Answer: No improvement

QID : 264 - Improve the bracketed part of the sentence.

Government should immediately send a team of health professionals to provide medical care to the **(effective)** people.

Options:

- 1) effected
- 2) affecting
- 3) affected
- 4) No improvement

Correct Answer: affected

Candidate Answer: affected

QID : 265 - In the following question, out of the four given alternatives, select the alternative which is the best substitute of the phrase.

Station at the end of a route.

Options:

- 1) Beam
- 2) Terminus
- 3) Arrival
- 4) Departure

Correct Answer: Terminus

Candidate Answer: Terminus

QID : 266 - In the following question, out of the four given alternatives, select the alternative which is the best substitute of the phrase.

Having no beginning or end to its existence.

Options:

- 1) Ephemeral
- 2) Eternal
- 3) Transient
- 4) Mortal

Correct Answer: Eternal

Candidate Answer: Eternal

QID : 267 - In the following question, a word has been written in four different ways out of which only one is correctly spelt. Select the correctly spelt word.



Options:

- 1) Briefcase
- 2) Breifcase
- 3) Breefcase
- 4) Brifcase

Correct Answer: Briefcase

Candidate Answer: Briefcase

QID : 268 - In the following question, a word has been written in four different ways out of which only one is correctly spelt. Select the correctly spelt word.

Options:

- 1) Consistient
- 2) Consistent
- 3) Conscistent
- 4) Consistant

Correct Answer: Consistent

Candidate Answer: Conscistent

QID : 269 - Rearrange the parts of the sentence in correct order.

Everyone needs to be well aware

P: are at significant, road accident risks

Q: of the road traffic rules especially

R: children and young people who

Options:

- 1) QRP
- 2) RPQ
- 3) PQR
- 4) QPR

Correct Answer: QRP

Candidate Answer: QRP

QID : 270 - Rearrange the parts of the sentence in correct order.

When each and every Indian people will

P: have their own bank account

Q: importance of money saving

R: they can better understand the

Options:

- 1) QRP
- 2) RPQ
- 3) PRQ
- 4) QPR

Correct Answer: PRQ

Candidate Answer: PRQ

QID : 271 - In the following passage some of the words have been left out. Read the passage carefully and select the correct answer for the given blank out of the four alternatives.

The rate at which Sun's energy is _____ and the rate at which it is dispersed in the space decides the equilibrium temperature and climate of our planet. The winds, ocean _____ and other mechanisms carry this energy around the globe thereby _____ the climatic conditions of _____ regions. Long-term as well as _____ term changes in solar intensity have an impact on the global climate.

energy is _____ and the rate



Options:

- 1) received
- 2) deceived
- 3) refracted
- 4) retrieved

Correct Answer: received

Candidate Answer: received

QID : 272 - In the following passage some of the words have been left out. Read the passage carefully and select the correct answer for the given blank out of the four alternatives.

The rate at which Sun's energy is _____ and the rate at which it is dispersed in the space decides the equilibrium temperature and climate of our planet. The winds, ocean _____ and other mechanisms carry this energy around the globe thereby _____ the climatic conditions of _____ regions. Long-term as well as _____ term changes in solar intensity have an impact on the global climate.

ocean _____ and other mechanisms

Options:

- 1) tensions
- 2) currents
- 3) torrents
- 4) disasters

Correct Answer: currents

Candidate Answer: currents

QID : 273 - In the following passage some of the words have been left out. Read the passage carefully and select the correct answer for the given blank out of the four alternatives.

The rate at which Sun's energy is _____ and the rate at which it is dispersed in the space decides the equilibrium temperature and climate of our planet. The winds, ocean _____ and other mechanisms carry this energy around the globe thereby _____ the climatic conditions of _____ regions. Long-term as well as _____ term changes in solar intensity have an impact on the global climate.

globe thereby _____ the climatic

Options:

- 1) resulting
- 2) initiating
- 3) impacting
- 4) acting

Correct Answer: impacting

Candidate Answer: resulting

QID : 274 - In the following passage some of the words have been left out. Read the passage carefully and select the correct answer for the given blank out of the four alternatives.

The rate at which Sun's energy is _____ and the rate at which it is dispersed in the space decides the equilibrium temperature and climate of our planet. The winds, ocean _____ and other mechanisms carry this energy around the globe thereby _____ the climatic conditions of _____ regions. Long-term as well as _____ term changes in solar intensity have an impact on the global climate.

conditions of _____ regions.

Options:

- 1) similar
- 2) same
- 3) alike
- 4) different

Correct Answer: different

Candidate Answer: different

QID : 275 - In the following passage some of the words have been left out. Read the passage carefully and select the correct answer for the given blank out of the four alternatives.

The rate at which Sun's energy is _____ and the rate at which it is dispersed in the space decides the equilibrium temperature and climate of our planet. The winds, ocean _____ and other mechanisms carry this energy around the globe thereby _____ the climatic conditions of _____ regions. Long-term as well as _____ term changes in solar intensity have an impact on the global climate.

as well as _____ term

Options:

- 1) long
- 2) short
- 3) actual
- 4) medium

Correct Answer: short

Candidate Answer: short

QID : 276 - "Maharatna" refers to a group of _____.

"महारत्न" से सन्दर्भित समूह _____ है।

Options:

- 1) Emerging small and medium enterprises
उभरते हुए लघु और मध्यम उद्यम
- 2) Central public sector enterprises
केन्द्रीय सार्वजनिक क्षेत्र के उद्यम
- 3) Leading private sector enterprises
निजी क्षेत्र के प्रमुख उद्यम
- 4) Leading multi-national companies
प्रमुख बहु-राष्ट्रीय कम्पनियों

Correct Answer: Central public sector enterprises
केन्द्रीय सार्वजनिक क्षेत्र के उद्यम

Candidate Answer: Central public sector enterprises
केन्द्रीय सार्वजनिक क्षेत्र के उद्यम

QID : 277 - Which of the following country uses the "Birr" as its currency?

निम्नलिखित में से कौन-सा देश "बिर" को अपनी मुद्रा के रूप में प्रयोग करता है?

Options:

- 1) Ethiopia
इथियोपिया
- 2) Togo
टोगो
- 3) Eritrea
एरिट्रिया
- 4) Estonia
एस्टोनिया

Correct Answer: Ethiopia
इथियोपिया

Candidate Answer: [NOT ANSWERED]

QID : 278 - Who founded the Dravida Munnetra Kazhagam (DMK) party?

द्रविड़ मुनेत्र कडगम (डीएमके) पार्टी की स्थापना किसने की थी?

Options:

- 1) M. Karunanidhi
एम. करुणानिधि
- 2) M.G. Ramachandran
एम.जी. रामचन्द्रन
- 3) C.N. Annadurai
सी.एन. अन्नादुरई
- 4) C. Rajagopalachari
सी. राजगोपालचारी

Correct Answer: C.N. Annadurai
सी.एन. अन्नादुरई

Candidate Answer: M.G. Ramachandran
एम.जी. रामचन्द्रन

QID : 279 - Article 368 of Indian Constitution deals with which of the followings?

भारतीय संविधान के अनुच्छेद 368 का सं

Options:

- 1) Emergency Provisions
आपातकालीन उपबन्ध
- 2) Amending Procedure
संशोधन प्रक्रिया
- 3) Right to Primary education
प्राथमिक शिक्षा का अधिकार
- 4) Right to Information
सूचना का अधिकार

Correct Answer: Amending Procedure
संशोधन प्रक्रिया

Candidate Answer: Amending Procedure
संशोधन प्रक्रिया

QID : 280 - The only Viceroy to be assassinated in India was _____.

वह एकमात्र वायसराय जिसकी हत्या भारत में हुई थी _____।

Options:

- 1) Lord Wellesley
लॉर्ड वेल्लेजली
- 2) Lord Canning
लॉर्ड कैनिंग
- 3) Lord Mayo
लॉर्ड मेयो
- 4) Lord Ellenborough
लॉर्ड एलनबरो

Correct Answer: Lord Mayo
लॉर्ड मेयो

Candidate Answer: Lord Mayo
लॉर्ड मेयो

QID : 281 - Which movement was called off following the violence at "Chauri-Chaura" incident?

चौरी-चौरा की हिंसक घटना के कारण निम्नलिखित कौन-सा आन्दोलन स्थगित कर दिया गया था?

Options:

- 1) Khilafat movement
खिलाफत आन्दोलन
- 2) Quit India Movement
भारत छोड़ो आन्दोलन
- 3) Non Co-operation Movement
असहयोग आन्दोलन
- 4) Home Rule Movement
स्वराज आन्दोलन

Correct Answer: Non Co-operation Movement
असहयोग आन्दोलन

Candidate Answer: Non Co-operation Movement
असहयोग आन्दोलन

QID : 282 - In terms of area which country is considered to be the second largest in the world?

क्षेत्रफल की दृष्टि से विश्व का दूसरा सबसे बड़ा देश कौन सा है?

Options:

- 1) Russia
रूस
- 2) Canada
कनाडा
- 3) India
भारत
- 4) China
चीन

Correct Answer: Canada
कनाडा

Candidate Answer: Canada
कनाडा

QID : 283 - Name the planet that has a moon called "Ganymede"?

"गैनीमीड" नामक चंद्रमा वाले ग्रह का नाम बताइए?

Options:

- 1) Jupiter
बृहस्पति
- 2) Venus
शुक्र
- 3) Mars
मंगल
- 4) Saturn
शनि

Correct Answer: Jupiter
बृहस्पति

Candidate Answer: [NOT ANSWERED]

QID : 284 - Which one of the following is commonly known as "Pond Silk"?

निम्नलिखित में से किसे सामान्यतः "ताल रेशम" कहा जाता है?

Options:

- 1) Spirogyra
स्पाइरोगाइरा
- 2) Rhizopus
राइजोपस
- 3) Yeast
यीस्ट (खमीर)
- 4) Ulothrix
युलोथ्रिक्स

Correct Answer: Spirogyra
स्पाइरोगाइरा

Candidate Answer: [NOT ANSWERED]

QID : 285 - The acid rain caused by environmental pollution happens due to which of the following?

पर्यावरण प्रदूषण के कारण अम्ल वर्षा निम्नलिखित में से किस वजह से होता है?

Options:

- 1) Carbon monoxide and Carbon dioxide
कार्बन मोनोऑक्साइड और कार्बन डाइऑक्साइड
- 2) Ozone and Carbon dioxide
ओजोन और कार्बन डाइऑक्साइड
- 3) Nitrous oxide and Sulphur dioxide
नाइट्रस ऑक्साइड और सल्फर डाइऑक्साइड
- 4) Carbon dioxide and Nitrogen
कार्बन डाइऑक्साइड और नाइट्रोजन

Correct Answer: Nitrous oxide and Sulphur dioxide
नाइट्रस ऑक्साइड और सल्फर डाइऑक्साइड

Candidate Answer: Ozone and Carbon dioxide
ओजोन और कार्बन डाइऑक्साइड

QID : 286 - On the basis of the weight where is the strongest muscle found?

अपने वजन के आधार पर सबसे मजबूत मांसपेशी कहाँ पर पायी जाती है?

Options:

- 1) Jaw
जबड़ा
- 2) Calf
पिंडली
- 3) Shoulder
कंधा
- 4) Arm
बाँह

Correct Answer: Jaw
जबड़ा

Candidate Answer: Jaw
जबड़ा

QID : 287 - What is called the process of converging gas into liquid?

गैस को तरल में बदलने की प्रक्रिया को क्या कहा जाता है?

Options:

- 1) Radiation
विकिरण
- 2) Condensation
संघनन
- 3) Rescission
उत्सादन
- 4) Evaporation
वाष्पीकरण

Correct Answer: Condensation
संघनन

Candidate Answer: Condensation
संघनन

QID : 288 - Light travels fastest in which of the following medium?

प्रकाश इनमें से किस माध्यम में सबसे तेज गति से यात्रा करता है?

Options:

- 1) Water
जल
- 2) Air
वायु
- 3) Vacuum
निर्वात
- 4) Steel
इस्पात

Correct Answer: Vacuum
निर्वात

Candidate Answer: Vacuum
निर्वात

QID : 289 - Which one of the following is an operating system?

निम्नलिखित में से कौन सा एक ऑपरेटिंग सिस्टम है?

Options:

- 1) Dot net
डॉटनेट
- 2) Java
जावा
- 3) Maya
माया
- 4) Unix
यूनिक्स

Correct Answer: Unix
यूनिक्स

Candidate Answer: Unix
यूनिक्स

QID : 290 - Between small and large human intestine which one is longer?

छोटी और बड़ी आंत दोनों में से कौन सी अधिक लम्बी है?

Options:

- 1) Small intestine
छोटी आंत
- 2) Large intestine
बड़ी आंत
- 3) Both are equal in length
दोनों लम्बाई में बराबर हैं
- 4) Depends on male or female
पुरुष या महिला के आधार पर निर्धारित होता है

Correct Answer: Small intestine
छोटी आंत

Candidate Answer: Small intestine
छोटी आंत

QID : 291 - Which of the following is a bleaching agent for textiles industries?

निम्नलिखित में से कौन सा वस्त्र उद्योगों के लिए एक विरंजक एजेंट है?

Options:

- 1) Lithium hypochlorite
लिथियम हाइपोक्लोराइट
- 2) Calcium hypochlorite
कैल्सियम हाइपोक्लोराइट
- 3) Hydrogen peroxide
हाइड्रोजन पेरॉक्साइड
- 4) Hydrogen sulphide
हाइड्रोजन सल्फाइड

Correct Answer: Hydrogen peroxide
हाइड्रोजन पेरॉक्साइड

Candidate Answer: [NOT ANSWERED]

QID : 292 - Bauxite is an ore of which of the followings?

बॉक्साइट इनमें से किसका अयस्क है?

Options:

- 1) Lead
सीसा
- 2) Aluminium
एल्युमिनियम
- 3) Zinc
जस्ता
- 4) Copper
ताँबा

Correct Answer: Aluminium
एल्युमिनियम

Candidate Answer: Copper
ताँबा

QID : 293 - "Ganga Action Plan" initiated by the Union Government aims at _____.

संघ सरकार द्वारा प्रारम्भ की गई "गंगा कार्य योजना" (गंगा एक्शन प्लान) का लक्ष्य _____ है।

Options:

- 1) Streamlining the flow of Ganga river
गंगा नदी के प्रवाह की निरन्तरता बनाए रखना
- 2) Reduction of pollution in Ganga river
गंगा नदी में प्रदूषण को कम करना
- 3) Efficient use of Ganga water for irrigation
सिंचाई के लिए गंगा जल का पर्याप्त उपयोग करना
- 4) Using Ganga river for generating hydel energy
गंगा नदी के जल को जल विद्युत उत्पादन हेतु प्रयोग करना

Correct Answer: Reduction of pollution in Ganga river
गंगा नदी में प्रदूषण को कम करना

Candidate Answer: Streamlining the flow of Ganga river
गंगा नदी के प्रवाह की निरन्तरता बनाए रखना

QID : 294 - International Maritime organization (IMO) is concerned with _____.

अंतर्राष्ट्रीय समुद्री संगठन (आईएमओ) _____ से सम्बंधित है।

Options:

- 1) Air pollution
वायु प्रदूषण से
- 2) Shipping Regulation
जहाज विनियमन
- 3) Adulteration in food
खाद्य में मिलावट से
- 4) Deforestation
वनोन्मूलन से

Correct Answer: Shipping Regulation
जहाज विनियमन

Candidate Answer: Shipping Regulation
जहाज विनियमन

QID : 295 - "Astrosat" is India first _____.

"एस्ट्रोसैट" भारत का प्रथम _____।

Options:

- 1) Reconnaissance Satellite
टोही उपग्रह है
- 2) Remote Sensing Satellite
दूर संवेदी उपग्रह है
- 3) Space Observatory
अंतरिक्ष वेधशाला है
- 4) Communication Satellite
संचार उपग्रह है

Correct Answer: Space Observatory
अंतरिक्ष वेधशाला है

Candidate Answer: [NOT ANSWERED]

QID : 296 - Which country will host the Cricket World Cup-2023?

क्रिकेट विश्व कप-2023 की मेजबानी कौन सा देश करेगा?

Options:

- 1) India
भारत
- 2) Pakistan
पाकिस्तान
- 3) Sri Lanka
श्रीलंका
- 4) West Indies
वेस्टइंडीज

Correct Answer: India
भारत

Candidate Answer: India
भारत

QID : 297 - Where did the Maharaja Sawai Jai Singh of Jaipur **NOT** build the Observatory?

जयपुर के महाराजा सवाई जय सिंह ने कहाँ पर वेधशाला का निर्माण **नहीं** कराया था?

Options:

- 1) Ujjain
उज्जैन
- 2) Mathura
मथुरा
- 3) Allahabad
इलाहाबाद
- 4) Varanasi
वाराणसी

Correct Answer: Allahabad
इलाहाबाद

Candidate Answer: Mathura
मथुरा

QID : 298 - Who wrote the book "War and Peace"?

"वार एण्ड पीस" नामक पुस्तक किसने लिखी?

Options:

- 1) Leo Tolstoy
लियो टॉल्स्टॉय
- 2) Mahatma Gandhi
महात्मा गाँधी
- 3) Charles Dickens
चार्ल्स डिकेन्स
- 4) Rudyard Kipling
एडयार्ड किप्लिंग

Correct Answer: Leo Tolstoy
लियो टॉल्स्टॉय

Candidate Answer: Leo Tolstoy
लियो टॉल्स्टॉय

QID : 299 - Mahabaleshwar Sail won Saraswati Samman for work in which language?

महाबालेश्वर शैल को किस भाषा में काम करने के लिए सरस्वती सम्मान मिला?

Options:

- 1) English
अंग्रेजी
- 2) Hindi
हिन्दी
- 3) Konkani
कोंकणी
- 4) Malayalam
मलयालम

Correct Answer: Konkani
कोंकणी

Candidate Answer: Malayalam
मलयालम

QID : 300 - Which of the following places of Sikh religion heritage is **NOT** in India?

निम्नलिखित में से सिक्खों का वह कौन सा धार्मिक स्थल है जो भारत में **नहीं** है?

Options:

- 1) Nanded
नांदेड़
- 2) Keshgarh Sahib
केशगढ़ साहिब
- 3) Ponta Sahib
पोंटा साहिब
- 4) Nankana Sahib
ननकाना साहिब

Correct Answer: Nankana Sahib
ननकाना साहिब

Candidate Answer: [NOT ANSWERED]