

Stenographer Grade 'C&D' Examination, 2019 | Shift 23-12-2020

Roll Number	
Candidate Name	
Venue Name	
Exam Date	23/12/2020
Exam Time	10:00 AM -12:00 PM
Subject	Stenographer Grade C and D Examination 2019

Section : General Intelligence and Reasoning

Q.1 दिए गए संख्या पैटर्न का ध्यानपूर्वक अध्ययन करें और उस संख्या का चयन करें जो इसमें प्रश्न चिह्न (?) को प्रतिस्थापित कर सकती है।

11 14 180

17 18 342

23 20 ?

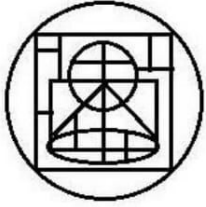
- Ans 1. 504
 2. 444
 3. 369
 4. 568

Question ID : 8161618769

Status : Answered

Chosen Option : 1

Q.2 विकल्पों में से उस आकृति का चयन करें जो निम्नलिखित आकृति में सन्नहित है
(आकृति के घूर्णन की अनुमति नहीं है)।



Ans

✗ 1.



✗ 2.



✗ 3.



✓ 4.



Question ID : 8161618775

Status : Answered

Chosen Option : 4

Q.3 विकल्पों में से उस पद का चयन करें जो तीसरे पद से ठीक उसी प्रकार से सम्बंधित है जिस प्रकार से दूसरा पद पहले पद से संबंधित है।

NOSTRIL : SONLIRT :: PASSAGE : ?

Ans

✗ 1. SAPGEAS

✗ 2. SPAEGAS

✗ 3. SAPEGSA

✓ 4. SAPEGAS

Question ID : 8161618738

Status : Answered

Chosen Option : 4

Q.4 दिए गए कथनों और उसके बाद दिए गए निष्कर्षों पर ध्यानपूर्वक विचार करें। यह मान कर चलें कि कथन सामान्य तथ्यों से पृथक होने के बावजूद भी सत्य हैं और निर्णय लें कि कौन सा / कौन से निष्कर्ष कथन का तार्किक रूप से अनुसरण करता है / करते हैं।

कथन:

सभी वाहन हेलिकॉप्टर हैं।

कुछ कारें वाहन हैं।

निष्कर्ष:

- I. सभी कारें हेलिकॉप्टर हैं।
- II. कुछ हेलिकॉप्टर वाहन हैं।
- III. कोई भी कार हेलिकॉप्टर नहीं है।

- Ans
- 1. केवल निष्कर्ष II अनुसरण करता है
 - 2. केवल निष्कर्ष I और III अनुसरण करते हैं
 - 3. केवल निष्कर्ष II और III अनुसरण करते हैं
 - 4. केवल निष्कर्ष III अनुसरण करता है

Question ID : 8161618752

Status : Answered

Chosen Option : 1

Q.5 8 छात्रों के वजन का औसत 57 kg है। इनके व्यक्तिगत वजन क्रमशः - 55 kg, 49 kg, 57 kg, 63 kg, 68 kg, 52 kg, X kg और Y kg हैं। X और Y का योग क्या है?

- Ans
- 1. 114 kg
 - 2. 110 kg
 - 3. 116 kg
 - 4. 112 kg

Question ID : 8161618759

Status : Answered

Chosen Option : 4

Q.6 यदि

'A + B' का अर्थ है 'A, B का भाई है'

'A - B' का अर्थ है 'A, B की माँ है'

'A × B' का अर्थ है 'A, B का पति है'

'A ÷ B' का अर्थ है 'A, B की बहन है'

तो संबंध $C ÷ M - S + K - T × Q$ के संदर्भ में निम्नलिखित में से कौन सा कथन सही नहीं है?

Ans

1. M, K की माँ है।

2. S, Q का पिता है।

3. K, Q की सास है।

4. S, T का मामा है।

Question ID : 8161618750

Status : Answered

Chosen Option : 2

Q.7 किसी विशेष कूट-भाषा में, 'TEMPER' को 'NFUTGR' के रूप में लिखा जाता है तो उसी कूट-भाषा में 'SENSOR' को किस रूप में लिखा जायेगा?

Ans

1. OFTTQU

2. OFTUTR

3. OFTQTR

4. OFQRTR

Question ID : 8161618742

Status : Answered

Chosen Option : 1

Q.8 निम्न संख्या श्रृंखला में प्रश्न चिह्न (?) के स्थान पर जो संख्या प्रतिस्थापित हो सकती है, उसका चयन करें।

28, ?, ?, 69, 88, 111, 140, 171

Ans

1. 39, 59

2. 39, 52

3. 29, 52

4. 38, 50

Question ID : 8161618756

Status : Not Attempted and
Marked For Review

Chosen Option : --

Q.9 निम्न श्रृंखला में प्रश्न चिह्न (?) को प्रतिस्थापित करने वाले अक्षर-समूह का चयन करें।

USF, ZXK, ECP, ?

- Ans
- 1. JIT
 - 2. IGU
 - 3. JHV
 - 4. JHU

Question ID : 8161618730

Status : Answered

Chosen Option : 4

Q.10 किसी विशेष कूट-भाषा में, 'BOTTLE' को '81' के रूप में; 'PERSON' को '117' के रूप में लिखा जाता है तो उसी कूट-भाषा में 'BANANA' को किस रूप में लिखा जायेगा?

- Ans
- 1. 30
 - 2. 36
 - 3. 85
 - 4. 46

Question ID : 8161618743

Status : Not Attempted and Marked For Review

Chosen Option : --

Q.11 6 वर्षों के बाद, P, Q और R द्वारा दी गई सेवा वर्षों का योग 56 वर्ष होगा। 3 वर्ष पूर्व, Q और R के सेवा वर्षों का योग 17 वर्ष था। वर्तमान में P द्वारा दी गई सेवा अवधि कितनी है?

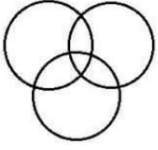
- Ans
- 1. 17 वर्ष
 - 2. 15 वर्ष
 - 3. 12 वर्ष
 - 4. 11 वर्ष

Question ID : 8161618760

Status : Not Attempted and Marked For Review

Chosen Option : --

Q.12 नीचे दिया गया वेन आरेख, विकल्प में दिए गए वर्गों में से किस विकल्प के वर्गों के बीच के संबंधों का सबसे बेहतर निरूपण करता है?



- Ans
- 1. पुलिस अधिकारी, डॉक्टर, नर्स
 - 2. पिता, चाचा, भाई
 - 3. कलाकार, पिता, लड़कियां
 - 4. भाई, पुरुष, महिलाएं

Question ID : 8161618779

Status : Answered

Chosen Option : 2

Q.13 प्रतिमा अपने घर से प्रस्थान करती है और पश्चिम की ओर 69 m चलती है। फिर वह दाईं ओर मुड़ती है और 24 m चलती है। इसके बाद वह फिर से दाईं ओर मुड़ती है और 76 m चलती है। वह अपने घर से ठीक 24 m उत्तर में स्थित एक पोल से कितनी दूर है?

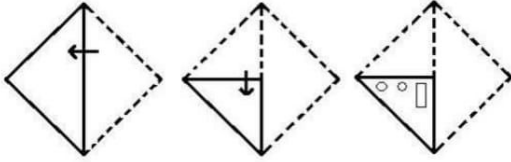
- Ans
- 1. 12 m
 - 2. 7 m
 - 3. 10 m
 - 4. 6 m

Question ID : 8161618771

Status : Answered

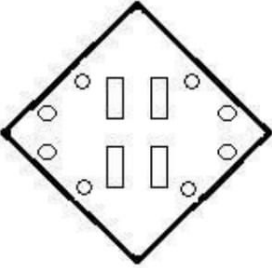
Chosen Option : 2

Q.14 एक कागज को निम्नांकित प्रदर्शित तरीके से मोड़ा और काटा गया है। जब इसे खोला जायेगा तो यह कैसा दिखेगा?

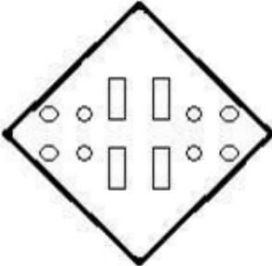


Ans

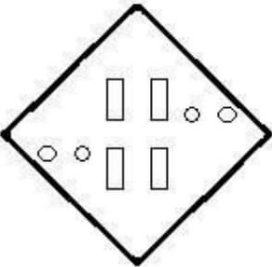
✗ 1.



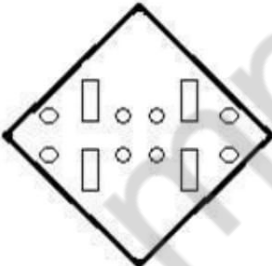
✓ 2.



✗ 3.



✗ 4.



Question ID : 8161618776

Status : Answered

Chosen Option : 2

Q.15 नव्या अपने घर से चलना शुरू करती है और 27 m पश्चिम की ओर जाती है। वहाँ से, वह दाएं मुड़ती है और P m की एक निश्चित दूरी तय करती है। फिर वह दाईं ओर मुड़ती है और 16 m चलती है। फिर वह फिर से दाईं ओर मुड़ती है और 72 m चलती है। उसके बाद, वह बाएं मुड़ती है और 11 m चलती है। यदि नव्या की वर्तमान स्थिति उसके घर से 11 m उत्तर में है, तो P का मान क्या है?

- Ans
- 1. 72 m
 - 2. 45 m
 - 3. 56 m
 - 4. 83 m

Question ID : 8161618772

Status : Not Attempted and Marked For Review

Chosen Option : --

Q.16 दिए गए संख्या पैटर्न का ध्यानपूर्वक अध्ययन करें और उस संख्या का चयन करें जो इसमें प्रश्न चिह्न (?) को प्रतिस्थापित कर सकती है।

14 23 97

22 41 167

31 24 ?

- Ans
- 1. 122
 - 2. 134
 - 3. 110
 - 4. 144

Question ID : 8161618766

Status : Answered

Chosen Option : 2

Q.17 निम्नलिखित चित्र के दायीं ओर MN की स्थिति में यदि किसी दर्पण को रखा जाए तो कौन सा प्रतिबिम्ब प्राप्त होगा? विकल्पों में से सही का चयन करें।

E 5 4 f G Q z N 2

M
|
N

- Ans
- 1. E 2 4 f G Q z N 5
 - 2. E 2 4 f G Q z N 5
 - 3. E 5 4 f G Q z N 2
 - 4. E 2 4 f G Q z N 5

Question ID : 8161618777

Status : Answered

Chosen Option : 2

Q.18 दिए गए संख्या पैटर्न का ध्यानपूर्वक अध्ययन करें और उस संख्या का चयन करें जो इसमें प्रश्न चिह्न (?) को प्रतिस्थापित कर सकती है।

40 57 285

35 32 140

? 40 175

- Ans
- 1. 39
 - 2. 38
 - 3. 36
 - 4. 35

Question ID : 8161618767

Status : Not Attempted and
Marked For Review

Chosen Option :--

Q.19

यदि

'A @ B' का अर्थ है 'A, B का पति है'

'A & B' का अर्थ है 'A, B की माँ है'

'A # B' का अर्थ है 'A, B की पत्नी है'

तो निम्नलिखित में से कौन से विकल्प का अर्थ है - 'P, S का ससुर है'?

- Ans
- 1. P @ Q & R & S
 - 2. P @ Q & R # S
 - 3. Q @ P & R # S
 - 4. P @ Q & S # R

Question ID : 8161618751

Status : Answered

Chosen Option : 2

Q.20 निम्न में से उस विकल्प का चयन करें जो इन शब्दों को अंग्रेजी शब्दकोश में उनके क्रम के अनुसार व्यवस्थित करता है?

1. Logical
2. Locket
3. Logarithm
4. Longitudinal
5. Location

- Ans
- 1. 5, 2, 3, 1, 4
 - 2. 5, 2, 4, 1, 3
 - 3. 5, 2, 1, 3, 4
 - 4. 2, 5, 3, 1, 4

Question ID : 8161618734

Status : Answered

Chosen Option : 1

Q.21 निम्न संख्या श्रृंखला में प्रश्न चिह्न (?) के स्थान पर जो संख्या प्रतिस्थापित हो सकती है, उसका चयन करें।

83, 116, 163, 225, 303, ?

- Ans
- 1. 414
 - 2. 383
 - 3. 378
 - 4. 398

Question ID : 8161618758

Status : Not Attempted and
Marked For Review

Chosen Option : --

Q.22 15 अप्रैल 2029 को सप्ताह का कौन सा दिन होगा?

- Ans
- 1. रविवार
 - 2. शनिवार
 - 3. मंगलवार
 - 4. सोमवार

Question ID : 8161618761

Status : Not Attempted and
Marked For Review

Chosen Option : --

Q.23 उत्तर दिशा के सम्मुख होकर एक सीधी पंक्ति में सात व्यक्ति A, B, C, D, E, F और G बैठे हैं। B, F और A के बीच बैठा है। G, D के ठीक बाएं है। A और D के बीच दो व्यक्ति बैठे हैं। A के ठीक दाएं ओर C है। B और E के बीच दो व्यक्ति बैठे हैं। D और B के बीच कौन बैठा है?

- Ans
- ✓ 1. F
 - ✗ 2. A
 - ✗ 3. C
 - ✗ 4. G

Question ID : 8161618747

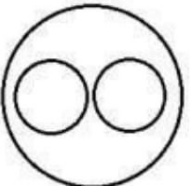
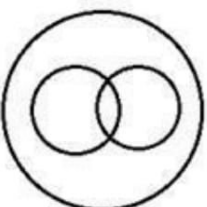
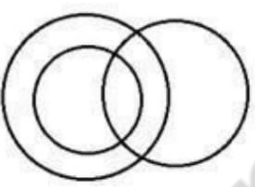
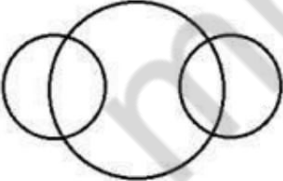
Status : Not Attempted and
Marked For Review

Chosen Option : --

Q.24 विकल्पों में से उस वेन-आरेख का चयन करें जो निम्नलिखित वर्गों के बीच के संबंधों का सबसे बेहतर तरीके से निरूपण करता है।

टेलीवीजन सेट, विद्युतीय उपकरण, रेफ्रिजरेटर

Ans

- ✓ 1. 
- ✗ 2. 
- ✗ 3. 
- ✗ 4. 

Question ID : 8161618778

Status : Answered

Chosen Option : 1

Q.25 विकल्पों में चार अक्षर-समूह दिए गए हैं जिनमें से तीन किसी न किसी प्रकार एक समान हैं और एक भिन्न है। भिन्न अक्षर-समूह का चयन करें।

- Ans
- 1. JPMS
 - 2. AZDJ
 - 3. EVHN
 - 4. CXFL

Question ID : 8161618737

Status : Not Attempted and Marked For Review

Chosen Option : --

Q.26 विकल्पों में से उस पद का चयन करें जो तीसरे पद से ठीक उसी प्रकार से सम्बंधित है जिस प्रकार से दूसरा पद पहले पद से संबंधित है।

MEND : EPHQ :: DESK : ?

- Ans
- 1. LUGI
 - 2. LUHH
 - 3. LUHJ
 - 4. LVHI

Question ID : 8161618739

Status : Answered

Chosen Option : 2

Q.27 निम्नलिखित समीकरण में (+) के स्थान पर प्रतिस्थापित गणितीय चिन्हों का क्रम क्या होगा ताकि समीकरण संतुलित हो?

$36 * 14 * 17 * 396 * 18 * 252$

- Ans
- 1. +, -, X, ÷, =
 - 2. +, X, -, =, ÷
 - 3. X, +, -, ÷, =
 - 4. +, X, -, ÷, =

Question ID : 8161618764

Status : Not Answered

Chosen Option : --

Q.28 निम्न श्रृंखला में प्रश्न चिह्न (?) को प्रतिस्थापित करने वाले अक्षर-समूह का चयन करें।

RBT, OER, KIP, FNN, ZTL, ?

- Ans
- 1. RAJ
 - 2. SAJ
 - 3. SAK
 - 4. SBJ

Question ID : 8161618732

Status : Answered

Chosen Option : 2

Q.29 निम्न श्रृंखला में प्रश्न चिह्न (?) को प्रतिस्थापित करने वाले अक्षर-समूह का चयन करें।

GMDR, EOBT, CQZV, ?, YUVZ

- Ans
- 1. BSYX
 - 2. ASXX
 - 3. ASXY
 - 4. BSXY

Question ID : 8161618731

Status : Answered

Chosen Option : 2

Q.30 निम्न संख्या श्रृंखला में प्रश्न चिह्न (?) के स्थान पर कौन सी संख्या प्रतिस्थापित हो सकती है, उसका चयन करें।

140, 221, 285, 334, 370, 395, ?

- Ans
- 1. 431
 - 2. 411
 - 3. 401
 - 4. 421

Question ID : 8161618757

Status : Not Answered

Chosen Option : --

Q.31 यदि $H < E = D < P$ और $C = E > Z = Q$ हो तो निम्नलिखित विकल्पों में से कौन सा सही नहीं है?

- Ans
- 1. $D > H$
 - 2. $P > Z$
 - 3. $P = Q$
 - 4. $D = C$

Question ID : 8161618745

Status : Not Answered

Chosen Option : --

Q.32 निम्न शब्दों को अर्थपूर्ण और तार्किक क्रम में व्यवस्थित करने वाले विकल्प का चयन करें-

1. एशिया
2. विश्व
3. कुतुब मीनार
4. भारत
5. दिल्ली

- Ans 1. 3, 5, 4, 1, 2
 2. 3, 5, 1, 4, 2
 3. 3, 4, 5, 1, 2
 4. 3, 5, 4, 2, 1

Question ID : 8161618733

Status : Answered

Chosen Option : 1

Q.33 किसी विशेष कूट-भाषा में, 'honest persons' को 'yu du' के रूप में; 'he is honest' को 'du mu cu' के रूप में; 'she is emotional' को 'mu hu ru' के रूप में और 'she left' को 'hu nu' के रूप में लिखा जाता है तो उसी कूट-भाषा में 'emotional' को किस रूप में लिखा जायेगा?

- Ans 1. du
 2. hu
 3. ru
 4. mu

Question ID : 8161618741

Status : Answered

Chosen Option : 3

Q.34 यदि A 'योग' की क्रिया को, B 'गुणन', C 'घटाव', और D 'भाग' की क्रिया को निर्दिष्ट करता है तो निम्नलिखित समीकरण का मान क्या होगा?

24 B 14 C 264 D 22 A 42

- Ans 1. 366
 2. 336
 3. 356
 4. 346

Question ID : 8161618763

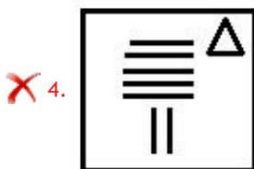
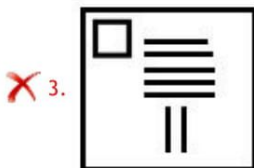
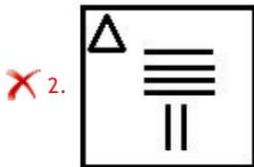
Status : Not Answered

Chosen Option : --

Q.35 निम्नलिखित आकृति श्रृंखला में आगे आने वाली आकृति का चयन करें।



Ans



Question ID : 8161618773

Status : Answered

Chosen Option : 1

Q.36 निम्न संख्या श्रृंखला में प्रश्न चिह्न (?) के स्थान पर जो संख्या प्रतिस्थापित हो सकती है, उसका चयन करें।

25, ?, 43, 67, 115, 211

Ans ✗ 1. 30

✓ 2. 31

✗ 3. 37

✗ 4. 33

Question ID : 8161618755

Status : Not Answered

Chosen Option : --

Q.37 दिए गए कथनों और उसके बाद दिए गए निष्कर्षों पर ध्यानपूर्वक विचार करें। यह मान कर चलें कि कथन सामान्य तथ्यों से पृथक होने के बावजूद भी सत्य हैं और निर्णय लें कि कौन सा / कौन से निष्कर्ष कथन का तार्किक रूप से अनुसरण करता है / करते हैं।

कथन:

सभी अमरुद केले हैं।
सभी कद्दू केले हैं।
सभी केले बेर हैं।

निष्कर्ष:

I. सभी कद्दू बेर हैं।
II. सभी बेर अमरुद हैं।
III. कुछ बेर कद्दू हैं।

Ans

1. केवल निष्कर्ष I और II अनुसरण करते हैं
2. केवल निष्कर्ष I और III अनुसरण करते हैं
3. केवल निष्कर्ष II और III अनुसरण करते हैं
4. सभी निष्कर्ष अनुसरण करते हैं

Question ID : 8161618753

Status : Answered

Chosen Option : 2

Q.38 K, L, M, N और O नाम की पांच वस्तुओं में, M का वजन 60 kg है। L का वजन N से दोगुना है। O का वजन L से तिगुना है। K का वजन O का आधा है। यदि K का वजन M के बराबर है, तो N का वजन क्या है?

Ans

1. 40 kg
2. 30 kg
3. 80 kg
4. 20 kg

Question ID : 8161618748

Status : Not Answered

Chosen Option : --

Q.39 विकल्पों में चार अक्षर-समूह दिए गए हैं जिनमें से तीन किसी न किसी प्रकार एक समान हैं और एक भिन्न है। भिन्न अक्षर-समूह का चयन करें।

Ans

1. DWH
2. TGX
3. QJU
4. OKS

Question ID : 8161618736

Status : Answered

Chosen Option : 4

Q.40 उस संख्या विकल्प का चयन करें जो तीसरी संख्या से ठीक उसी प्रकार से सम्बंधित है जिस प्रकार से दूसरी संख्या पहली संख्या से सम्बंधित है।

108 : 6 :: 256 : ?

- Ans
- 1. 9
 - 2. 12
 - 3. 16
 - 4. 8

Question ID : 8161618762

Status : Not Answered

Chosen Option :--

Q.41 एक लड़के की तस्वीर की ओर इशारा करते हुए, स्वप्ना ने कहा, "वह मेरे पति की इकलौती बेटी के पिता के ससुर के बेटे का बेटा है"। संबंधित तस्वीर में लड़के के पिता का स्वप्ना से क्या संबंध है?

- Ans
- 1. पति
 - 2. भाई
 - 3. पिता
 - 4. देवर

Question ID : 8161618749

Status : Not Answered

Chosen Option :--

Q.42 दिए गए संख्या पैटर्न का ध्यानपूर्वक अध्ययन करें और उस संख्या का चयन करें जो इसमें प्रश्न चिह्न (?) को प्रतिस्थापित कर सकती है।

16 27 7
25 8 7
121 ? 12


- Ans
- 1. 16
 - 2. 4
 - 3. 1
 - 4. 7

Question ID : 8161618768

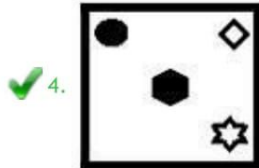
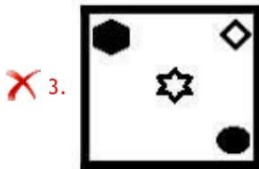
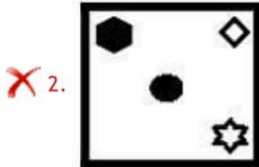
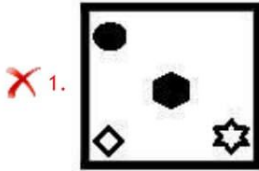
Status : Not Answered

Chosen Option :--

Q.43 निम्नलिखित आकृति श्रृंखला में आगे आने वाली आकृति का चयन करें।



Ans



Question ID : 8161618774

Status : Not Answered

Chosen Option :--

Q.44 निम्नलिखित समीकरण में किन दो संख्याओं और गणितीय चिन्हों को आपस में प्रतिस्थापित किया जाए ताकि समीकरण संतुलित हो जाए।

$$23 \times 13 - 195 \div 17 + 40 = 366$$

Ans ✗ 1. 13 और 17, × और +

✗ 2. 23 और 17, × और ÷

✗ 3. 23 और 40, × और -

✓ 4. 13 और 17, + और -

Question ID : 8161618765

Status : Not Answered

Chosen Option :--

Q.45 P, Q, R, S, T, U, V और W क्रमशः एक दूसरे से समान दूरी पर उसी क्रम से एक गोलाकार टेबल के चारों ओर दक्षिणावर्त क्रम में बैठे हैं। वे सभी टेबल के केंद्र के सम्मुख हैं। यदि P का मुख उत्तर-पूर्व की ओर है, तो V का मुख किस दिशा की ओर है?

- Ans
- 1. दक्षिण-पूर्व
 - 2. उत्तर
 - 3. पश्चिम
 - 4. उत्तर-पश्चिम

Question ID : 8161618746
Status : Not Answered
Chosen Option :--

Q.46 पांच दोस्तों में विवेक, अकरम से बड़ा है। सुमित, दारा से बड़ा है। मंजीत, दारा से छोटा है। सुमित से बड़े दो व्यक्ति हैं। इन दोस्तों में सबसे बड़ा कौन है?

- Ans
- 1. या तो अकरम या दारा
 - 2. दारा
 - 3. विवेक
 - 4. अकरम

Question ID : 8161618744
Status : Not Answered
Chosen Option :--

Q.47 मनजोत उत्तर की ओर X km साइकिल चलाती है और फिर बाईं ओर मुड़ती है और Y km साइकिल चलाकर अपनी दुकान पहुंचती है। शुरुआती बिंदु और उसकी दुकान के बीच की न्यूनतम दूरी 5 km है। km में X और Y का मान क्रमशः क्या हो सकता है?

- Ans
- 1. 3 और 4
 - 2. 8 और 4
 - 3. 4 और 6
 - 4. 3 और 5

Question ID : 8161618770
Status : Not Answered
Chosen Option :--

Q.48 निम्न में से उस विकल्प का चयन करें जो इन शब्दों को अंग्रेजी शब्दकोश में उनके क्रम के अनुसार व्यवस्थित करता है?

1. Service
2. Serpent
3. Surrogate
4. Serene
5. Serious

- Ans
- 1. 4, 5, 2, 3, 1
 - 2. 4, 5, 1, 2, 3
 - 3. 4, 5, 2, 1, 3
 - 4. 5, 4, 2, 1, 3

Question ID : 8161618735

Status : Answered

Chosen Option : 3

Q.49 विकल्पों में से उस पद का चयन करें जो तीसरे पद से ठीक उसी प्रकार से सम्बंधित है जिस प्रकार से दूसरा पद पहले पद से संबन्धित है।

FASTER : GZTUDS :: BOXING : ?

- Ans
- 1. CSYQPJ
 - 2. CNYHOH
 - 3. ANYHPH
 - 4. CMZHOI

Question ID : 8161618740

Status : Answered

Chosen Option : 2

Q.50 दिए गए कथनों और निष्कर्षों को ध्यान से पढ़ें। आपको दिए गए कथनों की जानकारी को सही मान कर चलना है, भले ही वे सामान्य ज्ञात तथ्यों से भिन्न प्रतीत होते हों, फिर निर्णय कीजिए कि कौन सा (से) निष्कर्ष दिए गए कथनों का तार्किक रूप से अनुसरण करता है (करते हैं)।

कथन

- I. सभी स्कूल कलम हैं।
- II. सभी किताबें स्कूल हैं।

निष्कर्ष

- I. सभी पुस्तकें कलम हैं।
- II. सभी कलम पुस्तकें हैं।

- Ans
- 1. दोनों निष्कर्ष I और II अनुसरण करते हैं
 - 2. न तो निष्कर्ष I और न ही II अनुसरण करता है
 - 3. केवल निष्कर्ष I अनुसरण करता है
 - 4. केवल निष्कर्ष II अनुसरण करता है

Question ID : 8161618754

Status : Not Answered

Chosen Option : --

Q.1 न न ल खत मसे कस को 'ऑपरेशन लड' के वा तुकारके पम जाना जाता था?

- Ans
- 1. मोरारजी देसाई
 - 2. वगज कु स्यन
 - 3. व लभभाई पटेल
 - 4. भुवनदास पटेल

Question ID : 8161618812

Status : **Not Attempted and Marked For Review**

Chosen Option : --

Q.2 न न ल खत मसे कसे पहले 'लैक पैगोडा' कहा जाता था?

- Ans
- 1. िनाथजी मं दर, नाथ ारा
 - 2. सूयमं दर, कोणाक
 - 3. वकटे र मं दर, तपत
 - 4. मीना ि मं दर, मरे

Question ID : 8161618782

Status : **Answered**

Chosen Option : 2

Q.3 भारतीय सं वधान का भाग _____ भारत क नागरकतासे संबं धत है।

- Ans
- 1. IV
 - 2. II
 - 3. III
 - 4. V

Question ID : 8161618820

Status : **Answered**

Chosen Option : 2

Q.4 _____ उ णक टबं धीय महासागर मपाए जाने वाले न न तप ह जो एक कय अवसाद के आसपास वाल भयसे यु होते ह।

- Ans
- 1. एटोल
 - 2. गुडओट्स / टेबलमाउंट
 - 3. सी-माउंट
 - 4. च

Question ID : 8161618800

Status : **Not Attempted and Marked For Review**

Chosen Option : --