

STENOGRAPHER GRADE C and D EXAMINATION 2018 (8th Feb 2019, Shift-II)

Roll No. :	
Registration No.	
Name :	
Exam Venue :	
Exam Time :	3:00 PM - 5:00 PM
Exam Date :	08/02/2019

Section : STENOGRAPHER GRADE C and D EXAMINATION 2018

Q.1 असंगत संख्या युग्म का चयन करें।

- Ans
- 1. 324 : 100
 - 2. 813 : 169
 - 3. 123 : 49
 - 4. 912 : 144

Question ID : 9895801987
Status : Answered
Chosen Option : 1

Q.2 एक कूट भाषा में, SWEET को RXDFS के रूप में लिखा जाता है और PLATE को OMZUD के रूप में लिखा जाता है। उसी कूट भाषा में TRAIN को कैसे लिखा जाएगा?

- Ans
- 1. SSZJM
 - 2. SQZHM
 - 3. UQBHO
 - 4. USBJO

Question ID : 9895802013
Status : Answered
Chosen Option : 1

Q.3 उस विकल्प का चयन करें जो तीसरे पद से उसी तरह संबंधित है जिस प्रकार दूसरा पद पहले पद से संबंधित है।

सविनय : विनम :: निराश्रित : ?

- Ans
- 1. समृद्ध
 - 2. पर्याप्त
 - 3. धनी
 - 4. गरीब

Question ID : 9895801978
Status : Answered
Chosen Option : 4

Q.4

उस विकल्प का चयन करें जो तीसरे पद से उसी तरह संबंधित है जिस प्रकार दूसरा पद पहले पद से संबंधित है।

EK : MS :: AG : ?

- Ans
- 1. IM
 - 2. IJ
 - 3. IO
 - 4. JP

Question ID : 9895801964

Status : Answered

Chosen Option : 3

Q.5 उस विकल्प का चयन करें जो चौथे पद से उसी तरह संबंधित है जिस प्रकार पहला पद दूसरे पद से संबंधित है।

दयालु : परोपकारी :: ? : विलापी

- Ans
- 1. क्रोध
 - 2. सत्य
 - 3. दुःखी
 - 4. प्रसन्नता

Question ID : 9895801977

Status : Answered

Chosen Option : 3

Q.6 चार शब्द दिए गए हैं, जिनमें से तीन किसी तरह से समान हैं, जबकि एक शब्द भिन्न है। असंगत शब्द का चयन करें।

- Ans
- 1. स्क्वी
 - 2. सूखा रोग
 - 3. गण्डमाला रोग
 - 4. फॉस्फोरस

Question ID : 9895802011

Status : Answered

Chosen Option : 4

Q.7 उस विकल्प का चयन करें जो रिक्त स्थान की पूर्ति करते हुए श्रृंखला को पूरा करें।

BPCW, DPEW, FPGW, _____, JPKW

- Ans
- 1. IPHW
 - 2. HPJW
 - 3. HPIW
 - 4. IPJW

Question ID : 9895801983

Status : Answered

Chosen Option : 3

Q.8 उस विकल्प का चयन करें जो रिक्त स्थान की पूर्ति करते हुए श्रृंखला को पूरा करें।

ZCC, XEE, VGG, _____, RKK

- Ans
- 1. TII
 - 2. SII
 - 3. SGG
 - 4. RGG

Question ID : 9895801975
Status : Answered
Chosen Option : 1

Q.9 छः मित्र A, B, C, D, E तथा F केंद्र की तरफ मुख करके गोलाकार बैठे हैं। F, A के ठीक बाएं बैठा है तथा B, E के सामने बैठा है। A तथा D एक दूसरे के सामने बैठे हैं। F के सामने कौन बैठा है?

- Ans
- 1. E
 - 2. A
 - 3. F
 - 4. C

Question ID : 9895801981
Status : Answered
Chosen Option : 4

Q.1 दिए गए चार शब्दों में से तीन शब्द किसी न किसी प्रकार से समान हैं, जबकि एक शब्द भिन्न है। असंगत शब्द का चयन करें।

- Ans
- 1. विध्वंश करना
 - 2. अलंकृत करना
 - 3. बन्दनवार से सजाना
 - 4. सजाना

Question ID : 9895801974
Status : Answered
Chosen Option : 1

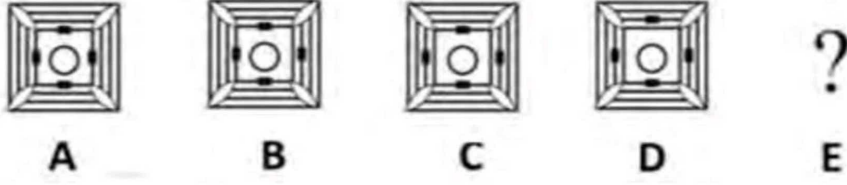
Q.1 उस विकल्प का चयन करें जो रिक्त स्थान की पूर्ति करते हुए श्रृंखला को पूरा करें।

22, 4, 16, 24, 6, 36, 26, 8, 64, 28, 10, _____

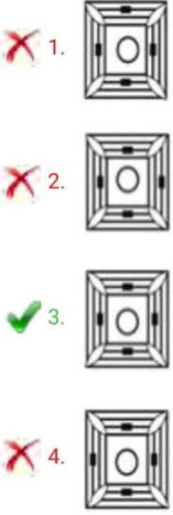
- Ans
- 1. 100
 - 2. 30
 - 3. 3
 - 4. 9

Question ID : 9895801999
Status : Answered

Q.1
2 उस विकल्प का चयन करें जो दी गई श्रृंखला में अगला आएगा।



Ans



Question ID : 9895802009

Status : Not Answered

Chosen Option : --

Q.1 नीचे दिए गए कथनों के बाद दो निष्कर्ष I और II दिए गए हैं। यह मानते हुए कि कथनों में दी गई जानकारी सत्य है, भले ही वह सर्वज्ञात तथ्यों से भिन्न प्रतीत होती हो और यह निर्णय करें कि कौन सा / से निष्कर्ष तार्किक और निश्चित रूप से कथन में दी गई जानकारी का अनुसरण करता है / करते हैं।

कथन:

सभी पुस्तकें अंगूर हैं।
कुछ अंगूर फल हैं।

निष्कर्ष

- I. कोई भी अंगूर पुस्तक नहीं है।
- II. कुछ अंगूर पुस्तकें हैं।

Ans

- ✓ 1. केवल निष्कर्ष II अनुसरण करता है।
- ✗ 2. केवल निष्कर्ष I अनुसरण करता है।
- ✗ 3. या तो निष्कर्ष I या निष्कर्ष II अनुसरण करता है।
- ✗ 4. निष्कर्ष I और II दोनों अनुसरण करते हैं।

Question ID : 9895801966

Status : Answered

Chosen Option : 1

4 उस विकल्प का चयन करें जो रिक्त स्थान की पूर्ति करते हुए श्रृंखला को पूरा करें।

16, 2, 15, 4, 13, 7, 10, 11, 6, _____

- Ans
- 1. 17
 - 2. 16
 - 3. 14
 - 4. 15

Question ID : 9895801994
Status : Answered
Chosen Option : 2

Q.1 5 यदि '+' का अर्थ '+', '-' का अर्थ '-', 'x' का अर्थ '÷' और '÷' का अर्थ 'x' है तो $\frac{24-8+6+4 \times 7}{8+3 \times 19}$ का मान बताएं।

- Ans
- 1. 7
 - 2. 4
 - 3. 1
 - 4. 5

Question ID : 9895801998
Status : Answered
Chosen Option : 2

Q.1 6 उस विकल्प का चयन करें जो रिक्त स्थान की पूर्ति करते हुए श्रृंखला को पूरा करें।

16, 15, 12, 7, _____

- Ans
- 1. 2
 - 2. -2
 - 3. 1
 - 4. 0

Question ID : 9895801986
Status : Answered
Chosen Option : 4

Q.1 7 उस विकल्प का चयन करें जो तीसरे पद से उसी तरह संबंधित है जिस प्रकार दूसरा पद पहले पद से संबंधित है।

17 : 306 :: 13 : ?

- Ans
- 1. 182
 - 2. 275
 - 3. 169
 - 4. 144

Question ID : 9895802016
Status : Answered
Chosen Option : 1

Q.1
8

एक निश्चित कूट भाषा में ATISH को AHIST के रूप में और MAHEK को AEHKM के रूप में लिखा जाता है, उसी कूट में NARGIS को किस रूप में लिखा जाएगा?

- Ans
- 1. AGINRS
 - 2. ANGIRS
 - 3. ANIGRS
 - 4. AGNIRS

Question ID : 9895801971
Status : Not Attempted and Marked For Review
Chosen Option : --

Q.1 उस सही विकल्प का चयन करें जो रिक्त स्थान की पूर्ति करते हुए श्रृंखला को पूरा करें।

43, 48, 58, 73, _____

- Ans
- 1. 78
 - 2. 93
 - 3. 83
 - 4. 88

Question ID : 9895802014
Status : Answered
Chosen Option : 2

Q.2 उस विकल्प का चयन करें जो रिक्त स्थान की पूर्ति करते हुए श्रृंखला को पूरा करें।

3, 7, 11, 15, _____

- Ans
- 1. 18
 - 2. 21
 - 3. 23
 - 4. 19

Question ID : 9895801985
Status : Answered
Chosen Option : 4

Q.2 केदार अपने घर से निकला और साइकिल से दक्षिण की ओर 25 किमी गया और बस स्टैंड पहुंचा। फिर वह बायीं ओर मुड़ा और 15 किमी गया, फिर से वह बायीं ओर मुड़ा और 25 किमी गया। वह अपने मूल स्थान से कितनी दूर है?

- Ans
- 1. 10 किमी
 - 2. 20 किमी
 - 3. 15 किमी
 - 4. 25 किमी

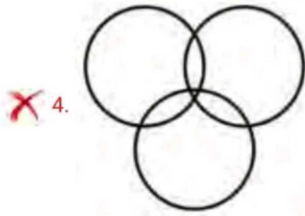
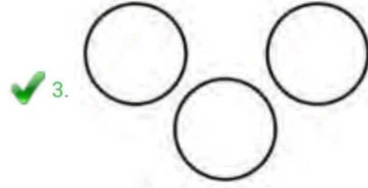
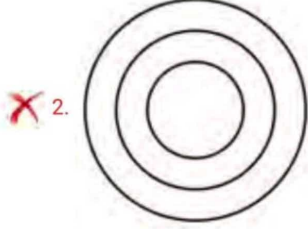
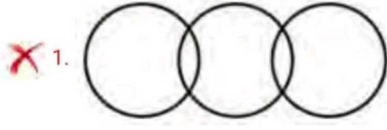
Question ID : 9895802001
Status : Answered
Chosen Option : 3

Q.2

2 उस वेन आरेख का चयन करें जो दिए गए वर्गों को बेहतर ढंग से दर्शाता है।

शुतुरमुर्ग, सांप, मेंढक

Ans



Question ID : 9895802003

Status : Answered

Chosen Option : 3

Q.2 यदि चाँद को समुद्र कहा जाता है, समुद्र को पानी कहा जाता है, पानी को हवा कहा जाता है, हवा को सूरज कहा जाता

3 है और सूरज को नदी कहा जाता है, तो हमें प्रकाश और गर्मी कौन देता है?

Ans

✗ 1. समुद्र

✗ 2. पानी

✗ 3. सूर्य

✓ 4. नदी

Question ID : 9895801970

Status : Answered

Chosen Option : 4

Q.2 दिए गए चार शब्दों में से तीन शब्द किसी न किसी प्रकार से समान हैं, जबकि एक शब्द भिन्न है। असंगत शब्द का

4 चयन करें।

Ans

✗ 1. छेद : ड्रिलर

✓ 2. फोटो : फ्रेम

✗ 3. काट : चाकू

✗ 4. पेंट : ब्रश

Question ID : 9895801968

Status : Answered

Chosen Option : 2

Q.2 निम्न समीकरण को सही बनाने के लिए किन दो चिह्नों को आपस में बदलने की आवश्यकता है।
5

$$18 - 2 \times 7 \div 6 + 10 = 67$$

Ans ✓ 1. - और ÷

✗ 2. × और ÷

✗ 3. + और -

✗ 4. + और ×

Question ID : 9895802015

Status : Answered

Chosen Option : 1

Q.2 उस विकल्प का चयन करें जो XY रेखा पर दर्पण रखे जाने पर दिए गए शब्द की दर्पण छवि से सर्वाधिक मेल खाता है।
6



Ans ✗ 1.

✓ 2.

✗ 3.

✗ 4.

Question ID : 9895802008

Status : Answered

Chosen Option : 2

Q.2 अक्षरों का कौन सा सेट दी गई अक्षर श्रृंखला में रिक्त स्थान पर आनुक्रमिक रूप से रखे जाने पर उसे पूरा करेगा?
7

ybb _ byy _ y _ byb _ yby

Ans ✗ 1. ccyc

✓ 2. y b b y

✗ 3. y b y b

✗ 4. y y b b

Question ID : 9895801976

Status : Answered

Chosen Option : 3

Q.2 उस विकल्प का चयन करें जो रिक्त स्थान की पूर्ति करते हुए श्रृंखला को पूरा करें।

JBKA, LBMA, NBOA, _____.

Ans ✓ 1. PBQA

✗ 2. PABQ

✗ 3. PABQ

✗ 4. PQBA

Question ID : 9895801984

Status : Answered

Chosen Option : 1

Q.2 एक कक्षा में पाँच बच्चे अभिक्रमता परीक्षण में शामिल हुए।

9 परिणाम रिपोर्ट में, यह पाया गया कि बालक A को बालक B की तुलना में कम अंक मिले। बालक C को बालक D की तुलना में कम अंक मिले। बालक B को बालक C से कम अंक मिले हैं और बालक A को बालक E से अधिक अंक मिले हैं। किस बालक को दूसरा सर्वाधिक अंक मिला है?

Ans ✗ 1. B

✗ 2. D

✓ 3. C

✗ 4. A

Question ID : 9895801972

Status : Not Answered

Chosen Option : --

Q.3 शब्दों की असंगत जोड़ी ज्ञात करें।

Ans ✗ 1. हिरण : हिरणी

✗ 2. बिल्ला : बिल्ली

✓ 3. चूड़ा : मुर्गी

✗ 4. चींटी : रानी

Question ID : 9895801980

Status : Answered

Chosen Option : 4

Q.3 असंगत वर्ण ज्ञात करें।

Ans

- 1. P
- 2. I
- 3. B
- 4. N

Question ID : 9895801967
Status : Answered
Chosen Option : 2

Q.3 चार शब्द दिए गए हैं, जिनमें से तीन किसी तरह से समान हैं, जबकि एक शब्द भिन्न है। असंगत शब्द का चयन करें।

- Ans
- 1. माणिक
 - 2. प्लैटिनम
 - 3. स्वर्ण
 - 4. चांदी

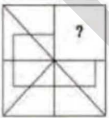
Question ID : 9895801962
Status : Answered
Chosen Option : 1

Q.3 A, B, C, D, E, F, G और H समान दूरी पर दोपहर के भोजन के लिए इसी कम में गोलाकार बैठे हैं। उनकी स्थिति दक्षिणावर्त है। यदि C पूर्व में बैठा है, तो G की दिशा क्या होगी?

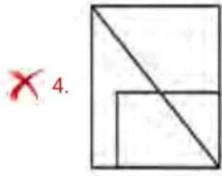
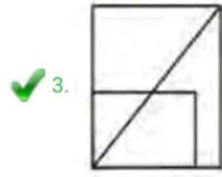
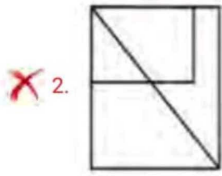
- Ans
- 1. पूर्व
 - 2. उत्तर-पूर्व
 - 3. पश्चिम
 - 4. दक्षिण-पूर्व

Question ID : 9895801982
Status : Not Answered
Chosen Option : --

Q.3 दिए गए चार विकल्पों से वह चित्र चुनें, जो रिक्त स्थान (?) में रखे जाने पर पैटर्न को पूरा करता हो (घूर्णन की अनुमति नहीं है)।



- Ans
- 1.



Question ID : 9895802004

Status : Answered

Chosen Option : 3

Q.3 5 उस सही विकल्प का चयन करें जो रिक्त स्थान की पूर्ति करते हुए श्रृंखला को पूरा करें।

GJM, KLN, ONO, _____

- Ans 1. SOP
 2. SPP
 3. SRS
 4. SQQ

Question ID : 9895801973

Status : Answered

Chosen Option : 2

Q.3 6 चार शब्द दिए गए हैं, जिनमें से तीन किसी तरह से समान हैं, जबकि एक शब्द भिन्न है। असंगत शब्द का चयन करें।

- Ans 1. उद्यान / पार्क
 2. स्कूल
 3. घर/मकान
 4. मंदिर

Question ID : 9895801960

Status : Answered

Chosen Option : 3

Q.3 7 उस विकल्प का चयन करें जो रिक्त स्थान की पूर्ति करते हुए श्रृंखला को पूरा करें।

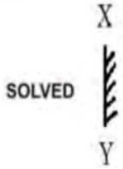
6, 11, 20, 45, 134, _____

Ans

- 1. 749
- 2. 497
- 3. 479
- 4. 794

Question ID : 9895801997
 Status : Answered
 Chosen Option : 3

Q.3 8 उस विकल्प का चयन करें जो XY रेखा पर दर्पण रखे जाने पर दिए गए शब्द की दर्पण छवि से सर्वाधिक मेल खाता है।



- Ans
- 1. SOLVED
 - 2. SOLVED
 - 3. DEVLOS
 - 4. DEVLOS

Question ID : 9895802005
 Status : Answered
 Chosen Option : 3

Q.3 9 असंगत संख्या युग्म का चयन करें।

- Ans
- 1. 32 : 19
 - 2. 21 : 51
 - 3. 58 : 26
 - 4. 43 : 95

Question ID : 9895801988
 Status : Not Attempted and Marked For Review
 Chosen Option : --

Q.4 0 उस विकल्प का चयन करें जो रिक्त स्थान की पूर्ति करते हुए श्रृंखला को पूरा करें।

4, 5, 14, 39, 88, 169, _____

- Ans
- 1. 290
 - 2. 200
 - 3. 299
 - 4. 209

Question ID : 9895801992

Q.4 नीचे दिए गए कथनों के बाद दो निष्कर्ष I और II दिए गए हैं। यह मानते हुए कि कथनों में दी गई जानकारी सत्य है, भले ही वह सर्वज्ञात तथ्यों से भिन्न प्रतीत होती हो और यह निर्णय करें कि कौन सा / से निष्कर्ष तार्किक और निश्चित रूप से कथन में दी गई जानकारी का अनुसरण करता है / करते हैं।

कथन:

सभी सफ़ेद गुलाबी हैं।
सभी हरे गुलाबी हैं।

निष्कर्ष:

- I. कुछ गुलाबी हरे हैं।
- II. कुछ गुलाबी सफ़ेद हैं।

- Ans
1. या तो निष्कर्ष I या निष्कर्ष II अनुसरण करता है।
 2. केवल निष्कर्ष I अनुसरण करता है।
 3. केवल निष्कर्ष II अनुसरण करता है।
 4. दोनों निष्कर्ष अनुसरण करते हैं।

Q.4 यदि '+' का अर्थ 'x' है, '-' का अर्थ '+' है, 'x' का अर्थ '-' है और '-' का अर्थ '+' है, तो इस नीचे दिए गए समीकरण का मान क्या होगा?

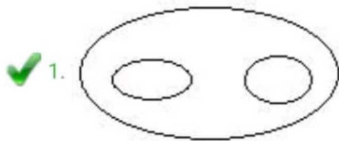
$$6 + \frac{2}{3} - \frac{1}{2} \times \frac{3}{4} \times 9$$

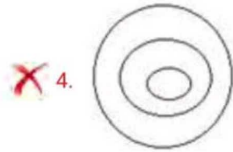
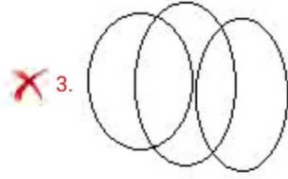
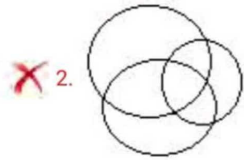
- Ans
1. $\frac{35}{21}$
 2. $\frac{53}{21}$
 3. $\frac{35}{12}$
 4. $\frac{53}{12}$

Q.4 उस वेन आरेख का चयन करें जो दिए गए वर्गों को बेहतर ढंग से दर्शाता है।

सामाजिक विज्ञान, मनोविज्ञान, समाजशास्त्र

Ans



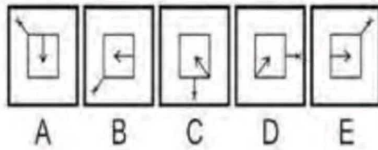


Question ID : 9895802006

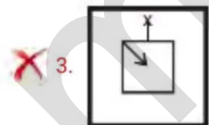
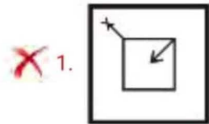
Status : Not Attempted and Marked For Review

Chosen Option : --

Q.4 4 उस विकल्प का चयन करें जो दी गई श्रृंखला में अगला आएगा।



Ans



Question ID : 9895802007

Status : Not Attempted and Marked For Review

Chosen Option : --

Q.4 5 उस विकल्प का चयन करें जो तीसरे पद से उसी तरह संबंधित है जिस प्रकार दूसरा पद पहले पद से संबंधित है।

3 : 90, 5 : 130 :: 7 : _____, 9 : 738

Ans 1. 2450

2. 2504
 3. 2405
 4. 2540

Question ID : 9895801996

Status : Not Answered

Chosen Option : --

Q.4 सुबह में सूर्योदय के बाद एक लड़के ने पश्चिम की ओर 4 किमी तक अपनी साइकिल चलाई, फिर वह दायीं ओर मुड़ा
6 और 6 किमी तक साइकिल चलाई और फिर दायीं ओर मुड़कर अपने विद्यालय तक पहुँचने के लिए 6 किमी तक साइकिल चलायी। स्कूल प्रारंभिक बिंदु से किस दिशा में है?

- Ans 1. उत्तर-पूर्व
 2. दक्षिण-पूर्व
 3. दक्षिण-पश्चिम
 4. उत्तर-पश्चिम

Question ID : 9895802002

Status : Not Answered

Chosen Option : --

Q.4 एक निश्चित कूट भाषा में DRONE को WILMV के रूप में लिखा जाता है। उसी कूट भाषा में DONKEY को किस
7 रूप में लिखा जाएगा?

- Ans 1. WLPVMB
 2. WLVMPB
 3. WLPMVB
 4. WLMPVB

Question ID : 9895801961

Status : Answered

Chosen Option : 4

Q.4 रहमान अपने कार्यालय से जिला मुख्यालय गया। उसने पश्चिम की ओर अपनी यात्रा शुरू की। सबसे पहले,
8 वह सीधे 20 किमी गया; फिर वह अपनी बायीं ओर मुड़ गया और 9 किमी चला; अंत में, वह दाएं मुड़ा और जिला मुख्यालय तक पहुँचने के लिए 20 किमी चला।

रहमान के कार्यालय और जिला मुख्यालय के बीच सबसे कम दूरी क्या है?

- Ans 1. 41 किमी
 2. 49 किमी
 3. 34.5 किमी
 4. 24.5 किमी

Question ID : 9895802000

Status : Not Answered

Chosen Option : --

Q.4 असंगत संख्या युग्म का चयन करें।
9

- Ans
- 1. 3797 : 42
 - 2. 1479 : 83
 - 3. 2564 : 21
 - 4. 4632 : 23

Question ID : 9895801995
Status : Not Answered
Chosen Option : --

Q.5
0 उस सही विकल्प का चयन करें जो रिक्त स्थान की पूर्ति करते हुए श्रृंखला को पूरा करें।

AKT, BLU, CMV, DNW, _____

- Ans
- 1. FOX
 - 2. EOX
 - 3. FOY
 - 4. EOY

Question ID : 9895801965
Status : Answered
Chosen Option : 2

Q.5
1 2016 के लिए सांस्कृतिक समरसता के लिए टैगोर पुरस्कार से सम्मानित राम बनजी सुतार एक प्रसिद्ध _____ हैं।

- Ans
- 1. चित्रकार
 - 2. नर्तक
 - 3. मूर्तिकार
 - 4. संगीतज्ञ

Question ID : 9895801805
Status : Not Answered
Chosen Option : --

Q.5
2 निम्नलिखित में से कौन सी नदी अरब सागर में नहीं जाती है?

- Ans
- 1. तापी
 - 2. नर्मदा
 - 3. सिंधु
 - 4. गोदावरी

Question ID : 9895801829
Status : Not Answered
Chosen Option : --

Q.5
3 विश्व में कौन से देश का संविधान सबसे लम्बा है?

Ans

- 1. अमेरिका
- 2. भारत
- 3. कनाडा
- 4. न्यूजीलैंड

Question ID : 9895801844
Status : Marked For Review
Chosen Option : 2

Q.5
4 निम्नलिखित राजाओं में से किसने हिरण्य-गर्भ यज्ञकिया?

- Ans
- 1. राजा रवि वर्मा
 - 2. परशुराम
 - 3. मार्तंड वर्मा
 - 4. दंतिदुर्ग

Question ID : 9895801834
Status : Not Answered
Chosen Option : --

Q.5
5 भारत की पहली विश्व कप विजेता क्रिकेट टीम का कप्तान कौन था?

- Ans
- 1. मंसूर अली खान पटौदी
 - 2. महेंद्र सिंह धोनी
 - 3. कपिल देव
 - 4. लाला अमरनाथ

Question ID : 9895801852
Status : Marked For Review
Chosen Option : 3

Q.5
6 भारत की अधिकांश नदियों का पानी _____ में मिलता/बहता है।

- Ans
- 1. अरब सागर
 - 2. हिंद महासागर
 - 3. लक्षद्वीप सागर
 - 4. बंगाल की खाड़ी

Question ID : 9895801827
Status : Marked For Review
Chosen Option : 4

Q.5
7 किस वर्ष में तराइन की पहली लड़ाई हुई?

- Ans
- 1. 1291
 - 2. 1391
 - 3. 1100
 - 4. 1191

Question ID : 9895801833
Status : Answered
Chosen Option : 4

Q.5
8 यथा 2018 तक भारत में सबसे लंबा नदी पुल कौन सा है?

- Ans
- 1. गोदावरी सेतु
 - 2. दिगा- सोनपुर
 - 3. ढोला- सदिया
 - 4. दुमला - सोलापुर

Question ID : 9895801826
Status : Not Answered
Chosen Option : --

Q.5
9 खासी विद्रोह किस कालावधि के दौरान हुआ था?

- Ans
- 1. 1891-1896
 - 2. 1911-1915
 - 3. 1876-1891
 - 4. 1829-1833

Question ID : 9895801832
Status : Not Answered
Chosen Option : --

Q.6
0 PMFBY का पूर्ण रूप क्या है?

- Ans
- 1.
प्रधान मंत्री फुखरी भविष्य योजना (Pradhan Mantri Fukhri Bhavishya Yojna)
 - 2.
प्रधान मंत्री फसल बीमा योजना (Pradhan Mantri Fasal Bima Yojana)
 - 3.
प्रधान मंत्री त्वरित लाभ योजना (Prime Minister's Fast Benefit Yojana)
 - 4.
प्रधान मंत्री खाद्य और पेय योजना (Prime Minister's Food and Beverages Scheme)

Question ID : 9895801846
Status : Not Answered
Chosen Option : --

Q.6
1 निम्नलिखित में से कौन सा जीवित प्राणियों का एक वर्ग नहीं है?

- Ans
- 1. मोनेरा
 - 2. ऐल्बूमिना
 - 3. प्रॉटिस्टा
 - 4. कवक

Question ID : 9895801820
Status : Marked For Review
Chosen Option : 2

Q.6
2 निम्नलिखित में से कौन पौधे के प्रजनन भाग का प्रतिनिधित्व करता है?

- Ans
- 1. फूल
 - 2. लकड़ी
 - 3. टहनी
 - 4. कोंपल

Question ID : 9895801816
Status : Marked For Review
Chosen Option : 1

Q.6
3 लावणी किस राज्य का लोक नृत्य है?

- Ans
- 1. गुजरात
 - 2. मध्य प्रदेश
 - 3. महाराष्ट्र
 - 4. राजस्थान

Question ID : 9895801806
Status : Answered
Chosen Option : 1

Q.6
4 नैसकॉम (NASSCOM) के अध्यक्ष कौन हैं?

- Ans
- 1. देबजानी घोष
 - 2. रवि जैन
 - 3. इंदिरा नूई
 - 4. कुमार मंगलम बिड़ला

Question ID : 9895801842
Status : Not Answered
Chosen Option : --

Q.6
5 जकार्ता में 18 वें एशियाई खेलों में भारत ने कितने स्वर्ण पदक जीते?

- Ans
- 1. 15
 - 2. 7
 - 3. 11
 - 4. 9

Question ID : 9895801851
Status : Answered
Chosen Option : 1

Q.6
6 इंदिरा पॉइंट को पहले किस नाम से जाना जाता था?

- Ans
- 1. बरसात बिंदु
 - 2. पिरामिडल बिंदु
 - 3. पाइथन बिंदु
 - 4. पिग्मालायन बिंदु

Question ID : 9895801825
Status : Answered
Chosen Option : 4

Q.6
7 किस युगल साझेदार के साथ लिएंडर पेस ने 2018 में सांतो डोमिंगो ओपन ट्रॉफी जीती?

- Ans
- 1. सानिया मिर्जा
 - 2. रोहन बोपन्ना
 - 3. मिगुएल एंजेल रेयेस वरेला
 - 4. मार्टिना हिंगिस

Question ID : 9895801854
Status : Not Answered
Chosen Option : --

Q.6
8 किस राष्ट्रीय उद्यान (वन्यजीव अभ्यारण्य) में 2018 में 23 शेरों की मौत हुई थी?

- Ans
- 1. कान्हा राष्ट्रीय उद्यान
 - 2. गिर अभ्यारण्य
 - 3. जिम कॉर्बेट राष्ट्रीय उद्यान
 - 4. रणथम्भोर राष्ट्रीय उद्यान

Question ID : 9895801839
Status : Marked For Review
Chosen Option : 2

Q.6
9 दंतिदुर्ग कौन थे?

- Ans
- 1. त्रावणकोर प्रमुख
 - 2. मालाबार प्रमुख
 - 3. मैसूर प्रमुख
 - 4. राष्ट्रकूट प्रमुख

Question ID : 9895801835
Status : Answered
Chosen Option : 4

Q.7
0 _____ पर पानी जम जाता है।

- Ans
- 1. 1°C
 - 2. 0°C
 - 3. -1°C
 - 4. 10°C

Question ID : 9895801819
Status : Marked For Review
Chosen Option : 2

Q.7
1 यथा जनवरी 2019 को श्री कुम्मनम राजशेखरन किस राज्य के राज्यपाल हैं?

- Ans
- 1. केरल
 - 2. मिजोरम
 - 3. बिहार
 - 4. मणिपुर

Question ID : 9895801848
Status : Marked For Review
Chosen Option : 2

Q.7
2 भारत के साथ-साथ कितने अन्य देश चाबहार बंदरगाह परियोजना से जुड़े हैं?

- Ans
- 1. 2
 - 2. 3
 - 3. 5
 - 4. 4

Question ID : 9895801837
Status : Not Answered
Chosen Option : --

Q.7