

Stenographer Grade 'C' & 'D' Examination, 2019 | Shift 22-12-2020

Roll Number	
Candidate Name	
Venue Name	
Exam Date	22/12/2020
Exam Time	10:00 AM - 12:00 PM
Subject	Stenographer Grade C and D Examination 2019

Section : General Intelligence and Reasoning

Q.1 यदि दर्पण को निम्न चित्र के अनुसार MN पर रखा जाए, तो दिए गए चित्र के सही दर्पण प्रतिबिंब का चयन करें?

ReG542t |
M
N

Ans

1. t 2 4 5 G e R
2. t 2 4 5 G e R
3. t 2 4 5 G e R
4. t 2 4 5 G e R

Question ID : 6549785226

Status : Answered

Chosen Option : 2

Q.2 निम्नलिखित में से कौन सा विकल्प उस सही क्रम को दर्शाता है, जिस क्रम में नीचे दिए गए शब्द अंग्रेजी शब्दकोश में होते हैं?

1. Settlement
2. Settings
3. Settle
4. Settee
5. Senile

Ans

1. 5, 4, 2, 1, 3
2. 5, 4, 3, 2, 1
3. 5, 4, 2, 3, 1
4. 1, 2, 4, 3, 5

Question ID : 6549785184

Status : Answered

Chosen Option : 3

Q.3 गणितीय चिन्हों के उस सही संयोजन का चयन करें जिसके द्वारा निम्न समीकरण में तारांकित प्रतीकों (*) को प्रतिस्थापित करने पर समीकरण संतुलित हो जाएगा।

$$36 * 4 * 9 * 27 * 9 * 150$$

- Ans
- 1. +, X, -, ÷, =
 - 2. ÷, X, +, -, =
 - 3. X, +, -, ÷, =
 - 4. ÷, X, -, +, =

Question ID : 6549785213

Status : Answered

Chosen Option : 3

Q.4 आठ मित्र A, B, C, D, E, F, G और H एक गोल मेज के परितः इसके केंद्र की ओर अभिमुख होकर वामावर्त रूप से एक-दूसरे से बराबर-बराबर दूरी पर बैठे हैं। यदि G दक्षिण-पूर्व में बैठा है, तो व्यक्ति का और उसके बैठने की दिशा का निम्न में से कौन सा युग्म सही नहीं है?

- Ans
- 1. H : पश्चिम
 - 2. B : उत्तर
 - 3. C : उत्तर-पश्चिम
 - 4. E : दक्षिण-पश्चिम

Question ID : 6549785196

Status : Answered

Chosen Option : 1

Q.5 जोया बैंक से बाहर निकली और 14 m उत्तर की ओर चली। उसके बाद वह बाईं ओर मुड़ी और 20 m चली। उसके बाद वह फिर बाईं ओर मुड़ी और 36 m चली। अब वह एक बार फिर बाईं ओर मुड़ी और 65 m चली। उसे बैंक से पूरब दिशा में 45 m की दूरी पर स्थित अस्पताल पहुंचने के लिए किस ओर मुड़ना होगा और कितनी दूरी तय करनी पड़ेगी?


- Ans
- 1. बाईं ओर, 22 m
 - 2. दाईं ओर, 22 m
 - 3. बाईं ओर, 29 m
 - 4. दाईं ओर, 29 m

Question ID : 6549785221

Status : Answered

Chosen Option : 1

Q.6 निम्न वेन आरेख दिए गए विकल्पों में से किसके संबंधों को सर्वोत्तम रूप से दर्शाता है?



- Ans
- 1. हिंदी, अंग्रेजी, स्पेनिश
 - 2. टेलीविज़न, रेफ्रिजरेटर, पंखे
 - 3. भाषाएं, सामाजिक विज्ञान, वैज्ञानिक
 - 4. हिंदी, अंग्रेजी, भाषाएं

Question ID : 6549785228

Status : Answered

Chosen Option : 4

Q.7 चार विद्यार्थियों P, Q, R और S ने अंग्रेजी, फ्रेंच, स्पेनिश तथा जर्मन में से एक-एक भाषा सीखी है। P और R ने स्पेनिश नहीं सीखी है। S ने फ्रेंच सीखी है। यदि P ने जर्मन नहीं सीखी है, तो अंग्रेजी किसने सीखी है?

- Ans
- 1. R
 - 2. P
 - 3. S
 - 4. Q

Question ID : 6549785194

Status : Answered

Chosen Option : 1

Q.8 निम्नलिखित श्रृंखला में प्रश्न चिह्न (?) के स्थान पर आने वाली संख्या का चयन करें।
75, 76, 84, 111, 175, ?

- Ans
- 1. 290
 - 2. 300
 - 3. 265
 - 4. 308

Question ID : 6549785205

Status : Answered

Chosen Option : 2

Q.9 पांच मित्र K, L, M, N और O एक गोल मेज के परितः इसके केंद्र की ओर अभिमुख होकर बैठे हैं। N, K के ठीक दाईं ओर पड़ोस में है। L, M के ठीक बाईं ओर पड़ोस में है। N, M के दाईं ओर दूसरे स्थान पर है। O कहां बैठा है?

- Ans
- 1. N और M के बीच में
 - 2. L के दाईं ओर तीसरे स्थान पर
 - 3. N और L के बीच में
 - 4. M के ठीक दाईं ओर

Question ID : 6549785195

Status : Answered

Chosen Option : 3

Q.10 दिए गए कथनों और निष्कर्षों को ध्यान से पढ़ें। दिए गए कथनों की जानकारी को सही मानते हुए, भले ही वह सामान्य ज्ञात तथ्यों से भिन्न प्रतीत होती हो, निर्णय कीजिए कि कौन सा/से निष्कर्ष दिए गए कथनों का तार्किक रूप से अनुसरण करता है/करते हैं।

कथन :

कोई आदमी इंजीनियर नहीं है।

कोई इंजीनियर डाक्टर नहीं है।

कुछ डाक्टर दुकानदार हैं।

निष्कर्ष :

- I. कुछ आदमी डाक्टर हैं।
- II. कोई दुकानदार इंजीनियर नहीं है।
- III. कुछ दुकानदार इंजीनियर नहीं हैं।

- Ans
- 1. केवल निष्कर्ष III अनुसरण करता है।
 - 2. केवल निष्कर्ष I अनुसरण करता है।
 - 3. निष्कर्ष I और II में से कोई एक अनुसरण करता है।
 - 4. सभी निष्कर्ष अनुसरण करते हैं।

Question ID : 6549785203

Status : Answered

Chosen Option : 1

Q.11 यदि A 'जोड़' को निर्दिष्ट करता है, B 'गुणा' को निर्दिष्ट करता है, C 'घटाने' को निर्दिष्ट करता है तथा D 'भाग' को निर्दिष्ट करता है, तो निम्न समीकरण का मान क्या होगा?
63 D 7 B (9 A 4) A 24 C (264 D 88)

- Ans
- 1. 130
 - 2. 138
 - 3. 118
 - 4. 143

Question ID : 6549785212
Status : Answered
Chosen Option : 2

Q.12 नीचे दिए गए चार अक्षर-समूहों में से तीन किसी न किसी प्रकार समान हैं और एक भिन्न है। भिन्न अक्षर-समूह का चयन करें।

- Ans
- 1. OBGWS
 - 2. FYSNJ
 - 3. LEYTP
 - 4. ZSMHD

Question ID : 6549785186
Status : NotAnswered
Chosen Option : --

Q.13 शाम के समय अमित और अस्विनी एक पार्क में ऐसे बैठे हैं कि उन दोनों की पीठ एक-दूसरे के सम्मुख है। यदि अमित की छाया अस्विनी के दाईं ओर पड़ती है, तो अमित किस दिशा की ओर अभिमुख है?

- Ans
- 1. दक्षिण
 - 2. पश्चिम
 - 3. पूर्व
 - 4. उत्तर

Question ID : 6549785219
Status : Answered
Chosen Option : 1

Q.14 यदि $N > H > Q = X$ और $H = F = C < T$ है, तो निम्न में से कौन सा विकल्प सही नहीं है?

- Ans
- 1. $H < T$
 - 2. $Q < C$
 - 3. $N > X$
 - 4. $C < X$

Question ID : 6549785197
Status : Answered
Chosen Option : 4

Q.15 उस विकल्प का चयन करें जो तीसरे पद से उसी प्रकार संबंधित हो जिस प्रकार दूसरा पद पहले पद से संबंधित है।
MERGE : FNQFH :: LANCE : ?

- Ans
- 1. BMOFE
 - 2. CMMGD
 - 3. BMMFD
 - 4. BNMFD

Question ID : 6549785188
Status : Answered
Chosen Option : 3

Q.16 'A + B' का अर्थ है कि 'A, B का पुत्र है'
'A - B' का अर्थ है कि 'A, B का पति है'
'A × B' का अर्थ है कि 'A, B की पत्नी है'
'A ÷ B' का अर्थ है कि 'A, B का भाई है'
इसलिए, यदि हम $K ÷ Q × M + R × D + H - L$ पर विचार करें, तो L का M से क्या संबंध है?

- Ans
- 1. नाना
 - 2. दादी
 - 3. सास
 - 4. नानी

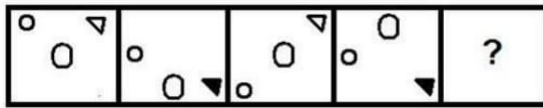
Question ID : 6549785199
Status : Answered
Chosen Option : 2

Q.17 ₹6,764 की धनराशि चार मित्रों P, Q, R और S में 8 : 6 : 3 : 2 के अनुपात में वितरित की जानी है।
P और R को मिलाकर कुल कितनी धनराशि मिलेगी?

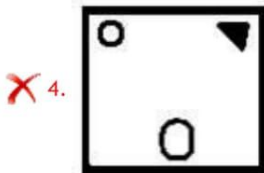
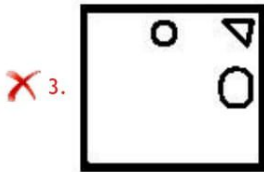
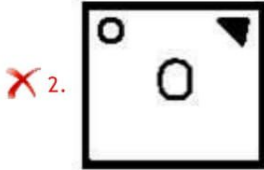
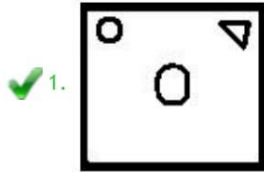
- Ans
- 1. ₹3,916
 - 2. ₹3,766
 - 3. ₹2,848
 - 4. ₹4,120

Question ID : 6549785208
Status : Answered
Chosen Option : 1

Q.18 उस आकृति का चयन करें जो निम्नलिखित आकृति श्रृंखला में प्रश्नवाचक चिन्ह के स्थान पर आएगी।



Ans



Question ID : 6549785222

Status : Answered

Chosen Option : 1

Q.19 निम्नलिखित शब्दों की व्यवस्था को तार्किक और सार्थक क्रम में इंगित करने के लिए सही विकल्प का चयन करें।

1. शहर
2. देश
3. कमरा
4. फ्लैट
5. भवन

Ans ✗ 1. 3, 4, 1, 5, 2

✗ 2. 4, 3, 5, 1, 2

✗ 3. 2, 3, 5, 1, 4

✓ 4. 3, 4, 5, 1, 2

Question ID : 6549785183

Status : Answered

Chosen Option : 4

Q.20 एक कूट भाषा में, 'you must study' को '531' लिखा जाता है, 'he must work' को '718' लिखा जाता है, 'work is worship' को '894' लिखा जाता है, और 'work is fine' को '864' लिखा जाता है। तो उसी कूट भाषा में शब्द और इसके कोड का कौन सा संयोजन सही नहीं है?

- Ans
- 1. is: 4
 - 2. fine: 6
 - 3. must: 1
 - 4. he: 8

Question ID :6549785190
Status : Answered
Chosen Option : 4

Q.21 एक नियत कूट भाषा में, 'MODERN' को '4681095' लिखा जाता है और 'TRACT' को '29262' लिखा जाता है। उसी कूट भाषा में 'BELGIUM' को क्या लिखा जाएगा?

- Ans
- 1. 251278214
 - 2. 4103141834
 - 3. 410379313
 - 4. 4103149313

Question ID :6549785192
Status : Answered
Chosen Option : 2

Q.22 दिए गए कथनों और निष्कर्षों को ध्यान से पढ़ें। दिए गए कथनों की जानकारी को सही मानते हुए, भले ही वह सामान्य ज्ञात तथ्यों से भिन्न प्रतीत होती हो, निर्णय कीजिए कि कौन सा/से निष्कर्ष दिए गए कथनों का ताकिक रूप से अनुसरण करता है/करते हैं।

कथन :

कुछ कैचियां चम्मच हैं।

सभी चम्मच प्लेटें हैं।

निष्कर्ष

- I. कुछ प्लेटें चम्मच हैं।
- II. कुछ चम्मच कैचियां हैं।
- III. कुछ प्लेटें कैचियां हैं।

- Ans
- 1. केवल निष्कर्ष I और III अनुसरण करते हैं।
 - 2. केवल निष्कर्ष II और III अनुसरण करते हैं।
 - 3. सभी निष्कर्ष अनुसरण करते हैं।
 - 4. केवल निष्कर्ष I और II अनुसरण करते हैं।

Question ID :6549785201
Status : Answered
Chosen Option : 3

- Q.23 'A # B' का अर्थ है कि 'A, B की बहन है'
'A @ B' का अर्थ है कि 'A, B का पति है'
'A & B' का अर्थ है कि 'A, B का भाई है'
'A % B' का अर्थ है कि 'A, B का पुत्र है'

निम्न में से किस व्यंजक का अर्थ है कि 'U, D की मां है'?

- Ans
- 1. U & S # K % Z @ D
 - 2. D & S # K % Z @ U
 - 3. D % S # K & Z @ U
 - 4. D & S # K % U @ Z

Question ID : 6549785200
Status : Answered
Chosen Option : 2

- Q.24 निम्नलिखित श्रृंखला में प्रश्न चिह्न (?) के स्थान पर आने वाले अक्षर समूह का चयन करें।
CUG, ?, ESI, FRJ, GQK

- Ans
- 1. DTH
 - 2. DVH
 - 3. DTI
 - 4. DRH

Question ID : 6549785179
Status : Answered
Chosen Option : 1

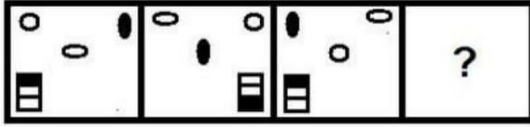
- Q.25 दिए गए पैटर्न का ध्यानपूर्वक अध्ययन करें और उस संख्या का चयन करें जिससे प्रश्न चिह्न (?) को बदला जा सकता है।

7 14 144
11 16 234
12 ? 266

- Ans
- 1. 17
 - 2. 19
 - 3. 18
 - 4. 20

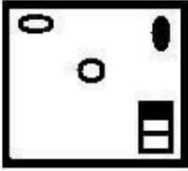
Question ID : 6549785218
Status : NotAnswered
Chosen Option : --

Q.26 उस आकृति का चयन करें जो निम्नलिखित आकृति श्रृंखला में प्रश्नवाचक चिन्ह के स्थान पर आएगी।

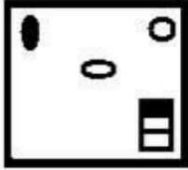


Ans

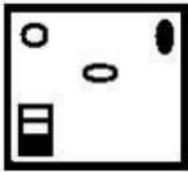
✗ 1.



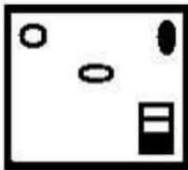
✗ 2.



✗ 3.



✓ 4.



Question ID : 6549785223

Status : Answered

Chosen Option : 4

Q.27 नीचे दिए गए चार अक्षर-समूहों में से तीन किसी न किसी प्रकार समान हैं और एक भिन्न है। भिन्न अक्षर-समूह का चयन करें।

Ans

✗ 1. HSY

✓ 2. FUB

✗ 3. DWC

✗ 4. KPV

Question ID : 6549785185

Status : Answered

Chosen Option : 2

Q.28 सुयश बिंदु A से चलना प्रारंभ करता है और दक्षिण-पूर्व की ओर 130 m जाता है। प्रदीप बिंदु B से चलना प्रारंभ करता है और दक्षिण-पश्चिम की ओर 130 m जाता है। ये दूरियां तय करने के बाद, वे दोनों बिंदु C पर मिलते हैं। बिंदु D इस तरह स्थित है कि यदि बिंदुओं A और B को एक-दूसरे से एक सीधी रेखा द्वारा मिलाया जाए, तो बिंदु D उस रेखा का मध्यबिंदु होगा। बिंदुओं C और D के मध्य की दूरी 120 m है। तो बिंदुओं A और B के मध्य की दूरी ज्ञात कीजिए।

- Ans
- 1. 120 m
 - 2. 80 m
 - 3. 50 m
 - 4. 100 m

Question ID : 6549785220

Status : Answered

Chosen Option : 4

Q.29 80 विद्यार्थियों में से 24 रसायन विज्ञान में उत्तीर्ण हुए, 35 भौतिकी में उत्तीर्ण हुए और 29 गणित में उत्तीर्ण हुए। 8 विद्यार्थी परीक्षा में नहीं बैठे। यदि 2 विद्यार्थी सभी तीनों विषयों में उत्तीर्ण हुए, 2 विद्यार्थी भौतिकी व रसायन विज्ञान दोनों में उत्तीर्ण हुए लेकिन गणित में उत्तीर्ण नहीं हुए, 2 विद्यार्थी रसायन विज्ञान व गणित दोनों में उत्तीर्ण हुए लेकिन भौतिकी में उत्तीर्ण नहीं हुए, 8 विद्यार्थी भौतिकी व गणित दोनों में उत्तीर्ण हुए लेकिन रसायन विज्ञान में उत्तीर्ण नहीं हुए, तो कितने विद्यार्थी केवल गणित में उत्तीर्ण हुए?

- Ans
- 1. 18
 - 2. 20
 - 3. 19
 - 4. 17

Question ID : 6549785209

Status : Answered

Chosen Option : 4

Q.30 उस विकल्प का चयन करें जो तीसरे पद से उसी प्रकार संबंधित हो जिस प्रकार दूसरा पद पहले पद से संबंधित है।
MONDAY : RJSIVD :: TROUBLE : ?

- Ans
- 1. YVJPFQZ
 - 2. CWJQGQZ
 - 3. YWJPGQZ
 - 4. XWJPFQJ

Question ID : 6549785189

Status : Answered

Chosen Option : 3

Q.31 निम्नलिखित श्रृंखला में प्रश्न चिह्न (?) के स्थान पर आने वाली संख्या का चयन करें।
78, 93, ?, 153, 198, 253

- Ans
- 1. 119
 - 2. 127
 - 3. 111
 - 4. 118

Question ID : 6549785204
Status : Answered
Chosen Option : 4

Q.32 निम्नलिखित श्रृंखला में प्रश्न चिह्न (?) के स्थान पर आने वाले अक्षर समूह का चयन करें।
PERFORM, ODQGPSN, NCPHQTO, MBOIRUP, ?

- Ans
- 1. LANJRTO
 - 2. LANHRUP
 - 3. LANHSUQ
 - 4. LANJSVQ

Question ID : 6549785180
Status : Answered
Chosen Option : 3

Q.33 दिए गए पैटर्न का ध्यानपूर्वक अध्ययन करें और उस संख्या का चयन करें जिससे प्रश्न चिह्न (?) को बदला जा सकता है।

4 3 6
3 5 3
337 706 ?

- Ans
- 1. 1456
 - 2. 895
 - 3. 1123
 - 4. 1377

Question ID : 6549785216
Status : Answered
Chosen Option : 4

Q.34 15 सितंबर, 2005 को सप्ताह का कौन सा दिन था?

- Ans
- 1. मंगलवार
 - 2. बुधवार
 - 3. गुरुवार
 - 4. शुक्रवार

Question ID : 6549785210
Status : NotAnswered
Chosen Option :--

Q.35 दिए गए पैटर्न का ध्यानपूर्वक अध्ययन करें और उस संख्या का चयन करें जिससे प्रश्न चिह्न (?) को बदला जा सकता है।

11 29 22
17 23 ?
112 208 156

- Ans
- 1. 20
 - 2. 17
 - 3. 26
 - 4. 16

Question ID : 6549785215
Status : Answered
Chosen Option : 2

Q.36 दिए गए पैटर्न का ध्यानपूर्वक अध्ययन करें और उस संख्या का चयन करें जिससे प्रश्न चिह्न (?) को बदला जा सकता है।

12 16 32
24 36 288
37 49 ?

- Ans
- 1. 288
 - 2. 178
 - 3. 188
 - 4. 278

Question ID : 6549785217
Status : Answered
Chosen Option : 1

Q.37 एक कक्षा में 24 विद्यार्थियों ने विनीत से ज्यादा अंक प्राप्त किए जबकि 19 विद्यार्थियों ने सुरभि से कम अंक प्राप्त किए। आरती ने सुरभि से अधिक अंक प्राप्त किए, लेकिन उसे विनीत से कम अंक मिले। आरती के अंक 29 विद्यार्थियों से कम थे और 26 विद्यार्थियों से अधिक थे। कक्षा में कुल कितने विद्यार्थी हैं?

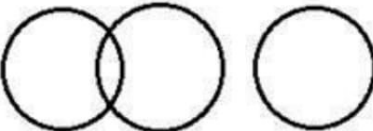
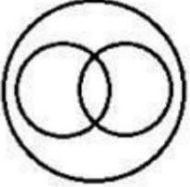
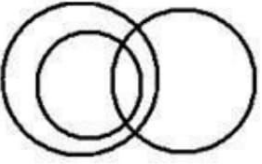

- Ans
- 1. 57
 - 2. 56
 - 3. 55
 - 4. 54

Question ID : 6549785193
Status : Answered
Chosen Option : 2

Q.38 निम्नांकित विकल्पों में से उस वेन आरेख का चयन करें जो निम्नलिखित वर्गों के बीच संबंधों को सर्वोत्तम रूप से दर्शाता है?

अनाज, गेहूं, हींग

Ans

- 1. 
- 2. 
- 3. 
- 4. 

Question ID : 6549785227
Status : Answered
Chosen Option : 4

Q.39 सुमोना ने एक महिला का परिचय कराते हुए कहा, 'वह मेरे ससुर की पत्नी के इकलौते पुत्र की पुत्री के भाई के पिता की बहन हैं। सुमोना के ससुर का उस महिला से क्या संबंध है?

- Ans
- 1. पिता
 - 2. ससुर
 - 3. देवर / जीजा
 - 4. चाचा

Question ID : 6549785198
Status : Answered
Chosen Option : 1

Q.40 उस संख्या को चुनें जो तीसरी संख्या से उसी प्रकार संबंधित है जिस प्रकार दूसरी संख्या पहली संख्या से संबंधित है।
45 : 41 :: 27 : ?

- Ans
- 1. 49
 - 2. 57
 - 3. 78
 - 4. 53

Question ID : 6549785211
Status : Answered
Chosen Option : 4

Q.41 एक नियत कूट भाषा में, 'OCTAGRAM' को 'ACOTAGMR' लिखा जाता है। उसी कूट भाषा में 'GRACEFUL' को क्या लिखा जाएगा?

- Ans
- 1. ACGREFUL
 - 2. URLGACEF
 - 3. ACGREFLU
 - 4. ACEFGLRU

Question ID : 6549785191
Status : Marked For Review
Chosen Option : 2

Q.42 उस विकल्प आकृति का चयन कीजिए जो दी गई आकृति में उसके भाग के रूप में अंतर्निहित है (घुमाने की अनुमति नहीं है)।



Ans

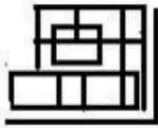
✗ 1.



✗ 2.



✗ 3.



✓ 4.



Question ID : 6549785224

Status : Answered

Chosen Option : 4

Q.43 निम्नलिखित श्रृंखला में प्रश्न चिह्न (?) के स्थान पर आने वाली संख्या का चयन करें।
47, 85, 135, 199, 281, ?

Ans

✓ 1. 387

✗ 2. 318

✗ 3. 369

✗ 4. 335

Question ID : 6549785207

Status : Answered

Chosen Option : 1

Q.44 निम्नलिखित श्रृंखला में प्रश्न चिह्न (?) के स्थान पर आने वाली संख्या का चयन करें।
32, ?, 132, 267, 538

- Ans
- 1. 75
 - 2. 53
 - 3. 65
 - 4. 97

Question ID : 6549785206
Status : Answered
Chosen Option : 3

Q.45 एक कागज को उस तरह से मोड़ा और काटा गया है जैसे कि चित्र में दिखाया गया है। इस मुड़े हुए कागज को खोलने पर यह कैसा दिखेगा?



- Ans
- 1.
 - 2.
 - 3.
 - 4.

Question ID : 6549785225
Status : Answered
Chosen Option : 1

Q.46 उस विकल्प का चयन करें जो तीसरे पद से उसी प्रकार संबंधित हो जिस प्रकार दूसरा पद पहले पद से संबंधित है।
FRIDGE : EGDIRF :: GROUND : ?

- Ans
- 1. DNOURG
 - 2. DNUOGR
 - 3. DNUORG
 - 4. NEUORG

Question ID : 6549785187
Status : Answered
Chosen Option : 3

Q.47 निम्न समीकरण में किन दो चिन्हों को एक-दूसरे से तथा किन दो संख्याओं को एक-दूसरे से प्रतिस्थापित करने पर समीकरण संतुलित हो जाएगा?

$$24 \div 12 \times 21 - 273 + 14 = 179$$

- Ans
- 1. 14 और 21, \times और $+$
 - 2. 14 और 24, \times और $+$
 - 3. 14 और 21, $+$ और \div
 - 4. 21 और 12, $+$ और \div

Question ID : 6549785214

Status : Answered

Chosen Option : 3

Q.48 यदि दिए गए शब्दों को अंग्रेजी शब्दकोश में पाए जाने वाले क्रम के अनुसार व्यवस्थित किया जाए, तो तीसरे स्थान पर कौन-सा शब्द आएगा?

1. Pectoral
2. Pastry
3. Pastor
4. Passed
5. Passport

- Ans
- 1. Passport
 - 2. Pastry
 - 3. Passed
 - 4. Pastor

Question ID : 6549785182

Status : Answered

Chosen Option : 4

Q.49

दिए गए कथनों और निष्कर्षों को ध्यान से पढ़ें। दिए गए कथनों की जानकारी को सही मानते हुए, भले ही वह सामान्य ज्ञात तथ्यों से भिन्न प्रतीत होती हो, निर्णय कीजिए कि कौन सा/से निष्कर्ष दिए गए कथनों का तार्किक रूप से अनुसरण करता है/करते हैं।

कथन :

सभी वायुयान कारें हैं।

सभी हेलीकॉप्टर कारें हैं।

सभी कारें स्कूटर हैं।

निष्कर्ष :

- I. सभी हेलीकॉप्टर स्कूटर हैं।
- II. कुछ वायुयान हेलीकॉप्टर हैं।
- III. कोई वायुयान हेलीकॉप्टर नहीं है।

Ans

1.

निष्कर्ष II तथा निष्कर्ष I या III में से कोई एक अनुसरण करते हैं।

2. केवल निष्कर्ष I और II अनुसरण करते हैं।

3. केवल निष्कर्ष I और III अनुसरण करते हैं।

4.

निष्कर्ष I तथा निष्कर्ष II या III में से कोई एक अनुसरण करते हैं।

Question ID : 6549785202

Status : Answered

Chosen Option : 4

Q.50 निम्नलिखित श्रृंखला में प्रश्न चिह्न (?) के स्थान पर आने वाले अक्षर समूह का चयन करें।
QZHO, KFBU, ?, YRPG, SXJM

Ans

1. ELVA

2. ELUA

3. EKVA

4. DLUA

Question ID : 6549785181

Status : Answered

Chosen Option : 1

Q.1 नटालइं डयन कां ेसके सं न नल खत मसे कौन थे?

ापक

- Ans
- 1. राजाराममोहन राय
 - 2. मोतीलाल नेह
 - 3. महामागांधी
 - 4. बाल गंगाधर तलक

Question ID : 6549785260

Status : Answered

Chosen Option : 2

Q.2 "यह एक सावक ात त य है क अमीर और कुं वारा आदमी हमेशा एक प नीक तलाश मरहता है", यह नामक पु तक क ारं भक पं (opening line) है?

- Ans
- 1. ाइड एंड ीजू डस
 - 2. ऐमा
 - 3. पसु एणत
 - 4. स स एंडं स सबलट

Question ID : 6549785267

Status : Not Answered

Chosen Option : --

Q.3 वैदा (VEDDA) _____ मपाया जाने वाला एक समुदाय है।

- Ans
- 1. ीलंका
 - 2. नेपाल
 - 3. भूटान
 - 4. यांमार

Question ID : 6549785233

Status : Not Answered

Chosen Option : --

Q.4 _____ को लरैसो टग मोमट अवाड 2000-2020 के वजेता के पम चुना गया था।

- Ans
- 1. युवराज सह
 - 2. वराट कोहली
 - 3. एम.एस. धोनी
 - 4. स च्चनत लकर

Question ID : 6549785275

Status : Answered

Chosen Option : 2

Q.5 वदेशी मुा वनयमन अ धनयम को भारत _____ ता पत कया गयाथा।

म _____ ा
रा

- Ans
- 1. वदेशी मुा करसी अ धनयम
 - 2. वदेशी मुा कोष अ धनयम
 - 3. वदेशी मुा व अ धनयम
 - 4. वदेशी मुा वं धन अ धनयम

Question ID : 6549785236

Status : Answered

Chosen Option : 4

Q.6 भारत में, _____ को भारतीय सं वधान के अंगीकरण के उपल य म सं वधान दवस मनाया जाता है।

- Ans
- 1. 12 अ टूबर
 - 2. 26 नवंबर
 - 3. 26 जनवरी
 - 4. 15 अगत

Question ID : 6549785271

Status : NotAnswered

Chosen Option : --

Q.7 _____ बताता है क गमपानी ठं डे पानी क अपे ा तेजी से जमता है।

- Ans
- 1. पे वा भाव
 - 2. बग बग योरी
 - 3. सूयक्य स ांत
 - 4. ऑ सीजन स ांत

Question ID : 6549785248

Status : Answered

Chosen Option : 1

Q.8 2019 के रसायन व ान के नोबेल वजेता, ोफे सर _____ नोबेल पुर कार पाने वाले स्वाधक आयु के ह।

- Ans
- 1. जॉन गुडइन्फ
 - 2. जोआ चम क
 - 3. जॉज्मथ
 - 4. ेगोरी वटर

Question ID : 6549785263

Status : Answered

Chosen Option : 1