


Stenographer Grade 'C&D' Examination, 2019 | Shift 24-12-2020

Roll Number	
Candidate Name	
Venue Name	
Exam Date	24/12/2020
Exam Time	10:00 AM -12:00 PM
Subject	Stenographer Grade C and D Examination 2019

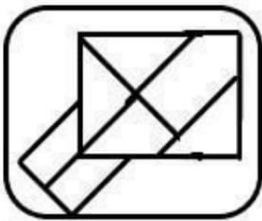
Section : General Intelligence and Reasoning

Q.1 उस विकल्प का चयन करें जिसमें दी गई आकृति अंतर्निहित है (घुमाने की अनुमति नहीं है)।

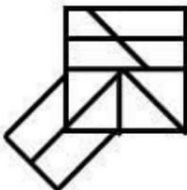


Ans

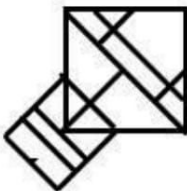
✗ 1.



✗ 2.



✗ 3.



✓ 4.



Question ID : 6549785641

Status : Answered

Chosen Option : 4

Q.2 दिए गए पैटर्न का ध्यानपूर्वक अध्ययन करें और उस संख्या का चयन करें जिससे प्रश्न चिह्न (?) को बदला जा सकता है।

16 36 81

50 42 60

29 27 ?

Ans 1. 37

2. 39

3. 25

4. 21

Question ID : 6549785632

Status : NotAnswered

Chosen Option : --

Q.3 दिए गए पैटर्न का ध्यानपूर्वक अध्ययन करें और उस संख्या का चयन करें जिससे प्रश्न चिह्न (?) को बदला जा सकता है।

27 30 40

15 14 22

36 64 ?

Ans 1. 49

2. 81

3. 121

4. 100

Question ID : 6549785635

Status : NotAnswered

Chosen Option : --

Q.4 छह मित्र A, B, C, D, E और F एक गोल मेज के परितः बैठे हैं। B, D के ठीक बाएँ पड़ोस में बैठा है। C, E के दाएँ तीसरे स्थान पर है। A ठीक C और F के बीच में है। D, E के ठीक बाएँ पड़ोस में बैठा है। A और E के बीच में कौन बैठा है?

Ans 1. B

2. F

3. D

4. C

Question ID : 6549785612

Status : Answered

Chosen Option : 2

Q.5 उस संख्या को चुनें जो तीसरी संख्या से उसी प्रकार संबंधित है जिस प्रकार दूसरी संख्या पहली संख्या से संबंधित है।

65 : 30 :: 78 : ?

- Ans
- 1. 51
 - 2. 24
 - 3. 50
 - 4. 56

Question ID : 6549785628

Status : Answered

Chosen Option : 4

Q.6 एक विशिष्ट कूट भाषा में, 'SCENARIO' को '383514118915' लिखा जाता है। इस कूट भाषा में 'MONUMENT' को क्या लिखा जाएगा?

- Ans
- 1. 261513201351320
 - 2. 261514211351420
 - 3. 131514211351420
 - 4. 261514211351440

Question ID : 6549785609

Status : Answered

Chosen Option : 2

Q.7 निम्नलिखित समीकरण में किन दो चिहनों को परस्पर बदल देने से समीकरण सही हो जाएगा?

$$25 + 14 \times 63 - 870 \div 29 = 383$$

- Ans
- 1. \times और $+$
 - 2. $+$ और $-$
 - 3. $-$ और \div
 - 4. \times और $-$

Question ID : 6549785630

Status : NotAnswered

Chosen Option : --

Q.8 महीप ने अपने कार्यालय से चलना शुरू किया और दक्षिण की ओर 120 m चला। फिर वह बाएँ मुड़ा और A m की एक निश्चित दूरी तक चला। फिर वह दाएँ मुड़ा और 80 m चला। फिर वह बाएँ मुड़ा और B m की दूरी तय की। यह दूरियाँ तय कर वह अपने घर पहुँच गया। यदि महीप के कार्यालय और घर के बीच की न्यूनतम दूरी 290 m है तो उसके द्वारा चली / तय की गई दूरियाँ A और B का योग कितना है?

- Ans
- 1. 230 m
 - 2. 240 m
 - 3. 210 m
 - 4. 200 m

Question ID : 6549785638

Status : Answered

Chosen Option : 3

Q.9 निम्नलिखित में से कौन सा विकल्प उस सही क्रम को दर्शाता है, जिस क्रम में नीचे दिए गए शब्द अंग्रेजी शब्दकोश में होते हैं?

1. Cattle
2. Catering
3. Category
4. Catatonic
5. Catalysis

- Ans
- ✓ 1. 5, 4, 3, 2, 1
 - ✗ 2. 4, 5, 3, 2, 1
 - ✗ 3. 5, 4, 3, 1, 2
 - ✗ 4. 5, 4, 2, 3, 1

Question ID : 6549785601

Status : Answered

Chosen Option : 1

Q.10 उस विकल्प का चयन करें जो निम्नलिखित शब्दों के तार्किक और सार्थक क्रम विन्यास को दर्शाता है।

1. उपयोग करना
2. फसल काटना
3. बीज बोना
4. विक्रय
5. सिंचाई

- Ans
- ✗ 1. 3, 2, 5, 4, 1
 - ✗ 2. 3, 5, 4, 1, 2
 - ✓ 3. 3, 5, 2, 4, 1
 - ✗ 4. 4, 1, 3, 2, 5

Question ID : 6549785599

Status : Answered

Chosen Option : 3

Q.11 प्रीतम ने बिंदु B से चलना शुरू किया और पश्चिम की ओर 40 m चला। फिर वह बाएँ मुड़ा और 35 m चला। फिर वह दाएँ मुड़ा और 25 m चला। हरमीत ने बिंदु A से चलना शुरू किया और पूर्व की ओर 45 m चला। फिर वह दाएँ मुड़ा और 35 m चल कर प्रीतम से मिला। बिंदु A और बिंदु B के बीच कितनी दूरी है?


- Ans
- ✗ 1. 100 m
 - ✗ 2. 70 m
 - ✓ 3. 110 m
 - ✗ 4. 85 m

Question ID : 6549785637

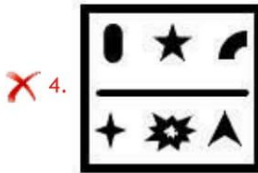

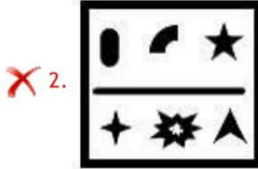

Status : Answered

Chosen Option : 3

Q.12 उस विकल्प आकृति का चयन करें जो निम्न आकृति-श्रृंखला में प्रश्न-चिन्ह (?) के स्थान पर आएगी।



Ans



Question ID : 6549785639

Status : Answered

Chosen Option : 3

Q.13 Read the given statements and conclusions carefully. Assuming that the information given in the statements is true, even if it appears to be at variance with commonly known facts, decide which of the given conclusions logically follow(s) from the statements.

Statements:

- No boat is ship.
- Some ships are rods.

Conclusions:

- I. No boat is rod.
- II. Some rods are ships.
- III. Some rods are not boats.

Ans ✓ 1. Only conclusions II and III follow.

✗ 2. Only conclusion II follows.

✗ 3. All of the conclusions follow.

✗ 4. Only conclusion III follows.

Question ID : 6549785618

Status : Answered

Chosen Option : 1

Q.14 उस विकल्प का चयन करें जो तीसरे पद से उसी प्रकार संबंधित हो जिस प्रकार दूसरा पद पहले पद से संबंधित है।

IDEAS : EJDTB :: FOREX : ?

- Ans 1. PGSFY
 2. PGQYF
 3. PGSYF
 4. GPSYF

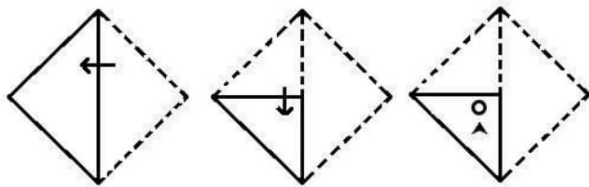
Question ID : 6549785605

Status : Answered

Chosen Option : 2


mpcareer.in

Q.15 किसी पेपर को नीचे दर्शाए गए तरीके से मोड़ा और काटा जाता है। खोलने पर यह कैसा दिखेगा?




Ans


✓ 1.



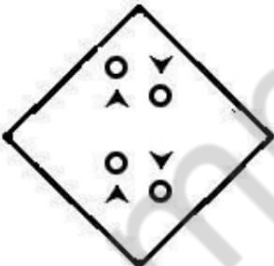
✗ 2.



✗ 3.



✗ 4.



Question ID : 6549785642

Status : Answered

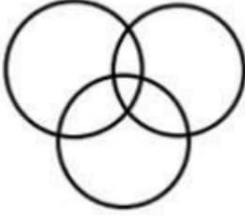
Chosen Option : 1

Q.16 निम्नांकित विकल्पों में से उस वेन आरेख का चयन करें जो निम्नलिखित वर्गों के बीच संबंध को उचित रूप से दर्शाता है?

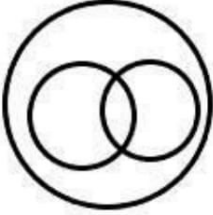
स्तनधारी, इंजीनियर, मनुष्य

Ans

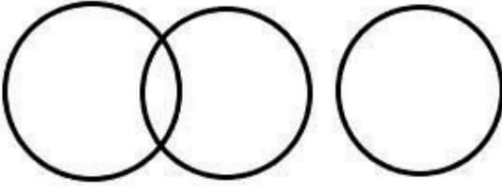
✗ 1.



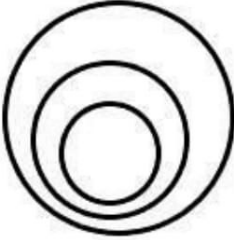
✗ 2.



✗ 3.



✓ 4.



Question ID : 6549785644

Status : Answered

Chosen Option : 4

Q.17 निम्नलिखित श्रृंखला में प्रश्न-चिह्न (?) के स्थान पर आने वाले अक्षर समूह का चयन करें।

AJQ, ETG, IDW, ONM, ?

Ans

✗ 1. VZC

✓ 2. UXC

✗ 3. ZXB

✗ 4. UYB

Question ID : 6549785598

Status : Answered

Chosen Option : 2

Q.18 दिए गए पैटर्न का ध्यानपूर्वक अध्ययन करें और उस संख्या का चयन करें जिससे प्रश्न चिह्न (?) को बदला जा सकता है।

7 18 21

20 15 50

? 42 98

- Ans
- 1. 14
 - 2. 18
 - 3. 16
 - 4. 12

Question ID : 6549785633
Status : NotAnswered
Chosen Option : --

Q.19 उस विकल्प का चयन करें जो तीसरे पद से उसी प्रकार संबंधित हो जिस प्रकार दूसरा पद पहले पद से संबंधित है।

FOSTER : OFTSRE :: LAWYER : ?

- Ans
- 1. ALYREW
 - 2. ALYRWE
 - 3. AYLWRE
 - 4. ALYWRE

Question ID : 6549785604
Status : Answered
Chosen Option : 4

Q.20 Read the given statements and conclusions carefully. Assuming that the information given in the statements is true, even if it appears to be at variance with commonly known facts, decide which of the given conclusions logically follow(s) from the statements.

Statements:

- All chairs are cupboards.
- Some chairs are radios.
- No chair is piano.

Conclusions:

- I. Some radios are cupboards.
- II. Some cupboards are not piano.
- III. Some radios are not piano.

- Ans
- 1. All of the conclusions follow.
 - 2. Only conclusions II and III follow.
 - 3. Only conclusions I and III follow.
 - 4. Only conclusion I follows.

Question ID : 6549785620
Status : Answered
Chosen Option : 1

Q.21 एक विशिष्ट कूट भाषा में, 'CANDID' को 'HMHREG' लिखा जाता है। इस कूट भाषा में 'SENSEX' को क्या लिखा जाएगा?

- Ans
- 1. BIWRIW
 - 2. BIVRIV
 - 3. DIZRIZ
 - 4. CWISIW

Question ID : 6549785608

Status : Answered

Chosen Option : 1

Q.22 170 विद्यार्थियों की एक कक्षा में, 155 विद्यार्थी तीन कक्षाओं, गिटार, ड्रम और वायलिन में से एक या अधिक में भाग लेते हैं। कुल 21 विद्यार्थी इन तीन में केवल किसी दो में भाग लेते हैं। 54 विद्यार्थी केवल ड्रम कक्षा में, जबकि 43 विद्यार्थी केवल वायलिन कक्षा में भाग लेते हैं। 5 विद्यार्थी तीनों कक्षाओं में भाग लेते हैं। कितने छात्र केवल गिटार कक्षा में भाग लेते हैं?

- Ans
- 1. 47
 - 2. 42
 - 3. 32
 - 4. 30

Question ID : 6549785627

Status : Answered

Chosen Option : 3

Q.23 यदि $T > S > K = Y > E = L < V = W$ हो तो निम्न में से कौन सा विकल्प सही नहीं है?

- Ans
- 1. $T > Y$
 - 2. $L < K$
 - 3. $E > T$
 - 4. $E < K$

Question ID : 6549785611

Status : NotAnswered

Chosen Option : --

Q.24 निम्नलिखित श्रृंखला में प्रश्न-चिह्न (?) के स्थान पर आने वाली संख्या का चयन करें।

7, 7, 14, 42, ?, 840

- Ans
- 1. 412
 - 2. 208
 - 3. 318
 - 4. 168

Question ID : 6549785621

Status : Answered

Chosen Option : 4

Q.25 निम्नलिखित समीकरण में किन दो संख्याओं को परस्पर बदल देने से समीकरण सही हो जाएगा?

$$45 + 5 + 15 \times 6 - 14 = 78$$

- Ans
- 1. 45 और 15
 - 2. 5 और 6
 - 3. 5 और 15
 - 4. 14 और 15

Question ID : 6549785629

Status : Answered

Chosen Option : 4

Q.26 यदि दर्पण को चित्र के अनुसार MN पर रखा जाए, तो दिए गए चित्र के सही दर्पण प्रतिबिंब का चयन करें।

t G q 5 4 2 f



- Ans
- 1. j S 4 2 p G t
 - 2. f 2 4 2 p G t
 - 3. f S 4 2 b G t
 - 4. f S 4 2 p G t

Question ID : 6549785643

Status : Answered

Chosen Option : 4

Q.27 निम्नलिखित में से कौन सा विकल्प उस सही क्रम को दर्शाता है, जिस क्रम में नीचे दिए गए शब्द अंग्रेजी शब्दकोश में होते हैं?

1. Master
2. Masonry
3. Massage
4. Masculine
5. Massive

- Ans
- 1. 4, 2, 3, 1, 5
 - 2. 1, 3, 2, 5, 4
 - 3. 4, 2, 5, 3, 1
 - 4. 4, 2, 3, 5, 1

Question ID : 6549785600

Status : Answered

Chosen Option : 4

Q.28 निम्नलिखित श्रृंखला में प्रश्न-चिह्न (?) के स्थान पर आने वाली संख्या का चयन करें।

37, ?, 61, 73, 89, 103, 113

- Ans
- 1. 54
 - 2. 47
 - 3. 40
 - 4. 38

Question ID : 6549785624

Status : Answered

Chosen Option : 2

Q.29 निम्नलिखित श्रृंखला में प्रश्न-चिह्न (?) के स्थान पर आने वाले अक्षर समूह का चयन करें।

KSB, ITA, GUZ, EVY, ?

- Ans
- 1. CWZ
 - 2. CWY
 - 3. CWX
 - 4. BWX

Question ID : 6549785596

Status : Answered

Chosen Option : 3

Q.30 यदि 'A # B' का अर्थ 'A, B की बहन है' और 'A % B' का अर्थ 'A, B की माँ है' तो निम्न में से किस व्यंजक का अर्थ 'P, Q की माँ की बहन है' होगा?

- Ans
- 1. R # Q % P
 - 2. Q % R # P
 - 3. P # R % Q
 - 4. P % R # Q

Question ID : 6549785615
Status : Answered
Chosen Option : 3

Q.31 नीचे दिए गए चार अक्षर-समूहों में से तीन किसी न किसी प्रकार समान हैं और एक भिन्न है। भिन्न अक्षर-समूह का चयन करें।

- Ans
- 1. XECV
 - 2. LSOH
 - 3. PWKD
 - 4. CKXQ

Question ID : 6549785603
Status : Answered
Chosen Option : 4

Q.32 उस विकल्प का चयन करें जो तीसरे पद से उसी प्रकार संबंधित हो जिस प्रकार दूसरा पद पहले पद से संबंधित है।
CELEBRITY : ELECYYTIR :: MONUMENTS : ?

- Ans
- 1. UNOMNSNTE
 - 2. UNOMNSTNE
 - 3. UNOMGSTEN
 - 4. UONMNSTNE

Question ID : 6549785606
Status : Answered
Chosen Option : 2

Q.33 नीरव दक्षिण-पूर्व की ओर अभिमुख है। वह 135° दक्षिणावर्त घूम जाता है। इसके बाद वह 90° वामावर्त घूमता है। अब वह 225° दक्षिणावर्त घूमता है। अब वह किस दिशा की ओर अभिमुख है?

- Ans
- 1. उत्तर-पश्चिम
 - 2. उत्तर-पूर्व
 - 3. दक्षिण-पश्चिम
 - 4. उत्तर

Question ID : 6549785636
Status : Answered
Chosen Option : 2

Q.34 गणितीय चिहनों के निम्नलिखित अनुक्रम पर विचार करें:

-, ×, +, ÷, =

निम्नलिखित में से किस समीकरण में यदि '+' को उपरोक्त क्रम में गणितीय चिहनों से परिवर्तित कर दिया जाए, तो समीकरण को उचित रूप से हल किया जा सकेगा?

- Ans
- 1. $84 * 15 * 5 * 435 * 8 * 73$
 - 2. $84 * 8 * 15 * 435 * 5 * 73$
 - 3. $84 * 8 * 5 * 435 * 15 * 73$
 - 4. $73 * 8 * 5 * 435 * 15 * 84$

Question ID : 6549785631

Status : Answered

Chosen Option : 3

Q.35 किसी विशिष्ट कूट भाषा में, 'she ate food' को 'sar par zar', 'food is tasty' को 'zar gar rar' और 'he is fast' को 'rar lar par' लिखा जाता है। इस कूट भाषा में 'tasty' शब्द का कूट क्या होगा?

- Ans
- 1. rar
 - 2. या तो zar या rar
 - 3. gar
 - 4. zar

Question ID : 6549785607

Status : Answered

Chosen Option : 3

Q.36 'A + B' का अर्थ है 'A, B की माँ है'।

'A - B' का अर्थ है 'A, B का पति है'।

'A × B' का अर्थ है 'A, B का पिता है'।

'A ÷ B' का अर्थ है 'A, B की बेटी है'।

अतः यदि हम $S + Z - R ÷ H - P + U × M$ पर विचार करें, तो निम्न में से कौन सा कथन सही नहीं होगा?

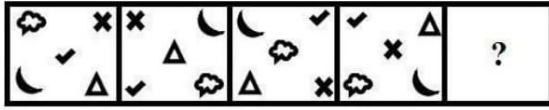
- Ans
- 1. S, R की सास है।
 - 2. U, S का बेटा है।
 - 3. P, R की माँ है।
 - 4. H, M के दादा हैं।

Question ID : 6549785617


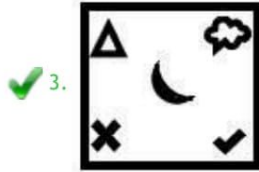
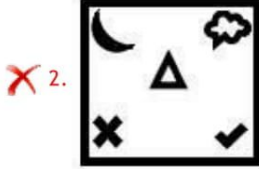
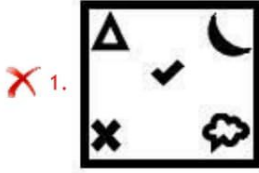
Status : Answered

Chosen Option : 2

Q.37 उस विकल्प आकृति का चयन करें जो निम्न आकृति-श्रृंखला में प्रश्न-चिह्न (?) के स्थान पर आएगी।



Ans



Question ID : 6549785640

Status : Answered

Chosen Option : 2

Q.38 निम्नलिखित श्रृंखला में प्रश्न-चिह्न (?) के स्थान पर आने वाली संख्या का चयन करें।

28, 27, 52, 153, ?

Ans ✗ 1. 616

✗ 2. 603

✗ 3. 612

✓ 4. 608

Question ID : 6549785623

Status : Answered

Chosen Option : 4

Q.39 निम्नलिखित श्रृंखला में प्रश्नचिहनों (?) के स्थान पर आने वाली संख्याओं का चयन करें।

35, 34, 42, 36, 50, 40, ?, ?, 69, 54

- Ans
- 1. 42, 48
 - 2. 59, 46
 - 3. 56, 42
 - 4. 55, 45

Question ID : 6549785622

Status : Answered

Chosen Option : 2

Q.40 निम्नलिखित श्रृंखला में प्रश्न-चिह्न (?) के स्थान पर आने वाले अक्षर समूह का चयन करें।

QKL, XHP, EET, ?, SYB

- Ans
- 1. LBX
 - 2. LCX
 - 3. KBY
 - 4. KCY

Question ID : 6549785597

Status : Answered

Chosen Option : 1

Q.41 सोमवार से शनिवार तक भौतिकी, रसायन विज्ञान, जीवविज्ञान, पारिस्थितिकी, हिंदी और अंग्रेजी, ये छह विषय पढ़ाए जाते हैं। प्रत्येक दिन, एक विषय पढ़ाया जाता है। पारिस्थितिकी के ठीक बाद और अंग्रेजी से ठीक पहले हिंदी पढ़ाई जाती है। अंग्रेजी के बाद जीव विज्ञान पढ़ाई जाती है। भौतिकी और पारिस्थितिकी क्रमशः मंगलवार और बुधवार को पढ़ाई जाती है। सोमवार को कौन सा विषय पढ़ाया जाता है?

- Ans
- 1. अंग्रेजी
 - 2. रसायन
 - 3. जीवविज्ञान
 - 4. हिंदी

Question ID : 6549785610

Status : Answered

Chosen Option : 2

Q.42 नीचे दिए गए चार अक्षर-समूहों में से तीन किसी न किसी प्रकार समान हैं और एक भिन्न है। भिन्न अक्षर-समूह का चयन करें।

- Ans
- 1. QUYC
 - 2. WADH
 - 3. DHLP
 - 4. LPTX

Question ID : 6549785602
Status : Answered
Chosen Option : 2

Q.43 वेदिका, गौरव की पत्नी है। मीता, मालती की बेटी है। यशवंत, भुवन का बेटा है। प्रियंक, रोहन की माँ का पति है। भुवन, मीता के दादा हैं। रोहन, वेदिका के भाई का बेटा है। गौरव, कादंबिनी की बेटी का पति है। रोहन, मीता का भाई है। निम्नलिखित में से कौन सा कथन सही नहीं है?

- Ans
- 1. वेदिका यशवंत की बहन है।
 - 2. वेदिका भुवन की बेटी है।
 - 3. मालती भुवन के बेटे की पत्नी है।
 - 4. यशवंत, प्रियांक और गौरव भुवन के बेटे हैं।

Question ID : 6549785616
Status : Answered
Chosen Option : 4

Q.44 छह वस्तुओं P, Q, R, S, T और U में से, Q का मूल्य T के मूल्य का 1.5 गुना है। U का मूल्य P के मूल्य का चार गुना है। S का मूल्य R के मूल्य के बराबर है। P का मूल्य R के मूल्य का 3.5 गुना है। T का मूल्य R के मूल्य का दो गुना है। P का मूल्य ₹70 है। Q का मूल्य क्या है?

- Ans
- 1. ₹50
 - 2. ₹80
 - 3. ₹60
 - 4. ₹280

Question ID : 6549785614
Status : Answered
Chosen Option : 3

Q.45 आठ घरों A, B, C, D, E, F, G और H में से, चार घर एक वर्गाकार बगीचे के कोनों पर स्थित हैं। शेष चार घर वर्ग की प्रत्येक भुजा के मध्य में स्थित हैं। सभी घरों का मुख्यद्वार वर्ग के केंद्र की ओर है। B ठीक A और H के बीच में है। F, G के बाएँ पड़ोस में है। D, C के बाएँ पड़ोस में है और C, F के बाएँ पड़ोस में है। B और F आमने-सामने की दो भुजाओं के मध्य में हैं। D, H का निकटवर्ती नहीं है। कौन से चार घर कोनों पर स्थित हैं?

- Ans
- 1. A, C, D और G
 - 2. A, C, G और H
 - 3. A, D, G और H
 - 4. C, D, E और G

Question ID : 6549785613
Status : Answered
Chosen Option : 2

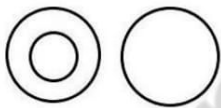
Q.46 निम्न समीकरण को सही करने के लिए किन दो चिन्हों को एक-दूसरे से तथा किन दो संख्याओं को एक-दूसरे से बदलना होगा:

$$17 - 8 + 2 \times 6 \div 3 = 3$$

- Ans
- 1. \times और \div ; 17 और 8
 - 2. $+$ और \times ; 2 और 8
 - 3. $-$ और \div ; 6 और 3
 - 4. \times और $-$; 8 और 6

Question ID : 6549785634
Status : Answered
Chosen Option : 2

Q.47 निम्नांकित वेन आरेख निम्नलिखित में से किस विकल्प में दिए गए वर्गों के बीच संबंध का उचित निरूपण करता है?



- Ans
- 1. ठोस, गैस, दूध
 - 2. पुरुष, महिलाएं, बच्चे
 - 3. पिता, माता, सहोदर
 - 4. गैस, द्रव, दूध

Question ID : 6549785645
Status : Answered
Chosen Option : 4

Q.48 Read the given statements and conclusions carefully. Assuming that the information given in the statements is true, even if it appears to be at variance with commonly known facts, decide which of the given conclusions logically follow(s) from the statements.

Statements:

- Some fans are coolers.
- All coolers are equipment.
- Some equipment are mobiles.

Conclusions:

- I. Some equipment are fans.
- II. Some mobiles are fans.
- III. No equipment is fan and cooler both.

- Ans
- 1. Only conclusion II follows.
 - 2. Only conclusions I and III follow.
 - 3. Only conclusions II and III follow.
 - 4. Only conclusion I follows.

Question ID : 6549785619
Status : Answered
Chosen Option : 4

Q.49 यदि 26 मार्च 2006 को रविवार था, तो 26 मार्च 2004 को कौन सा दिन था?

- Ans
- 1. रविवार
 - 2. गुरुवार
 - 3. शुक्रवार
 - 4. शनिवार

Question ID : 6549785625
Status : NotAnswered
Chosen Option : --

Q.50 4 वर्ष पूर्व, A की आयु B की आयु की दोगुनी थी। 6 वर्ष पश्चात, C की आयु A की आयु की दोगुनी होगी। A की वर्तमान आयु, B की वर्तमान आयु से 10 वर्ष अधिक है। C की वर्तमान आयु कितनी है?

- Ans
- 1. 34 वर्ष
 - 2. 50 वर्ष
 - 3. 54 वर्ष
 - 4. 74 वर्ष

Question ID : 6549785626
Status : NotAnswered
Chosen Option : --

Q.1 न न ल खत मसे कस खमीर (yeasts) का उपयोग मादक पेय पदार्थ के नमाणमकया जाता है?

- Ans
- 1. सै ओमाइसेस सेरे वज़्या (Saccharomyces cerevisiae)
 - 2. टोकोकस नेफोमस (Cryptococcus neoformans)
 - 3. प च्यापा ट रस (Pichia pastoris)
 - 4. लुवेरोमय सस लै टस (Kluyveromyces lactis)

Question ID : 6549785664

Status : Not Answered

Chosen Option : --

Q.2 _____, भगवान कृष्ण के जीवन पर आधारित लोकसंगीत रंगमंच का एक प है।

- Ans
- 1. माच
 - 2. रासलीला
 - 3. नौटंकि
 - 4. तमाशा

Question ID : 6549785647

Status : Answered

Chosen Option : 2

Q.3 भारतीय तभू त और वनमय बोड (SEBI) क ापना वष 1988 म एक गैर-सां व धक नकाय के प म ईी, इसके बाद इसे _____ म सां व धक नकाय के प म ा पत कया गया।

- Ans
- 1. 1994
 - 2. 1992
 - 3. 1995
 - 4. 1993

Question ID : 6549785652

Status : Answered

Chosen Option : 2

Q.4 1 अ ैल 2020 से न न ल खत मसे कस ब क का वलय इं डयन ब क म कर दया गया।

- Ans
- 1. इलाहाबाद ब क
 - 2. ब क ऑफ इं डया
 - 3. इं डयन ओवरसीज ब क
 - 4. के नरा ब क

Question ID : 6549785653

Status : Answered

Chosen Option : 1

Q.5 बूरीबूट उलोअ णाचल देश क _____ जनजा तारा मनाया जाने वाला योहार है।

- Ans
- 1. अनगामी
 - 2. लोथा
 - 3. नश
 - 4. सूमी

Question ID : 6549785650

Status : Not Answered

Chosen Option : --

Q.6 _____, a book written by Chitra Banerjee Divakaruni, is a reimagining of the Mahabharat – told from the point of view of Panchaali or Draupadi.

- Ans
- 1. Yudhishtir and Draupadi
 - 2. After Kurukshetra
 - 3. The Palace of Illusions
 - 4. Yajnaseni: The Story of Draupadi

Question ID : 6549785684

Status : Answered

Chosen Option : 1

Q.7 भारतीय संवधान का अनु ंद _____, 'जीवन और गत वतं ताक सुर ा' ('protection of life and personal liberty') दान करता है।

- Ans
- 1. 21
 - 2. 23
 - 3. 16
 - 4. 19

Question ID : 6549785689

Status : Answered

Chosen Option : 1

Q.8 न नल खत मसे कौन सा कथन पूंजीगत य/यके संबंघ मसहीनह है? Ans

- 1. पूंजीगत य एक से अ धक लेखांकन कको लाभा वत करता है।
- 2. पूंजीगत य एक से अ धक लेखांकन अव धमव ता रत होते ह।
- 3. पूंजीगत य को ापार तथा लाभ और हान खाते म ानांत रत कया जा सकता है।
- 4. कसी भी वसाय के संचालन के लए न त प रसंप हा सल करने के लए पूंजीगत य कया जाता है।

Question ID : 6549785655

Status : Not Answered

Chosen Option : --