

Stenographer Grade 'C' & 'D' Examination, 2019 III Shift 23-12-2020

Roll Number	
Candidate Name	
Venue Name	
Exam Date	23/12/2020
Exam Time	3:00 P M - 5:00 P M
Subject	Stenographer Grade C and D Examination 2019

Section : General Intelligence and Reasoning

Q.1 दिए गए कथनों और निष्कर्षों को ध्यानपूर्वक पढ़ें। यह मानते हुए कि कथनों में दी गई जानकारी सत्य है, भले ही यह सामान्यतया ज्ञात तथ्यों से भिन्न प्रतीत होती हो, निर्णय करें दिए गए निष्कर्षों में से कौन से निष्कर्ष कथनों का तार्किक रूप से अनुसरण करते हैं।

कथन:

सभी चेन कांच हैं।  
सभी कांच मेज हैं।

निष्कर्ष:

I. कुछ कांच चेन हैं।  
II. कुछ मेज कांच हैं।

- Ans
- 1. दोनों निष्कर्ष I और II अनुसरण करते हैं।
  - 2. केवल निष्कर्ष II अनुसरण करता है।
  - 3. केवल निष्कर्ष I अनुसरण करता है।
  - 4. न तो निष्कर्ष I न ही II अनुसरण करता है।

Question ID : 6549785413  
Status : Answered  
Chosen Option : 1

Q.2 सुशाला और माला बहनें हैं। उनकी माँ महादेवी का एक भाई है जिसका नाम विंधु है। विंधु का विवाह सारु से हुआ है। सारु के दो पुत्र, देव और राम हैं। भीम सारु के ससुर हैं। भीम का माला से क्या संबंध है?

- Ans
- 1. चाचा
  - 2. नाना
  - 3. पिता
  - 4. जीजा

Question ID : 6549785411  
Status : Answered  
Chosen Option : 2

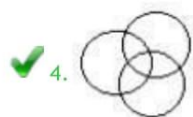
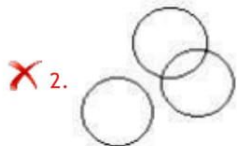
Q.3 उस संख्या का चयन करें जो निम्नलिखित श्रृंखला में प्रश्न चिह्न (?) के स्थान पर आएगी।  
12, 2, 24, 3, 72, 4, ?

- Ans
- 1. 198
  - 2. 202
  - 3. 336
  - 4. 288

Question ID : 6549785418  
Status : Answered  
Chosen Option : 4

Q.4 उस वेन आरेख का चयन करें जिसमें नीचे दिए गए वर्गों के बीच संबंधों को सबसे बेहतर ढंग से दर्शाया गया है।  
सैनिक, लेखक, पुरुष

Ans



Question ID : 6549785440  
Status : Answered  
Chosen Option : 1

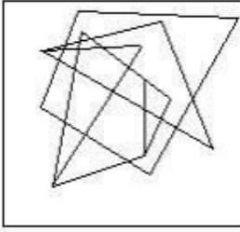
mpcareer.in

Q.5 उस विकल्प का चयन करें जिसमें दी गई आकृति अंतर्निहित है (घुमाने की अनुमति नहीं है)।

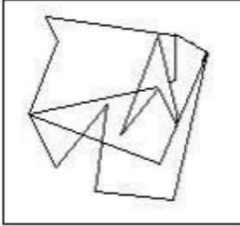


Ans

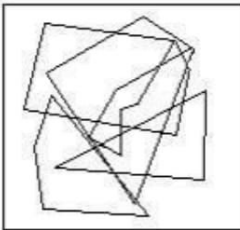
✓ 1.



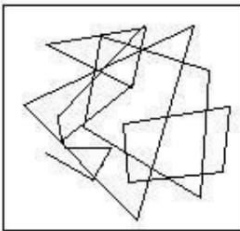
✗ 2.



✗ 3.



✗ 4.



Question ID : 6549785436

Status : Answered

Chosen Option : 2

Q.6 निम्नलिखित शब्दों को उस क्रम में व्यवस्थित करें जिस क्रम में वे अंग्रेजी शब्दकोश में होते हैं।

1. Spark
2. Smile
3. Style
4. Smart
5. Sales

Ans

✗ 1. 1, 3, 5, 2, 4

✗ 2. 4, 3, 1, 2, 5

✗ 3. 5, 2, 3, 4, 1

✓ 4. 5, 4, 2, 1, 3

Question ID : 6549785395

Status : Answered

Chosen Option : 4

Q.7 उस संख्या का चयन करें जिसका तीसरी संख्या से वही संबंध है जो संबंध दूसरी संख्या का पहली संख्या से है।  
2931 : 27 :: 5142 : ?

- Ans
- 1. 70
  - 2. 10
  - 3. 20
  - 4. 55


Question ID : 6549785423  
Status : NotAnswered  
Chosen Option: --

Q.8 बिंदु A से आरंभ करते हुए, एक जानवर पूर्व की ओर 15 m चला। अब वह बाएं मुड़ा और 25 m चला। अब यह दाएँ मुड़ा और 10 m चला। फिर वह बाएँ मुड़ा और 15 m चला। आखिरकार, वह बाएँ मुड़ा और 25 m चला। जानवर अब अपने आरंभिक बिंदु A से कितनी दूर और किस दिशा में है?

- Ans
- 1. 40 m, उत्तर
  - 2. 25 m, पूर्व
  - 3. 40 m, दक्षिण
  - 4. 25 m, पश्चिम

Question ID : 6549785431  
Status : Answered  
Chosen Option: 1

Q.9 यदि दर्पण को नीचे दर्शायी गई रेखा AB पर रखा जाए तो दी गई आकृति के सही दर्पण प्रतिबिंब का चयन करें।



- Ans
- 1.
  - 2.
  - 3.
  - 4.

Question ID : 6549785438  
Status : Answered  
Chosen Option: 3

Q.10 यदि '+' का अर्थ 'से विभाजित', '-' का अर्थ 'योग', '×' का अर्थ 'घटाना' और '÷' का अर्थ 'गुणा' है, तो निम्न व्यंजक का मान क्या होगा?

$$[(18 \times 16) - (5 \div 2)] + (5 - 1) \div 1$$

- Ans
- 1. 2
  - 2. 4
  - 3. 3
  - 4. 1

Question ID : 6549785425  
Status : Answered  
Chosen Option: 1

Q.11 किसी निश्चित कूट भाषा में, 'GATHER' को 'DDQKBU' के रूप में लिखा जाता है। उसी कूट भाषा में 'SLIDE' को कैसे लिखा जाएगा?

- Ans
- 1. POFAH
  - 2. VILAH
  - 3. VILAB
  - 4. POFGB

Question ID : 6549785403  
Status : Answered  
Chosen Option: 4

Q.12 गणितीय चिहनों के उस सही संयोजन का चयन करें जिन्हें निम्नलिखित समीकरण को संतुलित करने के लिए Y के स्थानों पर रखा जा सकता है।

$$16 Y 2 Y 3 Y 6 Y 4$$

- Ans
- 1. ×, ÷, =, -
  - 2. ×, =, -, ÷
  - 3. ÷, ×, =, -
  - 4. ÷, ×, =, ×

Question ID : 6549785426  
Status : Answered  
Chosen Option: 4

Q.13 उस अक्षर-समूह का चयन करें जो निम्नलिखित श्रृंखला में प्रश्न चिह्न (?) के स्थान पर आएगा।

GH, JI, NJ, SK, YL, ?

- Ans
- 1. HO
  - 2. FM
  - 3. EM
  - 4. GN

Question ID : 6549785391  
Status : Answered  
Chosen Option: 2

Q.14 उस संख्या का चयन करें जो निम्नलिखित श्रृंखला में प्रश्न चिह्न (?) के स्थान पर आएगी।  
8, 17, 36, 75, 154, ?

- Ans
- 1. 313
  - 2. 320
  - 3. 308
  - 4. 300

Question ID : 6549785419  
Status : Answered  
Chosen Option: 1



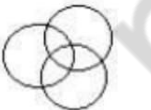

Q.15 दिए गए पैटर्न को ध्यानपूर्वक पढ़ें और उस संख्या का चयन करें जो इसमें प्रश्न चिह्न (?) के स्थान पर आ सकती है।

14	9	7
7	4	5
?	10	4

- Ans
- 1. 22
  - 2. 26
  - 3. 14
  - 4. 10

Question ID : 6549785430  
Status : Not Answered  
Chosen Option: --

Q.16 उस वेन आरेख का चयन करें जिसमें नीचे दिए गए वर्गों के बीच संबंधों को सबसे बेहतर ढंग से दर्शाया गया है।  
चेन्नई, भारत, एशिया

- Ans
- 1. 
  - 2. 
  - 3. 
  - 4. 

Question ID : 6549785439  
Status : Answered  
Chosen Option: 2

Q.17 J, K, L, M, N और O एक एनजीओ में काम करने वाले छः सहकर्मी हैं। J की आय L की तुलना में अधिक लेकिन M की तुलना में कम है। K की आय J की तुलना में अधिक लेकिन N की तुलना में कम है। N की आय O की तुलना में कम लेकिन M की तुलना में अधिक है। K की आय M की तुलना में कम है। छहों सहकर्मियों में किसकी आय सबसे अधिक है?

- Ans
- 1. M
  - 2. O
  - 3. K
  - 4. N

Question ID : 6549785405  
Status : Answered  
Chosen Option : 2

Q.18 उस विकल्प का चयन करें जिसका तीसरे पद से वही संबंध है, जो संबंध दूसरे पद का पहले पद से है।  
GDC : AEY :: RON : ?

- Ans
- 1. LPJ
  - 2. LPG
  - 3. MPJ
  - 4. MPK

Question ID : 6549785401  
Status : Answered  
Chosen Option : 1

Q.19 कुछ निश्चित वस्तु की कीमत में प्रति वर्ष 20% की कमी होती है। वस्तु तीन वर्ष पहले खरीदी गई थी। यदि इसकी वर्तमान कीमत ₹10,000 है, तो वस्तु का खरीद मूल्य लगभग कितना था?

- Ans
- 1. ₹18,145
  - 2. ₹25,000
  - 3. ₹19,531
  - 4. ₹15,237

Question ID : 6549785422  
Status : Answered  
Chosen Option : 3

Q.20 निम्नलिखित शब्दों को उस क्रम में व्यवस्थित करें जिस क्रम में वे अंग्रेजी शब्दकोश में होते हैं।

1. Delta
2. Delicious
3. Depend
4. Daffodil
5. Demography

- Ans
- 1. 5, 1, 3, 4, 2
  - 2. 4, 1, 2, 3, 5
  - 3. 4, 2, 1, 5, 3
  - 4. 4, 5, 1, 2, 3

Question ID : 6549785396  
Status : Answered  
Chosen Option : 3

Q.21 उस संख्या का चयन करें जो निम्नलिखित श्रृंखला में प्रश्न चिह्न (?) के स्थान पर आएगी।  
7, 8, 12, 21, 37, ?

- Ans
- 1. 64
  - 2. 62
  - 3. 68
  - 4. 60

Question ID : 6549785416  
Status : Answered  
Chosen Option : 2

Q.22 रमा की उंचाई साहो की तुलना में अधिक है। मनोज की उंचाई दिनेश की तुलना में कम है। दिनेश की उंचाई तारा की तुलना में अधिक लेकिन साहो की तुलना में कम है। कैलाश की उंचाई तारा की तुलना में कम लेकिन मनोज की तुलना में अधिक है। तारा की उंचाई साहो की तुलना में कम है। किसकी उंचाई सबसे कम है?

- Ans
- 1. तारा
  - 2. दिनेश
  - 3. कैलाश
  - 4. मनोज

Question ID : 6549785406  
Status : Answered  
Chosen Option : 4

Q.23 बारहवीं कक्षा के पांच विद्यार्थी A, B, C, D और E अपनी वार्षिक परीक्षा दे रहे हैं। विद्यार्थी A ने अपनी परीक्षा विद्यार्थी B से पहले लेकिन C के बाद खत्म की। D ने अपनी परीक्षा E से पहले लेकिन B के बाद खत्म की। पांचों विद्यार्थियों में सबसे पहले अपनी परीक्षा किसने खत्म की?

- Ans
- 1. C
  - 2. D
  - 3. A
  - 4. B

Question ID : 6549785409  
Status : Answered  
Chosen Option : 1

Q.24 एक पुलिसकर्मी पुलिसस्टेशन से बाहर निकला और पश्चिम की ओर 60 m चला। फिर वह बाईं ओर मुड़ा और फलों की एक दुकान तक पहुंचने के लिए 38 m चला। फिर वह दाएँ मुड़ा और 60 m चला। फिर वह दाएँ मुड़ा और एक रेस्टोरेंट पहुंचने के लिए 38 m चला। पुलिसस्टेशन और रेस्टोरेंट के मध्य फलों की दुकान से होते हुए, सबसे न्यूनतम दूरी लगभग कितनी है?

- Ans
- 1. 112 m
  - 2. 150 m
  - 3. 142 m
  - 4. 71 m

Question ID : 6549785433  
Status : Answered  
Chosen Option : 2



Q.25 किसी निश्चित कूट भाषा में, 'Doors Are Locked' का संकेतक 'lo re ga' है, 'People Are Angry' का संकेतक 'sa ga pa' है, 'People Live Now' का संकेतक 'so du pa' है और 'Go Now' का संकेतक 'bu so' है। उसी कूट भाषा में 'sa so' निम्न में से किसका संकेतक है?

- Ans
- 1. Angry Now
  - 2. Are Live
  - 3. Are Now
  - 4. People Live

Question ID : 6549785402  
Status : Answered  
Chosen Option : 1

Q.26 उस संख्या का चयन करें जो निम्नलिखित श्रृंखला में प्रश्न चिह्न (?) के स्थान पर आएगी।  
9, 10, 22, 69, 280, ?

- Ans
- 1. 1,350
  - 2. 1,345
  - 3. 1,405
  - 4. 1,325

Question ID : 6549785417  
Status : Answered  
Chosen Option : 3

Q.27 उस विकल्प का चयन करें जो तीसरी पंक्ति में प्रश्न चिह्न (?) के स्थान पर आ सकता है।  
पंक्ति1 : 6, 4, 26  
पंक्ति2: 3, 7, 29  
पंक्ति3: 2, 6, ?

- Ans
- 1. 28
  - 2. 10
  - 3. 20
  - 4. 23

Question ID : 6549785427  
Status : NotAnswered  
Chosen Option : --

Q.28 उस विकल्प का चयन करें जो दूसरी पंक्ति में प्रश्न चिह्न (?) के स्थान पर आ सकता है।

पंक्ति 1 : 5, 6, 2, 4, 81  
पंक्ति 2: 1, 3, 2, 4, ?  
पंक्ति 3: 2, 3, 1, 5, 39

- Ans
- 1. 40
  - 2. 52
  - 3. 73
  - 4. 30

Question ID : 6549785428  
Status : NotAnswered  
Chosen Option : --

Q.29 यदि दिए गए शब्दों को अंग्रेजी शब्दकोश के अनुसार व्यवस्थित किया जाए तो, दूसरे स्थान पर कौन सा शब्द होगा?

- Ans
- 1. Curious
  - 2. Cucumber
  - 3. Curtains
  - 4. Cumbersome

Question ID : 6549785394  
Status : Answered  
Chosen Option : 4

Q.30 दिए गए कथनों और निष्कर्षों को ध्यानपूर्वक पढ़ें। यह मानते हुए कि कथनों में दी गई जानकारी सत्य है, भले ही यह सामान्यतया ज्ञात तथ्यों से भिन्न प्रतीत होती हो, निर्णय करें दिए गए निष्कर्षों में से कौन से निष्कर्ष कथनों का तार्किक रूप से अनुसरण करते हैं।

कथन:

कुछ पंखे हथौड़े हैं।

सभी हथौड़े मछलियाँ हैं।

निष्कर्ष:

I. कोई भी पंखे मछलियाँ नहीं हैं।

II. कुछ पंखे मछलियाँ हैं।

- Ans
- 1. केवल निष्कर्ष II अनुसरण करता है।
  - 2. न तो निष्कर्ष I न ही II अनुसरण करता है।
  - 3. दोनों निष्कर्ष I और II अनुसरण करते हैं।
  - 4. केवल निष्कर्ष I अनुसरण करता है।

Question ID : 6549785414  
Status : Answered  
Chosen Option : 1

Q.31 रामा आयुष का भाई है। सीता जिग्नेश की पत्नी है। आयुष सविता का पति है। दुर्गा जिग्नेश की पुत्री है। जिग्नेश रामा का पिता है। दुर्गा का सविता से क्या संबंध है?

- Ans
- 1. चचेरी बहन
  - 2. सहोदर
  - 3. ननद
  - 4. सास

Question ID : 6549785410  
Status : Answered  
Chosen Option : 3

Q.32 उस विकल्प का चयन करें जिसका तीसरे पद से वही संबंध है, जो संबंध दूसरे पद का पहले पद से है।  
EFH : BJI :: OPQ : ?

- Ans
- 1. MRS
  - 2. LUR
  - 3. LTR
  - 4. MRT

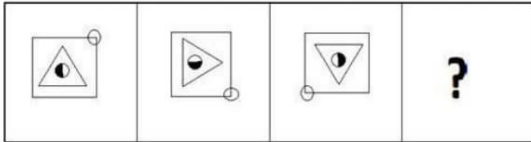
Question ID : 6549785400  
Status : Answered  
Chosen Option : 3

Q.33 छः सैनिक A, B, C, D, E और F एक पंक्ति में एक के बाद एक खड़े हैं। F, C के बाईं ओर अगले स्थान पर है। F और E पंक्ति के सिरों पर हैं। C ठीक F और B के बीच में है। A, D के बाईं ओर ठीक अगले स्थान पर है। E, D के दाईं ओर अगले स्थान पर है। दाईं ओर से चौथे स्थान पर कौन सा सैनिक है?

- Ans
- 1. D
  - 2. B
  - 3. C
  - 4. A

Question ID : 6549785408  
 Status : Answered  
 Chosen Option : 2

Q.34 उस विकल्प का चयन करें जो दी गई आकृति श्रृंखला में प्रश्न चिह्न (?) के स्थान पर आ सकता है।

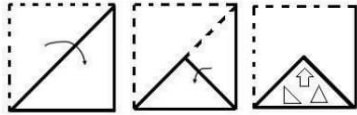


Ans

- 1.
- 2.
- 3.
- 4.

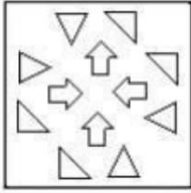
Question ID : 6549785435  
 Status : Answered  
 Chosen Option : 2

Q.35 कागज के एक वर्गाकार टुकड़े को मोड़ने और पंच करने की विधि नीचे दी गई आकृतियों में दर्शायी गई है। कागज को पुनः खोलने पर यह कैसा दिखाई देगा?

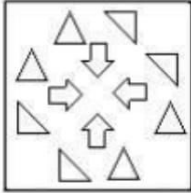


Ans

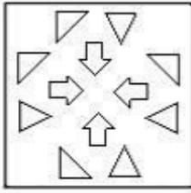
X 1.



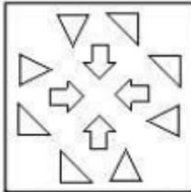
X 2.



X 3.



✓ 4.



Question ID : 6549785437  
Status : Answered  
Chosen Option : 4

Q.36 उस अक्षर-समूह का चयन करें जो निम्नलिखित श्रृंखला में प्रश्न चिह्न (?) के स्थान पर आएगा।

EDM, GAO, IXQ, KUS, ?

Ans

X 1. MSV

✓ 2. MRU

X 3. NRU

X 4. NSV

Question ID : 6549785393  
Status : Answered  
Chosen Option : 2

Q.37 चार अक्षर-समूह दिए गए हैं, जिनमें तीन किसी प्रकार एक समान हैं और एक असंगत है। असंगत अक्षर-समूह का चयन करें।

- Ans
- 1. A-E-H-J
  - 2. D-G-I-J
  - 3. I-O-T-Z
  - 4. L-Q-U-X

Question ID : 6549785398  
Status : Answered  
Chosen Option : 3

Q.38 उस अक्षर-समूह का चयन करें जो निम्नलिखित श्रृंखला में प्रश्न चिह्न (?) के स्थान पर आएगा।

HB, JE, LH, NK, ?

- Ans
- 1. QN
  - 2. PN
  - 3. SO
  - 4. RM

Question ID : 6549785392  
Status : Answered  
Chosen Option : 2

Q.39 उस विकल्प का चयन करें जिसका तीसरे पद से वही संबंध है, जो संबंध दूसरे पद का पहले पद से है।

JMP : HON :: ADG : ?

- Ans
- 1. CBI
  - 2. YFE
  - 3. JKM
  - 4. ZGF

Question ID : 6549785399  
Status : Answered  
Chosen Option : 2

Q.40 गणितीय चिहनों के उस सही संयोजन का चयन करें जिन्हें निम्नलिखित समीकरण को संतुलित करने के लिए रिक्त स्थानों में भरा जा सकता है।

$24 \_ \_ 6 \_ \_ 3 \_ \_ 4 \_ \_ 10 \_ \_ 6$

- Ans
- 1.  $\div, \times, =, +, +$
  - 2.  $\div, \times, -, =, \times$
  - 3.  $\div, \times, +, =, +$
  - 4.  $+, =, \div, \times, +$

Question ID : 6549785424  
Status : Answered  
Chosen Option : 3

Q.41 बिंदु X से आरंभ करते हुए, एक व्यक्ति बिंदु Y पर पहुंचने के लिए दक्षिण की ओर 20 m चला। वहाँ से, वह बाएँ मुड़ा और बिंदु Z पर पहुंचने के लिए 25 m चला। फिर वह बाएँ मुड़ा और बिंदु P पर पहुंचने के लिए 20 m और चला। बिंदु X और Z के मध्य सबसे न्यूनतम दूरी लगभग कितनी है और बिंदु X से व्यक्ति की अंतिम स्थिति किस दिशा में है?

Ans

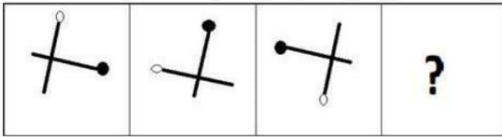
- ✓ 1. 32 m, पूर्व
- ✗ 2. 36 m, दक्षिण-पूर्व
- ✗ 3. 50 m, दक्षिण-पूर्व
- ✗ 4. 46 m, उत्तर-पश्चिम

Question ID : 6549785432

Status : Answered

Chosen Option : 1

Q.42 उस विकल्प का चयन करें जो दी गई आकृति श्रृंखला में प्रश्न चिह्न (?) के स्थान पर आ सकता है।



Ans

✗ 1.



✗ 2.



✗ 3.



✓ 4.



Question ID : 6549785434

Status : Answered

Chosen Option : 4

Q.43 जैकोब, कैरोलिन का चाचा है। एरोन और जैक, जिल के भाई हैं। जिल, कैरोलिन की माँ है। मैरी, जैकोब की माँ है। कैरोलिन, डेविड की पत्नी है। कैरोलिन का एरोन से क्या संबंध है?

- Ans
- 1. पुत्रवधू
  - 2. भांजी
  - 3. पुत्री
  - 4. बहन

Question ID : 6549785412  
Status : Answered  
Chosen Option: 2

Q.44 एक विद्यार्थी को उत्तीर्ण होने के लिए महत्तम अंकों का 40% प्राप्त करना होता है। यदि उसने 80 अंक प्राप्त किए और फिर भी 20 अंकों से फेल हो गई, तो महत्तम अंकों की गणना करें?

- Ans
- 1. 300
  - 2. 220
  - 3. 250
  - 4. 200

Question ID : 6549785420  
Status : Answered  
Chosen Option: 3

Q.45 किसी निश्चित कूट भाषा में, 'CHIMERA' को '1-18-5-13-9-8-3' के रूप में लिखा जाता है। उसी कूट भाषा में 'SPECIES' को कैसे लिखा जाएगा?

- Ans
- 1. 19-5-9-3-5-16-19
  - 2. 19-9-3-5-16-3-9
  - 3. 19-9-5-3-9-16-5
  - 4. 19-16-5-9-3-5-16

Question ID : 6549785404  
Status : Answered  
Chosen Option: 4

Q.46 दिए गए कथनों और निष्कर्षों को ध्यानपूर्वक पढ़ें। यह मानते हुए कि कथनों में दी गई जानकारी सत्य है, भले ही यह सामान्यतया ज्ञात तथ्यों से भिन्न प्रतीत होती हो, निर्णय करें दिए गए निष्कर्षों में से कौन से निष्कर्ष कथनों का तार्किक रूप से अनुसरण करते हैं।

कथन:

कुछ जार मग हैं।  
कुछ मग मटके हैं।

निष्कर्ष:

I. कुछ मटके मग हैं।  
II. कुछ मटके जार हैं।

Ans  1. न तो निष्कर्ष I न ही II अनुसरण करता है।

2. दोनों निष्कर्ष I और II अनुसरण करते हैं।

3. केवल निष्कर्ष II अनुसरण करता है।

4. केवल निष्कर्ष I अनुसरण करता है।

Question ID : 6549785415

Status : Answered

Chosen Option: 4

Q.47 चार अक्षर-समूह दिए गए हैं, जिनमें तीन किसी प्रकार एक समान हैं और एक असंगत है। असंगत अक्षर-समूह का चयन करें।

Ans  1. LIF

2. DAX

3. HEB

4. BYT

Question ID : 6549785397

Status : Answered

Chosen Option: 4

Q.48 पिता की आयु से पुत्र की आयु का अनुपात 5 : 2 है। यदि दोनों की आयु का गुणनफल 160 है, तो पिता की आयु कितनी है?

Ans  1. 22

2. 18

3. 24

4. 20

Question ID : 6549785421

Status : Answered

Chosen Option: 4



Q.49 चौथे बॉक्स में चार अंकों की कौन सी संख्या अनुपस्थित है?

663	951	1,243	????	1,823
-----	-----	-------	------	-------

- Ans
- 1. 1,531
  - 2. 1,221
  - 3. 1,431
  - 4. 1,313

Question ID : 6549785429  
Status : NotAnswered  
Chosen Option : --

Q.50 एक चिड़ियाघर में पांच जानवर अपने पिंजरों में हैं। उनके पिंजरे एक पंक्ति में हैं। बंदर पंक्ति में एक ओर सबसे आखिरी स्थान पर है। गाय हिरण के ठीक बाईं ओर अगले स्थान पर है। शेर पंक्ति में दाएँ ओर आखिरी स्थान पर है। लोमड़ी ठीक हिरण और शेर के बीच में है। बाईं ओर से दूसरे स्थान पर कौन सा जानवर है?

- Ans
- 1. लोमड़ी
  - 2. बंदर
  - 3. हिरण
  - 4. गाय

Question ID : 6549785407  
Status : Answered  
Chosen Option : 4

Section : GeneralAwareness

Q.1 आई.सी.एम.आर. (ICMR) का नेशनल इंस्टीट्यूट ऑफ वायरोलॉजी कहाँ त है?

- Ans
- 1. अहमदाबाद
  - 2. पुणे
  - 3. नागपुर
  - 4. वारंगल

Question ID : 6549785452  
Status : Marked For Review  
Chosen Option : 1

Q.2 न नल खत म से कस संरत जैवमंडल का े फल सबसे अ धक है?

- Ans
- 1. नीलगर
  - 2. मारक खाड़ी
  - 3. सुंदरवन
  - 4. पचमढ

Question ID : 6549785464  
Status : Answered  
Chosen Option : 1

Q.3 1 अ ैल2020 से, यूनाइटेड ब क ऑफ इं डया न न ल खत म से कस ब क म वलय कर दया गया है?

- Ans
- 1. टेट ब क ऑफ इं डया
  - 2. ब क ऑफ बडौदा
  - 3. के नरा ब क
  - 4. पंजाब नेशनल ब क

Question ID : 6549785448  
Status : Answered  
Chosen Option : 3

Q.4 कहवा चाय का एक पारंप रक प है जो \_\_\_\_\_ से संबं धत है।

- Ans
- 1. कमीर
  - 2. स क म
  - 3. अस म
  - 4. दा ज लग

Question ID : 6549785443  
Status : Answered  
Chosen Option : 1

Q.5 एक मैच के दौरान गद से चोट लगने पर न न ल खत म से कस खलाडी क मू यु हो गई?

- Ans
- 1. र म न लां वा
  - 2. कृ णू डे
  - 3. पृ थीपाल सह
  - 4. सै यद मोद

Question ID : 6549785490  
Status : Not Answered  
Chosen Option : --

Q.6 सतीश गुजराल, जनका माच 2020 म न धन हो गया था, एक ब यात \_\_\_\_\_ थे।

- Ans
- 1. वै ा न क
  - 2. च कार
  - 3. इ तहास कार
  - 4. प कार

Question ID : 6549785477  
Status : Not Answered  
Chosen Option : --

Q.7 भारत के न न ल खत रा प तय म से कस क पद पर रहते ए मू यु ई?

- Ans
- 1. वी. वी. गर
  - 2. राजे साद
  - 3. फ ख न अली अह म द
  - 4. आर. व कटर म ण

Question ID : 6549785485  
Status : Answered  
Chosen Option : 3

Q.8 1957-58 म डॉ. वणु वाकणकर ने गलती से कस ागै तहा सक पुराता लक खोजक थी?

- Ans
- 1. पंडुआ
  - 2. भीमवेटका
  - 3. उदयगर
  - 4. रणकपुर

Question ID : 6549785445  
Status : NotAnswered  
Chosen Option: --

Q.9 'एस चुरी इज़ नॉट इनफ' कसक आ मकथाहै?

- Ans
- 1. वीरि सेहवाग
  - 2. सौरवगांगुली
  - 3. रालवड
  - 4. स चनत लकर

Question ID : 6549785473  
Status : Answered  
Chosen Option: 4

Q.10 संत नाम ए.आई.ए.डी.एम.के (AIADMK), जो एक राजनी तक पाट के नाम का तन ध व करता है, म 'एम' (M) का या अथ है?

- Ans
- 1. Maruthur (मु थर)
  - 2. Makkal (म काल)
  - 3. Munnetra (मुने )
  - 4. Morpukku (मोरपुकु)

Question ID : 6549785481  
Status : NotAnswered  
Chosen Option: --

Q.11 'एनेशन इन मे कग' पु तक के लेखक कौनह?

- Ans
- 1. गोपालकृ णगोखले
  - 2. मदनमोहनमालवीय
  - 3. सुरनाथबनज
  - 4. फरोज़शाहमेहता

Question ID : 6549785472  
Status : Answered  
Chosen Option: 2

Q.12 जब वसा और तेल का ऑ सीकरण होता है, तो उनक गंध और वाद बदल जाते है। इस घटना को \_\_\_\_\_ कहा जाता है।

- Ans
- 1. लचीलापन
  - 2. सं ारण
  - 3. अपरदन
  - 4. खटवास

Question ID : 6549785451  
Status : Answered  
Chosen Option: 4

Q.13 हीराकुड बांध कस राय मत है?

- Ans
- 1. छीसगढ़
  - 2. ओडिशा
  - 3. झारखंड
  - 4. मय देश

Question ID : 6549785466  
Status : Answered  
Chosen Option : 2

Q.14 न न ल खत मसे कौन सी नद मय देश के वैतूल जले म मुलताई से आरंभ होती है?

- Ans
- 1. तापी
  - 2. कावेरी
  - 3. गोदावरी
  - 4. लुणी

Question ID : 6549785461  
Status : Answered  
Chosen Option : 1

Q.15 न ल खत मसे कौन सा वचा कसर का एक संभावत कारण है?

- Ans
- 1. ीनहाउस भाव
  - 2. आई. आर. (IR) वकरण से संपक
  - 3. यू. वी. (UV) वकरण से संपक
  - 4. बायोगैस का उपयोग

Question ID : 6549785458  
Status : Answered  
Chosen Option : 3

Q.16 आगरा हाउस म सकं दरा कसका मकबरा है?

- Ans
- 1. मायूं
  - 2. औरंगजेब
  - 3. जहांगीर
  - 4. अकबर

Question ID : 6549785468  
Status : Answered  
Chosen Option : 4

Q.17 मार्च 2020 तक क त के अनुसार, भारतीय टेटबक के अ य कौन ह?

- Ans
- 1. रजनीशकु मार
  - 2. आ दयपुरी
  - 3. दपक पारेख
  - 4. अं धतभ ाचय

Question ID : 6549785450  
Status : Answered  
Chosen Option : 4

Q.18 गुतने 'कुक' और 'कुनता' शब्दका योग कसके कया था?  
कुनता' लिए

- Ans
- 1. अंकगणत
  - 2. यामत
  - 3. बीजगणत
  - 4. कोणमत

Question ID : 6549785446  
Status : Not Answered  
Chosen Option: --

Q.19 एक कुंडली का ताप इसके मायम से वाहत धारा के समय क n घातके अनुपा तक होता है, जहां n कसके बराबर होता है?

- Ans
- 1. -2
  - 2. -1
  - 3. +1
  - 4. +2

Question ID : 6549785457  
Status : Not Answered  
Chosen Option: --

Q.20 'अजेय वाखर-2020' भारत और \_\_\_\_\_ के बीच एक संयु सैय अयास था?

- Ans
- 1. यू.एस.ए.
  - 2. थार्लड
  - 3. यू.के.
  - 4. दण कोरया

Question ID : 6549785474  
Status : Answered  
Chosen Option: 3

Q.21 एक ऐसीटोन अणु म कतने ऑ सीजन परमाणु होते ह?

- Ans
- 1. 4
  - 2. 3
  - 3. 1
  - 4. 2

Question ID : 6549785454  
Status : Not Answered  
Chosen Option: --

Q.22 न नुल खत म से कौन सा पयटनल राज ानमत नह है?

- Ans
- 1. पुकर
  - 2. रणकपुर
  - 3. कुशीनगर
  - 4. नाथ ारा

Question ID : 6549785441  
Status : Answered  
Chosen Option: 3