

Combined Graduate Level Examination 2021 Tier - I

| | |
|----------------|-------------------|
| Roll Number | |
| Candidate Name | |
| Venue Name | |
| Exam Date | 19/04/2022 |
| Exam Time | 4:00 PM - 5:00 PM |
| Subject | CGLE 2021 Tier I |

Section : General Intelligence and Reasoning

Q.1 यदि '@' का अर्थ 'जोड़' है, '%' का अर्थ 'गुणा' है, '\$' का अर्थ 'भाग' है और '#' का अर्थ 'घटाना' है, तो निम्नलिखित व्यंजक का मान ज्ञात कीजिए।

9 @ 114 \$ 19 % 5 # 21

- Ans
- 1. 20
 - 2. 32
 - 3. 26
 - 4. 18

Question ID : 65497842178

Status : Answered

Chosen Option : 4

Q.2 दिए गए पैटर्न का ध्यानपूर्वक अध्ययन करें और उस संख्या का चयन करें जो उसमें प्रश्नवाचक चिह्न (?) के स्थान पर आ सकती है।

14 21 165
13 19 ?
10 17 99

- Ans
- 1. 140
 - 2. 156
 - 3. 120
 - 4. 175

Question ID : 65497843287

Status : Not Answered

Chosen Option : --

Q.3 किसी निश्चित कूट भाषा में, 'LILY' को 116 के रूप में कूटबद्ध किया गया है और 'LOTUS' को 174 के रूप में कूटबद्ध किया गया है। उसी कूट भाषा में, 'TULIP' को किस रूप में कूटबद्ध किया जाएगा?

- Ans 1. 78
 2. 156
 3. 168
 4. 126

Question ID : 65497842267
 Status : Answered
 Chosen Option : 2

Q.4 छः बच्चे G, H, I, J, K, और L एक गोल मेज के परितः इसके केंद्र की ओर अभिमुख होकर बैठे हैं। J और K, क्रमशः G के ठीक बाएं और दाएं बगल में बैठे हैं। L, J के ठीक बाएं बगल में बैठा है, लेकिन वह H के ठीक दाएं बगल में नहीं बैठा है। K के ठीक दाएं बगल में कौन बैठा है?

- Ans 1. L
 2. H
 3. I
 4. J

Question ID : 65497842372
 Status : Answered
 Chosen Option : 2

Q.5 दिए गए विकल्पों में से वह संख्या चुनिए जो निम्नलिखित श्रेणी में प्रश्नवाचक चिन्ह (?) के स्थान पर आ सकती है।

35, 54, 77, 106, 137, ?

- Ans 1. 174
 2. 179
 3. 170
 4. 151

Question ID : 65497843283
 Status : Answered
 Chosen Option : 1

Q.6 दिए गए विकल्पों में से उस अक्षर-समूह का चयन करें जो निम्नलिखित शृंखला में प्रश्नचिह्न (?) के स्थान पर आ सकता है।

LJV, NMR, PPN, RSJ, ?

- Ans 1. SUG
 2. SWK
 3. TVN
 4. TVF

Question ID : 65497842161
 Status : Answered
 Chosen Option : 4

Q.7 नीरज, रिकू का पिता है। जिया और टिया रूबी की बेटियां हैं, जो कि रिकू की इकलौती बहन है। विष्णु, रिकू और गीता का पुत्र है। नीरज का टिया से क्या संबंध है?

- Ans
- 1. मामा
 - 2. नाना
 - 3. दादा
 - 4. चाचा

Question ID : 65497842371
Status : Answered
Chosen Option : 2

Q.8 उस विकल्प का चयन कीजिए जिसका तीसरी संख्या से ठीक वही संबंध है जो दूसरी संख्या का पहली संख्या से है।

3824 : 4935 :: 5716 : ?

- Ans
- 1. 6087
 - 2. 6782
 - 3. 6287
 - 4. 6827

Question ID : 65497842275
Status : Answered
Chosen Option : 4

Q.9 चार अक्षर-समूह दिए गए हैं, जिनमें से तीन किसी न किसी तरह से समान हैं और एक असंगत है। उस असंगत अक्षर-समूह का चयन करें।

- Ans
- 1. ATNIE
 - 2. GZTNK
 - 3. YRLGC
 - 4. HAUPL

Question ID : 65497843274
Status : Answered
Chosen Option : 2

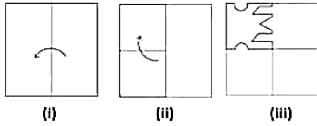
Q.10 दिए गए विकल्पों में से वह संख्या चुनिए जो निम्नलिखित श्रेणी में प्रश्नवाचक चिह्न (?) के स्थान पर आ सकती है।

9, 38, 154, 618, ?

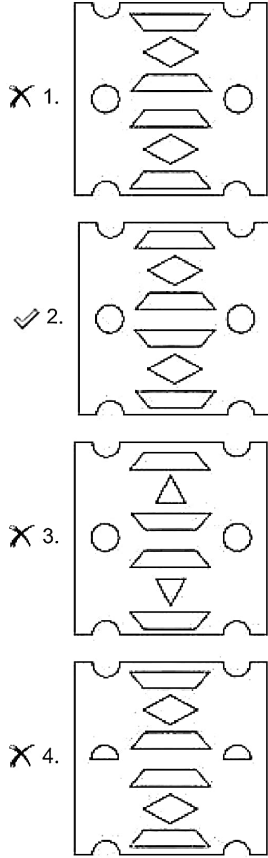
- Ans
- 1. 928
 - 2. 735
 - 3. 1268
 - 4. 2474

Question ID : 65497842173
Status : Answered
Chosen Option : 4

Q.11 निम्न आकृतियों में कागज के एक टुकड़े को मोड़ने का क्रम (आकृति i और ii में) दर्शाया गया है और मुड़े हुए कागज को काटने की विधि (आकृति iii में) दर्शाई गई है। उस विकल्प का चयन करें जो आकृति (iii) के खुले हुए रूप से सर्वाधिक मिलता जुलता हो।



Ans



Question ID : 65497842285
 Status : Answered
 Chosen Option : 2

Q.12 Select the correct option that indicates the arrangement of the given words in a logical and meaningful order.

1. Recording
2. Rehearsal
3. Viewers
4. Script
5. Video Editing

- Ans
- ✓ 1. 4, 2, 1, 5, 3
 - ✗ 2. 4, 1, 2, 3, 5
 - ✗ 3. 2, 4, 1, 5, 3
 - ✗ 4. 4, 5, 2, 1, 3

Question ID : 65497843071
 Status : Answered
 Chosen Option : 1

Q.13 दिए गए कथनों और निष्कर्षों को ध्यानपूर्वक पढ़ें। यह मानते हुए कि कथनों में दी गई जानकारी सत्य है, भले ही वह सामान्य रूप से ज्ञात तथ्यों से भिन्न प्रतीत होती हो, तय करें कि दिए गए निष्कर्षों में से कौन से निष्कर्ष कथनों का तार्किक रूप से अनुसरण करते हैं।

कथन:

सभी खरगोश, गाय हैं।
कुछ खरगोश, बिल्लियाँ हैं।

निष्कर्ष:

I. सभी बिल्लियाँ, खरगोश हैं।
II. कुछ गाय, खरगोश हैं।

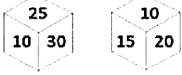
- Ans 1. दोनों निष्कर्ष अनुसरण करते हैं।
 2. केवल निष्कर्ष II अनुसरण करता है।
 3. या तो निष्कर्ष I या II अनुसरण करता है।
 4. केवल निष्कर्ष I अनुसरण करता है।

Question ID : 65497842171

Status : Answered

Chosen Option : 2

Q.14 एक पासे के विभिन्न फलकों पर छः संख्याएँ 5, 10, 15, 20, 25 और 30 लिखी गई हैं। इस पासे की दो स्थितियाँ दिखाई गई हैं। उस संख्या का चयन करें जो संख्या '15' वाले फलक के विपरीत फलक पर होगी।



- Ans 1. 10
 2. 5
 3. 30
 4. 20

Question ID : 65497842181

Status : Answered

Chosen Option : 3

Q.15 उस विकल्प का चयन करें जो तीसरे अक्षर-समूह से उसी प्रकार संबंधित है जिस प्रकार दूसरा अक्षर-समूह पहले अक्षर-समूह से संबंधित है।

LGS : PLY :: MKB : ?


- Ans 1. RQG
 2. QPH
 3. PQG
 4. QOF

Question ID : 65497841962

Status : Answered

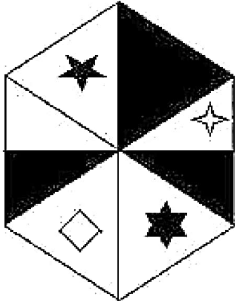
Chosen Option : 2

Q.16 Which of the option figures, when rotated 135° clockwise followed by 45° anticlockwise, will result in the given question figure?

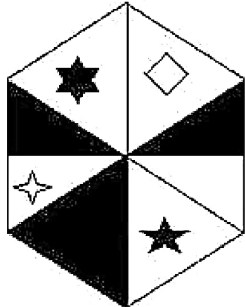


Ans


X 1.




✓ 2.



X 3.

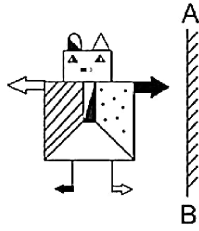


X 4.

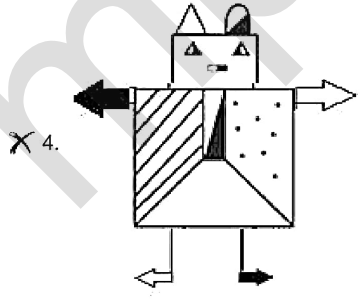
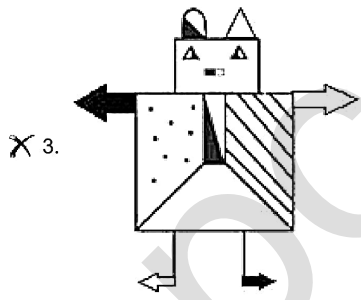
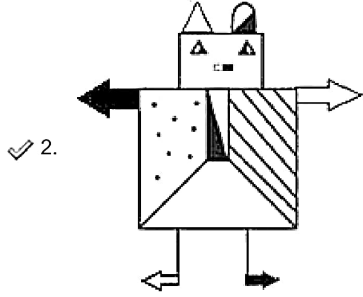
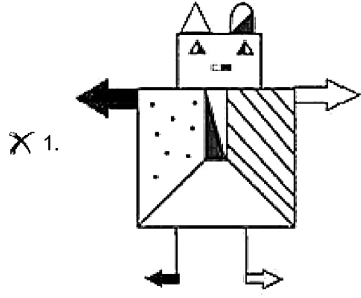


Question ID : 65497842280
 Status : Answered
 Chosen Option : 1

Q.17 जब दर्पण को निम्नांकित चित्र के अनुसार 'AB' पर जाता है, तो दी गई आकृति के दर्पण में निर्मित सही प्रतिबिंब का चयन करें।



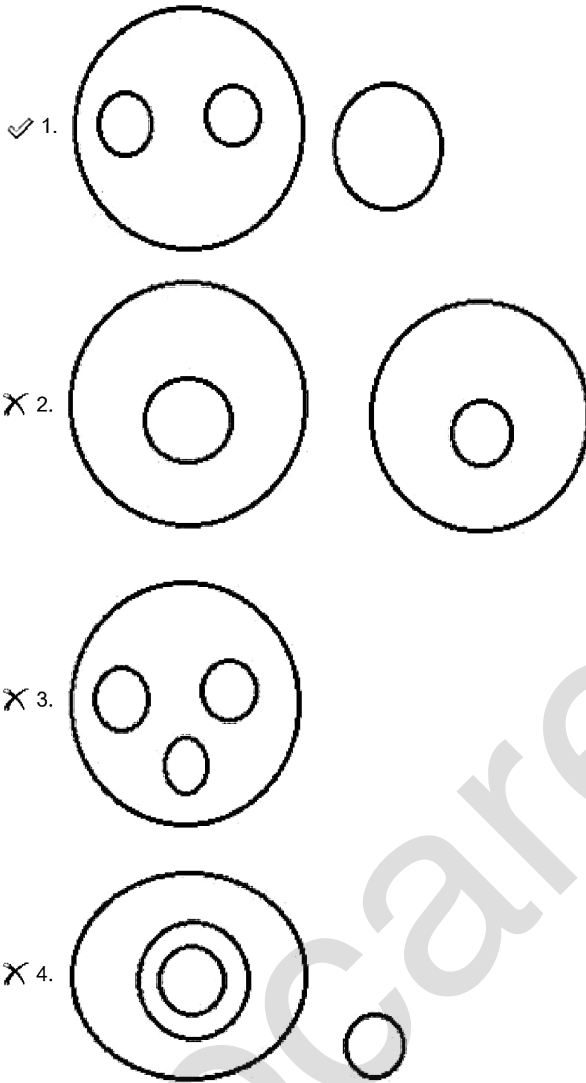
Ans



Question ID : 65497842385
Status : Answered
Chosen Option : 2

Q.18 उस वेन आरेख का चयन करें जो निम्नलिखित के बीच संबंध को सर्वोत्तम रूप से दर्शाता है।
सजीव प्राणी, सर्वाहारी, हिरण, ग्रह

Ans



Question ID : 65497841983
Status : Answered
Chosen Option : 1

Q.19 एक निश्चित कूट भाषा में, 'COLOUR' को 'FQQQXT' लिखा जाता है और 'VIOLET' को 'YKRNHV' लिखा जाता है। उसी कूट भाषा में, 'PURPLE' को क्या लिखा जाएगा?

- Ans
- ✗ 1. RWUSPH
 - ✗ 2. SXUSOG
 - ✗ 3. RXWSOH
 - ✓ 4. SWUROG

Question ID : 65497842771
Status : Answered
Chosen Option : 4

Q.20 दिए गए विकल्पों में से उस अक्षर-समूह का चयन करें जो निम्न श्रृंखला में प्रश्नचिह्न (?) के स्थान पर आ सकता है।

BEC, CID, FOG, KUL, ?

- Ans
- 1. BAY
 - 2. QOR
 - 3. RAS
 - 4. RAR

Question ID : 65497842774
Status : Answered
Chosen Option : 3


Q.21 निम्नलिखित समीकरण को संतुलित करने के लिए किन दो चिह्नों को परस्पर बदलने की आवश्यकता है?

$$45 \div 15 \times 5 + 15 - 11 = 39$$

- Ans
- 1. + और +
 - 2. + और ×
 - 3. - और ×
 - 4. - और +

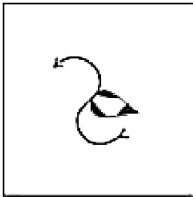
Question ID : 65497842379
Status : Answered
Chosen Option : 1

Q.22 दिए गए विकल्पों में से उस आकृति का चयन करें जो निम्न आकृति-शृंखला में प्रश्नचिह्न(?) के स्थान पर आ सकती है।




Ans

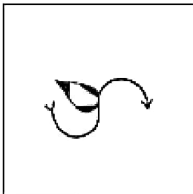
X 1.




X 2.



X 3.



✓ 4.



Question ID : 65497842382
Status : Answered
Chosen Option : 4

Q.23 एक निश्चित कूट भाषा में, 'she needs some medicines' को '1542' लिखा जाता है, 'take some water' को '849' लिखा जाता है, 'he needs rest' को '713' लिखा जाता है और 'she is water' को '269' लिखा जाता है। उसी कूट भाषा में 'take medicines' को क्या लिखा जाएगा?

Ans X 1. 45

X 2. 81

X 3. 92

✓ 4. 85

Question ID : 65497843278
Status : Answered
Chosen Option : 4

Q.24 उस विकल्प का चयन करें जिसमें दी गई आकृति सन्निहित है (घुमाने की अनुमति नहीं है)।



Ans

X 1.



X 2.



✓ 3.



X 4.



Question ID : 65497843293

Status : Answered

Chosen Option : 2

Q.25 तीन वर्ष पहले, रवीश की आयु और कैलाश की आयु का अंतर 18 वर्ष था। आज से तीन वर्ष बाद रवीश की आयु कैलाश की आयु की तीन गुनी हो जाएगी। रवीश की वर्तमान आयु कितनी (वर्षों में) है?

Ans ✓ 1. 24

X 2. 18

X 3. 21

X 4. 27

Question ID : 65497841973

Status : Answered

Chosen Option : 2

Section : General Awareness

Q.1 _____, फोर्ब्स की 'सबसे महँगी महिला एथलीट 2020' की सूची में पहले स्थान पर थीं।

Ans ✓ 1. नाओमी ओसाका (Naomi Osaka)

X 2. सेरेना विलियम्स (Serena Williams)

X 3. एशले बार्टी (Ashleigh Barty)

X 4. एलेक्स मॉर्गन (Alex Morgan)

Question ID : 65497842008

Status : Answered

Chosen Option : 1

Q.2 पर्वतारोही लगभग _____ मीटर से अधिक ऊंचाई को 'मृत्यु क्षेत्र' कहते हैं।

- Ans 1. 6,700
 2. 8,000
 3. 7,200
 4. 5,800

Question ID : 65497842198
Status : Not Answered
Chosen Option : --

Q.3 मई 2020 में, भारत सरकार ने आत्मनिर्भर भारत अभियान के तहत भारत के सकल घरेलू उत्पाद (GDP) के _____ के बराबर एक विशेष आर्थिक और व्यापक पैकेज की घोषणा की।

- Ans 1. 15%
 2. 25%
 3. 20%
 4. 10%

Question ID : 65497842392
Status : Not Answered
Chosen Option : --

Q.4 निम्नलिखित में से कौन सी लोक गीत शैली पश्चिम बंगाल, असम और बांग्लादेश के कुछ हिस्सों में प्रचलित है?

- Ans 1. भवैया (Bhawaiya)
 2. चालो (Chalo)
 3. रेखाम पाड़ा (Rekham Pada)
 4. रोप्पी (Roppi)

Question ID : 65497843297
Status : Answered
Chosen Option : 1

Q.5 किसी भी स्रोत से प्राप्त शुद्ध जल में ऑक्सीजन का द्रव्यमान _____ होता है।

- Ans 1. 88.89%
 2. 56.83%
 3. 35.42%
 4. 11.11%

Question ID : 65497842294
Status : Not Answered
Chosen Option : --

Q.6 भारतीय रिज़र्व बैंक के केंद्रीय निदेशक मंडल की नियुक्ति _____ वर्षों की अवधि के लिए होती है।

- Ans
- 1. चार
 - 2. तीन
 - 3. पांच
 - 4. दो

Question ID : 65497842289
Status : Answered
Chosen Option : 3

Q.7 _____, नेल्लोर की बड़ा शहीद दरगाह में प्रति वर्ष आयोजित होने वाला तीन-दिवसीय महोत्सव है।

- Ans
- 1. भेल्दिया (Bheldiya)
 - 2. रोट्टेला पांडुगा (Rottela Panduga)
 - 3. अली ऐ लिंगांग (Ali Ai Ligang)
 - 4. बैशागु (Baishagu)

Question ID : 65497842187
Status : Not Answered
Chosen Option : --

Q.8 मलिक इख्तियार-उद-दीन अल्तुनिया ने रजिया सुल्तान को निम्नलिखित में से किस किले में कैद किया था?

- Ans
- 1. जयपुर के जयगढ़ किले में
 - 2. गोलकुंडा के गोलकुंडा किले में
 - 3. जोधपुर के मेहरानगढ़ किले में
 - 4. बठिंडा के किला मुबारक में

Question ID : 65497843311
Status : Answered
Chosen Option : 2

Q.9 _____ संघ से संबंधित जीवों को 'चपटाकृमि (flatworms)' भी कहा जाता है।

- Ans
- 1. निडारिया (Cnidaria)
 - 2. पृथुकृमि (Platyhelminthes)
 - 3. टिनोफोरा (Ctenophora)
 - 4. पोरिफेरा (Porifera)

Question ID : 65497842191
Status : Not Answered
Chosen Option : --

Q.10 MSP (न्यूनतम समर्थन मूल्य) प्रणाली को पहली बार 1966-67 में _____ के लिए पेश किया गया था और बाद में अन्य आवश्यक खाद्य फसलों को शामिल करने के लिए इसका विस्तार किया गया।

- Ans
- 1. बाजरे
 - 2. ज्वार
 - 3. रागी
 - 4. गेहूँ

Question ID : 65497841987
Status : Not Answered
Chosen Option : --

Q.11 _____, फरवरी 2021 में यूनाइटेड स्टेट्स डिपार्टमेंट ऑफ़ स्टेट द्वारा गठित 'इंटरनेशनल एंटी करप्शन चैपियंस अवार्ड' के लिए चुने गए 12 लोगों में से एक थीं।

- Ans
- 1. मेधा पाटकर
 - 2. अंजलि भारद्वाज
 - 3. अर्चना बोराठकुर
 - 4. फ्लाविया एग्रेस

Question ID : 65497842003
Status : Not Answered
Chosen Option : --

Q.12 निम्नलिखित में से कौन सी नदी पश्चिम बंगाल और सिक्किम दोनों राज्यों से होकर बहती है?

- Ans
- 1. तीस्ता
 - 2. सोन
 - 3. हुगली
 - 4. कोशी

Question ID : 65497843310
Status : Answered
Chosen Option : 3

Q.13 भारतीय संविधान के _____ संशोधन अधिनियम द्वारा भारत में वस्तु एवं सेवा कर (GST) लागू किया गया।

- Ans
- 1. 101वें
 - 2. 104वें
 - 3. 92वें
 - 4. 98वें

Question ID : 65497842307
Status : Answered
Chosen Option : 1

Q.14 महारानी एलिज़ाबेथ द्वितीय के दिवंगत पति प्रिंस फिलिप ने अप्रैल 2021 में अपनी मृत्यु तक निम्नलिखित में से कौन सी उपाधि धारण की थी?

- Ans 1. ड्यूक ऑफ विंडसर
 2. ड्यूक ऑफ एडिनबर्ग
 3. ड्यूक ऑफ ग्लूसेस्टर
 4. ड्यूक ऑफ कैम्ब्रिज

Question ID : 65497842405
 Status : Answered
 Chosen Option : 4

Q.15 भारतीय क्रांतिकारियों और उनके द्वारा स्थापित संगठनों का निम्नलिखित में से कौन सा युग्म सुमेलित है?

- Ans 1. एम वीरा राघवचारी - पूना सार्वजनिक सभा
 2. महादेव गोविंद रानाडे - मद्रास महाजन सभा
 3. बदरुद्दीन तैयबजी - बॉम्बे प्रेसीडेंसी एसोसिएशन
 4. सुरेंद्रनाथ बनर्जी - ईस्ट इंडिया एसोसिएशन

Question ID : 65497842201
 Status : Answered
 Chosen Option : 3

Q.16 निम्नलिखित में से कौन एक पेशेवर भारतीय टेनिस खिलाड़ी है?

- Ans 1. बाला देवी
 2. अंकिता रेना
 3. अदिति चौहान
 4. शांति मलिक

Question ID : 65497842209
 Status : Not Answered
 Chosen Option : --

Q.17 राष्ट्रीय परिवार स्वास्थ्य सर्वेक्षण 5 के अनुसार, _____ एकमात्र ऐसा राज्य है जहां पिछले पांच वर्षों (शहरी + ग्रामीण) में पैदा हुए बच्चों के लिए जन्म के समय लिंगानुपात 1,000 से ऊपर है।

- Ans 1. त्रिपुरा
 2. गोवा
 3. हिमाचल प्रदेश
 4. आंध्र प्रदेश

Question ID : 65497842399
 Status : Answered
 Chosen Option : 2

Q.18 'हाइपनिया इंडिका' और 'हाइपनिया बुलेटा' किसके प्रकार हैं?

- Ans
- 1. पीले समुद्री शैवाल
 - 2. काले समुद्री शैवाल
 - 3. हरे समुद्री शैवाल
 - 4. लाल समुद्री शैवाल

Question ID : 65497843303

Status : Not Answered

Chosen Option : --

Q.19 भारतीय स्वतंत्रता आंदोलन के निम्नलिखित नेताओं में से किसने 'स्वराज मेरा जन्मसिद्ध अधिकार है और मैं इसे लेकर रहूँगा' का नारा दिया था?

- Ans
- 1. गोपालकृष्ण गोखले
 - 2. लाला लाजपत राय
 - 3. बाल गंगाधर तिलक
 - 4. सुभाष चंद्र बोस

Question ID : 65497842303

Status : Answered

Chosen Option : 3

Q.20 एक आदर्श गैस का एक मोल 273 K और 1 atm दाब पर _____ लीटर आयतन घेरता है।

- Ans
- 1. 22.4
 - 2. 25.1
 - 3. 21.2
 - 4. 20.3

Question ID : 65497842397

Status : Not Answered

Chosen Option : --

Q.21 मोतीलाल नेहरू ने आठ अन्य कांग्रेस नेताओं के साथ भारत के संविधान का मसौदा निम्नलिखित में से किस वर्ष तैयार किया था?

- Ans
- 1. 1928
 - 2. 1945
 - 3. 1935
 - 4. 1931

Question ID : 65497843319

Status : Answered

Chosen Option : 2

Q.22 निम्नलिखित में से कौन 'टिल वी विन : इंडियाज फाइट अगेस्ट द कोविड-19 पैन्डेमिक' नामक पुस्तक के सह-लेखक नहीं हैं?

- Ans
- 1. डॉ चंद्रकांत लहरिया
 - 2. डॉ गगनदीप कांग
 - 3. डॉ रणदीप गुलेरिया
 - 4. डॉ सौम्या स्वामीनाथन

Question ID : 65497842305
Status : Not Answered
Chosen Option : --

Q.23 _____, एक पर्यावरण नीति है जिसके तहत उत्पादकों को उन उत्पादों के उपचार या निपटान के लिए एक महत्वपूर्ण जिम्मेदारी दी जाती है - वित्तीय और / या भौतिक - जो उपभोक्ता के लिए आगे उपयोगी नहीं होते हैं।

- Ans
- 1. उत्पादकों की पर्यावरणीय जिम्मेदारी
 - 2. नैतिक निर्माता जिम्मेदारी
 - 3. विस्तारित निर्माता जिम्मेदारी
 - 4. उपभोक्ता के बाद की पर्यावरणीय जिम्मेदारी

Question ID : 65497841994
Status : Answered
Chosen Option : 4

Q.24 कार्बन मोनोऑक्साइड में प्रत्येक 1.00 ग्राम कार्बन के लिए लगभग _____ ऑक्सीजन होती है।

- Ans
- 1. 1.33 ग्राम
 - 2. 2.66 ग्राम
 - 3. 4.11 ग्राम
 - 4. 0.23 ग्राम

Question ID : 65497841992
Status : Not Answered
Chosen Option : --

Q.25 भारतीय संविधान के अनुच्छेद _____ में कहा गया है कि 'सामाजिक और शैक्षिक रूप से पिछड़े वर्गों के लिए एक आयोग होगा जिसे राष्ट्रीय पिछड़ा वर्ग आयोग के रूप में जाना जाएगा'।

- Ans
- 1. 243Y (1)
 - 2. 243S (1)
 - 3. 124A (1)
 - 4. 338B (1)

Question ID : 65497842409
Status : Answered
Chosen Option : 4

Section : Quantitative Aptitude

Q.1 9 m ऊंचे खंभे की छाया $3\sqrt{3}$ m लंबी होने पर सूर्य का उन्नयन कोण क्या होगा?

Ans

1. 45°

2. 60°

3. 30°

4. 90°

Question ID : 65497842029
Status : Answered
Chosen Option : 2

Q.2 6 cm व्यास के एक ठोस तांबे के गोले को पिघलाकर निर्मित 0.1 mm त्रिज्या वाले तार की लंबाई (cm में) कितनी होगी?

Ans

1. 810000

2. 440000

3. 250000

4. 360000

Question ID : 65497844343
Status : Answered
Chosen Option : 4

Q.3 तीन अंकों की वह बड़ी से बड़ी संख्या ज्ञात कीजिए, जिसे 3, 4, 5 और 8 से विभाजित करने पर प्रत्येक स्थिति में शेषफल 2 बचे।

Ans

1. 122

2. 958

3. 962

4. 482

Question ID : 65497842010
Status : Answered
Chosen Option : 3

Q.4 यदि $\cot^2 \alpha + \tan^2 \alpha = 2$, जहाँ $0^\circ \leq \alpha \leq 90^\circ$ है, तो α का मान ज्ञात कीजिए।

Ans

1. 0°

2. 45°

3. 60°

4. 90°

Question ID : 65497842330
Status : Answered
Chosen Option : 2

Q.5 किसी मूलधन पर 12% की वार्षिक व्याज दर से 8 वर्षों में प्राप्त साधारण व्याज ₹4,800 है, उसी मूलधन पर 10% की चक्रवृद्धि व्याज की दर से, जिसपर व्याज वार्षिक रूप में संयोजित होता है, 3 वर्षों में प्राप्त होने वाला चक्रवृद्धि व्याज ज्ञात (₹ में) कीजिए।

- Ans**
- ✓ 1. 1,655
 - ✗ 2. 1,455
 - ✗ 3. 2,045
 - ✗ 4. 1,505

Question ID : 65497843330
Status : Answered
Chosen Option : 1

Q.6 एक समकोण त्रिभुज में न्यून कोणों के शीर्षों से माध्यिकाओं की लंबाई 7 cm और $4\sqrt{6}$ cm है। त्रिभुज के कर्ण की लंबाई (cm में) कितनी है?

- Ans**
- ✗ 1. $\frac{5}{2}\sqrt{29}$
 - ✗ 2. $3.5 + 2\sqrt{6}$
 - ✓ 3. $2\sqrt{29}$
 - ✗ 4. $\sqrt{29}$

Question ID : 65497842430
Status : Answered
Chosen Option : 3

Q.7 केंद्र O और 13 cm त्रिज्या वाले एक वृत्त में, केंद्र के दोनों ओर दो समानांतर जीवाएँ खींची जाती हैं। यदि एक जीवा की लंबाई 10 cm है और दोनों जीवाओं के बीच की दूरी 17 cm है, तो दोनों जीवाओं की लंबाई में अंतर (cm में) ज्ञात कीजिए।

- Ans**
- ✗ 1. 12
 - ✓ 2. 14
 - ✗ 3. 10
 - ✗ 4. 24

Question ID : 65497842226
Status : Answered
Chosen Option : 2

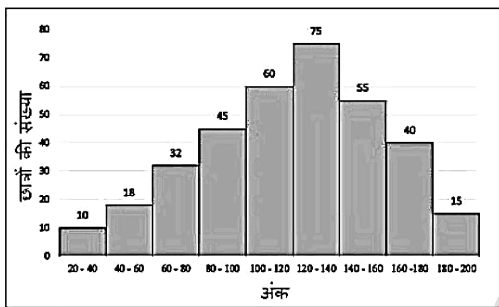
Q.8 बारह संख्याओं का औसत 42 है। अंतिम पाँच संख्याओं का औसत 40 है, और पहली चार संख्याओं का औसत 44 है। छठी संख्या पाँचवीं संख्या से 6 कम है और सातवीं संख्या से 5 कम है। छठी और सातवीं संख्याओं का औसत क्या है?

- Ans
- 1. 44.5
 - 2. 45.5
 - 3. 43.5
 - 4. 41.5

Question ID : 65497844335
Status : Answered
Chosen Option : 4

Q.9 दिया गया हिस्टोग्राम किसी कक्षा के गणित की परीक्षा में छात्रों के अंकों को प्रदर्शित करता है। छात्रों की कुल संख्या 350 है और परीक्षा का पूर्णांक 200 है।

ग्राफ का अध्ययन करें और उसके बाद दिए गए प्रश्न का उत्तर दें।



जिन छात्रों के अंक 100 से कम हैं, उनकी कुल संख्या, 120 और उससे अधिक अंक प्राप्त करने वाले छात्रों की कुल संख्या से कितने प्रतिशत (दशमलव के एक स्थान तक सही) कम है?

- Ans
- 1. 32.7%
 - 2. 43.2%
 - 3. 36.6%
 - 4. 51.8%

Question ID : 65497843346
Status : Answered
Chosen Option : 2

Q.10 k का वह मान ज्ञात कीजिए, जिससे संख्या $k53206k$, 6 से विभाज्य होगी।

- Ans
- 1. 4
 - 2. 1
 - 3. 7
 - 4. 2

Question ID : 65497842211
Status : Answered
Chosen Option : 1

Q.11 केंद्र O वाले वृत्त की एक जीवा AB है। C लघु त्रिज्यखंड में वृत्त की परिधि पर स्थित एक बिंदु है। यदि $\angle ABO = 40^\circ$ है, तो $\angle ACB$ का माप (डिग्री में) क्या है?

- Ans
- 1. 100°
 - 2. 120°
 - 3. 130°
 - 4. 110°

Question ID : 65497843336
Status : Answered
Chosen Option : 3

Q.12 एक वस्तु के अंकित मूल्य पर 20% और 25% की दो क्रमागत छूट ₹250 की एकल छूट के बराबर हैं। यदि वस्तु का अंकित मूल्य क्रय मूल्य से 25% अधिक है, तो वस्तु का क्रय मूल्य (₹ में) कितना है?

- Ans
- 1. 500
 - 2. 450
 - 3. 550
 - 4. 600

Question ID : 65497843023
Status : Answered
Chosen Option : 1

Q.13 यदि $a + b + c = 11$ और $ab + bc + ca = 28$ है, तो $a^3 + b^3 + c^3 - 3abc$ का मान ज्ञात कीजिए।

- Ans
- 1. 1639
 - 2. 407
 - 3. 2255
 - 4. 1093

Question ID : 65497842325
Status : Answered
Chosen Option : 2

Q.14 एक फल विक्रेता किसी ग्राहक को अपने पास मौजूद कुल संतरों में से 45% और एक संतरा बेचता है। फिर वह शेष संतरों के 20% और 2 और संतरे दूसरे ग्राहक को बेचता है। फिर वह बचे हुए संतरों के 90% संतरे तीसरे ग्राहक को बेचता है और उसके पास अभी भी 5 संतरे बच जाते हैं। फल विक्रेता के पास आरंभ में कितने संतरे थे?

- Ans
- 1. 100
 - 2. 120
 - 3. 111
 - 4. 121

Question ID : 65497842216
Status : Answered
Chosen Option : 2

Q.15 निम्नलिखित व्यंजक का मान बताइए:

$$\frac{\cos A}{1 - \tan A} + \frac{\sin A}{1 - \cot A} - \sin A$$

- Ans
- 1. $(1 + \sin A) \cos A$
 - 2. $\cos A$
 - 3. $1 + \cos A$
 - 4. $1 + \sin A$

Question ID : 65497842432
Status : Not Answered
Chosen Option : --

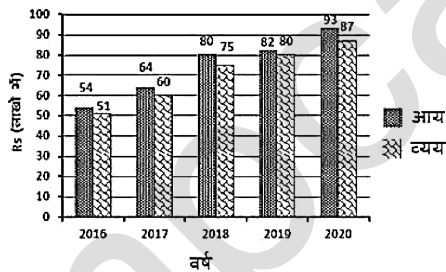
Q.16 यदि $(x+y)^3 - (x-y)^3 - 3y(2x^2 - 3y^2) = ky^3$ है, तो k का मान ज्ञात कीजिए।

- Ans
- 1. 11
 - 2. 10
 - 3. 10.5
 - 4. 8

Question ID : 65497842425
Status : Answered
Chosen Option : 1

Q.17 निम्न बार ग्राफ 5 वर्षों में एक व्यावसायिक फर्म के आय और व्यय को दर्शाता है। लाभ = आय - व्यय।

किस वर्ष में कंपनी को अधिकतम राशि प्राप्त हुई?



- Ans
- 1. 2017
 - 2. 2018
 - 3. 2016
 - 4. 2020

Question ID : 65497842030
Status : Answered
Chosen Option : 4

Q.18 एक त्रिभुज ABC में, कोण BAC का समद्विभाजक BC से बिंदु D पर इस प्रकार मिलता है कि $DC = 2BD$ है। यदि $AC - AB = 5$ cm है, तो AB की लंबाई (cm में) ज्ञात कीजिए।

- Ans
- 1. 12
 - 2. 10
 - 3. 5
 - 4. 7

Question ID : 65497842328
Status : Answered
Chosen Option : 3

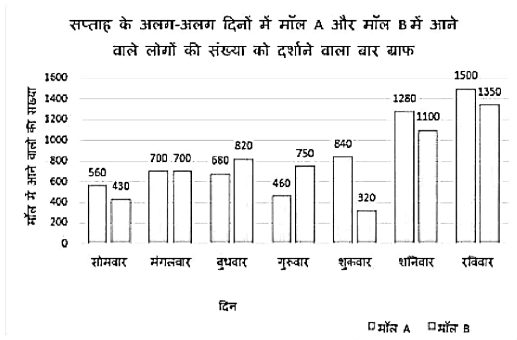
Q.19 निम्नलिखित व्यंजक का मान ज्ञात कीजिए:

$$\frac{1\frac{2}{3} \div \frac{5}{6} \times 6 + \frac{4}{5} \times \frac{1}{2} + \frac{2}{3}}{2 - \left[1\frac{1}{3} \times \left(-\frac{3}{5}\right) - 6 \left\{ \frac{3}{5} - \left(3 - \frac{3}{10}\right) \right\} \right]}$$

- Ans
- 1. $-\frac{1}{7}$
 - 2. $\frac{4}{3}$
 - 3. $\frac{1}{7}$
 - 4. $-\frac{4}{3}$

Question ID : 65497842011
Status : Not Answered
Chosen Option : --

Q.20 बार ग्राफ एक सप्ताह के विभिन्न दिनों में मॉल A और मॉल B में आने वाले लोगों की संख्या को दर्शाता है।



गुरुवार, शनिवार और रविवार (तीनों दिनों में मिलाकर) को मॉल A में आने वाले लोगों की कुल संख्या का, इन तीन दिनों में मिलाकर मॉल B में आने वाले लोगों की कुल संख्या से अनुपात कितना है?

- Ans
- ✓ 1. 81 : 80
 - ✗ 2. 25 : 27
 - ✗ 3. 27 : 25
 - ✗ 4. 80 : 81

Question ID : 65497843244

Status : Answered

Chosen Option : 1

Q.21 एक दुकानदार ने 60 पेंसिलें ₹5 में 4 की दर से तथा अन्य 60 पेंसिलें ₹3 में 2 की दर से खरीदीं। उसने सभी पेंसिलों को मिला दिया और उन्हें ₹4 में 3 की दर से बेच दिया। उसका लाभ या हानि प्रतिशत ज्ञात कीजिए।

- Ans
- ✗ 1. $2\frac{7}{8}\%$ लाभ
 - ✗ 2. $3\frac{1}{8}\%$ लाभ
 - ✗ 3. $2\frac{7}{8}\%$ हानि
 - ✓ 4. $3\frac{1}{33}\%$ हानि

Question ID : 65497842419

Status : Answered

Chosen Option : 4

Q.22 A और B ने कुछ राशियों का निवेश कर एक व्यवसाय शुरू किया। 8 महीने के अंत में A व्यवसाय से बाहर हो गया और अपना पैसा वापस ले लिया। A और B को वर्ष के अंत में 5 : 9 के अनुपात में लाभ प्राप्त हुआ। यदि B ने ₹36,000 का निवेश किया था, तो A ने कितनी राशि (₹ में) निवेश की थी?

- Ans
- ✗ 1. 36,000
 - ✓ 2. 30,000
 - ✗ 3. 25,000
 - ✗ 4. 20,000

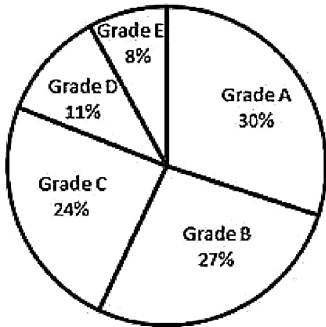
Question ID : 65497842319

Status : Answered

Chosen Option : 2

Q.23 निम्नांकित पाई चार्ट में 1800 छात्रों का प्रदर्शन ग्रेड में दिखाया गया है।

कितने छात्रों को या तो ग्रेड (Grade) D या ग्रेड (Grade) E मिला है?



- Ans
- 1. 342
 - 2. 352
 - 3. 345
 - 4. 359

Question ID : 65497842031
Status : Answered
Chosen Option : 1

Q.24 20 आदमी एक काम को 30 दिनों में समाप्त कर सकते हैं। उन्होंने काम करना शुरू किया, लेकिन 4 आदमियों ने 10 दिनों के बाद काम छोड़ दिया। काम कितने दिनों में पूरा होगा?

- Ans
- 1. 28
 - 2. 25
 - 3. 35
 - 4. 30

Question ID : 65497842422
Status : Answered
Chosen Option : 3

Q.25 अखिल पहले 12 km की दूरी को 16 km/h की चाल से और अगले 6 km की दूरी को 20 km/h की चाल से तय करता है। उसकी औसत चाल (km/h में) जात कीजिए।

Ans

1. $18\frac{1}{5}$

2. $17\frac{1}{7}$

3. $17\frac{1}{2}$

4. $16\frac{4}{5}$

Question ID : 65497842322

Status : Answered

Chosen Option : 2

Section : English Comprehension

Q.1 Select the most appropriate option that can substitute the underlined segment in the given sentence. If there is no need to substitute it, select 'No substitution required'.

I can't make out my mind about taking a vacation in winter.

Ans 1. made out

2. make up

3. No substitution required

4. make on

Question ID : 65497842048

Status : Answered

Chosen Option : 2

Q.2 Select the INCORRECTLY spelt word.

Ans 1. Announcement

2. Anonymous

3. Annivarsary

4. Anguish

Question ID : 65497842361

Status : Answered

Chosen Option : 3

Q.3 Sentences of a paragraph are given below in jumbled order. Arrange the sentences in the correct order to form a meaningful and coherent paragraph.

- A. They always shared machinery and goods as needed without a hitch.
- B. Then they had the first serious quarrel in 40 years of farming side by side.
- C. And unfortunately, the long collaboration fell apart.
- D. Two brothers lived on adjoining farms in a small village.

- Ans
- 1. DABC
 - 2. BCAD
 - 3. DBCA
 - 4. CADB

Question ID : 65497842049
Status : Answered
Chosen Option : 1

Q.4 Select the option that expresses the given sentence in active voice.

I have been informed of their decision.

- Ans
- 1. They are informing me of their decision.
 - 2. They had informed me of their decision.
 - 3. They informed me of their decision.
 - 4. They have informed me of their decision.

Question ID : 65497842038
Status : Answered
Chosen Option : 4

Q.5 Select the most appropriate synonym of the given word.

Arid

- Ans
- 1. Fertile
 - 2. Lively
 - 3. Dry
 - 4. Damp

Question ID : 65497842050
Status : Answered
Chosen Option : 3

Q.6 Select the most appropriate option to fill in the blank.

They called Mohan a _____ because he did not want to go into the dark lane.

- Ans
- 1. brave
 - 2. valiant
 - 3. hero
 - 4. coward

Question ID : 65497842463
Status : Answered
Chosen Option : 4

Q.7 The following sentence has been split into segments. One of them may contain an error. Identify the segment that contains a grammatical error. If you don't find any error, mark 'No error' as your answer.

He was formerly / a doctor of / the corporate hospital.

- Ans**
- 1. a doctor of
 - 2. No error
 - 3. He was formerly
 - 4. the corporate hospital

Question ID : 65497842339
Status : Answered
Chosen Option : 3

Q.8 Select the option that expresses the given sentence in direct speech.

The guard told the children to stay away from the flower beds.

- Ans**
- 1. The guard says to the children, "Stay away from the flower beds."
 - 2. The guard said, "Children, stay away from the flower beds."
 - 3. The guard said, "Children, should you stay away from the flower beds."
 - 4. The guard told to the children, "Stay away from the flower beds."

Question ID : 65497843359
Status : Answered
Chosen Option : 2

Q.9 Identify the segment in the sentence which contains the grammatical error.

Smita lived in this house since she was five years old.

- Ans**
- 1. in this house
 - 2. since she was
 - 3. five years old
 - 4. Smita lived

Question ID : 65497843350
Status : Answered
Chosen Option : 4

Q.10 Select the correct active voice of the given sentence.

The watchman has been bitten by a stray dog.

- Ans**
- 1. A stray dog bit the watchman.
 - 2. A stray dog is biting the watchman.
 - 3. A watchman has bitten the stray dog.
 - 4. A stray dog has bitten the watchman.

Question ID : 65497842342
Status : Answered
Chosen Option : 4

Q.11 Select the most appropriate meaning of the given idiom.

Blow your own trumpet

- Ans 1. Boast about one's own qualities
 2. Play on your instrument
 3. Keep away the dust from your instruments
 4. Practise playing music

Question ID : 65497842256
 Status : Answered
 Chosen Option : 1

Q.12 Select the option that can be used as a one-word substitute for the given group of words.

Able to be happy, successful, etc. again after something difficult or bad has happened

- Ans 1. Resilient
 2. Remnant
 3. Reluctant
 4. Resistant

Question ID : 65497842461
 Status : Answered
 Chosen Option : 1

Q.13 Select the most appropriate option to substitute the underlined segment in the given sentence. If there is no need to substitute it, select 'No substitution required'.

Hardly had we get in but the train started.

- Ans 1. we get in than
 2. we got in before
 3. No substitution required
 4. we got in when

Question ID : 65497842249
 Status : Answered
 Chosen Option : 4

Q.14 Identify the segment in the sentence which contains the grammatical error.

Our team have won the match.

- Ans 1. have
 2. the match
 3. won
 4. Our team

Question ID : 65497843348
 Status : Answered
 Chosen Option : 1

Q.15 Select the most appropriate synonym of the given word.

Tranquil

- Ans 1. Aware
 2. Dazed
 3. Alert
 4. Calm

Question ID : 65497842354
Status : Answered
Chosen Option : 4

Q.16 Select the option that can be used as a one-word substitute for the given group of words.

An animal with a spinal cord

- Ans 1. Vertebrate
 2. Invertebrate
 3. Mammal
 4. Amphibian

Question ID : 65497842359
Status : Answered
Chosen Option : 1

Q.17 Select the most appropriate ANTONYM of the given word.

Famished

- Ans 1. Volatile
 2. Starved
 3. Satiated
 4. Hesitant

Question ID : 65497843366
Status : Answered
Chosen Option : 3

Q.18 Select the most appropriate meaning of the given idiom.

A snake in the grass

- Ans 1. An unfortunate accident
 2. A hidden enemy
 3. A sudden death
 4. A good fortune

Question ID : 65497843368
Status : Answered
Chosen Option : 2

Q.19 The following sentence has been split into segments. One of them may contain an error. Identify the segment that contains a grammatical error. If you don't find any error, mark 'No error' as your answer.

A shop nearby / sell all the goods / of daily use.

- Ans**
- 1. A shop nearby
 - 2. No error
 - 3. of daily use
 - 4. sell all the goods

Question ID : 65497842135
Status : Answered
Chosen Option : 4

Q.20 Select the most appropriate ANTONYM of the given word.

Feeble

- Ans**
- 1. Fast
 - 2. Wild
 - 3. Strong
 - 4. Fickle

Question ID : 65497842254
Status : Answered
Chosen Option : 3

Comprehension:

In the following passage, some words have been deleted. Read the passage carefully and select the most appropriate option to fill in each blank.

A banker taped a picture, drawn by one of his small children, to his office wall. When he 1. _____ at work the next morning, he found the 2. _____ was covered by a 3. _____ notice, saying he was in 4. _____ of company policy which required personal items to be put away at night. 5. _____ a reaction was not just petty, it risked demotivating the banker completely. In short, it defied common sense.

SubQuestion No : 21

Q.21 Select the most appropriate option to fill in blank no. 1.

- Ans**
- 1. arrived
 - 2. turned
 - 3. reached
 - 4. achieved

Question ID : 65497842445
Status : Answered
Chosen Option : 3

Comprehension:

In the following passage, some words have been deleted. Read the passage carefully and select the most appropriate option to fill in each blank.

A banker taped a picture, drawn by one of his small children, to his office wall. When he 1. _____ at work the next morning, he found the 2. _____ was covered by a 3. _____ notice, saying he was in 4. _____ of company policy which required personal items to be put away at night. 5. _____ a reaction was not just petty, it risked demotivating the banker completely. In short, it defied common sense.

SubQuestion No : 22

Q.22 Select the most appropriate option to fill in blank no. 2.

- Ans**
- 1. child
 - 2. tape
 - 3. picture
 - 4. office

Question ID : 65497842446

Status : Answered

Chosen Option : 3

Comprehension:

In the following passage, some words have been deleted. Read the passage carefully and select the most appropriate option to fill in each blank.

A banker taped a picture, drawn by one of his small children, to his office wall. When he 1. _____ at work the next morning, he found the 2. _____ was covered by a 3. _____ notice, saying he was in 4. _____ of company policy which required personal items to be put away at night. 5. _____ a reaction was not just petty, it risked demotivating the banker completely. In short, it defied common sense.

SubQuestion No : 23

Q.23 Select the most appropriate option to fill in blank no. 3.

- Ans**
- 1. large
 - 2. considerable
 - 3. substantial
 - 4. generous

Question ID : 65497842447

Status : Answered

Chosen Option : 3

Comprehension:

In the following passage, some words have been deleted. Read the passage carefully and select the most appropriate option to fill in each blank.

A banker taped a picture, drawn by one of his small children, to his office wall. When he 1. _____ at work the next morning, he found the 2. _____ was covered by a 3. _____ notice, saying he was in 4. _____ of company policy which required personal items to be put away at night. 5. _____ a reaction was not just petty, it risked demotivating the banker completely. In short, it defied common sense.

SubQuestion No : 24

Q.24 Select the most appropriate option to fill in blank no. 4.

- Ans** 1. violation
 2. damage
 3. interruption
 4. disruption

Question ID : 65497842448

Status : Answered

Chosen Option : 1

Comprehension:

In the following passage, some words have been deleted. Read the passage carefully and select the most appropriate option to fill in each blank.

A banker taped a picture, drawn by one of his small children, to his office wall. When he 1. _____ at work the next morning, he found the 2. _____ was covered by a 3. _____ notice, saying he was in 4. _____ of company policy which required personal items to be put away at night. 5. _____ a reaction was not just petty, it risked demotivating the banker completely. In short, it defied common sense.

SubQuestion No : 25

Q.25 Select the most appropriate option to fill in blank no. 5.

- Ans** 1. Such
 2. That
 3. This
 4. Which

Question ID : 65497842449

Status : Answered

Chosen Option : 1