

# Combined Graduate Level Examination 2020 Tier-I

Exam Date	20/08/2021
Exam Time	9:00 AM - 10:00 AM
Subject	Combined Graduate Level Examination 2020 Tier 1

Section : General Intelligence and Reasoning

Q.1 वर्गों के उस समूह का चयन करें, जिनके बीच के संबंध को निम्न वेन आरेख द्वारा सर्वोत्तम ढंग से दर्शाया गया है।



Ans

- ✗ 1. स्टेशनरी, स्टेपलर, इरेज़र  
 ✗ 2. डॉक्टर, पिता, बहनें  
 ✗ 3. नौकरशाह, पुरुष, महिलाएं  
 ✓ 4. बहिर्मुखी, पुरुष, रूपवान

Question ID : 81616113337

Status : Answered

Chosen Option : 3

Q.2 नीचे चार संख्या-युग्म दिए गए हैं जिनमें से तीन किसी संदर्भ में एक समान हैं और उनमें से एक असंगत है। उस असंगत संख्या-युग्म का चयन करें।

Ans

- ✓ 1. (547, 258)  
 ✗ 2. (723, 144)  
 ✗ 3. (812, 121)  
 ✗ 4. (546, 225)

Question ID : 81616112316

Status : Answered

Chosen Option : 1

Q.3 वह विकल्प चुनें जिसमें संख्याएँ एक दूसरे से उसी तरह से संबंधित हैं जैसे नीचे दिए गए सेट की संख्याएँ एक दूसरे से संबंधित हैं।

(12, 121, 169)

Ans

- ✗ 1. (11, 144, 196)  
 ✗ 2. (14, 196, 225)  
 ✗ 3. (16, 161, 256)  
 ✓ 4. (17, 256, 324)

Question ID : 81616112318

Status : Answered

Chosen Option : 4

Q.4 दिए गए विकल्पों में से वह वर्ण-समूह चुनें जो निम्नलिखित शृंखला में प्रश्नचिह्न (?) के स्थान पर आएगा?

MCN, NCO, OCP, PCQ, ?

- Ans  1. PQR  
 2. QCR  
 3. OCQ  
 4. PCS

Question ID : 81616113414  
 Status : Answered  
 Chosen Option : 2

Q.5 Four words have been given, out of which three are alike in some manner and one is different. Select the word that is different.

- Ans  1. Diarrhoea  
 2. Scurvy  
 3. Goitre  
 4. Anaemia

Question ID : 81616112306  
 Status : Answered  
 Chosen Option : 1

Q.6 एक ही पासे की दो अलग-अलग स्थितियाँ दर्शाई गई हैं, जिनके फलकों पर अक्षर F, G, H, I, J और K अंकित किए गए हैं। वह अक्षर चुनें जो अक्षर 'F' वाले फलक के विपरीत फलक पर आएगा।



- Ans  1. I  
 2. H  
 3. J  
 4. G

Question ID : 81616112323  
 Status : Answered  
 Chosen Option : 4

Q.7 अक्षरों के उस संयोजन का चयन करें जो दी गई शृंखला में रिक्त स्थानों में क्रमिक रूप से रखे जाने पर शृंखला को पूर्ण करेगा।

JL\_N\_J\_PND\_NP\_DJ\_P\_D

- Ans  1. M, D, N, P, N, J, O  
 2. P, M, D, N, J, O, N  
 3. P, D, M, J, N, O, N  
 4. M, D, P, N, J, N, O

Question ID : 81616113422  
 Status : Answered  
 Chosen Option : 3

Q.8 दिए गए विकल्पों में से वह संख्या चुनें जो निम्नलिखित शृंखला में प्रश्नचिह्न (?) के स्थान पर आएगी?

121, 169, 225, 289, ?

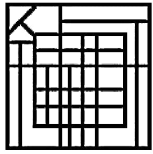
- Ans
- 1. 410
  - 2. 305
  - 3. 398
  - 4. 361

Question ID : 81616112415

Status : Answered

Chosen Option : 4

Q.9 वह विकल्प आकृति चुनें जो दी गई आकृति में सन्निहित है (आकृति को घुमाना नहीं है)।



Ans

- 1.
- 2.
- 3.
- 4.

Question ID : 81616113435

Status : Marked For Review

Chosen Option : 2

Q.10 Select the option in which the words share the same relationship as that shared by the given pair of words.

**Pulmonologist : Lungs**

- Ans
- 1. Endocrinologist : Glands
  - 2. Ophthalmologist : Ears
  - 3. Nephrologist : Nerves
  - 4. Bones : Orthopaedic

Question ID : 81616113419

Status : Answered

Chosen Option : 1

Q.11 गणितीय चिह्नों का वह सही संयोजन चुनें जिसे क्रमिक रूप से \* चिह्नों के स्थान पर रखने से समीकरण संतुलित हो जाएगा।

$$45 * 24 * 72 * 20 * 12 * 7$$

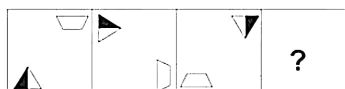
- Ans
- 1. =, ×, +, ÷, -
  - 2. ×, ÷, =, -, +
  - 3. ÷, ×, +, -, =
  - 4. +, ÷, -, =, ×

Question ID : 81616112319

Status : Answered

Chosen Option : 2

Q.12 दिए गए विकल्पों में से वह आकृति चुनें जो निम्नलिखित शृंखला में प्रश्नचिह्न (?) के स्थान पर आएगी।



Ans

- 1.
- 2.
- 3.
- 4.

Question ID : 81616112422

Status : Answered

Chosen Option : 2



Q.13 यदि दर्पण को चित्र के अनुसार 'PQ' पर रखा जाता है तो दिए गए संयोजन का सही दर्पण प्रतिबिंब चयनित कीजिए?

A p 6 9 D q M t  $\begin{matrix} P \\ | \\ Q \end{matrix}$

Ans

1. t M p D e q A

2. t M p D e q A

3. v b e d D p M t

4. v b e d D p M t

Question ID : 81616113436

Status : Answered

Chosen Option : 2

Q.14 अंकित, संजय और रोशन नामक तीन क्रिकेटर्स की विभिन्न स्रोतों से मासिक आय 12 : 9 : 7 के अनुपात में है, और उनका व्यय 15 : 9 : 8 के अनुपात में है। यदि अंकित भविष्य में निवेश के लिए अपनी 25% आय की बचत करता है, तो अंकित, संजय और रोशन की बचत का अनुपात क्या है?

Ans

1. 23 : 18 : 11

2. 5 : 8 : 7

3. 15 : 18 : 11

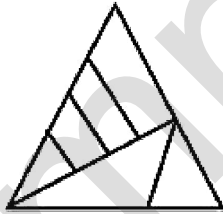
4. 25 : 16 : 13

Question ID : 81616113431

Status : Not Answered

Chosen Option : --

Q.15 दी गई आकृति में कितने त्रिभुज हैं?



Ans

1. 7

2. 8

3. 9

4. 10

Question ID : 81616112322

Status : Answered

Chosen Option : 2

Q.16 वह विकल्प चुनें जो चौथी संख्या से उसी प्रकार संबंधित है, जिस प्रकार दूसरी संख्या से पहली संख्या और छठी संख्या से पाँचवीं संख्या संबंधित है।

11 : 81 :: ? : 121 :: 8 : 36

- Ans
- 1. 10
  - 2. 12
  - 3. 18
  - 4. 13

Question ID : 81616113325

Status : Answered

Chosen Option : 4

Q.17 दिए गए पैटर्न का ध्यानपूर्वक अध्ययन करें और वह संख्या चुनें जो प्रश्नचिह्न (?) के स्थान पर आ सकती है?

12 34 110  
6 13 35  
9 ? 60

- Ans
- 1. 21
  - 2. 23
  - 3. 18
  - 4. 19

Question ID : 81616113327

Status : Answered

Chosen Option : 1

Q.18 दिए गए कथनों और निष्कर्षों को ध्यान से पढ़ें। कथनों में दी गई जानकारी को सत्य मानते हुए, भले ही वह सामान्य रूप से ज्ञात तथ्यों से भिन्न प्रतीत हो, निर्धारित करें कि कौन से निष्कर्ष दिए गए कथनों का तार्किक रूप से अनुसरण करते हैं।

कथन:

सभी रॉकेट, चेन हैं।  
100% पदक, लॉकेट हैं।  
कुछ अंगूठियाँ, चेन हैं।

निष्कर्ष:

- I. सभी चेन, पदक हैं।
- II. सभी पदकों के अंगूठियाँ होने की संभावना है।

- Ans
- 1. केवल निष्कर्ष II अनुसरण करता है
  - 2. न तो निष्कर्ष I और न ही निष्कर्ष II अनुसरण करता है
  - 3. केवल निष्कर्ष I अनुसरण करता है
  - 4. निष्कर्ष I और II दोनों अनुसरण करते हैं

Question ID : 81616113323

Status : Not Answered

Chosen Option : --

Q.19 एक परिवार में दो युगल हैं। कोमली के दो बच्चे हैं। मधुरिमा, ओमप्रकाश की पत्नी है जो कि मणि का भाई है। पिकी, कोमली की बेटी है। उर्मिला, संजू की बहन है जो कि ओमप्रकाश का बेटा है। तरुण, मणि का बेटा है जो कि पुरुष है।

तो मधुरिमा का कोमली से क्या संबंध है?

- Ans  1. जेठानी/देवरानी/ननद/भाभी  
 2. माँ  
 3. बहन  
 4. चाची

Question ID : 81616113423

Status : Answered

Chosen Option : 1

Q.20 वह सही विकल्प चुनें जो दिए गए शब्दों को उस क्रम में दर्शाता है जिस क्रम में वे अंग्रेजी शब्दकोश में आते हैं।

1. Hypodermic
2. Hypocrite
3. Hysterical
4. Hypothermia
5. Hypotenuse

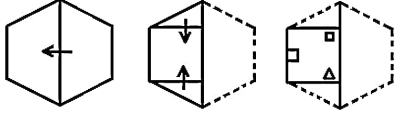
- Ans  1. 1, 2, 3, 4, 5  
 2. 2, 1, 5, 4, 3  
 3. 3, 5, 1, 2, 4  
 4. 4, 3, 5, 1, 2

Question ID : 81616112405

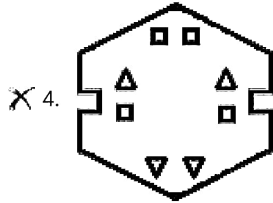
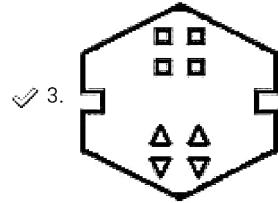
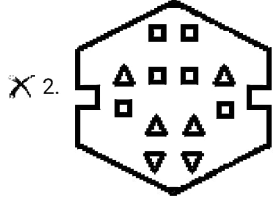
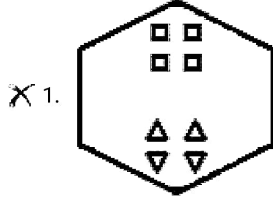
Status : Answered

Chosen Option : 2

Q.21 नीचे दी गई आकृति में कागज के एक टुकड़े को मोड़ने का क्रम और उस मुड़े हुए कागज को काटने का तरीका दर्शाया गया है। इस कागज को खोलने पर यह कैसा दिखेगा?



Ans



Question ID : 81616113437

Status : Answered

Chosen Option : 3

Q.22 वह विकल्प चुनें जो तीसरे शब्द से उसी प्रकार संबंधित है, जिस प्रकार दूसरा शब्द पहले शब्द से संबंधित है।

वाराणसी : गंगा :: मथुरा : ?

Ans

X 1. गंगा

X 2. गोदावरी

✓ 3. यमुना

X 4. नर्मदा

Question ID : 81616112408

Status : Not Answered

Chosen Option : --

Q.23 किसी विशिष्ट कूटभाषा में 'INHALE' को 'REEDIH' के रूप में लिखा जाता है। तो उसी भाषा में 'MIGHTY' को कैसे लिखा जाएगा?

- Ans  1. MILCCP  
 2. CCILMP  
 3. MCLICP  
 4. IMCLCP

Question ID : 81616113319  
 Status : Not Answered  
 Chosen Option : --

Q.24 नीचे चार वर्ण-समूह दिए गए हैं जिनमें से तीन किसी संदर्भ में एक समान हैं और उनमें से एक असंगत है। उस असंगत वर्ण-समूह का चयन करें।

- Ans  1. QL  
 2. KP  
 3. GT  
 4. MN

Question ID : 81616112406  
 Status : Answered  
 Chosen Option : 1

Q.25 किसी विशिष्ट कूटभाषा में 'RAJ' को '87' के रूप में और 'GITA' को '148' के रूप में लिखा जाता है। तो उसी भाषा में 'VARUN' को कैसे लिखा जाएगा?

- Ans  1. 380  
 2. 403  
 3. 234  
 4. 176

Question ID : 81616112310  
 Status : Answered  
 Chosen Option : 3

Section : General Awareness

Q.1 The scientific study of birds is called \_\_\_\_\_.

- Ans  1. gerontology  
 2. ornithology  
 3. pomology  
 4. ichthyology

Question ID : 81616113345  
 Status : Answered  
 Chosen Option : 2

Q.2 \_\_\_\_\_ include/s glycogen, poly- $\beta$ - hydroxybutyrate granules, sulphur granules and gas vesicles.

- Ans  1. Mesosomes  
 2. Cytoplasm  
 3. Plasma membrane  
 4. Flagella

Question ID : 81616112434  
Status : Not Answered  
Chosen Option : --

Q.3 A type of court called 'Kantakasodhana' was prevalent in the \_\_\_\_\_ Empire.

- Ans  1. Mauryan  
 2. Rashtrakuta  
 3. Kushana  
 4. Chola

Question ID : 81616112341  
Status : Not Answered  
Chosen Option : --

Q.4 What is the boiling point at standard atmospheric pressure at sea-level and 45° latitude of water on the Celsius scale?

- Ans  1. 100°C  
 2. 200°C  
 3. 150°C  
 4. 50°C

Question ID : 81616112334  
Status : Not Answered  
Chosen Option : --

Q.5 निम्न में से किसने जनवरी 2021 में 10,000 m दौड़ में राष्ट्रीय 'अंडर-20' रिकॉर्ड को तोड़ दिया?

- Ans  1. नरेश कुमार  
 2. अमित खत्री  
 3. परमदीप मोर  
 4. राहुल बिंद

Question ID : 81616113359  
Status : Not Answered  
Chosen Option : --

Q.10 समाज के साथ सीमित उत्पादक संसाधनों के कारण अपेक्षाकृत दुर्लभ वस्तुओं के बीच चयन की समस्या को \_\_\_\_\_ की मदद से चित्रित किया जा सकता है।

- Ans  1. उत्पादन संभावना वक्र  
 2. सीमांत उपयोगिता वक्र  
 3. मांग वक्र  
 4. बजट रेखा

Question ID : 81616112331  
 Status : Not Answered  
 Chosen Option : --

Q.11 निम्न में से किस राज्य में हर वर्ष 'इको रिट्रीट' महोत्सव आयोजित किया जाता है?

- Ans  1. तमिलनाडु  
 2. असम  
 3. ओडिशा  
 4. बिहार

Question ID : 81616113338  
 Status : Answered  
 Chosen Option : 3

Q.12 निम्न में से कौन सी नदी गुजरात राज्य में अरब सागर की कैवे की खाड़ी (खंभात की खाड़ी) में गिरती है?

- Ans  1. कृष्णा  
 2. कावेरी  
 3. ताप्ती  
 4. गोदावरी

Question ID : 81616112337  
 Status : Not Answered  
 Chosen Option : --

Q.13 निम्न में से किस राज्य में राज्यपाल को कानून और व्यवस्था तथा उससे संबंधित उसके कार्यों के निर्हवन के संबंध में संविधान के अनुच्छेद 371H के तहत विशेष जिम्मेदारी दी गई है?

- Ans  1. सिक्किम  
 2. अरुणाचल प्रदेश  
 3. मिजोरम  
 4. नागालैंड

Question ID : 81616112346  
 Status : Not Answered  
 Chosen Option : --

Q.14 वर्ष 2020 में, किस भारतीय राज्य ने गैर-संक्रामक रोग की रोकथाम और नियंत्रण के लिए इस वर्ष का 'यूएन इंटरएजेंसी-टास्क फोर्स' (UNIATF) का पुरस्कार जीता?

- Ans  1. केरल  
 2. गोवा  
 3. गुजरात  
 4. तमिलनाडु

Question ID : 81616112445  
 Status : Not Answered  
 Chosen Option : --

Q.15 निम्न में से किस राज्य को वर्ष 2019-2020 के लिए पहाड़ी और उत्तर-पूर्वी राज्यों के बीच मत्स्यपालन क्षेत्र में सर्वश्रेष्ठ राज्य होने के लिए केंद्र सरकार द्वारा सम्मानित किया गया था?

- Ans  1. असम  
 2. सिक्किम  
 3. मिजोरम  
 4. त्रिपुरा

Question ID : 81616113449  
 Status : Not Answered  
 Chosen Option : --

Q.16 फरवरी 2021 में निम्न में से किस राज्य में भारत के पहले जेंडर पार्क का उद्घाटन किया गया है?

- Ans  1. केरल  
 2. पश्चिम बंगाल  
 3. ओडिशा  
 4. कर्नाटक

Question ID : 81616113462  
 Status : Answered  
 Chosen Option : 1

Q.17 सबसे लंबे पंख फैलाव (wingspan) वाला विशालतम समुद्री पक्षी निम्न में से कौन सा है?

- Ans  1. फ्रिगेटबर्ड  
 2. आँक  
 3. वंडरिंग अल्बट्रॉस  
 4. बूबी

Question ID : 81616113447  
 Status : Not Answered  
 Chosen Option : --



Q.18 निम्न में से किस खनिज से आतिशबाजी में हरा रंग उत्पन्न होता है?

- Ans
- 1. तांबा
  - 2. सोडियम
  - 3. बेरियम
  - 4. जस्ता

Question ID : 81616113342  
Status : Not Answered  
Chosen Option : --

Q.19 जनवरी 2021 तक प्राप्त जानकारी के अनुसार किस भारतीय राज्य में सबसे अधिक संख्या में बड़े बांध थे?

- Ans
- 1. महाराष्ट्र
  - 2. तमिलनाडु
  - 3. राजस्थान
  - 4. गुजरात

Question ID : 81616112440  
Status : Not Answered  
Chosen Option : --

Q.20 सी. राजगोपालाचारी ने निम्न में से किस राज्य में नमक सत्याग्रह का नेतृत्व किया था?

- Ans
- 1. राजस्थान
  - 2. गुजरात
  - 3. महाराष्ट्र
  - 4. तमिलनाडु

Question ID : 81616113453  
Status : Not Answered  
Chosen Option : --

Q.21 दिल्ली सल्तनत की पहली और अंतिम महिला शासिका कौन थी?

- Ans
- 1. रानी दुर्गावती
  - 2. रजिया सुल्तान
  - 3. सुल्ताना चाँद बीबी
  - 4. नूरजहाँ

Question ID : 81616113350  
Status : Not Answered  
Chosen Option : --

Q.6 अक्टूबर 2020 में, \_\_\_\_\_ भारतीय समुद्र तटों को यू.एन.ई.पी. (UNEP), यू.एन.डब्ल्यू.टी.ओ. (UNWTO), एफ.ई.ई. (FEE) और आई.यू.सी.एन. (IUCN) जैसे प्रख्यात सदस्यों वाली अंतरराष्ट्रीय जूरी द्वारा 'ब्लू फ्लैग' प्रमाणन से सम्मानित किया गया।

- Ans
- 1. 4
  - 2. 6
  - 3. 10
  - 4. 8

Question ID : 81616112453

Status : Not Answered

Chosen Option : --

Q.7 आई.डी.बी.आई. (भारतीय औद्योगिक विकास बैंक) का मुख्यालय निम्न में से किस राज्य में स्थित है?

- Ans
- 1. महाराष्ट्र
  - 2. हरियाणा
  - 3. पश्चिम बंगाल
  - 4. कर्नाटक

Question ID : 81616113441

Status : Not Attempted and Marked For Review

Chosen Option : --

Q.8 निम्न में से किस फिल्म को 93वें अकादमी अवार्ड्स में 'अंतरराष्ट्रीय फीचर फिल्म' श्रेणी के लिए भारत की आधिकारिक प्रविष्टि के रूप में चयनित किया गया है?

- Ans
- 1. द स्काई इज पिंक
  - 2. जल्लीकट्टु
  - 3. गुलाबो सिताबो
  - 4. एक हज़ाराची नोट

Question ID : 81616112451

Status : Answered

Chosen Option : 2

Q.9 निम्न में से किस स्थल पर भगवान बुद्ध ने चार महान सत्य पर अपना प्रथम उपदेश दिया था?

- Ans
- 1. राजगीर
  - 2. बोध गया
  - 3. सारनाथ
  - 4. लुम्बिनी

Question ID : 81616113353

Status : Answered

Chosen Option : 4

Q.22 पदावली कीर्तन, मध्यकालीन पश्चिम बंगाल (15वीं से 17वीं शताब्दी) में \_\_\_\_\_ की प्रशंसा में रचित गीतों को संदर्भित करता है।

- Ans
- 1. विष्णु
  - 2. शिव
  - 3. शक्ति
  - 4. ब्रह्मा

Question ID : 81616112329  
Status : Not Answered  
Chosen Option : --

Q.23 निम्न में से कौन इंडियन प्रीमियर लीग (IPL) के संस्थापक और पहले अध्यक्ष और कमिश्नर थे?

- Ans
- 1. जगमोहन डालमिया
  - 2. संदीप पाटिल
  - 3. राज सिंह डूंगरपुर
  - 4. ललित मोदी

Question ID : 81616112449  
Status : Not Answered  
Chosen Option : --

Q.24 योजना आयोग एवं भारतीय राष्ट्रीय एकता परिषद के अध्यक्ष निम्न में से कौन हैं?

- Ans
- 1. राष्ट्रपति
  - 2. प्रधानमंत्री
  - 3. उप राष्ट्रपति
  - 4. महान्यायवादी

Question ID : 81616113458  
Status : Answered  
Chosen Option : 2

Q.25 जनवरी 2021 की स्थिति के अनुसार, विश्व वन्यजीव कोष के भारतीय पर्यावरण शिक्षा कार्यक्रम के ब्रांड एंबेसडर कौन थे?

- Ans
- 1. एम.एस. धोनी
  - 2. विश्वनाथन आनंद
  - 3. दीया मिर्जा
  - 4. विराट कोहली

Question ID : 81616113456  
Status : Not Answered  
Chosen Option : --

**Q.1** 40 km की दूरी तय करने में A, B से 2 h अधिक लेता है। अगर A अपनी चाल को दोगुनी करता है, तो 80 km तय करने में वह B से  $1\frac{1}{2}$  h अधिक लेता है। B को अपनी चाल से 120 km की दूरी तय करने में कितना समय (h में) लगेगा?

**Ans**

✓ 1.  $1\frac{1}{2}$

✗ 2.  $1\frac{2}{3}$

✗ 3.  $1\frac{1}{3}$

✗ 4.  $1\frac{1}{4}$

Question ID : 81616113372

Status : Not Answered

Chosen Option : --

**Q.2** यदि  $\sin(20+x)^\circ = \cos 60^\circ$ ,  $0 \leq (20+x) \leq 90$  है, तो  $2\sin^2(3x+15)^\circ - \operatorname{cosec}^2(2x+10)^\circ$  का मान ज्ञात करें।

**Ans**

✗ 1. 3

✗ 2. -2

✗ 3.  $-\frac{1}{3}$

✓ 4. -3

Question ID : 81616112371

Status : Answered

Chosen Option : 2

**Q.3** यदि  $\left(2a + \frac{3}{a} - 1\right) = 11$  है, तो  $\left(4a^2 + \frac{9}{a^2}\right)$  का मान ज्ञात करें।

**Ans**

✓ 1. 132

✗ 2. 121

✗ 3. 110

✗ 4. 148

Question ID : 81616112366

Status : Answered

Chosen Option : 1

Q.4  $(x - y + z)^2 - (x - y - z)^2$  का मान ज्ञात करें।

- Ans
- 1.  $4yz - 4xz$
  - 2.  $2xz + 2yz$
  - 3.  $4xz - 4yz$
  - 4.  $4xz + 4yz$

Question ID : 81616112465  
Status : Answered  
Chosen Option : 1

Q.5 किसी वृत्त के चतुर्थांश का क्षेत्रफल  $\frac{\pi}{9}m^2$  है। इसकी त्रिज्या का मान (m में) ज्ञात करें।

- Ans
- 1.  $\frac{3}{2}$
  - 2.  $\frac{1}{3}$
  - 3.  $\frac{2}{3}$
  - 4.  $\frac{1}{2}$

Question ID : 81616113474  
Status : Answered  
Chosen Option : 3

Q.6 निम्न व्यंजक का मान ज्ञात करें।

$$3 \times 8 \div 9 \text{ of } 6 - 2 \div 3 \times (5 - 2) \times 2 + 18 \div 3 \text{ of } 3$$

- Ans
- 1.  $-1\frac{5}{9}$
  - 2.  $2\frac{12}{13}$
  - 3.  $2\frac{1}{3}$
  - 4.  $-4$

Question ID : 81616112455  
Status : Not Answered  
Chosen Option : --

Q.7 निम्नांकित तालिका का अध्ययन करें और उसके बाद दिए गए प्रश्न का उत्तर दें।  
तालिका 50 व्यक्तियों की दैनिक आय दर्शाती है।

आय (₹)	व्यक्तियों की संख्या
200 से कम	12
250 से कम	26
300 से कम	34
350 से कम	40
400 से कम	50

₹200 से कम कमाने वाले व्यक्तियों की संख्या का, ₹300 या उससे अधिक कमाने वाले व्यक्तियों की संख्या से अनुपात ज्ञात करें।

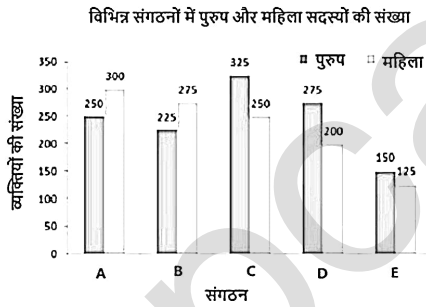
- Ans
1. 6 : 5
2. 3 : 10
3. 3 : 4
4. 6 : 17

Question ID : 81616112779

Status : Answered

Chosen Option : 3

Q.8 दिया गया दंड आरेख पांच संस्थानों A, B, C, D और E में पुरुषों और महिलाओं की संख्या को दर्शाता है।



किस संस्थान में पुरुषों की संख्या, और सभी संस्थानों में महिलाओं की औसत संख्या के बीच अंतर न्यूनतम है?

- Ans
1. D
2. C
3. A
4. B

Question ID : 81616113384

Status : Answered

Chosen Option : 3

Q.9 A का वजन, B के वजन से 20% अधिक है, जिसका वजन C के वजन से 30% अधिक है। A का वजन, C के वजन से कितना प्रतिशत अधिक है?

- Ans
- 1. 44
  - 2. 35.89
  - 3. 69
  - 4. 56

Question ID : 81616112357  
Status : Answered  
Chosen Option : 4

Q.10 चौदह व्यक्ति, किसी कार्य को 18 दिन में पूरा कर सकते हैं। 5 दिन कार्य करने के बाद, 6 मजदूर कार्य छोड़ देते हैं और कार्य के अंतिम दिन वापस कार्य शुरू करते हैं। कार्य कितने दिनों में पूरा हुआ?

- Ans
- 1. 21
  - 2. 12
  - 3. 24
  - 4. 27

Question ID : 81616112361  
Status : Not Answered  
Chosen Option : --

Q.11 यदि  $a^2 + b^2 + c^2 + 216 = 12(a + b - 2c)$  है, तो  $\sqrt{ab - bc - ca}$  का मान ज्ञात करें।

- Ans
- 1.  $8\sqrt{5}$
  - 2.  $4\sqrt{5}$
  - 3.  $6\sqrt{5}$
  - 4.  $3\sqrt{5}$

Question ID : 81616113375  
Status : Not Answered  
Chosen Option : --

Q.12  $x\%$  वार्षिक साधारण ब्याज की दर पर, कोई निश्चित राशि 3 वर्ष में ₹81,840 और 5 वर्ष में ₹92,400 हो जाती है। यदि ब्याज दर  $(x+2)\%$  हो जाती है, तो कितने वर्ष में वही राशि स्वयं की दोगुनी हो जाएगी?

- Ans
- 1. 10
  - 2. 20
  - 3. 8
  - 4.  $12\frac{1}{2}$

Question ID : 81616112360  
Status : Answered  
Chosen Option : 1

Q.13 पांच क्रमागत विषम प्राकृतिक संख्याओं के वर्गों का औसत 233 है। सबसे बड़ी संख्या और सबसे छोटी संख्या का औसत ज्ञात करें।

- Ans
- 1. 17
  - 2. 15
  - 3. 13
  - 4. 11

Question ID : 81616113466

Status : Not Answered

Chosen Option : --

Q.14 किसी वृत्त में, जीवाएं AB और CD, E पर प्रतिच्छेदित करती हैं। यदि  $CD = 16$  cm,  $DE = 6$  cm,  $AE = 12$  cm और  $BE = x$  cm है, तो  $x$  का मान ज्ञात करें।

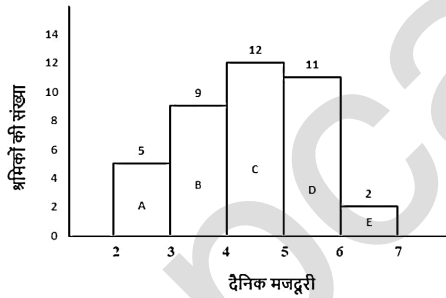
- Ans
- 1. 5
  - 2. 6
  - 3. 17
  - 4. 9

Question ID : 81616113478

Status : Not Answered

Chosen Option : --

Q.15 दैनिक मजदूरी (₹100 के गुणक में) की सीमा के आधार पर किसी कारखाने के 39 श्रमिकों को पांच समूहों (A, B, C, D, E) में बांटा गया है। इस वर्गीकरण को दिए गए आयतचित्र में दर्शाया गया है।



₹200 या अधिक लेकिन ₹400 से कम दैनिक मजदूरी वाले कर्मचारियों की संख्या का, ₹400 या अधिक लेकिन ₹600 से कम दैनिक मजदूरी वाले कर्मचारियों की संख्या से अनुपात ज्ञात करें।

- Ans
- 1. 23 : 14
  - 2. 23 : 41
  - 3. 41 : 23
  - 4. 14 : 23

Question ID : 81616113386

Status : Not Answered

Chosen Option : --



Q.16 किसी वस्तु पर इसके क्रय मूल्य से 27% अधिक अंकित किया गया है। यदि अंकित मूल्य पर  $x\%$  की छूट देने पर भी 6.68% का लाभ हो, तो  $x$  का मान ज्ञात करें।

- Ans
- 1. 16
  - 2. 15
  - 3. 20
  - 4. 12.5

Question ID : 81616113366  
Status : Not Answered  
Chosen Option : --

Q.17 केंद्र O और 13 cm त्रिज्या वाले वृत्त में, चाप AB खींचा जाता है। A और B पर खींची गई स्पर्श रेखाएँ, P पर इस प्रकार प्रतिच्छेदित करती हैं कि  $\angle APB = 60^\circ$  है। यदि केंद्र O से AB की दूरी 5 cm है, तो AP की लंबाई (cm में) ज्ञात करें।

- Ans
- 1. 12
  - 2. 24
  - 3. 11
  - 4. 22

Question ID : 81616112368  
Status : Not Answered  
Chosen Option : --

Q.18  $\triangle ABC$  में, भुजा AB पर बिंदु D इस प्रकार है कि  $BD = 3$  cm और  $DA = 4$  cm है। BC पर बिंदु E इस प्रकार है कि  $DE \parallel AC$  है।  $\triangle BDE$  का क्षेत्रफल : समलंब चतुर्भुज ACED का क्षेत्रफल का मान ज्ञात करें।

- Ans
- 1. 33 : 16
  - 2. 16 : 33
  - 3. 9 : 40
  - 4. 40 : 9

Question ID : 81616113481  
Status : Not Answered  
Chosen Option : --

Q.19  $\tan 35^\circ \cot 40^\circ \tan 45^\circ \cot 50^\circ \tan 55^\circ$  का मान ज्ञात करें।

- Ans
- 1.  $\frac{1}{2}$
  - 2. -1
  - 3.  $\frac{1}{\sqrt{2}}$
  - 4. 1

Question ID : 81616112877  
Status : Not Answered  
Chosen Option : --

**Q.20** त्रिभुज ABC एक समबाहु त्रिभुज है। AB और AC पर क्रमशः बिंदु D और E इस प्रकार स्थित हैं कि DE, BC के समानांतर है और DE की लंबाई BC की आधी है। यदि  $AD + CE + BC = 30$  cm है, तो चतुर्भुज BCED का परिमाण (cm में) ज्ञात करें।

- Ans
1. 45
2. 37.5
3. 35
4. 25

Question ID : 81616112470  
Status : Not Answered  
Chosen Option : --

**Q.21** निम्नांकित तालिका का अध्ययन करें और उसके बाद दिए गए प्रश्न का उत्तर दें। तालिका में दिए गए आंकड़े पांच संस्थानों में चार भिन्न-भिन्न विषयों में अध्ययन करने वाले छात्रों की संख्या को दर्शाते हैं।

संस्थान	कला	विज्ञान	वाणिज्य	कंप्यूटर विज्ञान
A	36	48	59	57
B	45	54	55	48
C	55	36	56	51
D	45	48	55	53
E	48	44	52	55

संस्थानों A और C में मिलाकर कंप्यूटर विज्ञान का अध्ययन करने वाले कुल छात्रों की संख्या, संस्थानों B और D में कला का अध्ययन करने वाले छात्रों की संख्या की कितने प्रतिशत है?

- Ans
1. 120
2. 83.3
3. 108
4. 200

Question ID : 81616112781  
Status : Answered  
Chosen Option : 1

**Q.22** A ने B को कोई वस्तु 25% लाभ पर बेची। B ने C को यह वस्तु 15% लाभ पर बेची। B का लाभ, A के लाभ से ₹40 कम है। A के लिए वस्तु का क्रय मूल्य (₹ में) ज्ञात करें।

- Ans
1. 640
2. 400
3. 240
4. 546

Question ID : 81616112459  
Status : Answered  
Chosen Option : 1

Q.23 K का वह मान ज्ञात करें कि संख्या  $72k460k$ , 6 से विभाज्य हो जाए?

- Ans
- 1. 4
  - 2. 9
  - 3. 8
  - 4. 7

Question ID : 81616112353  
Status : Answered  
Chosen Option : 1

Q.24 यदि  $\sec(5\alpha - 15^\circ) = \operatorname{cosec}(15^\circ - 2\alpha)$  है, तो  $\cos\alpha + \sin 2\alpha + \tan(1.5\alpha)$  का मान ज्ञात करें।

- Ans
- 1.  $\sqrt{3} + 1$
  - 2.  $\sqrt{2} - 1$
  - 3.  $\sqrt{2} + 1$
  - 4.  $\sqrt{3} - 1$

Question ID : 81616113383  
Status : Not Answered  
Chosen Option : --

Q.25 दो संख्याओं A और B का अनुपात 5 : 8 है। यदि A और B, प्रत्येक में 5 जोड़ा जाता है, तो अनुपात 2 : 3 हो जाता है। A और B में अंतर ज्ञात करें।

- Ans
- 1. 12
  - 2. 20
  - 3. 15
  - 4. 10

Question ID : 81616113369  
Status : Answered  
Chosen Option : 3

Section : English Comprehension

Q.1 Select the most appropriate option to fill in the blank.

Credit card \_\_\_\_\_ has increased in recent years.

- Ans
- 1. fluke
  - 2. freed
  - 3. fraud
  - 4. flake

Question ID : 81616112402  
Status : Answered  
Chosen Option : 3

**Q.2** Select the most appropriate option to substitute the underlined segment in the given sentence. If no substitution is required, select 'No substitution'.

After the old building was pulled out, the building contractor surveyed the progress of the work.

- Ans**
- 1. was pulled up
  - 2. was pulled over
  - 3. was pulled down
  - 4. No substitution

Question ID : 81616113494  
Status : Answered  
Chosen Option : 3

**Q.3** Sentences of a paragraph are given below in jumbled order. Arrange the sentences in the right order to form a meaningful and coherent paragraph.

- A. According to his hypothesis, now known as the neuron theory, each nerve cell communicates with others through contiguity rather than continuity.
- B. The watershed of all studies of the nervous system was an observation made in 1889 by Spanish scientist Santiago Ramón y Cajal.
- C. It has since been proved that Cajal's theory is not universally true, but his central idea has remained an accurate guiding principle for all further study.
- D. That is, communication between adjacent but separate cells must take place across the space and barriers separating them.

- Ans**
- 1. ADCB
  - 2. CDAB
  - 3. BCDA
  - 4. BADC

Question ID : 81616113401  
Status : Answered  
Chosen Option : 3

**Q.4** Select the most appropriate synonym of the given word.

**Tag (n)**

- Ans**
- 1. Syphon
  - 2. Drain
  - 3. Pump
  - 4. Label

Question ID : 81616113503  
Status : Answered  
Chosen Option : 4

**Q.5 Select the most appropriate meaning of the given idiom.**

**Tide someone over**

- Ans**
- 1. Get a boat ready to cross a river or water body
  - 2. Ask someone for financial assistance
  - 3. Complete a voyage successfully
  - 4. Give temporary help, usually financial

Question ID : **81616113407**  
Status : **Answered**  
Chosen Option : **2**

**Q.6 Select the most appropriate option to fill in the blank.**

**My neighbour was admitted to the hospital when he developed an allergic \_\_\_\_ to some medicine he took.**

- Ans**
- 1. result
  - 2. rejoinder
  - 3. reaction
  - 4. retort

Question ID : **81616113514**  
Status : **Answered**  
Chosen Option : **3**

**Q.7 Select the option that can be used as a one-word substitute for the given group of words.**

**One who does not believe in the existence of God.**

- Ans**
- 1. Atheist
  - 2. Cynic
  - 3. Anarchist
  - 4. Egotist

Question ID : **81616112399**  
Status : **Answered**  
Chosen Option : **3**

**Q.8 Select the most appropriate meaning of the given idiom.**

**A bad egg**

- Ans**
- 1. Someone who regularly makes mistakes
  - 2. Someone who is dishonest and unreliable
  - 3. Someone who doesn't like eggs
  - 4. Someone who likes to break eggs

Question ID : **81616113406**  
Status : **Answered**  
Chosen Option : **2**

**Q.9** The following sentence has been divided into parts. One of them contains an error. Select the part that contains the error from the given options.

**Ranbir could not went / to the award ceremony / as he was busy / shooting / for a film / in Maldives.**

- Ans**
- 1. Ranbir could not went
  - 2. for a film
  - 3. to the award ceremony
  - 4. as he was busy

Question ID : **81616112379**  
Status : **Not Answered**  
Chosen Option : --

**Q.10** Select the option that can be used as a one-word substitute for the given group of words.

**An arrangement of flowers that is usually given as a present.**

- Ans**
- 1. Boutique
  - 2. Bracket
  - 3. Basket
  - 4. Bouquet

Question ID : **81616112398**  
Status : **Answered**  
Chosen Option : 4

**Q.11** Select the option that expresses the given sentence in passive voice.

**You can solve this problem.**

- Ans**
- 1. This problem ought to be solved by you.
  - 2. This problem should be solved by you.
  - 3. This problem can be solved by you.
  - 4. This problem might be solved by you.

Question ID : **81616112380**  
Status : **Answered**  
Chosen Option : 3

**Q.12** Select the **INCORRECTLY** spelt word.

- Ans**
- 1. Concensus
  - 2. Articulate
  - 3. Colossal
  - 4. Magnificent

Question ID : **81616112502**  
Status : **Answered**  
Chosen Option : 1

**Q.13** Select the most appropriate option to substitute the underlined segment in the given sentence. If no substitution is required, select 'No substitution'.

The apple a day keeps the doctor away.

- Ans
- 1. No substitution
  - 2. The apples a day
  - 3. A apple a day
  - 4. An apple a day

Question ID : 81616112382

Status : Not Answered

Chosen Option : --

**Q.14** Sentences of a paragraph are given below in jumbled order. Arrange the sentences in the right order to form a meaningful and coherent paragraph.

A. Dad: "Yes, tell me."

B. Laxmi: "Dad, I need to speak to you."

C. Dad: "I think you are still too young for it."

D. Laxmi: "Please buy me a scooter."

- Ans
- 1. BADC
  - 2. BCDA
  - 3. DCBA
  - 4. ABDC

Question ID : 81616112491

Status : Answered

Chosen Option : 1

**Q.15** The following sentence has been divided into parts. One of them may contain an error. Select the part that contains the error from the given options. If there is no error, select 'No error'.

Modern science have / broken many myths / about our food and diet.

- Ans
- 1. No error
  - 2. broken many myths
  - 3. about our food and diet
  - 4. Modern science have

Question ID : 81616113388

Status : Not Answered

Chosen Option : --

**Q.16** Select the INCORRECTLY spelt word.

- Ans
- 1. Calender
  - 2. Cadre
  - 3. Commit
  - 4. Carnivorous

Question ID : 81616112501

Status : Answered

Chosen Option : 4

**Q.17 Select the most appropriate synonym of the given word.**

**Detrimental**

- Ans**  1. Harmful  
 2. Friendly  
 3. Smart  
 4. Intellectual

Question ID : **81616113504**  
Status : **Answered**  
Chosen Option : **2**

**Q.18 Select the most appropriate ANTONYM of the given word.**

**Blemish**

- Ans**  1. Perfection  
 2. Stain  
 3. Damage  
 4. Discolouration

Question ID : **81616113405**  
Status : **Not Answered**  
Chosen Option : **--**

**Q.19 Select the most appropriate ANTONYM of the given word.**

**Anxiety**

- Ans**  1. Certainty  
 2. Restlessness  
 3. Nervousness  
 4. Panic

Question ID : **81616112495**  
Status : **Answered**  
Chosen Option : **1**

**Q.20 Select the option that expresses the given sentence in indirect speech.**

**The professor said to the media persons, "From our research we have come to the conclusion that there is life on that planet."**

- Ans**  1. The professor informed the media persons that from our research we have come to the conclusion that there had been life on that planet.  
 2. The professor said to the media persons from our research you had come to the conclusion that there was life on that planet.  
 3. The professor said to the media persons that from their research they had come to the conclusion that there was life on that planet.  
 4. The professor told to the media persons that from your research you have come to the conclusion that there is life on that planet.

Question ID : **81616113492**  
Status : **Answered**  
Chosen Option : **1**



**Comprehension:**

In the following passage, some words have been deleted. Fill in the blanks with the help of the alternatives given. Select the most appropriate option for each blank.

The five senses (1)\_\_\_\_\_ sight, hearing, taste, touch and (2)\_\_\_\_\_. What is sometimes (3)\_\_\_\_\_ to as a 'sixth sense' is a power to be aware (4)\_\_\_\_\_ things independently of the five (5)\_\_\_\_\_ senses, a kind of supernatural sense.

**SubQuestion No : 21**

**Q.21 Select the most appropriate option to fill in blank number 1.**

- Ans**  1. are  
 2. of  
 3. is  
 4. in

Question ID : **81616112486**  
Status : **Answered**  
Chosen Option : 1

**Comprehension:**

In the following passage, some words have been deleted. Fill in the blanks with the help of the alternatives given. Select the most appropriate option for each blank.

The five senses (1)\_\_\_\_\_ sight, hearing, taste, touch and (2)\_\_\_\_\_. What is sometimes (3)\_\_\_\_\_ to as a 'sixth sense' is a power to be aware (4)\_\_\_\_\_ things independently of the five (5)\_\_\_\_\_ senses, a kind of supernatural sense.

**SubQuestion No : 22**

**Q.22 Select the most appropriate option to fill in blank number 2.**

- Ans**  1. happiness  
 2. smell  
 3. anger  
 4. sadness

Question ID : **81616112487**  
Status : **Answered**  
Chosen Option : 2

**Comprehension:**

In the following passage, some words have been deleted. Fill in the blanks with the help of the alternatives given. Select the most appropriate option for each blank.

The five senses (1)\_\_\_\_\_ sight, hearing, taste, touch and (2)\_\_\_\_\_. What is sometimes (3)\_\_\_\_\_ to as a 'sixth sense' is a power to be aware (4)\_\_\_\_\_ things independently of the five (5)\_\_\_\_\_ senses, a kind of supernatural sense.

**SubQuestion No : 23**

**Q.23 Select the most appropriate option to fill in blank number 3.**

- Ans**  1. reminded  
 2. retained  
 3. referred  
 4. required

Question ID : **81616112488**  
Status : **Answered**  
Chosen Option : 4

**Comprehension:**

In the following passage, some words have been deleted. Fill in the blanks with the help of the alternatives given. Select the most appropriate option for each blank.

The five senses (1)\_\_\_\_\_ sight, hearing, taste, touch and (2)\_\_\_\_\_. What is sometimes (3)\_\_\_\_\_ to as a 'sixth sense' is a power to be aware (4)\_\_\_\_\_ things independently of the five (5)\_\_\_\_\_ senses, a kind of supernatural sense.

**SubQuestion No : 24**

**Q.24 Select the most appropriate option to fill in blank number 4.**

- Ans**  1. of  
 2. at  
 3. on  
 4. in

Question ID : 81616112489

Status : Answered

Chosen Option : 1

**Comprehension:**

In the following passage, some words have been deleted. Fill in the blanks with the help of the alternatives given. Select the most appropriate option for each blank.

The five senses (1)\_\_\_\_\_ sight, hearing, taste, touch and (2)\_\_\_\_\_. What is sometimes (3)\_\_\_\_\_ to as a 'sixth sense' is a power to be aware (4)\_\_\_\_\_ things independently of the five (5)\_\_\_\_\_ senses, a kind of supernatural sense.

**SubQuestion No : 25**

**Q.25 Select the most appropriate option to fill in blank number 5.**

- Ans**  1. geological  
 2. geographical  
 3. physical  
 4. botanical

Question ID : 81616112490

Status : Answered

Chosen Option : 4